

花蓮縣立宜昌國民中學 107 學年度第二學期第二次段考 8 年級社會科試題

(公民部份)

命題教師:藍惠寧 老師

一、 選擇題(一題 4 分，共 32 分)

1. 凱諾19歲高職畢業後打算與青梅竹馬的女友小美(16歲)結婚，請問以下哪一個程序對於其婚姻的有效而言是不必要的？  
(A)經過凱諾法定代理人的同意 (B)經過小美的法定代理人同意  
(C)到戶政事務所登記 (D)有舉行公開婚禮儀式
2. 俊熙的父親死後留下50萬元財產，但留下200萬債務。若俊熙未向法院聲請拋棄繼承，他必須要還父親的債權人多少錢？ (A)50萬 (B)200萬 (C)150萬 (D)250萬
3. 汪娜的新房屋蓋好後才發現自己不小心使用到鄰居宗原的土地大約一平方公尺。汪娜想要以市價向宗原購買這塊土地，雖然宗原平時並不會使用到這塊土地，卻堅持要汪娜拆屋還地。此時，宗原的主張是  
(A)契約自由 (B)合法主張自己的權利 (C)權利濫用 (D)違反誠實信用原則
4. 「不要讓自己的權利睡著了」是指對於擁有權利的人，若沒有在法定期限內行使自己的權利，負擔義務的人可以拒絕履行義務。這稱為 (A)契約自由 (B)誠實信用 (C)罰刑法定 (D)消滅時效
5. 16歲的宇軒是限制行為能力人，他從事以下哪些行為需要經過法定代理人同意才有效？  
(A)購買參考書 (B)領取藍老師發的1萬元獎學金 (C)和房東簽訂租屋契約 (D)向同學借100元買早餐
6. 雅真為了工作方便，在公司附近租了一間套房，但經常沒有按照時間支付租金給房東。請問這種行為在法律上稱為  
(A)侵權行為 (B)債務不履行 (C) 犯罪行為 (D)權利之濫用
7. 為了逃離火災現場，大華(20歲)以榔頭破壞了鄰居的門窗。請問這樣的行為是否構成犯罪？為什麼？【註：刑法353條：毀壞他人建築物、礦坑、船艦或致令不堪用者，處六月以上五年以下有期徒刑】  
(A)是，因為大華是故意破壞鄰居的門窗 (B)是，因為大華是完全責任能力人  
(C)否，因為大華是在執行他業務上必要的行為 (D)否，因為這屬於緊急避難的情況
8. 請問以下何作為不屬於行政處分？  
(A)工廠因排放廢水而被勒令歇業 (B)騎機車沒戴安全帽而被科處罰鍰  
(C)因傷害人之身體而被判2年有期徒刑 (D)通過考試而核發汽車駕照執照

二、 配合題(一題 4 分，共 68 分)

(一) 請判斷以下 9-21 題的敘述分別和哪些法律有關。

選擇項目：(A)民法 (B)刑法 (C)行政法規

9. 規定什麼行為是犯罪，以及犯罪後該如何處罰的法律
10. 規範私人與私人之間身分、財產之權利義務關係的法律
11. 規範國家行政組織與運作的法規
12. 契約自由原則
13. 罪刑法定原則
14. 依法行政原則
15. 損害賠償責任
16. 違反時被處以罰鍰
17. 違反時被處以罰金
18. 年滿 20 歲有完全行為能力

阿強駕駛汽車違規超速把路人甲撞死了。阿強因為超速被開了一張罰單(19)，又被依過失致死遭到法官判刑(20)，還需賠償被害人家屬精神撫慰金及喪葬用(21)。請問以上 19-21 題的責任分別是依照何種法律而定？【以上為 19-21 題】

(二)請依各題敘述判斷其屬於何者？

選擇項目：(A)行為能力 (B)刑事責任能力 (C)行為能力與刑事責任能力(A 且 B)

22. 行為人對於自己的行為能承擔刑事責任的能力。
23. 主要依據一個人的年齡及心智、精神狀態作為判斷的依據。
24. 個人獨立從事有效法律行為的資格。
25. 以 14 歲、18 歲、80 歲為分段

花蓮縣立宜昌國民中學 107 學年度第二學期第二次段考 8 年級社會科試題

(歷史部份)

命題教師:邱騰玄 老師

一、是非選擇題：每題 5 分，共 20 分

請判斷下列歷史事件是否正確，正確請畫 A，錯誤請畫 B

26. 慈禧太后推動庚子後新政，並宣布正式廢除科舉制度。
27. 民國初年以來，政局之所以動盪不安，主因孫中山不斷擴張總統職權、破壞民主共和政體所致。
28. 「護國軍」主要是為了維護民國初年的民主共和體制，聲討袁世凱的洪憲帝制。
29. 清末原支持立憲派人士轉而支持革命，主因當時公布的內閣成員多為滿人及皇親貴族。

二、一般選擇題：每題 5 分

30. 有一關於歷史事件記錄如下「在衝突發生後，北京郊區一座車站被毀、電報線遭切斷，各國在北京人員無法對外聯絡。使節團立刻派人向外求援，緊急調集數百名官兵，進駐使館。二十多艘外國軍艦也迅速集結在天津附近，準備登陸。」請問這個事件應當是下列何者？

(A)1858 年的英法聯軍 (B)1884 年的中法戰爭  
(C)1894 年的甲午戰爭 (D)1900 年的八國聯軍

31. 清末民初，下列哪一個城市，最早引進汽車、電燈、電話等器物？

(A)國家首都所在地北京 (B)洋人聚集的口岸上海 (C)辛亥革命發起點武昌 (D)歷代古都西安。

32. 自民國 5 年至 17 年，不同的軍閥派系控制政局，形成了軍閥統治，如右圖所示，請問此局勢的出現與誰的去世有關？

(A)慈禧太后 (B)光緒皇帝  
(C)袁世凱 (D)孫中山。

33. 承上題，民初軍閥統治時期，中國政治最後演變成北京與廣州兩個政府，究其成因為何？

(A)八國聯軍時江南各省聯合推動「東南互保」  
(B)清政府不願退位，持續與民國臨時政府對抗  
(C)袁世凱涉及宋教仁暗殺事件，發起二次革命  
(D)孫中山反對段祺瑞掌權後，不恢復臨時約法



34. 西元 1905 年的中國報紙報導：「這一場戰爭，是君主立憲戰勝君主專制的最佳寫照。我們的政府應該也要仿行君主立憲的體制，讓國家富強。」根據上述的內容，所指的應是下列哪一場戰爭？

(A)鴉片戰爭 (B)英法聯軍 (C)日俄戰爭 (D)八國聯軍。

35. 右圖為兩江總督劉坤一、湖廣總督張之洞、兩廣總督李鴻章、山東巡撫袁世凱、浙江巡撫劉樹棠共同簽署的一篇文章內容。根據內容判斷，當時中國正面臨下列哪一事件？

(A)甲午戰爭 (B)太平天國 (C)八國聯軍 (D)辛亥革命。

一、上海租界歸各國共同保護，長江及蘇杭內地均歸各國督撫保護，兩不相擾，以保全中外商民人命產業為主。  
二、長江及蘇杭內地各國商民教士產業，均歸南洋大臣劉坤一、兩湖總督張之洞切實保護，並移知各省督撫及嚴飭各該文武官員一律認真保證。現已出示禁止謠傳，嚴拿匪徒。

36. 「君主專制的滿清政府腐敗無能，社會上民不聊生，我們應該推翻這樣的政府，建立民主共和國。」請問：以上的這些話，最有可能是下列哪一個人所說的？  
(A)康有為 (B)袁世凱 (C)梁啟超 (D)孫中山。
37. 「當時，先是段祺瑞與黎元洪彼此意見不合，繼而張勳藉機推動復辟。段祺瑞驅逐張勳後，欲拒絕恢復國會與約法，引發孫中山在南方號召護法。其他還有張作霖、馮國璋等占據地盤，中國動盪不安。」這是描述下列哪一時期的政治情勢？  
(A)清末革命與立憲的對峙 (B)洪憲帝制實施下的紛擾  
(C)民初軍閥混戰的亂象 (D)自強運動時期的國內紛爭。
38. 《「她」字的文化史》一書提及，最早來華傳教士要翻譯「he」、「she」、「it」字時，曾翻成「他男」、「他女」、「他物」，但並未普及。1920年劉半農是最早將「她」字放入文學的詩人，寫出了著名的情詩〈教我如何不想她〉。作者在書中寫到：「至少在此之前，若有人唱著『叫我如何不想他』時，我們的確不知道被想著的他是男、是女或是其他。」請問文中用「她」來代表女性，當時應是哪一時期的先進作風？  
(A)自強運動 (B)戊戌變法 (C)立憲運動 (D)新文化運動

### 三、題組題：每題 5 分

蔣夢麟在他的著作《西潮》中回顧清朝末年的史事：「在我的心目中，外國人是半鬼半神的怪物，很像三頭六臂的千手觀音，三隻手分別拿著電燈、輪船、洋娃娃，另外三隻手分別拿著巡棍、手槍、鴉片。從某一邊看，他是天使；從另一邊看，他卻是魔鬼。」

「中國人對西方文明的看法總不出這兩個極端，印象因人而異，也因時而異。李鴻章看到西方文明醜惡猙獰的一面，因而決定建立海軍，以魔鬼之矛攻魔鬼之盾。光緒帝看到西方文明光明和善的一面，因此想建立新式的學校制度。慈禧太后和義和團看到可憎的一面，想用中國的陳舊武器驅逐魔鬼。」

39. 文中提到李鴻章決定建立海軍，這是自強運動推行的措施之一。結果下列哪一場戰爭，證明了自強運動的失敗？  
(A)鴉片戰爭 (B)英法聯軍 (C)甲午戰爭 (D)八國聯軍。
40. 光緒帝想建立新式的學校制度，這指的應該是下列哪一項改革運動？  
(A)自強運動 (B)戊戌變法 (C)庚子後新政 (D)立憲運動。
41. 慈禧太后和義和團想用中國的陳舊武器對抗外國，結果引起了下列哪一場戰爭？  
(A)鴉片戰爭 (B)英法聯軍 (C)甲午戰爭 (D)八國聯軍。

今年(2019)是五四運動百週年，百年前的5月4日下午，北京的大學生以天安門為起點，開始聲勢浩大的示威活動，他們從天安門遊行至當年大使館聚集的東交民巷使館區，在陳情未果後，轉而出發至當年交通總長曹汝霖宅邸趙家樓，痛打章宗祥，同時火燒曹宅趙家樓。

「五四運動」時期，知識分子陳獨秀提出「德先生」與「賽先生」的主張，對後續中國產生什麼影響？學者認為，100年來，「賽先生」在中國發展尚能與時俱進；至於「德先生」，有時走得快、有時走得慢，呈曲線變化。

「清末發展船堅炮利及改變政治體制都不成功，民初知識分子認為那是文化出了問題。」黃克武說，當時胡適、陳獨秀、蔡元培等人發起「新文化運動」，陳獨秀又再提倡「德先生」和「賽先生」，都是主張破除傳統、全盤西化，以改變文化救中國。

黃克武表示，「五四運動」發生到現在已經100年，其中「德先生」和「賽先生」是中國追求成為現代化國家的起點，但使命仍未完成。

節錄自 2019 年 5 月 4 日中國時報

42. 請問百年前這場抗議運動最主要的起因為何？  
(A)巴黎和會未公正處理山東問題 (B)抗議袁世凱的帝制運動  
(C)抗議曹錕賄選，贏得總統職位 (D)抗議袁世凱涉及宋教仁被殺
43. 文中提到曹汝霖宅被燒、章宗祥被打，學生會把他們當作抗議對象，主因認為他們往往站在哪個國家的立場處理事情？  
(A)美國 (B)日本 (C)英國 (D)德國

44. 文中提到「清末發展船堅炮利及改變政治體制都不成功」，下列歷史事件，哪一件「不包括」在其中？  
 (A)甲午戰爭 (B)戊戌變法 (C)立憲運動 (D)白話文運動
45. 「口號」「標語」往往是大型活動營造共識很重要的要素，請問在北京大學五四運動的紀念會上，適合掛出哪一個標語？  
 (A)「忠孝、仁愛、信義、和平」 (B)「健康、多元、人文、品德」  
 (C)「愛國、進步、民主、科學」 (D)「莊敬、自強、處變、不驚」

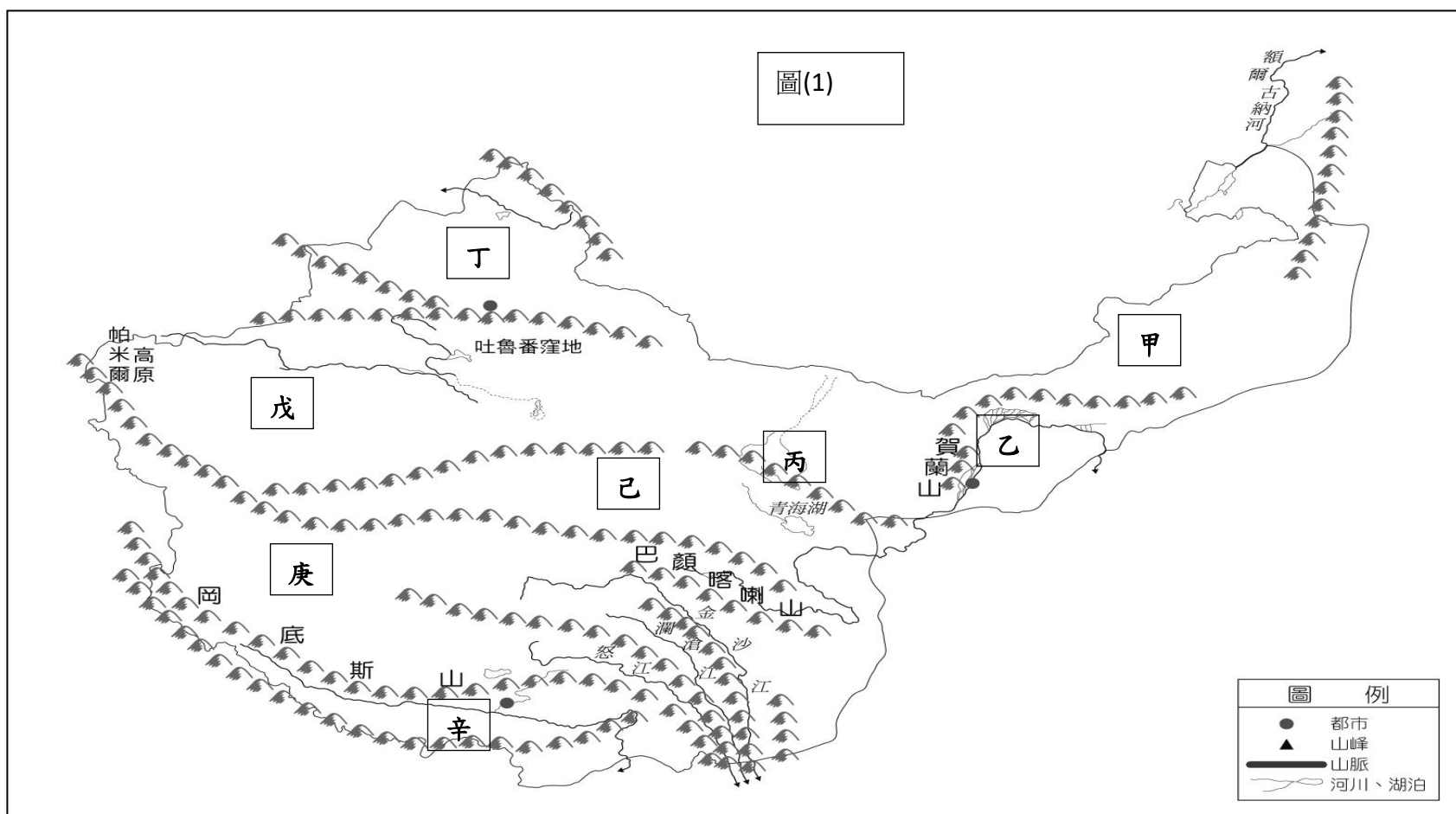
## 花蓮縣立宜昌國民中學 107 學年度第二學期第二次段考 8 年級社會科試題

(地理部份)

命題教師：黃清銓 老師

### 一、題組題(每小題 5 分)

(一)圖(1)為中國西部區域全圖，圖中的代號『甲』和『庚』為高原、『乙』為平原、『丙』為走廊、『丁』、『戊』和『己』為盆地，『辛』為縱谷地形。請依代號代表的地形和特色，回答下列各小題：



46. 「稀土」是現代工業生產的重要原料，目前被廣泛運用在電腦、手機製造、化工、航太、電子、雷射等領域，工業大國無不將稀土金屬視為戰略資源。請問：圖(1)何處是中國稀土礦物蘊藏最多之處？  
 (A)甲區 (B)丙區 (C)戊區 (D)庚區
47. 承上題，中國在上述地區大量開採稀土礦產導致下列哪一個影響？  
 (A)輻射外露導致羊群大量死亡 (B)過度開採導致地層下陷  
 (C)喀什經濟特區工業發展快速 (D)冶煉廠排出廢水汙染草原
48. 紹宏到中國一處呈長條狀平坦地形的乾燥地區旅遊，當地北為高原，南為祁連山，古為絲路駱駝隊商聯通中原和西域地區必經之地，今有中國聯通中亞地區的鐵路。請問此地在圖(1)中的何地？  
 (A)乙區 (B)丙區 (C)戊區 (D)庚區
49. 承上題，此區的地形稱為『地塹』，具有兩地交通往來聯絡的功能。請問此種地形的成因為何？  
 (A)河流沖積作用 (B)斷層陷落作用 (C)風力吹蝕作用 (D)人為開墾作用
50. 圖(1)中某一地區引河水灌溉，可種植水稻，有『塞上江南』之稱。請問是哪一代號，又此地形區名稱為何？  
 (A)乙區，河套平原 (B)丙區，河套平原 (C)戊區，河西走廊 (D)辛區，河西走廊


51. 珮珍翻閱新疆旅遊書籍時，看見介紹當地地形的一句話『三山夾兩盆』，請問此兩盆是指？

- (A) 丁區：柴達木盆地，戊區：準噶爾盆地 (B) 己區：柴達木盆地，庚區：青海湖盆地  
(C) 丁區：準噶爾盆地，戊區：塔里木盆地 (D) 庚區：柴達木盆地，辛區：塔里木盆地

52. 佳楷看到 Discovery 頻道中介紹中國某一地區的描述如下：「此區地勢高，平均高度超過 4,000 公尺，空氣較為稀薄且日夜溫差較大，因此有『一年無四季，一日見四季』的俗諺。」其所指的是圖(1)中哪個地形區的特色？

- (A) 甲區 (B) 丙區 (C) 戊區 (D) 庚區

53. 承上題，在上述的地形區內，下列哪一種牲畜和當地居民的日常生活有著密不可分的關係？



54. 承叡在國家地理頻道裡看到另一段對中國的描述：「此區為岡底斯山與喜馬拉雅山間之谷地，谷地長千餘公里，地勢西高東低，夏季暖溼之印度洋季風可進入谷地，且平地較廣，是西藏地區之精華區。」其所指的是圖(1)中哪個地形區的特色？且此一地理區名稱為何？

- (A) 己區、柴達木河谷 (B) 戊區、伊犁谷地 (C) 庚區、滇西縱谷 (D) 辛區、藏南縱谷

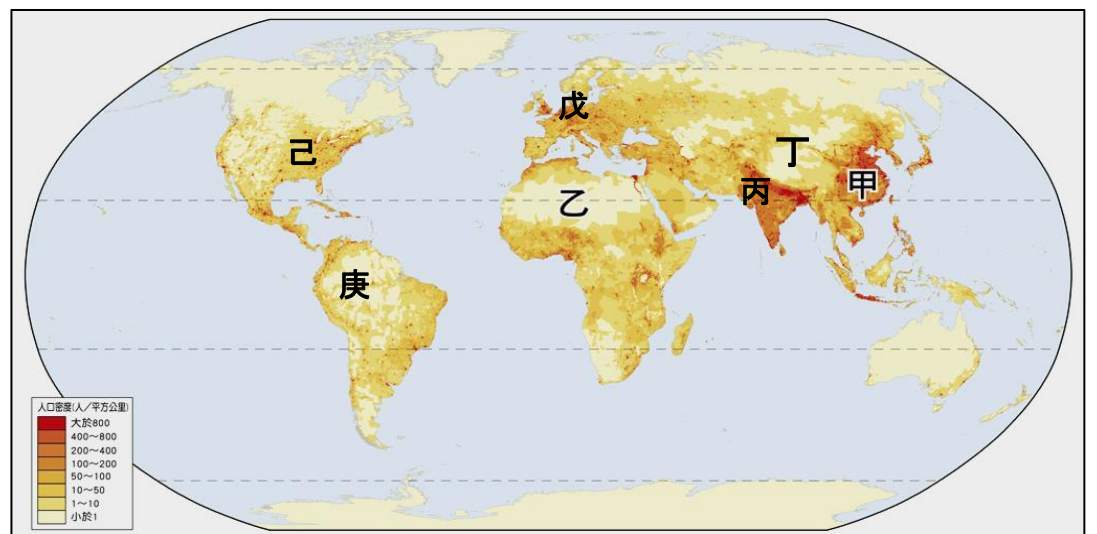
55. 承上題，此區是西藏的精華區，故最有可能在節目中看到下列哪些藏族的傳統人文景象？

- (A) 穆斯林每日朝布達拉宮膜拜五次 (B) 藏族人將牛當成聖獸膜拜  
(C) 居民早餐吃糌粑配酥油茶 (D) 當地居民種植稻米維生

(二) 圖(2)為世界人口密度分佈圖，圖中顏色越深代表當地人口密度越高，請依圖中代號回答下列各小題：

56. 圖(2)中的甲和丙兩區冬夏季節受到來自海陸完全相反的風向影響，兩區內廣植稻米，養活了將近地球上半的人口。請問此兩個區域可合稱為何？

- (A) 太平洋亞洲  
(B) 季風亞洲  
(C) 伊斯蘭亞洲  
(D) 乾燥亞洲



57. 圖(2)中的戊區位在世界人口最平均的一洲，請問是哪一洲？

- (A) 非洲 (B) 北美洲  
(C) 南美洲 (D) 歐洲

58. 依照七大洲的分類，圖(2)中的己區位在北美洲，庚區位在中南美洲，請問北美洲和中南美洲會畫分為不同的洲別，主要的原因為何？

- (A) 飲食習慣不同 (B) 語言文化不同 (C) 地形種類不同 (D) 瀕臨的大洋不同

59. 圖(2)中的庚區居住的人口稀少主要原因為何？

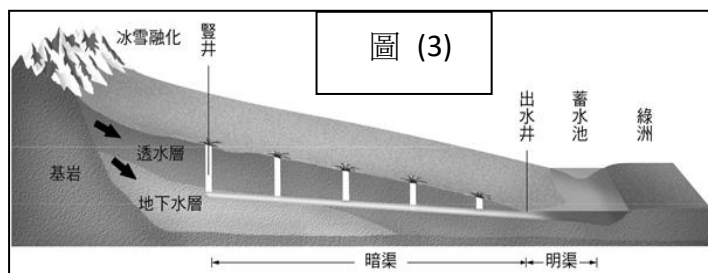
- (A) 宗教的教義太過嚴格 (B) 太過寒冷 (C) 太過乾燥 (D) 太過濕熱

60. 請問圖(3)中的此一水利灌溉系統有『地下長城』的稱號，請問它的正式名稱為何？

- (A)坎兒井 (B)自流井 (C)自灌井 (D)跌水井

61. 承上題，請問依照此一灌溉系統的主要功能來判斷，它最有可能出現在圖(2)中的哪一個地區？

- (A)丁區 (B)戊區 (C)己區 (D)庚區



(三) 閱讀下列節錄的短文，回答下列小題：

到了今天，中國北方的廣闊大地不再是游牧者的天堂。羊群數量瘋狂膨脹，所到之處寸草不生，牧場嚴重「超載」；加上牧羊人生活動盪，基本的醫療、教育等條件得不到保障，生存品質低下。於是，定居政策的推廣成了人心所向。

游牧的確傷害了大地；可是，定居放牧將毀滅性的損壞大地。牧人逐水草而居，避寒暑而走，不斷遷徙，可令每一處牧場都得到輪休，保證環境的有效恢復。然而一旦停止下來，所有負荷將集中由最肥沃的一些土地承擔。這是北方，與溫暖溼潤、蓬勃長青的內地相比，也是極貧瘠的，它的力量只夠用來供給淺薄野草生長。定居後必須種植高產牧草，以保障圈養羊群的過冬需求，更多的牧人將逐漸轉向農業生產，於是得沿著荒野中少數的河流大規模開墾耕地。而為了灌溉這些耕地，得放棄下游的生態，截斷河流去用河水，同時無止境抽取地下水……更別提定居後人們為日常欲求的勒索。

開墾後的大地，失去了覆蓋在最上面那層扎生野草的較硬土殼。在沒有作物覆蓋的日子裡(北方冬季漫長，土地一年只能一產一穫)，泥土鬆軟的裸露，遇到春天大風季節，就成為沙塵暴的隱患。

至於被放棄的荒野，並不因為離開了羊群的啃噬而得到拯救。相反的，它會持續退化。沒有了羊蹄的輾轉踐踏，草籽和土壤不能緊密結合，不易扎根；失去了牲畜糞便的滋養，植被的生長環境更加艱難。

至於羊群，停止每年數千里的跋涉後，羊肉品質將迅速下降，變得越來越鬆軟無彈性。當然，比起其他損害，這可能是最次要的。以上這些，也可能只是冰山一角。(節錄自李娟《羊道》)

62. 上文中描述的景象最可能是中國哪一個地區目前的情況？

- (A)青藏高原 (B)河套平原 (C)內蒙古高原 (D)塔里木盆地

63. 根據上文，下列哪一描述對照此地區的情況是正確的？

- (A)農業的開墾活動對當地的傷害最小 (B)游牧的長途遷徙導致羊肉的品質下降  
(C)游牧活動和貧瘠的草原互相依存 (D)游牧活動是導致沙塵暴越來越嚴重的最大原因

二、單選題 (每題 5 分)

64. 艾提爾爾清真寺建於西元 1442 年，矗立在喀什市中心區的廣場上，是古代維吾爾族留下的歷史性建築物。它除了是附近穆斯林每星期五的聚禮所之外，更是每年兩大節日—肉孜節(又稱開齋節)與古爾邦節的慶祝活動場所。光寺內就可容納 6 千多人，寺內寺外則共可容納 10 多萬人。由上述內容可知，喀什市當地主要信奉哪一宗教？

- (A)印度教 (B)藏傳佛教 (C)基督教 (D)伊斯蘭教

65. 右方圖(4)為世界洋流分布簡圖，圖中的H此一洋流造成了南美洲西部沿海的陸地上，出現了一個號稱曾經百年未曾下過一滴雨的『阿他加馬沙漠』。請問此一H洋流的名稱應該是？

- (A)拉不拉多寒流 (B)祕魯涼流  
(C)親潮 (D)黑潮

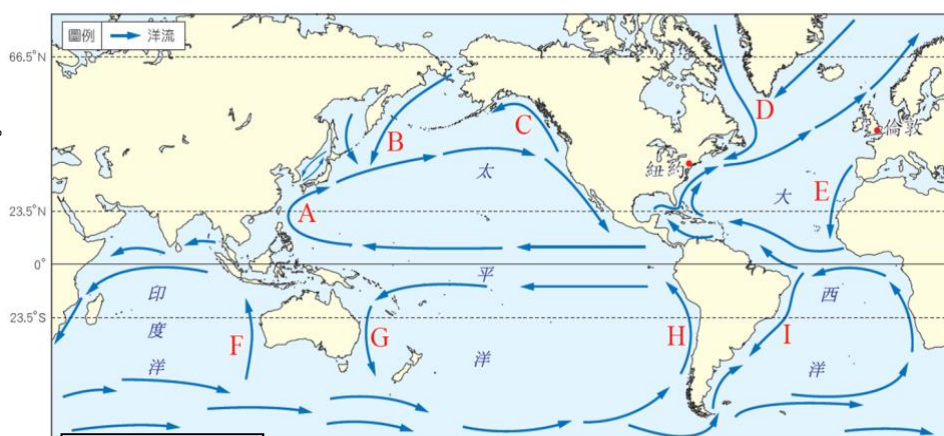


圖 (4)

(社會科題目結束)

参考答案

1.	2.	3.	4.	5.	6.	7.	8.	9.	10.
D	A	C	D	A	B	D	C	B	A
11.	12.	13.	14.	15.	16.	17.	18.	19.	20.
C	A	B	C	A	C	B	A	C	B
21.	22.	23.	24.	25.	26.	27.	28.	29.	30.
A	B	C	A	B	A	B	A	A	D
31.	32.	33.	34.	35.	36.	37.	38.	39.	40.
B	C	D	C	C	D	C	D	C	B
41.	42.	43.	44.	45.	46.	47.	48.	49.	50.
D	A	B	D	C	A	D	B	B	A
51.	52.	53.	54.	55.	56.	57.	58.	59.	60.
C	D	D	D	C	B	D	B	D	A
61.	62.	63.	64.	65.					
A	C	C	D	B					