

花蓮縣立宜昌國民中學 107 學年度第 2 學期第 2 次段考 9 年級 公民科試題

命題教師：潘盈婕 老師 範圍：公民科 1-6 冊

9 年 班 號 姓名：

一、基礎概念題：1-12，每題 5 分

【是非題】正確請填 A；錯誤請填 B。

- () 參加國際競賽，應不擇手段爭取勝利，為國家爭取獎牌。
- () 購物時應選購具有「環保標章」的產品，以減少對於環境的傷害。
- () 2015 年《巴黎協定》是由聯合國 195 個成員國所共同簽訂，期望能夠共同遏阻全球暖化加劇，為國際合作的體現。
- () 我國自從加入世界貿易組織(WTO)以來，與他國的商品貿易流通變得更加自由。
- () 我國於 1991 年加入亞太經合會，若以成員分佈性質作為劃分依據，應屬「全球性」的國際組織。

【單選題】根據題目填答最適當的選項。

- () 下列是三位行政首長的發言內容：上述三位首長的發言內容，最足以彰顯下列何項概念？
甲縣縣長：「感謝縣議會的支持，本縣領先全國引進熱氣球活動，創造商機。」
乙市市長：「因應颱風來襲，為維護市民財產安全，本市今晚開放市區紅線停車。」
丙縣縣長：「未來是否在本縣設置觀光賭場，我們將交由縣民以公投方式決定。」
(A)中央集權 (B)責任政治 (C)三權分立 (D)地方自治
- () 某位司法院大法官卸任後整理了自己在任內的日記，其內容記錄自己在這份工作中的重要經歷。下列哪一段敘述內容，最可能出現在他的日記中？
(A)為了能夠繼續服務鄉親，我決定再競選連任 (B)我們經過討論後，決議對相關部會提出糾正案
(C)經院長提請總統任命後，我成為執政團隊的一員 (D)我們進行的釋憲工作，相信能進一步保障民眾權益
- () 《道路交通管理處罰條例》已依法修正通過，其中新增了舉發期限規定，即民眾檢舉違規行為，自違規日起算不得超過七天，否則不受理舉發。根據上述內容判斷，下列敘述何者正確？
(A)通過文中規定的機關亦可統一解釋法律 (B)修正內容通過後依法應由總統公布施行
(C)民眾可直接向地方法院舉發上述違規行為 (D)上述修正內容施行後將減少政府租稅收入
- () (下表)為阿結 2018 年的年終財務記錄。根據圖中資料判斷，阿結該月的投資報酬率，可透過下列哪兩項記錄內容得知？

年終財務紀錄：

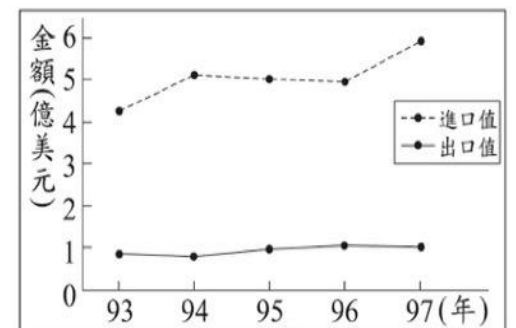
甲：年初時總共有現金 40 萬元

乙：拿出 30 萬元現金進行投資

丙：投資結果共獲利 10 萬元

丁：現今因獲利增加為 50 萬元

- () (A)甲、丙 (B)甲、丁 (C)乙、丙 (D)乙、丁
- () (右圖)是民國 93 年至 97 年，我國水果類農產品的國際貿易概況。根據圖中內容，可觀察出下列何種現象？
(A)我國生產水果具絕對利益 (B)我國生產水果具比較利益
(C)水果類貿易呈現入超狀態 (D)水果類貿易呈現出超狀態
- () 俄羅斯為了報復土耳其在 2015 年 12 月 1 日擊落俄國戰機又遲遲不道歉，因此宣布自 2016 年起，禁止進口土耳其的農禽產品、不再錄用土耳其員工等措施。根據上述內容，俄羅斯面對與土耳其的衝突，是採取下列何種方式因應？
(A)外交談判 (B)軍事行動 (C)經濟制裁 (D)國際組織介入協調
- () 2012 年，15 歲的馬拉拉·尤沙夫賽因替巴基斯坦的女孩爭取受教權，遭到激進組織攻擊。她在康復後，仍繼續此志業。並於 2014 年獲頒諾貝爾和平獎。由此可見，馬拉拉在哪个議題上有顯著貢獻？
(A)人權議題 (B)環境議題 (C)貧富差距 (D)跨國犯罪



二、時事應用題：13-22，每題 4 分

【題組題：13-16 題】

社團法人台灣芒草心慈善協會舉辦『流浪生活體驗營-你為什麼不回家?』，邀請年輕人參加 4 天 3 夜的街友生活體驗。主辦單位認為很多街頭流浪者都非自己選擇「看似遊手好閒」的生活，而是因為許多不得已的原因才成為「街友」，例如：藥物濫用、家庭暴力、被遺棄等；或是社會結構性問題（失業、社會福利不足、都更等）。因此，該活動主要是讓體驗者做按日或按件計酬的粗工、資源回收等體力勞動，藉此體會以微薄收入支付每天生活所需是多麼艱難的一件事。

13. () 就培養年輕公民的關懷與參與的情懷而言，該活動和下列何種公益行為的性質最為相似？
 (A)定期擔任志工，前往植物人、老人等長照機構，提供免費的看護服務
 (B)參加露宿、禁食三十小時並過夜，藉此募款並幫助世界各地飢餓孩童
 (C)參加社會運動，抗議國家不注重貧富差距問題且忽視底層人民的需要
 (D)利用節慶或假期，在火車站等公共場所幫助盲眼人或其他弱勢者義賣
14. () 該民間公益團體性質與下列國際組織的成立宗旨相近？
 (A)國際綠色和平組織 (B)國際世界展望會 (C)國際反地雷組織 (D)國際特赦組織
15. () 主辦單位認為用「遊民」的稱謂不妥，應用「街友」來描述流浪者更為恰當，其主要理由為何？
 (A)減少社會標籤化現象(B)以法律保障其自由權 (C)消弭族群間不對等的關係 (D)強化族群自我認同感
16. () 依據文中所述，成為街友的原因複雜，其中之一為社會福利不足所導致。請問：何項社會福利對於「街友」來說，並無法滿足其迫切的需求？
 (A)社會救助-以工代賑 (B)社會保險-國民年金 (C)社會津貼-生活補助津貼 (D)就業安全-職業訓練與資訊

【題組題：17-20題】

藍綠兩黨總統初選僵局

現任總統蔡英文所屬的民進黨，自去年地方選舉慘敗後，民調與聲勢皆處於低迷，蔡英文總統聲勢受到挑戰。其中，前行政院長賴清德被視為民進黨內挑戰蔡英文的有力人選，也因此導致了民進黨黨內初選的僵局。

在野國民黨方面情勢則更加錯綜複雜。現任高雄市長韓國瑜，在去年地方大選獲勝後，人氣飆升，呼聲極高。全球聞名的台灣企業家、鴻海總裁郭台銘，也以商人形象強勢奪得很多人青睞。另外，上屆總統參選人朱立倫與前立法院長王金平等，亦表達有意參選，使得黨內氣氛熱鬧非常，形成罕見的初選僵局。

節錄 BBC news | 中文 2019/4/29

17. () 請問文章中所提及「去年地方選舉」，下列何者敘述正確？
 (A)九合一選舉綁公投中的公民投票皆為「全國性公民投票」
 (B)九合一選舉中共選出了九位地方行政首長
 (C)公民投票選舉人資格條件與一般公職人員選舉一樣，需年滿 20 歲才可投票
 (D)九合一被視為是 2020 總統大選前哨戰，從結果顯示出民進黨執政相當符合民意
18. () 今年兩大黨內初選選情激烈，許多人表示有意願參選，並期望能贏得黨內初選，代表政黨出征 2020 總統大選。此舉顯示出政黨的何項功能？
 (A)組織與監督政府 (B)甄選政治人才 (C)匯集選民民意 (D)增進民主知能
19. () 依據我國現行的選舉制度，2020 年 1 月 11 日將會由人民投票選出第 15 屆正副總統以及中央立法委員，請問若要參選此兩項公職人員選舉，候選人須具備的年齡門檻，下列何者配對正確？
 (A)正、副總統：30 歲；立法委員 23 歲 (B)正、副總統：40 歲；立法委員 26 歲
 (C)正、副總統：30 歲；立法委員 30 歲 (D)正、副總統：40 歲；立法委員 23 歲
20. () 鴻海集團董事長郭台銘曾對是否參選 2020 年總統選舉時表示「要去問關公、問媽祖」，並排定計畫去板橋慈惠宮及淡水武聖廟參拜的行程。分析郭董事長的言論與行為，足見何種社會規範對於台灣社會的影響力？
 (A)風俗習慣 (B)倫理道德 (C)宗教信仰 (D)法律

【題組題：21-22題】

臺灣公共電視台所播出的《我們與惡的距離》中提及許多新聞媒體業的寫實面，劇中劉昭國曾批評宋喬安：「追求那多 0.01 的收視率就很高興，有什麼意義？」事實上，多數新聞從業者仍然渴望做出對社會有影響力的深度報導，這不僅是他們最大的成就感來源，更是許多人踏入這行的初衷。現況問題在於，隨著網絡與新媒體的興起，收看电视與報紙的人愈來愈少，廣告業者在傳統媒體投放廣告的效果愈來愈差，傳統媒體能分食的大餅快速萎縮，如何成功找到得以讓自身維持下去的商業模式，便是目前新聞媒體所面臨的困境與難題！

節錄 關鍵評論網 2019/04/16

21. () 根據文中所述，何者是文章作者最想表達的意涵？
 (A)追求收視率是新聞從業者唯一的目標與自我實現的方式
 (B)呼籲讀者未來應使用多元的傳播媒體平台觀看影視作品
 (C)現代公民應具備媒體識讀素養以因應新興媒體產業崛起
 (D)當前新聞從業者面臨新聞倫理與商業運作間的兩難問題
22. () 根據文中所述，傳統媒體業者正面臨何種危機？
 (A)產業結構轉型 (B)經濟不景氣 (C)個人隱私權提升 (D)資訊氾濫難辨

【預祝同學：會考順利（精神與你們同在☀）】

花蓮縣立宜昌國中 107 學年度第二學期第二次段考 9 年級社會 地理科試題

命題教師：林素葉

班級：_____ 姓名：_____ 座號：_____

一、基礎課本習作送分題 (單選題 每題 4 分，共 60 分)

- () 23. 生物多樣性之父——愛德華·奧斯本·威爾森 (Edward Osborne Wilson) 說：「砍掉一棵樹，失去的絕不僅一棵樹，而是失去已知及未知的生物。」因此生物多樣性必須善加保護，請問下列哪個機構的設立最有利於維持生物多樣性？
(A)動物園 (B)自然科學博物館 (C)觀光果園 (D)國家公園
- () 24. 人類大規模砍伐熱帶雨林，造成生態系統失衡。請問：全球最大的熱帶雨林區位於何處？
(A)亞洲南洋群島 (B)非洲剛果河流域 (C)南美洲亞馬孫河流域 (D)歐洲伊比利半島
- () 25. 近年來北極地區冰層面積逐漸縮小，其原因為何？
(A)地震 (B)全球暖化 (C)臭氧層破洞 (D)土地荒漠化
- () 26. 國際間簽訂了《京都議定書》、《巴黎協定》、《蒙特婁議定書》等，主要的目的為何？
(A)使地球永續發展 (B)提高國民所得 (C)降低貧富差距 (D)維護世界和平
- () 27. 南極地區的臭氧層受到氟氯碳化物影響而日漸變薄，可能造成下列哪個後果？
(A)使地球總降水量增加 (B)增加地球發生旱災的頻率
(C)導致人類皮膚癌罹患率增加 (D)使全球暖化的情況更為嚴重。
- () 28. 人類從事大規模的農牧業活動時，對環境所造成的影響，下列何者正確？
(A)地表斷裂，形成陷落谷地 (B)過度開墾，造成水土流失
(C)噴灑農藥，造成水資源不足 (D)生產單一作物，增加生物多樣性
- () 29. 位於澳洲東岸沿海，散布範圍廣達 34 萬 5 千平方公里的大堡礁，是世界最大、最長的珊瑚礁群，綿延 2,600 公里，1981 年被列入世界自然遺產，如今它將面臨消失的危機。請問下列哪一項因素最可能是導致珊瑚礁群消失原因？
(A)海水消失 (B)貧富差距 (C)戰爭頻繁 (D)全球暖化

可口可樂公司自 1979 年至今，已在中國投資超過 50 億美元。2009 年在上海建成的「全球創新與技術中心」，擁有超過百位頂尖研發人才和食品科學領域的專家，共同致力於產品與飲料的創新。該中心不僅是可口可樂公司在中國投資的一部分，更被視為其在中國發展的重要里程碑。

如今，可口可樂公司在中國擁有 4 萬多名員工，加上其相關企業，提供了超過 40 萬個就業機會。可口可樂公司總裁兼 CEO 穆泰康說：「中國已成為可口可樂重要的市場。」閱讀完上文，請回答下列問題：

(資料來源：改寫自可口可樂中國網站 <http://www.coca-cola.com.cn>)

- () 30. 可口可樂公司選擇到中國設立「全球創新與技術中心」，主要是因中國擁有哪些區位優勢？
(甲)市場 (乙)交通 (丙)資金 (丁)勞工
(A)甲乙 (B)乙丙 (C)丙丁 (D)甲丁
- () 31. 可口可樂公司在全球近 200 個國家設有分公司，其產品採購、設計、製造、專利、技術授權、資訊產品、服務業務等，皆由不同國家的不同部門來執行，其主要目的為何？
(A)促進國際交流 (B)降低生產成本 (C)增加就業機會 (D)傳播美式文化
- () 32. 由上文敘述可知，未來將進入「知識產業」的世紀，只有知識與產業結合，企業才能持續的成長與發展。因此何項生產要素愈來愈重要？
(A)人力素質 (B)交通 (C)政策 (D)動力
- () 33. 承上題，面對未來將進入「知識產業」的世紀，請問身為國中生的您，下列何者是您現在所應該積極準備的？
(A)及時享樂，消極面對 (B)未來 AI 世紀，不用擔心
(C)廣泛閱讀，充實知識 (D)無所謂，離我還很遠

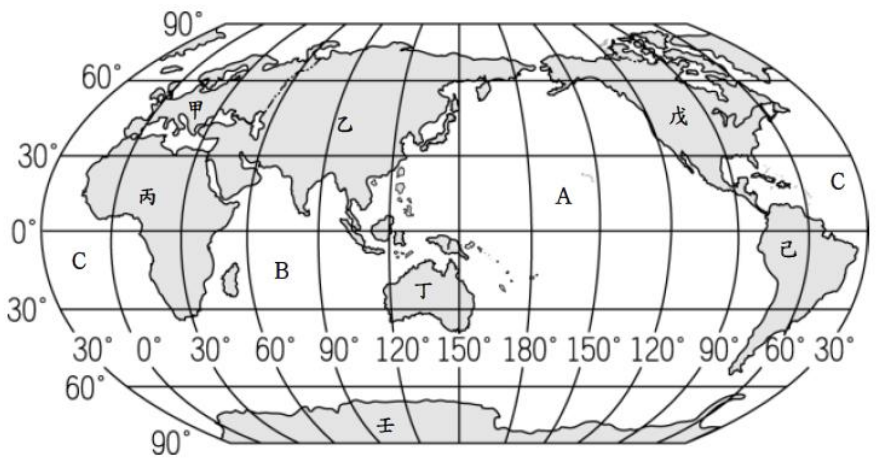
右圖為美國蘋果公司 iPhone 生產流程示意圖，請問：

- () 34. 附圖為下列哪種生產概念？
(A)國際分工 (B)市場壟斷 (C)國際貿易 (D)時空收斂
- () 35. iPhone 的生產模式反映了目前世界經濟的哪個特點？
(A)都市化 (B)全球化 (C)工業化 (D)世界工廠
- () 36. iPhone 是結合相機、手機、無線通訊、媒體播放器等的手持裝置，其產生的主因是下列哪項的進步？
(A)噴射飛機 (B)航運技術 (C)通訊科技 (D)GPS 衛星導航
- () 37. 美國蘋果公司選擇在臺灣生產零件，最主要是考量下列哪個工業區位？
(A)資金 (B)技術 (C)原料 (D)動力

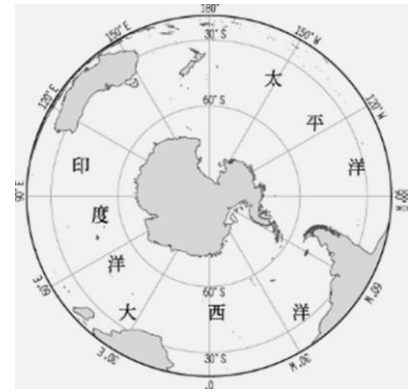


二、進階綜合挑戰題 (單選題 每題 5 分, 共 40 分)

樂樂、禾禾、維維預計在會考後駕駛飛機以大圓航線環繞地球，他們規劃飛行路線是從花蓮沿 23.5°N 向東飛抵 180° 經線，再轉向北沿 180° 經線飛行，穿越極點後向南直線飛行再次通過另一極點，環繞地球一周，最後回到花蓮。請參閱世界簡圖回答下列問題：

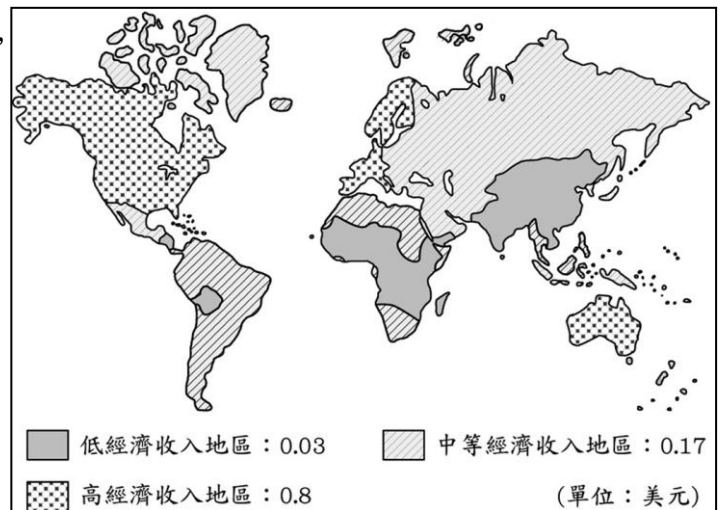


- () 38. 請問飛機兩次飛越極點上空，依序為下列何者？
 (A) 北極、南極 (B) 南極、西極
 (C) 西極、東極 (D) 南極、北極
- () 39. 當飛機轉向北沿 180° 經線飛行，穿越極點後向南直線飛行，請問會沿著下列哪一條經線或緯線飛行？
 (A) 赤道 (B) 國際換日線 (C) 本初經線 (D) 南迴歸線
- () 40. 在飛航路線中會經過如右圖所示上空，請問下列對於右圖地區敘述何者正確？
 (A) 此為北極地區，因受全球暖化影響，北極熊生態面臨相當大威脅。
 (B) 此為南極地區，是企鵝的大本營，因受氟氯碳化物汙染，上空臭氧層破洞
 (C) 此為大洋洲地區，受全球暖化影響，低窪地區島國面臨消失危險。
 (D) 此為南美洲地區，經濟、醫療衛生落後，戰亂頻繁，貧富差距大。



貧窮門檻 (poverty threshold) 或貧窮線、貧困線，是為滿足生活標準而需的最低收入水平。以協助脫貧為主要使命的世界銀行(World Bank)為經濟發展程度不同的國家設定出不同的貧窮線標準，對先進國家而言，世銀設定的貧窮線是每人每天收入低於14.4美元，對小康社會，貧窮線設定為日收入2美元，至於□□，世銀則採用日收入低於1.25美元的絕對貧窮線。

- () 41. 請問上文中□□，所指的最有可能是下列哪一地區？
 (A) 非洲 (B) 歐洲 (C) 大洋洲 (D) 美洲
- () 42. 「全球貧窮人口最多的印度，有一億多人生活在貧窮線以下，但一份最新報告顯示，印度個人累積財富總計達 5.6 兆美元，是全球最富有國家的第 7 名。」上述現象說明在全球化影響下呈現出下列哪一項問題的嚴重性？
 (A) 本土文化與外來文化衝突
 (B) 跨國企業的國際分工
 (C) 外籍勞工眾多
 (D) 貧富差距擴大
- () 43. 右圖是在每一美元的國際貿易中，各地區所獲得貿易的分配狀況。請問高經濟收入地區主要以哪兩個經濟組織的成員國為主？(甲)北美自由貿易區 (乙)歐盟
 (丙)亞太經濟合作會議 (丁)石油輸出國家組織
 (A) 甲乙 (B) 乙丁 (C) 丙丁 (D) 甲丙



您知道3月22日是甚麼日子嗎？是聯合國訂定的世界水資源日，水資源對人類生存極為重要。然而全球上有85%人口居住在前50%最乾燥的地區，3億到8億人居住在撒哈拉以南的缺水區(NEPAD, 2006)。另全球有7億8300萬人無法取得乾淨用水，25億人沒有公共衛生設施，每年600萬到800萬人死於與水相關的重大災害。右圖是全球水資源不足的分布圖，由圖可看出各地所面臨的水資源問題嚴重程度不一。請問：



- () 44. 由圖中可知，地球上哪一大洲面臨最嚴重的水資源不足問題？
 (A) 亞洲 (B) 歐洲 (C) 非洲 (D) 北美洲
- () 45. 下列何者「不是」全球水資源不足日漸嚴重的主因？
 (A) 氣候異常 (B) 用水需求量大 (C) 水資源汙染 (D) 全球少子化

花蓮縣立宜昌國民中學 107 學年度第 2 學期第 2 次段考 9 年級歷史科試題卷

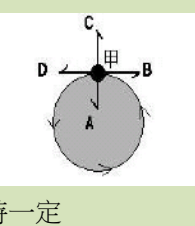
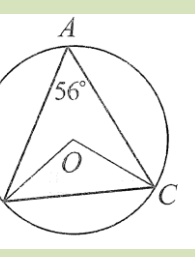
一、一般選擇題：每題 8 分，共 80 分

命題教師：邱老師

46. 蘇聯前總統戈巴契夫是西元 1990 年諾貝爾和平獎的得主，請問：他得獎的理由最可能是下列何者？
(A)組織「第三世界」，形成與美蘇抗衡的勢力
(B)力圖推動政治民主及經濟改革，減少蘇聯對東歐的控制
(C)積極推行計劃經濟，全力發展國防，實施獨裁統治
(D)實行各項新政並興建大型工程，改善經濟大恐慌。
47. 班上同學正在討論關於第二次世界大戰的史事。請問：下列哪位同學的敘述，才是正確的內容？
(A)小雲：「美國在西元 1939 年即參戰」
(B)小蘭：「主要兩大陣營為同盟國和軸心國」
(C)小嘉：「軸心國中第一個投降的國家是德國」
(D)小慧：「英國對日本投下原子彈才使日本投降」。
48. 「1930 年代，美國遭逢經濟危機，當時羅斯福政府受經濟學者凱因斯的理論影響，推動相關方案，以紓緩國內困境。」上述方案最可能是下列何者？〔100.北北基〕
(A)提高關稅，以保護本國產業
(B)擴張殖民地，取得重要資源
(C)企業收歸國營，實施共產主義
(D)推展公共建設，以消費刺激經濟。
49. 小雲到德國柏林旅遊，發現柏林某處存有一小段圍牆遺跡，經導遊解說後，才知道這是西元 1960 年代所建立的柏林圍牆，請問：當時國際局勢應是處於下列哪個時期？
(A)文藝復興 (B)啟蒙運動 (C)冷戰時期 (D)經濟大恐慌。
50. 某書的簡介如下：「書中描寫一場革命結束了長達三百多年的沙皇專制統治，成立臨時政府，但在八個月之後，布爾什維克革命又推翻了曇花一現的臨時政府。」此書最可能是下列何者？〔100.北北基〕
(A)《1789 年法蘭西的革命》 (B)《1871 年德意志的崛起》
(C)《1917 年變動的俄羅斯》 (D)《1949 年共產中國誕生》。
51. 第一次世界大戰以後，戰敗的鄂圖曼土耳其帝國面臨被列強瓜分的危機。請問：當時推動土耳其建立共和政府，與協約國重訂和約，進而促進土耳其現代化的領導人，是下列何人？
(A)凱末爾 (B)玻利瓦 (C)華盛頓 (D)勞合喬治。
52. 小雲在報紙上經常看到「第三世界」一詞，請問：有關第三世界的敘述，下列何者正確？
(A)以蘇聯為首的共產國家
(B)都是歐洲聯盟的會員國
(C)在經濟上都是工商業發達的國家
(D)在外交上通常不與美國或蘇聯結盟。
53. 1950 年韓戰爆發，美國政府提供臺灣軍事及經濟援助，對當時物資匱乏、資金短缺的臺灣而言，無疑是一場及時雨。美國當時援助臺灣的根本原因最可能是下列何者？〔100.第一次基測〕
(A)支援對抗日本的盟國
(B)圍堵共產勢力的擴張
(C)轉移經濟大恐慌的焦點
(D)防範法西斯主義的蔓延。
54. 靜怡正在觀賞一部美國電影，片中敘述男主角參與西元 1960 年代的一場戰爭後，回國看到反戰人士的抗議，而逐漸對國家政策感到失望；請問：片中男主角應該是參與下列哪場戰爭？
(A)韓戰 (B)越戰 (C)以阿戰爭 (D)第二次世界大戰。
55. 國際組織成立的目的通常是基於共同利益、促進國際合作等。請問：下列哪個國際組織，其成立的目的主要是加強經濟合作？
(A)國際特赦組織
(B)華沙公約組織
(C)北大西洋公約組織
(D)北美自由貿易協定。

二、綜合實力題，每題 1 分

56. 科學革命時期的學者提出許多新的系統研究方法，如笛卡兒提倡「演繹法」講求透過嚴密邏輯論證來獲得知識。請問下列四位老師所出的段考考題，誰的題目最適合以這個方法來解答？

<p>(C) 靜靜老師 (自然)</p> <p>李冬利用保特瓶綁上童軍繩來模擬圓週運動，請問以下他提出來關於圓週運動的四項敘述，何者正確？</p> <p>(A) 是一種等速度運動 (B) 是一種等加速度運動 (C) 轉動越快所需要的向心力越大 (D) 所受的向心力方向維持一定</p>		<p>(A) 萍萍老師 (國文)</p> <p>劉基 楚人養狙中，作者在文中安排小狙對狙公的管理提出質疑，小狙的表現可用下列哪一句話形容？</p> <p>(A) 猴子不知屁股紅 (B) 身陷危險不自知 (C) 初生之犢不畏虎 (D) 忘恩負義，恩將仇報</p>
<p>(D) 家家老師 (數學)</p> <p>如圖，O 為圓心，若 $\angle CAB = 56^\circ$，則 $\angle OBC$ 之度數為何？</p> <p>(A) 28° (B) 34° (C) 56° (D) 112°</p>		<p>(B) 萱萱老師 (英文)</p> <p>Abby: I want to save my money in the bank. Austin: OK. You have to open a(n) _____ first.</p> <p>(A) envelope (B) account (C) apartment (D) screen</p>

57. 「黃巾之亂」、「八王之亂」、「安史之亂」、「黃巢之亂」等，是發生於漢末至唐朝的重大歷史事件，關於「黃巾」、「八王」、「安史」、「黃巢」等事件後面皆被加上個「亂」字，下列對其共通點的說明何者為宜？

- (A) 屬「歷史解釋」，因為只要「外族入侵」，就會被加上亂字。
- (B) 屬「歷史解釋」，因為它們的起事，最終的結果都以失敗告終。
- (C) 屬「歷史事實」，因為它們都自稱為「賊」，如「黃巾賊」。
- (D) 屬「歷史事實」，因為它們都屬外族舉兵入侵，「為亂中原」。

58. 警察制度與保甲制度是日本統治台灣時期重要制度，下表為花蓮縣吉安鄉民國 107 年 1 月的土地與戶籍資料。如果是在日治時期，吉安鄉大約會有多少位「保正」？

- (A) 約 65 位
- (B) 約 320 位
- (C) 約 837 位
- (D) 約 421 位。

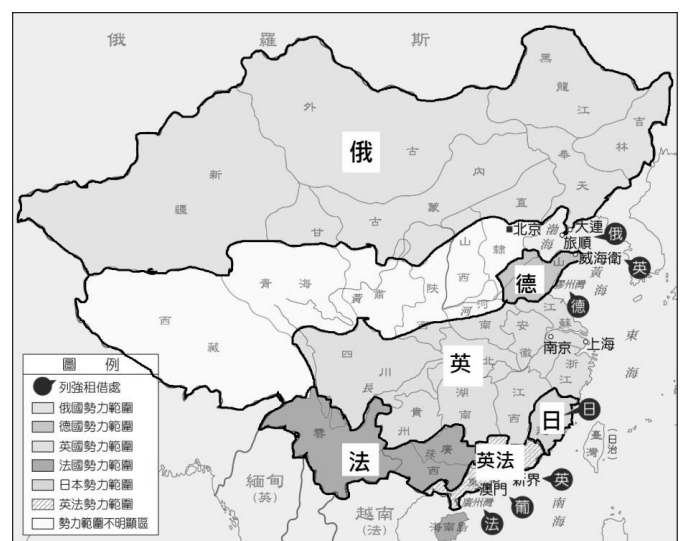
鄉鎮	土地面積 (平方公里)	戶數	人口數	男生	女生
吉安鄉	65.2582	32053	83750	42117	41633

59. 1984 年 6 月、7 月、12 月，短短半年間，新北市土城海山、瑞芳煤山、三峽海山一坑煤礦分別發生台灣煤礦史上最嚴重的三次災變。其中，位於台北土城的海山煤礦災變，奪走了 74 位礦工的生命，其中 72 位是來自花東的阿美族。下列哪一項因素讓這些原居處花東地區的原住民，選擇離鄉背景遠赴台灣西部工作？

- (A) 番界的廢止，壓迫了原住民原有的生活空間。
- (B) 二二八事件，軍隊侵入原住民傳統生活領域。
- (C) 十大建設的交通建設，便利了花東前往西部。
- (D) 科學園區的設立，需要原住民的天賦與專長。

60. 甲午戰敗後，列強加速對華的侵略，紛紛租借港灣並畫分自己在華的勢力範圍，中國也面臨被瓜分的危機，如右圖所示。你若是當時有識青年，有心救亡圖存，面對國家的危難將可投入什麼樣的救國行列之中。

- (A) 加入拜上帝會，追求天下一家，共享太平的理想國度。
- (B) 響應皇帝變法維新，推動政治、教育等制度層面改革。
- (C) 聲援天安門廣場學生，提出外爭主權、內除國賊訴求。
- (D) 支持紅衛兵活動，批鬥親友、師長、官員與知識分子。

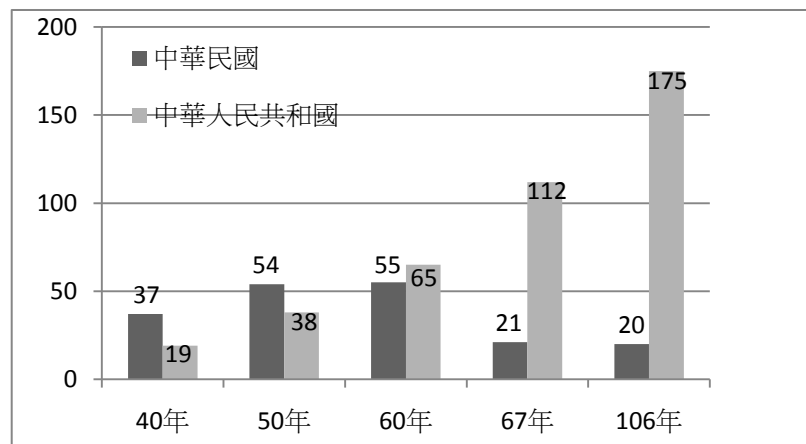


61. 台灣一直是華語音樂的重鎮。1980 年代後期及 1990 年代初期，台灣社會在長期壓抑下突然解放，刺激樂壇產生了「另類音樂」及「新台語歌運動」。唱片公司舉辦「台北音樂節」，具體鼓吹本地化的另類音樂創作，批判威權統治對台語和思想的鉗制。代表性歌手有林強、伍佰和 China Blue 以及製作「流浪到淡水」的陳明章。請問上述華語樂風的轉變，主要與什麼事件發生有關？

- (A) 二二八事件爆發 (B) 地方自治的推行
- (C) 台灣退出聯合國 (D) 政府解除戒嚴後

62. 右圖是中華民國與中華人民共和國歷年邦交國數目。民國60年代的時間點是兩岸擁有邦交國多寡重要轉換期，自此之後，中華民國的邦交國日漸減少，而中華人民共和國則是與日俱增，此變化與何事件的發生有直接關係？

- (A)韓戰的爆發
- (B)八二三砲戰的開打
- (C)台灣退出聯合國
- (D)美國與台灣斷交



63. 假期時，銘雄和家人一同前往台東參觀了卑南史前博物館，館中有個特展「音樂的慰藉 - 臺灣原住民現代歌謠中的共享記憶」，有一展板說明如右。

請問當地的原住民面對的「第一個國語」應是哪個政權推行的？

- (A)荷蘭
- (B)明鄭
- (C)日本
- (D)中華民國

從不敢承認自己的人生低谷，彎回找自己；
 從「流浪到臺北」，彎回原鄉；
 從第一個國語、第二個國語，彎回母語
 走過殖民時期的人生低潮，走過離鄉背景的苦悶；
 不管哪個年代，都有人從深刻體驗中；
 譜出、唱就一首首反映與見證時代的歌。

64. 《「她」字的文化史》一書提及，最早來華傳教士要翻譯「he」、「she」、「it」字時，曾翻成「他男」、「他女」、「他物」，但並未普及。1920年劉半農也是最早將「她」字放入文學的詩人，寫出了著名的情詩〈教我如何不想她〉。作者在書中寫到：「至少在此之前，若有人唱著『叫我如何不想他』時，我們的確不知道被想著的他是男、是女或是其他。」請問文中用「她」來代表女性，當時應是哪一時期的先進作風？

- (A)自強運動
- (B)戊戌變法
- (C)立憲運動
- (D)新文化運動

65. 每項制度、政策不去適時調整，其產生弊端的機會即大增。對當前制度做小幅度調整，我們視為革新；大幅度改變則視為「變法」，激進的改朝換代，則為革命。推行政治變法或革新者，往往能留名青史，然而自身最後多得不到好的回饋，如商鞅、王安石、張居正、光緒皇帝等人變法多以悲劇收場，下列何者最可能是其共通點？

- (A)守舊派權益受損，共同集結反對新政。
- (B)理想性過高，新政內容往往不符實際。
- (C)財政支援不足，新政最終失敗收場。
- (D)外國勢力介入，從中阻擾新政推行。

所謂「工業革命」，簡而言之，就是以機械取代以往使用人力、畜力、自然力（水力、風力）的生產方式，導致商品的大量製造和工廠制度的誕生。它源於英國，後傳播到歐洲大陸和美國，它不僅改變歐洲與亞洲之間商品供給與需求經濟結構，同時牽動國際政治及社會文化等諸多面向。

如19世紀中國的門戶洞開，可溯源自英國工業革命後，工商業蓬勃發展，為了解決生產過剩，需要尋找新的海外市場以消化過多的商品，與中國貿易限制成了急需克服的障礙。鴉片戰爭前，曾兩次派遣特使馬加爾尼和阿美士德來中國洽商通商限制，但無功而返，進而衍生用武力解決貿易困境。

在藝文發展上，隨著大量的農民湧入城市而成為工廠的勞工，由於其聚集地方吵雜不堪而成為都市的貧民窟，並衍生許多社會問題。19世紀40年代起，以描寫現實生活為最高原則的寫實主義藝術運動出現，將美術題材擴展到對當代生活的評價，對下層人民的關切，對大自然的親切描繪等方面。





66. 上文中提到工業革命導致商品大量製造，改變歐洲與亞洲之間商品供給與需求經濟結構，它源於英國，後傳播到歐洲大陸和美國。隨著機械化的大量生產，對這些工業化大量帶來的變化，下列哪一樣敘述是正確的？

- (A)商品供給大增，需要尋找新的海外市場以消化過多的商品。
- (B)商品需求大減，需要新的原料供給來刺激國內商品的生產。
- (C)商品需求大增，需要擴大從中國購買的商品量以彌補短缺。
- (D)商品供給大減，需要增加海外商品購買量以滿足國內所需。

67. 英國自鴉片戰爭後打破中國原有的貿易限制，在其與中國簽訂的南京條約內容中，哪一項條款對紓解英國原有的貿易壓力最有助益？

- (A)租界
- (B)領事裁判權
- (C)割讓香港島
- (D)增開通商口岸

68. 工業革命刺激藝文界興起寫實主義藝術運動，下列哪一個繪畫作品，符合上述寫實主義的精神？

<p>(A) 達文西《蒙娜麗莎》 肖像畫作的一種典型代表</p> 	<p>(B) 莫內《日出印象》 以光影映照在水面上的變化，畫出自己所看到的日出。</p> 	<p>(C) 米勒《牧羊女與羊群》 以樸實的筆觸，畫出農村人民的日常生活。</p> 	<p>(D) 畢卡索《閱讀的女子》 從好多角度去觀察物體，再把觀察到的結果用並列重疊的方式畫出來</p> 
--	--	---	--

「民族自決」的政治理念是美國總統威爾遜所提出，強調人民可以自由決定他們的政治地位，並自由謀求他們的經濟、社會和文化的發展。第一次世界大戰後，俄羅斯帝國、奧匈帝國、德意志帝國與鄂圖曼土耳其帝國順勢瓦解，許多地區的人民受到「民族自決」的啟發，掀起了風起雲湧的民族復興浪潮，如印度、韓國、土耳其，同時期的台灣與中國也受此思潮的影響，展開民族復興運動。請問：

69. 1920 年代，在民族自決思潮影響，下列哪一事件是發生在台灣的具体變化？

- (A) 鄭成功決定出兵台灣，驅離來自歐洲的統治者荷蘭人。
- (B) 沈葆楨廢除渡台禁令，讓大陸人民可以自由往來台灣。
- (C) 蔣渭水組織請願運動，向執政當局訴求設置台灣議會。
- (D) 國民政府遷台，推行耕者有其田政策，增加農民收益。

70. 印度的民族復興運動由甘地發起，他採行什麼樣的措施來抵制英國人的統治？

- (A) 發表「門羅宣言」，主張印度事務不受英國干預。
- (B) 推崇「鐵血政策」，強化軍備策動民眾武裝抗暴。
- (C) 採取非暴力「不合作運動」，打擊英國經濟。
- (D) 組織政黨、結盟外國勢力對抗英國殖民統治。

71. 民族自決思潮也對中國形成巨大的衝擊，下列哪一事件的發生，即受其影響？

- (A) 義和團以「扶清滅洋」為口號，開始仇殺洋人。
- (B) 孫中山以民有、民治、民享為目標，推翻清朝
- (C) 針對山東問題的處置不公，學生發起了五四運動
- (D) 中國共產黨以「停止內戰、一致抗日」為訴求

今年（2019）是五四運動百週年，百年前的 5 月 4 日下午，北京的大學生以天安門為起點，開始聲勢浩大的示威活動，他們從天安門遊行至當年大使館聚集的東交民巷使館區，在陳情未果後，轉而出發至當年交通總長曹汝霖宅邸趙家樓，痛打章宗祥，同時火燒曹宅趙家樓。

「五四運動」時期，知識分子陳獨秀提出「德先生」與「賽先生」的主張，對後續中國產生什麼影響？學者認為，100 年來，「賽先生」在中國發展尚能與時俱進；至於「德先生」，有時走得快、有時走得慢，呈曲線變化。

「清末發展船堅炮利及改變政治體制都不成功，民初知識分子認為那是文化出了問題。」黃克武說，當時胡適、陳獨秀、蔡元培等人發起「新文化運動」，陳獨秀又再提倡「德先生」和「賽先生」，都是主張破除傳統、全盤西化，以改變文化救中國。

黃克武表示，「五四運動」發生到現在已經 100 年，其中「德先生」和「賽先生」是中國追求成為現代化國家的起點，但使命仍未完成。

節錄自 2019 年 5 月 4 日中國時報

72. 請問百年前這場抗議運動最主要的起因為何？

- (A) 抗議巴黎和會未公正處理山東問題
- (B) 抗議袁世凱的洪憲帝制運動
- (C) 抗議直系曹錕賄選，贏得總統職位
- (D) 抗議袁世凱涉及宋教仁被殺

73. 文中提到曹汝霖宅被燒、章宗祥被打，學生會把他們當作抗議對象，主因認為他們往往站在哪個國家的立場處理事情？

- (A) 美國
- (B) 日本
- (C) 英國
- (D) 德國

74. 文中提到「清末發展船堅炮利及改變政治體制都不成功」，下列歷史事件，哪一件「不包括」在其中？

- (A) 甲午戰爭
- (B) 戊戌變法
- (C) 立憲運動
- (D) 白話文運動

75. 「口號」「標語」往往是大型活動營造共識很重要的要素，請問在北京大學五四運動的紀念會上，適合掛出哪一個標語？

- (A) 「忠孝、仁愛、信義、和平」
- (B) 「健康、多元、人文、品德」
- (C) 「愛國、進步、民主、科學」
- (D) 「莊敬、自強、處變、不驚」

公民科參考答案：

1-12 題 每題 5 分，13-22 題 每題 4 分，共 100 分。

1	2	3	4	5	6	7	8	9	10	11	12	13	14	15	16	17	18	19	20
B	A	A	A	B	D	D	B	C	C	C	A	B	B	A	B	A	B	D	C
21	22																		
D	A																		

地理科參考答案：

23-37 題 每題 4 分，38-45 題 每題 5 分，共 100 分。

23.	24.	25.	26.	27.	28.	29.	30.	31.	32.
D	C	B	A	C	B	D	D	B	A
33.	34.	35.	36.	37.	38.	39.	40.	41.	42.
C	A	B	C	B	A	C	B	A	D
43.	44.	45.							
A	C	D							

歷史科參考答案：

46-55 題 每題 8 分，56-75 題 每題 1 分，共 100 分。

46.	47.	48.	49.	50.	51.	52.	53.	54.	55.
B	B	D	C	C	A	D	B	B	D
56.	57.	58.	59.	60.	61.	62.	63.	64.	65.
D	B	B	C	B	D	C	C	D	A
66.	67.	68.	69.	70.	71.	72.	73.	74.	75.
A	D	C	C	C	C	A	B	D	C