

公民科試題(共計 100 分)

命題教師：藍惠寧老師

一、 選擇題（一題4分，共52分）

1. 元君企業負責人收到一張由花蓮縣環保局開的勒令歇業罰單，理由是違規排放廢水。元君覺得權利受到侵害。請問他救濟權利的第一步應該是以下何者？
 (A) 向警察局報案 (B)與環保局私下合解
 (C) 向花蓮縣政府提起訴願 (D)向地方行政法院提起訴訟
2. 我國行政訴訟之審級採
 (A)二級二審制 (B)二級三審制 (C)三級二審制 (D)三級三審制
3. 我國民事及刑事訴訟之審級，原則上採
 (A)二級二審制 (B)二級三審制 (C)三級二審制 (D)三級三審制。
4. 關於「權利救濟」的說法，以下何人**錯誤**？
 (A)寶玉：指人民的權利受到侵害時，可以依法請求救濟其權利
 (B) 采儒：刑事案件可以請求仲裁
 (C) 家聰：民事事件可以適用的救濟方式最多
 (D)承恩：調解是一種既省錢、省時又省力的方式
5. 關於妨害性自主罪的敘述，何者正確？ 甲.妨害性自主指違反當事人意願而與人發生性行為 乙.包括違反當事人意願而從事猥褻行為 丙.當事人若未滿16歲，即使徵得當事人同意而發生性行為，也犯此罪
 (A)甲乙 (B)甲丙 (C)乙丙 (D) 甲乙丙
6. 以下何人敘述**錯誤**？
 (A)惠君：「公訴」是指以檢察官為原告向法院提起訴訟
 (B)瑋丞：民事、刑事及行政訴說都可以採取公訴的模式進行
 (C)心茹：訴訟雙方若對法官判決不服而就同一案件向上級法院提起訴稱為「上訴」
 (D)嘉祥：「告訴」是指受害當事人向警方報案或向檢察官申告
7. 以下三種情況分別犯了什麼罪？
 甲：玉婕到處跟同學說公民老師每天晚上都蒐集自己的頭皮屑然後吃掉的事。經查證並非事實。
 乙：玉婕到處跟同學說公民老師每天晚上都蒐集自己的頭皮屑然後吃掉的事。經查證屬實。
 丙：玉婕到處跟同學說公民老師每天晚上都蒐集自己的頭皮屑，到達一定分量之後會灑在八年級某班同學的營養午餐裡。經查證屬實。
 (A)甲屬於公然侮辱罪，乙、丙無罪 (B) 甲、乙、丙情況皆屬於公然侮辱罪
 (C)甲、乙屬於誹謗罪、丙無罪 (D)甲屬於誹謗罪，乙、丙無罪
8. 以下表格是對「少年事件處理法」與「兒童及少年福利與權益保障法」的比較，以下4項的比較內容何者**錯誤**？

| 法規 | (A)立法目的 | (B)內容 | (C)分類 | 規範對象 |
|---------------|----------------|---------------------|----------------------|-----------------|
| 少年事件處理法 | 促進兒童及少年之身心健全發展 | 少年涉及犯罪的處理 | 1.少年刑事案件 2.少年保護事件 | 12歲以上 未滿18歲者 |
| 兒童及少年福利與權益保障法 | 給予犯錯的少年反省自新機會 | 對於兒童及少年之福利與權益的保護及促進 | 1.兒少福利措施 2.兒少保護措施 | ? |
9. 承上題，以上表格之規範對象欄之“?”應為何？
 (A)未滿20歲者 (B)未滿18歲者
 (C)7歲以上未滿18歲者 (D)依法應保護兒童及少年者
10. 請問什麼是「法律扶助」？
 (A)提供經濟有困難的人民法律上的幫助 (B)幫助想要學習法律的人免費的法律學習課程
 (C)在國民義務教育中安排基本的法律課程 (D)法律能夠保障人民的權利

二、 配合題(一題4分，共36分)

(一) 選項：(A)竊盜罪 (B)搶奪罪 (C)強盜罪 (D)恐嚇取財罪

以下四種情況皆是不法獲取他人財物的罪，然而因獲取的方式不同，罪名與罪責也就不同。請寫出以下各題分別屬於哪一種罪：

11. 秉景騎車靠近路人，趁著路人沒有防備時，把他的包包搶走。
12. 雨欣在暗巷對周沐拳打腳踢後，把他的包包搶走。
13. 如婕在逛桶罐超商時，趁著店員在滑手機把架上的一包泡麵放到自己的袋子裡。
14. 永裕威脅哲維若是不把錢交出來，就要對他不利。

(二) 選項：(A)訴訟 (B)調解 (C) 訴訟外和解 (D)仲裁

請問以下各情況分別較適合何種權利救濟？

15. 采蓁向芷琦借了5萬元，並約定還款事宜，但事後雙方對於約定內容一直有爭議。
16. 昱凱開車不小心撞到路人甲導致其輕傷，昱凱誠心請求路人甲原諒，並願意賠償醫藥費，路人甲也表示同意。
17. 職棒球員孟璋因為複雜的薪資問題，與球團爭執了二年，雙方都希望紛爭儘快落幕，好讓球員專心打球、觀眾有好球賽看、球團發大財。
18. 職棒球員拉明哥自爆5年前曾遭受教練性侵害，為了防止有其他球員受害，也為自己爭取權益，他決定挺身而出，揭發真相，希望教練能被繩之以法。
19. 順利透過以上4種救濟途徑所達成的結論，其效力大小排序如何？

(“>”表示「大於」；“=”表示「等於」)

- (A)訴訟>調解>仲裁>訴訟外和解 (B)訴訟>仲裁>調解>訴訟外和解
(C)訴訟 = 仲裁 = 調解 = 訴訟外和解 (D)訴訟 = 仲裁 = 調解 > 訴訟外和解

(三) 選項：(A) 法官 (B) 律師 (C) 檢察官 (D) 通譯

請為以上人員與其職務做出正確的配對。

20. 為訴訟者辯護，提出有利的論據。
21. 代表國家追訴犯罪行為，實現社會的正義。
22. 依法進行審判。

三、 題組(一題4分，共12分)

仕杰邀朋友到好兄弟燒烤店慶祝15歲生日，還向業者點了啤酒助興。酒醉之餘和隔壁桌客人起了口角。仕杰以啤酒罐砸對方導致其受到皮肉傷。這時警員方鎧到場，全部人作鳥獸散。

(刑法第277 條：傷害人之身體或健康者，處三年以下有期徒刑、拘役或一千元以下罰金。)

23. 請問仕杰「較有可能」受到的法律制裁為何？(A)有期徒刑 (B)拘役 (C)保護管束 (D) 感化教育
24. 仕杰違反法律之制裁或處理方式，主要依據以下何法律？
(A)兒童及少年福利與權益保障法 (B)少年事件處理法 (C)刑法 (D)民法
25. 好兄弟燒烤店提供酒類給未成年少年，觸犯了什麼法律？
(A)兒童及少年福利與權益保障法 (B)少年事件處理法 (C)刑法 (D)民法

花蓮縣立宜昌國民中學 107 學年度第 2 學期第 3 次段考 8 年級歷史科試題卷

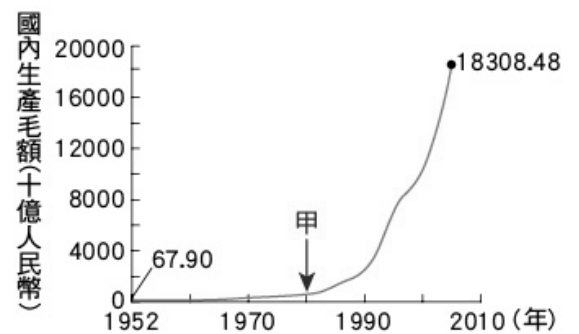
一、是非選擇題：正確選 A，錯誤選 B 每題 5 分，共 20 分

命題教師：邱老師

- 26、國共內戰期間，日本為穩定中國局勢，曾派官員來華調停國共衝突。
- 27、十年建設期間，政府通過中國國憲法，正式推行憲政。
- 28、炸死張學良父親張作霖的是日本人。
- 29、所謂的「二萬五千里長征」，其實是中共受到國民政府派兵圍剿，離開原據地，逃往陝西的路程。

二、選擇題：每題五分，共 60 分。

30、右圖呈現中國 1952 年至 2005 年國內生產毛額的數據資料。圖中曲線從甲處後有明顯變動的情況，從「甲」的時間點後，可以發現其國內生產毛額開始大幅度的增長，請問當時是誰執政推動新政策成果？



(A)毛澤東 (B)蔣中正 (C)鄧小平 (D)習近平

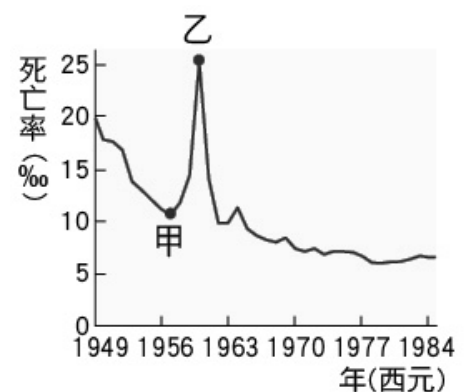
31、承上題，此人推動的新政策應為何？

- (A)利用韓戰爆發契機，提高進口關稅
- (B)大躍進提倡生產，民眾盡全力煉鋼
- (C)發動文化大革命，進行全面的改造
- (D)實施改革開放政策，引進外來資金。

32、在某本以近現代中國為背景的小說中寫到：「最近，國家開始實施新政策，由政府指定中央、交通、中國這幾家銀行發行法幣。我想，此政策若真能好好實行，改善過去幣制混亂的情況，買賣交易就比較好做了。」這段話所呈現的最可能是中國處於下列何種局勢下的情況？

- (A)戊戌變法期間，朝廷推動經濟政策
- (B)八國聯軍結束，朝廷陸續推行新政
- (C)北伐統一完成，政府致力建設發展
- (D)八年抗戰後期，政府籌措資金抗日。

33、右圖是參考某段期間中國人口死亡率估算值而繪製的曲線圖，圖中甲、乙二點之間死亡率的變化，最可能與下列何者有關？



- (A)人民響應抗美援朝，參與韓戰而造成傷亡慘重
- (B)大躍進運動期間，政策失當所導致的嚴重饑荒
- (C)文化大革命時，紅衛兵鬥爭造成眾多人口死亡
- (D)六四天安門事件爆發，政府鎮壓大量抗議群眾。

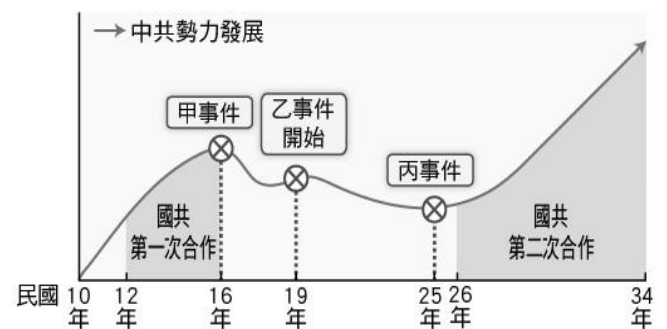
34、國民政府遷台前夕，於民國 37 年通過「動員戡亂時期臨時條款」，此條款一直到民國 80 年才廢止。請問該條款中的「亂」所指何為？

- (A)軍閥 (B)中共 (C)義和團 (D)日本

35、上次段考最後一題有提到「口號」、「標語」往往是大型活動營造共識很重要的要素，下列哪些用語，在文化大革命期間受到人們的大力宣傳？

- (甲)破四舊，立四新
 - (乙)外爭主權，內除國賊
 - (丙)革命無罪，造反有理
 - (丁)上品無寒門，下品無世族
- (A)甲乙 (B)乙丙 (C)丙丁 (D)甲丙。

36、右圖表現出是中國國民黨與中國共產黨的分合。中共的生存曾面臨嚴重威脅，卻因丙事件的爆發，使搖搖欲墜的中共轉危為安。請問：丙事件為何？



- (A)珍珠港事變 (B)濟南慘案 (C)日侵東北 (D)西安事變。

37、近幾年北韓不斷試射飛彈，造成美國與北韓的關係緊張。在六十幾年前，東亞的局勢也曾因朝鮮問題而爆發衝突，當時北韓領導人金日成派軍隊越過北緯 38 度線，進攻南韓，無預警的發動了韓戰。請問：中國曾發起哪一個運動，組織志願軍前往朝鮮半島參戰？

- (A)民族自決 (B)超英趕美 (C)聯俄抗朝 (D)抗美援朝。

38、寧寧在撰寫一份中國史報告「黃金十年的發展」，右圖為報告的目次。目次中「收回部分國家主權」的「國家主權」指的是下列何者？

| 目次 | |
|------------|----|
| 一、政治發展 | 1 |
| ● 訓政時期 | 2 |
| ● 訓政時期約法 | 3 |
| 二、經濟建設 | 5 |
| ● 廢兩改元 | 6 |
| ● 發行法幣 | 8 |
| ● 收回部分國家主權 | 10 |
| 三、文化成就 | 12 |
| ● 晏陽初與平民教育 | 13 |

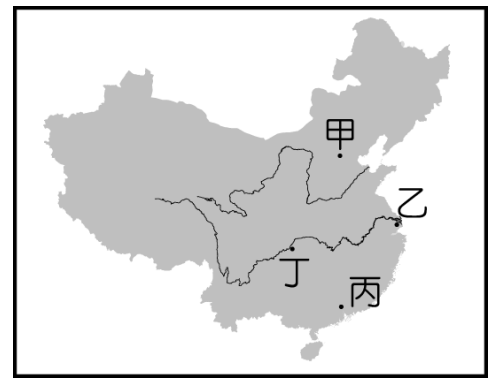
- (A)租界 (B)關稅自主權 (C)領事裁判權 (D)片面最惠國待遇。

39、承上題，最可能促成這樣發展的成因，時代背景為何？

- (A)中國結束了分裂的局勢，中央政府得以全國為考量籌畫政策
- (B)滿清剛退位，民國剛成立，新政府頒行新政，迎合新時代
- (C)新中國剛建立，為了順應民心，建設一個共產主義的理想社會
- (D)對外戰爭失利，器物性革新失利下，轉而推動經濟建設以救國。

40、今年（2019）是天安門事件 30 周年，當年一群大學生聚集在廣場，向政府提出我們希望政治改革的訴求。但是，後來政府卻動用軍隊鎮壓了這場學生運動。」請問：從文中的敘述的事件，發生在右圖中哪個地區？

(A)甲 (B)乙 (C)丙 (D)丁。



41、下圖是中國歷史上某段時期民眾花費 100 元法幣所能購買物品的變化，對於這種轉變，下列何者的解釋最適切？

(A)農業科技改良，增加物產種類 (B)國際能源危機，促使物價下跌
(C)戰禍頻繁，導致民間通貨膨脹 (D)社會安定，民生需求日益縮減。



三、題組：每題五分，共 20 分

《末代皇帝 - 溥儀》

宣統皇帝「溥儀」，是清朝最後一位皇帝，故有「末代皇帝」之稱。也正由於他身處時代的變局，曾三次登基為皇帝，但也曾被當作戰犯在監獄中度過了十年，同時也是第一位被妃子登報離婚的皇帝，有著傳奇的一生。

溥儀第一次正式登基時年僅 3 歲。辛亥革命以後，溥儀被逼退位，故亦有「清遜帝」或「清廢帝」之稱。溥儀退位之後，因為中華民國北洋政府的《清室優待條件》而能繼續居住在紫禁城內，並保留「大清帝國」國號（只限在紫禁城內），溥儀依然保留宦官，宮女在紫禁城內供其使喚。1917 年，溥儀在張勳等人的支持和幫助下，曾短暫復辟但最終失敗。張勳復辟大清帝國的行動遭到共和派系勢力的反對與攻擊，在北洋政府各界壓力和不滿之下，復辟行動僅 12 天便宣告失敗，溥儀也第二次宣布退位，結束大清帝國政權。

1924 年軍閥馮玉祥發動北京政變。11 月 5 日，馮玉祥突然帶領軍隊包圍紫禁城。使用武力要求溥儀簽署宣統皇帝退位聲明，取消宣統皇帝尊稱和命令溥儀離開紫禁城，如果溥儀拒絕答應其要求，馮玉祥威脅會使用多門火炮射擊紫禁城。溥儀為保護紫禁城免遭破壞，別無選擇只能無奈地答應其要求，馮玉祥限溥儀二天時間內收拾個人物品離開紫禁城。

溥儀離開紫禁城之後，先前往父親載灃的宅邸醇王府居住，並由國民軍進行保護（實際上是監視）。1925 年 2 月 24 日，溥儀在鄭孝胥，陳寶琛和日本人的協助下，裝扮成商人經東交民巷日本大使館至使館前方的火車站乘車逃往天津市日租界。1932 年 3 月 1 日，日本在滿洲地區正式成立滿洲國。3 月 9 日，溥儀在長春市吉長道尹公署道台衙門大堂舉行就職典禮儀式，宣布就任滿洲國執政。

1945 年 8 月 19 日，溥儀、溥傑、嵯峨浩和其他親屬在瀋陽東塔機場乘坐日本關東軍飛機準備逃亡日本的時候，被蘇聯紅軍空降傘兵逮捕。1950 年 8 月 1 日，溥儀與滿洲國其他 263 名戰犯在綏芬河由蘇聯移交給中華人民共和國，後被送往撫順戰犯管理所接受為期 10 年的勞動改造和思想教育。溥儀的囚犯編號是 981。

1959 年 12 月 4 日，中華人民共和國最高人民法院特赦首批戰爭罪犯。特赦令說：「溥儀關押已經滿十年。在關押期間，經過勞動改造和思想教育，已經有確實改惡從善的表現，符合特赦令第一條的規定，予以釋放。」溥儀被特赦後離開撫順戰犯管理所。從此，溥儀成為中華人民共和國公民。

1960 年 3 月，溥儀被分配到中國科學院北京植物園任職植物護理員和售票員。1964 年 1 月 1 日，溥儀加入政協全國委員會，任職文化歷史資料研究委員會專員。

溥儀去世前一年，紅衛兵多次光顧他的住所，幸由周恩來將溥儀列為重要保護對象，溥儀雖然人身沒有受到傷害，但在紅衛兵的批鬥攻擊中仍然飽受驚嚇。1967 年 10 月 17 日，溥儀因患腎癌，在北京大學人民醫院病逝，終年 61 歲。

42、上文中提到「1932 年 3 月 1 日，日本在滿洲地區正式成立滿洲國」。請問日本得以掌控滿洲地區，主要是利用何變故？

(A)一二八事變 (B)濟南事件 (C)九一八事件 (D)西安事變

43、承上題，在日本扶溥儀為滿洲國皇帝前，滿洲地區，應為何人的勢力所掌控？

(A)毛澤東 (B)張學良 (C)孫中山 (D)段祺瑞

44、日本戰敗，逃亡的溥儀最後「被蘇聯紅軍空降傘兵逮捕」。請問蘇聯軍隊為什麼會大規模在滿洲地區出現？

(A)盧溝橋事變後，中國共產黨對蘇聯的請求 (B)珍珠港事變後，美國積極爭取而來
(C)南京大屠殺後，各國紛紛主動對日本宣戰 (D)韓戰爆發後，蘇聯與中共形成統一戰線。

45、「溥儀去世前一年，紅衛兵多次光顧他的住所」。請問此時的中國正值什麼浪潮中？

(A)沒收地主土地 (B)生產大躍進 (C)文化大革命 (D)改革開放

花蓮縣立宜昌國民中學 107 學年第二學期第三次段考 8 年級社會科試題

一、題組題(每小題 5 分)(地理部份)

命題教師:黃清銓老師

(一)請依據右圖(1)代號回答下列問題:

46『甲』和『乙』為歐亞兩洲的分界山，請問其名稱為何?

- (A)烏鞘嶺、安地列斯山脈
- (B)烏拉山、高加索山
- (C)飛驒山脈、西高止山
- (D)太白山脈、喜馬拉雅山

47『己』區為朝鮮半島，此半島有「東亞陸橋」之稱的原因為何?

- (A)連接南韓和北韓兩國
- (B)介於北亞和東亞之間
- (C)位在板塊交接地帶
- (D)位處中國和日本的橋梁位置

48『庚』是由約 6800 各島嶼所組成的群島，請問其中最大的島，也是該國人口及工商業集中的精華區之島稱為?

- (A)本州 (B)九州 (C)光州 (D)婆羅洲

49.圖(1)中，哪兩個地區位處『環太平洋火山地震帶』，地殼不穩，多火山和地震，也都曾發生過海嘯?

- (A)丙和丁 (B)戊和癸 (C)己和辛 (D)庚和壬

50「西元 15、16 世紀，歐洲國家展開大航海時代，當時許多歐洲商人想到中國進行貿易，故許多商人開著船從大西洋往南，繞過非洲南端進入印度洋後，穿越『A』海域後，再繞過『壬』群島，才能經由南海抵達中國」。請問：上文中的『A』海峽和『壬』群島分別是指?

- (A)對馬海峽、日本群島(B)阿拉伯海、馬爾地夫群島
- (C)麻六甲海峽、東印度群島(D)加勒比海、西印度群島

51.圖(1)中亞洲哪一個地區，恰好位在海陸接觸的位置上，為海上航路的十字路口，故先後受到伊斯蘭教及歐美殖民西方文化帶來的天主教及現代國家體制的影響，並在二戰後紛紛獨立建國?

- (A)己區 (B)庚區 (C)辛區 (D)壬區

52.圖(1)中哪一區，三面環海，北依喜馬拉雅山脈，形勢封閉，故有『次大陸』之稱。

- (A)丙 (B)丁 (C)辛 (D)癸

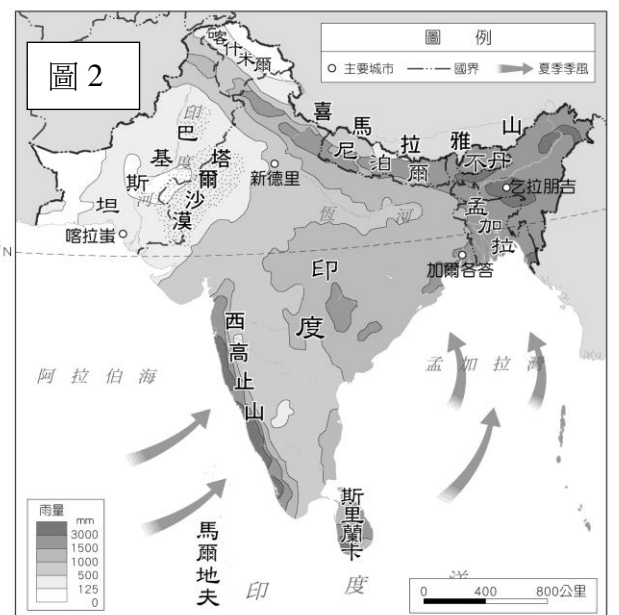
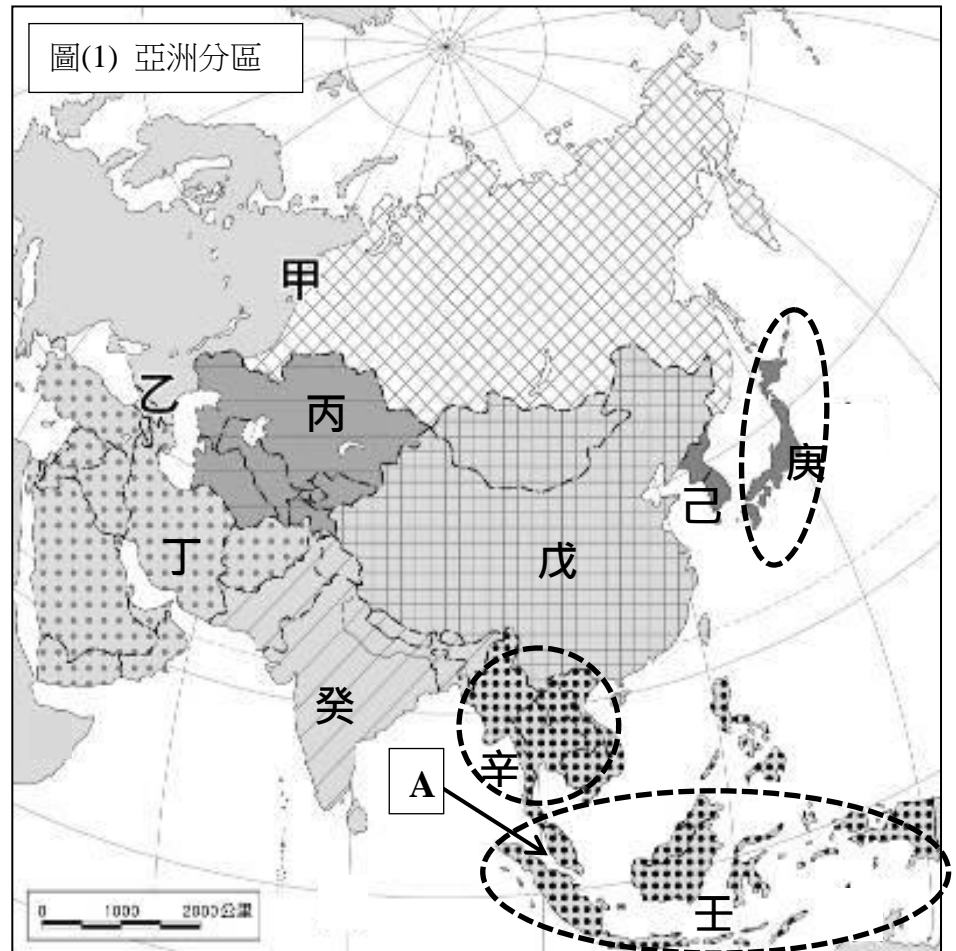
53.圖(1)中的『丙』介於歐亞大陸之間，自古交通戰略位置相當重要。請問：『丙』是指亞洲哪個地區?

- (A)中亞 (B)西亞 (C)南亞 (D)東南亞

(二)右圖(2)為印度半島的雨量分布圖，請根據地圖內容回答下列問題：

54 如圖所示、整個印度大平原的年雨量從恆河下游到上游呈現越來越少的情況，甚至到了印度河流域境內還出現了塔爾沙漠，請問其原因為何?

- (A)夏季西南季風受到山地的阻擋而轉向
- (B)冬季季風越過山脈後導致印度河流域寒冷乾燥
- (C)沿海有阿古拉斯涼流流經導致形成塔爾沙漠
- (D)西高止山阻擋了夏季季風導致恆河上游乾燥少雨



55 如圖(2)所示，若想安排到印度的首都新德里旅遊，下列哪個假期是當地最舒適涼爽的時節？

- (A)4 月份的掃墓節 (B)6 月初的端午節
(C)9 月份的中秋節(D)12 月底的聖誕節

(三)右圖(3)為我國農委會繪製之秋行軍蟲散播的時間地圖，請依據右圖及下列綜合新聞內容回答問題：

草地貪夜蛾，又稱秋行軍蟲，其幼蟲可食用多種農作物，包括玉米、水稻、黃豆、花生與多種蔬菜水果(如萵苣)，造成嚴重的經濟損失。隨著幼蟲蟲齡的上升，其取食的植物量亦大量上升，有研究顯示六齡幼蟲(化蛹前的最後一個幼蟲期)食用的植物量高達幼蟲期食用總量的近八成，而一齡、二齡與三齡幼蟲食用的總和僅佔 2%，因此龐大的農損常在一夜之間發生。其可繁衍的世代數受氣候影響，雌蟲一生中可產下約 1500 顆卵，繁殖力驚人。

秋行軍蟲原產於南美洲與北美洲的南部與中部，因不能在零度以下的低溫過冬，因此對美國南方的影響較大。美國歷史上不定期有秋行軍蟲大量爆發造成蟲害，最早記載為 1797 年喬治亞州的蟲害；1870 年，秋行軍蟲

破壞了密蘇里州與伊利諾州大量的玉米田；1912 年，洛磯山脈以東地區都發生了嚴重的蟲害，玉米、小米、棉花、蔬菜等作物與城市中的草皮都受到大量破壞。1957 年至 1959 年，美國東部又發生了嚴重的蟲害，造成上億美元的損失。

後來於 2016 年 1 月出現在奈及利亞，為首次在非洲被發現，其卵或幼蟲可能是經由進口貨品傳入，並迅速散播至幾乎整個漠南非洲，包括馬達加斯加等印度洋的島嶼。兩年後，在 2018 年 5 月，秋行軍蟲散播至印度，於該國西南部的卡納塔克邦出現，同年 11 月斯里蘭卡亦出現疫情¹。12 月，泰國與緬甸境內也發現秋行軍蟲。2019 年 1 月，秋行軍蟲由緬甸散播至中國，於雲南省普洱市江城縣出現；截至 5 月 28 日，已擴散到雲南、廣西、貴州、廣東、湖南、海南、福建、浙江、湖北、四川、江西、重慶、河南、安徽、江蘇等省市。

2019 年 6 月 10 日，臺灣苗栗縣飛牛牧場的玉米田出現了秋行軍蟲的幼蟲，為本種散播至臺灣的首例，我國農委會防檢局表示該成蟲一晚可遷徙長達 100 公里，據估計一個世代即可遷徙長達近 500 公里，如此快的速度可能是受助於大氣中的西南氣流進入台灣，數日後宜蘭縣、嘉義縣，及台東縣的玉米田也分別捕獲秋行軍蟲。至 6 月 14 日，已有 15 個縣市確認出現秋行軍蟲幼蟲，福建馬祖並捕捉到成蟲¹。中興大學植病系榮譽特聘教授曾德賜認為，如今各地陸續出現成蟲，一定要全民防疫，民眾應隨時通報、立即消滅，但這種蟲早晚都會來，國內也不用過於恐慌。現可利用生物防治法，將蛹困在土中、用藥殺滅蟲卵，降低變成蟲機會，教育農民正確處置或用藥是關鍵。

56.依據上文所示，秋行軍蟲擴散到亞洲之後，其所擴散分布的國家及地區均具有下列哪一個特性？

- (A)因美日兩國之間國際貿易發達，故由進口貨物傳入後擴散到東北亞地區
(B)因中國的玉米、黃豆大量由美國進口，故由進口貨物傳入亞洲後首先出現在中國南方各省
(C)因性喜食玉米及適合乾熱氣候，故主要擴散到中亞及西亞等乾燥地區
(D)因性喜食玉米、稻米和蔬菜，故主要擴散的地方多位在季風亞洲各國

57.依據上文所示，今年 1 月秋行軍蟲散播至中國西南部山區的雲南後，不到半年便傳播至台灣最可能的原因為何？

- (A)順著冬季的東北季風飛抵台灣(B)順著夏季的西南季風飛抵台灣
(C)藉由進口的中國農產品傳播到台 (D)由民眾帶著具有病毒的幼蟲傳入

二、課本習作改編題

58.在 1990 到 2008 年期間，北韓在「全球飢餓指數」惡化的排名中位居第二。請問：表(1)中何者與造成北韓糧產不足，常有饑荒問題的關聯性最『小』？

- (A)生長季 (B)地形 (C)礦產資源 (D)主要工業類型

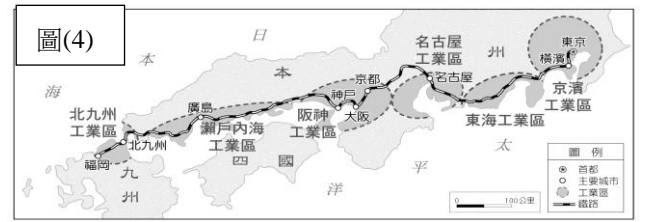


| 表(1)項目 | 北韓 | 南韓 |
|--------|-------|-------|
| 生長季 | 短 | 長 |
| 地形 | 山地較多 | 平原較多 |
| 礦產資源 | 豐富 | 缺乏 |
| 主要工業類型 | 國防、軍火 | 民生、資訊 |

- 59 下列何者對於南韓在韓戰後工商產業發展的描述最為正確？
- (A)政府刻意扶植大財團，忽略中小企業，造成貧富差距大、社會不安
 (B)因礦產豐富，故目前主要發展資金技術密集的重化工業
 (C)利用英語和大量低成本科技人才，和美國企業的生產性服務產業結合
 (D)海運位置優越，控制麻六甲海峽，主要發展轉口貿易和金融業

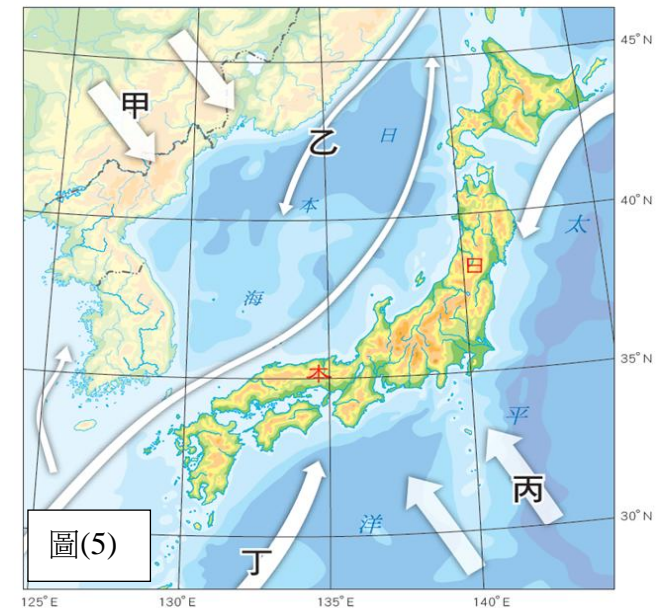
- 60 下列何者與日本自古以來有食魚習慣，漁業發達，漁獲量常高居世界前茅的關聯性最『小』？
- (A)地狹人稠，耕地不足 (B)國際貿易發達 (C)群島地形，海岸線曲折 (D)沿海寒暖流交會

- 61.右圖(4)為日本主要工業區和都市的分布簡圖，請問下列哪一說明最能貼近圖(4)的內容？



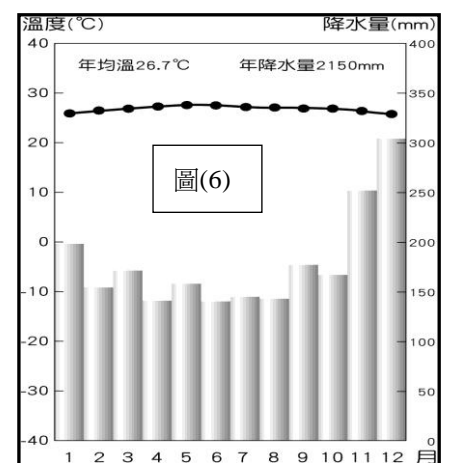
- (A)工業區多分布於港口附近，便於原料和工業產品進出口
 (B)四國地區因蠻族出沒尚未開發，故無工業區分布
 (C)日本海沿岸地區缺乏勞工，故工業區主要分布在太平洋海岸
 (D)政府刻意扶植海運相關財團，鼓勵集中於沿海地區設廠

- 62.右圖(5)為日本季風及洋流分布圖，圖中的甲和丙為季風，乙和丁為洋流。請問：下列哪一說明最能符合圖(5)的內容？



- (A)甲和乙在夏季時為日本帶來溫暖潮溼的氣流
 (B)丙為冬季季風，但因經過海洋後，水氣增加，在冬季時帶來豐沛的降水
 (C)丁為親潮，屬於寒流性質，導致冬季時日本太平洋岸的港口結冰
 (D)甲、丙、丁的共同影響之下，日本較同緯度的中國雨量多，氣溫也較暖和

- 63.右圖(6)為新加坡的氣候圖，下列對於此都市氣候的敘述，何者正確？



- (A)四季分明、年溫差大(B)熱帶雨林氣候、終年高溫多雨
 (C)4-6月的梅雨為主要雨量來源(D)熱帶季風氣候、乾溼季分明

- 64.『在殖民時期，東南亞地區被設定以農、礦業為經濟發展主軸，使多數國家長期處於低度發展的狀態。近年來，卻吸引世界各地的大型企業投資，並設立加工生產部門，成為國際分工下的新興工業化國家。』根據上文描述，請問：東南亞國家吸引外資投資設廠生產的主要原因為何？

- (A)科技教育普及(B)宗教文化多元且開放 (C)大量的低廉勞力 (D)氣候涼爽舒適

- 65.『位於南亞的印度，雖然同樣歷經殖民的遭遇，但印度卻跳過傳統工業化的發展模式，直接發展高科技產業，並隨著通訊科技進步及低成本優勢，承包歐美大型企業的生產性服務業務，例如：軟體設計、會計記帳及報稅業務、文書事務與售後服務等客服，並創造大量的就業機會。尤其近數十年來，印度吸引美國企業大量進駐，並聘請數百萬計的印度人才為其企業服務。』請問：下列何者最『不』可能是印度吸引美國企業大量投資的原因？

- (A)印度的科技人才眾多 (B)兩國運用時差接力生產
 (C)印度的交通電力基礎建設完善(D)印度以英語為國語善於雙方溝通

| | | | | | | | | | |
|----|----|----|----|----|----|----|----|----|----|
| 1 | 2 | 3 | 4 | 5 | 6 | 7 | 8 | 9 | 10 |
| C | C | D | B | D | D | B | A | D | A |
| 11 | 12 | 13 | 14 | 15 | 16 | 17 | 18 | 19 | 20 |
| B | C | A | D | B | C | D | A | D | B |
| 21 | 22 | 23 | 24 | 25 | 26 | 27 | 28 | 29 | 30 |
| C | A | C | B | A | B | B | A | A | C |
| 31 | 32 | 33 | 34 | 35 | 36 | 37 | 38 | 39 | 40 |
| D | C | B | B | D | D | D | B | A | A |
| 41 | 42 | 43 | 44 | 45 | 46 | 47 | 48 | 49 | 50 |
| C | C | B | B | C | B | D | A | D | C |
| 51 | 52 | 53 | 54 | 55 | 56 | 57 | 58 | 59 | 60 |
| D | D | A | A | D | D | B | C | A | B |
| 61 | 62 | 63 | 64 | 65 | | | | | |
| A | D | B | C | C | | | | | |