

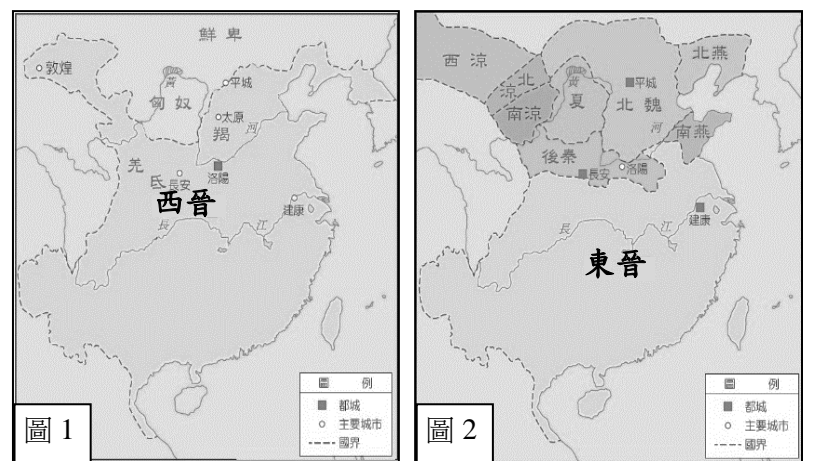
花蓮縣立宜昌國民中學108學年度第一學期第二次段考8年級社會科試題

歷史科命題教師：黃若芸老師

班級：_____姓名：_____座號：_____

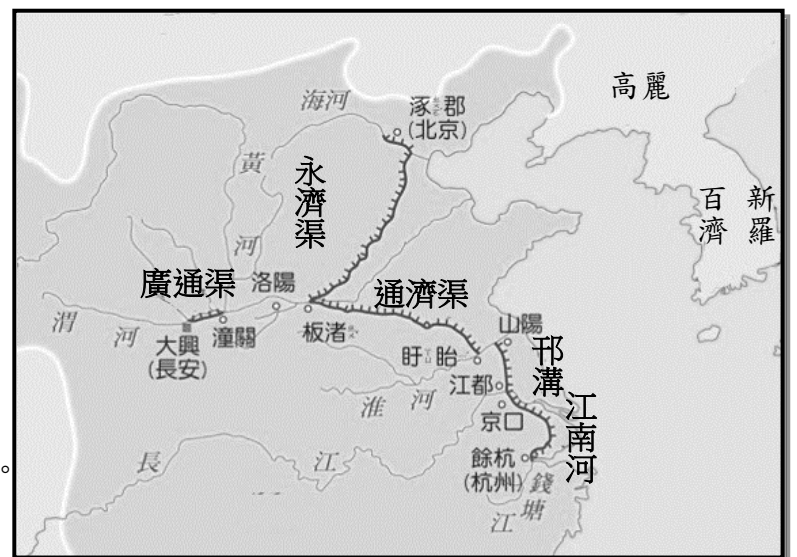
※每題5分，共計100分

- 拓跋進是北魏孝文帝時期的鮮卑貴族。某日，皇帝推行民族融合新政策，這讓拓跋進的生活，可能出現什麼轉變？
(A)改信奉伊斯蘭教 (B)開始學習匈奴語
(C)改用漢姓，稱為元進 (D)跟著皇室移居新首都平城。
- 東晉、南朝的知識分子經常聚會，討論人生、宇宙觀、佛理等。他們多引用哪本經典中的內容進行辯論？
(A)易經 (B)論語 (C)史記 (D)三國演義。
- 李生是生活於西元七世紀的長安人，當時的長安城，應該會有什麼樣的城市風貌？
(A)商業繁華，人口百萬，夜生活發達
(B)街道呈棋盤狀設計，市場集中管理
(C)街上行人男女分道，謹守禮儀分際
(D)城中設有市舶司，負責與胡商交易。
- 西元八世紀中期，杜甫因叛軍攻入長安而受困，寫下《春望》：「國破山河在，城春草木深。感時花濺淚，恨別鳥驚心，烽火連三月，家書抵萬金……。」杜甫經歷的是哪場亂事？
(A)安史之亂 (B)黃巢之亂
(C)玄武門之變 (D)怛羅斯之役。
- 中國歷經多個朝代政權的轉換，起自夏朝，終於清朝。請按照時間先後順序，排列下列朝代。
(A)夏→周→隋唐→魏晉南北朝→秦漢→商
(B)商→秦漢→魏晉南北朝→隋唐→夏→周
(C)隋唐→秦漢→夏→周→商→魏晉南北朝
(D)夏→商→周→秦漢→魏晉南北朝→隋唐。
- 歷史課本第二課寫到「漢武帝獨尊儒術後，研究儒家經典的經學興起。熟讀經學者容易任官，並將學問傳承給家族子孫，以致於世代壟斷官職，逐漸形成一股龐大的政治勢力。」請問，漢代之後世族勢力更為穩固，可能與下列哪一個制度的出現有最直接的關係？
(A)察舉制度 (B)科舉制度 (C)封建制度 (D)九品官人法。
- 承上題，隨著中國選官制度的改變，哪一個制度的設立開始逐漸打破世族壟斷官職的情形，使得出身寒門的人也有機會任官？
(A)察舉制度 (B)科舉制度
(C)封建制度 (D)九品官人法。
- 右圖為不同時期的晉朝地圖。請問，由圖1演變成圖2，最主要和下列哪一個事件有關？
(A)玄武門之變
(B)安史之亂
(C)永嘉之禍
(D)黃巢之亂。
- 「魏晉南北朝」是對於中國在西元3世紀至7世紀初期這段時間的統稱。請問，「魏晉南北朝」這一詞中的「魏」，應是指下列何者？
(A)拓跋氏所建的北魏 (B)北朝時期的西魏
(C)三國時期的曹魏 (D)北朝時期的東魏。
- 歷史課本中提到，「魏晉南北朝是中國經濟重心南移的關鍵時代」。請問，下列哪一段敘述最能夠說明這一句話的意涵？
(A)胡族人為爭奪更多的糧食與資源，因此不斷往南移動，甚至將首都遷移至南方
(B)許多外國商人沿著絲綢之路來到中國，帶來大量的商品進行交易，增加中國的經濟力量
(C)漢末以來，因北方戰亂不斷，許多人從黃河流域遷至長江流域，帶動農工商業的進一步開發
(D)原本就已經是經濟重心的南方，隨著北方的漢人的移入，更加速了南方的商業崛起。



11. 承上題，但南方的經濟卻在 9 世紀後期因動亂而遭到嚴重的破壞，為當時的政權帶來致命的打擊。請問，南方經濟遭到嚴重破壞，最主要和 9 世紀的哪一場動亂有關？
(A)安史之亂 (B)玄武門之變 (C)永嘉之禍 (D)黃巢之亂。
12. 小明看到《中國文化史》介紹，中國某個時期的讀書人相信「人生真正有意義、有價值的東西必出於人情之自然。因此，為了實現自然的人生，經書、禮教、古聖先賢的教訓都可以拋卻」，且常常「強調個人人性的解放」。請問，小明看到的這兩段文字，最可能是對哪個時期的讀書人所作的描述？
(A)魏晉時期 (B)漢代時期
(C)唐代時期 (D)秦代時期。
13. 歷史學者曾評論唐代是「中國最具世界主義色彩的朝代」，認為唐朝時民族之間的界限較不明顯，能夠包容各民族、國家間不同的文化特色，以及與其建立政治和經濟等關係。請問，下列哪一個關於唐代的敘述『不符合』這樣的特點？
(A)許多宗教在此時傳入中國，並逐漸為中國人所接受，例如基督教的支派景教
(B)漢族人融合了胡族的音樂、食物、服飾、舞蹈等，並使其漸漸成為漢文化的一部份
(C)唐太宗派兵擊敗東突厥，使唐朝國威遠播，西域各族紛紛歸順，尊稱唐太宗為天可汗
(D)不少外族人來到中國後，除學習漢族人的生活方式外，並且進入朝廷擔任官職。
14. 翻開歷史課本，偶爾可以看到「□□之治」，例如開皇之治、貞觀之治、開元之治等等，這是歷史學家對於某段政治安穩、經濟繁榮的時期所給予的稱號。請問，「開皇、貞觀、開元」是指什麼？
(A)皇帝的名字 (B)皇帝的諡號 (C)皇帝的年號 (D)首都的位置。
15. 《西遊記》是 16 世紀時由吳承恩所寫的小說，其中描述唐三藏帶著徒弟三人到西方求取經書，一路上遇到許多的妖魔鬼怪的故事。一般認為《西遊記》是以唐代僧人西行求法的事蹟為原型，再經過作者的想像而撰寫成書。請問，《西遊記》中的主角唐三藏應該是指唐代哪一位僧侶呢？
(A)文成公主 (B)玄奘 (C)李世民 (D)安祿山。
16. 吉安鄉慶修院是日治時期吉野移民村的宗教信仰中心，院中 88 尊石佛是從真言宗始祖空海大師所設立的寺院中請來的。而空海大師在各地宣揚佛法前，曾受到當時日本政府的派遣，跟隨使節團到中國，並在中國學習佛法兩年。請問，空海大師最有可能是哪一個朝代時，隨著日本大規模派遣使節、學生、僧侶等到中國進行學習？ (A)漢代 (B)唐代 (C)隋代 (D)魏晉南北朝。
17. 唐代時外國商人帶著貨物來到中國進行貿易時，需先經過哪一個由政府設立的機構來進行檢查，並且抽取稅金？
(A)港務局 (B)市舶司 (C)東市 (D)國子監。
18. 隨著貿易的日益興盛，為了改善銅錢攜帶不便的問題，唐代中期出現兌換銅錢的制度，等需要使用時再換回銅錢。請問，這種兌換錢幣的制度稱為什麼？
(A)飛錢 (B)支票
(C)會子 (D)寶鈔。

◎右圖為隋代的運河興建地圖。請仔細觀察地圖，並回答第 19 與第 20 題。



19. 隋文帝時首都曾發生糧食不足的問題，因此開始興建運河以解決此問題。請問，這應該是指哪一條運河？
(A)通濟渠
(B)永濟渠
(C)江南河
(D)廣通渠。
20. 仔細觀察地圖後，可以發現多條運河是以南北方向來開鑿。請問，下列哪一個說明最能夠解釋隋代興建的運河多為南北走向？
(A)為了促進北方胡人與南方漢人的文化交流，因此興建南北向的溝通管道
(B)因為北方為糧食的主要產區，但人口卻集中在南方，建南北向的運河以方便運輸
(C)因為當時南方時常叛變，政府建南北向的運河以利軍隊的運送
(D)為了打破原本自然河川東西走向的限制，加強南北方向的連繫。

花蓮縣立宜昌國民中學108學年度第一學期第二次段考8年級社會科試題

地理科命題教師：林素葉老師

班級：_____ 姓名：_____ 座號：_____

※單選題，每題4分

右圖為中國某一季節的氣壓與季風風向示意圖，請根據圖示回答下列問題。

21. 請問右圖為哪一季節季風風向圖？

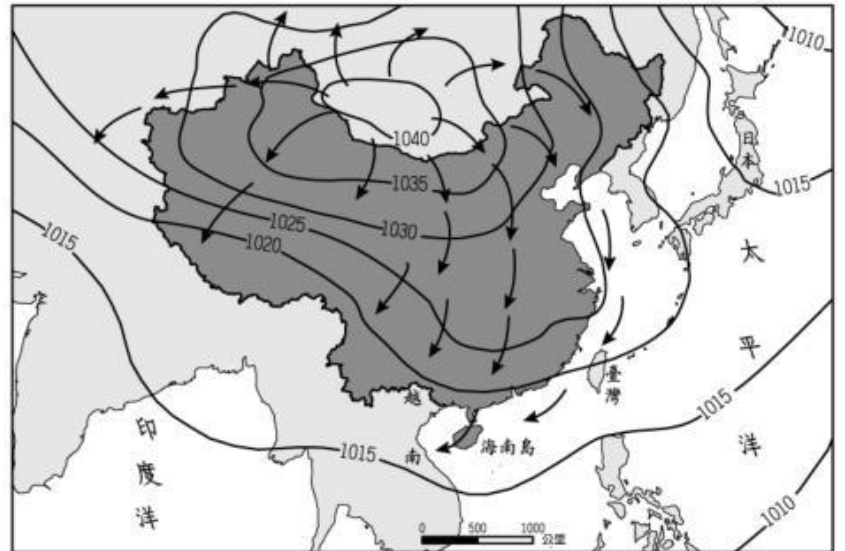
- (A) 春
- (B) 夏
- (C) 秋
- (D) 冬

22. 下列對於此時季風風向敘述何者正確？

- (A) 海洋吹向陸地
- (B) 低壓吹向高壓
- (C) 陸地吹向海洋
- (D) 無規則可循

23. 對中國而言，下列對於此季節季風特徵敘述何者正確？

- (A) 潮溼、溫暖
- (B) 乾燥、寒冷
- (C) 潮溼、寒冷
- (D) 乾燥、溫暖



24. 近日天氣明顯轉涼，東北風也逐漸增強，環保署稍早發布預警，根據中央氣象局氣象預報資料及沙塵模式模擬顯示，中國「○○地區」28日開始出現今年入冬後首次的大範圍沙塵暴，揚起的沙塵向東南傳輸，今(29日)已經南下影響到中國的南京及上海，預測30日凌晨就會開始影響台灣。

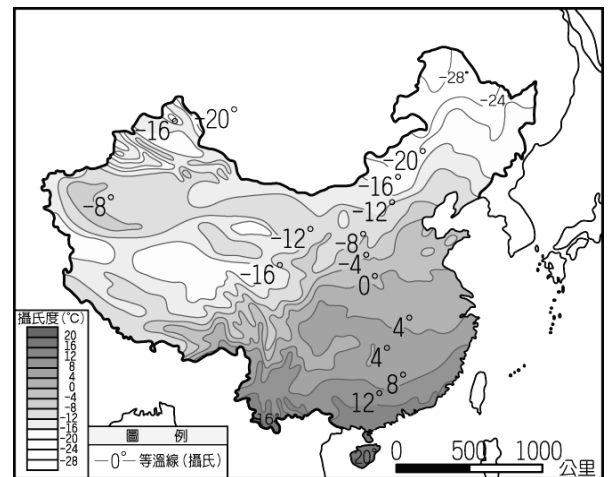
(2019年10月29日 環境資訊中心記者 孫文臨報導)

請問上文中「○○地區」最可能是指下列哪一地區？

- (A) 青藏高原
- (B) 塔里木盆地
- (C) 蒙古地區
- (D) 雲貴高原

25. 右圖為中國東半部一月等溫線分布圖，大致呈東—西向平行，且氣溫由南向北遞減，請問影響此種分布的主要原因為下列何者？

- (A) 緯度
- (B) 地形
- (C) 距海遠近
- (D) 季風



在水資源相對稀少的地區，研究人員發明一種如右圖架設方便、集水效率高的設備，將其裝置在迎風面，每天黎明時，來自海上的厚重霧氣瀰漫，霧中水氣凝結在無數細微黑線上再匯聚成水滴，最終落入容器中累積。(改至108年教育會考試題)



26. 參考中國氣候分佈圖，請問中國哪一種氣候區最需要裝設上述的採霧設備？

- (A) 甲
- (B) 乙
- (C) 丙

27. 若在中國氣候分佈圖中「⊕」區裝設此種採霧設備，請問所收集到的霧氣最可能來自下列何者？

- (A) 印度洋
- (B) 太平洋
- (C) 大西洋
- (D) 北極海

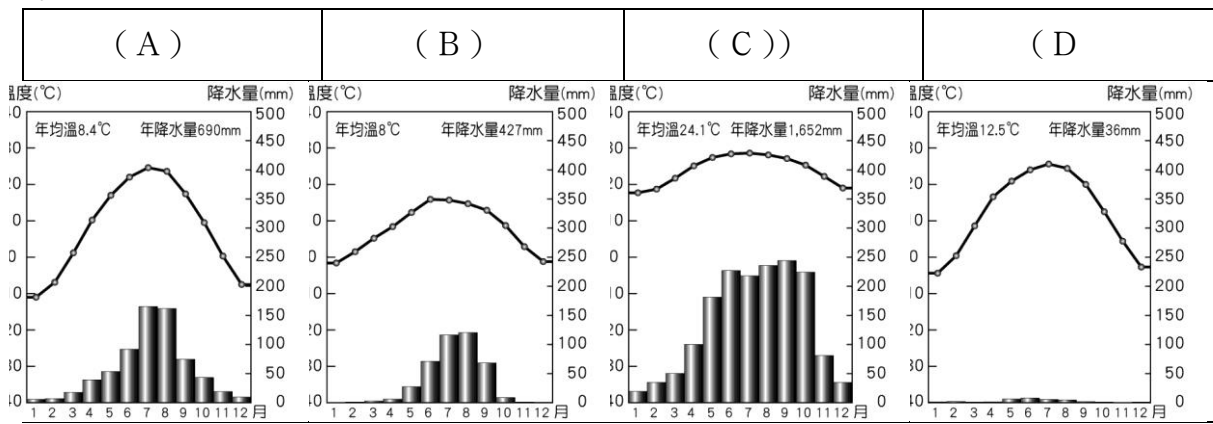


28. 中國某行政區的南部位於農牧過渡地帶，因氣候乾燥少雨、生態環境脆弱、水土流失嚴重及自然災害頻繁，被聯合國認為是最不適宜人類生存的地區之一，因此2011年當地政府對人民實施搬遷計畫。上述行政區應是右圖中何者？(108年會考試題)

- (A) 甲
- (B) 乙
- (C) 丙
- (D) 丁



29. 下列為中國四個都市的氣候圖，若僅考慮氣候特色，請問下列哪一種氣候區環境負載力最低，人口分佈可能最稀少？

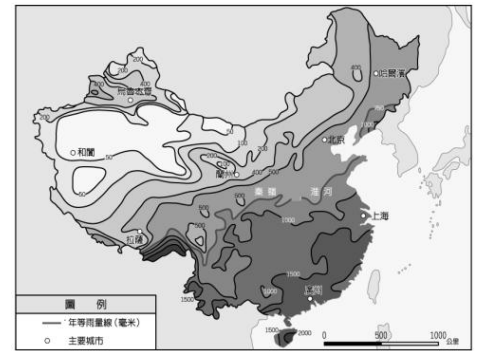


30. 右圖為中國的年雨量分布圖，由圖中資料判斷，其年雨量分布有何趨勢？

- (A) 由東南向西北遞減
- (B) 由西南向東北遞減
- (C) 由東南向西北遞增
- (D) 由西南向東北遞增

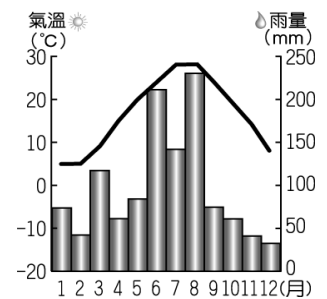
31. 承上題，造成中國降雨量分布呈現此種差異的原因，「不包括」下列何者？

- (A) 季風
- (B) 地形
- (C) 緯度
- (D) 距海遠近



32. 右圖為中國某一地區氣候圖，請問此地區最可能為下列哪一種氣候類型？

- (A) 熱帶季風
- (B) 副熱帶季風
- (C) 溫帶季風
- (D) 溫帶草原



33. 中國湖泊眾多，共有湖泊24800多個，其中面積在1平方公里以上的天然湖泊就有2800多個。湖泊數量雖然很多，但在地區分佈上很不均勻。請問在中國四大內、外流區分佈圖中，哪一地區可能分佈著中國最大的淡水湖群？

- (A) 甲
- (B) 乙
- (C) 丙
- (D) 丁



34. 「美國連鎖大賣場Costco（好市多）在中國首家內地分店於108年8月27日在上海正式開幕。現場人山人海，上海的大叔大媽們創造當今世界上難以置信、也在任何其他國家無可複製的超市開業盛況。結帳要排隊近2小時，Costco最後在下午1時宣布下午暫停營業。」由上述報導的內容可以看出中國具有下列哪項優越的區位條件？

- (A) 交通便利 (B) 原料豐富
- (C) 市場廣大 (D) 勞工充足

右圖為中國人口密度圖，請回答下列問題。

35. 由中國人口密度圖可看出中國哪一項人口特徵？

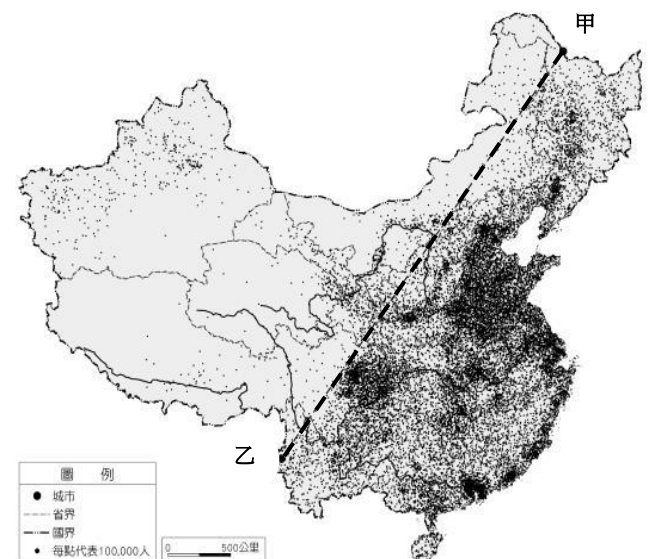
- (A) 人口素質低 (B) 民族組成多元
- (C) 空間分布不均 (D) 性別比高

36. 承上題，下列哪一項「不是」造成此項特徵的主要原因？

- (A) 地形 (B) 氣候
- (C) 經濟發展 (D) 交通

37. 圖中對於甲-乙連線敘述，何者較符合實際現況？

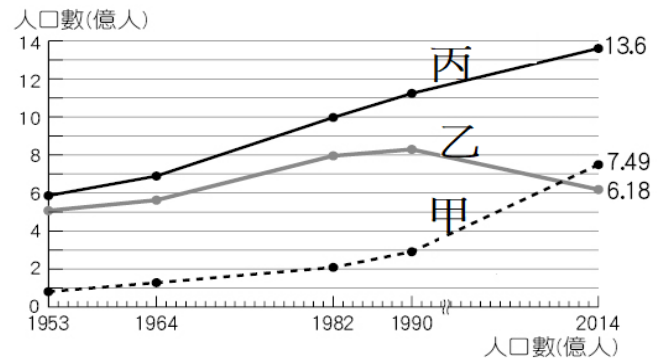
- (A) 內流區與外流區分界線
- (B) 東部經濟帶與西部經濟帶分界線
- (C) 第一階地形與第二階地形分界
- (D) 季風氣候區與其他氣候區分界線



「家，對於每個外出奮鬥的中國人來說，是一個認同、休憩與牽掛的地方。1978年改革開放後，城鄉之間的流動性被打破，到OOOO打工的內地農民或奮鬥者大幅增加。每年春節，人們如同候鳥一般，返回內地老家度節，「春運」的概念便愈來愈清晰。隨著經濟的發展，春運的客流更隨之走高，從1980年的1億人次到2015年的37多億人次，此運輸量幾乎相當於要在40天內幫非洲、歐洲、美洲、大洋洲的總人口搬一次家，為世界僅見。」

38. 文中「…到〇〇〇〇打工的內地農民…」所指的最可能是下列哪一個地區？
 (A) 西北盆地 (B) 東南沿海
 (C) 東北平原 (D) 西南邊陲
39. 承上題，下列哪一因素「不是」導致中國大量人口移動的主因？
 (A) 風俗民情 (B) 就業機會
 (C) 政府政策 (D) 城鄉差距

40. 右圖為中國總人口、都市人口及鄉村人口的變動資料圖，下列敘述何者正確？
 (A) 甲線是鄉村人口
 (B) 乙線是總人口
 (C) 丙線是都市人口
 (D) 甲線是都市人口



中國在 2015年10月29日這天宣布結束施行三十多年頭的一胎化政策。允許夫妻生兩個孩子，這也代表已經施行了 36年的人口生育政策正式結束。過去，中國的一胎化政策遠近馳名，一開始要控制人口的政策，在近幾年成了高齡化社會與勞動力不足的問題源頭，儘管中國政府已經宣布開放夫妻生兩個孩子，但對許多在沒有兄弟姐妹圍繞下成長的中國民眾來說，他們這些獨生子女的人格特質、還有心理壓力，都與有手足的孩子們相當不同。

右圖為中國人口年齡層比例變化圖，請回答下列問題。

41. 中國在不同時期因應不同人口問題而有不同人口政策，請問一胎化政策是為了解決右圖中中國哪一階段的人口問題？

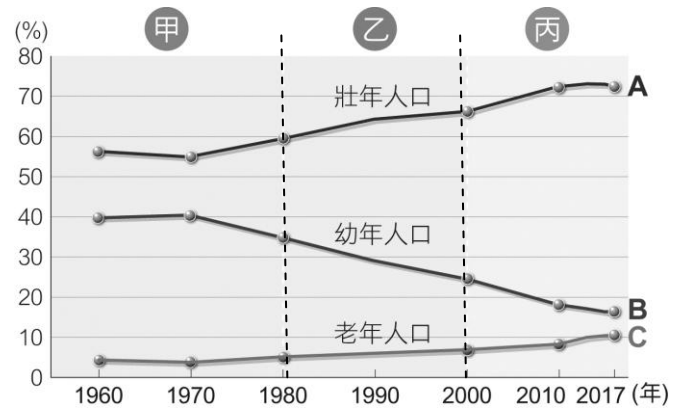
(A) 甲 (B) 乙 (C) 丙

42. 參考右圖，請問中國人口從哪一階段開始進入高齡化？

(A) 甲 (B) 乙 (C) 丙

43. 中國政府在2015年宣布結束施行三十多年的一胎化政策，請問最主要是為了解決下列哪些問題？

- (A) 高齡化社會與勞動力不足
 (B) 人口素質不均與大量流動人口
 (C) 人口數量龐大與城鄉差距
 (D) 多元族群衝突與少數民族人口太少



地理科非選擇題

班級：_____ 姓名：_____ 座號：_____

※佈告欄文章〈一胎化政策下的美麗與哀愁〉閱讀省思題(8分)

中國在1979年實施一胎化政策，直至2015年10月29日宣布全面開放二胎，然而實施36年的人口生育政策卻也造就獨生子女的人格特質，請您提出文章中二個中國獨生子女的特徵，並簡單說明原因。

特徵一：

特徵二：

※特別加分題(5分)

反觀今日台灣，跟中國一樣面臨人口結構失衡問題，請問當一個國家0~14歲的人口比例逐漸減少，且65歲以上的人口比例逐漸增加，可能會帶來哪些問題？你認為有哪些解決方式？

公民科命題教師：潘盈婕 老師

八年 班 號 姓名：

一、配合題：44-50 每題 5 分，共 35 分

請根據題目判斷，將正確的代號填入。【修改至課本第 171 頁評量 easy go】

■ 44-48 題：下列屬於政府的哪項收入？

參考答案：(A)租稅 (B)公營事業收入 (C)規費 (D)罰款 (AB)財產收入 (AC)舉債

- 44. 潘老闆承租國有土地，每月需支付50,000元租金
- 45. 稚森遺失身分證而到戶政事務所補發一張，花了200元
- 46. 小軒的阿公今年買了一張價值50萬的公債，利息比放在銀行多一點！
- 47. 依據所得多寡，每年賺越多就要繳交越多所得稅
- 48. 臺灣電力公司計劃調高尖峰用電季節的電費

■ 49-50 題：政府依據何種課徵原則向民眾收費？

參考答案：(A)負擔能力原則 (B)受益原則 (C)需求原則

- 49. 承第2題，請問該收費是依據下列何種原則？
- 50. 承第4題，請問該收費是依據下列何種原則？

二、基礎題 51-61 每題 5 分，共 55 分

51. 我國中央政府與地方政府的分權方式，是採下列何種制度？

- (A)均權制度
- (B)封建制度
- (C)中央集權
- (D)地方分權

52. 右圖是花蓮縣政府舉辦活動的宣傳單，依通知內容可知應屬於地方政府的哪一工作事項？

- (A)安全衛生
- (B)經濟建設
- (C)教育文化
- (D)社會服務

53. 在我國地方政府組織層級當中，下列何者屬於相同層級的機關？【修改至習作 第41頁第(2)題】

- (A)臺北市、臺中市、高雄市
- (B)新北市、嘉義市、基隆市
- (C)花蓮市、臺南市、臺東市
- (D)新竹市、鳳林鎮、屏東市

54. 各級地方政府中又分成行政與立法機關，下列配對何者正確？

- (A)台北市政府——台北市民代表會
- (B)花蓮市公所——花蓮市議會
- (C)烏來區公所——新北市議會
- (D)基隆市政府——基隆市議會

備註：烏來區為山地原住民區

55. 以下是OO市茂林區民與杉林區民之間的日常對話：

茂林區民：「欸！小潘，你知道去年我們區選出來的區長是誰嗎？竟然是我的遠房親戚陳叔叔！」

杉林區民：「真的假的，我們區的區長不是人民選的，是市長直接指派的喔！」

根據以上對話，請問OO市可能是以下何者？

- (A)苗栗市 (B)高雄市
- (C)基隆市 (D)新竹市

56. 右圖是芊芊閱讀有關地方民意機關職權的資料，但墨漬遮蔽了部分文字。下列何者最可能是遮蔽處的內容？

- (A)修改《憲法》中有關地方制度事項
- (B)執行中央政府委託辦理的地方事務
- (C)掌理地方公務人員銓敘與退休事宜
- (D)議決地方法規與地方政府提案事項

- 審議地方預算案
- 質詢地方政府首長
- [墨漬遮蔽]



57. 地方政府為繁榮地方經濟或增加自治財源，可經營或籌劃公共產業。下列哪項公共產業具有開拓財源的功能？
- (A)公立圖書館
(B)公立社區公園
(C)公營停車場
(D)環保清潔隊 【修改至習作 第44頁第(5)題】
58. 政府為推廣民眾使用QR-Code行動條碼繳稅，舉辦租稅宣傳活動，右圖是宣傳內容。根據圖示，其列舉的稅目皆具備哪些特色？
- (A)國稅、財產稅
(B)地方稅、財產稅
(C)地方稅、銷售稅
(D)國稅、所得稅
59. 縣政府預計將一塊空地規劃為公園，作為縣民休閒活動的空間。上述內容說明哪種事實？
- (A)該公園由政府提供的公共財
(B)只有該縣縣民可以使用
(C)使用者付費才符合公平原則
(D)縣民可以自由使用不受任何規範
60. 立法院通過《菸害防制法》的修正案，調高對菸品課徵的附加稅收，因此每包菸的價格將會調漲。某菸品供應商得知消息後，便聯合其他業者囤積現有的菸品，待價格提高後再售出，希望藉此機會大賺一筆。上述業者的做法違反下列何項法律的規定？【100年基測】
- (A)《刑法》
(B)《公平交易法》
(C)《消費者保護法》
(D)《民法》
61. 附圖是俊鴻上臺發表一篇關於政府經濟功能的報告如附圖，根據他發表的內容，下列何者較可能出現在報告中？
- (A)興建經費主要來自政府的稅收
(B)民間團體擁有永遠的經營權
(C)國家財政負擔將因此更為沉重
(D)此項公共建設受到政府監督



三、閱讀題 62-63 每題 5 分，共 10 分

■ 請根據文章內容，回答第 19-20 題：

電動自行車騎士注意！新法規上路！

民眾使用電動自行車的數量越來越多，但由於電動自行車無需考取駕照即可上路，不配戴安全帽無罰則，對於違法改裝也無覆驗的規定，衍生出許多交通事故，根據警政署統計，電動自行車交通意外事故頻傳，去年肇事死傷人數創新高，死亡人數從 3 人增為 10 人，受傷人數也從 2163 人增為 3292 人。

於今年 10 月 1 日起，擅自改裝電動自行車最重處新台幣 5400 元的罰鍰；騎乘電動自行車超速最重罰 1800 元，未戴安全帽則罰 300 元。

(請同學騎乘電動腳踏車時，務必注意自身及他人安全)

62. 依上文，政府的做法，最適合以下列何者說明？
- (A)處理外部效果 (B)提供公共財 (C)維持經濟秩序 (D)縮短貧富差距
63. 新法規上路之後可能增加政府的哪一項收入來源？
- (A)租稅 (B)規費 (C)罰款 (D)公營事業

【公民科 背面尚有手寫題】

📖時事加分題 (共 12 分)，閱讀完新聞後將適當答案填入下方**答案欄**中，請用黑色原子筆填寫。

政治參與的方式有許多種，包含關心時事、與他人討論政治、參加遊行以及投票等。在民主社會當中，公民參與公共事務不僅是行使公民權利，更可以透過參與政治來了解政府的運作，體認公民對社會的責任，本學期除了認識政府職能、政府稅收等知識以外，日常生活中「關心時事」也是公民應具備的素養喔！：)

時事新聞			
<p>第一則新聞：邦交國接連與台斷交，日本高度關心 節錄至 2019 年 9 月 20 日 聯合日報</p> <p>太平洋島國索羅門群島與____(1)____接連與我國斷交後，日本 台灣交流協會表示：「由兩岸關係及地區的和 平與穩定的觀點，包括今後的影響在內，保持進一步高度關心；並強調台灣是日本重要友人，台灣對日本而言是 共有自由、民主主義、基本人權、法治等基本價值觀。」【提示：國家名稱】</p>			
<p>第二則新聞：「反」送中反什麼？ 節錄至 2019 年 10 月 BBC 中文專欄</p> <p>香港特別行政區政府提出的《2019 年逃犯及刑事事宜相互法律協助法例(修訂)條例草案》，旨在修改兩條例， 一為____(2)____，二為《刑事事宜相互法律協助條例》，以前者爭議最大。從 6 月 9 日開始觸發連串大規模示 威，從相對和平和人數破紀錄的大遊行，逐步演變成暴力警民衝突。各個社區、政府總部、立法會、警署、機場、 地鐵站通通成為抗議場所。警方更頻繁使用催淚彈，水炮車、橡膠子彈、布袋彈、警棍等武器被用於清場和控制 局面，數百名示威者受傷。過千人因涉及示威活動被捕，被控以襲警、非法集結及暴動等罪名。社會處於嚴重撕 裂和對立，民生經濟受到重創……。【提示：法條名稱】</p>			
<p>第三則新聞：網紅創黨，希望帶給民眾快樂 節錄至 2019 年 11 月 14 日 中央通訊社</p> <p>台北市議員「呱吉」邱威傑、網紅志祺七七、視網膜將組織政黨____(3)____，邱威傑與志祺七七於本 月 6 日受訪表示，組黨不是要讓城市發大財或征服宇宙，希望在台灣關鍵時刻站出來，讓民眾快樂。 【提示：政黨名稱】</p>			
<p>第四則新聞：2020 三強鼎立正式成形 節錄至 2019 年 11 月 19 日 自由時報</p> <p>依照《總統副總統選舉罷免法》規定，總統、副總統候選人可以透過政黨推薦或連署方式，來向中選 會申請登記。本屆無人完成連署，手握推薦總統候選人門票的 4 個政黨包括民主進步黨、中國國民黨、 親民黨、時代力量，而時代力量已經表態「不提名總統參選人」，由民進黨提名總統候選人____(4)____、 國民黨提名總統候選人____(5)____以及親民黨提名總統候選人____(6)____，三強鼎立的態勢已然成 形。【提示：政治人物名字】</p>			
答案欄(每格 2 分，錯字扣 0.5 分，扣完為止)			
(1)	(2)	(3)	(4)
(5)	(6)		

八年級 公民科手寫題結束，預祝考試順利！

<< 本頁請單獨繳交 >>

歷史科答案

1.	2.	3.	4.	5.	6.	7.	8.	9.	10.
C	A	B	A	D	D	B	C	C	C
11.	12.	13.	14.	15.	16.	17.	18.	19.	20.
D	A	C	C	B	B	B	A	D	D

地理科

21.	22.	23.	24.	25.	26.	27.	28.	29.	30.
D	C	B	C	A	B	B	B	D	A
31.	32.	33.	34.	35.	36.	37.	38.	39.	40.
C	B	A	C	C	D	D	B	A	D
41.	42.	43.							
A	C	A							

非選擇題參考答案

一、 中國在1979年實施一胎化政策，直至2015年10月29日宣布全面開放二胎，然而實施36年的人口生育政策卻也造就獨生子女的人格特質，請您提出文章中二個中國獨生子女的特徵，並簡單說明原因。

壓力大，因為家族鎂光燈都聚焦在一個孩子身上，未來都被安排好...
 因為從小為獨生子女，備受寵愛，所以個性較自我為中心...
 因為是獨生子女，責任重.....

二、 反觀今日台灣，跟中國一樣面臨人口結構失衡問題，請問當一個國家0~14歲的人口比例逐漸減少，且65歲以上的人口比例逐漸增加，可能會帶來哪些問題？你認為有哪些解決方式？

少子化、高齡化.....

(說明只要符合常理及可給分)

公民科

選擇題答案：共20題，每題皆為5分

44.	45.	46.	47.	48.	49.	50.	51.	52.	53.
AB	C	AC	A	B	B	A	A	C	A
54.	55.	56.	57.	58.	59.	60.	61.	62.	63.
D	B	D	C	B	A	C	D	A	C

公民科 手寫題 參考答案：共6題，每題2分

(1)	(2)	(3)	(4)
吉里巴斯	逃犯條例	歡樂無法黨	蔡英文
(5)	(6)		
韓國瑜	宋楚瑜		