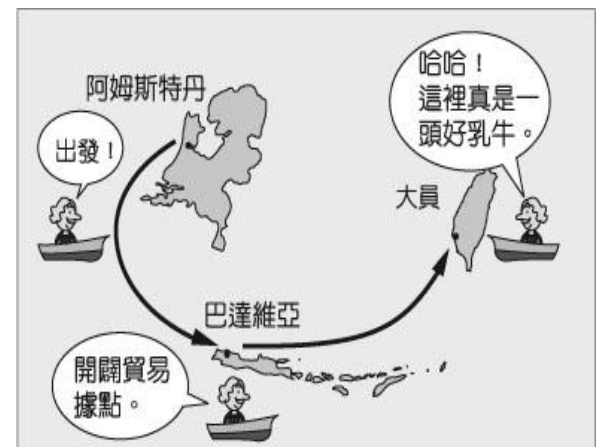


本試卷可 Open Book 作答，惟限七上社會課本

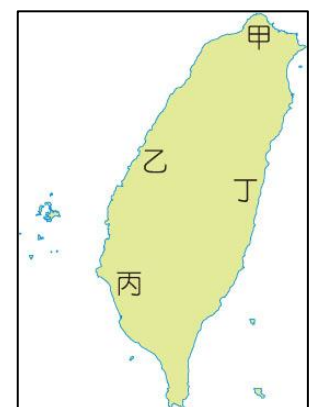
一、基礎題，每題 2.5 分，共 50 分

- 學者將台灣史前文化分為舊石器、新石器和金屬器三個時代，是依據下列何者？
(A)衣物穿著 (B)時間遠近
(C)器物規格大小 (D)器物製作方式與技術
- 台灣的原住民大都是住在台灣本島，唯一離島的原住民是哪一族？
(A)布農族 (B)達悟族 (C)阿美族 (D)卑南族
- 早期來到台灣的漢人移民當中，閩南人大多分布在台灣的哪個地形區？
(A)平原 (B)山地 (C)丘陵 (D)盆地
- 台灣建省後，首任巡撫是誰？
(A)沈葆楨 (B)丁日昌
(C)劉銘傳 (D)施琅
- 臺灣開港通商之後來到台灣的傳教士馬偕，對台灣的貢獻極大。下列有關他的敘述，哪一項正確？
(A)建設北台灣的水利設施 (B)引進新式教育
(C)興辦南台灣第一座西醫館 (D)籌設電報系統
- 1697 年（康熙 36 年），郁永河奉命來臺採集硫磺。郁永河歷經艱苦後終於抵達目的地—現今的台北市北投地區，他雇用當地原住民，讓原住民以獨木舟載運硫土到他的工寮換取布匹，再由漢人工人展開提煉硫磺工作，郁永河所雇用採集、運送硫土的原住民，應為下列何者？
(A)凱達格蘭族 (B)西拉雅族
(C)阿美族 (D)排灣族
- 1873 年，某位歐洲學者說：「我四處物色，想找一個適合探險、收集自然史博物的地方，最後我決定到中國的福爾摩沙島走訪一趟，至少到當地已充分開發的地區看看。沒想到福爾摩沙是一個進行科學收集的嶄新天地，我得以深入內地，探訪眾多的原住民部落。」請問：這位歐洲學者能在此時前往臺灣進行科學收集的時代背景為何？
(A)林爽文事件 (B)鴉片戰爭
(C)英法聯軍爆發 (D)牡丹社事件
- 右圖是 17 世紀荷蘭在臺灣經營的貿易路線圖，當時的荷蘭東印度公司總督曾說：「臺灣真是一頭好乳牛。」這句話表示臺灣為他們公司帶來相當大的利益。這是因為荷蘭人積極經營下列哪些臺灣的特產？
甲、蔗糖 乙、稻米 丙、鹿皮 丁、茶葉。
(A)甲乙丙 (B)乙丙丁 (C)甲丙丁 (D)甲乙丁
- 有一本歷史書籍記載：「鄭成功來臺灣經營，帶來很多士兵及眷屬，為解決糧食問題而實施『寓兵於農』的屯田制度，今天可以從臺灣南部地區的地名，看出屯田的影子。」下列哪一個地名與屯田有關？
(A)高雄市美濃區 (B)臺南市左鎮區 (C)台中市大甲區 (D)屏東縣車城鄉
- 關於台灣的棄留，有一臣子上奏如下：『臺灣一地，雖屬多島，實關四省之要害。……故當此地方削平，定計去留，莫敢擔承，臣思棄之必釀成大禍，留之誠永固邊圉（邊疆）。』上述資料中的「臣」應為下列何人？
(A)施琅 (B)鄭成功 (C)沈葆楨 (D)劉銘傳



- 右表是臺灣開港通商後，部分洋行在臺的營運狀況。若考慮當時商品產區與出口地，這些洋行最可能皆設置於右圖中何處？
(A)甲 (B)乙 (C)丙 (D)丁 **【107 年會考】**

名稱	主要出口商品
寶順洋行	茶
美利士洋行	樟腦
公泰洋行	樟腦
費爾·哈士迪斯洋行	樟腦、煤



- 荷蘭東印度公司占領臺灣南部後，以臺灣為基地，進行以下哪項貿易活動？
(A)招募漢人種植稻米、甘蔗並進行外銷
(B)獎勵日本商人來臺進行走私貿易
(C)積極發展菲律賓、臺灣、日本三地的轉口貿易
(D)與明朝福建官員協商進行兩岸貿易

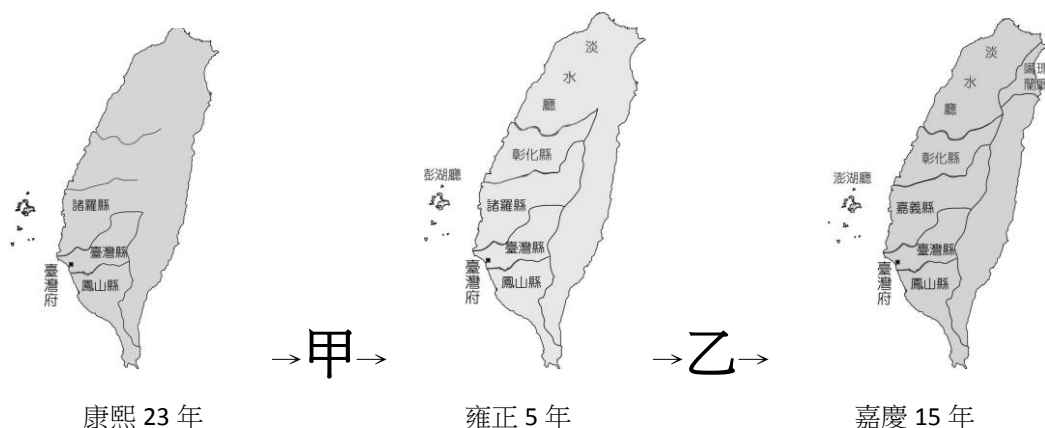
13. 1636年2月，28名來自臺灣西南部平原的原住民部落代表，因受統治當局召集在某地聚會。會中，統治者授予旗幟、黑絨禮袍，還送了嵌著銀杖頭的籐杖，象徵他們的地位與權威。這個統治當局，最有可能是下列何者？
 (A)西班牙 (B)荷蘭 (C)鄭氏政權 (D)日本幕府
14. 劉銘傳治臺時，曾經大力推行許多近代化建設。而當時住在臺北的居民，可能會有怎麼樣的生活經驗？
 (A)坐火車到高雄遊覽 (B)打電報給臺南的親友
 (C)曾目睹西班牙人占領臺灣北部 (D)禁止進入原住民居住的地區
15. 右圖描述臺灣史上某一時期的社會現象，圖中的「具體例證」，最適合填入下列何者？
 (A)地主與官府的對抗 (B)郊商與洋商的對抗
 (C)士紳與傳教士的衝突 (D)漳州人與泉州人的衝突【106年會考】

• 清帝國統治時期
 • 地域觀念或祖籍意識的對抗
 • 不同群體間為了爭奪土地、水源或利益，而發生的武力衝突。
 • 具體例證：_____ ?

二、綜合思考題，每題 2.5 分

16. 大雄到鹿港遊玩發現某建築物上寫著「泉郊會館」。請問：清領時期，會館的功能主要是下列何者？
 (A)商人飲茶的舖子 (B)工人吃飯的餐廳
 (C)工人睡覺的旅館 (D)商人辦公、互相聯絡感情的場所
17. 「五子哭墓」是台灣喪禮中頗為特殊的習俗，家屬會於出殯當日花錢聘請專業的「孝男」、「孝女」沿途哭喊，以表達亡者並非「死沒人哭」的慘況。而台灣先民中的「羅漢腳」們，生前既舉目無親，死後更無人照料。於是這些無主遺骨，往往被收於祭祀何種神祇的廟宇中？
 (A)土地公 (B)媽祖 (C)有應公 (D)開漳聖王
18. 台灣「古道」是泛指台灣近代以前所開發的通行道路，現在成為許多民眾假日登山健行的好去處。這些古道除了源自居民為生活之需或貿易之便而開闢出的道路，也有政府為特定目的地而籌建的道路，如沈葆楨於牡丹社事件後，規劃了北中南三路的越嶺道開闢工程。請問清朝政府投入道路建設完成後，給台灣帶來什麼樣的影響？
 (A)稻米的需求量日漸增加，加速水圳建設。 (B)種在山區的樟腦出口量漸超越平地的蔗糖。
 (C)為避免原住民與漢人衝突，劃定番界。 (D)原住民生活空間受到外族嚴重的侵擾。

➤ 清廷將台灣納入版圖後，設有一府三縣，後來清廷之所以陸續增設縣、廳，主要是受到民變、人民積極拓墾等外力因素影響。



19. 圖《二》中受「甲」民變的影響。康熙末年，台灣爆發何事件？清朝為加強統治，於雍正五年間增設彰化縣、淡水廳與澎湖廳等行政區。
 (A)林爽文事件 (B)戴潮春事件
 (C)朱一貴事件 (D)郭懷一事件
20. 圖《二》中「乙」是因為何人率領漢人開墾哈仔難地區後，移民漸多，清廷最終在此設立噶瑪蘭廳？
 (A)吳沙 (B)施世榜
 (C)沈葆楨 (D)郭錫瑠

一、真象為何？共 10 分。



1、當你看到這張照片的時候，你認為他在表達什麼？

答: _____

2、當你看到這張照片的時候，你認為他在表達什麼？

答: _____

3、上面兩張照片是英國威廉王子在公開場合中「同一時間點」被拍到的照片，請問：

(a) 為什麼單看左邊的照片，會與單看右邊照片有不同的解讀？

(b) 在你自己的成長經驗中，有沒有經歷類似的事件？請簡述之。(加分題，3分)

二、《他的故事之原野少年》，共 25 分

1、西元 1620 年，居住在右圖 * 地的 15 歲原住民青年古瀝·阿萬，剛完成部落的成年禮，常和部落最有活力的一群年輕人，自由自在的於獵場上奔馳著。請填寫下表，簡要描述古瀝·阿萬的部落生活。

(10 分)

<p>我平時最常吃的東西有哪些？</p> <p>如何獲得？</p> <p>我們與鄰近部落的互動情況？</p>	
<p>漢人偶爾會乘船來，我們部落對漢人採取什麼樣的態度？</p> <p>為什麼？</p>	<p>我最常使用的工具有哪些？</p> <p>其它值得特別說明的事：(加分題 3 分)</p>

2、1626年，古瀝21歲。在部落的海邊附近，兩年前乘船而來的外來勢力已經建好了城堡（熱蘭遮城），鄰近的「新港社」，已經完全的順從這一外來勢力。

昨天新港社的頭目帶著城堡的軍人來見我們部落的頭目，要求我們歸順與他。當晚部落頭目正召集全部成年男子舉行部落會議，是出戰是投降各有主張。請問：(8分)

(a) 你若是古瀝，你主張為何，請簡要說明？

(b) 若頭目採用你的主張，將會面臨什麼樣的變化？

3、1661年，30幾年過去了，這時56歲的古瀝·阿萬已成為部落頭目，兒孫眾多。

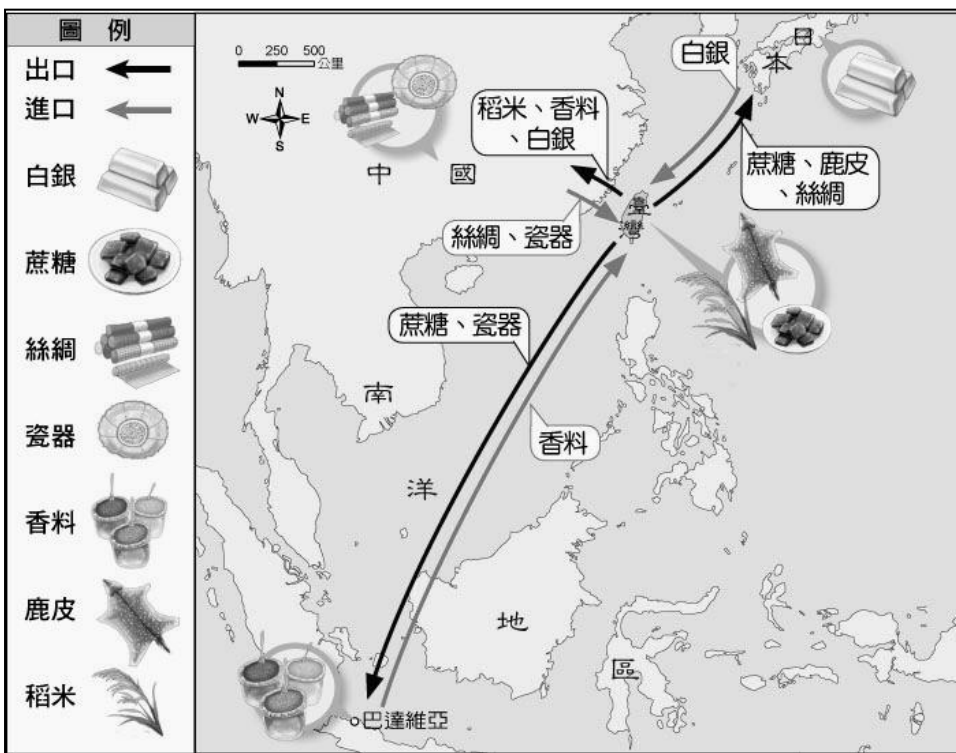
不管當年的決策為何，在海邊城堡的主人武力威嚇下，古瀝的部落基本上也都順從了城堡主人的政策。但一個星期前，有別的部落的頭目帶著漢人將軍來尋求我們合作，共同打擊海邊城堡勢力。經過我們的調查，這個漢人將軍和我們以前接觸過的漢人一樣，都是來自西邊的大陸。他們的領袖正帶著上萬人的軍隊攻打城堡，但久攻不下。請問：(7分)

(a) 城堡的主人指的是哪一國家勢力？

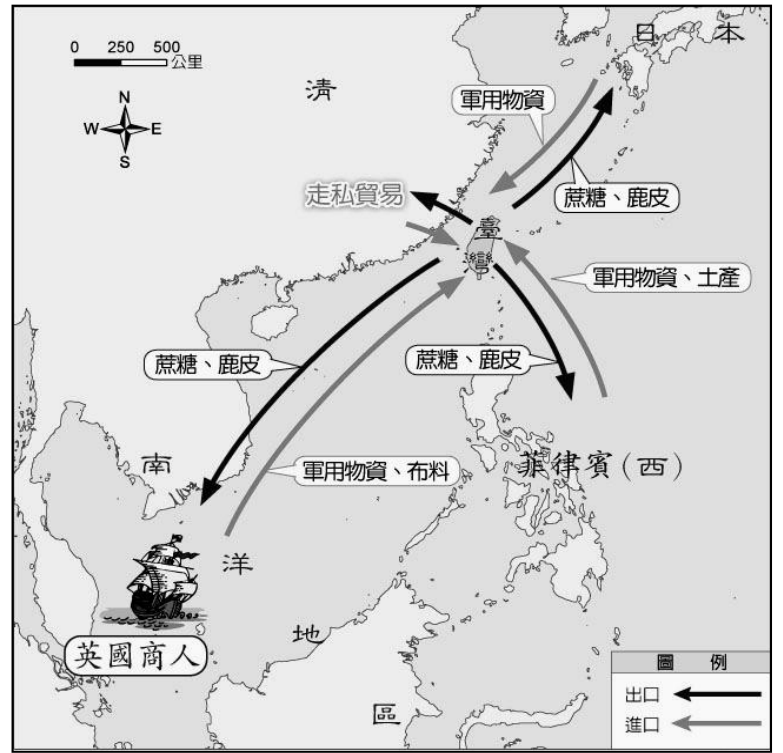
(b) 面對漢人將軍的求助，你若是古瀝頭目，這一次將做什麼決策？請簡要說明為什麼？

三、比較甲、乙兩圖回答下列問題。共15分

甲圖：荷蘭在台期間對外貿易圖



乙圖：鄭氏在台期間對外貿易圖



1、(a) 比較甲、乙兩圖。為什麼乙圖在與中國的貿易會變成「走私貿易」？(b) 這時走私貿易主要輸入物產是什麼？

(a)

(b)

2、比較甲、乙兩圖。(a) 你認為鄭氏政權需求最多的物資有哪些？(b) 請簡要說明從圖中如何判斷得知？

(a)

(b)

3、甲圖往南洋的貿易地，主要是荷蘭的領地「巴達維亞」，乙圖則轉與英國和菲律賓貿易，試分析原因為何？

1.	2.	3.	4.	5.	6.	7.	8.	9.	10.	11.	12.	13.	14.	15.
C	B	A	B	A	A	C	A	B	A	A	A	B	B	D
16.	17.	18.	19.	20.	21.	22.	23.	24.	25.	26.	27.	28.	29.	30.
D	C	D	C	A										
31. A	32.	33.	34.	35.	36.	37.	38.	39.	40.					