

花蓮縣立宜昌國民中學108學年度第二學期第三次段考8年級社會科試題

地理科 命題教師：林素葉老師

班級：_____ 姓名：_____ 座號：_____

一、基礎題(每題5分，共50分)

- 「亞洲位於歐亞大陸與太平洋之間，擁有許多世界之最，如世界最高山——喜馬拉雅山、世界人口最稠密區——季風亞洲區等。」上述文字提到亞洲為全球人口最稠密區，請問下列何者是養活此區域人口最主要的糧食作物？
(A) 青稞 (B) 稻米 (C) 玉米 (D) 甘蔗
- 溫翔翔是研究地震的專家，他試圖將五年來亞洲發生地震的地方在地圖上標示出來，竟發現在亞洲東側太平洋上的臺灣、日本、印尼等地，火山、地震活動發生的次數相當頻繁。這個現象說明臺灣、日本、印尼在自然環境上有哪項共同點？
(A) 都屬於季風氣候區 (B) 都有洋流通過 (C) 都屬於島窄山多的島嶼 (D) 皆位於板塊交界處
- 下列哪一地區氣候與其它三地不相同？
(A) 南韓 (B) 越南 (C) 泰國 (D) 菲律賓
- 韓式泡菜是一種朝鮮族的傳統發酵食品，通常和米飯一起食用，其卡路里含量低，富含纖維素、維生素A、B、C並含有一種對人體有益的乳桿益生菌，被美國時代華納《健康雜誌》評為世界5大最健康食品之一。請問韓國名產泡菜的由來，與下列哪項因素關係最密切？
(A) 夏季高溫 (B) 洋流交會 (C) 板塊交界 (D) 冬季寒冷
- 下列何者不屬於日本群島？
(A) 北海道島 (B) 本州島 (C) 台灣島 (D) 九州島
- 東南亞與南亞等熱帶地區的居民多養成喜好使用辛、香料等飲食料理習慣，請問最主要與下列哪一項因素有關？
(A) 地形 (B) 氣候 (C) 政治 (D) 宗教
- 中國籌畫在雲南瀾滄江(湄公河上游)興建多座水庫，這些水庫興建完成後，將影響到下游的用水和生態環境。請問下列哪個半島會受到影響？
(A) 阿拉伯半島 (B) 印度半島 (C) 中南半島 (D) 朝鮮半島
- 凱凱利用寒假到印度大平原進行「農業土地利用」調查，他發現印度大平原從西到東依序是種植小麥、棉花→小麥、小米→水稻。請問造成此種土地利用現象最主要原因為下列何者？
(A) 雨量多寡 (B) 氣溫高低 (C) 土壤沃度 (D) 地形差異
- 巴基斯坦與孟加拉分別位於印度半島的西北方與東北方，其在環境上具有一些相同與相異的地方。下列有關兩個國家的比較，何者正確？

國家	(A)	(B) 地形	(C) 宗教	(D) 災害
巴基斯坦	印度河流域	平原	印度教	水災
孟加拉	恆河流域	丘陵	合伊斯蘭教	旱災

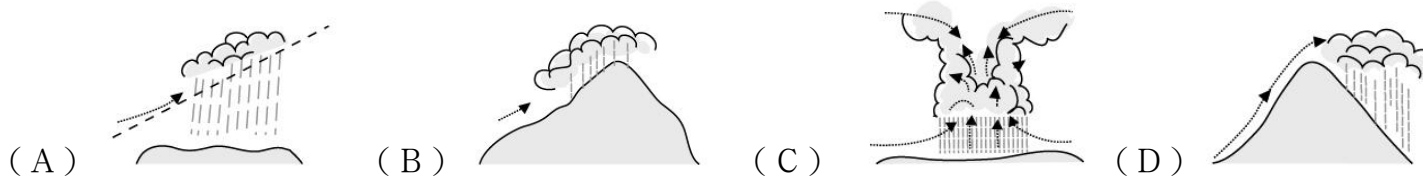
- 2020年7月2日凌晨在日本關東地區上空出現大流星(火球)，有民眾看到流星的幾分鐘後聽到如爆炸聲的巨響。日媒報導，很可能是火球破裂時的聲響傳至地面。請問同一時間位於下列哪一地區人民聽到爆炸聲響會「最小」？
(A) 東京 (B) 名古屋 (C) 橫濱 (D) 平壤

二、進階試題(11-20題，每題4分，共40分，21-22題每題5分，共10分)

- 右圖顯示2011年9月18日發生的強烈地震震央位置，除了建築物倒塌造成的人員傷亡外，由於某些因素影響使得搜救工作不易進行，導致死傷人數持續攀升。根據當地地形、氣候等環境條件判斷，造成上文中搜救困難的因素最可能為下列何者？(109年教育會考試題)
(A) 山區冰河快速消融以致山洪暴發 (B) 正值沙塵暴盛行時節，能見度低
(C) 引發大規模海嘯，海水淹沒災區 (D) 連日降雨，造成土石流掩埋道路
- 被喻為「神秘國度」的北韓，往往令人好奇，盼一睹其內在面貌。然而確有一群因為朝鮮境內生活困苦或渴望自由等理由而逃離朝鮮的「脫北者」；從1953年韓戰結束後，陸續有脫北者從朝鮮進入中國境內，請問脫北者如果選擇逃到中國的東北地區，只考慮最短距離，須越過下列哪些山、河？
(A) 圖們江、太白山 (B) 鴨綠江、長白山
(C) 大同江、太白山 (D) 漢江、富士山
- 日本為世界貿易大國，近年來積極擴大海外投資，右圖為日本主要工業區分佈圖，由圖可知工業區和工業都市均瀕臨海洋，請問主要是因日本的工業發展受到下列何項條件限制？
(A) 工礦資源缺乏 (B) 工業技術仰賴進口
(C) 高素質的勞工 (D) 平原面積狹小



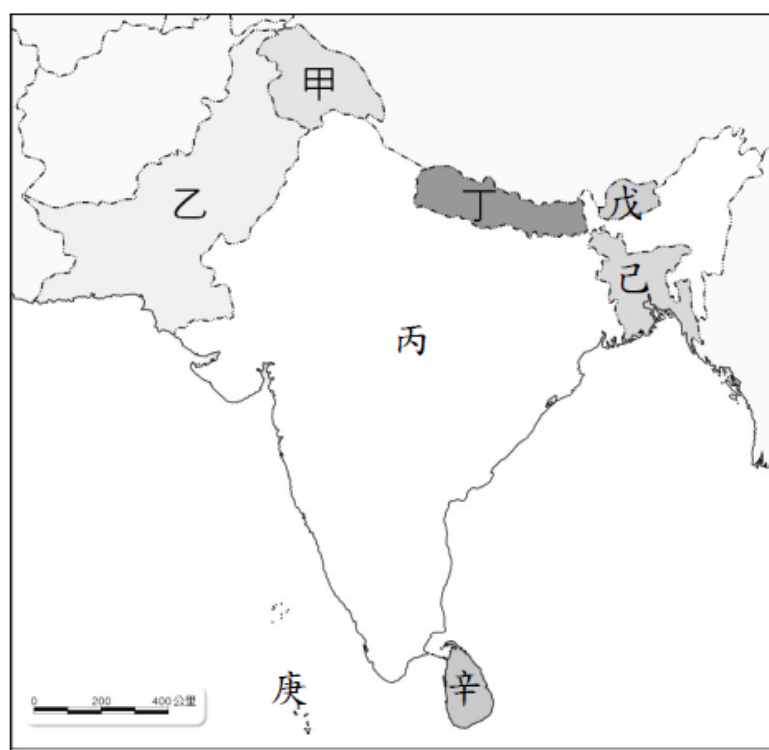
14. 東南亞曾經是歐美強權的殖民地，也因此造成此區文化充滿殖民色彩。請問：下列哪一個人文特徵與此區的殖民歷史較「無關係」？(A) 礦產輸出興盛 (B) 熱帶栽培業發達 (C) 多港埠型都市 (D) 飲食偏酸辣
15. 「婆羅洲有地球最古老的雨林，而地球上 85% 的紅毛猩猩居住在婆羅洲島，但從 1960 年代起這片原始環境持續遭到破壞，也毀了紅毛猩猩棲息地，使紅毛猩猩數量也越來越少，2016 年被列入瀕臨滅種名單。」請問紅毛猩猩居住地的降雨類型是下列哪一種？



16. 「印度目前擁有 30 多個億萬富翁，居亞洲首位，百萬富翁也超過了 10 萬個。儘管擁有亞洲最多的億萬富豪，但也有全世界最多的窮人和失學兒童。」請問下列哪一句話最符合上文敘述？(A) 經濟發達 (B) 貧富差距 (C) 人口眾多 (D) 工資低廉

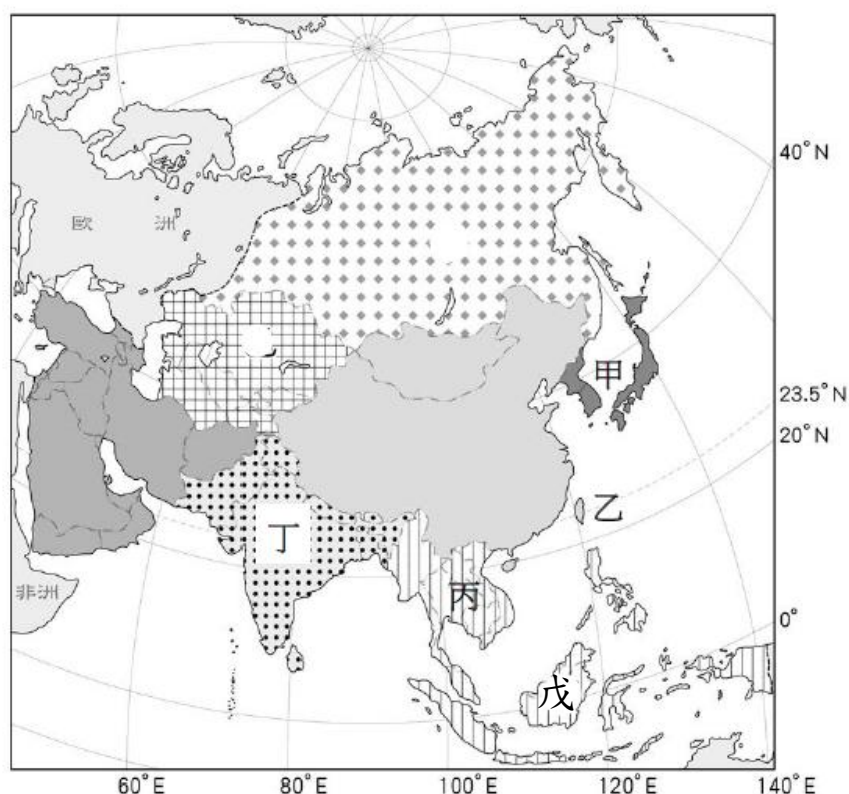
右圖為南亞地區簡圖，請回答下列問題：

17. 「馬爾地夫是一個島國，有 80% 的陸地海拔不到一米，在 2004 年的南亞海嘯中受創嚴重，經過一兩年復原後，仍然吸引來自世界各地的遊客前來度假，但由於海平面上升，已有許多島嶼遭到海水氾濫和海岸侵蝕，造成極大威脅，聯合國環境小組亦提出警告，依照目前海平面上升速度，馬爾地夫將於 2100 年起不適宜居住，為此他們正努力的尋找遷國的地點。」請問馬爾地夫位於圖中何處？(A) 甲 (B) 丙 (C) 庚 (D) 辛
18. 承上題，馬爾地夫屬於下列哪一種類型島嶼？(A) 火山島 (B) 珊瑚礁島 (C) 大陸島 (D) 沙洲
19. 圖中丁、戊兩國所在地為何種地形區？(A) 山地 (B) 平原 (C) 高原 (D) 盆地
20. 下列對於南亞敘述何者正確？(A) 位居低緯度赤道兩側，高溫多雨 (B) 熱帶栽培業發達，咖啡、橡膠為主要經濟作物 (C) 出生率、死亡率皆高，經濟負擔沉重 (D) 南亞各國皆信奉印度教



右圖為亞洲分區圖，請回答下列問題：

21. 亞洲東部是世界上季風氣候最典型的地區，原因是該地地處世界上最大的大陸亞歐大陸和最大的海洋太平洋之間，海陸熱力性質差異造成的影響十分明顯。請問下列哪一地區冬季、夏季季風風向與其他三地「不相同」？(A) 甲 (B) 乙 (C) 丙 (D) 丁
22. 這個地區因地處海陸交會的位置，成為印度洋、太平洋航線必經之地，再加上該地區擁有豐富的天然資源，吸引許多外來居民進入本區，因而塑造出多元文化的景觀。」上文中提及的情形最可能出現在附圖中哪個地區？(A) 甲 (B) 乙 (C) 丁 (D) 戊




花蓮縣立宜昌國民中學108學年度第二學期第三次段考8年級社會科試題

歷史科 命題教師：黃若芸老師

班級：_____ 姓名：_____ 座號：_____

23. 孫文的革命屢次受挫，他決心尋求外援幫助。民國十三年，他終於盼來期待已久的武器與經費。這是指哪個國家援助孫文的革命活動？
(A)蘇聯 (B)英國 (C)美國 (D)西班牙。
24. 列強同意取消在中國的特權，並於民國三十二年與中國訂立平等新約，使中國擺脫了百年來不平等條約的束縛。近代中國第一個不平等條約是下列何者？
(A)馬關條約 (B)南京條約 (C)北京條約 (D)辛丑和約。
25. 中華人民共和國建國後，出現過幾任領導人，分別對國家有不同的理想與作為。下列何者曾經擔任過中華人民共和國的領導人？
(A)孫中山 (B)毛澤東 (C)陳獨秀 (D)汪精衛。
26. 鄧小平為解決中華人民共和國長年的經濟頹勢，採取「改革開放」政策，在中國沿海地區設置經濟特區，允許外資進入，也承認人民可擁有部分私有財產。同時，鄧小平也高喊「四個現代化」，希望使中國早日趕上西方國家。請問，下列哪個選項「並非」四個現代化的目標？
(A)體育 (B)工業 (C)農業 (D)國防。
27. 隨著中國經濟快速發展和對外交流逐漸增加，在 1980 年代末期，知識分子開始向政府提出主張，要求「第五個現代化」，進而在北京聚集，不惜與政府爆發流血衝突。請問，當時知識分子所要求的第五個現代化是指什麼？
(A)科學 (B)民主 (C)平均土地 (D)反對儒家傳統。
28. 歷史課本中提到，「十年建設期間，中國仍是內憂外患不斷...」。請問，所謂的「十年」是指哪十年？
(A)清朝結束至溥儀再次當上皇帝 (B)袁世凱過世至北伐結束
(C)陸軍軍官學校建立至剿共結束 (D)北伐結束至抗戰開始。
29. 承上題，在這段期間，下列何者被視為所謂的「內憂外患」？
(A)國民政府 (B)張作霖及其軍隊 (C)中國共產黨 (D)美國。
30. 一般而言，歷史學界與民間常將中國對日作戰稱為「八年抗戰」，此一用詞主要來自於民國 34 年 8 月 15 日，中央政府發出的《抗戰勝利告全國軍民及全世界人士書》，文中提到：「我全國同胞們自抗戰以來，八年間所受的痛苦與犧牲雖是一年一年的增加，可是抗戰必勝的信念，亦是一天一天的增強...」。請問，文中所提到的「自抗戰以來，八年間...」是從哪一個事件開始算起？
(A)清黨 (B)盧溝橋事變 (C)九一八事變 (D)一二八事變。
31. 承上題，但中國大陸自 2017 年開始，改以「十四年抗戰」來指稱中國與日本之間的衝突。請問，「十四年抗戰」一詞的由來，主要又是從哪一個事件開始算起？
(A)滿洲國成立 (B)盧溝橋事變 (C)濟南慘案 (D)九一八事變。
32. 陳奶奶回憶說：「在那個年代，市面流通著各種貨幣，後來政府廢除銀兩，規定一律改用銀元；再過一陣子，政府規定只能用指定銀行發行的紙幣，終於解除了幣制混亂的局面。」陳奶奶描述的應是下列哪一個時期？
(A)民國 17~26 年黃金十年 (B)民國 26~34 年八年抗戰
(C)民國 35~38 年國共內戰 (D)民國 62~68 年十項建設。【93(一)基測】
33. 有些歷史學者認為，西安事變的發生深深地牽動著中國局勢的發展。請問，下列哪一個解釋最可能是張學良發動西安事變的理由？
(A)張學良認為蔣中正剿共速度太慢，應該加速解決國內問題
(B)張學良不滿其他軍人手中握有兵權，要求蔣中正出兵討伐
(C)張學良對蔣中正先安內後攘外的策略有不同看法，希望調整方向
(D)張學良希望與蔣中正共同保存實力，一起對抗俄國的侵擾。
34. 對於事物或事件的描述，所選用的字詞常常隱含著某種立場，與對於其特定的評價。在西安事變發生後，無論國內外的報紙紛紛對此作出報導。請從下列標題來判斷，哪一份報紙的標題對於西安事變的立場與其他三者不同？
(A)「蔣委員長竟被張學良劫持於西安，國府明令褫職並交軍委會嚴辦」
(B)「張楊發表對時局宣言，八項主張要求全國採納，蔣委員長在兵諫保護中」
(C)「張學良軍突如兵變，蔣介石遭監禁」
(D)「張學良昨在陝率部叛變，通電主張推翻政府，蔣被暫留西安」。

35. 中華民國建立後，面對許多國內與國外的衝突。請將下列重要事件，依照時間發生先後順序排列？
 (A)西安事變→黃埔建軍→九一八事變→聯俄容共
 (B)九一八事變→西安事變→聯俄容共→黃埔建軍
 (C)黃埔建軍→聯俄容共→西安事變→九一八事變
 (D)聯俄容共→黃埔建軍→九一八事變→西安事變。
36. 民國二〇年代中期，中國人曾喊出「中國人不打中國人」的口號。請問，就當時的局勢發展而言，「第一個中國人」與「第二個中國人」分別指什麼勢力？
 (A)中國共產黨；國民政府 (B)國民政府；軍閥 (C)國民政府；中國共產黨 (D)軍閥；清朝遺民。
37. 歷史課本 135 頁中寫到，「中日戰爭期間，適值第二次世界大戰爆發。……中國開始與英美等同盟國軍隊並肩作戰。」請問，中國「開始」得到英美的支援與並肩作戰，最可能和下列哪一個事件的發生有關？
 (A)南京爆發日軍大規模的屠殺事件 (B)日本在東北成立滿洲國
 (C)中國政府將首都遷往重慶 (D)日軍侵襲美軍在太平洋上的基地。
38. 小薇在歷史課本中讀到，中華民國的建立是因革命志士多次的行動後推翻了清朝政權，但小薇對於現今中華民國政府在臺灣一事感到困惑。請問，下列哪一個解釋最能為小薇解惑？
 (A)中日戰爭結束後，因為日本戰敗，因此國民政府直接將中央政府遷至臺灣
 (B)第二次世界大戰結束後各國重新畫分疆界，將臺灣畫為中華民國最主要的領土範圍
 (C)二二八事件引起臺灣人的不滿，因此國民政府直接遷至臺灣，全力穩定臺灣局勢
 (D)國民政府與共產黨的戰爭中，國府逐漸失去控制國土的力量，遷移至臺灣。
39. 1966 年中國開始了長達十年的文化大革命，提出「革命無罪，造反有理」的口號，鼓勵各地青年展開革命運動。請問，下列哪一個敘述最能夠說明這句話中「革命」一詞的意涵？
 (A)積極吸收西方的思想與觀念，進而改變中國固有的儒家傳統
 (B)全民應該團結起來推翻現有的國家政府，一同打造全新的國家政府
 (C)接受現有的社會風俗習慣才是首要之務，大家應該要共同反擊批評者
 (D)批判和破壞過去一切的傳統，建造一個具有新思想、新文化的世界。
40. 承上題，當時這些青年組成什麼團體，展開革命運動？
 (A)紅衛兵 (B)新青年 (C)進步黨 (D)革命軍。
41. 右圖為中共進行土地改革時所拍攝的照片，照片中人們開心地笑著，手裡拉著寫有「慶祝土改勝利完成」的布條。請問，這些開心地參與歡慶時刻的人們，其身份最有可能為下列何者？
 (A)擁有大批土地的地主 (B)沒有自己田地的佃農
 (C)投資工廠興建的資本家 (D)身任高階職務的中央官員。
42. 海報在過去沒有電視、手機、網路的年代，是政府宣傳政策的重要工具之一，也因此常常可以從海報中看出當時政府的想法與企圖。依據你對於 1950 年代末期中共推行大躍進的認識，下列哪一個海報最有可能出現在這段時期？



註：
 「旧」意為「舊」
 「釗」意為「創」

花蓮縣立宜昌國民中學108學年度第二學期第三次段考8年級社會科試題

公民科 命題教師：潘盈婕老師

班級：_____ 姓名：_____ 座號：_____

一、單選題：43-55 題，每題 5 分 (65%)

43. 公民老師在課堂上講述「無罪推定原則」時，請同學舉出例子加以說明，下列何者的舉例「最適當」？【108年會考】
- (A)甲：「小偉因闖紅燈遭處罰鍰，所以他是犯罪的。」
 (B)乙：「花花因涉嫌殺人遭警察逮捕，所以她是犯罪的。」
 (C)丙：「大雄雖因恐嚇鄰居遭起訴，但仍不能認定他有罪。」
 (D)丁：「阿娟雖因辱罵他人遭處罰金，但仍不能認定她有罪。」
44. 近年來醫療機構中醫護人員遭攻擊的暴力事件頻傳，不但嚴重干擾醫療行為的進行，還危及醫護人員的人身安全，因此醫護團體推動相關修法，將這種暴力行為的追究改為「非告訴乃論」，以遏止此類事件發生。根據上述內容判斷，下列何者「正確」？【108年會考】
- (A)文中團體的類型屬《人民團體法》中的政治團體
 (B)文中團體若想要達成目的，應向立法院進行訴願
 (C)修法通過後，相關法律條文將交由行政院院長公布施行
 (D)修法通過後，醫護人員同意和解也不會停止檢察官偵查
45. 小姿：「擔任調解委員這麼多年，從沒像今年這麼忙過！」
 小儀：「今年本區聲請調解的事件比去年增加了五成，大家真是辛苦了！」
 在上述對話內容中，大幅增加的事件類型最可能為下列何項組合？【109年會考】
- (A)行政紛爭、告訴乃論的刑事案件 (B)民事紛爭、告訴乃論的刑事案件
 (C)行政紛爭、非告訴乃論的刑事案件 (D)民事紛爭、非告訴乃論的刑事案件
46. 在新聞上我們常常看到記者追問【甲】一些問題，通常【甲】都會如此回答：「我代表國家追訴犯罪，依偵查不公開的原則，目前不便回答你的問題。」根據上述內容判斷，關於【甲】在刑事訴訟中的角色，下列敘述何者「正確」？
- (A)依法可做出起訴或不起訴的處分 (B)主要的職權可以依法作出判決
 (C)為被告進行辯護是他的職責範圍 (D)可直接向法院對被告提起自訴
47. 每部法律的立法目的以及適用的對象與範圍都不盡相同，請同學根據公民課上所學會的法律相關知識，判斷以下四位主角所適用的「年齡」，依據「由小至大的順序」應為下列何者？

主角	內容
甲	從今天起，我不再受 <u>兒童及少年福利與權益保障法</u> ，所以我可以從事很多以往不能做的事情！
乙	我今天所犯下的罪行不得依 <u>刑法</u> 處罰，而是要依據 <u>少年事件處理法</u> 接受保護處分。
丙	前陣子我回高雄一趟，投下我人生第一張罷免選票！
丁	依據 <u>刑法</u> 規定，在我這個年紀不得與他人從事性行為，否則是違法的。

- (A)甲、乙、丙、丁 (B)乙、丙、甲、丁 (C)甲、丁、乙、丙 (D)乙、丁、甲、丙

48. 前立法院秘書長涉嫌隱匿漏報財產 1870 萬餘元，遭監察院開罰，他不服而提起行政訴訟。一審法院判他敗訴，全案可上訴。上述案件一審及上訴法院，分別是下列何者？
- (A)地方法院、高等法院 (B)地方法院行政訴訟庭、高等行政法院
 (C)地方法院、最高法院 (D)高等行政法院、最高行政法院
49. 上公民課時，老師提及「告訴乃論」與「非告訴乃論」的差別，小彥同學將兩者概念整理成以下圖表，但老師發現表格中有一個處寫錯了，請問是下列何者「錯誤」？

	(A) 罪行	(B) 提出	(C) 可否和解	(D) 舉例
告訴乃論	較輕	即使告訴人不提出告訴，檢察官亦可依法追究其責任	可以	公然侮辱罪
非告訴乃論	較重	須由告訴人提出告訴	不可以	竊盜罪

50. 剛從國中畢業的小軒，迫不及待的想在升上高中前的暑假期間，與好友們一起找一份工作，存點零用錢，請問小軒如果想要了解法律對於「童工」的相關規定，應該查詢下列哪一個法條呢？
- (A)性別工作平等法 (B)民法 (C)勞動基準法 (D)兒童及少年福利與權益保障法

51. 承第 8 題，他們查詢的過程中發現法律中對於「童工」有許多規定，例如是在年齡、工作時間、內容等，以下是小軒與好友們的對話內容，請問下列何者說法「有誤」？
- (A)小軒：「童工指的是十五歲以上未滿十六歲之受僱從事工作者。」
 (B)小紫：「童工不得從事有危險性的工作。」
 (C)小妮：「童工一天工作不得超過八小時，早上也不能工作。」
 (D)小璇：「童工受雇時，應取得法定代理人同意。」
52. 當事人針對已經在法院訴訟的案件，透過和解的方式，可以終止訴訟的全部或一部分。下列哪種情況適用於上述的規定？
- (A)家屬間發生遺產分配之糾紛 (B)不滿土地被徵收而提起訴願
 (C)被依竊盜罪嫌提起刑事訴訟 (D)不服稅徵進而提起行政訴訟
53. 承第 10 題，該權利救濟「途徑」為下列何者？
- (A)訴訟上和解 (B)訴訟外和解 (C)調解 (D)仲裁
54. 下列網路常見的犯罪行為與觸法的法律配對，何者「正確」？
- (A)非法下載音樂——專利法 (B)在 F B 上辱罵師長——社會秩序維護法
 (C)張貼女友的裸照——刑法「誹謗罪」 (D)盜取他人帳號——刑法「妨害電腦使用罪」
55. 酗酒成性的老彭經常毆打十歲的女兒小潘，為了保護女兒的權益，小潘的母親希望能聲請宣告停止老彭對女兒行使「親權」。依照規定，小潘的母親應該向下列哪一個「機關」聲請？
- (A)行政法院 (B)縣市政府 (C)地方法院 (D)警察局

二、題組題： 56-59 題，每題 5 分（20%）

隨機砍女童學長移送少年法庭 受害家屬痛訴：教育失敗

（節錄至中國時報 2020/06/11）

16 歲劉姓少年於 11 日早上七點疑因人際關係壓力大，認為同學們在講他壞話，隨機揮刀砍傷正在排隊量測體溫的 10 歲女童，當時正值上學時間，面對劉姓男高中生突如其來的攻擊，現場有不少學生目擊經過，嚇得紛紛躲避，2 名站在校門口替學生測量體溫的 39 歲江姓老師、78 歲許姓義工，見狀後立即上前將人壓制，奪刀過程中與劉姓少年爆發拉扯，而劉姓少年也不慎劃傷自己左手，立即報案並將女童及劉姓少年生送醫救治。警方訊後將少年依傷害罪嫌移送至【甲處】審理。

56. 考量到罪嫌的身份與年齡，上述事件應「優先適用」下列哪個法條？
- (A)少年事件處理法 (B)兒童及少年福利權利保障法 (C)中華民國刑法 (D)組織犯罪防制條例
57. 請問文中所提及的【甲處】為何？
- (A)警察局 (B)地方法院 (C)少年法庭 (D)高等法院

夫虐待老婆成性還嗆不准離婚 法官判離

（節錄至聯合報 2020/06/15）

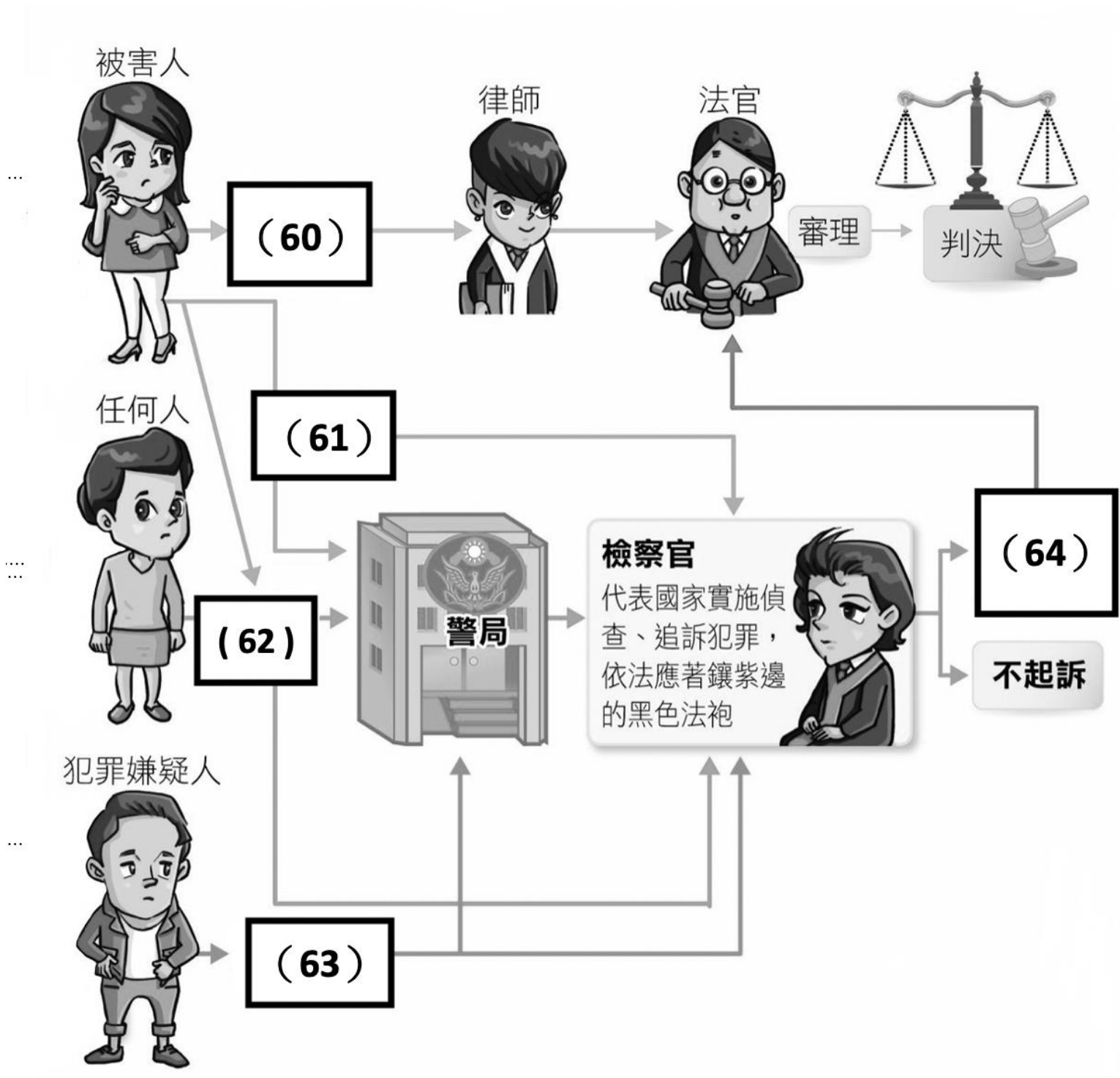
患有聽力障礙的男子經常毆打老婆，法院核發妻子保護令，她也向法院提起離婚訴訟，但男子卻反嗆當初她知道自己智力中下且容易情緒失控仍願結婚，不能以此理由訴離婚，但台灣高等法院維持一審判決，認定已逾越夫妻能忍受程度，判准離婚。家暴男子卻稱，他的暴力行為都是因為一時情緒激動，屬偶發性之傷害行為，尚難構成不堪同居之虐待等語。但一二審都判准離婚。全案可上訴。

58. 請問上述的法律救濟途徑為下列何者？
- (A)刑事訴訟 (B)民事訴訟 (C)刑事訴訟 (D)訴願
59. 若丈夫不服二審判決，他下一步應向下列哪個法院提起上訴？
- (A)地方法院 (B)高等法院 (C)最高法院 (D)地方法院行政訴訟庭

三、填空题 60-64 题，每题 3 分（15%）

以下為我國的刑事訴訟流程，請將正確代號填入相對應的題號中。

參考答案：(A)告訴 (B)告發 (C)自訴 (D)上訴 (AB)公訴 (AC)自首



暑假快樂

地理科參考解答：

●1~10題每題5分，11-20題每題4分，21~22題每題5分。

1.	2.	3.	4.	5.	6.	7.	8.	9.	10.
B	D	A	D	C	B	C	A	A	D
11.	12.	13.	14.	15.	16.	17.	18.	19.	20.
D	B	A	D	C	B	C	B	A	C
21.	22.								
A	D								

歷史科參考解答：

●1~10題每題5分，11-20題每題4分，21~22題每題5分。

23.	24.	25.	26.	27.	28.	29.	30.	31.	32.
A	B	B	A	B	D	C	B	D	A
33.	34.	35.	36.	37.	38.	39.	40.	41.	42.
C	B	D	C	D	D	D	A	B	C

公民科參考解答：

●43~59題每題5分，60-64題每題3分。

43.	44.	45.	46.	47.	48.	49.	50.	51.	52.
C	D	B	A	D	D	B	C	C	A
53.	54.	55.	56.	57.	58.	59.	60.	61.	62.
A	D	C	A	C	B	C	C	A	B
63.	64.								
AC	AB								