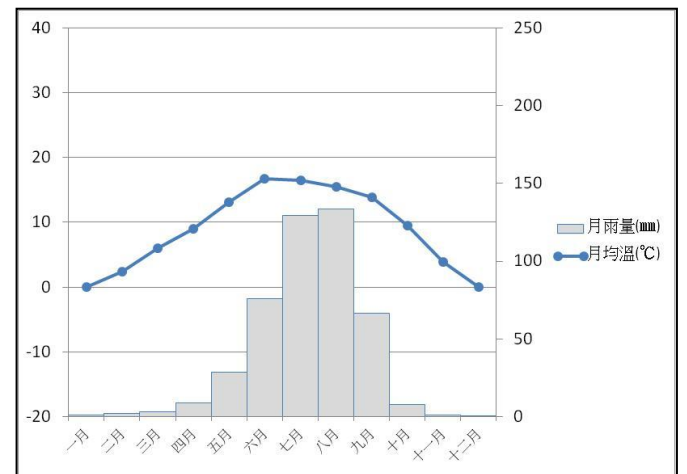


地理科試題卷

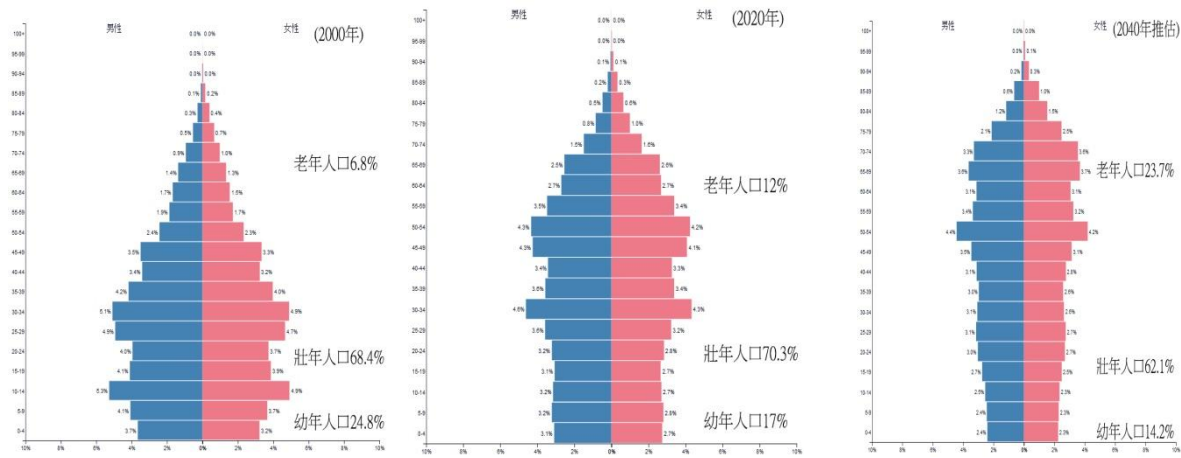
命題教師：朱惟庸老師

選擇題，每題 4 分，共 25 題，合計 100 分。

- () 1. 受太平洋板塊擠壓影響，中國東半部山脈大至呈哪個走向？
(A)東北—西南 (B)西北—東南 (C)東—西 (D)西—東 走向。
- () 2. 下列哪一座山脈，位於中國地形三階梯中，最高的階梯範圍內？
(A)巫山 (B)喜馬拉雅山 (C)秦嶺 (D)武夷山。
- () 3. 中國地形三階梯的中階，以下列哪兩種地形為主體？
(A)高原、台地 (B)山地、高原 (C)高原、盆地 (D)山地、丘陵。
- () 4. 中國地形的哪一項特性，有利於海洋水氣吹入內陸以及農業發展？
(A)地形呈現三級階梯 (B)各種地形中，山地面積比例最大
(C)主要丘陵地都集中在東部沿海地區 (D)地勢西高東低。
- () 5. 台灣的閩南人，其祖先來自於中國下列哪一個地形區？
(A)珠江三角洲 (B)長江中下游平原
(C)四川盆地 (D)東南丘陵。
- () 6. 有關青藏高原的敘述，下列何者「有誤」？
(A)地勢高聳
(B)夏季溫度較同緯度其他地區低
(C)位在中國三大氣候區的乾燥氣候區中
(D)氣溫與植被隨高度成垂直變化。
- () 7. 右圖是中國某地區的溫度雨量圖。請問，此圖最可能是下列哪一個都市的溫度雨量圖？
(A)上海 (B)拉薩 (C)武漢 (D)北京。
- () 8. 海口、哈爾濱一月月均溫溫差約為 40 度，請問造成氣溫差異的主要原因應為下列何者？
(A)緯度 (B)季風 (C)地形 (D)距海遠近。
- () 9. 秦嶺、淮河是下列哪一個地理現象的分界線？
(A)年雨量 750 mm 等雨線 (B)500 公尺等高線
(C)年均溫 0°C 等溫線 (D)年溫差 20°C 等溫線。
- () 10. 下列哪句話，是中國氣候特徵之一？
(A)冬季氣溫高 (B)冬季南北溫差大
(C)降水季節均衡 (D)雨量自東北向西南遞減。
- () 11. 下列哪一條線，是中國人口的分界線？
(A)漠河—海口 (B)秦嶺—淮河 (C)黑河—騰衝 (D)長城。
- () 12. 因為多雨的環境，街屋多建有可躲雨的設計，指的是下列哪一種建築型態？
(A)干欄式建築 (B)蒙古包 (C)窯洞 (D)騎樓。
- () 13. 追尋水源和牧草而遷移的生活形態，為下列哪一種？
(A)稻作 (B)放牧 (C)游耕 (D)游牧。
- () 14. 明清時期，東南沿海地區居民遠渡重洋的原因，最可能是下列何者？
(A)戰亂 (B)暴政
(C)人口急速增加 (D)西方文明吸引。
- () 15. 2019 年中國老年人口約占總人口的 12%，表示已經進入哪一種人口學社會形態？
(A)常齡 (B)高齡化
(C)高齡 (D)超高齡 社會。



() 16. 下圖由左至右分別為西元 2000、2020，以及 2040 年中國人口金字塔圖。



請問從圖中，可以看出中國幼年人口比例有下列哪一種趨勢？ (A)遞減 (B)遞增 (C)先增後減 (D)先減後增。

() 17. 承上題，此圖可以看出下列哪一項中國面臨的人口問題？

(A)未來勞動人口不足 (B)2000 年開始，人口逐年減少 (C)將出現大量外來人口 (D)托嬰機構日顯不足。

() 18. 面臨即將到來的人口老化問題，下列哪一句口號最可能是目前中國政府處理的態度？

(A)寧可血流成河，不准超生一個 (B)實施二胎政策，共築家庭幸福夢
(C)生男生女都一樣，女兒也是傳後人 (D)引下來！流下來！就是不准生下來。

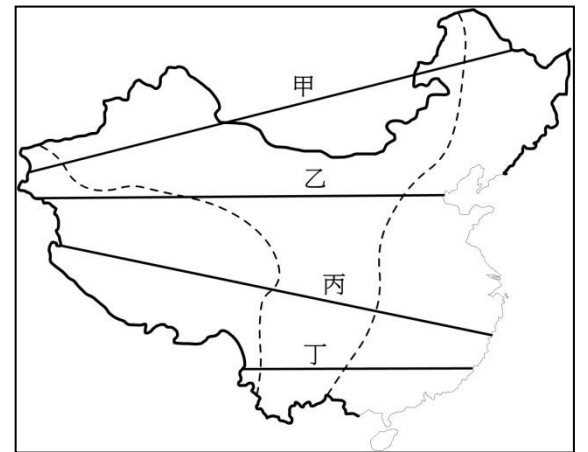
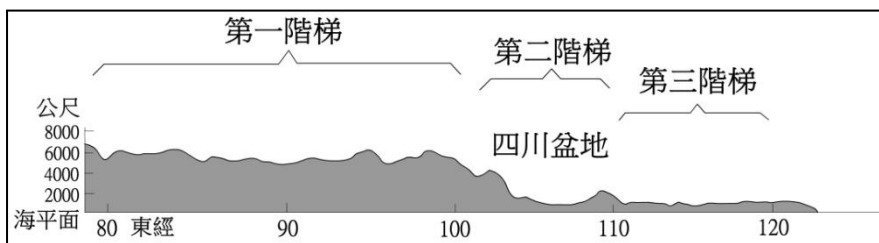
() 19. 以推拉理論解釋，下列哪一項是中間阻礙因素？

(A)糧食資源不足 (B)就業機會多 (C)遷移費用多 (D)生活環境不佳。

() 20. 下列哪一選項，是中國人口集中東半部的主要原因之一？

(A)東半部地形崎嶇 (B)東半部氣候乾燥
(C)東半部流域總面積小 (D)東半部環境負載力高。

() 21. 右圖中哪一條剖面線，最可能呈現下方地形剖面圖？



(A)甲 (B)乙 (C)丙 (D)丁。

() 22. 影響中國農牧業分布區域差異的主要因素，應為下列何者？

(A)年雨量差異 (B)年均溫差異 (C)盛行風向差異 (D)地形高度差異。

() 23. 如果台灣的茶商要投資大陸的茶園，他在何處投入資金，會比較恰當？

(A)東南丘陵 (B)山東丘陵 (C)長白丘陵 (D)塔里木盆地。

() 24. 下列哪一個問題，是因有相同的傳統文化，台灣與中國大陸共同面臨的人口問題？

(A)宗教歧見日深 (B)扶養比越來越低 (C)人口東多西少 (D)新生兒性別比偏高。

() 25. 中國有「南船北馬」俗諺，以你所學，判斷分別南北的分界線，應該是下列何者？

(A)北回歸線 (B)秦嶺—淮河 (C)長城 (D)大興安嶺—太行山—巫山—雲貴高原東側。

選擇題，每題 4 分，共 25 題，合計 100 分

- () 26. 一國的國民，必定合乎下列哪一項條件？
(A)要住在領土內 (B)父母必有一方是本國人 (C)年滿 18 歲 (D)擁有國籍。
- () 27. 一國的領海，指的是從海岸線開始起算，哪個範圍以內的海域？
(A)200 海浬 (B)200 公里 (C)12 海浬 (D)12 公里。
- () 28. 下列哪一個選項，是政府組織的特徵？
(A)元首不可以為世襲制 (B)具有公權力
(C)藉由定期選舉轉移政權 (D)必定存在政黨。
- () 29. 下列關於主權的敘述，哪個選項是正確的？
(A)主權隨國家存在，不會因政府權力轉移產生變化
(B)是僅次於政黨的統治權力象徵
(C)對內不受任何國家或國際組織的干涉
(D)對外享有決策與執行政策的權力。
- () 30. 國家最主要的功能，應為下列何者？
(A)維護人民生命財產安全 (B)制定法律保障人權
(C)根據法律維護社會秩序 (D)協助人民發展經濟。
- () 31. 香港特首宣布撤回「逃犯條例」，此舉所代表的意義為何？
(A)人民成功推翻政權 (B)承認政府的決策違反民意
(C)代表國家主權為人民所有 (D)政權在和平狀態下轉移。
- () 32. 台北市政府推動「參與式預算」，將政府部分業務納入公民參與的機制，為實現民主政治中的何種精神？
(A)增加政府行政效率 (B)減輕公務員工作份量
(C)以民意為依歸 (D)讓專家主導預算分配。
- () 33. 民主國家中，政府的統治權力來自何處？
(A)君主家族世襲 (B)執政黨的政策制定 (C)在野黨的監督 (D)人民的授與。
- () 34. 檢視一個國家是否遵循民主原則運作，其最重要指標為下列何者？
(A)是否有政黨組織 (B)是否有元首任期限制
(C)是否能維持媒體自由 (D)是否舉辦定期選舉。
- () 35. 身為國中階段的學生，下列哪件事情是你可以做到的？
(A)組織政黨 (B)參與地方選舉投票
(C)關心周遭公共事務 (D)登記為總統候選人。
- () 36. 最早關於人權保障的法典，應為下列何者？
(A)權利請願書 (B)大憲章 (C)美國憲法 (D)人權宣言。
- () 37. 「法律和命令都不可以抵觸憲法，否則無效」，以上文字，說明了憲法的哪個特性？
(A)最高性 (B)固定性 (C)原則性 (D)開放性。
- () 38. 憲法內容簡潔扼要，不規定詳細規定與實施辦法，是屬於憲法的哪一種性質？
(A)原則性 (B)開放性 (C)最高性 (D)固定性。
- () 39. 憲法修正過程困難與繁複，是屬於下列哪一項憲法的特性？
(A)開放性 (B)固定性 (C)原則性 (D)最高性。
- () 40. 「司法機關之逮捕、拘禁，須以法定程序為之」，以上與人身保障有關的憲法條文，是保障下列哪一種權利？
(A)平等權 (B)受益權 (C)自由權 (D)參政權。
- () 41. 「人民有請願、訴願與訴訟的權利」，以上憲法條文，是保障下列哪一種權利？
(A)平等權 (B)自由權 (C)參政權 (D)受益權。
- () 42. 人民可以參與公職考試，是憲法保障的哪一種權利？
(A)平等權 (B)自由權 (C)受益權 (D)參政權。
- () 43. 立法委員選舉辦法中，有原住民、離島人民與婦女保障名額的設計，這主要是為了落實何種人民的基本權利？
(A)自由權 (B)參政權 (C)平等權 (D)受益權。

- () 44. 「立倫關心政治議題，經常在社群網路發表對公共政策的看法」，這屬於憲法中，哪一項人民基本權利？
(A)請願權 (B)自由權 (C)參政權 (D)訴願權。
- () 45. 下列哪一事項，在憲法中既是人民權利，也是人民義務？
(A)受國民教育 (B)居住自由 (C)法院訴訟 (D)獲得工作機會。
- ◎ 國家有國體，國體指的是國家元首的產生方式；政府有政體，政體指的是國家政府的產生方式。國體和政體的概念如下：
國體：分成君主國與共和國，前者國家元首由世襲君主擔任，後者國家元首非世襲產生。
政體：分成民主與獨裁，前者統治權力來自人民，並受民意監督，後者統治權掌握在一人或少數人手中，不受民意監督。
參考上文，回答 46 題：
- () 46. 中華人民共和國憲法第一條：「中華人民共和國是工人階級領導的、以工農聯盟為基礎的人民民主專政的社會主義國家。社會主義制度是中華人民共和國的根本制度。中國共產黨領導是中國特色社會主義最本質的特徵。禁止任何組織或者個人破壞社會主義制度。」
第三條：「中華人民共和國的國家機構實行民主集中制的原則，全國人民代表大會和地方各級人民代表大會都由民主選舉產生…」
由該憲法可知，中華人民共和國只能由中國共產黨執政，所以是屬於下列哪一種政府組成的國家形態？
(A)獨裁共和 (B)民主共和 (C)獨裁君主 (D)民主君主 國。
- ◎ 民主政治的四大特徵，有民意政治、法治政治、政黨政治，以及責任政治。分述如下：
民意政治：政府施政須以民意為依歸，民意的探知可由定期選舉、民意代表議決投票以及民意調查實行之。
法治政治：政府施政一切依法行事。
政黨政治：國家通過不同政黨與定期選舉來行使國家政權。
責任政治：執政者若觸法(法律責任)或違背民意、政策失敗(政治責任)，官員需承擔責任，接受處分或辭職下台。
參考上文，回答第 47 題：
- () 47. 總統府發言人因為往日在上班時間，於前一所屬公務單位辦公室與女友發生性行為，雖然與發言人現行職務無關，且無相關刑事法律可罰，但該發言人仍自動請辭，這應屬於民主政體的哪一項特徵？
(A)民意政治 (B)責任政治 (C)政黨政治 (D)法律政治。
- () 48. 「2018 年去年 11 月 24 日公投第 16 案（以核養綠）過關後，電業法第 95 條第 1 項『2025 非核家園』期限條款，『依據公投法第 30 條』『有關法律、自治條例之複決案，原法律或自治條例於公告之日算至第三日起，失其效力。』因此，此條文已於 12 月 2 日失效。」上述說明，顯示了民主政體的哪一項特徵？
(A)民意政治 (B)政黨政治 (C)法治政治 (D)責任政治。
- () 49. 行政院院長與相關部會首長，必須到立法院『接受中央民意代表立法委員質詢』質詢過程不得受到干預(例如壓下麥克風不給說)。根據上述「 」內容判斷，這是民主政治的哪一項特徵？
(A)法治政治 (B)民意政治 (C)政黨政治 (D)民意政治。
- () 50. 下列哪一個選項，是國家功能之一？
(A)組織政黨 (B)辦理國民教育 (C)成立商業媒體 (D)推出選舉候選人。

歷史科試題卷

命題教師：邱騰玄老師

一、選擇題：共 14 題，每題 5 分，共 70 分

() 51. 根據歷史發展的脈絡，此次段考依次介紹了「商→甲→乙→丙→魏晉南北朝→丁→唐」。請問前述中的「丙」，應是哪一個朝代？

- (A)隋朝 (B)漢朝 (C)周朝 (D)秦朝

() 52. 王小慧出身南朝世家大族，她結交的朋友同樣位居社會上層，她的父親與哥哥又長期擔任政府高級官員。請問：下列哪一種選官制度的實施，是造成世族可以壟斷政治權力的主要原因？

- (A)採用禪讓制度 (B)施行九品官人法
(C)採行封建世襲制度 (D)地方官推薦孝子、廉吏。【98 年第二次基測】

() 53. 秦漢時代曾經長期被某一外患侵擾，而分別以興建長城與和親政策來因應，請問該外患位在右（圖 2）中的何地？

- (A)甲 (B)乙 (C)丙 (D)丁



() 54. 盛唐時期，從貞觀之治到開元之治，疆域廣大，唐朝皇帝被西北各族君長奉上「天可汗」的尊號，意思是普天下的君主。請問這個稱號的由來，始自唐太宗擊滅圖中的哪一個外族？

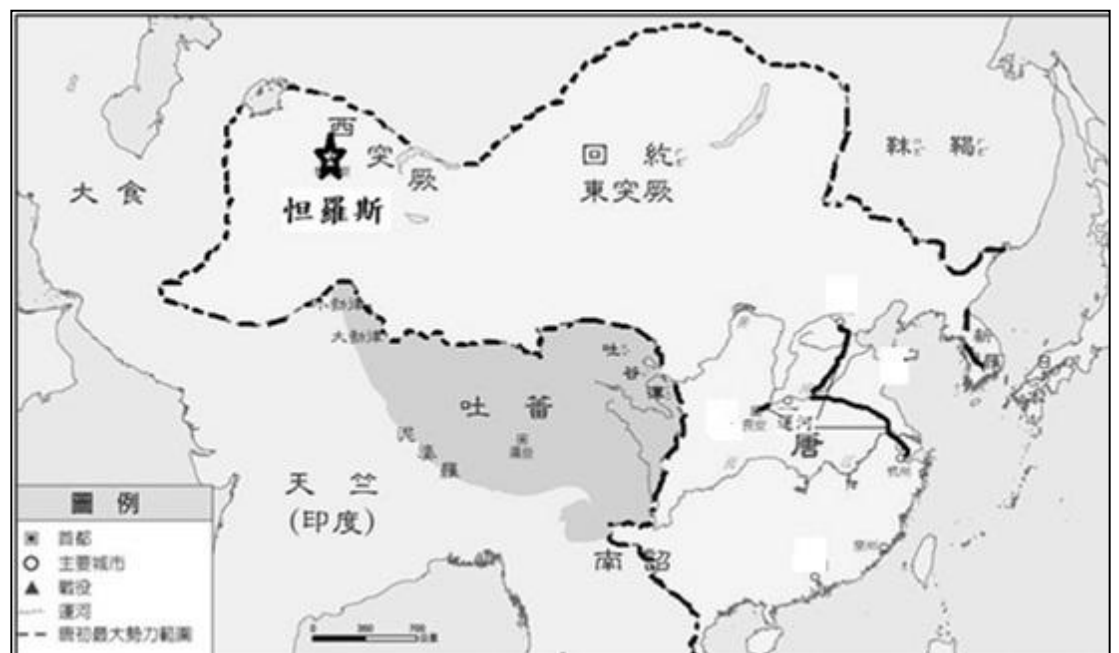
- (A)朝鮮 (B)東突厥 (C)大食 (D)吐蕃

() 55. 參考右圖，因有著天可汗的尊稱，周邊國家紛紛的與唐朝建立良性互動。請問唐太宗時，文成公主嫁到哪一個國家，促使漢人文化得以在其國境傳播。

- (A)日本 (B)朝鮮
(C)天竺 (D)吐蕃

() 56. 右圖中標註「☆」為地名怛羅斯。請問唐朝的軍隊曾在此與哪一外族發生戰爭，敗戰後間接的造成中國造紙術的西傳？

- (A)大食 (B)西突厥
(C)吐蕃 (D)天竺



() 57. 魏晉南北朝時期，漢人政權衰弱，北方草原民族紛紛入主中原，帶來了什麼正面的影響？

- (A)九品官人法的頒行，打破「上品無寒門，下品無世族」的現象
(B)黃河流域漢人大規模向南遷徙，加速中國不同地域人口的流動
(C)部落聯盟成形與封建體制確立，強化周天子對諸候的統治
(D)推行科舉制度使平民入仕機會逐漸增加，加速階級間流動

() 58. 「胡說八道」的胡說一詞，源自西晉滅亡後，大量的胡人（草原民族）遷徙至黃河流域，漢人聽不懂胡人語言而來。為了加速胡漢的融洽，當時哪一位胡人君王，曾頒令禁止族人說胡語？

- (A)秦始皇 (B)漢武帝 (C)北魏孝文帝 (D)唐太宗

() 59. 生活在秦末咸陽的仲和，常以文字記錄他的生活。下列選項何者可能是他所留下對於當時生活的紀錄？

- (A)政府的田賦和勞役負擔相當輕鬆，我和左鄰右舍都不會因此感到壓力
(B)我被編入戶籍，若私自離開本籍，將會遭到處罰
(C)由於地方政府的推舉，我將以「孝子」身分被推舉到中央任官
(D)君主秉持仁政治國，生活好過多了

() 60. 唐代詩人李白詩句：「五陵年少金市東，銀鞍白馬度春風。落花踏盡遊何處，笑入胡姬酒肆中。」請問：上述詩句最能夠反映當時社會的何種狀況？

- (A)種族歧視 (B)奢靡風氣 (C)強敵壓境 (D)胡風鼎盛

() 61. 中國有文人排斥佛教，主張佛教是外來的「夷狄之教」，這是因為佛教起源於何地，使得文人有這番言論？

- (A)西域 (B)印度 (C)大食 (D)吐蕃

- () 62. 歷史上草原民族的攻伐常造成中國政權的更迭，下列何者為北方草原民族對中原農業民族侵擾事件？
(A)封建崩解 (B)焚書坑儒 (C)永嘉之禍 (D)諸侯兼併。
- () 63. 春秋時期，周天子的勢力衰微，號召諸侯尊重周天子，並共同抵禦外族的是何人？
(A)齊桓公 (B)周公 (C)毛公 (D)秦王嬴政
- () 64. 政治體制的型態，歷經漫長的發展才有今日的樣貌。關於古代中國政治體制的演變，下列何者正確？
(A)部落→部落聯盟→國家→帝國 (B)帝國→國家→部落→部落聯盟
(C)國家→部落→部落聯盟→帝國 (D)部落聯盟→部落→國家→帝國。

班級：_____ 姓名：_____ 座號：_____

二、手寫題：共 30 分（手寫題沒有標準答案，有寫就有分數）

《歷史與人物》

1、秦王嬴政，於西元前 221 滅六國統一天下，自認功績勝過三皇與五帝，故創新的尊稱「皇帝」，後世以秦始皇稱之。秦始皇開創了歷史上新的局面，有人讚頌他的功績為「千古一帝」，請問你是否贊同秦始皇符合「千古一帝」的美譽？不論你是否贊同，請詳述你的理由？

答、(10 分)

2、統一天下後，秦始皇召開了一次重大的國政會議。

丞相建議秦始皇：為了安定遙遠的燕國、齊國、楚國等新征服的地區，分封兒子們為各地之王，這是周朝就用過的辦法。大臣李斯持反對意見。李斯則建議秦始皇：「丞相的建議恐會釀成手足相殘的遺憾，朝廷直接任命官員赴六國舊地管理，聽命中央。另外，重賞皇子功臣，以平息怨氣，方為治國之道。」

如果你是秦始皇，關於這個議題 a 你會採取誰的建議？ b 其建議的優缺點各為何？

a、(2 分)

b、(8 分) 優點：

缺點：

如果你有機會擔任「春秋法庭」的記者，並坐多啦 A 夢的時光機去會見秦始皇，並接受你的訪問，你最想對提問的問題是什麼？為什麼？

提問問題：(5 分)

為什麼：(5 分)

1.	2.	3.	4.	5.	6.	7.	8.	9.	10.
A	B	C	D	D	C	B	A	A	B
11.	12.	13.	14.	15.	16.	17.	18.	19.	20.
C	D	D	C	B	A	A	B	C	D
21.	22.	23.	24.	25.	26.	27.	28.	29.	30.
C	A	A	D	B	D	C	B	A	A
31.	32.	33.	34.	35.	36.	37.	38.	39.	40.
B	C	D	D	C	B	A	A	B	C
41.	42.	43.	44.	45.	46.	47.	48.	49.	50.
D	D	C	B	A	A	B	C	D	B
51.	52.	53.	54.	55.	56.	57.	58.	59.	60.
B	B	A	B	D	A	B	C	B	D
61.	62.	63.	64.	65.	66.	67.	68.	69.	70.
B	C	A	A						