

命題教師：藍惠寧

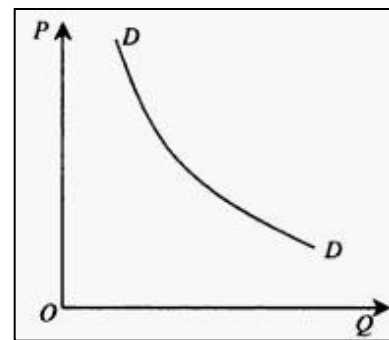
九年 班 座號： 姓名：

一、單題(一題 5 分，共 70 分)

- 經濟問題的起源是  
(A)人類本性都想要賺錢發財 (B)人類擅於思考 (C) 資源取之不盡 (D)資源具有稀少性
- 關於「自由財」和「經濟財」的敘述，何者正確？  
(A)自由財是指可不必付出代價而任意取用的資源 (B)自由財不會變成經濟財  
(C)經濟財是一定要用錢才能買到的 (D)經濟財就是金錢
- 經濟學是在探討「如何在限的資源中做出取捨」，因此經濟學中最重要的課題是  
(A)賺錢 (B)投資 (C)理財 (D)選擇
- 以下何者不是「成本」的意思？  
(A)代價 (B)為了要得到某物所捨去的 (C)成功的本事 (D)花費
- 易澄想利用暑假到民歌餐廳駐唱打工，下表是目前他目前擁有的三個機會。若三家餐廳都願意聘用他，在只考慮時薪的情況下，易澄選擇宜昌牛排館的機會成本是多少？  
(A)500 元 (B)520 元 (C)970 元 (D)70 元

餐廳	宜昌牛排館	稻香美食坊	南華花園餐廳
時薪	500 元	450 元	520 元

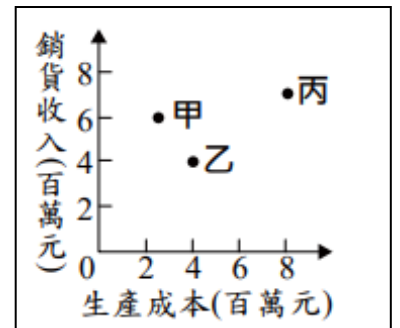
- A 國的經濟受疫情影響，國民所得大幅下降。請問在此種情況下，A 國民眾花費在購買生活必須品的支出比例會  
(A)上升 (B)下降 (C)不變 (D)不受影響
- 經濟學裡的「需求(demand)量」指的是什麼？  
(A)消費者需要某商品的數量  
(B)消費者想要某商品的數量  
(C)消費者能夠購買某商品的數量  
(D)消費者想要且能夠購買某商品的數量
- 右圖為一需求曲線圖，請問以下說明何者不正確？  
(A)P 代表價格 (B)Q 代表生產者對商品的需求量  
(C)Q 隨著 P 提高而減少 (D)P 和 Q 呈現反向關係
- 經濟學裡的「供給(supply)量」指的是什麼？  
(A)商店提供某商品的數量 (B)生產者願意生產某商品的數量  
(C)生產者能夠生產某商品的數量 (D)生產者願意且能夠生產某商品的數量
- 下表是庭凱定置漁場去年的生產成本，請問其中「資本」所付出的部分是多少錢？



項目	船隻耗損	冷凍設備購置	漁場(海洋)租金	員工薪資	漁網修補	電費
費用	20 萬	20 萬	5 萬	120 萬	20 萬	30 萬

- (A) 60 萬 (B)90 萬 (C)95 萬 (D) 215 萬
- 據某報 2018/02/27 新聞「為杜絕搶購衛生紙亂象，政府單位今日邀集三大紙廠、五大量販業者開會，再三強調即便漲價事實雖還沒形成，但只要業者有**意思**聯絡，事實上可導致共同行為的狀況，就可能觸法。」請問以上事務管轄權責應屬哪個單位？  
(A)行政院消費者保護處 (B)消費者文教基金會  
(C)消費者權益促進會 (D)公平交易委員會

12. 艾婷努力工作、省吃儉用 2 年存了 30 萬元，她拿這筆錢來創業。請問她使用自有資金的機會成本為何？  
 (A)沒有成本，因為用的是自己的錢 (B)利息，因為錢花掉後就無法生利息  
 (C)利潤，因為創業是為了獲得利潤 (D)投資風險，因為投資有可能會失敗
13. 承上題，什麼情況下，艾婷向他人借錢創業而不用自有資金可能會比較划算？  
 (A)不可能有此情況，因為用自己的錢完全不需要負擔成本  
 (B)當自己的錢能賺到的利息比向他人借錢要付的利息高時  
 (C)當確定創業可以獲得利潤時  
 (D)當確認投資沒有失敗的風險時
14. 威翔的工廠擁有三條生產線，分別生產甲、乙、丙三項產品，上半年的銷售成果如右圖所示。為了增加工廠的利潤，威翔決定停止生產其中一項產品，並把該生產線轉為生產其他二項產品中的其中一種。請根據圖中資訊判斷，下列四個方案，何者最能達成目標？  
 (A)停止生產甲，增加生產乙 (B)停止生產乙，增加生產丙  
 (C)停止生產丙，增加生產甲 (D)停止生產甲，增加生產丙



## 二、題組(1 題 5 分，共 30 分)

(一)彥坤全家看到這則新聞：

「瑞典柯尼賽克(Koenigsegg)汽車廠商正式宣佈，計畫限量生產 80 台的 Regera 頂級超跑，它的動力系統結合了一具 5.0 升雙輪增壓 V8 與 3 組電動馬達，最大馬力高達 1,500 匹，從靜止加速至 100km/h 只需 2.7 秒，極速約 410km/h。一部車含稅售價為 210 萬歐元（約合新台幣 7,400 萬）已銷售一空。依照國外生意人與收藏家對於類似高價位限量超跑的炒作方式，我們應該很快就會在中古市場上看到售價更為驚人的 Koenigsegg Regera」。

坤爸說：唉！這些人真的以為只要擁這種車就會讓自己比較有價值、高人一等嗎？

坤哥說：爸是因為自己買不起才這樣說吧。這款車的性能超好，如果有錢我也會去買啊！

坤姐說：有些人會買這車是因為看好未來會漲價，到時再賣出就能賺一筆了。

彥坤：明明二手車應該比新車便宜，為什麼這款車卻相反呢？

選項：(A)商品價格 (B)個人偏好 (C)所得水準 (D)預期心理

15. 請問坤爸的觀點是從哪個角度來看消費者購買 Regera 的因素？
16. 請問坤哥的觀點是從哪個角度來看消費者購買 Regera 的因素？
17. 請問坤姐的觀點是從哪個角度來看消費者購買 Regera 的因素？

(二)宜昌國中九年十班同學在校慶園遊會擺攤賣茶葉蛋和甜不辣，以下是他們的計畫(\*最後一欄為園遊會中實際賣出去的商品數量)：

品項	成本	單價	預備數量	實際賣量*
茶葉蛋	5 元/顆	12 元/顆	200 顆	200 顆
甜不辣	10 元/串	20 元/串	? 串	100 串

18. 如果九年十班把總利潤訂在 3000 元，他們至少要賣出多少串甜不辣才足夠？  
 (A)100 串 (B)160 串 (C)180 串 (D)200 串
19. 請問九年十班當日的實際利潤是多少？  
 (A) 3000 元 (B) 2000 元(C) 1800 元 (D) 1400 元
20. 如果他們希望能增加甜不辣的利潤，以下何者最可能會因違反「需求法則」而適得其反(造成反效果)？  
 (A)提高甜不辣的單價 (B)推出買 2 送 1 活動 (C)9 折減價出售 (D)找名人代言

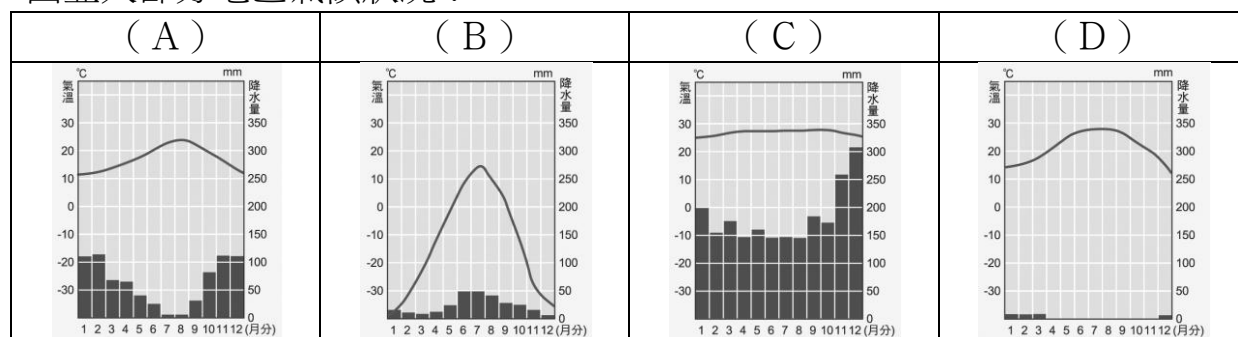
花蓮縣立宜昌國中 109 學年度第一學期社會科第一次段考 9 年級地理試題

命題教師：林素葉


九年 班 座號： 姓名：

◆ 單選題，每題 4 分，共 100 分，請將答案劃記於答案卡上。

21. 下列哪一個國家地跨歐洲與亞洲，連結了東方與西方，因此被稱為歐亞橋梁？  
 (A) 土耳其 (B) 以色列 (C) 阿拉伯聯合大公國 (D) 伊拉克
22. 「在以色列，只要有植物的地方，通常都會鋪上一條黑色的管子，這條管子上有構造精細的出水孔，藉著水壓的變化，控制灌溉的規律，直接把水和肥料送到植物根部附近，而非大片的土壤，用水效率可達 95%，既省水也不會浪費肥料。」請問以色列滴灌技術是為了因應下列哪一種氣候現象？  
 (A) 高溫多雨 (B) 寒冷乾燥 (C) 乾燥少雨 (D) 日照不足
23. 承上題，在西亞除了以色列以外，許多國家都發展出不同灌溉系統，請問下列哪一張氣候圖最能代表西亞大部分地區氣候狀況？



24. 除西亞外，中亞地區也是因雨量稀少而需要依賴河水灌溉發展農業，請問下列哪一項因素是導致中亞雨量稀少原因？  
 (A) 副熱帶高壓壟罩 (B) 位居地中海沿岸 (C) 北大西洋暖流影響 (D) 深居大陸內部
25. 「星月符號(如右圖)，為清真寺的圓頂和尖塔頂端常見的建築裝飾，也是部分穆斯林國家國旗的主要符號……。星星與月亮，為上古時代兩河流域與環地中海地區重要的宗教象徵，天上眾星與月亮分別代表不同神明，而將新月與星星結合在一起形成宗教符號者，首見於公元前 1、2 世紀期間羅馬帝國的…」(https://religion.moi.gov.tw/全國宗教資訊網)



請問下列哪一個國家境內看不到「星月符號」圖案？

- (A) 以色列 (B) 伊朗 (C) 土耳其 (D) 沙烏地阿拉伯

「石油主要由許多大小不同的碳氫化合物分子所組成，在岩層的孔隙內，經常以液體或氣態存在，有時部份凝結成固態。人類從十九世紀大量使用石油，至今短短兩百年間，就將把大自然在千萬年間孕育的原油消耗殆盡。最近由於國際原油價格飛漲，不僅汽油價格調漲，物價也蠢蠢欲動。對於七十年代兩次全球性能源危機及九十年代波斯灣戰爭記憶猶新的人，不禁憂心世界經濟在不久的將來，是否將再度面臨石油短缺所造成的衝擊。」請參考西亞簡圖回答下列問題：

(<https://web.fg.tp.edu.tw/~earth/learn/esf/magazine/991203.htm>)

26. 請問圖中哪一個海域為全世界油輪進出最頻繁海域？

- (A) 甲 (B) 乙 (C) 丙 (D) 丁



27. 「為維護產油國利益，並維持原油價格及產量水準，於 1960 年 9 月 14 日在伊拉克首都巴格達成立石油輸出國家組織。目前會員國共有 12 國，總部設於奧地利首都維也納。」(https://www.cpc.com.tw/cp.aspx?n=241)請問若

現在石油輸出國家組織宣布原油每桶調漲 30 美元，此舉將會對全球會造成何種影響？

- (A) 減緩全球暖化 (B) 縮短世界貧富差距 (C) 民生物價高漲 (D) 華爾街股市關閉

「位於中亞的鹹海在 1960 年仍然是世界第四大湖，到了 2007 年，面積已縮減為原來的 10%。鹹海的水源幾乎完全來自阿姆河和錫爾河。幾千年來，阿姆河的河道數度偏離鹹海，導致鹹海縮小，不過只要阿姆河再次移回，鹹海總會恢復。但為了種植農作物，人們從兩條河流大量取水，對沙漠地區進行大面積的灌溉，使得流入三角洲以及鹹海的水嚴重減少，而蒸發的速度遠超過降雨、融雪及地下水的供給，造成鹹海水量減少、鹽度上升。」(<https://ht045.pixnet.net/blog/post/18131985>)



請依題意回答下列問題：

28. 位於中亞的鹹海在 1960 年仍然是世界第四大湖，但到了 2007 年，面積已縮減為原來的 10%，請問造成上述變化的原因為何？  
(A) 超抽地下水發展養殖漁業 (B) 攔截河水發展灌溉農業  
(C) 地殼變動導致水源滲漏地底 (D) 開發礦產導致水源枯竭
29. 鹹海的萎縮被稱為「地球上最嚴重的環境災難之一」，這個地區曾經繁榮過的漁業遭到破壞，除了造成失業和經濟困頓外，從乾枯的湖底吹起的「鹽沙」也將加速下列哪一種現象的發生？  
(A) 地層下陷 (B) 海水倒灌 (C) 石油開採 (D) 沙漠化擴張
30. 為了種植農作物，人們從兩條河流大量取水，對沙漠地區進行大面積的灌溉，請問下列何者最有可能是中亞國家主要種植的經濟作物？  
(A) 茶 (B) 棉花 (C) 水稻 (D) 甘蔗

「揪結百年情仇的鄰國，亞美尼亞和亞塞拜然因為領土主權，選在「納哥諾卡拉巴克地區」開戰，戰火來到了第四天，雙方傷亡慘重，亞塞拜然軍人跛腳逃命仍不支倒地滾落邊坡，爭議區無辜居民也慘遭波及，「雙亞」都宣布進入戰時狀態。對於衝突不斷升高，周邊鄰國俄羅斯和歐洲安全暨合作組織 (OSCE) 皆呼籲雙方立刻停火、恢復談判，以緩解緊張情勢。」

31. 上文中「雙亞」爆發戰役中的地區屬於下列哪一地區？ (A) 歐俄 (B) 西亞 (C) 東歐 (D) 中亞
32. 依據右圖及上文敘述，下列哪一項因素最可能是導致「雙亞」戰役的最主要原因？  
(A) 領土主權 (B) 水源爭奪 (C) 歐盟地位 (D) 石油礦產



歐洲規模最大的難民營「摩利亞」，9 月初被接連大火摧毀，也燒出歐洲的人道危機。營區髒亂擁擠的惡劣環境，引發全球關注，歐盟提出新的庇護政策，希望幫難民找到棲身之所。不過最新調查顯示，願意接納難民的國家，越來越少。右圖為西亞及非洲地區難民為逃避國內戰爭與飢荒，紛紛跨海至歐洲尋求庇護主要移動路線。請回答下列問題：

33. 依據難民移動路線圖，請問下列何者「不是」來自「西亞」地區難民主要移動進入歐盟國家路線？  
(A) 巴爾幹半島 (B) 義大利半島  
(C) 伊比利半島 (D) 東歐
34. 承上題，來自於西亞難民以敘利亞難民為主，該國人民為逃離戰亂，攜家帶眷經由土耳其冒險渡海，經常因天候、飢餓等因素葬身海域。請問難民前往歐洲橫渡海域最有可能為下列哪一海域？  
(A) 北極海 (B) 大西洋 (C) 地中海 (D) 太平洋



35. 冬天即將來臨，讓接納眾多難民的歐洲國家面臨嚴峻考驗，難民庇護所供不應求，甚至人滿為患。請問若難民選擇在「冬季」進入南歐地區，下列何者是難民會遇到的氣候狀況？  
(A) 沙漠廣布 (B) 日夜溫差極大 (C) 晴朗乾燥 (D) 陰雨綿綿
36. 「歐洲最大的摩利亞難民營在 9 月 8 日發生大火，成千上萬名尋求庇護者無家可歸。國際人權組織「人權觀察」(HRW)指出，緊張局勢今天(12 日)在該難民營所在地希臘愛琴海島嶼列士波斯島開始升溫。」請問下列對於希臘敘述何者正確？  
(A) 火山地形遍布 (B) 石灰岩地形發達  
(C) 是世界面積最小國家 (D) 以佛朗明哥舞蹈聞名世界

37. 若難民順利進入圖中「甲地區」，請問在該區所見地形景觀應該為下列何者？  
 (A) 一望無際平原 (B) 冰川遍布的山地 (C) 水鄉澤國沼澤區 (D) 峰林遍布丘陵地

右圖為歐洲分區圖，請回答下列問題：

38. 橫亙於丙、丁兩區的阿爾卑斯山是歐洲最高及橫跨範圍最廣的山脈，共有 128 座海拔超過 4000 公尺的山峰，屬於第三紀褶皺山脈，請問阿爾卑斯山為歐亞板塊與下列哪一板塊碰撞逐漸隆起形成的山脈？

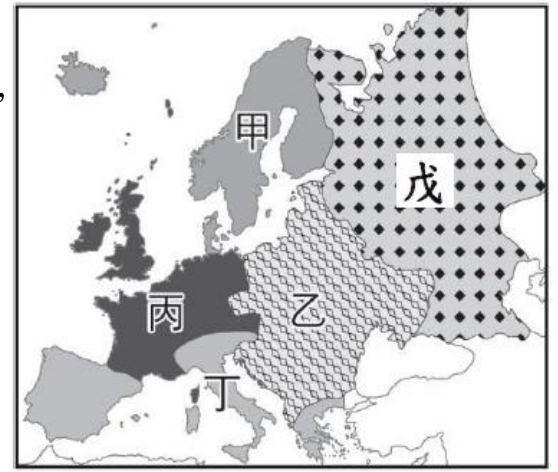
(A) 印澳板塊 (B) 非洲板塊 (C) 美洲板塊 (D) 太平洋板塊

39. 承上題，阿爾卑斯山位於法國和義大利的交界處，但此山脈並未造成兩地南北間交通的阻隔，請問最主要與下列哪項因素關係最大？

(A) 山脈為南北走向 (B) 冰河形成南北向寬平 U 型谷地  
 (C) 峽灣遍布海運發達 (D) 溶蝕作用形成南北天然孔道

40. 下列針對從丙→乙→戊，由西向東的氣候特徵敘述，何者正確？

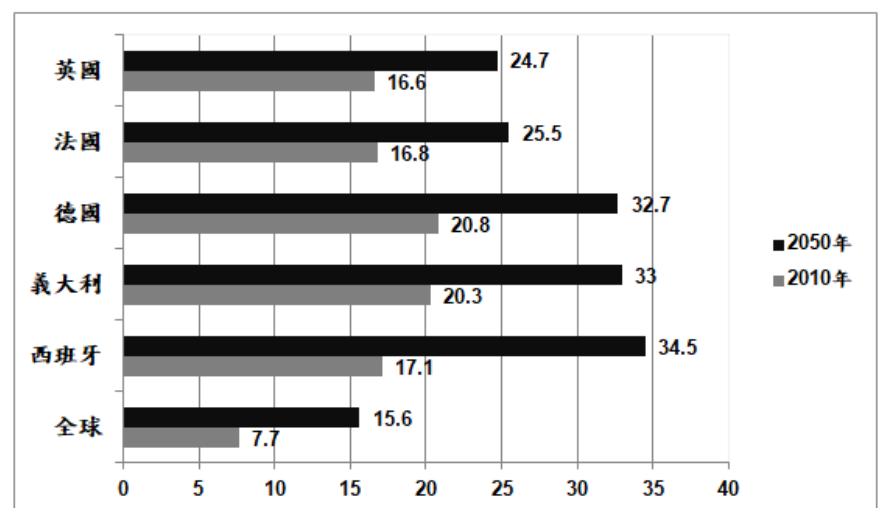
(A) 雨量越來越少 (B) 冬季溫度越來越高 (C) 年溫差越來越小 (D) 溫帶過渡至寒帶氣候



歐羅巴洲（希臘語：Ευρώπη），簡稱歐洲，字源於希臘神話的「歐羅巴」（希臘語：Ευρώπης），是世界第六大洲，面積 10,180,000 平方公里，是世界人口第三多的洲，僅次於亞洲和非洲，人口密度平均每平方公里 70 人，是世界人口分布最平均的一洲。

41. 「歐洲是世界人口分布最平均的一洲」，請問下列導致歐洲人口分布平均原因中何者「關係最小」？

(A) 地勢平坦 (B) 全洲無沙漠分布  
 (C) 工業發達 (D) 氣候溫和濕潤



歐洲主要國家 65 歲以上老年人口占比 (2010 年, 2050 年)  
 資料修改至 <https://event.gvm.com.tw/2015schroders/aging02.html>

42. 右圖為歐洲主要國家 2010 年及 2050 年預估 65 歲以上老年人口比率，請問下列哪一句話最能用來形容此人口變化現象？

(A) 高出生高死亡 (B) 人口老化嚴重  
 (C) 撫養比將降低 (D) 性別比例失衡

歐洲聯盟，簡稱歐盟，是歐洲多國共同建立的政治及經濟聯盟，現擁有 27 個成員國，歐盟目前是歐洲地區規模較大的區域性經濟合作的國際組織。主張歐洲多元一體，促進歐洲和平，追求公民富裕生活，實現社會經濟可持續發展，確保歐洲基本價值觀，加強國際合作。

43. 下列何者「不是」歐洲聯盟成立後所帶來的改變？

(A) 會員國間統一關稅 (B) 發行統一貨幣 (C) 產品規格統一 (D) 勞力相互流通

44. 英國在 2016 年公投決定退出歐盟後，於 2017 年正式啟動脫歐程序，2019 年英國與歐盟達成最終版本的脫歐協議，2020 年歐洲議會通過脫歐協議，英國正式脫歐。請問下列何者是英國脫歐後影響最嚴重的事件？

(A) 經濟呈現負成長 (B) 勞動人口大量外移  
 (C) 無法繼續使用歐元 (D) 少了成員國間免除關稅優惠

45. 「歐洲經貿辦事處在 8 月 31 日發表「2020 歐盟-台灣雙邊關係概況」，以 2019 年來看，台灣仍維持歐盟全球第 15 大貿易夥伴，並躍升為亞洲排名第五；歐盟則為台灣第 4 大貿易夥伴，雙邊貿易總額成長近一成，達到 505 億歐元。歐洲經貿辦事處高哲夫 (Filip Grzegorzewski) 處長表示，在後疫情時代，台灣將持續作為歐盟的重要合作夥伴。」(資料來源 <https://newtalk.tw/news/view/2020-08-31/458756>)

依上文所述，台商若想要擴大與歐盟貿易投資關係請問下列哪一項做法最符合經濟效益？

(A) 從台灣大量製造生產產品後銷貨至歐盟國家 (B) 在中國投資設廠，再將產品銷售至歐盟地區  
 (C) 與美國合作共同將產品價格拉高後銷售歐盟 (D) 台商直接前往東歐歐盟國家投資設廠製造



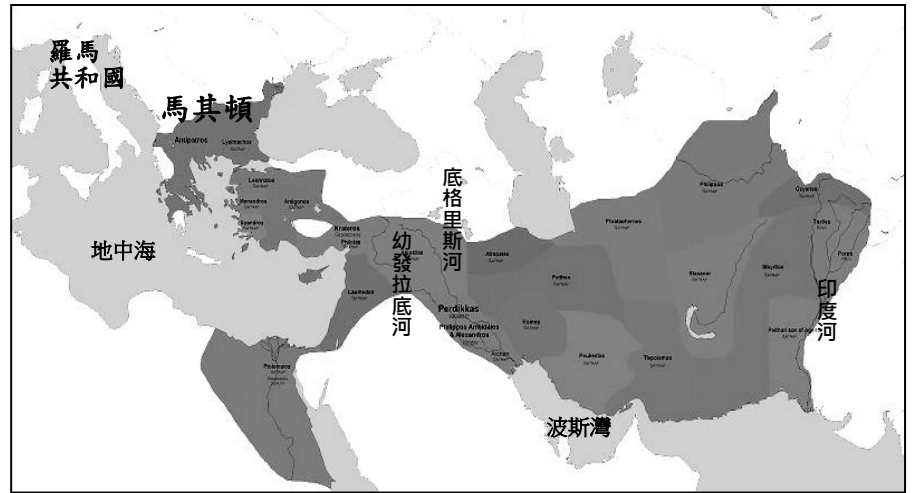
命題教師：黃若芸

九年 班 座號： 姓名：

◆ 每題 5 分，共計 100 分

46. 右圖是某位帝王所征服的領土，他用十三年的時間遠征各地，最後抵達印度西北。他不僅創建空前的帝國，並在各地建立許多以他為名的城市，將希臘的文化推廣到各地。他也鼓勵通婚，促進民族與文化融合。上述這位帝王應該是誰？

- (A)凱撒 (B)屋大維  
(C)君士坦丁 (D)亞歷山大。



47. 承上題，西元前一世紀時，下列哪個地區可能通行希臘語？

- (A)非洲東北部 (B)不列顛群島  
(C)義大利半島 (D)伊比利半島。

48. 不論古今中外，人們有時傾向從宗教尋求解決現世困難的方法，進而獲得心靈的慰藉。請問，「萬事萬物都由不同的神祇掌管，太陽神和尼羅河神是最主要的神祇。」最有可能是由哪一個民族所提出的宗教主張？

- (A)波斯人 (B)希伯來人  
(C)古埃及人 (D)阿利安人。

49. 承上題，雖然許多民族都有類似的宗教概念，相信萬事萬物由不同的神祇掌管，但也有例外。請問，下列哪一個民族的宗教屬於一神信仰？

- (A)印度人 (B)羅馬人  
(C)希臘人 (D)希伯來人。

50. 上課的時候，歷史老師提供有關漢摩拉比法典的資料（如下）要同學們討論。

- (一)如果一個人毀了一個貴族的眼，他的眼也必須被打瞎。  
(二)如果他打斷了同等身分人的骨頭，他的骨頭也應被打斷。  
(三)如果他打瞎一個平民的眼，或打斷骨頭，他應付一米納的銀子。  
(四)如果他打瞎一個奴隸的眼，或打斷骨頭，他應付奴隸身價的半數。  
(五)如果妻子受丈夫百般虐待，妻子有取回全部嫁妝而回娘家的權利。

請判斷哪位同學發表的意見是正確的？

- (A)甲生說：「漢摩拉比法典未明確規範身體傷害罪的責任問題」  
(B)乙生說：「漢摩拉比法典蘊含以牙還牙、以眼還眼的報復原則」  
(C)丙生說：「漢摩拉比法典主張法律之前，人人平等」  
(D)丁生說：「漢摩拉比法典中不承認女性的法律地」。

51. 承上題，這部法典最可能和哪一個古文明有關？


- (A)西亞 (B)印度  
(C)羅馬 (D)埃及。


52. 承第 50 題，從法條中除了可以了解當時的法律概念外，還可以從中推論出當時的社會情形。請問，下列哪一位同學的推論最為合理？


- (A)家璇：「當時還沒有文字的出現，都以繪畫的方式記載事情」  
(B)宏威：「當時的社會仍用以物易物的方式，還沒發展出貨幣的使用」  
(C)峻鴻：「當時的社會之中，沒有明顯的階級之分」  
(D)宇潔：「當時每個人的身份價值並不都是一樣的」。


53. 小倫和小真正在討論歷史上某文明所實行的制度，如右圖所示。他們討論的主題最可能是下列何者？

- (A) 印度種姓制度
- (B) 周代宗法制度
- (C) 雅典民主制度
- (D) 西歐封建制度。 【109 會考第 51 題】

 所有公民可以直接參與政治事務，不錯吧。

 可是，女性和奴隸並不具有公民資格啊！

 而且，他們的行政官員多是用抽籤方式產生。

 但是抽籤選出的官員，並不一定適任呀。

54. 菱菱在歷史課中學到阿利安人征服印度後，為了維持統治政權的優勢，曾採用種族政策，將人民分為祭司、貴族和武士、平民、奴隸等四個階級。請問，這個制度被稱為什麼？

- (A) 種族制度 (B) 種姓制度
- (C) 世襲制度 (D) 因果輪迴制度。

55. 承上題，菱菱聯想到去年所學的中國歷史，某個朝代的統治者也來自於外族，而基於類似的理由發展出了相似的階級制度。請問，菱菱所聯想到的是哪一個朝代？

- (A) 漢朝 (B) 唐朝 (C) 元朝 (D) 明朝。

56. 承第 54 題，此階級制度在印度建立後，也出現不滿此制度及其所依據的宗教的聲音，因此有人提出不同的主張。請問，主張眾生平等的新興宗教是哪一個宗教？

- (A) 婆羅門教 (B) 印度教 (C) 佛教 (D) 猶太教。

57. 古希臘哲學家蘇格拉底常常在雅典的街道上，與人談論政治、社會、人生等議題，他希望透過不斷地對話，可以找到人生的意義、存在的價值、和如何能夠擁有較好的生活。請問，下列哪一句話最有可能是蘇格拉底說的？

- (A) 元老院的制度已經遭到獨裁者的嚴重破壞，我們應該要起來抵抗他，保護過去的傳統
- (B) 人生而在世要透過不斷地苦行，才能夠超脫人世間生老病死的煩惱
- (C) 人世間存在著善惡二神，祂們會不斷地戰鬥，現在我們所生活的世界是善神戰勝惡神的結果
- (D) 世間最珍貴的不是「想要卻得不到」或「曾經擁有但已失去」，而是好好把握現在的幸福。

58. 古代希臘歷史學家希羅多德曾到許多地方遊歷，並將所見所聞經過調查和研究後，寫成《歷史》一書，而有「史學之父」之稱，請問下列哪一個敘述最有可能出現在《歷史》之中？

- (A) 凱撒曾在西元前 58 年率軍出兵高盧（今法國一帶），將此地區納入羅馬帝國的版圖
- (B) 波斯人認為希臘人應受到指責，因為是希臘先率軍入侵到波斯統治的小亞細亞地區
- (C) 分裂後的西羅馬帝國逐漸衰弱，最後因為日耳曼人的入侵而滅亡
- (D) 中國漢朝時曾派人到西域，希望聯合當地的國家共同擊退匈奴人。

59. 歷史課本中寫到「埃及為『尼羅河的贈禮』」，這一句話即出自希羅多德。請問，下列哪一段敘述最接近這句話的意涵？

- (A) 古代埃及人常常利用尼羅河來運載貨物與進行貿易，奠定了古代埃及的商業基礎
- (B) 尼羅河氾濫的時候，常常從上游沖下許多人們沒看過的驚奇禮物
- (C) 埃及人常在氾濫期過後到尼羅河中找尋寶物，並且成為埃及的傳統文化
- (D) 尼羅河的河水，為乾燥的地區帶來充沛的水源和肥沃的土壤，讓人們可以在此定居和發展。

60. 歷史學家將古代羅馬的發展分為三個時期：王政時期、共和時期、帝國時期。請問，這三個時期的切分，主要是依據什麼而來？

- (A) 外族入侵的結果 (B) 統治制度的變化
- (C) 自然環境的改變 (D) 經濟發展的程度。

61. 承上題，在古代羅馬的歷史發展中，疆域常常會隨著對外征戰、外族入侵、內部動盪等因素而擴大或縮小。請問，羅馬人所建立的國家，在哪一個時期疆域範圍最為遼闊？

- (A) 王政時期
- (B) 共和時期
- (C) 帝國時期（未分裂前）
- (D) 東羅馬帝國時期。

62. 今年夏季原本預計在日本舉行世界奧運，雖然因新冠病毒在全球各地傳播而延期，但大會已決定名稱會維持「2020 東京奧運」，它也將成為自 1896 年恢復舉辦後的第 32 屆奧運。請問，1896 年的第 1 屆現代奧運會，當時決定在古代奧林匹亞運動會的創始國所在地舉辦，其最有可能是在哪裡舉行？  
 (A)雅典 (B)羅馬 (C)紐約 (D)北京。
63. 基督教為今日世界上三大宗教之一，其教義與信仰深深影響許多國家與人民，請問關於基督教的敘述何者正確？  
 (A)創立於地中海東岸的巴勒斯坦地區  
 (B)主張多神信仰  
 (C)建教後立刻廣受羅馬人的歡迎  
 (D)四世紀末時凱撒宣布基督教成為羅馬的國教。
64. 小恩上完歷史課後想多了解古文明的歷史，透過網路搜尋，她發現一張有趣的圖表（如下）：



仔細閱讀後，小恩可以從圖表中學到什麼？

- (A)每一個古文明存在的時間長度都一樣  
 (B)除亞洲和非洲外，其他地區也發展出不同的古文明  
 (C)西元 0 年後才逐漸有古文明的出現  
 (D)印加文明曾經和羅馬文明有交流的情形。
65. 古文明的發展並非各自獨立，隨著時間的推移，不同古文明中的人群也開始向外貿易、征戰、建立外交關係等，在這些互動中也常常帶動了文化上的流動。請問，下列哪一段課文『無法』呈現這樣的文化流動概念？  
 (A)埃及文字中的表音符號由腓尼基人簡化後外傳，成為歐洲字母的起源  
 (B)古印度發展出「零」的觀念與數字系統，經由阿拉伯人傳往西方，發展成為世界通行的「阿拉伯數字」  
 (C)蘇美人建立許多城邦，發展出「楔形文字」、十進位法與六十進位法，並根據月球運行的週期，制訂陰曆  
 (D)隨著羅馬人的疆域逐漸擴張，他們使用的拉丁文成為主流文字，也是此後西方文化溝通傳播的書面語文。



公民參考解答

1.	2.	3.	4.	5.	6.	7.	8.	9.	10.
D	A	D	C	B	A	D	B	D	A
11.	12.	13.	14.	15.	16.	17.	18.	19.	20.
D	B	B	C	B	C	D	B	C	A

地理參考解答

21.	22.	23.	24.	25.	26.	27.	28.	29.	30.
A	C	D	D	A	C	C	B	D	B
31.	32.	33.	34.	35.	36.	37.	38.	39.	40.
B	A	C	C	D	B	A	B	B	A
41.	42.	43.	44.	45.					
C	B	A	D	D					

歷史參考解答

46.	47.	48.	49.	50.	51.	52.	53.	54.	55.
D	A	C	D	B	A	D	C	B	C
56.	57.	58.	59.	60.	61.	62.	63.	64.	65.
C	D	B	D	B	C	A	A	B	C