

宜昌國中 109 學年度 上學期 第三次段考 九年級 社會科試題

地理科 命題教師：林素葉

一、單選題 (每題 5 分，共 75 分)

右圖為美洲簡圖，圖中甲、乙、丙、丁代表不同緯線，ㄅ、ㄆ、ㄇ、ㄨ代表海域，請回答下列問題：

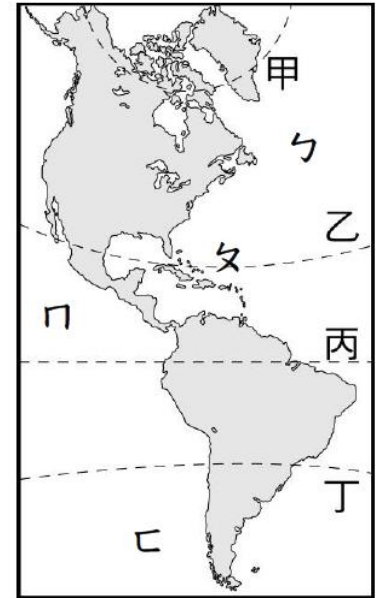
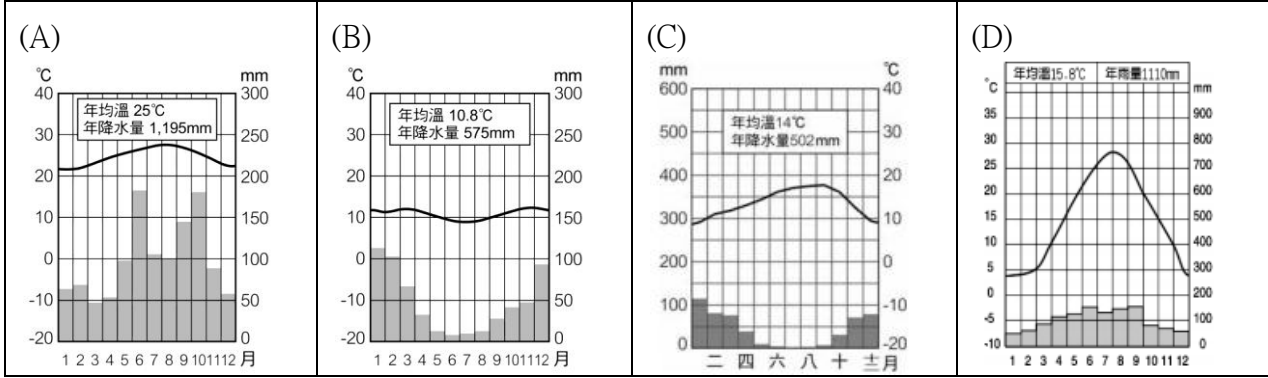
1、下列敘述何者正確？

- (A)甲、乙緯線通過北美洲，丙、丁緯線通過中南美洲 (B)乙緯線以南稱為盎格魯美洲
(C)甲緯線為極圈，居住於極圈附近原住民為印地安人 (D)丙為赤道，乙、丁為回歸線

2、下列對於乙、丁兩條緯線間的敘述何者正確？

- (A)氣候溫和，為世界主要糧食作物生產區 (B)氣候嚴寒，為廣大針葉林分布區
(C)氣候炎熱，以發展熱帶栽培業為主 (D)氣候濕熱，以商業化、專業化發展畜牧業

3、請問下列哪一張氣候圖所顯示氣候最可能位於丙—丁之間？



4、近日美國佛羅里達州傳出一起船隻失蹤的意外事件，一艘載有 20 人、名為「Mako Cuddy」的船隻於 2020 年 12 月 28 日自巴哈馬出發，原定 29 日就會抵達美國佛州沃思湖 (Lake Worth)，但該船並未如期出現，甚至傳出失蹤消息。而由於該船行經的海域是百慕達三角海域，美國海岸警衛隊獲報後就前往搜救，但依舊沒有任何下文。(yahoo 新聞 20210104)

請問上述船隻消失的海域最可能位於圖中何處？

- (A) ㄅ (B) ㄆ (C) ㄇ (D) ㄨ

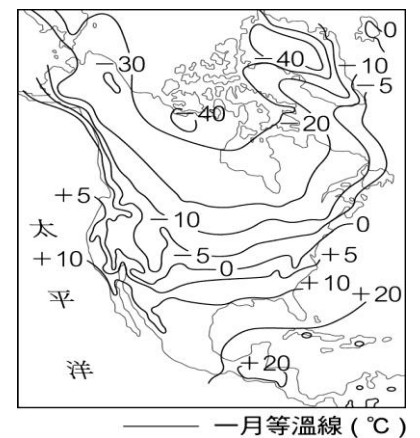
右圖為北美洲一月份等溫線分布圖，請回答下列問題：

5、圖中顯示北美大平原與同緯度東西兩岸溫度比較相對來的寒冷，請問最主要可能與下列哪一項因素關係最密切？

- (A) 緯度 (B) 距海遠近 (C) 地形 (D) 西風

6、承上題，墨西哥灣沿岸冬季仍然相當溫暖，除了緯度因素外，最可能還受到下列哪一項因素影響？

- (A) 暖流 (B) 地形 (C) 高度 (D) 涼流



兩百多年前，美國還是一個以農業為主、產量僅自足的發展中國家，19、20 世紀卻成為全球製造的中心，在這 21 世紀初，仍是全球首要的製造國家和服務供應國。當全球生產與銷售版圖快速改變時，美國經濟也有所因應。更多的生產工作是以分階段、跨境的方式進行，大型折扣商店與網路交易也變得越多。右圖為北美洲主要工業區分佈圖，請回答下列問題：

7、由右圖判斷，下列何處為美國最主要工業區？

- (A) 墨西哥灣沿海 (B) 北美大平原 (C) 洛磯山脈 (D) 五大湖地區

8、下列對於「美國是全球首要的製造國家和服務供應國」敘述，何者「錯誤」？

- (A) 比爾蓋茲創辦的微軟公司 Microsoft Office 軟體行銷全球
(B) 洛杉磯好萊塢製作電影形成獨樹一格的影視文化，為美國帶來廣大商機
(C) 郭台銘鴻海集團為世界知名跨國企業
(D) 美國的速食文化，影響許多國家的飲食習慣

9、右圖為台灣在美洲的邦交國，請問下列敘述何者「錯誤」？

- (A) 圖中邦交國皆位於拉丁美洲
(B) 除巴拉圭外其餘屬於中美洲國家
(C) 圖中群島國家位於加勒比海與太平洋間
(D) 這些邦交國大部分位於熱帶氣候區



	貝里斯 Belize		宏都拉斯 Republic of Honduras		聖克里斯多福 St. Kitts and Nevis
	瓜地馬拉 Republic of Guatemala		尼加拉瓜 Nicaragua		聖露西亞 Saint Lucia
	海地 Haiti		巴拉圭 Republic of Paraguay		聖文森國 St. Vincent & the Grenadines

- 10、「巴拿馬運河於 1914 年正式通航，全長 82 公里，大致呈西北向東南走向，寬的地方達 304 公尺，最窄的地方也有 152 公尺。運河實際上是一座水梯，從大西洋進入的船隻，像爬樓梯似的，在船閘中被提升 26 米，進入人工築壩攔截查格里河形成的嘎頓湖，通過運河再經過一座單層船閘降到海拔 16.5 公尺，進入米拉弗洛湖，再經過一座雙層船閘降到海平面高度進入太平洋。」(https://www.ym.edu.tw/ymnews/289/sub_travel.html)
請問由上文判斷，巴拿馬運河經過地區為下列何種地形？
(A)盆地 (B)平原 (C)山地 (D)高原
- 11、墨西哥擁有世界一半品種的仙人掌，同時將渾身帶刺的仙人掌奉為國花，有仙人掌王國的美譽。無論在荒無人煙的曠野，還是在繁華都市總統府周邊都盛開著千姿百態的綠茸茸仙人掌、仙人球、仙人柱，有的小若彈丸，有的大若巨樹，在當地自家都種仙人掌，可以涼拌生吃，可以燒烤，油煎，燒菜，醃製等。仙人掌耐炙熱耐乾旱喜陽光，主要生長於乾燥沙漠地區。(https://kknews.cc/world/v3kgvj4.html)
請問墨西哥沙漠氣候形成原因最主要為下列何者？
(A)副熱帶高壓籠罩、涼流 (B)位居內陸距海遠、暖流 (C)位居西風背風側、寒流 (D)副熱帶高壓籠罩、暖流
- 12、承上題，下列哪一地區沙漠形成原因與墨西哥類似？
(A)阿根廷南部 (B)祕魯沿海 (C)美國西南內陸 (D)中國西北地區
- 13、『安地斯山脈可謂集世界之最於一身，它是全世界最長的山脈，有許多山峰海拔超過 6,000 公尺，山頂終年積雪。位於阿根廷的阿空加瓜山（Aconcagua）是安地斯山脈最高峰，海拔 6,962 公尺，同時也是全世界最高的死火山。而世界最高的活火山科多巴西火山（Cotopaxi），海拔 5,897 公尺，也位於厄瓜多首都基多南方 75 公裡處，這裡也是有名的「赤道雪」觀賞地；此外，安地斯山脈還包括 40 多座活火山。』
請問對於上文敘述下列何者正確？
(A)安地斯山脈許多山峰終年積雪是因為緯度高 (B)安地斯山脈多火山是因位居板塊交界處
(C)阿根廷的阿空加瓜山是世界最高峰 (D)赤道國厄瓜多著名的「赤道雪」是因應觀光而製造的人造雪
- 14、印加文明與馬雅文明、阿茲特克文明並稱為「印第安三大古老文明」；其中印加帝國享有「美洲的羅馬」之稱，於 1532 年被殖民者滅國，印加帝國的毀滅，究其根本有兩大原因：一是殖民者的武力打擊，二是因為殖民者帶來的美洲所沒有的天花病毒，這兩者使得 17、18 世紀的印加原住民的人口大幅減少，最終走向毀滅。請問導致印加帝國毀滅的殖民者最主要來自於下列哪一地區？
(A)西歐 (B)東歐 (C)北歐 (D)南歐
- 15、里約熱內盧，巴西第二大城市，以耶穌山、海灘和熱情奔放的比基尼女郎聞名於世。但同樣聞名的，還有隨處可見的貧民窟，如上帝之城；上帝之城是 1960 年成立於西區的一個社區，巴西著名的犯罪電影《上帝之城》就是在這裡取景。(https://kknews.cc/history/j4oqrxe.html)請問導致大都市邊緣形成貧民窟最主要原因是什麼？
(A)殖民母國強制政策 (B)鄉村太過貧窮 (C)都市就業機會少 (D)政府積極推動經濟改革

二、習作修改題(第 16 題 5 分，其餘每題 4 分，共 25 分)

- 16、美國東北部經五大湖南側至密西西比河流域一帶和加拿大東南部的聖羅倫斯河谷地是北美洲最早發展的工業帶，也是目前世界主要的工業分布密集區之一。下列何者「不是」其工業發展的主要有利條件？
(A)工業原料豐富 (B)交通運輸便利 (C)勞動人口充足 (D)土地租稅優惠
- 17、北美洲多以跨國企業型態經營，為了加強北美洲的經濟勢力，加拿大、美國、墨西哥等三個國家共同簽訂了「北美自由貿易協定」(NAFTA)。在跨國經濟體的產業分工上，美國主要提供何種優勢，以利鄰近國家設置工業區，期望可提升國際競爭力與區域經濟的合作？
(A)原料、勞力 (B)資金、技術 (C)動力、市場 (D)勞工、政策

右圖為台灣農夫與北美農夫的對話，請根據對話內容回答下列問題。

- 18、從對話的內容可知，北美農民的農業屬於哪種經營方式？
(A)多元化 (B)集約化 (C)精緻化 (D)專業化
- 19、北美農民說：「種植單一作物可節省支出、降低生產成本」，但也容易產生哪些問題？
(A)國際價格影響程度增加 (B)土壤鹽鹼化的機會增加
(C)二氧化碳的排放量增加 (D)土地單位面積產量增加



根據瑞士《新蘇黎世報》的報導，○○環境部在 2011 年 6 月 1 日批准


了亞馬孫河流域建造水電站的計畫。這個名為貝羅蒙特的水電站，設計裝機容量為 1.1 萬兆瓦，將繼中國的三峽水電站、巴西與巴拉圭之間的伊泰普水電站之後，成為世界第三大水電站。貝羅蒙特水電站的建設遭到人權環保組織、土著居民以及天主教會的強烈反對。當地政府表示，為了確保能源安全，有必要建設這座水電站。這項工程占地 500 多平方公里，數以萬計的居民將被迫遷移，240 公頃的森林已被砍伐，工程建造總耗資約 85 億歐元。

- 20、文中出現的○○，最有可能是下列哪個國家？
(A)巴西 (B)阿根廷 (C)哥倫比亞 (D)委內瑞拉
- 21、亞馬孫河流域的熱帶雨林被譽為「地球之肺」，下列何者「不是」這片熱帶雨林若消失可能帶來的影響？
(A)世界能源危機 (B)生物失去棲息地 (C)物種滅絕、基因庫消失 (D)大氣中 CO₂ 濃度持續增加

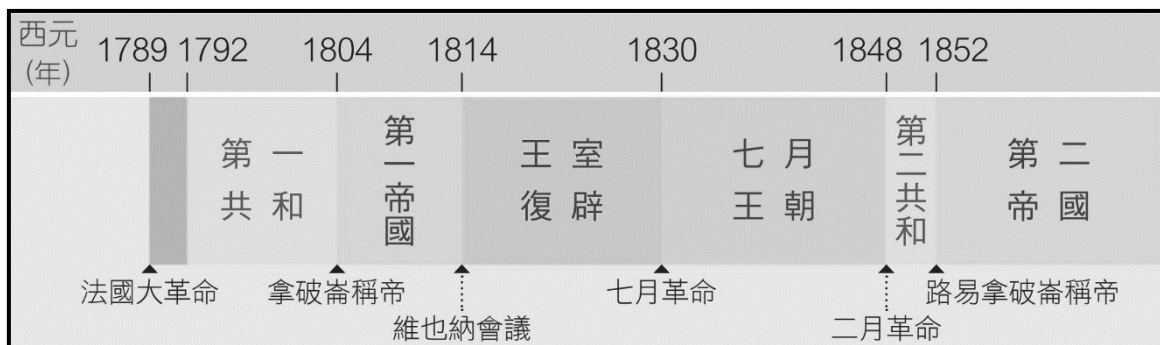
歷史科部分 命題教師:黃若芸

一、單選題 (每題 5 分, 共 100 分)

- 22、 「科學革命光芒掩蓋了基督教崛起之後的一切成就，相形之下，文藝復興和宗教改革只是歷史的插曲……科學革命是現代世界與現代心智狀態的真正起源。」根據你學習歷史的經驗加上這段資料的描述，科學革命除了促成近代科學的興起外，還如何影響人類文明？
(A)改變思考方式，產生新宇宙觀 (B)衝擊宗教信仰，否定精神生活
(C)挑戰社會秩序，產生新家庭觀 (D)扭轉創作風格，否定文藝復興。
- 23、 「沙龍」(Salon，原意為會客廳)不屬官方管轄、不接受教會約束，也與學術廟堂有所區隔。...活動的成員敞開心胸，不懷任何成見，以評判的精神暢談新知，評論新學說，並邀請這些新知、新學說作者參加聚會，甚至實際資助他們的研究。請問，西元 18 世紀的知識分子會以下列哪項「新知」作為在聚會中的話題？
(A)在中國殖民地的寶藏 (B)馬基維利的政治理論 (C)百科全書的知識分類 (D)太陽繞地球運行學說。
- 24、 1789 年，某份文件指出：「在法律之下，人類生而自由平等。」文件進一步指出：「政府組織的目的在維護人民之自由財產不受侵害，以及不受壓迫與欺凌。」這份文件應該為何？
(A)大憲章 (B)人權宣言 (C)獨立宣言 (D)權利法案。
- 25、 某次國際會議中，各國決議：「各主要國家應當恢復到拿破崙戰爭前的狀態，如果無法恢復，應當給予適當的補償。奧地利因此獲得義大利的部分領土，普魯士也可以獲得波蘭的部分土地。大家也決定要增強法國周邊國家的力量，以圍堵法國，防止其再度擴張。」這個會議的名稱為何？ (A)維也納會議 (B)大陸會議 (C)三級會議 (D)國民會議。
- 26、 右圖為歷史課本中選用的法國政治漫畫，大約畫於 18 世紀末。請問，下列哪一個解讀最符合這張漫畫的內容？
(A)圖中的三個人正在玩騎馬打仗
(B)下方的人代表平民階級，上方的兩個人代表貴族階級
(C)上方的人騎在人背上，象徵剝奪了下方人物的政治參與權
(D)下方的人彎腰背著上方的人，象徵著負擔沈重的經濟壓力。
- 27、 阿和在歷史課本中讀到「西元 1543 年，波蘭科學家哥白尼…挑戰教會與傳統科學權威，開啟科學革命的序幕」。好奇的阿和不太懂「開啟科學革命的序幕」這句話的意涵。請問，下列哪位同學最能為阿和解答？
(A)小稚：哥白尼因為想要突破過去的傳統，因此刻意提出新的理論來打開新的科學時代
(B)論姐：哥白尼早已知道在 16、17 世紀的科學應該要有所改變，因此想要進行革命性的行動
(C)慈慈：和哥白尼同時代的人認為哥白尼激發了他們開始進行研究，終於打開了科學的大門
(D)阿軍：後來的人認為哥白尼的新理論對當時的科學界帶來衝擊，帶動更多的科學研究。
- 28、 承上題，阿和最有可能還會在這段課文中認識到哪一位歷史人物？
(A)牛頓 (B)路易十四 (C)亞當斯密 (D)瓦特。
- 29、 美國在獨立建國後不到百年的時間，國內就發生了大規模的衝突，南方各州和北方各州形成對立。請問，下列哪一位人物當上總統後，導致南方和北方的對立更趨激烈，甚至進而開戰？
(A)林肯 (B)傑佛遜 (C)華盛頓 (D)路易拿破崙。
- 30、 同學們正在討論歷史課本中有關工業革命前後的圖片 (如下圖) 依據圖片內容，請問誰的討論最符合圖中所呈現出工業革命之前與之後的差異？



- 31、 美國成立至今不超過 250 年的時間，而其先祖多半來自英國及其他歐洲國家的移民，後來脫離英國的統治，建立美利堅合眾國。請將美國在獨立過程中發生的重要事件，按照時間發生先後順序排列：
- (A)英國向北美徵收新稅→北美各州開會議決獨立→英國派兵平亂→北美發動波士頓茶葉事件
 (B)北美發動波士頓茶葉事件→北美各州開會議決獨立→英國派兵平亂→英國向北美徵收新稅
 (C)英國派兵平亂→北美發動波士頓茶葉事件→英國向北美徵收新稅→北美各州開會議決獨立
 (D)英國向北美徵收新稅→北美發動波士頓茶葉事件→英國派兵平亂→北美各州開會議決獨立。
- 32、 承上題，下列哪一個最可能是北美殖民地的人民與英國政府之間的衝突點？
- (A)北美殖民地人民的普選權 (B)北美殖民地人民的參政權
 (C)北美殖民地人民的言論自由權 (D)北美殖民地人民的生命權。
- 33、 下課時同學們正在討論歷史課本中「18 世紀末至 19 世紀中的法國歷史分期表」(如下圖)。



請問，下列誰的意見最能夠反應當時法國的政治發展情形？

- (A)阿平：雖然經歷過這麼多次的改變，無論是共和、帝國、王朝，法國始終都是由王室統治
 (B)小祈：多次的革命和「王」的反覆出現，可以看出民權和王權之間不斷的衝突和拉扯
 (C)萍萍：以圖上呈現的內容來看，法國最後是革命派成功，從此不再有專制的情形出現
 (D)宇哥：推測在法國大革命之前，當時的政府體制應該是採行民主的方式。
- 34、 小晴在網路上看到一部有關「伽利略斜面實驗」的影片，影片中介紹伽利略透過一次又一次的觀察和記錄，最後發現：在一個光滑且有斜度的軌道上放一顆鋼珠，鋼珠將上升到與原來的釋放高度相同的位置(如右圖)，好學的小晴聯想到歷史課曾經學過的 17 世紀科學研究方法。請問，根據以上的描述，伽利略運用了什麼方法得到這樣的發現？
- (A)簡化法 (B)演繹法 (C)歸納法 (D)邏輯推理法。



- ◎歷史課本中寫到「1642 年，國王查理一世為了徵稅問題與國會衝突，爆發內戰」。好奇的小潛想到多了解英國內戰的歷史，於是上網查了些資料，發現查理一世後來被國會逮捕，並且送到由 67 位律師和法官組成的陪審團進行審判，審判情形如下。請回答第 35 題至第 37 題。

- 35、 小潛讀到國會對於查理一世的指控，不只一次地指稱查理「背叛了他的國家」、「叛國」、「叛徒」，小潛不太了解這些指控的由來，於是進一步上網查找資料。請問，下列哪個敘述最能為小潛解惑？

國會對查理一世的指控：

史都華·查理，英格蘭的王國，背叛了他的國家，發動對國會和人民的戰爭。因此他應該為所有在戰爭中發生的叛國、謀殺、焚燒、破壞負起責任。因此，他是暴君、叛徒，是英格蘭的敵人。

查理一世的回應：

我想知道是什麼權威要求我到這裡來，我指的是一個具有合法性的權威。在這世界上有許多非法的權威，像是小偷和強盜。記住，我是你們的國王，你們合法的國王，我有上帝賦予的信任，一個來自於古老且合法的血統；我不會背叛這個信任，也不會回應那個新的且非法的權威。

- (A)查理毀棄了之前所有成年男性公投所作出的決議，在未經過投票同意前就任意增加徵稅
 (B)查理完全不遵守自英國建國以來所通過的法律條文，擅自逮捕人民，並且沒收貴族的財產
 (C)查理違反自 13 世紀以來祖先們和貴族之間的承諾，在未徵得同意前就任意地做出行動
 (D)查理背叛了對全國人民的約定，在未經過全國人民同意前就組織軍隊，甚至與人民起衝突。

- 36、 小潛看到查理一世的回應「記住，我是你們的國王，你們合法的國王。我有上帝賦予的信任，一個來自於古老且合法的血統」，馬上聯想到之前所學。請問，查理的想法非常接近什麼概念？
- (A)民主政治 (B)天賦人權 (C)君權神授 (D)主權在民。

- 37、 請問，國王和國會之間的衝突，最後在哪一個事件後而告結束，確認國會為最高權力機構？
(A)清教徒革命 (B)光榮革命 (C)法國大革命 (D)二月革命。

◎18 世紀時歐洲有些學者，對於當時的政治、經濟、社會現況提出許多新的想法和理念，後來的學者將這段時期稱為「啟蒙時代」。請回答第 38 題至第 41 題。

- 38、 小沅在讀歷史課本時發現，啟蒙時代的學者有好幾位都出身自法國，且他們的生存時間相距不遠，這引起了小沅的好奇，為什麼在這段時間多位法國學者紛紛提出新的政治學說理論。請問，下列哪一個敘述最可以解答小沅的好奇？
(A)這段時期的法國人突然變得很理性，知道必須運用理性的方式來改善政治現況
(B)法國自古以來就一直採行民主，透過以民為本的方式來維持政治運作
(C)這些法國學者因為開始大量閱讀中國的書籍，吸收了許多新的概念
(D)這些學者經歷了法王路易十四所建立起的專制，因此提出不一樣的統治理論。

下方方框內的這些啟蒙時代學者所提出的理念，也深深影響著許多國家的政治體制，臺灣也不例外。

建議選項： (A)狄德羅 (B)亞當斯密 (C)盧梭 (D)伏爾泰 (AB)孟德斯鳩 (AC)洛克

以下為《中華民國憲法》的部份條文，請選出這些條文最有可能是採用了哪一位學者的想法。

- 39、 第 2 條 中華民國之主權屬於國民全體。
40、 第 11 條 人民有言論、講學、著作及出版之自由。
41、 第 15 條 人民之生存權、工作權及財產權，應予保障。

公民科部分 命題教師:黃清銓

一、課本習作改編基礎題(每題 5 分，共 30 分)

就業與失業都需具備工作的意願、能力與找工作的行動等條件，如果能夠順利獲得雇用，稱為就業；反之則為失業。判斷下列第 1-4 題的敘述，若為就業狀態，請填(A)；失業狀態，請填(B)；既非失業也非就業，則填(C)。

- 42、 晚上在飲料店打工未滿 14 歲的國中八年級學生。
43、 前往沐越餐廳面試服務生職位卻沒有被錄用的大學畢業生陳順家。
44、 獨資經營拉谷飯糰早餐店的拉古夫妻。

屏東科技大學鳥類生態研究所為了替老鷹發聲，透過屏東縣政府和東港鎮農會的協助，尋求農夫林清源先生的支持，透過耕種方式的改變，讓紅豆自然熟成。不過，這種方式提高的成本及延後採收所承擔的高風險，只能由農夫自行吸收損失，因此無法大量推廣。

全聯實業股份有限公司的董事長及總經理得知老鷹生存的困境，主動聯繫台灣猛禽研究會及屏科大鳥類生態研究所，以高於市價收購不毒鳥的『友善生態』紅豆，補貼農民產量損失，希望把屏東打造成老鷹之鄉。因此，有越來越多的農夫願意加入一同嘗試進行老鷹紅豆的耕種，推廣保育的概念。

全聯將『老鷹紅豆』製成麵包、銅鑼燒、紅豆湯等商品，銷售到台灣各地的全聯福利中心，廣受消費者歡迎，「老鷹紅豆銅鑼燒」甚至勇奪人氣熱賣商品 Top1，連全聯都感到意外。

- 45、 農夫林清源先生願意以無毒，自然熟成的方式耕種，即使這種耕種方式必須承擔提高成本及延後採收的高風險，仍然堅持下去。此行為符合下列哪種概念或倫理精神？
(A)符合比較利益法則 (B)發揮工作敬業精神 (C)分散投資風險 (D)保障員工權益
- 46、 「老鷹紅豆」廣受消費者歡迎，勇奪全聯的人氣熱賣商品 Top1。但「老鷹紅豆」相關產品的單價其實比一般相似產品要昂貴，故可以知道選擇購買「老鷹紅豆」相關產品的消費者，應該是贊同工業產品的生產過程，要符合人類社會與自然和諧的共生理念，主張按照自然過程來維持、開發社會經濟活動，產品的生產過程應該要盡量減少對環境造成傷害，甚至應該有利環境。此一認知的價值觀符合下列哪一個概念？
(A)符合供需均衡法則 (B)從事社會公益 (C)落實綠色消費 (D)符合能力負擔原則

47、右圖是我國的「環保標章」，該圖案代表的意義，下列敘述何者正確？(習作 p.57)



- (A)綠色樹葉代表「可回收、低汙染、省資源」之綠色消費觀念
- (B)環境是人類共有財產，使用可不受限制
- (C)貼上環保標章的商品代表企業享有生產專利
- (D)自然環境資源是取之不盡、用之不竭的

二、圖表應用進階題(每題 5 分，共 40 分)

台灣積體電路製造 (英語: Taiwan Semiconductor Manufacturing)，簡稱**台積電**或**TSMC**，是一家晶圓代工半導體製造廠，總部位於臺灣新竹科學園區，主要廠房則分布於新竹市、臺中、臺南等臺灣各地的科學園區。1986年，由時任工研院院長的張忠謀帶著一群以出身工研院為主的工程師一同籌辦，張忠謀遂出任台積電董事長兼總裁。2019年7月，台積電在美國《財富》雜誌評選「全球最大500家公司」排行榜中，依獲利規模名列全球第39名。截至2019年12月，台積電為台灣證券交易所發行量加權股價指數最大成份股，約占台股大盤總市值比重23%，同時台積電多數股份皆為海外基金投資持有。目前台積電市值全球十大，半導體晶圓代工全球排名第一。

主要股東名稱	持有股份百分比
美國花旗銀行託管台積電存託憑證專戶	20.6%
中華民國行政院國家發展基金管理會	6.38%
花旗(台灣)商業銀行受託保管新加坡政府投資專戶	2.67%
美商摩根大通銀行台北分行受託保管歐洲太平洋成長基金	1.4%

48、**台灣積體電路製造**所屬的企業型態，具有下列何種優點？

- (A)經營決策的效率最高
- (B)公司經營者須承擔所有的債務
- (C)利潤獨享
- (D)容易籌得資金與吸引人才

49、承第7題，由上文判斷，**台灣積體電路製造**是屬於下列何種企業經營的型態？

- (A)獨資
- (B)合夥
- (C)合作社
- (D)股份有限公司

投資工具	投入金額 (萬元)	收回金額 (萬元)
股票	200	180
債券	100	102
基金	20	21
存款	50	50.25

50、右表是尚典家一年來理財投資結果的分析表。根據表中內容判斷，尚典家所選擇的各項投資工具中，何者的投資報酬率最高？

- (A)股票
 - (B)債券
 - (C)基金
 - (D)存款
- 【104.會考改編】

51、現任聯合國秘書長古特瑞斯在2017年就任後曾發表如右表中的言論。

請問：古特瑞斯上述的言論是要呼應下列何者應有何明確的行動？

- (A)各國政府應制定並執行環保相關法律，規範企業以達成永續發展。
- (B)各國政府應該依使用者付費原則，向企業徵收所得稅。
- (C)各大企業應該依能力負擔原則，主動誠實繳納污染稅。
- (D)所有消費者應付起回饋社會的責任，購買商品時應繳交污染稅。

第一，別再課所得稅，改課二氧化碳稅，請針對汙染課稅。
第二，別再補助化石燃料產業。
第三，2020年前，達成完全停止建造火力發電廠。

52、谷家為籌措出國旅遊所需的20萬元旅費，一家人分別就現有的錢提出「開源」的理財計畫。請問：下列哪一種做法最符合「安全、低風險」的投資原則？

- (A)哥哥：「把錢交給投資公司去操作股票，等股價上漲了再賣掉。」
- (B)姊姊：「購買政府公債，累積債券利息，等時間到了再贖回來。」
- (C)弟弟：「拿積蓄去購買樂透彩券，只要中大獎，旅費就全有了。」
- (D)妹妹：「去購買外國貨幣，等它升值再兌換成臺幣，賺取價差。」

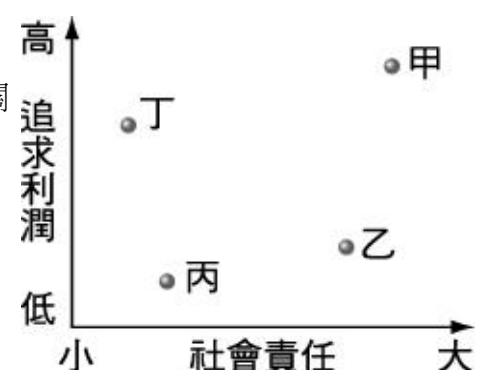
某國的海域中雖然蘊藏大量的貝類，但依據該國規定，每人每天僅能捕捉10隻，且外殼直徑需達12.5公分以上。除此之外，也嚴格禁止進入深海捕撈貝類，以確保海洋資源不虞枯竭。

53、右上方框內是某雜誌部分內容，根據內容判斷，該國的規定具有下列何種觀念？

- (A)節省成本
 - (B)經濟成長
 - (C)科技發展
 - (D)永續經營
- 【97.基測(二)】

54、追求利潤是企業經營的目標，但亦須顧及社會責任。右圖是社會責任與追求利潤的關係圖，圖中甲、乙、丙、丁的哪一個位置，最能代表企業與社會的共榮發展？

- (A)甲
 - (B)乙
 - (C)丙
 - (D)丁
- 【97.基測(一)】



- 55、從右方方框內的新聞事件簿中，可以得知臺塑高雄仁武廠檢測出地下水有毒物超標 30 萬倍，其實臺塑早已知道廠內地下水污染嚴重，卻未通報主管機關，也沒有採取緊急應變措施，導致污染持續擴大，環保署於是對此展開大動作開罰。請問：臺塑隱匿污染的行為，違反了何種倫理規範？
 (A)家庭倫理 (B)企業倫理 (C)工作倫理 (D)行政倫理

台塑污染新聞事件簿

台塑仁武廠污染事件是台灣塑膠工業公司在台灣高雄縣仁武鄉廠區的污染物超量事件。行政院環境保護署在 2009 年的檢驗中，驗出廠區的地下水及土壤含有超出國家標準含量的二氯乙烷、氯乙烯、苯及氯仿等物質。該工廠在 2006 年時已發現二氯乙烷從廢水集液池與水溝外洩至周遭的土壤，並且將污染源封閉，但直到 2009 年才在高雄縣政府的要求下才提出相關的整治計畫。

三、手寫題(本大題最高得分為 30 分)

班級:_____ 座號:_____ 姓名:_____

(一) 請回憶本次段考上課中所播放的第二部影片『智能(AI)點送餐系統』的內容，並回答下列兩小題。

1.在此類 AI 系統模式之下，不論是餐廳裡，或是其他職場中，哪些員工的需求量不會受到影響而減少，甚至還有哪些職業(工作)會需要更多的員工來應付越來越的工作業務量？(2 分)

2.上述這些不會被 AI 取代的職業，是因為具備了哪些『工作能力』和『行為表現』？(4 分)

3.此類 AI 模式是因為解決了現今和未來社會的哪些問題，甚至創造了哪些利於人類社會的好處，所以才會越來越盛行呢？(4 分)

(二)認識了 RCA 事件後，以同心理的角度思考，假如你各是下方這五個人物或角色時，你想對誰說哪些話？
 (本題最高得分分數為 20 分)

假如你是....	你想對誰說話 (下列 5 格若沒寫，後方相對應的 5 格則不予記分)	你想對 她/他/它 說些甚麼？ (以下每隔最高得分 5 分)
1.生病的 RCA 員工		
2.RCA 公司老闆		
3.台灣政府		
4.台灣的土地		
5.桃園市的市民		

(社會科所有試題結束，請再檢查班級姓名座號)