

宜昌國中 110 學年度上學期 第一次段考 七年級社會科試題

一、選擇題(每題 4 分，共 80 分)

命題教師:黃清銓

1.(蘋果即時新聞報導 2018/09/10) 苗栗就讀高二的少女「小玲」控訴父親偏心、重男輕女，與弟弟的各種待遇嚴重不平等，且在家備受排擠、虐待及暴力管教。小玲的母親也親口自白與女兒有時常互毆情事，社工多次介入協調輔導後均無效。兩人看來都已經不適任小玲的監護人，應該立即聲請法院開庭審理，請求法院宣告停止小玲親生父母的『_____』行使，以防小玲所受損害繼續擴大。請問:上文中的『_____』應該填入何者最正確?

- (A)受教權 (B)隱私權 (C)親權 (D)名譽權

2.(CTWANT 國際新聞 2021 09 27)瑞士的司法部長卡零 (Karin Keller-Sutter) 說:「在瑞士，誰相愛，誰想結婚，誰就可以結婚。不管是兩個男人，兩個女人，還是一男一女。」瑞士在 1942 年起將同性戀除罪化，該國於 2021 年 9 月舉行公投以 64.9% 得票率通過，此項公投通過後實施的政策將使上述瑞士司法部長所講的話成真。請問，此一政策和下列哪個國家的政策相同?

- (A)中國近年來在演藝圈實施的打擊『娘炮』政策 (B)汶萊法院宣判對女性同性戀者判 10 年監禁
(C)台灣司法院釋字第 748 號同性別者可登記結婚 (D)非洲尼日有以石刑砸死同性戀的法律

3.(自由時報 2019 年 7 月 22 日)新北市板橋高中日前召開校務會議，決定放寬服裝儀容規定，從新學年起，男、女學生都可以穿制服裙上學，創下全國首例。各界對於男學生能不能穿裙子上學有不同意見，有家長認為，學校是教導規矩的地方，應穿著合宜，且擔憂會發生有男性假冒女性進入女廁而導致校園安全；兒少團體希望大眾尊重兒少表意權；學生也有不同意見，有人認為學校是相對保守的地方，標新立異的行為可能被放大檢視；但也有學生希望破除『_____』，不以穿著來判斷對方的生理性別或性別認同。請問上述新聞中的『_____』，填入下列何者最為正確?

- (A)校園霸凌 (B)性別歧視 (C)性別偏見 (D)性別刻板印象

4.我國憲法規定除現行犯外，人民即使有犯罪行為，皆須依照法定程序才可逮捕拘禁。此種規定的主要目的應為下列何者?

- (A)讓個人擁有不受限制的自由 (B)避免他人或政府不當的侵害
(C)讓政府有充分時間確認嫌犯 (D)確保犯罪者獲得生存的保障

5. 西元 1955 年 12 月 1 日，一位黑人女子坐上美國 蒙哥馬利市(Montgomery)的一輛公共汽車，當時公車前排設為白人座位，後排設為黑人座位，若白人沒位子坐，黑人必須起身讓座，但該名黑人女子拒絕讓座，竟遭到逮捕。這起事件激起當地黑人的憤怒，他們抗議公車上施行隔離政策，而發起抵制搭乘的運動。上述黑人民權運動主要是展現何項精神?

- (A)政府對於弱勢群體給予生存保障 (B)社會提供個人不受限制的自由權
(C)政府只需要保障多數族群的權利 (D)要求人人應有平等受尊重的權利

6.我國針對性別不平等的現象，制定了許多法律來加以改善。下列在不同情境或場所中發生的性別不平等現象，以及處理時適用的法律配對，何者正確?

選項	現象說明	適用法律
(A)	阿楓請產假，公司同意但要求復職後須減薪以彌補公司的損失	性別工作平等法
(B)	阿青任教學校的長官常在公開場合講黃色笑話，讓人很不舒服	性別平等教育法
(C)	小庭上班時，有同事多次藉機摸他的手和臀部，讓他感到生氣	性騷擾防治法
(D)	小孟代表學校球隊出賽，教練常藉個別指導名義對她毛手毛腳	性騷擾防治法

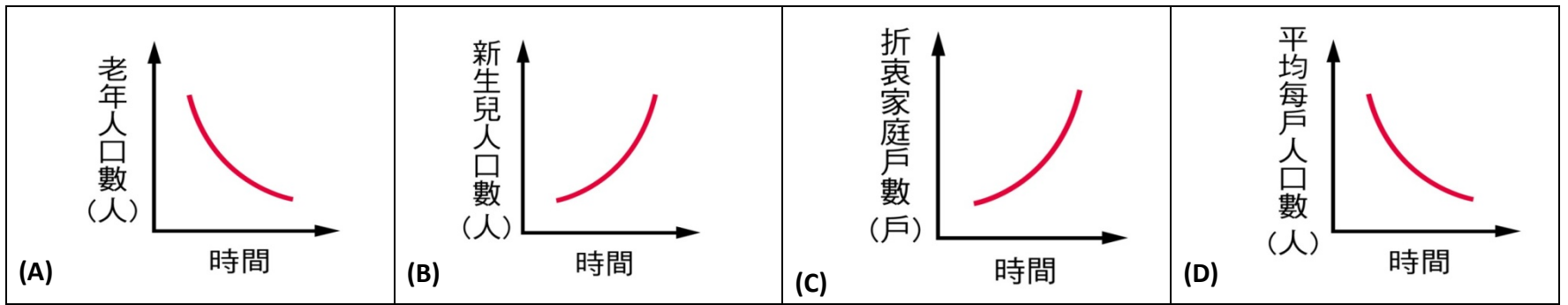
7.右表是我國西元 2018 年男、女性常見的名字統計前十名。從表中名字常出現的字，可以看出家長對男、女性小孩的期待。這種命名的意涵顯示了下列哪一種性別概念?

- (A)生理性別
(B)社會性別
(C)性別霸凌
(D)性別歧視

2018 我國前 10 大常見名字


男性	女性
家豪 1	淑芬 1
志明 2	淑惠 2
俊傑 3	美玲 3
建宏 4	雅婷 4
俊宏 5	美惠 5
志豪 6	麗華 6
志偉 7	淑娟 7
文雄 8	淑貞 8
承翰 9	怡君 9
冠宇 10	淑華 10

8. 婚姻價值觀的改變，使得現代人對於婚姻與家庭的選擇愈來愈多元化。例如：許多人選擇不婚、晚婚或結婚不生小孩，因此有學者認為此種現象代表家庭的功能正在轉變當中。下列何種變化的趨勢可能與此種家庭功能轉變有關？



9. 右圖為碩民與親屬外出旅遊所住的房間配置示意圖，已知碩民的堂哥住在甲房間，碩民的姐姐住在乙房間，父親住在丙房間，舅媽住在丁房間。上述碩民與甲、乙、丙、丁四個房間內的四人之間依序存在哪些親屬關係？

- (A) 旁系血親、旁系血親、直系血親、姻親
- (B) 旁系血親、直系血親、直系血親、姻親
- (C) 法定血親、旁系血親、直系血親、收養
- (D) 姻親、法定血親、直系血親、旁系血親



10. 平平家住的社區住著王姓夫妻及其年幼小孩，平平經常在深夜聽見他們夫妻吵架摔家具、玻璃碎裂聲，以及小孩驚恐淒厲的哭喊聲，甚至看到王太太臉上被施暴的瘀青傷痕，令平平感到害怕，很想打電話報警處理。若依我國相關法令規定，下列針對上述案例的敘述，何者最正確？

- (A) 王先生毆打妻兒屬家務事，政府機關無法介入
- (B) 王太太可親自或由親屬經由警察機關或社會局向地方法院申請保護令
- (C) 目睹家暴的孩童未被直接攻擊，故不在家暴防治法的保護範圍
- (D) 王太太只有哭喊而無求救，因此平平不便干涉

11. 課堂中老師請四位同學報告民法關於配偶平權的規定。下列哪一位同學的報告內容最正確？

<p>(A) 未成年子女姓氏，以從父姓為原則。</p>	<p>(B) 夫妻結婚後，原則上以夫之住所為住所。</p>	<p>(C) 夫妻婚後，妻以從夫姓為原則，若另有約定，則從其約定。</p>	<p>(D) 夫妻可以選擇採用何種財產管理分配制度。</p>
-----------------------------	-------------------------------	---------------------------------------	--------------------------------

12. 新聞報導，行政院擬修法規定兒女惡意不扶養父母，有重大虐待、侮辱或無正當理由不扶養，經父母以遺囑、書面、錄音或錄影等方式舉證後，經 (甲)機關判決，兒女將喪失(乙)權利。上文敘述甲、乙分別為以下何者？

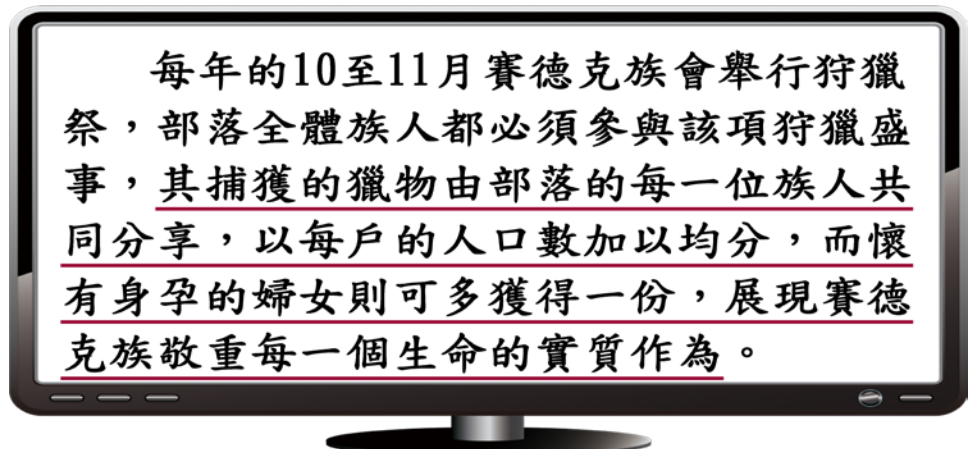
- (A) 甲：警察局、乙：繼承
- (B) 甲：社會局、乙：親權
- (C) 甲：法院、乙：繼承
- (D) 甲：法院、乙：親權

13. 政府為保障學生的學習權益，明確規範校園中的學生權利，下列相關之說明何者最正確？

- (A) 校園霸凌行為屬於偶發事件並不會觸犯法律
- (B) 教師對於學生攜帶法定的違禁品也不得沒收
- (C) 老師可因干擾學習的情形暫時保管學生物品
- (D) 任意翻動他人書包侵害到其學習方面的權利

14. 右圖新聞報導內容的畫線處，代表了原住民族部落的何種精神？

- (A) 崇敬祖先的部落倫理
- (B) 互助扶持的共享精神
- (C) 各司其職的部落自治
- (D) 復興文化的在地認同



15. 臺灣首支國產火箭「飛鼠一號」在發射前，獲得當地原住民族召開部落會議認可後，也將由部落舉行傳統祈福儀式，請祖靈保佑發射順利。上述政府或私人於原住民族土地或部落及其周邊一定範圍內之公有土地從事土地開發、資源利用等，應諮商並取得原住民族或部落同意或參與，這是依據下列何項法律的規定？

- (A)國家語言發展法 (B)中華民國憲法 (C)原住民族教育法 (D)原住民族基本法

16. 近來社區治安問題頻傳，居民著手繪製社區安全檢測地圖，積極與學校單位及附近店家共同合作，標示並記錄社區內的治安死角，向相關單位申請加裝路燈與監視器，並組織守望相助巡守隊，以尋求社區治安的改善。從上述內容判斷，下列何者是解決社區問題的關鍵因素？

- (A)政府補助措施 (B)店家積極協助 (C)居民主動參與 (D)警察加強巡邏

17. 閱讀右圖所示內容，在公開場所或網路上以不實或不雅的詞彙和言語攻擊、謾罵或侮辱他人，會侵害他人的哪一種權利？

- (A)言論自由權 (B)名譽權 (C)隱私權 (D)智慧財產權



18. 下列哪件公共事務適合在各班級開班會時進行討論，並參與做成決定？

- (A)上課遲到進教室的處理方式
(B)全校的午餐菜色和鹹淡口味
(C)週末假日可否到校打球運動
(D)班級教室是否開放提供總統選舉投票使用

19. 請閱讀下列電影介紹短文並回答問題：

南韓電影「82年生的金智英」引發社會關注，主角採用當年的菜市場名字，顯示從小在家中地位不如弟弟，奶奶在重男輕女的觀念下，把最好的都給弟弟，也讓弟弟享有不用做家事的特權。出了社會找工作，在南韓企業舊習慣下女性應徵者錄取率僅29.6%的高競爭下，好不容易擠進一家小型公司上班，儘管勤奮付出，升遷卻仍不如同期進公司的男同事們。結婚生子後，社會風氣傾向「男主外、女主內」，她只好辭職在家帶小孩，想忙裡偷閒帶著孩子外出喝杯咖啡，卻被旁邊的男性上班族譏笑是「媽蟲」，意指拿著老公辛苦賺來的錢在這邊悠閒度日，連蟲都不如。

根據上文中女主角金智英所遭遇的狀況判斷，下列哪一項敘述最為正確？

- (A) 金智英從小在家中受到奶奶重男輕女的對待狀況，在台灣可用『家庭暴力防治法』來改善
(B) 金智英工作期間的遭遇，呈現出公司在『貢獻肯定』上呈現出男女性別不平等的現象
(C) 在台灣可依『性騷擾防治法』處理上文中劃線處譏笑金智英為『媽蟲』的這位男性上班族
(D) 由以上內容可以看出對於性別不平等的現象，世界各國都不會用法律的方式來改善

20. 請閱讀下列短文並回答問題：

人口老化已是現今社會的普遍現象，根據我國國家發展委員會(簡稱國發會)推估，到民國150年我國老年人口比例將逼近34%。這場無聲無息展開的「銀色海嘯」將對社會生活的各個層面帶來影響。例如：勞動力供給出現失衡的現象。

根據國發會報告指出，工作年齡人口自民國105年起即開始減少，未來亦將隨總人口高齡化趨勢影響勞動力供給的規模。青壯人口逐漸減少，高齡人口逐漸增加，也將對青壯人口造成重大負擔。但也有人看到高齡社會帶來的商機，針對高齡人口推出客製化商品，熱銷結果也讓業者賺進大把鈔票。學者指出，面對此種不可避免的趨勢，政府宜及早提出因應對策，否則真的等到那一天，「銀色海嘯」所帶來的重大衝擊將遠遠超過我們現在的想像。

根據上文判斷，下列何者是未來我國最可能會產生的社會現象？

- (A)人口結構將以青壯年為主，故逐漸年輕化
(B)待扶養的幼年人口減少，有利於經濟發展
(C)年輕人結婚率增加，故新生兒出生率也提升
(D)未來勞動力可能面臨短缺，造成經濟隱憂

(試題尚未結束，背面尚有手寫題，並記得寫上班級、姓名、座號)

三、手寫題(共 20 分) 班級:_____ 座號:_____ 姓名:_____

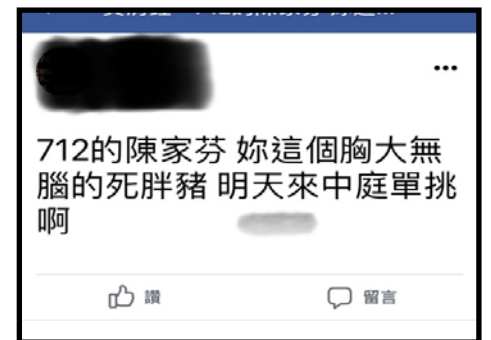
(一)根據上一頁第 20 題的內容判斷，文中為業者賺進大把鈔票的商品可能有哪些？請透過下列的引導試舉一例，並說明理由。

商品	理由說明
大鍵盤手機	可以客製化生產大字體、大按鍵、大聲音以及求助等功能的手機，方便銀髮族辨識及使用。
(2 分)	(2 分)

(二) 1.請寫出和你長久同住的家庭成員有哪些人?(2 分)

2.根據上題你的回答內容，請判斷目前你家的家庭型態最符合課本內提到的九種家庭型態中的哪一種?(2 分)
(第一小題未寫出家庭成員，則第二小題不給分)

(三) 面對如右圖中這類網路上以不實言語的謾罵、汗巖，甚至以威脅語氣相約要與你單挑的校園網路霸凌，請具體寫下你認為最好的處理方式?(4 分)



(四)歐洲的匈牙利通過強制收容街友的法律，要求街友必須入住到政府設置的收容所，若是街友拒絕前往收容所，將會面臨驅趕、沒收私人物品，甚至坐牢等處罰。你認為匈牙利政府的作法是侵犯人權？還是保障人權？請先勾選選項後再簡述你的理由。

選項	理由 (4 分)
<input type="checkbox"/> 侵犯人權	
<input type="checkbox"/> 保障人權	

(五) [自由時報\即時新聞/2021/09/18]

南投縣政府稅務局 30 多歲蔣姓女稅務員，被指出從 2017 年 8 月間陸續請了產假、育嬰假、特休假，連續請假 740 多天，近 4 年沒上過 1 天班，尤其蔣女原定 6 月復職，卻又因故請了防疫照顧假到 8 月，9 月起又繼續請育嬰假，讓原本期待蔣女復職的同事錯愕又不滿，粗估蔣女 4 年至少領薪 8、90 萬元。

南投縣稅務局無奈表示，蔣女都是依公務人員請假規則請假。稅務局指出，公務員依照法令可請育嬰假，到子女滿 3 足歲，育嬰假的前 6 個月給予本俸（3 萬 325 元）的 6 成薪，之後 2 年半不給薪。南投縣長林明濤則表示，蔣女此種行為雖不違法，但相當不應該。未來若有類似案例，會請主管加強道德勸說，嚴格管控。

1.依照南投縣稅務局指出，公務員依照法令可請育嬰假。就你在這次段考範圍內所學過的內容，上述的法令有可能是哪一個台灣的法律？(2 分)

2.行政首長的言行及決策常會成為一般民眾做事時的重要參考依據。根據上述新聞報導的內容，「南投縣長林明濤表示，蔣女此種行為雖不違法，但相當不應該。未來若有類似案例，會請主管加強道德勸說，嚴格管控。」請問：你認為上述南投縣長的說法，對於現今台灣為了要提高生育率，改善少子化，而營造友善的工作職場政策是否相違背？你若是南投縣長，你會用何種說法和態度面對此一事件？(2 分)

(社會科所有試題結束)