

宜昌國中 110 學年度第一學期第三次段考 七年級 社會科試題

命題教師:邱騰玄

範圍:第二單元歷史

班級:___座號:___姓名:___

一、單一選擇題，每題 2.5 分，共 40 題

1. 請問下圖一，出自課文 99 頁，其塗黑處，應為何？
(A)鄭芝龍 (B)陳永華 (C)郭懷一 (D)林爽文
2. 請問下圖二，出自課文第 110 頁，其塗黑處，應為何？
(A)麻豆社 (B)新港社 (C)牡丹社 (D)霧社

<p>圖一</p> <p>荷蘭人為了增加米、糖等貿易商品的產量，招募漢人來臺開墾。但荷蘭人對漢人的管制非常嚴格，因此常發生反抗事件，其中以西元 1652 年的 [塗黑] 規模最大。</p>	<p>圖二</p> <p>荷蘭人來臺後，為宣揚基督教教義，在轄區內設立教堂、學校，部分原住民開始逐漸接受基督教信仰。傳教士為了便於傳教，以羅馬字母拼寫 [塗黑] 的語言，教導原住民閱讀及書寫，</p>
--	--

3. 請問下圖三，出自課文第 135 頁，其塗黑處，應為何？
(A)馬雅各 (B)馬偕 (C)陳永華 (D)戴潮春
4. 請問下圖四，出自課文第 114 頁，其塗黑處，應為何？
(A)鄭經 (B)顏思齊 (C)朱一貴 (D)施琅

<p>圖三</p> <p>[塗黑] 是第一位來臺從事醫療工作的傳教士，他以臺南、高雄地區為主要傳教範圍，對基督教在南臺灣的傳播極有貢獻。</p>	<p>圖四</p> <p>清帝國攻取臺灣後，臺灣的棄留問題成為朝廷爭議的焦點。許多大臣主張放棄，認為臺灣長時間以來聚集不少盜賊，管理不易且會增加政府財政負擔。但 [塗黑] 卻認為臺灣物產豐富、戰略地位重要，保有臺灣，可確保中國大陸東南沿海的安全。</p>
--	---

5. 承上題，請問當時是清朝的哪一位皇帝採納了這位大臣的建議，於 1684 年正式的將台灣納為版圖？
(A)康熙 (B)乾隆 (C)嘉慶 (D)光緒

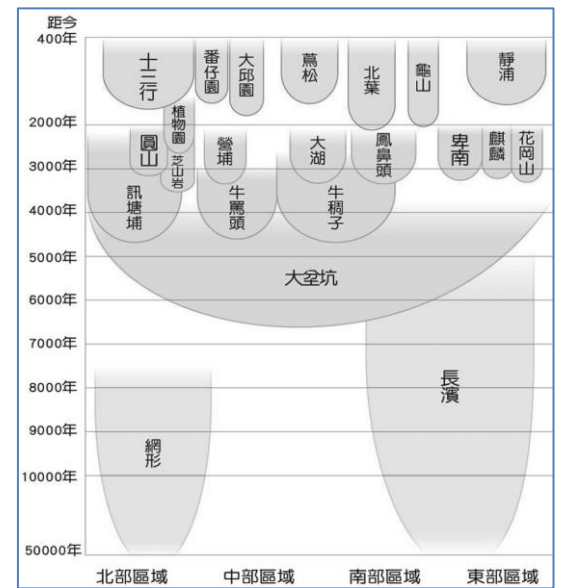
6. 臺灣原住民族屬於南島語族，其由來與發展的特色為何？
(A)南島語族目前仍是臺灣人數最多的族群
(B)南島語族為臺灣的舊石器時代文化的創立者
(C)南島語族的分布範圍很廣，主要是在歐亞大陸活動
(D)南島語族於數千年前陸續遷至臺灣，又擴散到其他地區

7. 右圖是卑南文化遺址出土的人獸形玉飾，考古學家也在宜蘭、臺北等地區的新石器文化遺址，都發掘出形狀類似的玉飾。關於這種情況，下列何者推論最為合理？
(A)玉石不是臺灣的特產，這些應該都是從海上貿易而來
(B)這種形狀類似情形只是偶然發生，沒有特殊歷史意義
(C)這顯示出遠古時代的臺灣與中國大陸人們有密切往來
(D)臺灣島內玉器形式的相似，反映出島內文化間的交流



8. 曉晴參加臺灣東部文化之旅，聽到解說員提到：「根據學者推測，這些人已有群居生活，但是不會製作陶器，也不懂農耕技術，主要的生活工具只有敲打方式製作的石器，以及用動物骨頭加工的角度。」據此推斷，這應是哪一時代的先民生活？
(A)舊石器時代 (B)新石器時代早期 (C)新石器時代晚期 (D)金屬器時代晚期

9. 胖虎看到一篇關於史前文化的報導，文中提到考古隊在台灣北部八里某處挖掘出先民使用過的陶罐、鐵製器具等，由這些出土文物，可看出此文化遺址屬於哪一時代？
 (A)舊石器時代 (B)金屬器時代
 (C)新石器時代早期 (D)新石器時代晚期
10. 根據右圖，距今兩千年前的臺灣進入另一新階段，這是因為何種技術出現？
 (A)製造陶器 (B)磨製石器 (C)製造玻璃 (D)煉鐵技術
11. 根據右圖分析，下列哪一史前文化的遺址地點遍布臺灣各地區？
 (A)長濱文化 (B)大坌坑文化 (C)卑南文化 (D)十三行文化
12. 鄭氏在臺期間，除了拓墾活動外，還透過何種方式來維持財政需求？
 (A)對外貿易 (B)課徵重稅
 (C)對外侵略 (D)財政改革
13. 清代臺灣在一場民變過後，皇帝為了紀念此事，一方面將諸羅改名為嘉義，一方面在府城外豎立了九座紀念碑。請問：這位皇帝所慶祝的是順利平定哪場民變？
 (A)郭懷一事件 (B)朱一貴事件
 (C)林爽文事件 (D)戴潮春事件
14. 康康到墾丁國家公園旅遊，在屏東縣車城鄉看到一座墓碑上寫著「大日本琉球藩民五十四名墓」。請問：這個墓碑記載的傷亡者與哪一歷史事件有關？
 (A)郭懷一事件 (B)林爽文事件 (C)牡丹社事件 (D)清法戰爭
15. 鄭氏治臺期間，原住民族曾多次起兵反抗事件，最主要原因，應與原住民的何種遭遇有關？
 (A)被迫配合出兵征伐 (B)原住民娶妻不容易
 (C)生活空間受到侵擾 (D)被迫集體開墾荒地。
16. 清代臺灣吏治不良，駐防軍隊軍紀敗壞，加上民間祕密結盟風氣盛行，經常發生反抗官府的民變。請問：下列何者最能解釋民變的意義？
 (A)奴隸反抗雇主 (B)人民反抗官府
 (C)地方反抗中央 (D)佃農反抗地主
17. 鄭氏時期靠著對外貿易使得經濟得以發展，請問：下列哪一組貨物是屬於當時進口至台灣的主要貨物？
 (A)蔗糖、鹿皮 (B)蔗糖、布匹
 (C)軍火、布料 (D)軍火、蔗糖
18. 課程中有介紹到「最早吃到西餐的臺灣原住民」，指出在每年「地方會議」的議程中，最後安排的是宴飲用餐時間，受邀的原住民也一同用刀叉享用燻烤、烹煮的獸肉和魚肉。請問，此處介紹宴請原住民用西餐的是何國人？
 (A)荷蘭人 (B)西班牙
 (C)葡萄牙 (D)日本人
19. 《重修臺灣縣志》記載：「客頭夥同不肖船家，用溼漏小船載運數百人，並讓他們全擠入艙中，將艙蓋封釘，不讓這些人出來。船隻乘著黑夜出洋，若遇到大風浪，可能會船翻人亡。快到岸時，擔心被人發覺，因此靠近沙岸時，就會將人群趕下船，稱為『放生』」。根據這段敘述，符合台灣歷史發展的哪一情景？
 (A)移民偷渡過程相當困難且危險重重 (B)移民來臺普遍出現拋妻棄子的行為
 (C)渡臺禁令導致臺灣的性別比例失衡 (D)清廷消極管理使臺灣社會動盪不安
20. 承上題，為什麼這時期的船家載人來台灣會怕被台灣的官府發現？
 (A)荷蘭嚴控口岸，以防敵人潛入 (B)明朝海禁政策，禁止人民出海
 (C)清朝政府實施渡台需申請制度 (D)鄭氏政權推行鎖國政策。
21. 為了準備歷史報告，凱恩蒐集到下列資料：「當時，一群有相同血緣關係的同姓者，為求聯誼團結，以他們第一代來臺的祖先或其後代為祭祀對象，並由祖產中提撥部分資產作為祭祀費用。」請問：凱恩歷史報告的主題應為下列何者？
 (A)平埔族群的祭典儀式 (B)荷蘭統治下的基督教規範
 (C)清帝國統治時期的宗族組織 (D)清帝國統治時期的郊商組織
22. 在清朝統治時期，曾有記載如下：「這個地方製茶工房林立，茶葉產期，茶行必須雇用許多女工，多則五、六十人，少則二、三十人，甚至有漳、泉婦女來此短期工作，每日工資四、五錢不等」。請問：這個地方應是下列何地？
 (A)艋舺 (B)大稻埕 (C)安平 (D)打狗



23. 在一份官方文書中提到：

「(本藩)已來臺開闢田野，要求各鎮大小將領就地進行拓墾活動，並察看可建築房屋的地基，大家總必須創建田宅等，以留給子孫。但一勞永逸的方法，是以一己之力經營，不准侵奪原住民及百姓的耕地產業。希望大家都能切實遵守，如有違反禁令者，必定依法懲處，此內容將在官府頒行讓大家知曉。」由資料的內容判斷，可知當時在臺灣採行哪項統治政策？

- (A)劃界封山 (B)軍屯政策 (C)渡台禁令 (D)開港通商

請閱讀下列資料並回答問題：

「茶」不僅是臺灣開港後重要的輸出品之一，現今也成為臺灣文化的一部分。世界各國「茶」的發音大致可分為接近粵語的 *chya*(ㄔㄧㄚ)跟閩南語的 *tê*(ㄊㄟ)兩種。例如：從大航海時代來到東亞貿易的歐洲國家，如荷、西、英等國，「茶」的發音接近都閩南語的 *tê*(如英語的 *tea*)。

24. 根據上文所述，荷、西、英等國「茶」的發音接近閩南語的 *tê*，最可能的原因是什麼？

- (A)開港通商後歐洲人來臺設立洋行 (B)閩南語的發音與歐洲語言系統同源
(C)清初實施海禁限制粵人出海經商 (D)當時的茶都直接由福建商人運至歐洲

25. 參考右圖，葡萄牙也是大航海時代的海上霸主，為什麼葡語中的「茶」是發近似粵語 *chya* 音呢？

- (A)葡萄牙占領以粵語為主的澳門 (B)葡萄牙人沒有接觸到閩南人
(C)開港通商後葡萄牙人沒有到臺灣 (D)葡萄牙為了與荷、西、英商品作區隔

26. 開港通商後，臺灣生產的茶葉大量運銷歐美等國，造成何種影響？

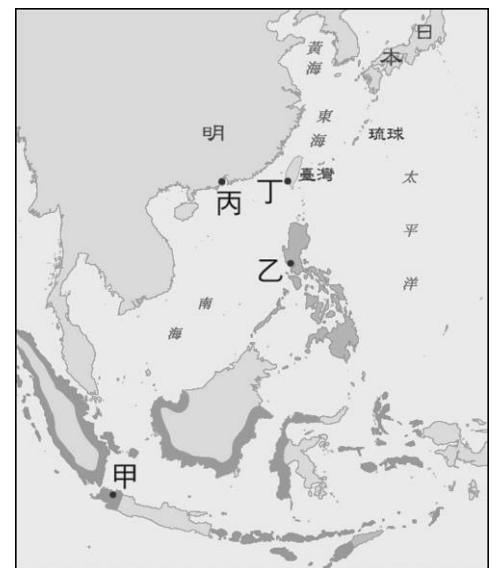
- (A)外銷茶葉的郊商，因此成為臺灣社會的領導階層
(B)促使臺灣東部大量開發，與原住民族發生大規模衝突
(C)帶動中北部城鎮的興起，臺灣經濟重心漸轉移到北部
(D)隨著安平港的開放，嘉南平原從此成為茶葉的主要產地

27. 荷蘭在亞洲貿易以聯合東印度公司為主體，其在亞洲最大的貿易總部，是在右圖中何處？

- (A)甲 (B)乙 (C)丙 (D)丁

28. 西班牙人來到亞洲後，以右圖中何處為根據地與中國進行貿易？

- (A)甲 (B)乙 (C)丙 (D)丁



閱讀下列短文後，請你做一個簡單的摘要。：

馬偕在五股傳福音時，曾貼出告示，若有 12 歲以上年輕人願意來讀書者，每個月要發 1 元白銀(當時 1 斗白米大約是 2 角錢)。因為讀書可以賺錢，就有百餘人來報名，馬偕教他們讀白話字，也做禮拜敬畏上帝，其中有一位叫蔥仔的女孩書讀得最好，領了 3 元的獎勵。後來蔥仔受洗，馬偕牧師給她改名為聰明(在臺語「蔥」與「聰」音相同)。

西元 1878 年 5 月 27 日，馬偕和張聰明於淡水英國領事館完成終身大事，婚後夫妻倆經常帶門徒四處遊行佈道，數年間先後在臺灣北部開設五十餘間教會，福音遍及基隆、蘆州、大龍峒、艋舺、三峽、羅東、礁溪、蘇澳，亦深入到平埔族群的區域。

摘錄自馬偕小故事—張聰明 <http://project.mmc.edu.tw/records/?q=node/13>

29. 這篇短文的情節是發生在什麼時期(When)？

- (A)十七世紀 (B)十八世紀 (C)十九世紀 (D)二十世紀

30. 這篇短文中，馬偕最可能在右圖哪一地方傳教(Where)？

- (A)甲 (B)乙 (C)丙 (D)丁

31. 根據上文描述判斷，馬偕在台活動期間若與耕種水稻的農夫互動，他最可能接觸到取用哪一個水圳水源來灌溉的農民？

- (A)曹公圳 (B)八堡圳 (C)貓霧寮圳 (D)瑠公圳

32. 馬偕為什麼要教年輕人讀書(Why)？

- (A)指導農耕技術 (B)教導閱讀聖經
(C)宣導政府政策 (D)協助對外貿易

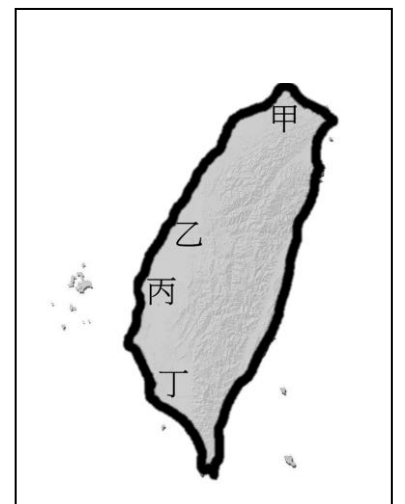
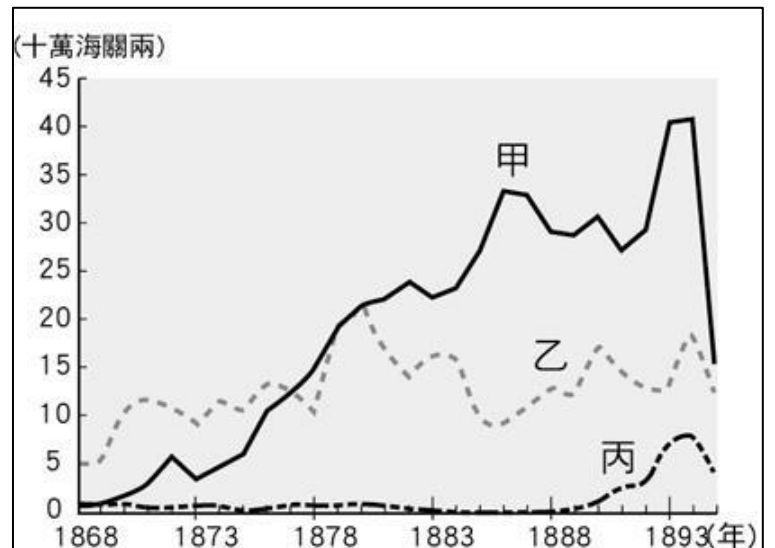


33. 清代臺灣行政區域經過數次改變，下列五張地圖分別代表清代五個不同時期的行政區域圖。請問行政區域的一連串調整，反映了什麼樣的統治特色？



- (A)清廷因應內憂外患展開行政調整 (B)政府針對原住民陸續，納入統治
(C)清廷隨水圳設施籌建而設官管理 (D)清軍勇猛善戰，逐漸擴大占領區
34. 在上圖丙中，清朝首度在東台灣設官治理－噶瑪蘭廳。請問蘭陽平原的開發與哪一位漢人有計畫的進入宜蘭地區的開墾有關？
(A)施琅 (B)陳永華 (C)吳沙 (D)劉銘傳
35. 在上圖丁中，清政府也將我們現在所在地花蓮歸入「卑南廳」治理。請問此時清政府是受到什麼因素刺激，所以強行進入番界設官治理？
(A)來台漢人日增，耕地與糧食漸感不足 (B)開港通商後對茶與樟腦需求大增
(C)反對政府的叛軍與番界原住民合作密切 (D)外國勢力密謀區域內原住民造反
36. 西元 1877 年(光緒 3 年)，清廷強行開闢水尾(今花蓮縣 瑞穗鄉)至大港口(今花蓮縣 豐濱鄉)的道路，引起原住民部落的反抗，結果當地的阿美族人被清軍殺害，史稱「大港口事件」。請問此事件，是在誰主政台灣時廢除劃界封山，且積極推動「開山撫番」政策而產生的衝突？
(A)劉銘傳 (B)沈葆楨 (C)施琅 (D)陳水華
37. 右圖中的甲、乙、丙分別是清代台灣開港通商後，主要出口商品的總值比較圖。請問圖中甲應是哪一個商品？

- (A)稻米
(B)鹿皮
(C)樟腦
(D)茶
38. 承上題，當甲、乙、丙三項商品成為台灣主要出口商品時，對台灣產生什麼樣的影響？
(A)一府二鹿三艋舺的地位更加穩固
(B)郊商的專賣利益獲得保障
(C)稻米的耕種面積大幅減少，產量銳減
(D)臺灣政治經濟重心逐漸由南部轉移至北部
39. 老師上課時，講解說：根據統計圖中顯示，乙是蔗糖。請問下列哪一項說明，會是老師的解說？
(A)蔗糖是台灣貿易值最大的商品
(B)樟腦與茶是開港通商後才成為出口商品
(C)蔗糖出口量曾高居世界第一位
(D)鹿皮取代蔗糖，成為台灣出口最多的商品。
40. 承上題，當時的糖出口，將以右圖中的哪一個港口為主要的輸出港？
(A)甲 (B)乙 (C)丙 (D)丁



1.	2.	3.	4.	5.	6.	7.	8.	9.	10.
C	B	A	D	A	D	D	A	B	D
11.	12.	13.	14.	15.	16.	17.	18.	19.	20.
B	A	C	C	C	B	C	A	A	C
21.	22.	23.	24.	25.	26.	27.	28.	29.	30.
C	B	B	A	A	C	A	C	C	A
31.	32.	33.	34.	35.	36.	37.	38.	39.	40.
D	B	A	C	D	B	D	D	B	D