

花蓮縣立宜昌國民中學110學年度第一學期第三次段考8年級社會科試題

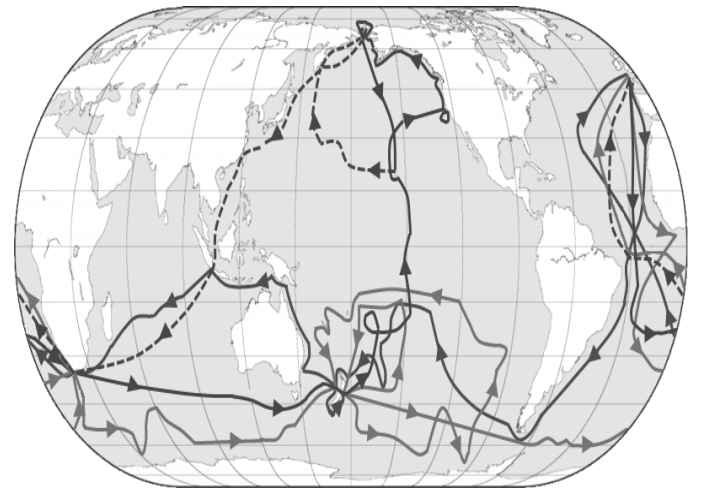
班級：_____ 姓名：_____ 座號：_____

地理科試題（每題4分，共計100分）

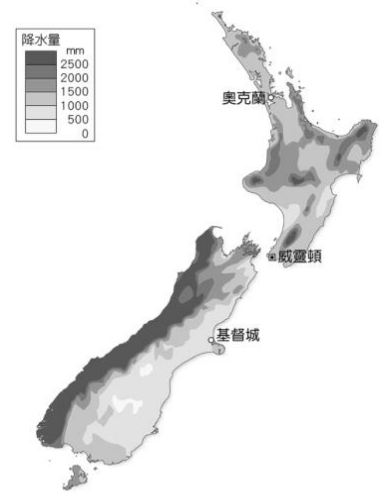
命題教師：林素葉老師

- 海洋奇緣故事背景取材於玻里尼西亞文化流傳已久的毛伊（Maui）半神人傳說故事，請問下列哪一海域為故事發生場景所在地？ (A)大西洋 (B)太平洋 (C)印度洋 (D)北冰洋
- 海洋奇緣中，生活於島上居民安居樂業自給自足，除了出海捕魚也會在島上種植作物，請問下列何者最有可能是島上傳統作物？ (A)葡萄 (B)甜菜 (C)小麥 (D)椰子
- 由海洋奇緣影片中發現，南島語族居民為優秀航海民族，請問當他們出海時是依據那些方式判斷方位，穿梭往來於各島嶼間？ (A)觀星象、海象 (B)衛星定位系統 (C)魚群領航 (D)各憑運氣尋找
- 除了傳統的農、漁業外，現在大洋洲三大島群國家，多以發展哪一種產業，來增加國家收入？ (A)畜牧業 (B)觀光業 (C)造船業 (D)資訊業
- 每年的8月1日為台灣「原住民族日」，西元2020年的原住民族日，政府舉辦了「南島民族論壇」，邀請許多大洋洲國家的代表參與討論，請問下列何者『並非』台灣邀請對象？ (A)帛琉 (B)澳大利亞 (C)馬紹爾群島 (D)諾魯

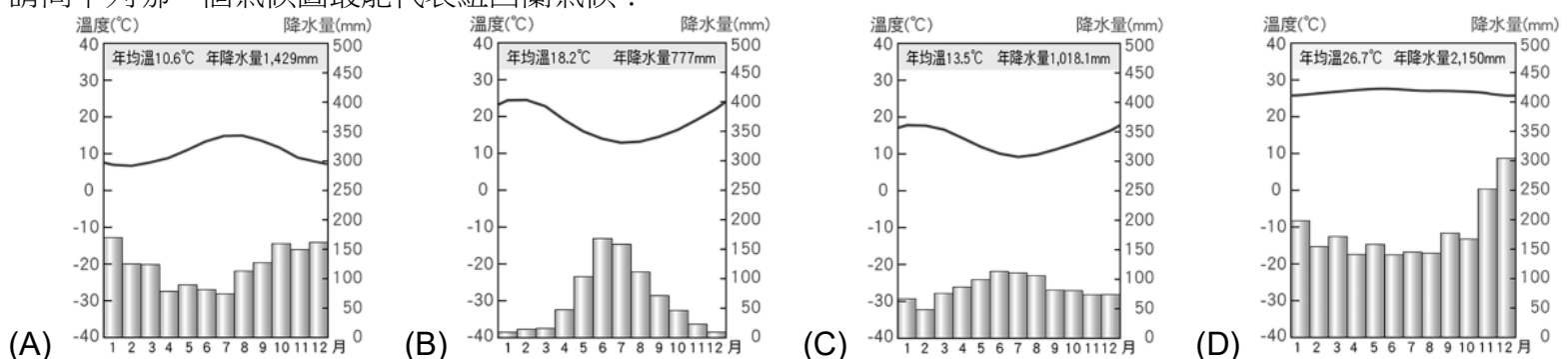
- 英國海軍上校詹姆士·庫克在在1768年至1779年間，三度奉命出海前往太平洋，帶領船員成為首批登陸澳洲東岸和夏威夷群島的歐洲人，也創下首次有歐洲船隻環繞紐西蘭航行的紀錄，右圖為三次航行路線，請問三次主要航行探險地區為下列何者？ (A)非洲 (B)南極洲 (C)大洋洲 (D)歐洲



- 比基尼環礁(Bikini Atoll)是屬於馬紹爾群島國的一個堡礁，由23個小島環繞著一個面積達229.4平方英里(594.1 km²)的潟湖組成。美國從1946年到1958年在此區共進行了20多次原子彈和氫彈的核試爆。後來因核爆被視為荒地，目前人類仍無法在當地居住，不過科學家卻發現，現在這個地方的海洋生態，居然欣欣向榮；2010年7月31日被聯合國教科文組織列為世界遺產。請問下列敘述何者正確？ (A)文中敘述群島位居板塊交界，屬於火山島 (B)該群島屬於世界遺產因此島上居民眾多觀光旅遊業發達 (C)目前美國仍然不定期於該區進行核子試爆 (D)比基尼環礁因少了人類干擾海洋生態反而欣欣向榮
- 紐西蘭島內火山地形豐富、飽含資源，肥沃的火山土壤、溫和宜人的氣候，加上水源天然乾淨，都提供櫻桃適宜的生長條件。每年台灣夏季享用完北美的櫻桃後，就換紐西蘭櫻桃開花、等待結果，因此在台灣新鮮的紐西蘭櫻桃常成為高檔春節禮物，請問為何在台灣冬季能買到新鮮的紐西蘭櫻桃？ (A)紐西南位居南半球，季節與台灣相反 (B)台灣進口紐西蘭冬季時冷凍保存的櫻桃 (C)櫻桃夏季開花，冬季剛好為盛產期 (D)因紐西南獨特火山地形，因此一年四季皆盛產櫻桃
- 紐西蘭是極限運動的發源地，空中跳傘(Skydiving)、高空彈跳(Bungy Jump)、冰河健行(Heli Hike)、峽谷鞦韆(Nevis Swing)、噴射快艇(Jetboat)、活火山滑雪、激流飛艇等，每一項都讓人腎上腺素噴發。請問若想體驗活火山滑雪行程，請問應該前往下列哪一地區？ (A)紐西蘭北島 (B)夏威夷群島 (C)紐西蘭南島 (D)台灣島
- 右圖為紐西蘭年降雨量圖，請問南島降水量的分布主要受下列哪一項因素影響？ (A)洋流 (B)氣壓 (C)緯度 (D)風向



- 請問下列哪一個氣候圖最能代表紐西蘭氣候？

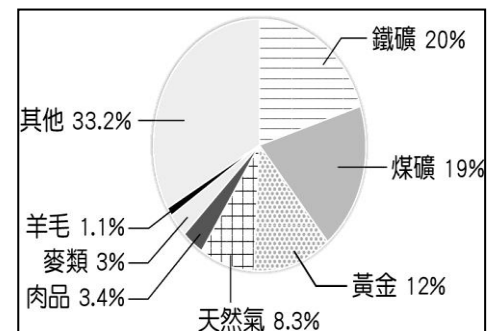


12. 紐西蘭人口僅約臺灣的 1/5，內需市場不足以支撐產業發展，因此許多農牧產品都以出口為主。請問新鮮蔬果能成為紐西蘭主要出口商品之一，與下列何者關係最密切？

- (A)距離歐亞市場較近 (B)蔬果種類具有獨特性 (C)產品不易腐壞 (D)產季與北半球相反

13. 世界上僅存的兩種卵生哺乳類特有動物：針鼯、鴨嘴獸，只生存於澳洲；同時澳洲也是有袋動物主要分布區。請問：澳洲擁有許多特有生物的原因為下列何者？

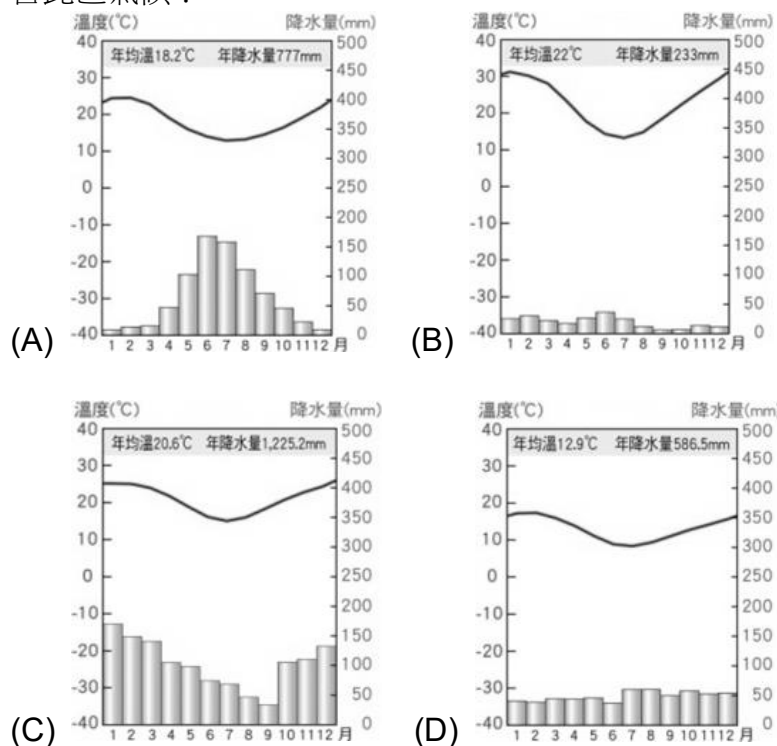
- (A)地形高低起伏落差大 (B)氣候複雜且多樣
(C)跨越經緯度範圍廣大 (D)距其他大陸遙遠地理位置孤立



14. 右圖為西元 2017 年澳洲出口貨物的統計資料。請問：這張圖顯示出澳洲產業的特色為何？ (A)資源出口大國 (B)勞動力很缺乏 (C)曾受英國統治 (D)粗放的農牧業

15. 澳洲 2019-20 年野火事件造成的死亡人數達 33 人，焚燒面積超過 1100 萬公頃，推估動物死亡數為 10 億，是澳洲近年來最嚴重的野火事件。失控大火造成嚴重空污，雪梨天空一片橘紅，濃煙甚至飄散到 2,000 公里外的紐西蘭，使原本雪白無瑕的冰川，一夜間就被覆蓋上一層焦糖色的塵埃，紐西蘭的天空中也佈滿煙霾，就連太陽也都變得像一顆金紅色火球，讓當地居民為之驚恐。請問導致紐西蘭出現異常現象，是受到下列哪一個盛行風向的影響？ (A)東南信風 (B)西風 (C)東北季風 (D)西南季風

16. 右下圖為澳洲的農牧業分布圖。甲~己代表不同的土地使用分區。戊為澳洲主要的牧羊帶，請問下列哪一張氣候圖最符合此區氣候？



17. 承上題，酪農業(farming)是指溫帶濕潤氣候區，農民在狹小的土地上種植牧草或飼料作物，飼養乳牛提供鮮乳或乳製品，以供應都市居民大量需求。請問澳洲哪一區域以發展酪農業為主？ (A) 甲 (B) 乙 (C) 丙 (D) 己

18. 台灣年輕人瘋迷 working holidays 近幾年來逐漸攀升，尤其是大學畢業到 30 歲這段期間，每 5 個人當中就有超過 1 個以上的人曾經有海外打工經驗，不管是因為想要拓展國際視野、跳脫舒適圈、工作倦怠想休息，抑或是存一桶金，青年出走已經成為近期討論熱門話題；而眾多打工度假國家中又以「澳洲」佔大多數，主要是澳洲打工無簽證名額限制，且簽證最長可達 3 年。請問澳洲常藉由大量國際移工協助當地產業發展，主要原因為何？

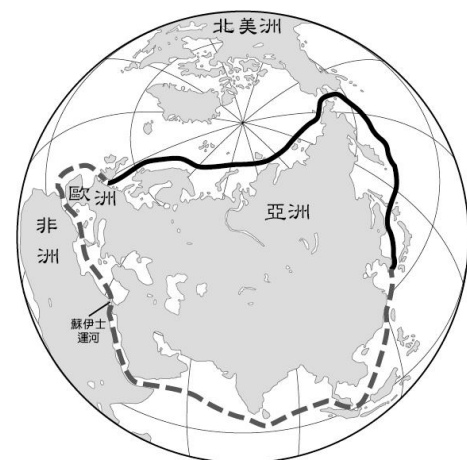
- (A)澳洲地廣人稀 (B)澳洲為了外交需求 (C)氣候限制當地產業發展 (D)澳洲人不工作

19. 2019 年 9 月，全球第一座海上浮動式核電廠「羅蒙諾索夫院士號」被拖行 5,000 公里後抵達俄國位於極圈沿岸、西伯利亞楚科奇 (Chukotka) 自治區的佩偉克(Pevek)港市。12 月，「羅蒙諾索夫院士號」發出了第一股的電流，開始試運行。請問這座海上核電廠最有可能是位於下列哪一個海域？

- (A)地中海 (B)北極海 (C)太平洋 (D)大西洋

20. 北極的「東北航道」(如右圖實線所示)是指穿越俄羅斯北方的北極海，聯絡大西洋和太平洋的航道，一艘從挪威北方港口出發的貨船，選擇經北極海的新航道，沿俄羅斯的海岸，航向中國 青島。此一新航線比起過去經地中海航向亞洲的傳統路線(如右圖虛線所示)，具有下列何種優勢？【修改至 110 教育會考補考試題】

- (A)省下經巴拿馬運河的通行費用
(B)順著盛行西風航行可節省燃料
(C)縮短大西洋東岸至東亞的距離
(D)避免航經墨西哥灣時遭遇颶風



21. 人類有紀錄以來，最低的溫度出現在南極的「沃斯托克」測站，該測站於西元 1983 年 7 月 21 日測到的 -89.2°C 。請問：下列何者是造成南極氣溫比北極更低的原因？

- (A)北極降水比較稀少 (B)北極的緯度比較高
(C)南極海拔高度較高 (D)南極的人口比較多。

地區	影響
喜馬拉雅山區	冰河逐漸消退
熱帶海域	大量珊瑚白化
北極地區	部分動物棲息地減少
溫帶地區	出現熱帶地區常見的傳染病

22. 右表為某種環境問題在各個地區造成的影響，該環境問題持續惡化後，最可能出現下列何種現象？【105 教育會考】

- (A)海水淹沒沿海低窪地區
(B)兩極地區海水鹽度上升
(C)沿海地區地層下陷嚴重
(D)高緯區可耕地面積減少。

北極熊的生存之戰

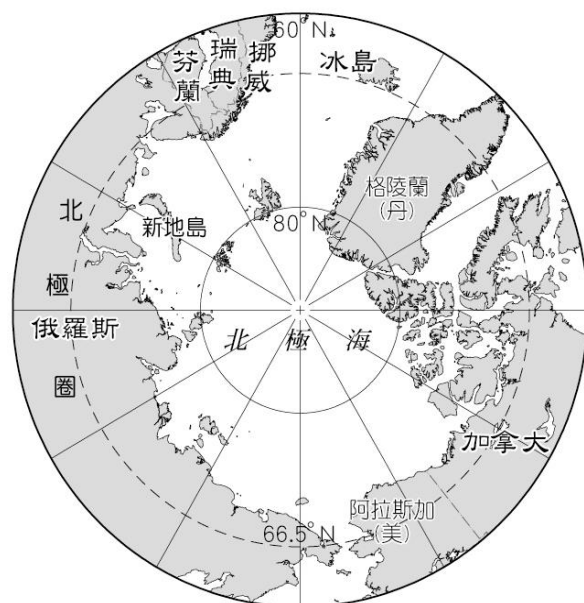
西元 2019 年 2 月，位於北極地區的俄羅斯 新地島(如右圖)村落遭到 50 幾隻北極熊入侵，在公路逛大街、挖掘廚餘與闖入民宅，更傳出攻擊人類的案例，使居民生活陷入混亂，這也是整個北極地區數十年來最嚴重的北極熊滋擾事件，當地政府宣布進入緊急狀態。據專家推測，北極熊大舉入侵的原因可能與全球暖化有關。

23. 報導中所述及的北極熊滋擾事件，主要是因全球暖化造成北極地區的哪一項環境改變而導致？

- (A)因北極地區融冰量增加，導致北極熊覓食困難
(B)因新地島河川提前融解，大量迴游的鮭魚群吸引北極熊覓食
(C)全球暖化使原本生活在俄羅斯北部沿海的北極熊，向北移動到更冷的新地島出沒
(D)因氣候變遷使北極熊適應溫暖氣候生活

24. 有新聞評論者表示，俄羅斯政府雖然將北極熊列為不能射殺的瀕臨絕種動物，但這無助於北極熊的生存，他建議俄羅斯政府應該積極執行巴黎協定。下列為後續的政府措施，請問哪一項較符合這位新聞評論者的建議？

- (A)興建焚化爐避免露天垃圾場吸引熊群
(B)將北極熊麻醉後運送至距離村落較遠處
(C)制定限制二氧化碳排放量相關法令
(D)興建柵欄隔離北極熊，維護村民安全



25. 全球暖化除了北極熊面臨生存之戰外，對於下列哪一地區國家甚至可能帶來亡國危機，成為全球首批「環境難民」？

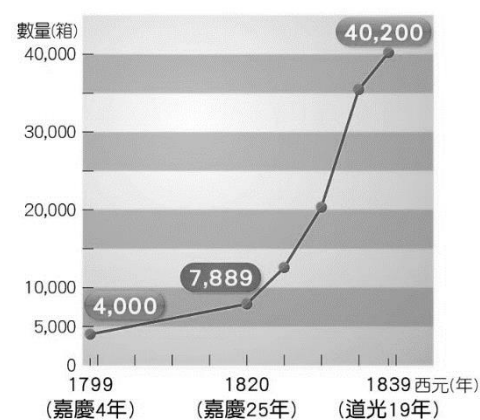
- (A)南極洲居民 (B)非洲人民 (C)中華人民共和國 (D)密克羅尼西亞島國

歷史科試題 (每題 5 分，共計 100 分)

命題教師：黃若芸老師

26. 右圖是清末自英國輸入某商品的數量變化。請問：依史實判斷，英國將此商品大量輸入中國的目的為何？

- (A)打擊中國對外貿易活動 (B)協助中國抑制人口成長
(C)打擊中國的傳統手工業 (D)平衡與中國的貿易逆差。



27. 承上題，清廷面對此項商品的輸入，採取什麼樣的因應行動？

- (A)將該商品收歸國營，不許民眾私自販賣
(B)派遣專人進行查禁，嚴厲要求英方不得再販售
(C)與英商協議進口數量，避免造成供過於求現象
(D)為避免與英國的衝突，因此鼓勵商品大量進口。

28. 清末一位學者有感而發的說：「民主革命破壞力太大，中國已有東亞病夫之名，不應服食猛藥，而導致國家滅亡。英、日兩國皆以君主立憲而國家富強，可為取法的對象。」請問：針對當時中國的危局，這位學者最可能採取何種行動？

- (A)參與革命推翻滿清 (B)練習拳法抵禦外侮 (C)建議朝廷推行憲政 (D)購買西式槍炮抗敵。

29. 在中國近代史上，此處的租界開闢最早，存在時間最長，面積最大，經濟的發展十分快速，對周邊地區的近現代歷史發展產生了深遠影響，成為中國人接觸西方文化的一個重要窗口，上述的「此處」應該是指何者？

- (A)南京 (B)上海 (C)北京 (D)天津。

30. 歷史課本第五課的標題為「西力衝擊下的晚清變革」，請問，所謂的「西力」『最不可能』包括下列哪一個勢力？

- (A)阿拉伯 (B)俄羅斯 (C)美國 (D)英國。

31. 承上題，清代晚期面臨著西力的不斷衝擊，中國內部也慢慢發起了改革行動。請按照時間發生先後順序，排列西力的衝擊與清朝的變革
- (A)甲午戰爭→自強運動→鴉片戰爭→英法聯軍→戊戌變法→庚子後新政→八國聯軍
 (B)鴉片戰爭→自強運動→英法聯軍→甲午戰爭→庚子後新政→戊戌變法→八國聯軍
 (C)英法聯軍→戊戌變法→八國聯軍→自強運動→鴉片戰爭→庚子後新政→甲午戰爭
 (D)鴉片戰爭→英法聯軍→自強運動→甲午戰爭→戊戌變法→八國聯軍→庚子後新政
32. 為了提升國力，清代晚期進行了長達數十年的自強運動。請問，下列哪一項最有可能出現在此次的改革行動中？
- (A)成立京師大學堂 (B)鼓勵人民提出意見 (C)興建唐胥鐵路 (D)廢除皇帝制度。
33. 承上題，對面這樣的革新運動，中國內部出現了各式各樣的聲音，有人支持，也有人反對。請問，下列四位人物中，哪一位的意見與另外三者的意見不同？
- (A)張之洞：「軍隊所使用的槍炮都從國外進口，耗費中國許多錢財…衡量局勢，中國必須設立工廠自製槍炮，以避免受到外國人的牽制。」
 (B)李鴻章：「我接觸西方事務頗久，了解西方器物的優點…希望朝廷可以打開風氣，破除舊習，以求制勝。」
 (C)張盛藻：「臣民自強之道在於守氣節，數百年來都以堯舜孔孟之道來培養。今讀書人開始學習西方技藝之事，不再有氣節，之後如何能夠成就大事？」
 (D)左宗棠：「中國能夠強盛的方式，除了整頓國家政治事務和精練軍隊外，還必須要建造輪船，以降低外國的優勢。」
34. 承第32題，當中國正在進行自強運動的時候，日本也進行了一系列的改革行動。請問，日本這一連串的改革，稱之為什麼？
- (A)明治維新 (B)戊戌變法 (C)立憲運動 (D)大化革新。
35. 隨著與外國人的接觸日漸頻繁，西方的思想觀念和風俗習慣也慢慢地傳入中國，例如：人人平等、女性的自主權、家庭組織改變等等，但如同上述的情形一樣（第33題），各種贊成與排斥的聲音也隨之不斷出現。請問：下列關於女性地位、權利等的書寫，哪一段文字所持的立場與其他三者不同？
- (A)婦女只許粗識柴米魚肉數百字，多識字無益而有損也
 (B)從前未禁纏足，以天足為醜。現在人人都是天足，個個都以纏足為醜，爾等再不放足，真是不知自醜
 (C)凡奉基督教而立國者，必興辦女學以成就女子，使女人得以各就其所能獲得適切的發展，成為有用之材…
 (D)天生男女，四肢五官，才智見識，聰明勇力，俱是相同的；天賦權力，亦是同的。
36. 阿華在歷史課本中讀到「清廷在輿論壓力下…下詔預備立憲，但新成立的責任內閣，閣員多為滿族親貴，被譏為『皇族內閣』。」不太了解什麼是內閣的阿華上網查了資料，看到清末內閣成員組織圖（如右圖）。根據圖表，請問清末的內閣類似於今天臺灣的中央政府組織中，哪一個部門？ (A)司法院 (B)行政院 (C)監察院 (D)立法院。
37. 清初康熙年間將臺灣納入中國疆域範圍後，清政府的執政與對外關係，也因此常常直接或間接地影響著臺灣的發展。請問，下列哪一個關於臺灣發展的轉變與外國勢力的進入，敘述正確？
- (A)鴉片戰爭後，開始允許外國人可以進入臺灣從事貿易與傳教
 (B)日俄戰爭時，俄國曾向日本要求交出臺灣的統治權
 (C)甲午戰爭後，臺灣與澎湖群島被割讓，成為外國勢力的殖民地
 (D)八國聯軍後，為了避免被占領，臺灣的人民曾成立臺灣民主國。



- ◎清朝乾隆年間，英國為了打開對中國的貿易，曾經派遣使節到中國謁見皇帝，雙方的對話如下。請回答第 38 題至第 40 題。

英國使節的提議：

…我國想擴大與中國的貿易；若物產能互相買賣，大家都可以獲得利益。另外，我們也想將貿易擴展到天津等地方，並希望我國商人能有行動與居住的自由。

乾隆皇帝的回應：

長久以來，各國都是在廣州進行貿易；且畫定活動範圍，是避免外夷與中國人發生衝突。另外，中國物產豐富，無所不有，不需與外夷貿易，而中國的茶葉、瓷器、絲綢則是你們必需的，這是我國給予你們的恩惠……

38. 根據雙方的對話內容，清代前期外國商人可以到中國哪一個港口進行貿易活動？
- (A)上海 (B)天津 (C)廈門 (D)廣州。
39. 根據以上的對話，請問，英國使節所提出的要求『不包括』下列何者？
- (A)到中國限定的港口以外的地方進行貿易 (B)爭取香港島作為停泊船隻的地方
 (C)增加進口更多的東西，賣到中國 (D)希望英國人可以在中國更自由地行動。

40. 仔細閱讀上述對話，可以看到乾隆皇帝兩次使用帶有貶抑意味的「外夷」一詞，來指稱英國人。請問，下列哪一個說明最可能可以用來解釋乾隆皇帝，為什麼選用「外夷」一詞來指英國人？
- (A)因為外國人常在中國宣傳基督教思想，與中國傳統宗教不合，因此乾隆皇帝極力反對外國人
(B)因為清代中晚期中國才第一次出現外國人，乾隆皇帝直接使用大家普遍對外國人的稱呼
(C)英國人因為有求於中國，為了表示自己的地位低下，因此使用外夷來謙稱自己
(D)中國從以前開始就以天朝自居，認為在政治、文化、國力等各方面皆優於其他國家

◎晚清的中國曾出現一股仇視外國人與外國事物的風氣，許多中國人開始破壞來自外國的東西，例如火車鐵軌、電線桿、教堂等，甚至殺害外國人。最後，這些人民之間的不斷摩擦，也使中外衝突提升至國家與國家之間的對立，進而爆發了軍事衝突。請回答第 41 題至第 45 題。

41. 清末的仇外風氣不斷擴大，與外國人能夠進入中國越來越多地方有著密不可分的關係。請問，哪一場戰爭之後，外國人除了可以在沿海的港口活動，進一步可以進入中國的內陸地區遊歷傳教？
(A)鴉片戰爭 (B)甲午戰爭 (C)英法聯軍 (D)八國聯軍。
42. 隨著外國人與中國人接觸機會的增加，雙方的摩擦也逐漸增加，但在之前的條約中訂立，外國人不受中國司法體系的約束，因此也逐漸引發了中國人民的不滿。請問，外國人享有哪一項權利，因此不受中國司法體系的約束？
(A)可居住在租界區內 (B)領事裁判權 (C)中外協定關稅 (D)駐守軍隊在中國。
43. 清末的這股仇外風氣中，為人所熟知的義和團曾以什麼為口號，吸引不少人加入其反對外國人的行列中？
(A)扶清滅洋 (B)反清復明 (C)精忠報國 (D)爭取獨立。
44. 清末的仇外風氣與日俱增，中外衝突不斷，後來導致許多國家進兵中國。請問，這場中國與外國之間的軍事衝突，被稱為什麼？ (A)八國聯軍 (B)甲午戰爭 (C)鴉片戰爭 (D)英法聯軍。
45. 近幾年來有些歷史學者試圖了解晚清的仇外風氣是如何形成的，其中王政文教授提到：「中國人對長相奇特的西方人抱持許多懷疑和恐懼，因此常指控傳教士會誘拐小孩，並吸取靈魂，或挖取眼睛來做仙丹靈藥。另外，教會辦孤兒院等收留孩童、遊民，再加上許多兒童死於孤兒院中，這些印象符合了謠言中教會利用孩童身體、遊民眼睛來煉金屬。還有，傳教士帶來的新式醫療方式，很容易讓群眾害怕，認為傳教士具有法力…深信外國人是魔鬼的附身…」請問，根據文章內容推測，下列哪一項敘述，最可以用來說明晚清中國人仇視外國人的原因？
(A)因為外國傳教士嚴格要求中國教民參與基督教活動，引起中國人的不滿
(B)因為外國人帶來中國人沒有看過的新式武器，攻擊中國人，因此中國人要反擊
(C)因為外國人成立的孩童或遊民收留所中，有不少人死於其中，引起中國人的害怕
(D)因為中國政府多次與外國簽訂條約，累積巨額賠款，導致中國出現財政問題，引發不滿。

公民科試題 (每題 5 分，共計 100 分)

命題教師：林湘芸老師

46. 西元 2020 年全球新冠病毒肺炎大流行之際，鑽石公主號是第一艘發生重大群聚感染的遊輪，該船從 2 月 4 日起在日本橫濱被隔離大約一個月。然而，該船卻曾在 1 月 31 日時停靠臺灣基隆港，乘客下船後還在臺北、新北、基隆市內數十個景點遊覽。我國中央流行疫情指揮中心立即於 2 月 7 日發出國家級簡訊，公告警示地圖，提醒民眾該期間若有到地圖中所標示的地點，請自主健康管理。上述內容凸顯出媒體的哪一個功能？
(A)提供訊息 (B)設定議題 (C)評論議題 (D)形成民意。
47. 行政院近年來推行「公共政策網路參與平臺」，鼓勵民眾對於時事或政府政策發表意見，例如：有網友在平臺上「提點子」，希望政府在勞動節讓學生作息與家長同步，除了勞工放假外，學校也統一放假，民眾可以藉由網路參與連署並發表意見。根據上文判斷，下列敘述何者較不恰當？
(A)上述平臺的設置，有助於形成公共意見 (B)閱聽人包括透過網路參與平臺了解時事的民眾
(C)勞動節是否放假，不屬於公眾事務討論範圍 (D)顯示政府期望能傾聽民意，使政策符合民眾需求。
48. 傳播媒體在現代社會中不斷推陳出新，無形中加強其功能。下列何者並非傳播媒體應有的功能？
(A)提供訊息 (B)議題發聲 (C)歌頌政府 (D)反映民意。
49. 《看見臺灣》是由臺灣空拍攝影師齊柏林執導的一部紀錄片。這是第一部在戲院上映、以全高空拍攝的畫面，講述臺灣環境現況的臺灣電影。根據上述內容判斷，以下何項認知正確？
(A)導演拍攝影片是在行使公權力 (B)紀錄片屬於一種公共意見表達
(C)媒體拍攝自由完全受到政府限制 (D)紀錄片內容不須考證實際情況。
50. 新冠肺炎(COVID-19)疫情嚴重之際，除了疫情要防護外，還得防護各種謠言擾亂不安的民心，如衛生紙廠商以不當行銷手法加上媒體報導造謠臺灣紙材即將因缺乏而漲價，引發民眾恐慌，大肆搶購衛生紙亂象。上述情況顯示出媒體可能產生何種現象？
(A)媒體報導有特定政黨立場 (B)媒體報導內容存在隱藏的歧視意味
(C)媒體報導未必能反映真實現象 (D)媒體能根據不同立場平衡報導。

51. 政治參與是指人民藉由各種方式，企圖影響政府決策的行動。依此判斷，下列何種方式不屬於政治參與？
 (A)李伯伯每天閱讀報章雜誌上的八卦新聞 (B)王媽媽常常 Call-in 到政論節目發表她對政治現況的不滿
 (C)小世常常投稿報社評論時事 (D)小黃每次選舉都會投下自己神聖的一票。
52. 下列何者是國中生可以採取的政治參與方式？ (A)投票選舉 (B)籌組政黨 (C)投入競選 (D)關心時事。
53. 美國《獨立宣言》：「……任何政府破壞了這些目標，人民便有權利改變或廢除它，重新建立一個新的政府。」現今民主國家的人民，可利用下列何種方式建立新政府？
 (A)選舉投票 (B)集會遊行 (C)合法組黨 (D)軍事政變。
54. 我國舉行第 15 任總統大選，民主進步黨的總統候選人蔡英文以 817 萬餘票贏得連任，並宣布由蘇貞昌續任行政院院長，以確認部會首長人選，組成行政團隊。上述民主進步黨憑藉民意的支持組織政府，發揮了選舉的何種功能？
 (A)選出公職人員 (B)影響政府政策 (C)展現分權制衡 (D)合法組成政府。
55. 我國根據選舉的各項法律規定，辦理公職人員選舉。下列為我國選舉的過程，請依照先後順序排列。
 (甲)政黨提名候選人，並向選務機關登記 (乙)選舉委員會發布選舉公告
 (丙)選務機關開票，並公告選舉結果 (丁)選民投票 (戊)候選人展開競選活動。
 (A)甲→乙→戊→丁→丙 (B)甲→戊→乙→丁→丙 (C)乙→甲→戊→丁→丙 (D)乙→戊→甲→丁→丙。
56. 家住桃園市的阿興剛滿 23 歲，決定參加立法委員選舉以施展他的政治抱負。他家中經營便利商店的爸爸、在地政事務所工作的媽媽、小他 6 歲的妹妹、準備國中會考的弟弟、因販毒而被褫奪公權尚未復權的大哥，還有因失智而受監護宣告的爺爺。請問：阿興家有幾個人沒有投票資格？ (A)1 個 (B)2 個 (C)3 個 (D)4 個。
57. 總統選舉時，王浩 (甲)帶著身分證、印章和投票通知單，前往 (乙)戶籍所在地投票所。王浩領取選票，並 (丙)以選委會準備的戳章圈選候選人後，在投入票箱前，(丁)將選票出示給其他人看。上述王浩的行為，何者違反選舉法規？
 (A)甲 (B)乙 (C)丙 (D)丁。
58. 在我國，要具備總統、副總統的投票資格，戶籍必須設在選舉區達幾個月以上？
 (A)三個月 (B)四個月 (C)六個月 (D)十二個月。
59. 某新聞臺及其網站原以「菲勞在臺破 10 萬，民憂影響生活品質」為標題，敘述移工來臺增加的趨勢。該標題被網友們認為不妥，並向國家通訊傳播委員會(NCC)檢舉後，新聞臺才將標題改為「來臺人數劇增，菲律賓勞工破 10 萬」。根據上述報導內容，顯示了下列媒體的何種現象？
 (A)媒體的報導未反映真實狀況 (B)閱聽人預設立場而評論偏頗
 (C)為促使商業考量而選擇立場 (D)加深族群的刻板印象及偏見。
60. 依據我國《憲法》及《公職人員選舉罷免法》等相關法令的規定，下列何者不具有投票的資格？
 (A)曾因貪汙行為犯罪經判刑確定者 (B)受監護宣告尚未撤銷者
 (C)褫奪公權尚未復權者 (D)現役軍人或辦理選舉事務人員。
61. 下列四人何者可以參與我國立法委員的選舉投票？ (A)小平 (B)鐘路 (C)清風 (D)茂安。

姓名	國籍	年齡	設籍選區	受監護宣告
小平	中華民國	19	19 年	X
鐘路	中華民國	27	6 個月	O
清風	美國	35	5 年	X
茂安	中華民國	26	10 年	X

62. 為了落實直接民權的理念，我國於民國 92 年制定下列哪一項法律，使公民對於全國性或地方性的事務，能直接投票決定？ (A)《憲法》 (B)《民法》 (C)《公民投票法》 (D)《地方制度法》。
63. 在我國，下列哪一項公職人員可以連選連任，次數不受限制？
 (A)總統 (B)新北市市長 (C)高雄市議員 (D)臺東縣縣長。
64. 在臺灣，民眾可以透過民選的公職人員來為民服務。下列哪一項公職人員不受「連選得連任一次」的限制？
 (A)總統 (B)縣市長 (C)直轄市市長 (D)立法委員。
65. 以往君主專制時代，奪取政權不是透過政變就是革命，而民主政治，是透過選舉來決定國家的執政者，因此有人以「從打破頭，到數人頭的過程」來形容民主。這句話可凸顯出選舉的何種功能？
 (A)選出公職人員 (B)影響政府政策 (C)合法組成政府 (D)落實責任政治。

花蓮縣立宜昌國民中學 110 學年度第一學期第三次段考 8 年級社會科試題答案

選擇題配分：

地理科：第1題~第25題，每題4分

歷史科：第26題~第45題，每題5分

地理科：第 46 題~第 65 題，每題 5 分

1	2	3	4	5	6	7	8	9	10
B	D	A	B	B	C	D	A	A	D
11	12	13	14	15	16	17	18	19	20
C	D	D	A	B	B	C	A	B	C
21	22	23	24	25	26	27	28	29	30
C	A	A	C	D	D	B	C	B	A
31	32	33	34	35	36	37	38	39	40
D	C	C	A	A	B	C	D	B	D
41	42	43	44	45	46	47	48	49	50
C	B	A	A	C	A	C	C	B	C
51	52	53	54	55	56	57	58	59	60
A	D	A	D	C	C	D	C	D	B
61	62	63	64	65					
D	C	C	D	C					