

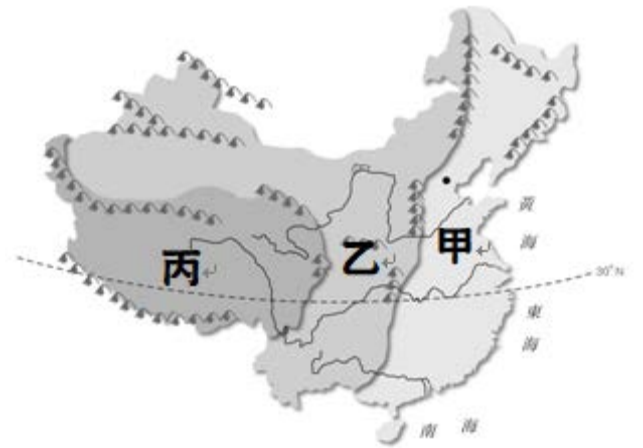
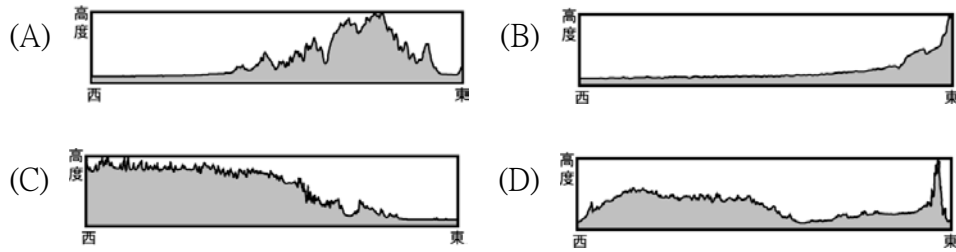
宜昌國中 112 學年度第一學期 第一次段考 8 年級 社會科試題

(地理部份) 命題教師：林素葉

班級：_____ 姓名：_____ 座號：_____

※單選題 (1-10 題，每題 4 分，11-22 題，每題 5 分，共 100 分)

1. 右圖為中國三階地形圖，若沿北緯 30 度線繪製剖面圖，即可看出該剖面的地形變化，請問下列哪一張最能顯示出此剖面線的高度剖面圖？



2. 承上題，下列對於『甲階』自然環境敘述何者正確？

- (A)地勢高聳有世界屋脊之稱 (B)地勢低平雨量豐富農業發達 (C)以山地高原為主人口稠密 (D)多盆地高原畜牧業發達

3. 暖暖想利用寒假前往中國旅遊，看到某旅行社宣傳海報寫著：「奔馳在海拔五千多公尺高的鐵路，是歷經數十年打破凍土阻礙，沿途行經浩瀚無垠的戈壁灘、湛藍通透的青海湖，豐富多樣的瑰麗風景，既神祕且震懾人心。」根據海報內容，最可能是右上圖中哪一階旅遊廣告？

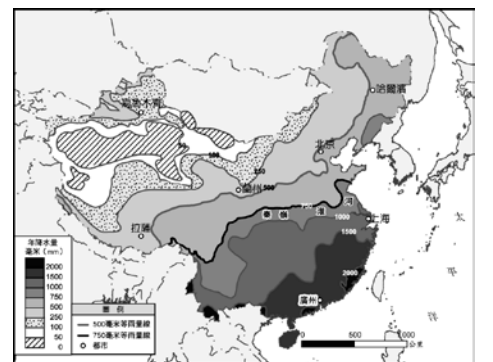
- (A)甲 (B)乙 (C)丙

4. 中國的少數民族藏族，主要分布於青藏高原上，有關於青藏高原的描述，下列何者『有誤』？

- (A)氣溫與植被隨高度呈垂直變化 (B)地勢高聳空氣稀薄日夜溫差大
(C)夏季溫度較同緯度其他地區低 (D)位在中國三大氣候區的乾燥氣候區中

5. 右圖是中國年降水量分布圖，不同地區的降水空間分布不均，請問中國雨量空間分布大致與下列哪一敘述一致？

- (A)由西北向東南遞增 (B)由南向北遞增 (C)由西南向東北遞減 (D)由西向東遞減



6. 承上題，請問降水空間分布不均的原因，與下列哪一項因素『關係最小』？

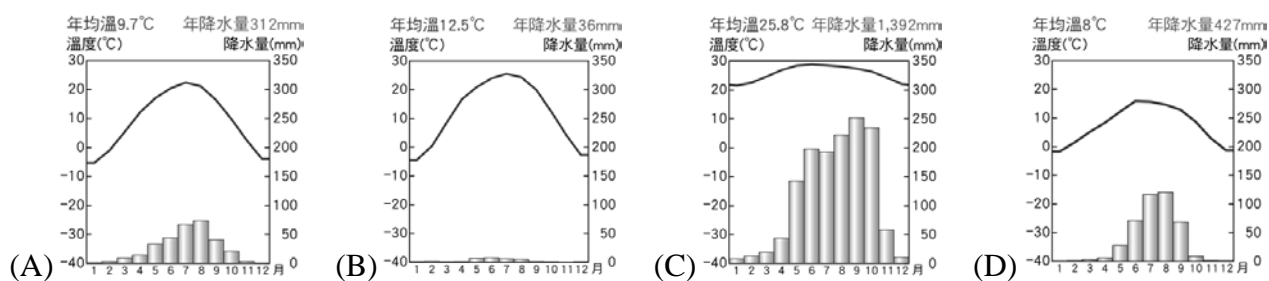
- (A)季風 (B)緯度 (C)距海遠近 (D)地形

7. 右圖為中國的氣候分布圖，大致可分為甲、乙、丙三大氣候類型。請問：乙、丙兩種氣候類型主要的分界依據為何？

- (A)海拔高度 3,000 公尺以上 (B)一月月均溫 0°C 等溫線
(C)年降水量 500 mm 等雨量線 (D)年降水量 250 mm 等雨量線



8. 承上題，下列哪一張氣候圖最可能出現在丙氣候區？



9. 在哈爾濱鐵路局管轄內，有一班由哈爾濱開往海南省海口的 Z114 次客運列車，是黑龍江省內唯一一趟跨海列車。若您在冬季搭乘，上車是凜冬，下車已是盛夏，一趟旅途，經歷四季，一路從冰天雪地開到濕熱海島，溫差將近 50°C，這趟列車被「候鳥」旅客親切地稱為「天南海北第一車」。(https://reurl.cc/6QZ65O)

請問文中提到『上車是凜冬，下車已是盛夏』，請問主要原因與下列敘述關係最密切？

- (A)中國領土遼闊東西跨越多個經度 (B)中國南北距離很長須從冬季搭車夏季才能抵達
(C)中國南北緯度相差大導致溫差大 (D)受距海遠近影響溫度由東南向西北遞減

10. 右圖為中國人口分布點圖，圖中顯示中國的人口分布極不均勻，請問下列何者『不是』導致西半部與東半部人口總數差異懸殊的主要原因？

- (A)西半部潮溼多雨 (B)東半部多平原、丘陵
(C)東半部為農業區 (D)西半部環境負載力較低

11. 承上題，中國的人口分布大致以下列哪一條連線為界，分成稀疏區和密集區？

- (A)秦嶺——淮河 (B)太行山——巫山 (C)黑河——騰衝 (D)喜馬拉雅山——南嶺



12. 中國人口數已達 14 億 6 千 400 萬，是全世界最多的國家，占世界的五分之一，但近年來面臨越來越沉重的人口問題，請問下列和者『不是』中國目前的人口問題？

- (A)高齡化 (B)人口素質低 (C)少子化 (D)性別比失衡

13. 為了控制人口成長的速度，中國政府嚴格控制生育，不同時期有不同的生育政策與因應口號。右圖為因應某種人口問題所推出的標語，請問最可能要解決的人口問題是下列何者？

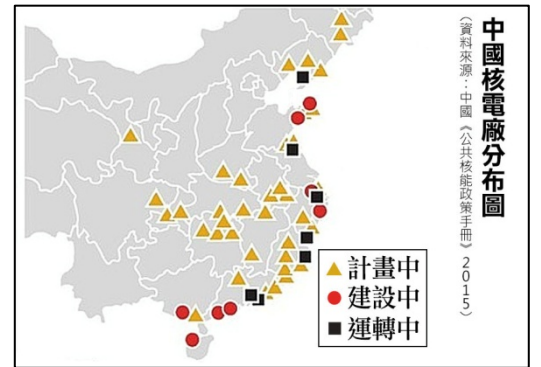


- (A)重男輕女觀念，性別比嚴重失衡 (B)人口太多，鼓勵將女兒嫁到國外
(C)出生率太高，生兒育女需先申請 (D)人口老化嚴重，生女兒比較能當看護照顧老人

14. 人口對於國家經濟發展影響相當大，各國政府皆紛紛針對人口結構加以規畫，作為未來施政的參考。中國近年來面對的人口問題為「老得多、老得快」，此現象和與下列何者最有關係？

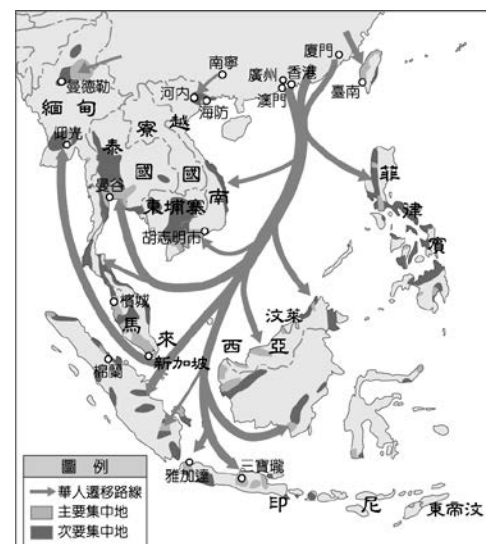
- (A)男孩女孩一樣好 (B)全面開放生二胎 (C)實施一胎化政策 (D)區域發展失衡

15. 2011 年的日本福島核災，讓積極發展核能的國際社會一度放緩腳步。但曾幾何時，除了日本頂不住火力發電的成本壓力，準備重啟核能發電。面臨龐大能源需求與沉重霾害問題的中國，近來也頻頻釋出「重啟核電建設」的訊息。若恢復原來規劃，中國的核能發電能力在 2020 年將一舉跨越日本與俄國，成為僅次於美國與法國的核能大國。(https://reurl.cc/y6mjXE)



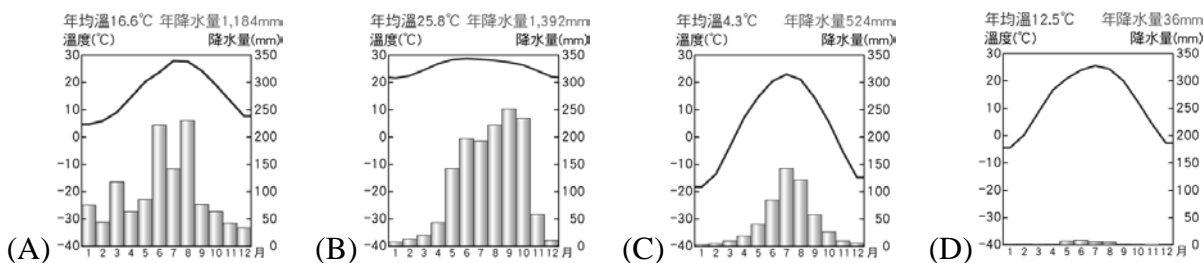
右圖為 2015 年中國規劃核電廠分布圖，中國官方聲稱，興建大量核電廠主要目的為因應市場需求。下列關於上述「市場需求」的推論，何者最正確？

- (A)此區地勢高、氣候嚴寒，需要有充足電力來提供暖氣
(B)此區位於黑河至騰衝一線以東，用電需求量大
(C)此區環境負載力較低，需依賴核能發電避免破壞自然環境
(D)此區鄰近海洋，利用核能發電大量將電力輸出給鄰國賺取外匯

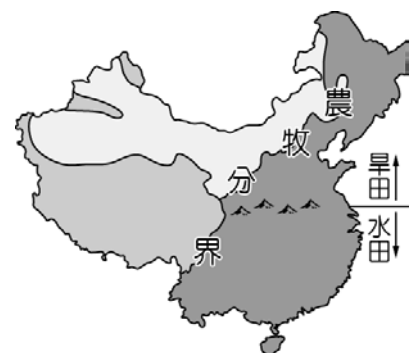


右圖為華人遷移圖，中國人口眾多且資源分布不均，快速增加的人口可能造成糧食不足，促使人們離開家鄉尋找耕地或工作機會，而向國外遷移，請問：

16. 在明清時期的華人主要是順應哪一個季節的季風，移民到東南亞？
(A)春季 (B)夏季 (C)秋季 (D)冬季
17. 若僅由右圖資訊判斷，華人遷徙到下列哪一個國家人口可能最少？
(A)菲律賓 (B)寮國 (C)印尼 (D)台灣
18. 推拉理論是由原居住地的推力、移入地的拉力以及中間障礙等交互作用的結果。明清時期的華人遠渡重洋到東亞或東南亞國家開墾，請問下列哪一項屬於中國的推力？
(A)山多平原少糧食不足 (B)就業機會多 (C)經濟繁榮 (D)地大物博歷史悠久
19. 「文化傳播又稱文化擴散，指人類文化由文化源地向外輻射傳播或由一個社會群體向另一群體的散布過程。」中國文化擴散與早期人口遷移有密切關聯，請問下列敘述何者與中國文化擴散關係最密切？
(A)菲律賓華人入境隨俗以西餐為主食 (B)在印尼的華人改信奉伊斯蘭教
(C)泰國華人為迎接新年擴大舉辦潑水節 (D)媽祖遶境已經成為台灣重要宗教活動
20. 「環境負載力」是指一地能提供多少資源和承受污染物的能力。中國人口眾多，面積廣大，但因各地環境負載力有別，導致人口分布不均現象，請問下列那一張氣候圖所代表城市環境負載力『最低』？



21. 農業和畜牧業是中國居民傳統的維生方式，右圖為中國境內的農業及牧業活動的分布地區，這兩種維生方式的空間分布，與下列哪一個地理分界敘述一致？



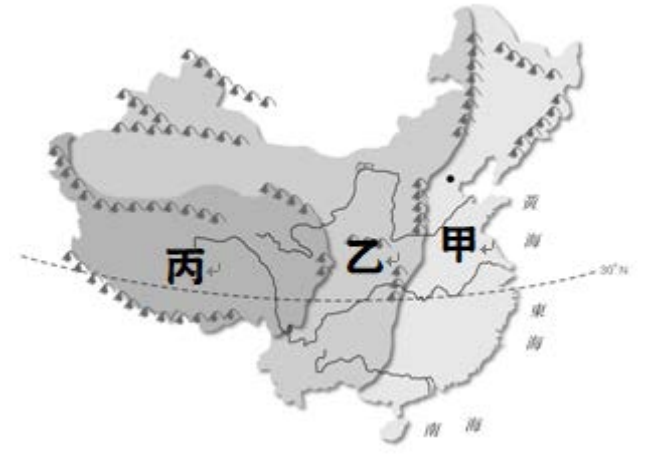
- (A)年降水量 750mm 等雨量線 (B)最冷月月均溫 0°C 等溫線
(C)年降水量 500mm 等雨量線 (D)最暖月月均溫 20°C 等溫線

22. 下列對於農業區旱田及水田敘述何者正確？

- (A)以秦嶺-淮河為界，北方水運便利南方陸運發達
(B)以秦嶺-淮河為界，南方種稻北方以種小麥為主
(C)秦嶺，淮河以北降水量較少，僅河谷、綠洲適合農業發展
(D)中國南方丘陵眾多，高山融化雪水成為農業灌溉重要水源

※單選題 (每題 5 分，共 100 分)

23. 根據學者的研究，早期人類文明的出現多半與河流有著密切的關係，而中國古文明亦不例外。請問，一般認為，中國早期所建立的政權，通常分佈在哪一條河流域？
(A)黑龍江 (B)長江 (C)珠江 (D)黃河。
24. 湘蒂走進學校的圖書館，在書架上看到了一套名為《彩繪中國歷史全集》的書籍，全部共有 20 冊，各冊分別介紹不同朝代的重要人物、歷史事件、人民生活、風俗文化等等；不過，湘蒂不太懂所謂的「朝代」是什麼意思，因此上網搜查。請問，下列哪一個敘述最能夠說明「朝代」的概念？
(A)某一個權力強大的人，掌管了全國各項事務，直到他結束統治的時期
(B)由某一個人建立政權後，其後由其同姓子孫繼續進行統治的時期
(C)全國人民透過投票的方式，先後選出不同的領導人來輪流執政的時期
(D)一群人共同擊敗其他人後，分工合作地管理各項不同事務的時期。
25. 承上題，湘蒂發現前幾冊的書本順序有些混亂，並未按照朝代出現的先後順序排列，因此湘蒂想要重新排列書本。請問，湘蒂所排列的書本順序應為下列何者？
(A)周→秦→商→唐→漢→隋→魏晉南北朝
(B)商→周→魏晉南北朝→秦→漢→唐→隋
(C)秦→漢→周→隋→魏晉南北朝→唐→商
(D)商→周→秦→漢→魏晉南北朝→隋→唐。
26. 承第 25 題，湘蒂拿起了第二冊《周朝》開始翻閱，但她發現周代又分為西周和東周，於是湘蒂繼續仔細的閱讀，想了解周代分為西、東的原因。請問，下列哪一個解釋最能夠說明此情形？
(A)依據占卜的結果來進行朝代的命名
(B)首任與第二任統治者出生的方位不同
(C)首都的位置曾經遷移
(D)早期與後期的外患分別來自西方與東方。
27. 「君王集軍政大權於一身，其下有輔助推動政務的宰相，以及漸趨系統化和專業化的文武官員，地方上的郡縣長官也由君王直接任命。這些大小官員大部分不再是憑藉血緣世襲的封建貴族，而是平民出身的才學之士。」上文最能說明中國歷史上何種情況的發展？
(A)封建的建立 (B)禮樂的推行 (C)中央集權的形成 (D)世族社會的出現。
28. 承上題，上述的情形，『**最不可能**』出現在下列哪一個時期？
(A)秦代 (B)商代 (C)唐代 (D)漢代。
29. 請閱讀以下資料並回答問題：



資料一：

魏晉南北朝後期盛傳：「上車不落則著作，體中何如則秘書」。意思是只要到了坐上車不會跌落的年紀，便可當著作郎（官名），會寫簡單的問候信，就可被選為秘書郎（官名），這是諷刺世家子弟可憑家世任官。

資料二：

唐代初年，藉由科舉入仕的平民宰相，所占比例不超過一成；但到了唐代後期，其比例已經超過八成。

資料一所描述的情形，與哪一個制度的實行有最密切的關係？

- (A)科舉制度 (B)封建制度 (C)九品官人法 (D)察舉制度。

30. 承上題，關於資料一至資料二所反映的社會變遷，下列敘述何者正確？
(A)封建體制逐步推行 (B)貴族制度逐漸確立 (C)世家大族日益興盛 (D)社會階層流動增加。
31. 人們常常以「皇帝」一詞來指稱中國古代最高的統治者，但是此一詞語在中國的上古時期並不存在，早期是以「天子」來稱呼之。請問，「皇帝」一詞的出現，最早可以推溯至哪一個朝代？
(A)秦代 (B)周代 (C)唐代 (D)漢代。
32. 接受教育在 21 世紀的今天，常常被視為是基本的權利，但在遠古中國，僅限於上層的貴族才擁有受教育的權利；直到後來，隨著舊有制度的逐漸解體，受教權也漸漸開放，例如身為貴族子弟的孔子開始將知識帶往民間，教授一般平民讀書。請問，孔子之所以將知識帶往民間，和哪一個制度的崩解有關？
(A)科舉制度 (B)中央集權 (C)封建制度 (D)郡縣制度。

33. 振昱透過網路參觀了故宮博物院的線上展覽「吉金耀采—院藏銅器精華展」，其中陳列出了許多青銅器，並介紹到「青銅除了部分用來鑄造兵器、樂器外，主要鑄成祭祀容器，以盛裝祭品、獻祭祖先，祈求家族生命之綿延不絕……銅器，是構成…社會中最重要的禮器。」請問，依據展覽的介紹內容推測，這個展廳所陳列出的器物，最有可能是屬於哪一個時期的古文物？

(A)魏晉時期 (B)宋代 (C)周代 (D)漢代。

34. 圖 1 是玉潔參觀「歷代中國婦女生活文物展」時，在某朝代的展示區內所看到的文物簡介。依內容判斷，此朝代最可能是下列何者？

(A)商周 (B)秦代 (C)漢代 (D)唐代。

35. 承上題，圖中左側的圖片說明中提到，此泥俑「呈現當時生活胡化的一面」。請問，此情形最有可能與下列哪一段時期，因為多個民族頻繁的移動，進而加速與擴大了族群間的文化交流有關？

(A)明代時期
(B)魏晉南北朝時期
(C)漢代時期
(D)秦代時期。

36. 圖 2 是某一時期亞洲三個國家交流的情形，根據內容判斷，此時期的交流對當時日本造成了何種影響？

(A)積極吸收中國文化 (B)天皇大權旁落 (C)日本成為強國 (D)斷絕與各國往來。

37. 承上題，依據圖中國家的互動情形來推測當時各國的地理位置，新羅最有可能是今天哪一個國家的前身？

(A)韓國 (B)美國 (C)泰國 (D)俄羅斯。

38. 昱廷注意到課本第 98 頁的圖片《飛舞的女祭司》(如圖 3)，因為這幅畫與課本中其他圖像的風格非常不同，昱廷仔細閱讀圖片說明後才知道此畫是繪製於西元 1 世紀的古代羅馬壁畫，畫中女祭司身穿輕薄的絲綢外衣。好奇的昱廷想了解出產自中國的絲綢，為什麼會出現在歐洲的繪畫之中，於是去問了同學，請問誰的說明最能為昱廷解惑？

(A)忻晏：羅馬帝國曾經派兵征服中國，從被俘虜的士兵身上學會了絲綢的製作方法
(B)郁翔：漢朝為聯絡西方國家時，將養蠶技術直接帶往了歐洲，引起歐洲人爭相學習
(C)婉怡：張騫出使西域後，通往西方的道路逐漸開拓，絲織品因此輾轉被賣到遠方的歐洲
(D)筑云：唐朝皇帝唐太宗派兵出擊東突厥時，西方各國開始認識中國文化，學習製絲技術。

39. 圖 4 為課本第 99 頁的北魏文官俑圖片，圖中展示了以陶土製成的北魏官員人偶身穿寬鬆的漢式服裝。根據學者研究，這些陶製人偶的造型常常反映出當時社會中人們的生活型態。請問，血統上為外族的北魏官員卻身穿漢族樣式的衣服，這可能與誰推行漢化政策有最直接的關係？

(A)漢武帝
(B)秦始皇
(C)北魏道武帝
(D)北魏孝文帝。

40. 研究族群關係的學者，依據各民族不同的生活型態，將中國古代以來的族群畫分為草原民族與農業民族，雙方在大致的範圍之內各自活動著，時而和平共處，相互貿易，但有時也會發生戰爭衝突。請問，一般而言，畫分草原民族與農業民族的分界線是什麼？

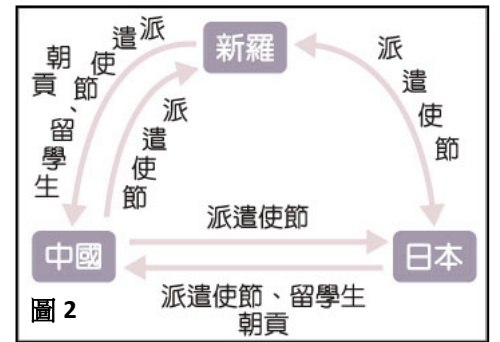
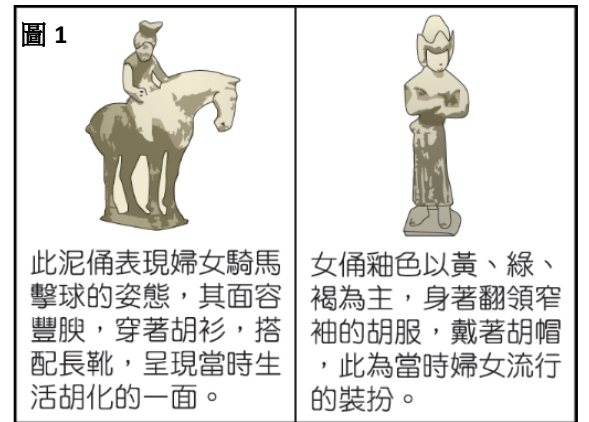
(A)黃河 (B)長城 (C)秦嶺 (D)玉門關。

41. 承上題，學者對於自古以來草原民族與農業民族的武力衝突做了許多的研究，試圖了解雙方發生衝突的原因。請問，下列哪一個解釋，是依據自然環境的概念來進行說明？

(A)草原民族內部各部落之間因爭奪領導權，導致有些部落戰敗，因而轉往南方爭取新的生活空間
(B)草原民族所在的北方內陸地區，因氣溫低再加上降雨量不足，因此南下爭奪水草較為豐盛的生活環境
(C)南方的農業民族為了展現自身的統治實力，因此派兵出擊周邊各民族，以獲得其他民族的臣服與崇敬
(D)以天下中心自居的農業民族為了推展漢族文化，強行要求其他族群仿效，因遭到抵抗而發生衝突。

42. 承第 41 題，自古以來，草原民族與農業民族的互動，無論是相互學習、貿易，或是敵對、征戰，都時時影響雙方各自的發展。請問，漢代時期在政治、外交、軍事、經濟等方面的發展，最主要受到北方哪一個民族的影響？

(A)匈奴 (B)鮮卑 (C)突厥 (D)羌



一、單選題 (每題 5 分，共 25 分)

43. 近年來，地球因為氣候暖化海水面逐漸升高，造成有些太平洋島國需要「遷國」，例如：吐瓦魯、馬紹爾群島及其他環狀珊瑚礁地區。因為這幾個國家國土僅高於海水面數公尺，其政府應將遷移計畫列為當務之急。由上文可知，這些國家面臨到存亡的危機，是因為未來可能欠缺國家的哪一項組成要素？
(A)領土 (B)政府 (C)主權 (D)人民
44. 有一位的中國教授曾在網路上說過這麼一段話：「西方有一些國家的政府會因為財政不良，但又受制法令不能隨意對民眾加稅，而導致政府財政衰敗而破產(如美國聯邦政府經歷過22次破產而停止運作，最短1天，最長則達34天之久)。而雖然西方國家的政府會因破產而停止運作，但人民不會受到政府隨意強制徵稅，故人民不會無故破產。而中國的政府幾乎不受法律限制，可以隨意向人民加稅，故中國的政府強大又有錢，從來不會因財政破產而停止運作，但人民卻可能因此而無故突然破產。」由上文可知，下列何者的重要性？
(A)人治 (B)法治 (C)神治 (D)獨裁統治
45. 「法治」是現代社會所強調的重要概念，臺灣現行的法條已有上萬條之多，規範著生活中許多大大小小的事情。下列關於「法治」的敘述，何者正確？
(A)法治國家制定法律以限制人民的權力
(B)只要有制定法律的國家就是法治國家
(C)人民可依法拒絕政府侵害權利
(D)法治國家的法律是由統治者來制訂的
46. 西元2017年3月24日司法院召開言詞辯論庭，於5月24日下午由司法院秘書長公布《司法院釋字第748號解釋》，解釋文表示《民法》未讓同性別成立有親密性和排他性之永久結合關係，違反《中華民國憲法》第7條平等權和第22條保障人民婚姻自由，要求有關機構必須在2年內完成法律之修正或制定。請問：上述內容體現出現憲法的何種特性？
(A)獨立性 (B)原則性 (C)最高性 (D)固定性
47. 承接上題，上題題幹內容提及民法違憲，要求有關機構必須在2年內完成法律之修正或制定。請問這個『有關機關』應該是下列何者？
(A)民法法庭 (B)憲法法院 (C)司法院 (D)立法院

二、題組題 (每題 5 分；共 70 分)

(一)請閱讀下列網路新聞重點摘要後，回答下列問題：

甲新聞：高雄市登革熱確診病例，累計本土 65 例、境外移入 15 例。近日高雄仁武區 70 多歲男性登革熱確診個案，於衛生單位疫調時，刻意隱匿工作地活動史，未如實告知發病前 2 週內曾至左營區青雲宮市集周邊兩處工地的活動史，衛生局依傳染病防治法第 43 條，處 6 萬元以上至 30 萬元以下罰鍰。

乙新聞：拉脫維亞舉行國家重大選舉，19 個政黨爭奪國會 100 名席次，民調顯示『人民黨』獲得 13.7%的支持率，領先其他政黨，緊追在後的是聯合政黨。許多政黨都把競選重點擺在經濟議題上，希望透過公平競爭，以贏得選舉最後的勝利。

丙新聞：最近這一個月台灣的進口雞蛋食安爭議持續延燒，導致才上任 50 天的農業部長陳吉仲，於在野黨和自媒體輪番要求其為進口蛋政策負責的廣大輿論之下，於 9 月 19 日下午出面召開記者會說明政策之後，晚間就請辭獲准，且於 21 日生效下台負責，同樣因此一事件請辭下台的還有畜產會董事長林聰賢。

丁新聞：教育部預告修正「校園霸凌防制準則」，兒童福利聯盟今在立法院召開記者會質疑，倉促施行該準則，校園將變成法院；朝野立委呼籲，教育部應先召開公聽會，聽取民意。教育部回應，草案預告之前有花將近半年邀請家長、師生、學者專家討論，開了不下十次的諮詢會議，很快就達成共識。教育部表示會確實作到不讓校園變成司法化，以及浪費人力在事後追究責任上面，所以重點是預防和輔導，這是很快達成共識的，草案預告到 8 月 31 日，教育部會持續收集意見。

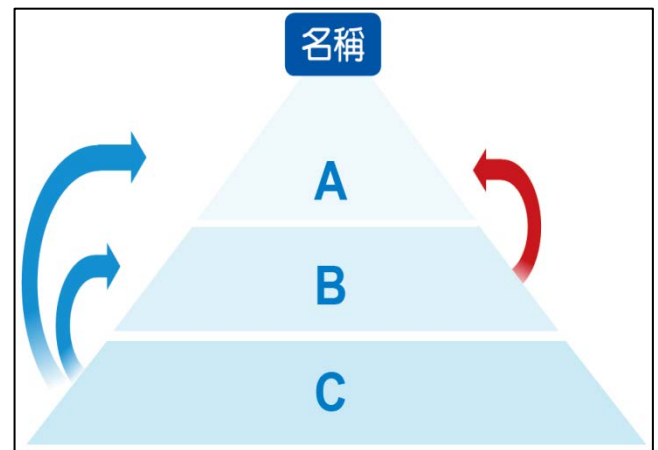
48. 請問：「甲」新聞體現的是民主政治的哪一特色？
(A)民意政治 (B)責任政治 (C)法治政治 (D)政黨政治

49. 請問：「乙」新聞體現的是民主政治的哪一特色？
 (A)民意政治 (B)責任政治 (C)法治政治 (D)政黨政治
50. 請問：「丙」新聞體現的是民主政治的哪一特色？
 (A)民意政治 (B)責任政治 (C)法治政治 (D)政黨政治
51. 請問：「丁」新聞體現的是民主政治的哪一特色？
 (A)民意政治 (B)責任政治 (C)法治政治 (D)政黨政治

(二)「法」一般而言分成三個位階，依照法規的特性，通常以右方的金字塔圖形來加以說明。請問：

52. 根據位階高低，A、B、C 依序為何？

- (A)憲法、命令、法律
 (B)法律、憲法、命令
 (C)命令、憲法、法律
 (D)憲法、法律、命令



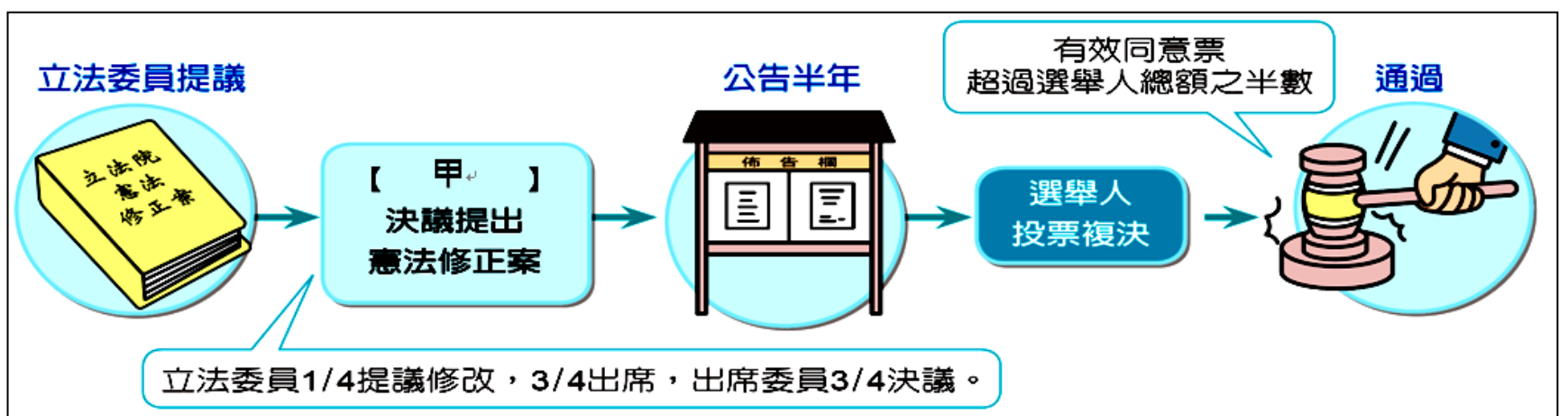
53. 右圖中，C 所代表的法律類型，具有下列何項特色？

- (A)必須經由立法院訂定
 (B)由各行政機關在法定職權內訂定發布
 (C)內容多為原則性的簡要規範
 (D)修改時必須經選舉人投票複決

54. 下列哪一個法令的位階，和右圖中的 C 所代表的法律類型相同？

- (A)國民教育法
 (B)中華民國憲法
 (C)國民教育法施行細則
 (D)道路交通管理處罰條例

(三)我國憲法修正的程序過程相當繁複，通過的門檻也很高。這樣的修憲門檻，有可能會導致憲法難以順應社會的變化，而必須要依靠司法審理去擴充憲法的保障範圍。請依下圖的內容回答下列問題：



55. 憲法的修正必須經過上圖中的程序，請問上圖中空格內的甲應該是何者？

- (A)國民大會 (B)立法院 (C)司法院 (D)行政院

56. 上述的憲法修正過程凸顯出憲法的何種特性？

- (A)獨立性 (B)原則性 (C)最高性 (D)固定性

57. 修憲過程中，需要「有效同意票超過選舉人總額之半數」，其中提到的選舉人必須年滿幾歲？

- (A)18 歲 (B)20 歲 (C)23 歲 (D)30 歲

(四)請閱讀下列文章後，回答下列問題：

西元 2021 年海巡單位查獲 100 多隻走私貓，2 天後全被安樂死，引發討論。事實上，海關緝私條例與動物傳染病防治條例等法規，均無動物必須立即被銷毀的規定。查獲走私動物一律撲殺的慣例，是依據行政院農業委員會為處理「走私農產品」而自行訂定的法規——走私沒入動物及其產品處理作業程序。立法院先前曾針對該法規可能有疑慮，希望相關單位針對有關銷毀走私動物的程序及方式再進行研議。

許多民眾不知道被走私的活體動物依慣例會被安樂死，也因為這個事件，開始正視走私沒入動物及其產品處理作業程序已不合時宜。但無論是過去曾被銷毀的兔子、寵物鼠或是爬蟲動物，都不是人類附屬的產品，不應該因過時、有待修正的法規而無辜喪命。(改寫自別讓 154 隻貓咪慘劇造成的對立，模糊我們捍衛動物權利的初衷，風傳媒，2021/8/31)

58. 依據上文，立法院提出的疑慮，主要是從何種角度來探討走私動物遭到撲殺的爭議？

- (A)法律位階 (B)人性尊嚴 (C)基本人權 (D)人治精神

59. 若要修正上文中引發爭議的法規——走私沒入動物及其產品處理作業程序，需要經由哪個機關或法定程序進行修正？

- (A)行政院農業委員會 (B)立法院 (C)中華民國海關 (D)全民公投

(五) 請看完下列短文，回答下列問題：

我國總統蔡英文於 2022 年 12 月 27 日，拍板定案決定：2005 年後出生的役男，義務役役期恢復至 1 年，引起各界討論。其實國防部對於「延長兵役」早已籌備許久，當前我國面對的軍事威脅增加是事實，加上少子化的趨勢導致我國兵力減少，在此時延長義務役是必要做法。至於法律上的規定，我國《憲法》第 20 條中僅規定：「人民有依法律服兵役之義務」，而服兵役的詳細規定事項，則依據我國《兵役法》內的規範。

臺灣議題研究中心針對此議題分析了 5 萬筆的網路留言，其中有 7.1% 言論專注討論延長役期是否肇因於美方壓力，認為恢復 1 年義務役是為了符合美國利益。但針對這類的言論，總統及相關部門則否認美國介入我國內部事務，說明美國只是針對我國的國防兵役狀況給予建議，並不會實質介入決定。

而網路上也有約 4% 的言論提及「女性也應該服兵役(義務役)」，成為另一個討論問題焦點。關於女性是否需要當兵的問題，早在 2016 年時，「公共政策網路參與平臺」上就有高達 6 千多人連署，當時國防部回應：大法官針對《兵役法》中規定僅男性需要當兵作出解釋，說明《兵役法》並無違反《憲法》性別平等的精神。

60. 上文中提及我國《憲法》第 20 條中僅規定：「人民有依法服兵役之義務」，而有關服兵役的詳細規定事項(如年齡，免役條件)等，則依據我國《兵役法》內的規範，來補充憲法的不足。請問：上述此一現象呈現出《憲法》的何種特性？

- (A)最高性 (B)延伸性 (C)原則性 (D)固定性

61. 文中提到部分民眾認為延長役期是因為美國施壓，而我國總統及相關部門說明美國只是針對我國的國防兵役狀況給予建議，並不會實質介入決定。此段內容主要在表達哪一項國家組成要素的具體展現？

- (A)主權 (B)人民 (C)政府 (D)領土

三、手寫問答題：(本大題 5 分) ※記得寫上 班級：_____ 座號：_____ 姓名：_____

女性服兵役(義務役)的議題最近有愈來愈多人在討論，承上一個大題的短文內容提到：「大法官針對《兵役法》中規定僅男性需要服義務役作出解釋，說明《兵役法》並無違反《憲法》性別平等的精神。」請問：你支持女性也應該服兵役嗎？

請在下方空格中勾選後，並寫下你支持『或』反對的理由。(註：沒有寫出支持或反對的理由本題不計分)

支持，理由是：

反對，理由是：



(社會科試題 結束)