



花蓮縣立宜昌國中106學年度第一學期八年級第一次段考社會科試題

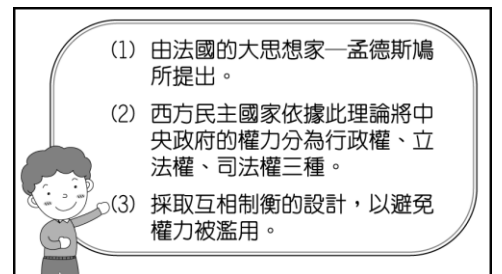
公民科 命題教師：褚文山

八年 班 座號：

姓名：

一、選擇：(每題4分，共計60分)

1. 以下何者具中華民國的國民身分？
(A)已來臺十年的日本人，領有演藝執照
(B)持有觀光護照，來臺灣宣傳的中國大陸人士
(C)領有中華民國身分證，旅居美國僑胞
(D)持有工作執照，來臺工作的泰國女傭。
2. 澳洲政府在形式上奉英王為國家元首，但實質上擁有國家統治權力的是總理，總理有權任免各部首長，並向國會負責。由上述資料判斷，下列哪一個國家的國體和政體與澳洲完全相同？
(A)沙烏地阿拉伯 (B)北韓
(C)日本 (D)美國。
3. 旺旺國的教育部長不顧民眾反對，強行實施新的教育政策，卻因為政策推動失敗而辭職下臺。上述情形主要展現了何種民主政治特色？
(A)民意政治 (B)責任政治
(C)法治政治 (D)政黨政治。
4. 下列幾個外籍朋友聚在一起談論自己的國家。請問：從哪一個人的發言可看出，該國家是屬於「共和國」？
(A)  我們的女王受到人民的愛戴。
(B)  我們的總統是由人民選出。
(C)  我們的政府不受民意監督。
(D)  我們的國王已經在位四十年了。
5. 右圖是小良做的公民報告。請問：這一篇報告的主題應該是何者？
(A)五權分立 (B)權能區分
(C)均權制度 (D)三權分立。
6. 臺灣漁船屢次闖入日本、菲律賓、南非等專屬海域內捕魚，而遭到對方國家的扣押。請問：「領海」是屬於國家構成的哪一項要素？
(A)人民、主權 (B)人民、政府
(C)領土、主權 (D)政府、領土。
7. 立法院為我國最高立法機關，負責制定法律與監督政府，但當行政院認為其制定的法律或政策窒礙難行時，應如何因應？ (A)可不接受，經總統核可後，解散立法院
(B)可不接受，經總統核可後，移請立法院覆議
(C)必須接受，因立法院對行政院有制衡效果
(D)必須接受，因立法委員即代表民意。
8. 我國於修憲時，為強化分權制衡的效果，因此新增「不信任案」的制衡設計。關於「不信任案」的程序與規定，下列哪一項說明是正確的？
(A)立法院對行政院的施政不滿意時，得對總統提出不信任案
(B)總統面對立法院提出的不信任案，得要求行政院院長辭職
(C)行政院長得辭職下台，並呈請總統解散立法院
(D)總統解散立法院後，同時必須辭職下臺。



9. 根據右圖中兩人的對話，可知我國中央政府體制的設計，可避免哪一流弊的產生？

(A)濫用私人 (B)獨裁統治 (C)政權轉移 (D)議會專制。

10. 新聞報導：「新首長上任後，首次召開『穩定物價小組會議』，該會議程包括：防制囤油處理情形報告、中秋節民生物資價格情勢與因應、肥料價格調整之因應等。」根據內容判斷，文中的「新首長」應是指下列何者？

(A)總統 (B)行政院院長

(C)立法院院長 (D)司法院院長。

11. 國家類型按照國體和政體排列組合共有四種。請問：在英國、荷蘭、瑞典、日本、泰國、古巴和汶萊中，屬於「君主立憲」的國家合計有幾國？

(A)4國 (B)5國 (C)6國 (D)7國。

12. 我國漁船常遭到日本以侵入其經濟海域為由扣押，甚至須花錢才能贖回，這是因為我國與日本對經濟海域認知不同而引起的爭執。請問：國際上的經濟海域是指由海岸線向外延伸多少範圍的海域？

(A)3浬 (B)12浬 (C)100浬 (D)200浬。

13. 我國中央政府五院中，有幾個院有「部」的組織？

(A)一個 (B)二個 (C)三個 (D)四個。

14. 國家總預算是政府年度預計支出的費用，從預算到決算有下列四個程序，請問何者敘述正確？

(A)總統編列預算 (B)行政院審查預算

(C)立法院執行預算 (D)監察院審核決算。

15. 小德在研究我國中央政府的分權制衡關係時，看到一則歷史新聞畫面（如右圖），根據圖中內容，發言者應該是擔任何種公職？

(A)總統 (B)立法委員


(C)立法院院長 (D)行政院院長。

你當公務員待遇似乎不錯，也幫我兒子找份工作吧？

不好意思，要成為公務人員必須通過國家考試喔！



對於在野黨對我提出不信任案的理由，我必須提出澄清和說明，我們施政團隊感謝執政黨立委的全力支持，謝謝大家。



二、配合題：(每題4分，共計40分)

(一)、下列是我國院際之間互動關係，請從答案選項中做出最適合的配對。

A. 倒閣 B. 同意權 C. 解釋憲法 D. 質詢

16. 立法院的立法涉及違憲爭議時，有賴大法官解決。

17. 立法院有權向行政院的施政對各部會首長提出詢問。

18. 立法院認為行政院的施政不佳，可對行政院院長提出不信任案。

19. 大法官的任命需由總統提名，經立法院的許可。

(二)、下列是有關中央政府職權的說明，請從答案選項中做正確的配對。

A. 總統 B. 行政院 C. 立法院 D. 司法院 A B. 考試院 A C. 監察院

20. 院長直接由總統任命，須向民意機關負責。

21. 審議法律、審核預算、質詢政府官員。

22. 負責糾舉、彈劾違法或失職的公務員。

23. 主掌國家考試及公務人員銓敘、保障、退休等事宜。

24. 經行政院會議決議發布緊急命令。

25. 負責違法失職公務員之懲戒事項。

花蓮縣立宜昌國中106學年度第一學期八年級第一次段考社會科試題

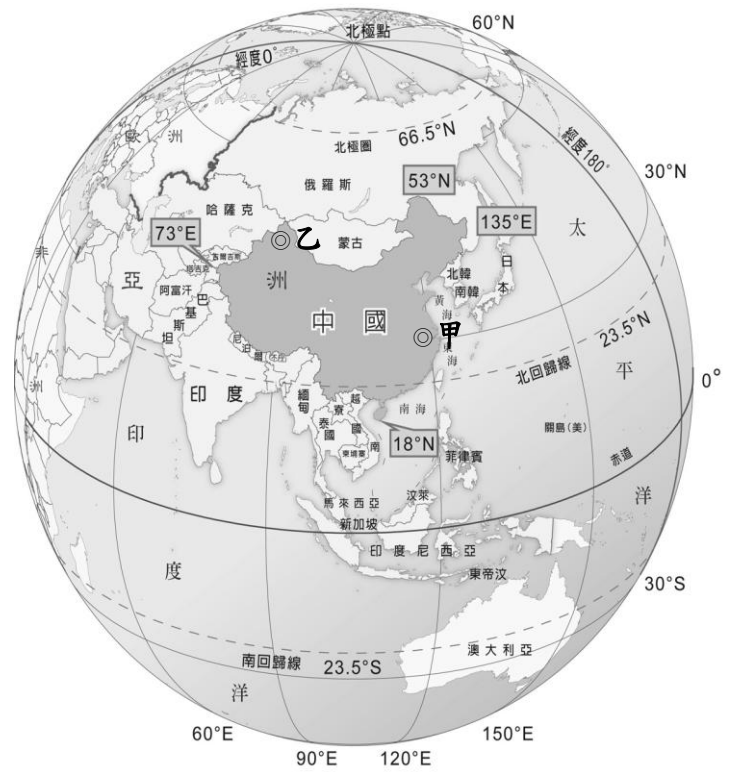
地理科 命題教師：林素葉

班級：_____ 姓名：_____ 座號：_____

一、單選題：每題4分，共88分

右圖為中國位置圖，請參考右圖回答下列問題：

26. 由圖判斷，中國位於下列哪兩個半球？
 (A) 東、南 (B) 西、北
 (C) 東、北 (D) 西、南
27. 中國宣稱在南海島礁擁有90%領土主權，並在該區填海造陸，此舉引起南海週邊國家及美、日的強烈關注，請問：下列哪一個國家最有可能是強烈反彈的國家？
 (A) 北韓 (B) 菲律賓 (C) 印度 (D) 俄羅斯
28. 由圖判斷，下列哪一種氣候較不可能出現在中國？
 (A) 寒帶氣候 (B) 溫帶氣候
 (C) 副熱帶氣候 (D) 熱帶氣候
29. 如右圖，住在甲城市的辰辰在星期六下午3點正與同學相約到學校打球，請問這時住在乙城市祥祥家的時鐘應該是幾點？
 (A) 1點 (B) 3點 (C) 5點 (D) 7點

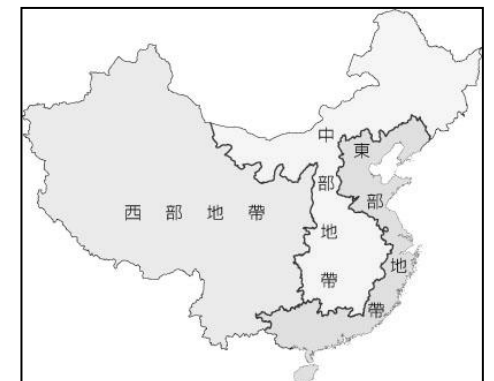


右圖為中國三大地理區域圖，請回答30-33題問題：

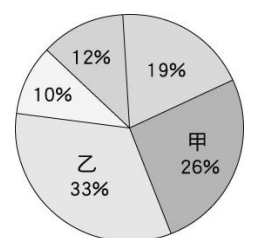
30. 第128屆國際奧委會全體會議於2015年7月31日宣布，將於2022年由北京主辦第二十四屆冬季奧林匹克運動會。北京將成為全球第一個既舉辦過夏季奧運會，又舉辦過冬季奧運會的城市。請問「北京」位於中國哪個區域？
 (A) 西部 (B) 南部 (C) 北部
31. 喜馬拉雅山脈是世界海拔最高的山脈，東西長2400多公里，南北寬200—300公里，總面積約594,400平方公里。請問喜馬拉雅山脈屬於中國哪一地區？
 (A) 西部 (B) 南部 (C) 北部



32. 請問北部與南部地區大至以秦嶺及下列哪一條河流作為分界？
 (A) 長江 (B) 黃河 (C) 珠江 (D) 淮河
33. 香港與澳門在歷史上分別被英國及葡萄牙統治多年，後來陸續回歸中國，因此在行政區的畫分上被稱為特別行政區，請問這二個特別行政區位於圖中哪一個地理區內？
 (A) 西部 (B) 南部 (C) 北部

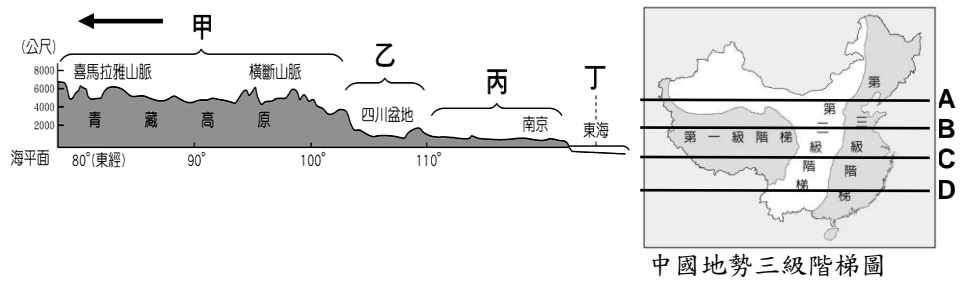


34. 右圖為中國地理區的另一種畫分方式，請問最主要是依據下列哪一項分類標準來畫分的？
 (A) 經濟發展 (B) 人文特色
 (C) 地勢高低 (D) 政治考量
35. 右圖為中國五大地形的圓餅圖，請問圖上甲、乙兩區塊分別代表哪兩種地形？
 (A) 丘陵、平原 (B) 高原、盆地
 (C) 盆地、山地 (D) 山地、高原
36. 承上題，在中國地勢三級階梯圖中，哪一階地形以甲、乙兩區塊地形為主？
 (A) 第一級階梯 (B) 第二級階梯 (C) 第三級階梯 (D) 以上皆是



37. 請問右圖地形剖面圖大致是依照中國地勢三級階梯圖中哪一條剖面線繪製出來的？

- (A) **A** (B) **B** (C) **C** (D) **D**

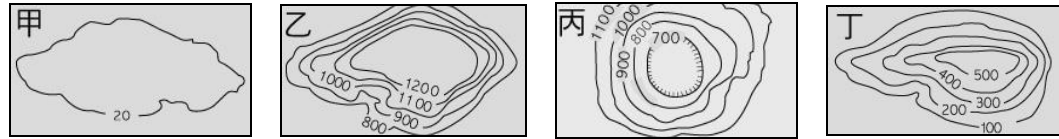


38. 承上題，在中國地形剖面圖中，箭頭(←)所指方向為哪一方？

- (A) 東 (B) 西 (C) 南 (D) 北

39. 右圖為中國第二階地形區某一地區的地貌景觀，該區土質疏鬆，水土流失極為嚴重，形成「千溝萬壑」的景象，請問該區域地形可用下列哪一張等高線地形圖來表示？

- (A) (B) (C) (D)



40. 中國四大平原分別為：長江中下游平原(甲)、華北平原(乙)、珠江三角洲(丙)、東北平原(丁)，請問若以冬季平均溫度由高到低排列，請問下列何者正確？

- (A) 甲乙丙丁 (B) 丁丙乙甲
(C) 丁乙甲丙 (D) 丙甲乙丁

右圖為中國沙岸與岩岸分布圖，請回答41-43題：

41. 圖中哪兩處海岸類型與台灣西部海岸類似？

- (A) 甲乙 (B) 乙戊
(C) 丙丁 (D) 甲丁

42. 下列哪一種產業活動比較符合丁的海岸類型？

- (A) 養殖漁業 (B) 捕撈漁業
(C) 曬鹽業 (D) 海水浴場

43. 請問如果從甲海岸港口搭船出發，一路延中國海岸向南航行，請問依序會經過中國哪些緣海？

- (A) 黃海-東海-南海
(B) 日本海-太平洋-印度洋
(C) 黃海-渤海-北極海
(D) 南海-東海-渤海



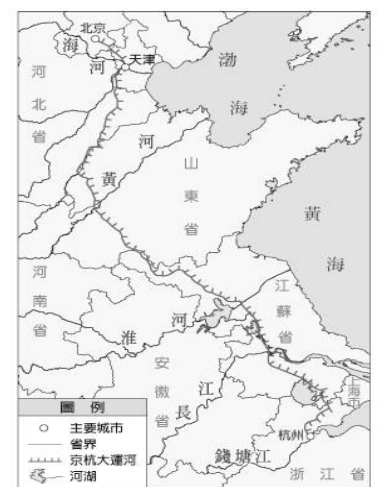
44. 右圖為中國某地區梯田景觀，請問梯田主要分布於下列哪一種地形區？

- (A) 平原 (B) 高原
(C) 丘陵 (D) 盆地



45. 右圖為京杭大運河路線圖，京杭大運河連接了海河、黃河、淮河、長江、錢塘江5個水系。請問此運河連結中國哪兩大地理區？

- (A) 東部-西部 (B) 南部-北部
(C) 東部-中部 (D) 西部-中部



46. 承上題，除京杭大運河外，中國歷史上許多朝代都曾大力修築運河，且大多為南北走向，請問：為何中國大多數的運河皆以南北向為主？

- (A) 缺乏南北向河流
(B) 河川流量不穩定
(C) 地形北高南低
(D) 出海比較方便

47. 清朝乾隆皇帝非常喜歡四處巡遊，其中又以江南（長江以南）地區的巡遊耗時最長、耗資最多，假設乾隆皇帝在五月搭船一路南下江南，請問沿途所見景色以下列哪一項最符合？

- (A) 連綿起伏的高山峻嶺 (B) 層層疊疊的梯田
(C) 寸草不生的沙漠 (D) 一片綠油油的農田

花蓮縣立宜昌國中106學年度第一學期八年級第一次段考社會科試題

歷史科 命題教師：邱騰玄

班級：_____ 姓名：_____ 座號：_____

一、選擇題：共 10 題，每題 4 分，共 40 分

48. 丹丹利用暑假遊歷中國各地，他在陝西參觀半坡遺址，在山東看到龍山遺址，在浙江尋訪河姆渡遺址。由這些遺址的分布狀況及其內容判斷，中國史前文化具有下列何種特色？

- (A)多元發展 (B)東西融合 (C)一脈相承 (D)南北對立。

【98 年第二次基測】

49. 右(圖 1)是東漢時代的樂舞百戲圖。圖中的表演有舞刀、倒立、耍球等，請問這些雜技的出現，與下列何者最有關連？

- (A)馳道 (B)絲路 (C)長城 (D)運河。

50. 20 世紀以來，由於考古學興盛，許多地區曾發掘出古文化遺址，有助於上古文化的研究。若我們要研究商代歷史，採用下列哪一古文化遺址的資料最適當？

- (A)仰韶文化 (B)殷墟文化 (C)二里頭文化 (D)十三行文化。

51. 張儀被秦惠王重用後，自願出使楚國，受到楚懷王的接待。張儀開門見山說：「只要大王與齊國斷交，秦國願與貴國和好，還會把六百里的土地獻給貴國。」楚懷王一聽大喜，決定與秦國親善並與齊國斷交。請問上文所提到的歷史故事，最可能發生在哪一個朝代？

- (A)夏朝 (B)商朝 (C)周朝 (D)漢朝

52. 承上題，有許多成語故事來自歷史典故，請問上文最符合那個成語所表達的意思？

- (A)養士之風 (B)合縱連橫 (C)指鹿為馬 (D)蕭規曹隨

53. 秦漢時代曾經長期被某一外患侵擾，而分別以興建長城與和親政策來因應，請問該外患位在右(圖 2)中的何地？

- (A)甲 (B)乙 (C)丙 (D)丁

54. 小雲在讀一本歷史書籍，書中是以各種人物傳記為主，稱為「紀傳體」。請問：第一位創造紀傳體的史家是下列何人？

- (A)孔子 (B)李斯 (C)班固 (D)司馬遷。

55. 東漢何人著有《傷害雜病論》一書，影響中國醫學發展甚深，被後世譽為「醫聖」？

- (A)張機 (B)華佗 (C)蔡倫 (D)張衡。

課文閱讀題

56. 請問右(圖 3)課文第 85 頁塗黑處，應為何人？

- (A)劉邦 (B)項羽
(C)班超 (D)王莽

57. 請問右(圖 4)課文第 78 頁塗黑處，應為何種制度？

- (A)專賣制度 (B)獨尊儒術
(C)宗法制度 (D)察舉制度



圖 1



圖 2

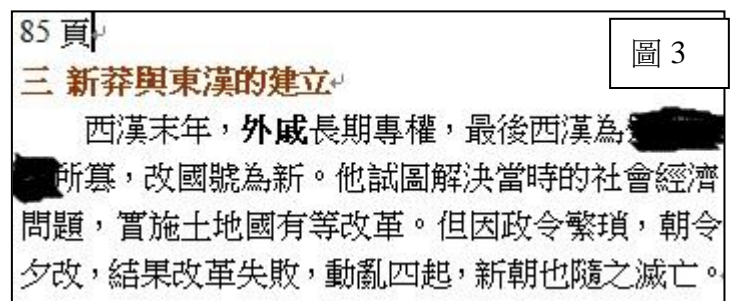


圖 3

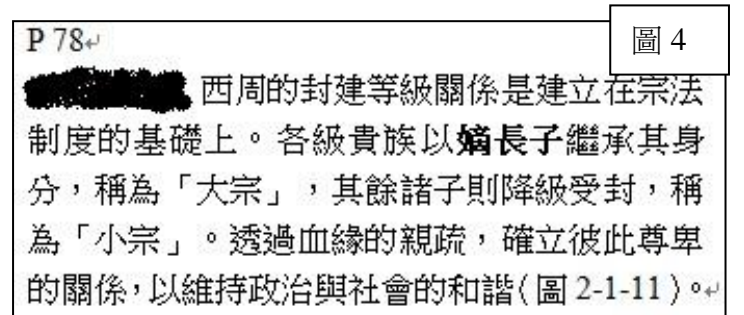


圖 4

<< 第 6、7 頁分別為歷史科及地理科非選擇題試卷，繳卷時請分開繳交 >>

二、手寫題：2 大題共 60 分（手寫題很多都是沒有標準答案，有寫就有分數）

秦始皇與漢武帝都是中國歷史上赫赫有名的君主。他們在位時，曾有許多重要措施，而且兩位同時都對思想進行控制。

1、請問兩位君主進行思想控制的措施分別為何？

秦始皇：_____ 漢武帝：_____

2、請從兩位君主選擇一位，詳述它思想控制的措施，對當時而言的優點為何？缺點為何？

優點：_____

缺點：_____

3、請問在你身處社會中是否有進行思想控制？如果你的答案是有，請具體說明之；如果是沒有，也請說明你的感受。

答：_____

春秋戰國時代，知識不再被貴族壟斷，各種學說蓬勃發展，學術思想出現「百家爭鳴」的盛況。其中以儒、道、墨、法四家學說最為重要，如右表。

學派	代表人物	學說主張
儒家	孔子	實行仁政，認為統治者必須具備道德的修養，才有資格行使統治權。
道家	老子	小國寡民，一切順其自然，無為而治。
墨家	墨子	主張兼愛、非攻，追隨者大多為平民。
法家	韓非	國君要用威勢、權術和刑罰來統治臣民。

(一) 1 漢高祖劉邦建政之初，為何採用道家思想為指導方針？ 2 請問漢初的這樣施政方針，所帶來的優點為何？缺點為何？

(二) 古云：「治大國若烹小鮮」（治理大國就像烹調美味的小菜一樣）。

1 請思考一下，你所在的班級，目前最需突破的困境為何？

2 若你被擢升為這個班級的導師，你想採行哪一家學說思想來經營這個班級，為什麼？具體對措施為何？

(一) 1：_____

2 優點：_____

缺點：_____

(二) 1：_____

2：_____

二、非選擇題：12分

認識中國的「一帶一路」政策

中國在 2014 年底提出「一帶一路」政策，還誇口要超英趕美，稱霸全球，不過這非幻想，而是正在發生中！中國主導的一帶一路計畫包含了 66 個國家，佔全球人口數的 66.9%，佔全球 30% GDP 經濟規模，總值高達 21 兆！。

2017年5月14-15日在北京舉行的中國「一帶一路國際合作高峰論壇」，全球共29個國家的領導人及涵蓋110個國家的官員及61個國際組織負責人和代表出席；包括美日韓的代表團均與會參加。這也是中國繼2016年G20杭州峰會再一次站在世界舞臺。

那什麼是一帶一路呢？

「一帶一路」是「絲綢之路經濟帶」和「21世紀海上絲綢之路」的簡稱。「一帶一路、互聯互通」不僅是中國對外開放的重大戰略，對亞洲發展也有重要的指標意義，更是加速推動歐亞板塊經濟一體化的實現。

【一帶】：絲綢之路經濟帶：

過去有張騫通西域，當時他所走過的這一段絲綢之路，就是中國現在西進的道路，也就是一帶。一帶的計畫中，中國規劃三條超級鐵路，直接貫到歐亞大陸的各個角落。

1. 中國→歐洲
2. 中國→地中海
3. 中國→南海

【一路】：21 世界海上絲綢之路：

絲綢之路是商業繁榮的代名詞，在海上中國也要建立它的絲綢之路。海上一路最主要有兩條航道。

1. 中國→南太平洋
2. 中國→印度洋→歐洲

海陸合起來的五條大幹道，就是中國這 10 年主打的一帶一路計畫。影響範圍非常大，稱得上是人類史上的第八大奇觀。

一帶一路不僅僅是的幻想或願景，而是一個已經在發生的驚人事實！

2011年初，中國的「渝新歐鐵路」上路，全長 11,179 公里，一路從重慶直通德國，別懷疑，就是一路！上車兩個禮拜後，下車就到德國！經過五年後的今日(2017 年)，這段鐵路已被擴展成「中歐班列」，從寥寥幾條鐵路線發展到 39 條運行線，聯通 16 座國內城市和 12 座境外城市，甚至能穿越英吉利海峽抵達英國倫敦！運送時間只需傳統海運的 1/3，運輸成本只需傳統空運的 1/5，大大提高了貿易效率和便利性。

<文章整理至2017/05/15 <https://buzzorange.com/2017/03/23/china-one-belt-and-one-road/> 3 分鐘搞懂「一帶一路」如何讓中國邁向世界第一強權；2017/07/04會計研究月刊 中國的「一帶一路」臺灣的威脅與機會>

請仔細閱讀文章後請回答下列問題：

一、你認為中國一帶一路政策向西最遠連接到哪一洲？(2分)

二、中國一帶一路計畫可稱為世紀大工程，請問「一帶」規劃的運輸工具是什麼？(2分)，「一路」向東可到達何處？(2分) 規劃路線中為何不包括空運？(2分)

三、身為國中生的你，在閱讀完文章後，你認為台灣是否該加入中國的一帶一路？請從「有利」和「不利」兩方面分別討論。

(4分)



花蓮縣立宜昌國中 106 學年度第一學期八年級第一次段考社會科試題

參考解答：

1.	2.	3.	4.	5.	6.	7.	8.	9.	10.	11.	12.	13.	14.	15.	16.	17.	18.	19.	20.
C	C	B	B	D	C	B	C	A	B	B	D	C	D	D	C	D	A	B	B
21.	22.	23.	24.	25.															
C	AC	AB	A	D															
26.	27.	28.	29.	30.	31.	32.	33.	34.	35.	36.	37.	38.	39.	40.	41.	42.	43.	44.	45.
C	B	A	B	C	A	D	B	A	D	A	C	B	B	D	B	B	A	C	B
46.	47.																		
A	D																		
48.	49.	50.	51.	52.	53.	54.	55.	56.	57.										
A	B	B	C	B	A	D	A	D	C										

地理非選擇題參考答案：

一、 歐洲(2分)

二、 1 鐵路(2分)

2. 南太平洋(2分)

3. 成本較高(運費貴)、運載量較少……(2分)

三、 學生自由發揮，但須分別就「有利」和「不利」兩方面提出看法(4分)