

# 花蓮縣立宜昌國中 106 學年度第 1 學期第一次段考社會科試題

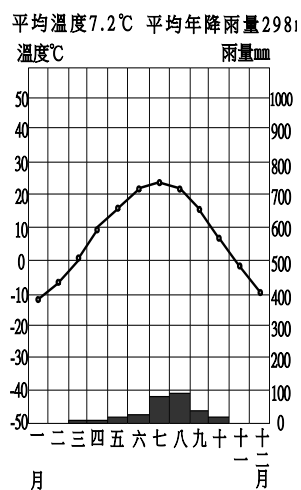
## 壹、地理科

命題教師：朱惟庸老師

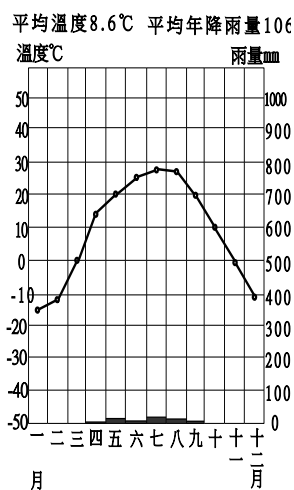
### 一、選擇題，每題 4 分，共 100 分

- 歐洲人口分佈較其他各大洲均勻，最主要的原因為何？  
(A)地形平坦，無沙漠氣候 (B)海洋深入，交通便利 (C)位居陸半球的中心 (D)工業發達，經濟繁榮。
- 肥沃的美索不達米亞平原，物產豐饒，自古為兵家必爭之地。請問，這片美麗的平原最主要分布於哪個國家？  
(A)伊拉克 (B)伊朗 (C)土耳其 (D)阿富汗。
- 中亞地區若要發展農業活動，須仰賴灌溉工程。請問：這是因為當地主要以哪種氣候類型為主？

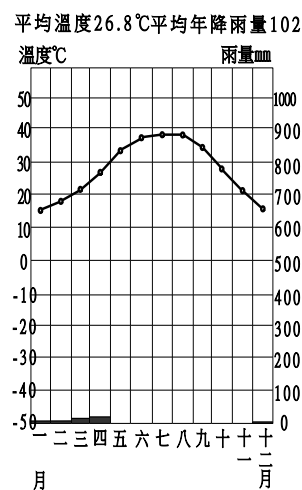
(A)



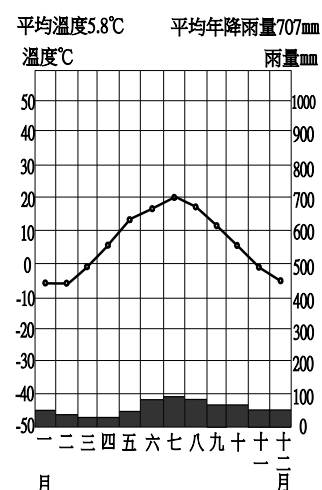
(B)



(C)

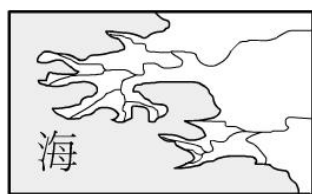


(D)

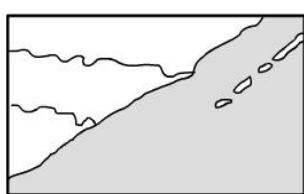


- 歐洲經濟發展程度最高的地區，應為下列哪兩區？  
(A)東歐、西歐 (B)西歐、南歐 (C)南歐、北歐 (D)西歐、北歐。
- 「巴爾幹半島的農民，一位自然環境的限制，讓農業發展困難。」上述的「自然環境限制」所指為何？  
(A)距海遙遠降水少 (B)石灰岩地形發達，土壤貧瘠 (C)緯度高，無霜期短 (D)年降水變率大，水旱災頻仍。
- 南歐地區航運發達，該地區的海岸型態，最可能的是下列哪一種？

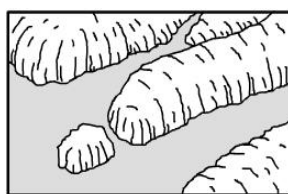
(A)



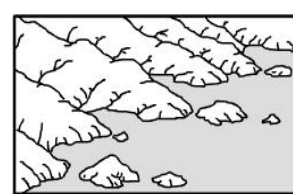
(B)



(C)



(D)



- 中國新疆因氣候乾燥，為避免水源被蒸發，當地居修築坎井，利用暗渠引用地下水灌溉，此種灌溉方式在下列哪一個地區最可能見到？  
(A)兩河流域 (B)阿拉伯高原 (C)安那托利亞高原 (D)伊朗高原。
- 下列哪一個都市，是猶太、基督與伊斯蘭教三教的聖地？  
(A)耶路撒冷 (B)巴格達 (C)麥加 (D)卡達。
- 東歐國家國民所得普遍低於歐洲平均值，主要的原因為下列何者？  
(A)國家不重視教育，教育水準偏低 (B)今日的獨裁政權，限制經濟發展 (C)自然環境不佳，人口稀少 (D)昔日共產主義政權統治影響。
- 義大利北部的波河平原，是該國的精華區。該區有世界聞名的汽車工業，例如藍寶堅尼、法拉利等。請問，波河平原發展工業的主要條件，為下列何者？  
(A)煤礦豐富 (B)來自阿爾卑斯山的充沛水力 (C)位於西亞與西歐的必經交通路線上 (D)消費人口眾多，是世界第一大汽車消費市場。

11. 中華民國台灣在歐洲的唯一邦交國為下列何者？  
(A)葡萄牙 (B)教廷 (C)土耳其 (D)德國。

圖 1



12. 圖 1 所代表的組織，名稱為何？  
(A)亞太經合會 (B)石油輸出國家組織 (C)歐盟 (D)東南亞國協。

13. 鹹海面積的日益縮減，和下列哪一種作物的大量種植有直接相關？  
(A)玉米 (B)水稻 (C)棉花 (D)大豆。

14. 西亞的四大高原中，哪一塊高原的地質構造最古老？  
(A)安那托利亞 (B)伊朗 (C)阿富汗 (D)阿拉伯 高原。

圖 2

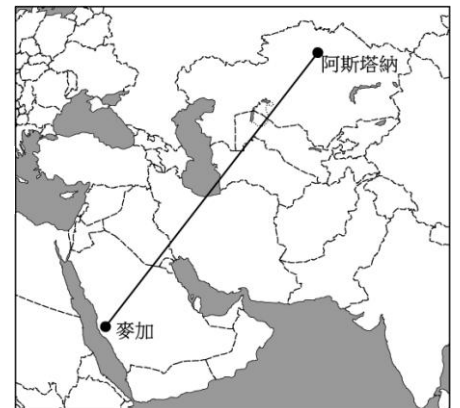


15. 敘利亞因為主政的少數什葉派與多數的遜尼派國民內部衝突，從 2011 年「阿拉伯之春」開始，內戰頻仍，造成至少四百萬難民外逃。圖 2 為歐洲與敘利亞位置圖，請問，當敘利亞的難民以生活水準高的歐洲做為主要逃難方向時，哪個國家將是距離敘利亞最近的歐洲國家？  
(A)義大利 (B)希臘 (C)西班牙 (D)德國。

16. 歐洲北部從英國南部，延著法國北部、德國、波蘭，一直到歐俄境內，是一塊平坦的大平原。這個平原形成的原因，與下列哪一種「外營力」最有相關性？  
(A)風力 (B)板塊推擠 (C)河川 (D)冰河。

17. 世界熱氣球競速大賽，預計要從伊斯蘭教的聖地麥加到哈薩克的首都阿斯塔納。您是參加比賽的選手，如果熱氣球行進路線如圖 3，且會經過(甲)高原，(乙)盆地，(丙)平原等地形，請問從麥加出發後，依序看到的地形為何？  
(A)甲丙甲乙 (B)甲乙丙乙 (C)乙甲乙丙 (D)乙丙甲丙。

圖 3



18. 西亞的熱帶沙漠氣候與溫帶地中海型氣候，其共同成因為何？  
(A)西風 (B)暖流 (C)副熱帶高壓 (D)地勢高聳。

19. 西亞地區的糾紛，原因包括了宗教、種族與水源等。下列哪一個國家，和其週邊鄰近國家，同時存在上述三種衝突因子？  
(A)沙烏地阿拉伯 (B)科威特 (C)以色列 (D)阿拉伯聯合大公國。

20. 阿拉伯世界中，曾經標榜為「自由報導」的半島電視台，因為背後的出資者是政府，加上 2013 年對埃及的伊斯蘭教組織「兄弟會」被推翻，呈現一面倒的報導，讓該電視台的記者身處危險中而不聞不問，因此導致沙烏地阿拉伯、埃及、阿拉伯聯合大公國、巴林與葉門等國家與該電視台所在國家政府斷交。請問，從名稱上來看，參考右方西亞、中亞地區主要國家圖，半島電視台最可能位於下列哪個國家？



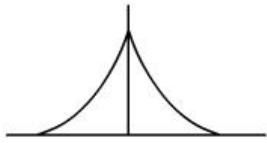
(A)伊朗 (B)伊拉克 (C)卡達 (D)烏茲別克。

21. 關於歐洲的「溫帶海洋性氣候」，下列敘述何者為「非」？  
(A)夏雨冬乾  
(B)分佈在西歐與北歐沿海  
(C)受到北大西洋暖流與西風影響  
(D)年溫差小於溫帶大陸性氣候。

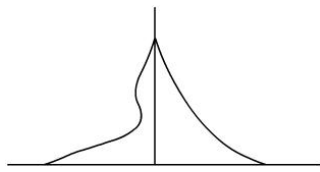
22. 西亞的產油國，常因本國勞力不足，必須引進外籍勞工。從宗教觀點來看，下列哪個國家的移工會是產油國的首選？  
(A)波蘭 (B)印度 (C)泰國 (D)巴基斯坦。

23. 歐洲工業化時間長，醫療進步，出生率偏低，其人口金字塔最有可能為下列何者？

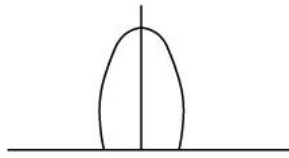
(A)



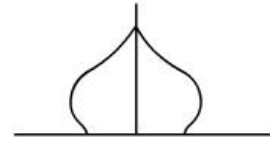
(B)



(C)



(D)



#### ◎資料一、加泰隆尼亞獨立運動

2017年10月1日，位於西班牙東北的加泰隆尼亞省舉行獨立公投，經五小時開票後結果揭曉，530萬選民中有226萬2,424人投票，90.9%的選民支持加泰隆尼亞獨立建國，而有7.8%的選民反對。加泰隆尼亞預計10月9日宣布獨立。

加泰隆尼亞有自己的語言，但西班牙近年經濟發展不佳，拖累該地區。加泰隆尼亞地區佔整個西班牙人口16%，卻承擔了25.6%的西班牙出口、19%的國民生產總值，及20.7%的海外投資，雖然青年失業率遠低於全國，但也是高達35%，即10個年輕人，便有3.5人失業；相對的，中央政府對加泰隆尼亞的投資卻呈現下滑，2015年國家預算草案分配9.5%，遠低於2003年的近16%。

歐盟與西班牙政府皆宣布本次公投不合法，不承認加泰隆尼亞的獨立。

#### ◎資料二、庫德族獨立運動

庫德族於2017年9月24日舉行獨立公投，結果27日出爐，官方宣布以逾92%支持率通過。庫德族自治政府表示，共有330萬人投票，投票率達72%，選委會宣布這是一場「勝利而且成功」的公投。

自古以游牧維生的庫德族，居住在伊拉克、敘利亞、土耳其與伊朗的交界貧瘠沙漠上。有自己的語言，但是沒有自己的文字，多為遜尼派穆斯林。隨著敘利亞內戰，伊斯蘭國(ISIS)在傳統上的庫德族地盤崛起，美國為了剷除伊斯蘭國勢力，大力支持庫德族，使庫德族在軍事上獲得長足的進步，尤其是掌握伊拉克北方產油大城吉爾庫克後，庫德族自治政府實力大增，因此不理會伊拉克、土耳其等國警告，自行舉辦獨立公投。

對於公投結果，土、兩伊都不予承認，目前僅以以色列表態支持庫德族建國。

參考以上資料，請回答24~25題：

24. 比較這兩個獨立運動，下列何者為是？

(A)都沒有獲得原本所屬國家承認 (B)都是因為經濟問題而產生獨立意識 (C)目前沒有任何國家承認獨立結果 (D)兩者都有美國介入。

25. 從資料推測，兩個獨立運動之所以不被原來的宗主國承認，都和下列哪項考量有關？

(A)經濟損失 (B)軍事要地 (C)外力介入 (D)宗教信仰。

## 貳、公民科

命題教師：藍惠寧老師

### 一、單選題(1 題 5 分，共 80 分)

26. 在其他條件不變的情形下，一個人選擇將資源用於某一用途時，必須考慮所放棄的其他用途中，價值最高者，這個價值可能是金額，也可能是喜好程度或滿意程度。上述為經濟學上的何種概念？  
(A)預期心理 (B)機會成本 (C)生產成本 (D)消費需求。
27. 面對每年夏季6至9月國內用電量的尖峰期，台灣電力公司採取「以價制量」政策，也就是在夏季時收取較高的電費，以降低用電量。請問：上述電力公司的做法，是運用下列何項經濟學的概念？  
(A)需求法則 (B)供給法則 (C)公平交易 (D)機會成本。
28. 某運動鞋廠商找人氣偶像江羿為其產品代言。請問：該廠商採取這種做法，是因為消費行為會受到以下何者的影響？ (A)消費能力 (B)消費者偏好 (C)預期心理 (D)商品價格。
29. 愛吃的龍共到雜貨店想購買零食，他選了波卡洋芋片35元，大乖乖50元。但結帳時，龍共發現自己只帶了30元，所以一樣也沒有買成。根據上述，導致龍共作出此消費決定的主要依據為何？  
(A) 預期心理 (B)消費者偏好 (C) 消費能力 (D)炫耀財富。
30. 宗霖發現自己會受到高單價的商品的吸引，當珠寶、鑽石的價格愈高，他就越想購買。請問：這種消費行為稱為什麼？ (A)普遍性消費 (B)敗家性消費 (C)獨占性消費 (D)炫耀性消費。
31. 某新聞報導：「颱風即將來襲，蔬菜批發價格蠢蠢欲動。農委會表示，最近批發菜價上揚應是受到颱風可能來襲的影響，目前冷藏庫存蔬菜充裕，可在颱風過後視市場需求適時分批釋出，農委會將全力穩定蔬菜供應……。」根據內容判斷，颱風前夕，影響批發菜價上揚的因素為何？ (A)價格因素 (B)所得水準 (C)消費者偏好 (D)預期心理。
32. 「自由時報2011-10-20：國內鮮乳漲價引發軒然大波，政府認定味全、統一及光泉等三大乳品業者在國內市占率達八成四，卻在十月起聯合調漲鮮乳價格，一公升裝鮮乳三家業者統統漲了六元，違反法律有關聯合行為的規定，決議重罰三業者合計新台幣三千萬元罰鍰。」請問報導中，三大乳品業者所違反的法律為何？  
(A)《公平交易法》 (B)《消費者權益促進法》 (C)《民法》 (D)《消費者保護法》。
33. 生產行為的決策者，稱為生產者。依此判斷，下列何者屬於「生產者」？  
(A) 假日到文化中心看表演的丞浩 (B)在特立屋打工的立愷  
(C) 正在做生意的早餐店老闆宜璇 (D)接受肩膀按摩服務的培逸
34. 生產者運用各項生產要素製造產品的行為稱為「生產行為」。請問：以下何者屬於生產行為？  
(A)又南和蕙璇相約到好樂迪高歌 (B)新娘祕書玉燕為新娘沛琪化妝  
(C)昱融到廟裡免費取用茶水 (D)遠哲到便利商店購買日常用品
35. 產品包含了有形的「財貨」及無形的「勞務」。請問：以下何者屬於無形的「勞務」？  
(A)溫泉水會館提供的SPA按摩 (B) 美容護膚中心的化妝品  
(C)麵包師傅製作的起司蛋糕 (D)書店中擺設的書籍雜誌
36. 烘焙師雨柔說：「餅乾採機器生產，產量雖多，但外型都相同。所以我最近想用手工製作餅乾，讓外型多元化。」請問雨柔考量的課題屬於下列何者？  
(A)如何生產 (B) 生產什麼 (C)生產數量 (D)為誰生產
37. 生產者在生產過程中，若使用自有資金、土地、雇用自己的薪資，也應計入生產成本中，這是什麼概念的應用？  
(A)供給法則 (B)需求法則 (C)社會成本 (D)機會成本

38. 家杰有甲、乙、丙三份工作機會，將其機會成本繪製如表1。若家杰在繪製表格時僅以薪資為考量，根據表中內容判斷，甲、乙、丙三份工作的薪資，由高到低依序為下列何者？【105會考】

工作	機會成本
甲	丙的薪資
乙	甲的薪資
丙	甲的薪資
表1	

- (A)丙、乙、甲      (B)甲、丙、乙  
(C)丙、甲、乙      (D)甲、乙、丙

39. 表2是宜昌大飯店的住房狀況，如果希望提高住房率，在不考慮其他條件下，以下4方案何者比較合適？

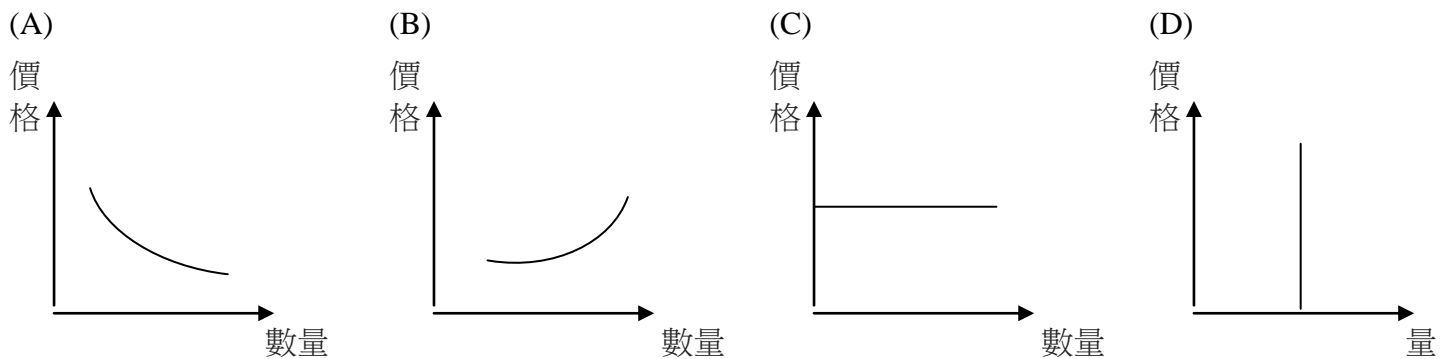
		(A)	(B)	(C)	(D)
時段	原本房價(元)	優惠後房價(元)	優惠後房價(元)	優惠後房價(元)	優惠後房價(元)
甲	4000	2800	3600	2000	2800
乙	4000	2000	2000	3600	3600
丙	4000	3600	2800	2800	2000

時段	住房率
甲	40%
乙	90%
丙	70%
表2	

40. 供給法則是指「在其他條件不變下，商品價格上升，供給量增加；商品價格下跌，供給量減少。」下列敘述何者可用「供給法則」來解釋？

- (A)便利商店舉辦咖啡第二杯半價活動，消費者願意多購買咖啡飲用  
(B)國道五號通車後，宜蘭房價大漲，民眾抱怨買不起房子  
(C)新型流行行感冒開始流行，口罩價格上漲，業者加緊趕工製造口罩  
(D)國際紙漿價格上漲，消費者到大賣場採買，預先囤積衛生紙

41. 以下何圖屬於「供給曲線圖」？



二、 手寫題(20分)

見手寫卷



## 參、歷史科試題


命題教師：黃若芸老師

### 一、選擇題（每題 4 分，共計 100 分）

42. 約西元前 3500 年開始，人類歷史陸續發展出高度文明，如：西亞的蘇美、埃及的古王國及中國的殷商時期，下列何者為上述古文明的共同特色？  
(A)出現文字 (B)強調一神信仰 (C)實施種姓制度 (D)建立跨歐亞的帝國。【104 會考】
43. 小仟正在閱讀某本介紹世界各宗教的書籍，其中一篇談到「原始巨人死後，天神用他的嘴造出了祭司，用雙臂造成了貴族，用雙腿創造了平民，用雙腳生成了奴隸。僧侶還宣揚：凡是循規蹈矩、安分守己的人，來世才能升為較高，否則，即降為較低等」。由上述資料內容來看，這應該是描述哪一個宗教的教義？  
(A)祆教 (B)佛教 (C)猶太教 (D)婆羅門教。
44. 承上題，這宗教最早出現在右圖中哪一個地區？  
(A)甲 (B)乙 (C)丙 (D)丁。
45. 承題 43，後來哪一個宗教的創立是因為不滿此宗教的教義？  
(A)基督教 (B)佛教 (C)猶太教 (D)婆羅門教。
46. 亞歷山大大帝曾帶兵開疆拓土，在各地建立起希臘式的城市，使各地的文化逐漸融合成新的文化內涵。請問：後人如何稱呼這種「新的文化內涵」？  
(A)西亞文化 (B)希臘文化 (C)希臘化文化 (D)羅馬文化。
47. 承上題，請問此「新的文化內涵」應該是融合了哪些地區的文化？  
(A)希臘、西亞、埃及 (B)羅馬、希臘、波斯 (C)印度、西亞、希臘 (D)希臘、波斯、印度。
48. 古希臘哲學家蘇格拉底常常在雅典的街道上，與人談論政治、社會、人生等議題，透過不斷地對話，蘇格拉底希望可以找到人生的意義、人存在的價值、和較好生活的方式。請問，下列哪一句話最有可能出自蘇格拉底之口？  
(A)人要透過不斷地修行，才能夠超脫人世間的生老病死  
(B)世間最珍貴的不是「得不到」和「已失去」，而是現在能把握的幸福  
(C)人世間存在著善惡二神，現在我們所生活的世界是善神戰勝惡神的結果  
(D)人要相信宇宙間的唯一真神，唯有信仰真神我們才能夠獲得永生。
49. 人與環境是不可分割的，也就是說人必須生活在某種環境中，也因此人類的發展常常受到環境的影響。而自然環境常常是歷史學家用以解釋某些人類歷史發展的重要依據。請問，下列的課文敘述何者『不是』以自然環境來解釋人類歷史的發展？  
(A)兩河流域地勢開闊、缺乏天然屏障，容易受到外來民族的入侵，因而政權更迭頻繁  
(B)埃及四周有高原及沙漠的屏障，地形封閉，外族不易入侵，政治穩定  
(C)希臘半島多山且地形崎嶇，西元前八世紀時，逐漸發展成許多獨立城邦  
(D)印度河流域發展出進步的城市文明，有完善的城市規畫，且出現許多大型的公共建設。
50. 底格里斯河與幼發拉底河沖積出來的平原地帶，被古希臘人稱為美索不達米亞；此地土壤肥沃，適合種植作物，也成為週邊各民族競相爭奪的地區。請按照政權建立的先後順序，排列出曾入主此地區的不同民族？  
(A)巴比倫人→加爾底亞人→亞述人→蘇美人 (B)蘇美人→加爾底亞人→巴比倫人→亞述人  
(C)蘇美人→巴比倫人→亞述人→加爾底亞人 (D)加爾底亞人→蘇美人→亞述人→巴比倫人。
51. 阿華看到故宮博物院的網站上宣傳著即將開放的「大英博物館藏埃及木乃伊：探索古代生活」展。好奇的阿華問了問同學，為什麼古代埃及人要將死者製作成木乃伊。請問，下列哪一位同學的回答最能夠為阿華解惑？  
(A)超大胖：因為埃及人相信只有將人體製成木乃伊才能跳脫出因果輪迴的痛苦  
(B)大胖：因為埃及人認為人死後需要藉由木乃伊的製作來完成上天堂的任務  
(C)中胖：因為埃及人認為將人體製成木乃伊才能夠取悅神明，避免神明降下詛咒  
(D)小胖：因為埃及人相信死後靈魂可以復活，因此將人體製成木乃伊，以供靈魂復活之用。
52. 自古以來，不同的族群之間便以不同的形式接觸著，包括戰爭、貿易、合作等形式，而在這些互動的過程中，彼此間的文化也因此不斷地融合與創新。請問，下列哪一個敘述『最無法』呈現出因為不同族群間的互動而帶動了文化交流？  
(A)腓尼基人擅長於地中海沿岸航海與商業貿易，學習並簡化了埃及的象形文字後再傳入歐洲  
(B)斯巴達人從小接受嚴格的軍事訓練，重視紀律與服從，不斷地向外作戰  
(C)羅馬人隨著對外不斷地開疆拓土，在所到之處建立了許多羅馬式的建築  
(D)阿拉伯人將古印度人所發明的數字系統改良後，在貿易的過程中帶往西方。



53. 倫倫在介紹古蹟的網站上發現了一幅有關亞述雕刻的圖片（如下圖左），同時網站上還展示了這幅雕刻的手繪圖（如下圖右）。好奇的倫倫和同學們仔細觀察這兩幅圖，並開始討論亞述人的生活方式。請問下列哪一位學生的敘述較符合圖片的內容？



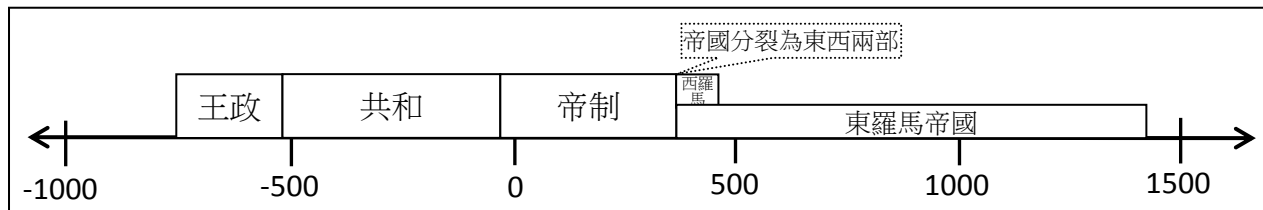
- (A)阿郁：亞述女性通常身穿長袍，頭戴帽子，裙擺長至腳踝  
 (B)倫倫：亞述人尚未發明武器，只能徒手與敵人或猛獸對打  
 (C)鈞鈞：亞述人還不會使用交通工具，因此移動的速度很緩慢  
 (D)小玲：亞述人知道如何馴服動物，在作戰時已經會借用獸力。
54. 八年級的公民課本中曾經提到：「民主政治一詞源於古希臘，本意為『人民統治』，故強調『主權在民』」。依據此課文中的敘述，一般而言，世界上最早的民主政治可追溯至古希臘哪一個城邦所採行的制度？  
 (A)斯巴達 (B)雅典 (C)奧林匹亞 (D)特洛伊。

◎自古至今，以各種語言文字寫成的書籍無以數計，無論是文學創作、歷史記載、詩歌、宗教經典、科學筆記等，都保留了先人的智慧與看待世界的方式，也為現代的我們提供了一扇一探過去的窗口。請仔細閱讀下列各段文字（第 55 題至第 58 題），並選出此段文字最有可能出自於下列哪一本書籍。

- (A)猶太教舊有的經典《舊約聖經》  
 (B)耶穌的門徒將其生前言行記錄而成《新約聖經》  
 (C)希臘化時代科學家歐幾里德所寫《幾何原本》  
 (D)古希臘歷史學家希羅多德所著《歷史》  
 (AB)傳說為希臘詩人荷馬所著《伊里亞德》
55. 「根據有學識的波斯人的說法，最初引發爭端的是腓尼基人。波斯人說，以前住在波斯灣沿岸的腓尼基人，定居下來後，便開始走上遠途的航程。他們載運著埃及和亞述的貨物，曾在許多地方，陳列他們的貨物進行貿易。」
56. 「在希律王的時候，耶穌出生在猶太的伯利恆。有幾個星象家從東方來到耶路撒冷，（對希律王）說那生下來作為猶太人之王的嬰兒在哪裡？我們在東方看見了他的星，因此特地來拜訪他。」
57. 「諸方形有對角線者其兩餘方形任借一角線方形為磬折形。」
58. 「塞堤斯沒有忘記  
 兒子的懇求，一大早就從海浪裡踏出  
 身腿，直奔奧林帕斯山頂，遼闊的天界，  
 ...  
 向王者宙斯、克羅諾斯之子求援：  
 『多謀善斷的宙斯，奧林帕斯的主宰，讓我兒獲取尊譽，  
 讓特洛伊人在戰場上得勝，直到阿開亞人  
 補足他的損失，增添他的榮光！』」

**(後面仍有試題)**

◎一般而言，歷史學家將羅馬的政治發展分為三個主要的階段，如下方示意圖。請仔細閱讀圖表後，回答第 59 題至第 61 題。



59. 羅馬在西元前一世紀時，政治型態漸漸從貴族共同議決政策的共和制，走向權力集中於皇帝的帝制。請問，由共和制轉變為帝制的關鍵，主要和哪一位人物集中權力有關？  
 (A)凱撒 (B)屋大維 (C)君士坦丁 (D)狄奧多西。
60. 疆域是一個國家的領域範圍，一般而言，一國的疆域並非固定不變，常常會隨著對外征戰、外族入侵、內部動盪等因素而擴大或縮小。請問，羅馬人所建立的國家，在哪一個政治時期疆域範圍最為遼闊？  
 (A)王政時期 (B)共和時期 (C)帝制時期（未分裂前） (D)東羅馬帝國時期。
61. 政治統治與宗教信仰往往對於人們的生活有著重要的影響，但此兩者之間卻非總是和平共存，例如基督教在創立之初，即受到羅馬政府的禁止，不少的基督徒因為不願意更改宗教信仰而殉道。請問，基督教主要是在哪一個時期，遭受到羅馬政府的禁止？  
 (A)王政時期 (B)共和時期 (C)帝制時期（未分裂前） (D)東羅馬帝國時期。

◎請仔細閱讀下列引文，並回答第 62 題至第 66 題。

這部法典雕刻在石碑上，全文結構可分為序言、正文和結語三部分。

頒布法典的君王稱此法典是由天神傳授的，所以他在法典的序言中聲明：

「……天神叫道：『○○，值得讚美的人君，諸神的虔敬者，你當使正義廣被四方，你當除滅邪惡，你當教化萬民，你當增進萬民福祉。○○，……你使巴比倫繁榮昌盛……』。」

法典正文有282條，試舉其中幾條為例—

- 1.若兒子毆打父親，則他們(法官)應砍掉他的手。
- 2.若貴族毀傷另一個貴族的眼睛，則他們(法官)應該毀傷他的眼睛。
- 3.若自由民損毀任何自由民之子之眼，則應毀其眼。
- 4.若貴族打掉一個平民的牙齒，他應該賠償三分之一米納(金錢單位)的銀子。
- 5.若自由民損毀自由民奴隸之眼，則應賠償其買價之一半。

62. 文中提到「○○，值得讚美的人君，諸神的虔敬者」，指的應該是下列哪位君主？  
 (A)阿育王 (B)釋迦牟尼 (C)漢摩拉比 (D)埃及法老。
63. 由上文第 2、3 條的法律條文可知，這部法典有何特色？ (A)以牙還牙，以眼還眼  
 (B)神蹟顯現，仲裁糾紛 (C)理性懲罰，刑責適當 (D)照顧弱勢，追求正義。
64. 由統治者的聲明內容來看，這部法典顯示出何種意義？ (A)強調君王的地位高於神祇  
 (B)強調法律由神授予且公正 (C)法典由王自行創立與頒布 (D)法典內容由人民商議完成。
65. 由法律條文的內容來看，推測當時的社會具有什麼特色？  
 (A)當時仍然停留在以物易物的階段，尚未發展出貨幣的使用  
 (B)當時的社會之中，每一個人的地位都是平等的  
 (C)當時人民只使用私刑，犯罪者並不用受到法律的制裁  
 (D)當時的法律尚未保障每個人的平等地位，不同身份的人犯下相同的罪，其所受的懲罰不同。
66. 從上述的內容來判斷，這個石碑最有可能出自哪一個古文明？  
 (A)中國 (B)埃及 (C)西亞 (D)印度。



## 宜昌國中106學年度上學期第一次段考九年級公民手寫卷(共2頁)

(請以藍色或黑色原子筆作答)

9年\_\_班 座號：\_\_\_\_ 姓名：\_\_\_\_\_

一、「來一枝冰店」在園遊會時生產了350枝冰棒，平均生產一枝冰棒的總成本為10元。他們以一枝冰棒20元的售價，賣出了320枝冰棒。

1. 請問利潤多少(請寫出算式)?(算式正確1分，算式與答案皆正確2分，僅答案正確0分)
2. 請應用課本第一、二課所學的概念，提供一個有助於在園遊會結束前快速把冰棒賣完，且能獲得利潤的方法，並說明理由。(能寫出方法，並根據所學說明理由得4分；能寫出方法，理由說明不完整得2分；只能寫出方法而不能說明理由得1分)

二、台灣中油公司宣布：油價將於明日凌晨起自一公升30元調漲至30.5元。正在上夜班(隔日才下班)的尚均聽到消息後，考慮是否該向公司請假1小時去為自己的BMW愛車加油。依據尚均的油箱剩餘容量，他當晚可加油60公升，而尚均1小時的夜班薪水為500元。

以下題目請只考慮「金錢」的因素來作答：

提示：

總成本=外顯成本(實際上需支付的錢)+隱藏成本(因做一選擇而失去其他選擇可獲得的錢)

1. 尚均請假去加油的總成本為多少錢(算式與答案皆正確2分，僅算式正確1分，僅答案正確0分)：
2. 尚均下班後再去加油的總成本為多少錢(算式與答案皆正確2分，僅算式正確1分，僅答案正確0分)：
3. 尚均做哪一項選擇的成本較低(1分)：

晚上請假去加油

下班後再去加油

### (背後仍有試題)

三、

受到漫畫《女僕咖啡廳》的啟發，大學剛畢業的廖清和國中同學在吉安火車站附近開了一家「自己家咖啡廳」，希望讓顧客進入店裡就有家的感覺。

店裡賣的東西和一般咖啡廳差不多，有各式手沖咖啡、現做鬆餅、蛋糕等。不同的是服務生都具有多項才藝，他們工作時會穿上維多利亞式的服裝，不定時還要負責音樂的演出。奕鈞就是店被最火紅的服務生，客人最喜歡他親切的服與絕佳的小提琴表演。整體來說，客人與服務生之間互動都不錯。

為了與其他的咖啡店有所區別，廖清花了很多錢去購置員工的服裝，對於咖啡廳的裝潢也非常講究。而付給員工的薪水更比一般咖啡店多了 50%。

咖啡廳的特色，果然吸引了許多客人慕名前來消費。奇怪的是，雖然咖啡廳經常客滿，座無虛席，然而利潤卻無法提高。近來更面臨服務生紛紛離職的狀況。

1.請根據上文，寫舉出廖清開店所用到的生產要素各一項(寫超過一個例子者 0 分)。

生產要素	舉例 (每格都要寫一個例子)	備註
自然資源(1 分)		請勿寫原料，例如咖啡豆、雞蛋等。
人力資源(1 分)		
資本(1 分)		
企業才能(1 分)		

2.請依據文中所敘，並利用下列公式中之相關因素來推論：

造成「自己家咖啡廳」的利潤無法提高的原因可能為何？

(所做說明必須與以下公式中的任一項目有關)5 分

*利潤=銷貨收入-生產成本	銷貨收入=單價×賣量
---------------	------------

9 年級社會科解答

1.	2.	3.	4.	5.	6.	7.	8.	9.	10.
A	A	B	C	B	D	D	A	D	B
11.	12.	13.	14.	15.	16.	17.	18.	19.	20.
B	B	C	D	B	D	A	C	C	C
21.	22.	23.	24.	25.	26.	27.	28.	29.	30.
A	D	C	A	A	B	A	B	C	D
31.	32.	33.	34.	35.	36.	37.	38.	39.	40.
D	A	C	B	A	A	D	B	C	C
41.	42.	43.	44.	45.	46.	47.	48.	49.	50.
B	A	D	B	B	C	A	B	D	C
51.	52.	53.	54.	55.	56.	57.	58.	59.	60.
D	B	D	B	D	B	C	AB	B	C
61.	62.	63.	64.	65.	66.	67.	68.	69.	70.
C	C	A	B	D	C	x	x	x	x