

(歷史部份)

命題教師:黃若芸老師

一、單選題(每題5分，共計100分)

1. 西元 1793 年，英國國王派遣馬加爾尼來華向乾隆皇帝祝壽（如右圖所示）。請問，馬加爾尼使節團來華最主要的目的為何？

- (A)向乾隆皇帝祝壽
- (B)拓展中英的貿易
- (C)蒐集中國的情報
- (D)宣揚英國的強大



2. 清末俄國趁中國內憂外患之際，與中國訂約而取得東北、西北的廣大土地。請問：中國此時所面臨的內憂外患為何？

- (A)鴉片戰爭、流寇叛亂
- (B)英法聯軍、太平天國
- (C)中法戰爭、太平天國
- (D)牡丹社事件、流寇叛亂。

3. 右圖為光緒年間發生在南海的戰爭路線圖。這場戰爭是因何國為爭奪清廷的哪個藩屬所引起？

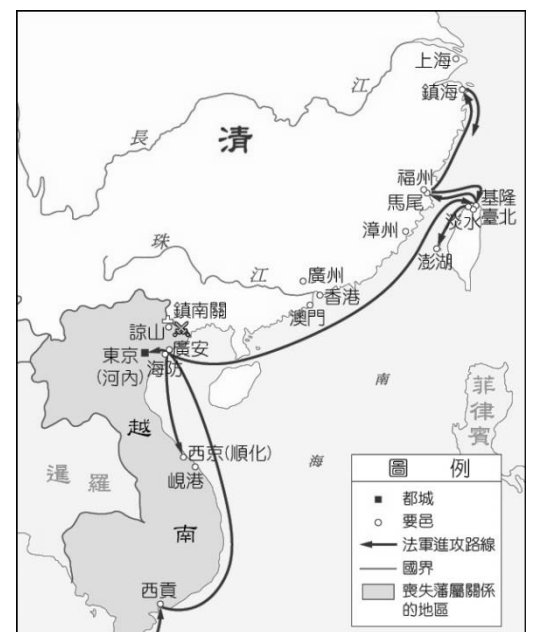
- (A)法國——越南
- (B)英國——緬甸
- (C)日本——琉球
- (D)俄國——蒙古。

4. 這場戰爭促使清廷更加重視海防，進而准許下列何地建省？

- (A)臺灣
- (B)福建
- (C)廣東
- (D)新疆。

5. 課文第 90 頁提到，「清代中期以後，各地陸續出現人民變亂，其中規模最大、影響最深的首推太平天國。」請問，太平天國的領導人是誰？

- (A)洪秀全
- (B)左宗棠
- (C)阿美士德
- (D)李鴻章。



6. 承上題，課文提出清代中晚期的民變中，「影響最深的首推太平天國」。請問，下列哪一項發展最有可能是太平天國所帶來的影響？

- (A)中國人保留太平天國的想法，從此不再遵循儒家思想，改而依循基督教教義
- (B)叛亂過程中，人口的流動帶動商業的興起，長江中下游成為清代經濟重鎮
- (C)漢人協助政府平定叛亂後，政治地位提高，逐漸在朝廷中掌握權力
- (D)叛亂平定後，外國人才被允許到上海、福州等地進行貿易。

7. 清代魏源曾編寫《海國圖志》一書，書中介紹世界各國的地理位置、歷史、政治、經濟等，另外，書中並提出「師夷長技以制夷」的作戰策略。請問，下列哪一句話最能符合魏源「師夷長技以制夷」的意思？

- (A)教導西方人中國的技藝，以使外國人能夠服從中國
- (B)學習外國人先進的技能，用來有效的控制中國人
- (C)成為外族人的老師，並且教授他們製造長槍的技術
- (D)學習西方所擅長的技術，用來抵抗西方列強的入侵。

8. 承上題，下列哪一項行動最能夠具體表現出「師夷長技以制夷」的想法？

- (A)道光年間，道光皇帝派林則徐前去廣州查禁鴉片
- (B)設置兵工廠製造武器，並成立北洋艦隊等新式海軍
- (C)以「天下一家，共享太平」為口號，吸引許多貧苦民眾的支持
- (D)廢除自明清時代開始的科舉考試格式八股文。

9. 承上題，這樣的想法並沒有馬上得到所有人的支持，請問，下列哪一位人物的立場和其他三人不一樣？  
 (A)李鴻章：「西方輪船和電報在短時間能移動千里，兵器機械的效力有百倍之強，這是數千年來從未出現過的強敵。若只是依循著傳統的方法，將無法應付現在的情勢。」  
 (B)劉銘傳：「自強之道，包括訓練軍隊和製造器物，但關鍵在於建造鐵路，因為鐵路有利於糧食的運送、災難時的救濟、商業和礦產運輸等，尤其在軍事用途上，更是當前迫切需要的。」  
 (C)張盛藻：「臣民自強之道在於守氣節，數百年來都以堯舜孔孟之道來培養。今讀書人開始學習西方技藝之事，不再有氣節，之後如何能夠成就大事？」  
 (D)張之洞：「軍隊所使用的槍炮都從國外進口，耗費了中國許多錢財…且兵器種類不一。衡量局勢，中國必須設立工廠自製槍炮，以避免受到外國人的牽制，這才是自立自強的長久之計。」
10. 自馬關條約簽訂後，日本開始在中國通商口岸設置工廠，但其他各國也加入設廠的行列，使中國傳統的工業無法與之抗衡，請問其他各國是根據哪一條款，而可以同樣地在中國設立工廠？  
 (A)租界 (B)片面最惠國待遇 (C)協訂關稅 (D)領事裁判權。
11. 清代晚期美國為了避免其在中國的利益受到直接的損害，提出了「門戶開放政策」。請問，何謂「門戶開放政策」？  
 (A)各個國家開放自己國家的大門，允許其他國家自由進出各國，並從事商業活動  
 (B)中國必須打開國家的大門，讓各個國家能夠在中國境內自由買賣與傳教  
 (C)各個國家打開原本畫分的勢力範圍，使各國在中國的商業與工業等權利是平等的  
 (D)美國開放其國家的邊界，使周邊國家的貨物能夠自由買賣。
12. 承上題，這個政策的提出，和哪一場戰爭後的情勢有直接相關？  
 (A)鴉片戰爭後，中國維持有限貿易的原則  
 (B)英法聯軍後，鴉片可以合法在中國買賣  
 (C)中法戰爭後，法國占領了中國的藩屬國為殖民地  
 (D)甲午戰爭後，俄國和德國等國向中國租借港口和土地。
13. 小維在網路上查到一篇清代讀書人，要上呈給皇帝的建議書：「我認為當今之世，應該以開創之勢來治天下，不能再固守舊制了…所謂的開創就是要改變制度。不變法則祖宗的土地將會不斷被割讓給外國，最後遭至滅亡，變法則能夠使國家強大起來；到底該不該變法，相信皇上一定能夠分辨出來。」請問，根據內容，小維查到的建議書最有可能是哪一位清代人物所寫的？  
 (A)左宗棠 (B)林則徐 (C)洪秀全 (D)康有為。
- ◎課文第 86 頁中提及「十五世紀新航路發現以來，西方各國前來東亞貿易的商船絡繹不絕。向來以天朝上國自居的清廷逐漸受到來自西方的挑戰。」請仔細閱讀此段文字，並回答下列題目。
14. 請問，何謂「天朝上國」？  
 (A)武力最為強大的國家 (B)被視為政治、經濟、文化等層面都高於其他地方的國家  
 (C)與宗教信仰有關，是上帝所建立的國家 (D)地理位置中最上方的國家。
15. 文中提及「清朝逐漸受到來自西方的挑戰」。請問，所謂的「挑戰」最早可以追溯至何時？  
 (A)馬加爾尼使節團來中國 (B)利瑪竇帶進西方天文、地理等新知識  
 (C)鴉片戰爭爆發與簽訂條約 (D)俄國取得中國北境大片土地。
16. 在第二課中，再次出現「中國天朝的地位屢遭挑戰」的文句。請問，下列哪一個狀況『無法說明』天朝地位多次受到挑戰的情形？  
 (A)歐洲國家陸續派兵前來，擊敗清朝政府  
 (B)有些國家向清朝政府提出兩國官方往來地位平等  
 (C)列強一一占領中國的藩屬國，切斷其與清朝的關係  
 (D)西方人士來到東方協助中國成立新式軍隊。
17. 請問，清代中晚期所稱的「西方」國家，應該是指哪些國家？  
 (A)日本、朝鮮 (B)泰國、越南 (C)加拿大、美國 (D)法國、英國。
18. 雖然「十五世紀新航路發現以來，西方各國前來東亞貿易的商船絡繹不絕」，但自清代盛世開始，外國商人逐漸被要求只能到哪一個港口進行貿易？  
 (A)廣州 (B)福州 (C)北京 (D)上海。
19. 承上題，但自哪一場戰爭後所簽訂的條約中提到，外國人可以進入中國內陸地區進行商業活動，與傳教活動？  
 (A)鴉片戰爭 (B)中法戰爭 (C)英法聯軍 (D)甲午戰爭。
20. 承第 18 題，清代治理下的臺灣也因為清朝政府對外的戰爭，而受到影響。請問，外國人可以在臺灣開設洋行，並且進行交易買賣，主要和哪一個戰爭後所簽訂的條約有關？  
 (A)鴉片戰爭 (B)中法戰爭 (C)英法聯軍 (D)甲午戰爭。

一、單選題(每題 4 分，共 44 分)

21. 關於法律的特性與功能，何人的觀點是『錯誤』的？  
(A)致明：法律有時可以引導社會發展的方向，促進社會進步  
(B)庭軒：法律最重要的功能是維護人民的權利  
(C)雅琪：法律的制定有明確的程序  
(D)湘芸：法律一經過制定就不可以再更改，以免造成人民無所適從
22. 關於「法治社會」與「人治社會」的比較，何者『錯誤』？  
(A)姿瑋：「法治社會」有法律；「人治社會」沒有法律而由統治者直接管理人民  
(B)永裕：法治國家的法律必須經過法定程序制定並生效後，才具有約束人民行為的效力  
(C)幸臻：「法治社會」的法律不僅規範人民，也規範政府  
(D)宇偉：如果一個國家的統治者可以只憑自己的意志制定修改法律，這不是法治國家
23. 國家在制定法律時，必須先確立國家的重大原則，並將這些原則法制化作為國家法律的基礎。請問這些法制化的重大原則通常都被明訂在哪裡？  
(A)憲法 (B)民法 (C)總統職權行使法 (D)國家安全法
24. 請問「憲法」、「法律」、「命令」三者之間的關係為何？  
(A)憲法是根本大法，法律根據憲法而訂  
(B)命令是立法院依據法律的精神所制定，作為行政機關執法的依據  
(C)命令的效力最大  
(D)三者的功能不一樣，互不相屬，各自沒有關聯
25. 請依效力由大至小排列以下法律的位階：甲.中華民國憲法 乙. 食品查核檢驗管制措施辦法 丙. 道路交通管理處罰條例。  
(A)甲乙丙 (B)甲丙乙 (C)乙甲丙 (D)丙乙甲
26. 對於我國法律和命令是否牴觸憲法若有疑義，可以依法聲請下列何者解釋？  
(A)總統 (B)司法院院長 (C)司法院與立法院共同協商 (D) 司法院大法官
27. 關於我國憲法的修改程序，以下敘述『何者為非』？  
(A)修改憲法必須連帶修改其他法律，影響重大，故須謹慎  
(B)修憲需經過立法院提案，全民公投複決後，交由總統做最後決定才可修改  
(C)憲法所涉及的都是國家重要的基本原則，須經過廣泛討論以凝聚共識  
(D)憲法是國家的立國根本，其修改比其他層級的法律嚴格
28. 現代民主國家多將人民的基本權利規範在憲法中，其主要的目的『何者為非』？  
(A)避免政府侵犯人民的權益 (B)規範政府有積極保護人民權利的義務  
(C)憲法的內容最詳細，能對人民的權利做最周詳的保護 (D)憲法有最高效力，最能有效保障人權
29. 以下何者是人民請求國家積極作為的權利？  
(A)平等權 (B)自由權 (C)受益權 (D)參政權
30. 以下何者是有條件的基本權利(只限於特定人的權利)？  
(A)平等權 (B)自由權 (C)受益權 (D)參政權
31. 以下何者同時是我國憲法規定權利與義務？  
(A)納稅 (B)服兵役 (C)受國民教育 (D)守法

二、配合題(一題 4 分，共 36 分)

(一)我國憲法規定政府若要限制人民的權利，必須至少符合以下四項要件之一，並有法律的依據。  
請判斷下列事件分別符合哪一項要件。

選擇項目：

(A)防止妨礙他人自由 (B) 維持社會秩序 (C)避免緊急危難 (D)增進公共利益

32. 顯均從非洲豬瘟疫區攜帶豬肉製品回國，遭到航警開處 20 萬元罰款，所帶的肉製品也被銷毀。
33. 榕華騎車超速，被員警紫綬依道路交通管理處罰條例開處罰單。
34. 宗原新推出的音樂專輯-宜昌之歌，涉嫌抄襲雨涵的創作，恐怕會因違反著作權法而被處以罰款。

(二)請問以下各題所述，分別屬於我國憲法所保障的哪一種基本人權？

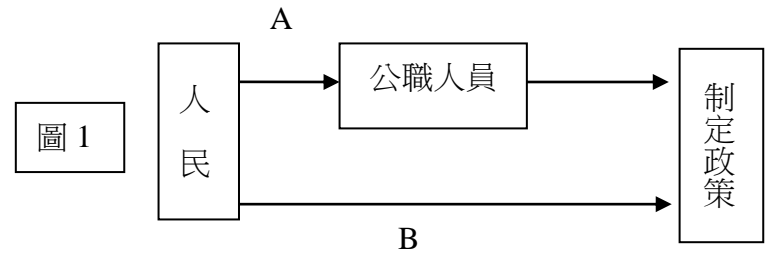
選擇項目：(A) 平等權 (B) 自由權 (C) 受益權 (D) 參政權

35. 李檢參加 108 年公務人員考試順利錄取，進入吉安鄉公所任職。
36. 彥臻參加政府舉辦的職業訓練，希望能進入職場。
37. 視障考生在參加考試時能申請延長作答時間或特殊考場。

(三)圖 1 為人民參與政府運作的途徑：

選擇項目：甲.選舉 乙.罷免 丙.創制 丁.複決

38. 請問 A 所指的是什麼？(A)甲乙 (B)丙丁 (C)甲丙 (D)乙丁
39. 請問 B 所指的是什麼？(A)甲乙 (B)丙丁 (C)甲丙 (D)乙丁
40. 何者是公民投票？(A)甲乙 (B)丙丁 (C)甲丙 (D)乙丁



107 學年度下學期第一次段考八年級公民科手寫卷 8 年\_\_\_\_班 座號：\_\_\_\_ 姓名：\_\_\_\_\_

※共計 20 分，請用黑色原子筆作答。(鐘響記得繳回此卷，並寫上姓名)

一、請分別簡述憲法的「原則性」、「最高性」、「穩定性」指的是什麼以及為什麼有這些特性？

答：1.原則性(2 分)：

2.最高性(2 分)：

3.穩定性(2 分)：

二、通訊器材功能的提升與使用的普及，讓人們可以隨時隨地發佈、轉傳各種訊息，然而在缺乏相關法律的規範下，也造成假新聞泛濫的問題。假新聞所造成的影響，小至從對個人名譽、生活、健康等的危害，甚至可能大到對國家安全的威脅。有鑑於此，有人提議應該針對散播假新聞的人進行裁罰；然而也有人擔心這恐怕會有侵害人權的疑慮。請問：

1.「傳播詢息」屬於我國憲法所明定的何項權利？(3 分)

答：

2. 中華民國憲法第 23 條「以上各條列舉之自由權利，除為(1)防止妨礙他人自由、(2)避免緊急危難、(3)維持社會秩序，或(4)增進公共利益所必要者外，不得以法律限制之。」

政府若要以法律來對訊息的傳遞做出限制，你認為較可能的理由為以上 4 項理由的哪一項？為什麼？

答：理由(3 分)：

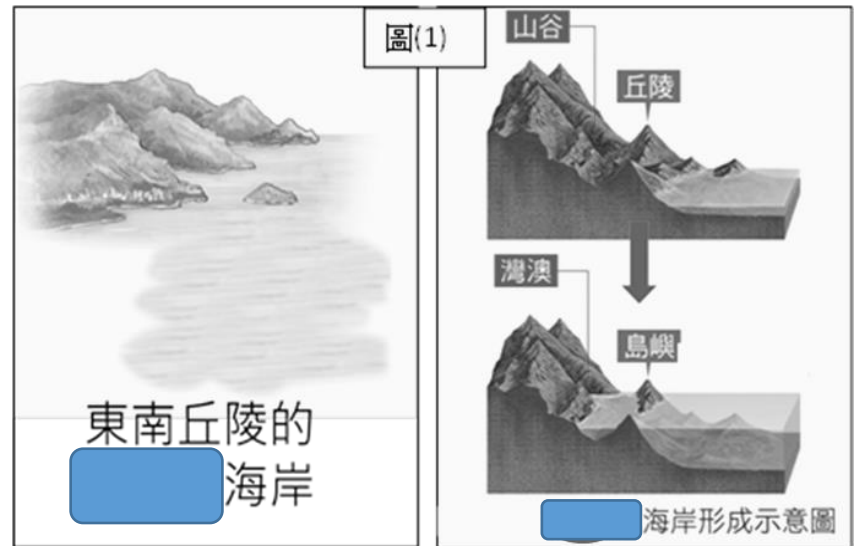
因為(3 分)：

3.政府要處理假新聞所造成的危害時，有可能會破壞我國自解嚴後好不容易建立起來的言論自由。甚至可能成為執政當局打壓異議人士(和政府意見不同的人)的藉口。請從本次公民課程所學到的概念(例如：人治/法治的區別、法律的功能、人權的意義、人的尊嚴與價值)並依據憲法 23 條限制人民基本權利的條文，提出一個既可以抑制假新聞的危害，又能避免對人權造成侵害的方法？(5 分)

一、題組題(每小題 5 分，共 35 分)

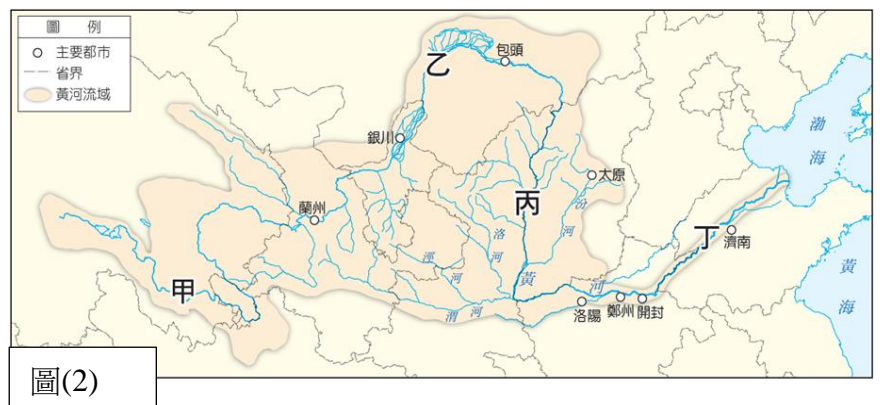
(一) 右圖(1)是中國東南丘陵的海岸地形示意圖，請依照圖中的提示回答下列各小題：

41. 圖(1)中所示的地形是哪種海岸?  
 (A) 谷灣式海岸 (B) 峽灣海岸 (C) 斷層海岸 (D) 堆積沙岸
42. 請問圖(1)中的海岸特色下列何者正確?  
 (A) 多沙灘、瀉湖 (B) 多珊瑚礁  
 (C) 多港灣、島嶼 (D) 平直陡峭
43. 圖(1)中此一海岸地形的成因何者正確?  
 (A) 火山爆發岩漿堆積在海岸邊形成島嶼  
 (B) 河流帶來泥沙堆積在海岸邊形成沙灘  
 (C) 山脈直接瀕臨大洋形成平直陡峭的斷崖  
 (D) 海水上升淹沒谷地而形成港灣、島嶼
44. 此種海岸地形對當地居民的產業造成那些影響?  
 (A) 利於大規模機械化農業發展 (B) 利於發展漁業、航運業發展  
 (C) 利用高山的融雪發展綠洲農業 (D) 進口鐵礦、石油，發展重工業

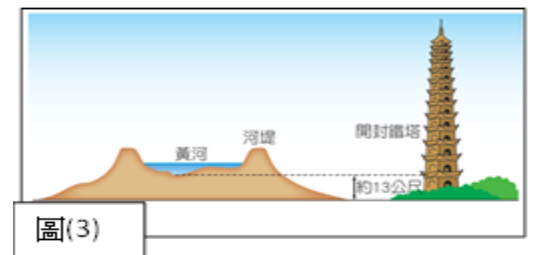


(二) 華北地區主要位於黃河流域的中、下游一帶，自古以來因黃河水旱災頻繁，而使「治黃」成為許多朝代所必須面對的課題。請回答下列各題：

45. 俗諺說：「黃河水，一碗水半碗泥」。請問：依圖(2)所示，造成黃河中下游含沙量大的主要原因為何?  
 (A) 甲區高山地帶的河岸侵蝕  
 (B) 乙區引黃河水灌溉河套平原  
 (C) 丙區的黃土高原質地鬆軟受流水侵蝕  
 (D) 丁區的黃河因大量堆積黃土所致



46. 圖(3)為黃河流域某個河段的示意圖。請問：其主要發生於圖(2)中的哪個河段？又產生這種特性的原因為何?  
 (A) 甲：溶蝕作用 (B) 乙：地殼隆起 (C) 丙：河水侵蝕 (D) 丁：泥沙堆積



47. 目前，中國為了治理黃河，正根據不同河段的環境特性、開發程度，而採取不同的治理措施。請問下列敘述何者正確？  
 (A) 源頭地區建分洪區，分散大量洪水 (B) 上游地區加高堤防，保護沿岸居民  
 (C) 中游地區造林植草，做好水土保持 (D) 下游地區闢建水庫，抵擋大量洪水

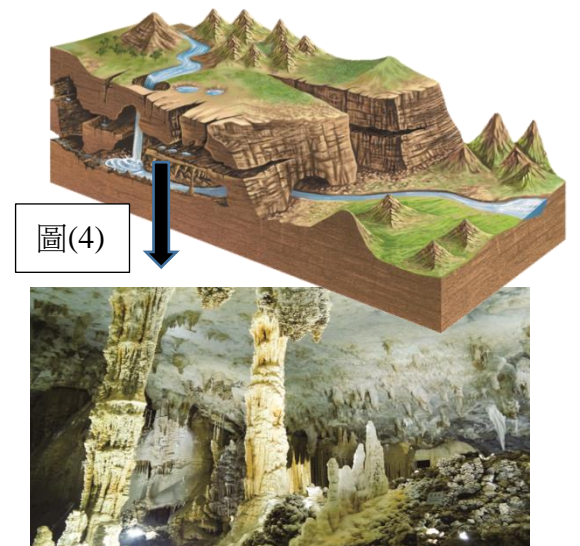
二、單選題(每題 5 分)

48. 下列何者是中國華南地區在 1980 年代推行經濟改革開放政策後能吸引大量的外商設立工廠的原因之一?  
 (A) 當地盛產煤、鐵、石油和天然氣 (B) 最早設立經濟特區且具備僑鄉優勢  
 (C) 可利用長江的巨大水運網 (D) 當地高科技產業有中國矽谷之稱
49. 三國時代蜀漢諸葛亮曾經稱讚一地「沃野千里、天府之土」，有『天府之國』的稱號。故劉備聽其言進佔此地成為其立國之根據地，形成歷史上的三國鼎立時代。請問此地是?  
 (A) 東北平原 (B) 華北平原 (C) 長江三角洲 (D) 成都平原
50. 中國華北地區的氣候具有『年雨量變率大』的特性，此一特性造成下列哪一個現象?  
 (A) 水旱災頻繁 (B) 多濕地沼澤 (C) 具完整的水運網 (D) 多能源礦產

※本大題最高以 50 分計，適當的答案寫越多，分數則越高。(鐘響記得繳回此卷，並寫上姓名)

(一) 圖(4)是雲貴高原的地形示意圖，請依提示寫出你對它的所有認知。(30 分)

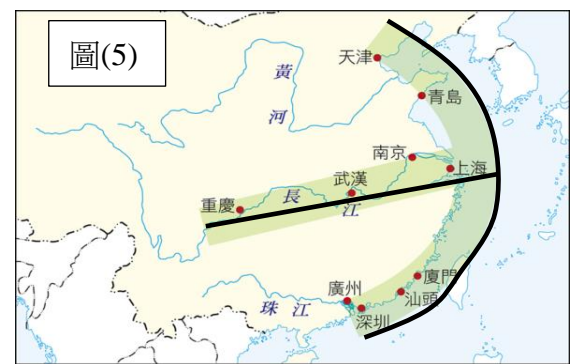
- (1) 寫出你所知道有關此地的地形特色。  
(如地形專有名稱、地表的特徵、地形形成的過程、受到哪些作用等)



- (2) 此種地形對當地居民產業、生活(如交通)造成的影響為何?
- (3) 請你提供當地居民建議，如何善用當地的地形特色來做長遠的產業發展。

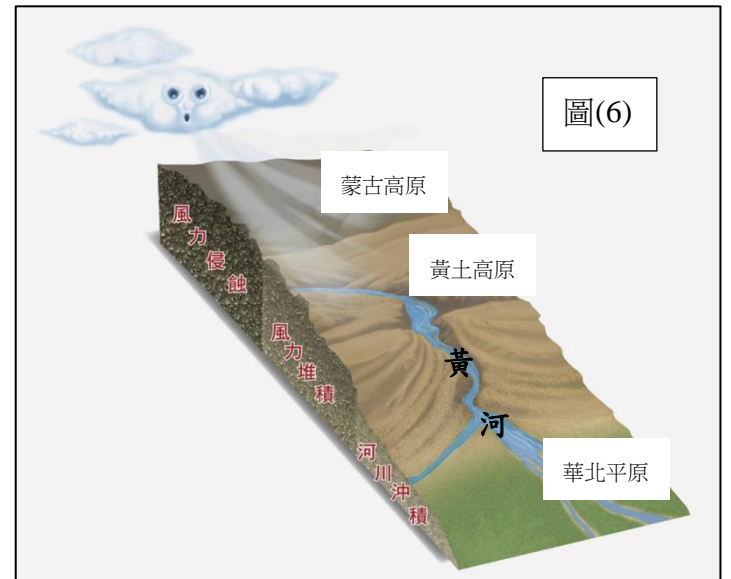
(二) 請依照右圖(5)的內容所示，回答下列小題：(10 分)

- (1) 判斷圖中哪個都市是中國目前經濟最繁榮，國際貿易最發達的港口？
- (2) 寫出你判斷的依據 (為何這各都市最繁榮發達的原因)。



(三) 看圖說故事：請依照右圖(6)的內容，回答下列小題：(30 分)

- (1) 說明蒙古高原、黃土高原、華北平原三者在地形形成上的先後關係和演變過程。



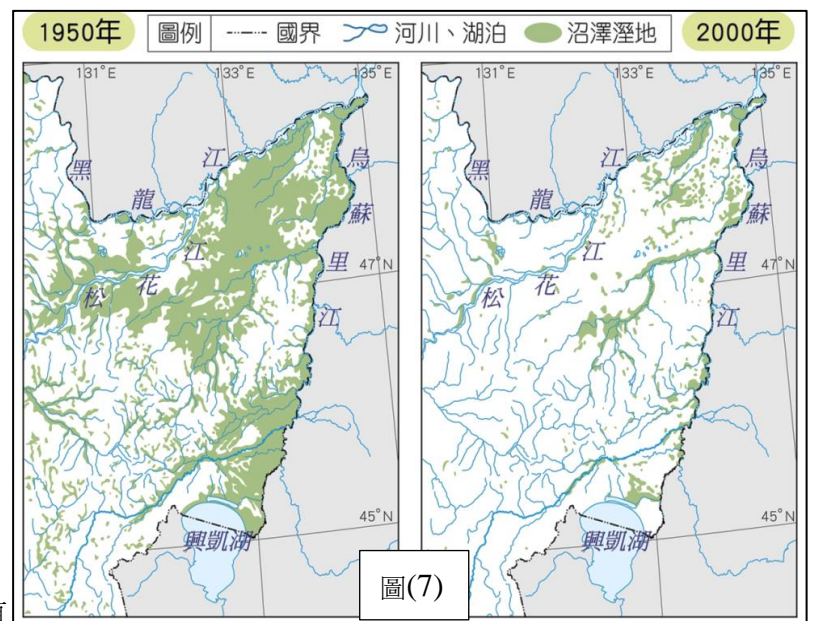
- (2) 『黃河』在其中扮演了哪些作用，對當地人民造成那些影響？

(四) 看圖說故事：(30 分)

- (1) 請問右圖(7)中所顯示的是中國東北地區的哪一個平原？

- (2) 這個平原從 1950 年到 2000 年發生了甚麼事？  
(如發生什麼轉變、轉變的原因、造成的影響…等等)

- (3) 如果你的家鄉也有類似的地區，你覺得該怎麼做比較好？



※參考答案

1	2	3	4	5	6	7	8	9	10
B	B	A	A	A	C	D	B	C	B
11	12	13	14	15	16	17	18	19	20
C	D	D	B	C	D	D	A	C	C
21	22	23	24	25	26	27	28	29	30
D	A	A	A	B	D	B	C	C	D
31	32	33	34	35	36	37	38	39	40
C	C	B	A	D	C	A	A	B	B
41	42	43	44	45	46	47	48	49	50
A	C	D	B	C	D	C	B	D	A

公民手寫答案：

題號	3分	2分	1分	0分		
一 1		1. 憲法為 <u>其他法律制定的原則、依據</u> 。 2. 憲法主要在確立國家的目的、方向及人民基本權利義務，故 <u>條文僅為原則性規範</u> 。	1. 寫出前二項其中之一。	1.未作答。 2.錯誤說明		
一 2		憲法是位階最高的法律，效力也最大，故法律和命令牴觸憲法者無效。	只能寫出位階最高，但無法說明位階最高的意義	1.未作答。 2.錯誤說明		
一 3		憲法的修改牽一髮動全身，為了維持法律秩序的穩定，其修改需慎重周延。	只能寫出憲法的修改程序較複雜，但無法說出其理由。	1. 未作答 2. 錯誤說明		
二 1	意見自由、表現自由、自由權			1. 未作答 2.錯誤說明		
二 2	<u>理由</u> 沒有標準答案，但需與 <u>為什麼</u> 能夠強列呼應。	理由與為什麼之間僅有少部分關聯。	能說出為什麼，但理由不正確。	未作答或錯誤說明者		
二 3	5分 能利用 <u>課堂所學重點</u> 為理由來說明自己所提的方法，且能 <u>兼顧公共利益與個人權利</u> 。並且顧及 <u>方法、程序正義</u> 。	4分 能利用 <u>課堂所學重點</u> 為理由來說明自己所提的方法，且能 <u>兼顧公共利益與個人權利</u> 。	3分 提出一個能 <u>兼顧公共利益與個人權利</u> 的方法。	2分 提出一個經 <u>理性思考</u> 的方法。	1分 只寫方法，但未能說明	0分 未作答或只做情緒抒發、攻擊或仇恨式答案