

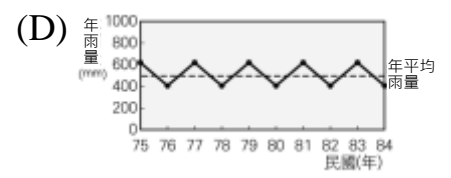
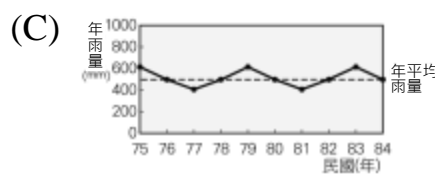
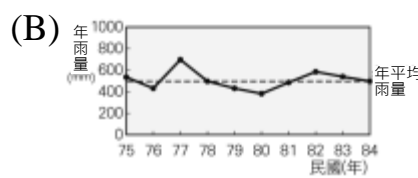
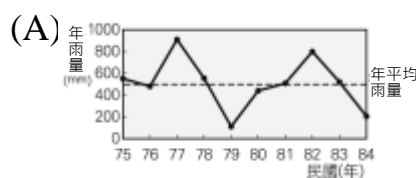
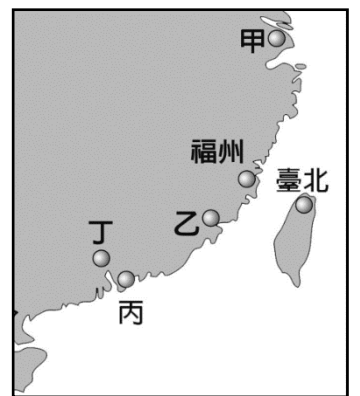
花蓮縣立宜昌國中105學年度第二學期八年級社會科第一次段考試題

八年 班 座號： 姓名：

地理科試題 (每題4分，共計100分)

命題教師：歐光興老師

1. 「這裡有縱橫交錯的河網地區、精緻的石橋、傍河而築的民居。河流是鎮上的大街小巷，河道很熱鬧，船隻來往交錯，載運著旅客和貨物，如水鄉澤國般的景觀。」文中敘述的景觀，最可能出現在下列哪一個地區？ (A)四川盆地 (B)黃土高原 (C)長江三角洲 (D)東北平原。
2. 「這個地區的地面，山石聳峭起伏，地表有許多裂縫，使得雨水和土壤經由裂縫漏到地底下，形成伏流，嚴重影響農業發展、水庫興修和交通建設。」請問：上文所述的情形最可能出現於中國大陸哪一地區？ (A)珠江三角洲(B)橫斷山脈 (C)雲貴高原 (D)東南丘陵。
3. 「小春每次隨著父親進城，都背著自家的產品，翻越一座座的高山，利用繩索橫過急湍峽谷；沿途感受山上到溪谷之間的氣溫變化很大，植物的種類也有明顯的不同……。」依據文中所述，小春的居住地最有可能位於下列何地？ (A)東南丘陵 (B)黃土高原 (C)大興安嶺 (D)橫斷山脈。
4. 茶樹適宜種植在暖溼多霧、乾季不顯著，且土壤酸性、排水良好的丘陵地。請問：臺商如果到大陸投資茶葉加工，最適宜到下列哪一省區？ (A)東北平原 (B)黃土高原 (C)東南丘陵 (D)大興安嶺。
5. 「小信的故鄉，人口擁擠，氣候雖可讓稻米一年二穫，但因地形影響，即使努力的耕種仍不能提供充分的糧食。沿海有許多優良的港灣，所以海上事業在人民生活中占著重要的角色。部分人民便和小信的父母一樣，遠渡重洋，移居海外。」上文所述，最可能是下列哪一地區？ (A)華南地區 (B)華中地區 (C)華北地區 (D)東北地區。
6. 長江自上游攜帶泥沙至中、下游，最後沉積在出海口附近。而三峽大壩完成後，在下列哪一城市附近，最有可能因為泥沙供應減少而發生海岸後退的現象？ (A)天津 (B)上海 (C)廈門 (D)廣州。
7. 附圖是臺灣和中國大陸東南沿海的地理位置圖，廣州位於珠江口，為華南重要政治、經濟都市。請問：廣州位於圖中的何處？ (A)甲 (B)乙 (C)丙 (D)丁。
8. 關於華中氣候，下列何者錯誤？ (A)夏季氣溫偏高 (B)降雨集中冬季 (C)冬季月均溫高於 0°C (D)夏季有鋒面雨。
9. 長江流域夏季溫度相當高，素有『火爐』稱號。形成此稱呼的主要原因是 (A)盆地地形散熱不易 (B)緯度較其他地區低 (C)地勢崎嶇不平 (D)盆地底部常發生水患。
10. 侯老師描述中國許多河流的水文特性，其中有一段講到：「……這一條河流在歷史上以水患頻繁著稱，河水經常從中游搬運大量泥沙到下游堆積，在河堤越修越高的情況下，下游幾乎沒有支流匯入。」根據上文判斷，最有可能是描述下列哪一條河流？ (A)珠江 (B)長江 (C)黃河 (D)松花江。
11. 最安全保險公司正在評估四個地區的水旱災保費，當某地發生水旱災的機會越大，保費將越高。若依據雨量變化圖的資料加以判斷，下列哪一個地區的水旱災保費應該最高？



12. 在附圖中，有一個地區平原面積廣大、黑土肥沃，一年一穫，礦產資源豐富。這個地區應位於圖中何處？ (A)甲 (B)乙 (C)丙 (D)丁。

13. 小宏全家搬到中國東北地區居住，下列是家人在當地找工作的期望。依據當地的環境判斷，哪一位比較沒有工作機會？ (A)爸爸：「我希望到煉油廠工作。」 (B)媽媽：「我要到鋼鐵工廠上班。」 (C)哥哥：「我想在長白山地經營茶園。」 (D)姐姐：「我要在松遼平原上種植大豆和小麥。」



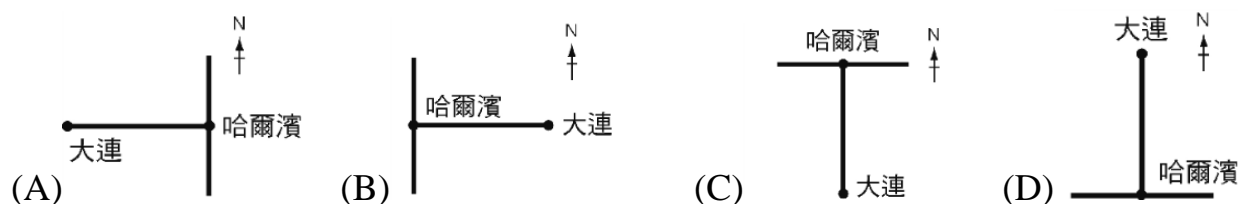
14. 昆明與台北的緯度相當，而台北 7 月均溫約 29°C，但昆明 7 月均溫僅 20°C 左右。請問：為何昆明的氣候較為涼爽？(A) 昆明距海較遠 (B) 昆明地勢較高 (C) 昆明地勢較低 (D) 昆明位於夏季季風的背風坡。
15. 附表為中國四個地方的氣候資料。請問：何地最適宜種植橡膠、香蕉、甘蔗和椰子等作物？(A) 甲 (B) 乙 (C) 丙 (D) 丁。

地點	一月均溫 (°C)	七月均溫 (°C)	年雨量 (mm)
甲	23.2	28.5	2,293
乙	13.0	25.0	1,250
丙	5.0	22.3	1,120
丁	3.7	20.0	1,003

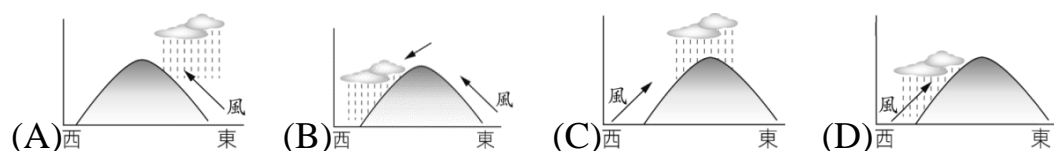
16. 小強參加「中國地理知識」競賽活動，只要根據四個提示，答出正確答案即可得分。其中某題提示如圖，小強應回答下列哪一地理區才可得分？(A) 東北平原 (B) 黃土高原 (C) 東南丘陵 (D) 珠江三角洲。

提示一	八山一水一分田
提示二	僑鄉
提示三	谷灣式海岸
提示四	土樓

17. 下列何者為中國最早也是最大的輕工業加工基地？(A) 四川盆地 (B) 黃土高原 (C) 東北平原 (D) 珠江三角洲。
18. 華中地區的經濟發展遠較中國其他區域富庶，長期以來為中國的經濟重心所在。以上所述，造成華中經濟發達的原因與下列哪一河流航運發達有關？(A) 珠江 (B) 長江 (C) 黃河 (D) 淮河。
19. 下列稱號所配對的地理區，何者錯誤？(A) 四川成都平原—天府之國 (B) 長江三角洲—魚米之鄉 (C) 四川盆地—蜀道難難於上青天 (D) 兩湖盆地—水鄉澤國。
20. 上海為中國經濟力最旺盛的都市，下列何者並非上海的優勢？(A) 黃金水道與海岸線呈現 T 字型 (B) 位置優越 (C) 腹地廣大 (D) 以天津為外港水運便利。
21. 四川盆地的冬季溫度較同緯度的地區略高，主要原因是 (A) 長江流經 (B) 傳統建築具有保暖設施 (C) 北側高山阻擋寒流 (D) 綠地較多可調節氣候。
22. 黃土高原、華北平原都屬黃土區，但兩地黃土的最大區別是下列哪一項？(A) 土壤的成分 (B) 土壤的顆粒大小 (C) 搬運土壤的作用力 (D) 土壤的肥沃度。
23. 冬末春初乘坐鐵路由廣州至北京市，進入河北省後，沿途可見到大片的作物正欣欣向榮。依當地自然條件判斷，此種作物最有可能是下列何者？(A) 小麥 (B) 甘蔗 (C) 茶葉 (D) 稻米。
24. 下列何者最能表示出中國東北主要鐵路網的位置？

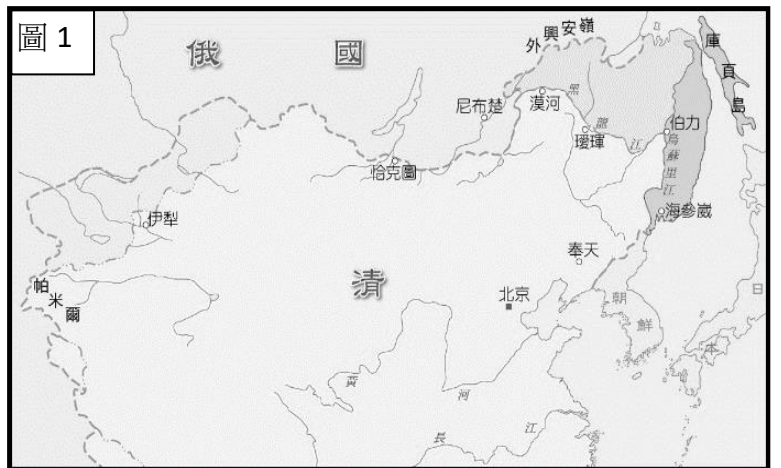


25. 東北降雨分布以長白山東南側雨量最多，下列哪一張降雨示意圖最能表現當地的降雨方式？



26. 圖 1 是清末俄國趁中國內憂外患之際，與中國訂約而取得的東北、西北廣大土地示意圖。請問，俄國藉由哪些條約取得中國黑龍江以北與烏蘇里江以東之地？

- (A) 南京條約、天津條約 (B) 璦琿條約、北京條約
(C) 璦琿條約、天津條約 (D) 天津條約、北京條約。



27. 清末洪秀全曾藉基督教的教義，自認為是上帝的次子，耶穌的弟弟，而創辦了哪一個宗教性的組織？

- (A) 耶穌會 (B) 拜上帝會 (C) 太平道 (D) 義和團。

28. 承上題，此宗教組織慢慢為中國南部的人們所認識，信徒

逐漸增加，在廣西饑荒期間，許多窮人前來尋求保護，洪秀全要求所有信徒變賣家產，並從聖庫領取糧食。不出八年，洪秀全已擁有上萬名信徒。根據上文，洪秀全勢力迅速擴張的主因為何？ (A) 其宗教主張安於貧窮，深深吸引下層民眾 (B) 藉由財富共享，保障徒眾的基本生活需求 (C) 漢人官吏遭到政府打壓，轉而支持洪秀全 (D) 得到西方國家的支持，使其軍隊力量更為強大。

29. 清代晚期，清朝政府與外國簽訂多個條約。一般認為，中國第一個不平等條約是哪個條約？

- (A) 馬關條約 (B) 璦琿條約 (C) 南京條約 (D) 北京條約。

30. 承上題，所謂「不平等」，是指哪一個國家受到不平等的對待？

- (A) 中國 (B) 英國 (C) 日本 (D) 美國。

31. 阿傑在書中看到一格漫畫，如圖 2，根據此內容，可知漫畫中的國家喪失了哪一項權利？

- (A) 租界 (B) 協定關稅 (C) 領事裁判權 (D) 片面最惠國待遇。



32. 清代魏源曾寫《海國圖志》一書，書中介紹世界各國的地理位置、歷史、政治、經濟等，另外，書中也分析中國戰敗的原因，並提出「師夷長技以制夷」的作戰策略。請問，下列哪一句話最能符合魏源「師夷長技以制夷」的意思？

- (A) 教導西方國家中國人所擅長的技藝，以便制服外國人
(B) 全面學習外國人的技能，用來有效的控制中國人
(C) 成為外族人的老師，並且教授他們製造長槍的技術
(D) 學習西方先進的技術，用來抵抗西方列強的入侵。

33. 晚清中國不斷面對著外國勢力的侵逼，中國內部也慢慢出現推動改革的聲音。請依據時間發生先後順序，排列以下事件

- (A) 甲午戰爭→自強運動→鴉片戰爭→英法聯軍→戊戌變法
(B) 鴉片戰爭→自強運動→英法聯軍→戊戌變法→甲午戰爭
(C) 鴉片戰爭→英法聯軍→自強運動→甲午戰爭→戊戌變法
(D) 英法聯軍→自強運動→鴉片戰爭→甲午戰爭→戊戌變法。

34. 阿昱最近學習了清代晚期的中國歷史，也聯想到七年級曾學過的臺灣歷史，發現晚清政府與外國之間的接觸和衝突，常常也直接或間接地影響臺灣的發展。請問，下列哪一個有關臺灣歷史的轉變與外國勢力的介入，敘述『有誤』？ (A) 甲午戰爭後臺灣與澎湖群島割讓給日本 (B) 俄國侵略中國後，促使中國將臺灣納入清朝版圖 (C) 中法戰爭後臺灣升格為省，不再隸屬於福建省 (D) 英法聯軍後臺灣開始開放港口，並允許外國人可進入臺灣從事貿易與傳教。

35. 中國在清代晚期，曾多次因週邊國家，而與列強發生衝突。請問，下列列強與其企圖奪取的國家配對，何者正確？ (A) 日本—琉球 (B) 日本—菲律賓 (C) 英國—越南 (D) 法國—緬甸。

36. 清末大臣李鴻章曾向皇帝上奏，奏摺中說到：「現在中國所面臨的是數千年來未有之變局...而政府若繼續採行舊法，將如何能夠抵禦外敵呢？臣已接觸西方事務頗久，也了解西方器物的優點... 希望朝廷可以打開風氣，破除舊習，以求制勝。」根據此奏摺的內容，可知李鴻章是為了推展什麼而上書皇帝？

- (A) 太平天國 (B) 戊戌變法 (C) 自強運動 (D) 開港通商。

37.承上題，下列哪一項事物最有可能出現在這一次的推展計畫之中？

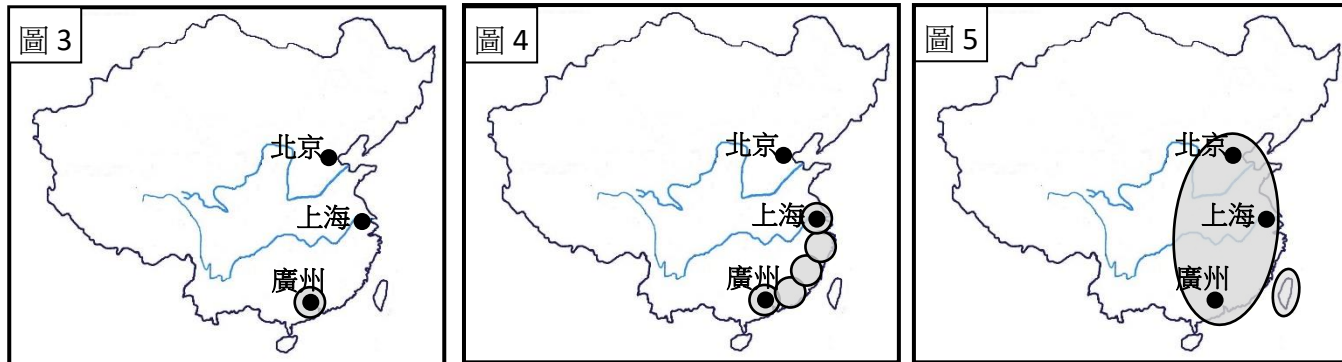
- (A)學習西方禮節，謁見皇帝時不再需要三跪九叩 (B)廢除科舉中八股文的考試規定
(C)改信西方宗教，破除傳統迷信風俗 (D)建立近代化工廠，製造新式的槍枝與火藥。

38.右表為歷史學者張玉法，針對清末民初外國人在中國投資設立工廠的統計，可發現在 1895 年之後，外國投資的工廠數目大幅度增加。請問，外資工廠快速增加和下列哪一個條約的簽訂最有關係？

- (A)南京條約 (B)北京條約 (C)馬關條約 (D)虎門條約。

時間	工廠總數	每年平均設廠數
1841-1894	142	2.6 家
1895-1916	337	15.3 家

◎圖 3 至圖 5 為清代時外國勢力進入中國的形勢圖，灰色區塊代表外國人可以在中國活動的範圍。請仔細觀察各圖的變化，並且回答第 39 題至第 41 題。



39.請問，由圖 3 轉變至圖 4 的關鍵事件是什麼？

- (A)簽訂瑣瑣條約 (B)簽訂馬關條約 (C)簽訂南京條約 (D)簽訂天津條約。

40.請問，由圖 4 轉變至圖 5，又和哪一個事件的發生最有關係？

- (A)列強提出開放中國，維持各國在華勢力的均等 (B)甲午戰爭的發生
(C)英國與法國聯合出兵中國 (D)洪秀全建立太平天國。

41.請問，下列哪一個敘述，最能夠說明外國人在中國的活動情形？ (A)外國人在中國的活動範圍逐漸縮小
(B)自清代立國以來，外國人可以在全國各地自由往來 (C)北京是最早允許外國人可以活動的地點
(D)外國人在中國活動的範圍變化大致由點擴展至線，最後再擴展至面。

◎西元 1895 年，中國面臨對外戰爭的失敗，國內要求改革的呼聲漸高。請參考下列與前述歷史背景相關的圖片，回答第 42 題至第 43 題。



42.圖 6 所顯示的事件背景應是下列何者？ (A)甲午戰爭中國戰敗，知識分子聚集表達變法救國的主張
(B)中法戰爭，中國喪失藩屬，在華的外國留學生群起反對 (C)鴉片戰爭後，中國開港通商，知識分子表達強烈的不滿
(D)臺灣確定割讓給外國，臺民向清廷表達自行獨立的態度。

43.根據上列圖片，這場變法的結果，下列敘述何者正確？ (A)參與變法者全部被判罪處死，改革措施全數被廢除
(B)參與變法者雖遭到懲處，但當權者仍持續推行全面改革 (C)部分參與變法者逃往邊疆，另立政權繼續推行新政
(D)新政雖因政變而宣告中斷，但京師大學堂得以保留。

◎小尊在閱讀歷史課本時，在第一課中讀到「向來以天朝上國自居的清廷逐漸受到來自西方的挑戰」這一句話，但小尊不太了解這句話的意思，於是好學不倦的小尊跑去請教了班上同學。請回答第 44 題至第 47 題。

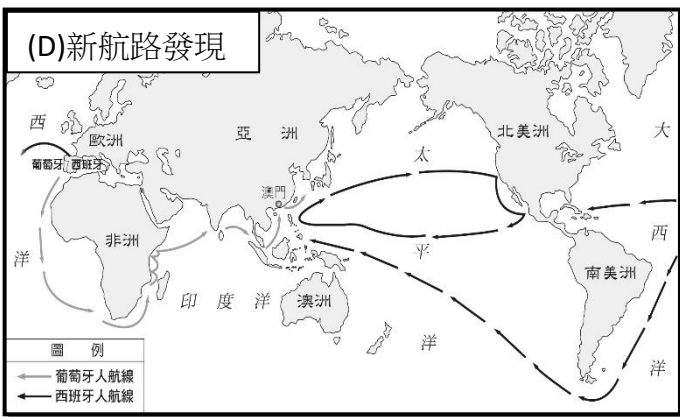
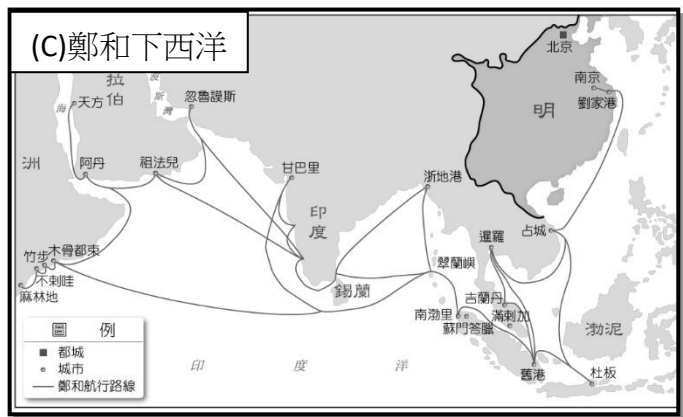
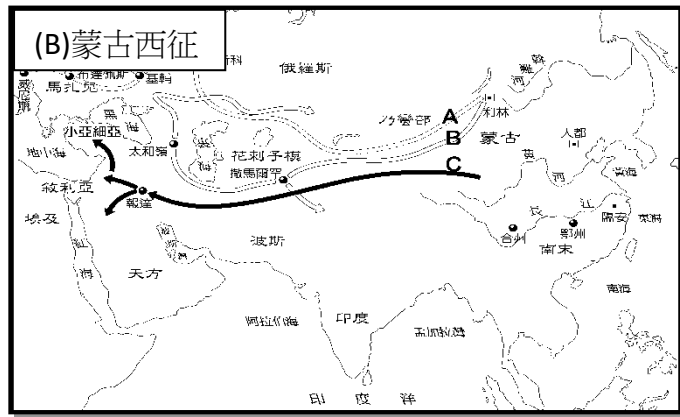
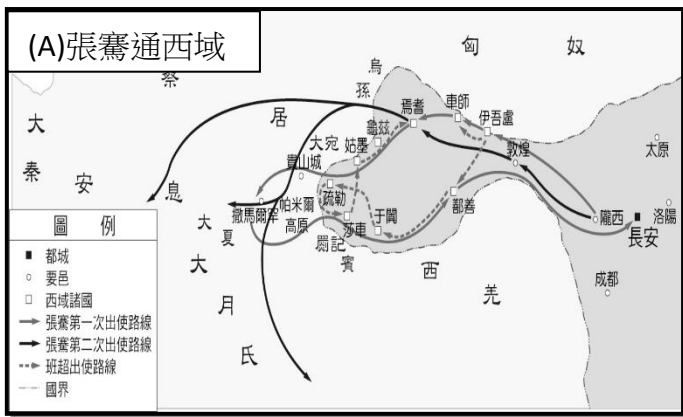
44.小尊問了同學「天朝上國」這個詞。請問，哪一位同學的解釋最能幫助小尊了解課文？

- (A)揚揚：這指的是天上的國家 (B)小麗：這指的是地理位置最上方的王國 (C)霈霈：這指的是某個武力最為強大的國家，總是能夠打贏其他國家
(D)小誠：這指的是某個被視為世界中心的國家，在各方面的地位都高於其他國家。

45.小尊又問了：「在十九世紀中期，所謂的『西方』指的是哪些國家？」答案最可能是下列何者？

- (A)日本、朝鮮 (B)法國、英國 (C)美國、加拿大 (D)越南、泰國。

46.充滿好奇心的小尊試圖了解這些「西方」勢力來到東亞的時空背景。請問，下列哪一張地圖最能夠幫助小尊了解當時的背景？



47.了解這句話意思的小尊在閱讀第二課課文時，讀到類似的語句「中國天朝的地位屢遭挑戰」，小尊想試圖以這句話來理解清末的局勢。請問，下列哪一個狀況『無法說明』天朝地位受到挑戰的情形？

- (A)歐洲國家派兵東來，擊敗清朝政府 (B)西方國家向清朝政府提出兩國官方往來地位平等
(C)西方人士來到東方協助中國成立新式軍隊 (D)列強一一占領中國的藩屬國，切斷與清廷的關係。

◎圖 9 為十九世紀末刊登於香港的漫畫《時局全圖》，畫中諷刺著當時中國的局勢。請仔細觀察此圖，並回答第 48 題至第 50 題。

48.根據圖 9 的內容來判斷，作者想表達當時中國正面臨著什麼樣的局勢？

- (A)在中國各個地區，出現了不同種類的動物
(B)西方各國帶了許多不同的動物來到中國
(C)西方列強以軍事力量擊敗中國，並且直接占領土地
(D)外國勢力進入中國，各自占據一方。

49.請問，這張漫畫最早出現的時間，最有可能是什麼事件之後？

- (A)英法聯軍之後 (B)甲午戰爭之後
(C)鴉片戰爭之後 (D)中法戰爭之後。

50.從圖 9 中可以發現，在太平洋上有隻展開翅膀的大鳥，虎視眈眈地望著中國的土地。根據你對當時中國局勢的了解，這隻大鳥最有可能是哪一個國家的象徵？

- (A)德國 (B)英國 (C)日本 (D)美國。



一、 選擇題（一題 4 分，共 36 分）

- 51.關於法律的述敘，以下何人所說為非？ (A)佳薰：法律能啟發人們的內在良知 (B)雅瑄：國家可以藉由制定法律來引導社會發展的方向，促進社會進步 (C)侑倫：法律能保障人民的權利 (D)珮璿：法律能維護社會秩序
- 52.「金字塔型法律位階制度」將法律劃分為「憲法」、「法律」、「命令」三個位階所依原則是什麼？ (A) 制定機關 (B) 執行機關 (C) 修改程序 (D) 效力強弱
- 53.宇柔要上臺報告法律三位階之間的關係。下列是她寫下的重點，其中哪項說法錯誤？ (A)憲法條文有非常詳盡的細節規範 (B)命令是由行政機關訂定 (C)法律補充憲法 (D) 命令補充法律的規定
- 54.在我國，所有法律制定的依據是：(A)國父的思想 (B)憲法 (C)全民公投的結論 (D) 總統的政策
- 55.對於我國法律和命令是否牴觸《中華民國憲法》，若有疑義，可以依法聲請下列何者解釋？ (A)總統 (B)立法委員開會 (C) 司法院大法官 (D) 司法院院長
- 56.《性別平等教育法》第 37 條：「本法施行細則，由中央主管機關定之」。《性別平等教育法施行細則》第 1 條：「本細則依性別平等教育法第三十七條規定訂定之」。由此可知《性別平等教育法施行細則》是哪個位階的法律？ (A)憲法 (B)法律 (C)命令 (D)校規
- 57.憲法的修改程序較其他層級的法律嚴格的原因，以下何者為非？ (A)憲法是國家的立國根本，需審慎為之 (B)憲法的修改程序是由總統規定的 (C)憲法所涉及的都是國家重要的基本原則，須經過廣泛討論以凝聚共識 (D)修改憲法必須連帶修改其他法律，影響重大，故須謹慎
- 58.現代民主國家多將人民的基本權利規範在憲法中，以避免政府侵犯人民的權益。這是因為憲法具有下列哪項特性？ (A)最高性 (B)普遍性 (C)穩定性 (D)原則性
- 59.以下何者同時是我國憲法規定權利與義務？ (A)納稅 (B)服兵役 (C)受國民教育 (D)守法

二、 配合題(一題 4 分，共 52 分)

(一) 我國憲法規定政府若要限制人民的權利，必須至少符合以下四項要件之一，並要有法律的依據。請判斷下列事件分別符合哪一項要件。

選擇項目：

- (A)防止妨礙他人自由 (B) 避免緊急危難 (C) 維持社會秩序 (D)增進公共利益

- 60.睿然在颱風天冒險前往七星潭觀浪，經勸導無效，被處以罰鍰。
- 61.宗霖闖紅燈，被員警庭郡依法處以罰款。
- 62.宇宏錄製的音樂專輯抄襲采菲的創作，依著作權法將被處以罰款。
- 63.政府制定所得稅法，規定人民必須納稅。

(二) 請問以下各法律分別屬於何種位階？

選擇項目：(A)憲法 (B)法律 (C)命令

- 64.中華民國憲法
- 65.噪音管制標準
- 66.道路交通管理處罰條例
- 67.教師輔導與管學生辦法

(三) 請問以下各題所述，分別屬於我國憲法所保障的哪一種基本人權？

選擇項目：(A)自由權 (B)平等權 (C)受益權 (D)參政權

68. 莊州、林翰和曾勇組成男子搖滾天團，發行新專輯。

69. 學傳與新婚妻子到月球度蜜月

70. 家杰在宜昌國中接受國民教育

71. 陳先生和兄弟因遺產繼承糾紛，向法院提起訴訟

72. 總統大選時，江羿投下自己神聖的一票

背面還有公民科手寫題

宜昌國中 105 學年度下學期第一次段考八年級公民科手寫卷

8年____班 座號：____ 姓名：_____

共分 12 分，請用黑色原子筆作答。

「基本人權」有哪些？答案不都是固定的。人權的概念一直在發展中。而人權的實現更是前人付出生命的代價所爭取來的。聯合國秘書長潘基文曾表示：「有人會拒絕改變，他們會以文化、傳統或宗教之名來維持現狀。我們應尊重文化、傳統和宗教，但這些永遠不可以用來否定基本人權。」

法國學者瓦薩克提出「三代人權說」來說明人權內涵的發展歷程：

代	時間	歷史背景	人權發展的重點	舉例
第一代	17-18 世紀	人民不堪君主暴政，起而推翻專制，爭取不被政府壓迫與侵害的權利。然權力僅限於白人成年男子擁有。	公民與政治權利-爭取免於被政府壓迫和侵害之權利。	參政權、財產權、集會結社、意見、人身、宗教、居住遷徙自由
第二代	18-20 世紀	工業革命帶來貧富不均與工人失業問題。	經濟、社會與文化的權利—爭取滿足基本生活所需的權利。	工作權、受教育權、維持適度生活水準權、組織工會、醫療保健權。
第三代	二次大戰後	二次世界大戰發生種族屠殺；全球化對第三世界國家產生的不公平壓迫。造成族群嚴重衝突、自然環境破壞。	環境、文化與發展的權利—追求民族自決自治、特定族群如性別、兒童、身障者人權、自然環境權、發展權、和平權等。	民族自決、婦女人權、原住民族人權、繼承人類共同遺產權、自然環境保護權。

請回答以下問題：

甲、你認為在人權的保護方面，我們國家在哪一方面做得比較好？為什麼？(3 分)

答：

乙、你認為在人權的保護方面，我們國家在哪一方面最需要改善？應如何改善？(3 分)

答：

三、以下為幾則近年來所發生的人權議題，請勾選其中一項(在□內打 V)，並依照所勾選的議題回答以下問題(未勾選者不給分)。

<input type="checkbox"/> (A) 過勞死的案件頻傳，勞工要求政府落實勞基法，讓勞工可以有合理的休息時間。老闆則擔心這會增加生產成本，降低產業競爭力。
<input type="checkbox"/> (B) 菲律賓總統為了掃毒，授權警察可以不經調查與審判，直接逮捕嫌疑犯(僅被懷疑有可能犯罪，尚未經過確定)並執刑。
<input type="checkbox"/> (C) 台灣有團體推動「婚姻平權」法案，主張婚約訂定之對象不應局限於異性之間。反對團體認為這將毀滅傳統家庭的價值。
<input type="checkbox"/> (D) 因為老年人口比例的增加，政府推出長期照護的計畫，自 105 年起編列 51 億預算來執行，並逐年增加。希望讓長輩可以就近在社區中有尊嚴地終老。

1. 這個議題和哪一代的人權概念有關？為什麼？(3 分)

答：

2. 關於這個主題，你的看法是什麼？你認為應該怎麼做才能保障人權？(3 分)

答：

花蓮縣立宜昌國中105學年度第二學期八年級社會科第一次段考試題答案

1	2	3	4	5	6	7	8	9	10
C	C	D	C	A	B	D	B	A	C
11	12	13	14	15	16	17	18	19	20
A	A	C	B	A	C	D	B	D	D
21	22	23	24	25	26	27	28	29	30
C	C	A	C	A	B	B	B	C	A
31	32	33	34	35	36	37	38	39	40
C	D	C	B	A	C	D	C	C	C
41	42	43	44	45	46	47	48	49	50
D	A	D	D	B	D	C	D	B	D
51	52	53	54	55	56	57	58	59	60
A	D	A	B	C	C	B	A	C	B
61	62	63	64	65	66	67	68	69	70
C	A	D	A	C	B	C	A	A	C
71	72								
C	D								