

花蓮縣立宜昌國中105學年度第二學期八年級社會第三次段考試題 共8頁，70題

公民科試題(共計 100 分)

命題教師：藍惠寧老師

一、 選擇題（一題5分，共40分）

1. 秉榕收到一張違規停車的罰單，覺得權利受到侵害。請問她應該如何救濟權利？
 (A)向花蓮縣政府提起訴願 (B)到吉安鄉調解委員會請求調解
 (C)向警察局報案 (D)到花蓮地方法院提起訴訟
2. 我國行政訴訟之審級為
 (A)二級二審制 (B)二級三審制 (C)三級二審制 (D)三級三審制
3. 我國民事及刑事訴訟之審級，原則上為
 (A)二級二審制 (B)二級三審制 (C)三級二審制 (D)三級三審制。
4. 阿俊被阿花分手後，心生不滿。於是把阿花幼稚園時曾經在課堂上尿褲子的事在網路上散佈。令阿花非常生氣。請問阿俊的行為是否觸犯法律？ (A)觸犯了公然侮辱罪 (B)觸犯了誹謗罪
 (C)觸犯妨害電腦使用罪 (D)因為所說的是事實，所以並沒有犯罪
5. 以下何行為違反毒品危害防制條例的規範？
 (甲)生產毒品 (乙)販賣毒品 (丙)運送毒品 (丁)持有毒品 (戊)施用毒品
 (A)甲乙丙 (B)甲乙丁 (C)甲乙戊 (D)甲乙丙丁戊
6. 剛滿14歲的涵夫和朋友到鮮友吃火鍋，卻在餐廳門口遇到宿敵貝吉。二人互看不順眼打了起來，貝吉被涵夫推下荳蘭橋，頭部撞到水泥沈澱池當場身亡。請問涵夫「較有可能」受到的法律制裁為何？(刑法第277 條：傷害人之身體或健康者，處三年以下有期徒刑、拘役或一千元以下罰金。犯前項之罪因而致人於死者，處無期徒刑或七年以上有期徒刑；致重傷者，處三年以上十年以下有期徒刑。)
 (A)無期徒刑 (B)感化教育 (C)保護管束 (D)有期徒刑
7. 承上題，涵夫違反法律之制裁或處理方式，主要依據以下何法律？
 (A)兒童及少年福利與權益保障法 (B)少年事件處理法 (C)刑法 (D)民法

二、 配合題(一題5分，共45分)

(一) 選項：(A)訴訟外和解 (B)調解 (C)仲裁 (D)訴訟

請問以下各題分別是採取以上何種方式來救濟權利？

8. 佳薰騎車不小心撞傷了立維，2人對於賠償金無法達成共識，所以到鄉公所找了調解委員會居間協調，最後達成共識。
9. 榮恩欠蕙璇100萬元，本來約好這星期日須還清。榮恩一時無力償還，希望能分3年來還錢，善良的蕙璇同意了榮恩的提議。
10. 宗霖電器公司的老闆和員工對於工資的計算方式產生爭議。找來經政府認證的專業民間機構處理此爭議。
11. 阿強在學校經常向同學恐嚇勒索財物，同學的家長憤而向警察局報案。
12. 何者所能處理的法律紛爭型態最多？
13. 何者所花的時間及金錢代價最高？
14. 以上4種救濟途徑所達成的結論，其效力大小如何？
 (A)訴訟 > 調解 > 仲裁 > 訴訟外和解 (B)訴訟 > 仲裁 > 調解 > 訴訟外和解
 (C) 訴訟 = 仲裁 = 調解 > 訴訟外和解 (D)訴訟 = 仲裁 = 調解 = 訴訟外和解
 (“ > ” 表示「大於」；“ = ” 表示「等於」)

(二) 選項：(A)法官 (B)檢察官 (C)律師 (D)書記官

請為司法與檢察體系人員的職務與職稱做出正確的配對。

15. 代表國家追訴犯罪行為，實現社會的正義。
16. 為犯罪被告進行辯護，使其獲得公平的審判。
17. 進行公正獨立的審判，維護雙方的權益

三、 題組(一題5分，共15分)

(一)小明在電腦網路上罵小花是豬，小花很生氣，也很傷心，打算直接向法院提起訴訟(甲)。經過與好友小美討論後，認為若是自己提告，還需自己蒐證、花錢請律師。所以轉向地方檢察署提出____(乙)。案件經過檢調的偵查後，檢察官認為小明罪證確鑿，向法院提起____ (丙)。

18. 請問(甲)之行為稱為？(A)自訴 (B)告訴 (C)公訴 (D)上訴
19. 請問(乙)應為？(A)自訴 (B)告訴 (C)公訴 (D)上訴
20. 請問(丙)應為？(A)自訴 (B)告訴 (C)公訴 (D)上訴

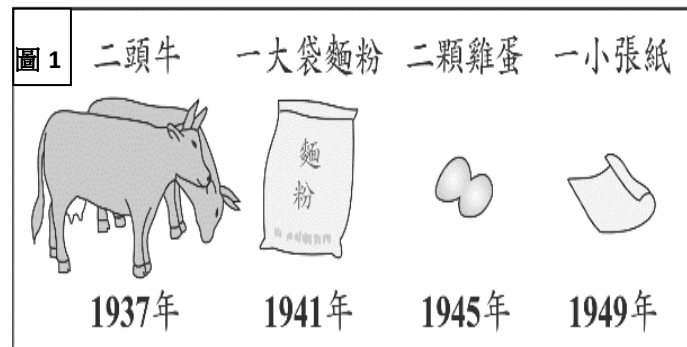
後面還有歷史試題！

歷史科試題（每題 4 分，共計 100 分）

命題教師：黃若芸老師

21. 陳奶奶回憶說：「在那個年代，市面流通著各種貨幣，後來政府廢除銀兩，規定一律改用銀元；再過一陣子，政府規定只能用指定銀行發行的紙幣，終於解除了幣制混亂的局面。」陳奶奶描述的應是下列哪一個時期？ (A)民國 17~26 年黃金十年 (B)民國 26~34 年八年抗戰 (C)民國 35~38 年國共內戰 (D)民國 62~68 年十項建設。【93(一)基測】

22. 圖 1 是中國歷史上某段時期民眾花費 100 元法幣所能購買物品的變化，對於這種轉變，下列何者的解釋最適切？



- (A)農業科技改良，增加物產種類
(B)戰禍頻繁，導致民間通貨膨脹
(C)國際能源危機，促使物價下跌
(D)社會安定，民生需求日益縮減。【99(二)基測】

23. 中共自 1980 年起，陸續在深圳、珠海、汕頭等沿海城市設立經濟特區。有關「經濟特區」的主導人物及政策，下列何者正確？

- (A)毛澤東所推動，此為人民公社的一環 (B)毛澤東所推動，希望透過土法煉鋼結合特區發展
(C)鄧小平所推動，此為改革開放的一部份 (D)鄧小平所推動，這是為了加入聯合國所做的承諾。

24. 歷史學家費正清在《費正清論中國：中國新史》中寫到：

「孫中山於 1912 年被擁上中華民國總統之位，卻眼見自己的國家分裂為軍閥割據狀態。為了藉用軍閥手段使中國統一，他得與廣東的投機武人共事，卻於 1922 年因不敵對方的陰謀而逃往上海。就在此時，他證明了自己是國民黨的首要領導人，也證實他無力完成革命，於是才與共產國際聯手合作。」

從費正清的文章中，可以推測，孫中山決定聯俄容共的原因，『最不可能』包括下列何者？

- (A)當時中國陷入軍閥混戰，孫中山企圖結束軍人割據的狀況
(B)孫中山曾遭到南方軍人的背叛，因此改變了他想以軍閥制軍閥的想法
(C)當時中國共產黨的勢力極為強大，因此孫中山想借助共產勢力解決國內問題
(D)孫中山意識到，僅靠他與國民黨是無法完成國家統一的。
25. 小玲在閱讀歷史課本第 125 頁的課文，「(民國 17 年)年底，張作霖之子張學良率東北軍歸順南京國民政府，中國在形式上歸於統一。」不太了解「形式上歸於統一」意思的小玲，跑去向同學請教。請問，下列哪位同學的說明最可以解答小玲的疑惑？
- (A)小裕：中國在張學良歸順後，全國都統一於國民政府的統治之下了
(B)芊芊：當時中國仍陷在列強瓜分的危機中，無法全面統一
(C)阿鴻：當時中國境內還有日本建立的華人政權，因此尚未統一
(D)婷婷：當時仍有部份軍閥占據一方，正與國民革命軍持續作戰中。

26. 承上題，張學良所歸順的南京國民政府，當時其主要的領導人是誰？

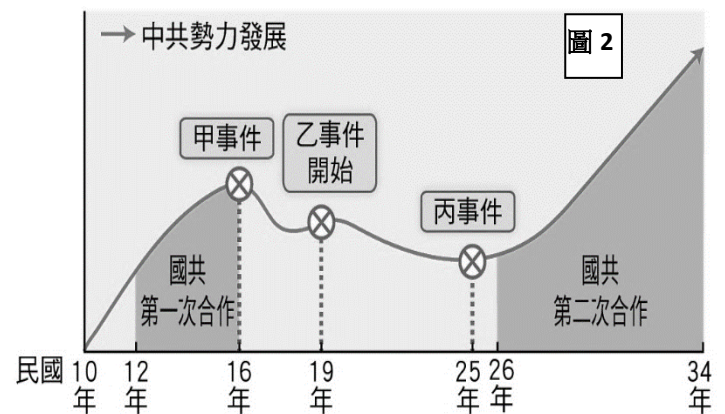
- (A)孫中山 (B)蔣中正 (C)袁世凱 (D)毛澤東。

27. 歷史書寫的產生通常是歷史學家在史料中找出較可靠的歷史事實，再透過史家的解釋將這些史實編寫成為合乎邏輯的敘述。換句話說，「歷史事實」是呈現客觀的事實本身；而「歷史解釋」則是歷史學家對史實的詮釋。請問，下列哪一項敘述應該屬於歷史解釋？ (A)民國 25 年發生了西安事變 (B)民國 17 年至民國 26 年中國歷經了黃金十年 (C)晏陽初曾在河北定縣推展平民識字教育 (D)民國 32 年中美英三國領袖聚集開羅召開會議。

28. 中華民國建國後與日本的關係甚為密切，而日本對亞洲的政策也深深地影響著中國的政局。請問，下列哪一個事件與日本『無直接』的關係？ (A)民國 16 年「清黨」 (B)民國 17 年「濟南慘案」 (C)民國 21 年「一二八事變」 (D)民國 26 年「七七事變」。
29. 民國二〇年代，中國的土地上曾出現「中國人不打中國人」的口號。請問，就當時的局勢發展而言，「第一個中國人」與「第二個中國人」分別指什麼勢力？ (A)中國共產黨；國民政府 (B)國民政府；軍閥 (C)國民政府；中國共產黨 (D)軍閥；清朝遺民。
30. 承上題，這個口號與下列哪一個口號的提出，有相類似的立場背景？ (A)外爭主權，內除國賊 (B)先安內外攘外 (C)扶清滅洋 (D)停止內戰，一致抗日。
31. 歷史課本 131 頁中寫到，「中美英開始並肩作戰，中國抗日成為第二次世界大戰的一環，國際地位大為提升。」也就是說，中國與日本間的戰爭自此開始，被視為是第二次世界大戰的一部份。請問，導致世界其他國家對於中日戰爭的看法轉變，最可能和下列哪一個事件的發生有關？ (A)南京爆發日軍大屠殺事件 (B)日本在東北成立滿洲國 (C)中國政府將首都遷往重慶 (D)日軍侵擾美軍在太平洋上的基地。
32. 小炫在歷史課本 131 頁中讀到，「民國 32 年，美、英與中華民國簽訂平等新約，百年來不平等條約的束縛終告解除。」好學的小炫不太明白「百年來」這個時間長度是怎麼來的，因此問了同學。請問，哪一位同學最能為小炫解答？ (A)晴晴：這是從康熙 28 年，也就是西元 1689 年，尼布楚條約簽訂開始計算 (B)阿博：這是從道光 22 年，也就是西元 1842 年，南京條約簽訂開始計算 (C)小郁：這是從咸豐 8 年，也就是西元 1858 年，天津條約簽訂開始計算 (D)廷廷：這是從光緒 21 年，也就是西元 1895 年，馬關條約簽訂開始計算。
33. 阿諾小時候曾聽到外公講述，他從前住在老家——中國江西省大禹縣——所發生的趣事，而在抗戰結束後為了找份工作，阿諾的外公隨親戚來到了臺灣；但不久後卻因中國政局的轉變，從此再也無法返回江西老家，只好帶著家人定居臺灣。請問，阿諾的外公所說「中國政局的轉變」最有可能指哪一件事情？ (A)國民政府傾全力圍剿共產黨，戰火四起 (B)中日之間爆發戰爭，中國各地陷入戰火 (C)國民政府不敵共產黨，最後退出中國大陸 (D)共產黨內部爭奪權力，各自占據一方勢力。
34. 中共在 1950 至 60 年代便已提出四個現代化的想法，希望積極推動農業、工業、國防以及科技等四個面向的現代化發展。而中國民運人士魏京生在 1978 年於北京發起爭取「第五個現代化」，引起中共當局的高度關切，而「第五個現代化」也成為日後中國知識分子追求的目標之一。請問，所謂的「第五個現代化」是指追求什麼方面的現代化？ (A)教育 (B)政治民主 (C)衛生醫療 (D)交通建設。
- ◎詞語的使用常常具有時空性，也就是說，即使同一個詞彙，但它在不同的時空背景之下，卻很有可能被用來指稱不同的事情；同時，它也因此被賦予了不一樣的意義。舉例來說，「革命」一詞，在教育部的國語辭典中解釋為「泛指一切劇烈的改變，可適用於任何方面」。在八年級的歷史課程中，「革命」一詞曾先後出現過三次。請試著分析在不同情境下，「革命」一詞所代表的意義。
35. 八年級上學期第一課曾出現過「新石器革命」一詞。請問，下列哪一個敘述最能夠說明「新石器革命」中「革命」一詞的意涵？ (A)人類透過不斷地戰爭，征服了使用石製工具的民族 (B)人類在極短暫的時間之內，從舊石器時代迅速地轉變為新石器時代 (C)人類最終完全脫離木頭的使用，開始以石頭來製作工具、武器、廚具等物品 (D)人類經過漫長時間的演變，發展出了農業與畜牧，自此開始較能夠維持穩定的食物來源。

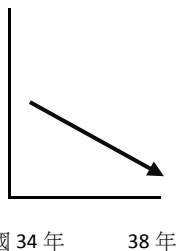
36. 八年級下學期第三課曾出現「革命運動」一詞。請問，在清末的時代背景下，下列哪一個敘述最能夠說明「革命運動」中「革命」一詞的意涵？
- (A)清末處於內憂外患的困境中，人民紛紛團結起來共同對抗西方國家的侵擾
 (B)清末因政局混亂，中央政府官員致力於內政的改革，希望建立一套全新的官員制度
 (C)清末有志之士，發起多次的起義行動，最後推翻滿清的統治，建立新的政權
 (D)清末各地開始拋棄傳統儒家的教育方式，全面改採西方的新式教育制度。
37. 八年級下學期第六課曾出現「革命無罪，造反有理」的語句。請問，下列哪一個敘述最能夠說明這句話中「革命」一詞的意涵？
- (A)積極吸收西方的思想與觀念，進而改變中國固有的儒家傳統
 (B)全民應該團結起來推翻現有的國家，一同打造不一樣的國家
 (C)接受現有的社會風俗習慣才是首要之務，大家應該要共同反擊批評者
 (D)批判和破壞過去傳統的一切是必要的，因為這是為了建造一個具有新思想、新文化的世界。
38. 承上題，這一句話最有可能出現在中國近代歷史發展中的哪一個時期？
- (A)國共內戰時期 (B)大躍進時期
 (C)文化大革命時期 (D)改革開放時期。

◎圖 2 為中共勢力發展強弱的曲線圖。請仔細閱圖 2 後，回答下列問題。

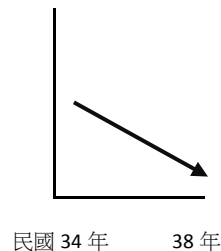


39. 閱讀圖 2 後，可以發現中共自乙事件開始，勢力再度不斷地在縮減。請問這乙事件指什麼的開始？
- (A)北伐軍閥 (B)清黨分共
 (C)剿共戰爭 (D)八年抗戰。
40. 從圖 2 可以看出，國共間曾至少兩次的合作。請問，自民國 26 年開始的第二次合作，主要是因為發生了什麼事情而促成？
- (A)軍閥混戰干擾政局 (B)美國企圖瓜分中國
 (C)俄國搶奪長城以北的土地 (D)日本不斷出兵中國。
41. 中共的發展深深影響著現代中國的歷史演變。根據你對中國局勢發展的了解，請推測中共在民國 34 年後的勢力發展曲線，最有可能為下列何者？

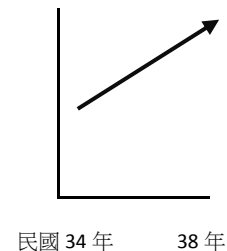
(A)



(B)



(C)



背後還有試題！

◎圖像是我們認識過去的重要媒介之一，我們可以從圖像所描述的內容來了解過去某個時期的環境和建築、過去某個事件的發生、過去人們的服飾和習慣等等。而在攝影技術發明後，圖像更大大地協助我們認識近代人們的生活。請仔細閱讀下列照片，並回答問題。

42. 圖 3 為中共進行土地改革時所拍攝的照片，照片中有些人們開心地敲打著樂器，手裡拉著寫有「歡迎土改隊協助我們分土地」的布條。請問，開心地參與這個歡迎隊伍的人們，其身份最有可能為下列何者？



圖 3

- (A) 擁有大批土地的地主
(B) 沒有自己田地的佃農
(C) 投資工廠興建的資本家
(D) 身任高階職務的中央官員。

43. 圖 4 為人們群聚的照片，許多人士氣高昂地高舉單手，看似正在呼喊著某個口號。而手中的布條上寫著「抗美援朝保家衛國」。請問，這些人群的聚集，最有可能是因為當時發生了什麼事情？ (A) 美國出兵中國，中國人民希望爭取朝鮮人民的支持 (B) 北韓出兵南韓，而以美國為首的聯合國部隊出兵協助南韓 (C) 日本再次進攻中國，中國希望美國能夠一起抵抗 (D) 美國出兵轟炸整個朝鮮半島，中國出兵協助南韓反擊美國。



圖 4

44. 圖 5 拍攝於中國某食堂，人們開心地站在食堂門口，而一旁寫著「生活集體化，食堂如我家」的標語。從標語中可以推測，這個食堂的建立與中共所推行的哪一個政策有最直接的關係？ (A) 實施以鄉村包圍城市的策略 (B) 在各地將國有企業民營化 (C) 推行經濟改革開放政策 (D) 在各村鎮建立人民公社。



圖 5

45. 圖 6 拍攝於 1958 年左右，照片中可以看到在田地的中間，人們蓋起了高爐，準備投身全民大煉鋼的行動。請問，當時的人民紛紛加入煉鋼的行動，是為達成政府所提出的什麼目標？ (A) 超英趕美 (B) 進攻日本 (C) 解放臺灣 (D) 稱霸亞洲




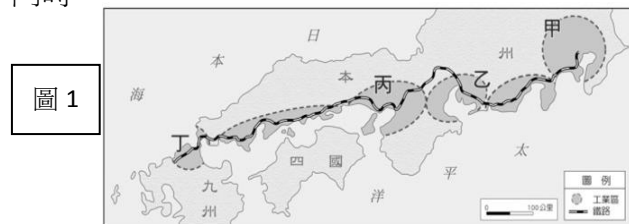
圖 6

地理科試題(滿分100分)

命題教師:歐光興老師

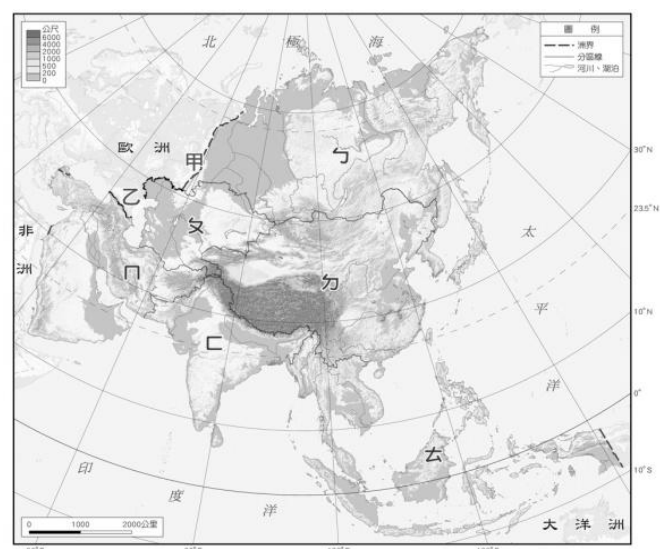
一、 選擇題 (100%。每題4分)

46. 1990 到 2008 年期間，北韓在「全球飢餓指數」惡化的排名中位居第二。造成北韓糧產不足，常有饑荒的問題，除了政治制度的影響外，與下列何項自然因素關係最密切？
 (A)颱風侵襲次數多 (B)生長季短、平原少 (C)火山活動與地震頻繁 (D)年降水量少於 500 毫米
47. 日本的漁業發達，與下列哪一項因素較「無關」？
 (A)都市化程度高 (B)寒、暖流交會於此 (C)海岸線曲折 (D)捕撈技術佳
48. 日本地區降水量較同緯度的中國多，氣溫也較暖和，主要原因為何？
 (A)多島嶼 (B)地形高聳 (C)日照較長 (D)四周有海洋調劑
49. 日本富士山為日本第一高峰，請問：富士山位於日本哪個島？(A)本州 (B)四國 (C)九州 (D)北海道
50. 圖 1 為日本工業區分布圖。請問：圖中何地區工業發達，同時也是日本的政治、經濟中心？
 (A)甲 (B)乙 (C)丙 (D)丁



51. 日本主要的工業區和工業都市均瀕臨海洋，主要是因日本的工業受到何項條件限制？
 (A)勞工缺乏 (B)內陸運輸不便 (C)土地面積狹小 (D)國內原料不足，仰賴進口
52. 新加坡位於馬來半島南端，地控哪個水域，因而成為重要的貨運轉口中心與東南亞的交通樞紐，在該地區的經濟發展上具有領導地位？ (A)臺灣海峽 (B)對馬海峽 (C)英吉利海峽 (D)麻六甲海峽
53. 南亞恆河平原和中國鄱陽盆地的緯度相近，但一月的月均溫，恆河平原卻比鄱陽盆地高 10°C 左右。形成上述差異的原因，主要是因為恆河平原具備下列何項特性所致？
 (A)境內湖泊眾多 (B)太陽輻射較強 (C)午後多對流雨 (D)北有高山屏障
54. 下列哪一條河川是印度人的聖河，也是印度古文明的象徵，發源自喜馬拉雅山區，全長 2,496 公里。對於印度教徒來說，它是神聖之地，也是靈魂的安息地？
 (A)恆河 (B)漢江 (C)印度河 (D)黃河

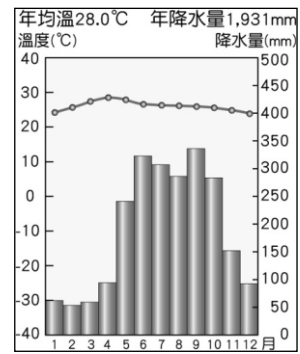
◎依自然與人文環境特色，亞洲可分為東亞、東北亞、東南亞、南亞、西亞、中亞及北亞七大區，請參考右圖，回答 55-57 題。



55. 「位於亞洲東南部，緯度較低，氣候溼熱，四季如夏；島嶼多，國家數眾多。」上面所敘述的是圖中哪個地區？ (A) 乙 (B) 丙 (C) 丁 (D) 戊
56. 「位於亞洲大陸南側，北有喜馬拉雅山，東、西、南三面相鄰印度洋，主要範圍包括印度半島、錫蘭島及馬爾地夫群島。」上面所敘述的是圖中哪個地區？ (A) 丁 (B) 戊 (C) 己 (D) 庚
57. 上圖 戊 介於歐亞大陸之間，自古其交通戰略位置相當重要。請問：戊 是指亞洲哪個地區？ (A) 南亞 (B) 中亞 (C) 東北亞 (D) 東南亞

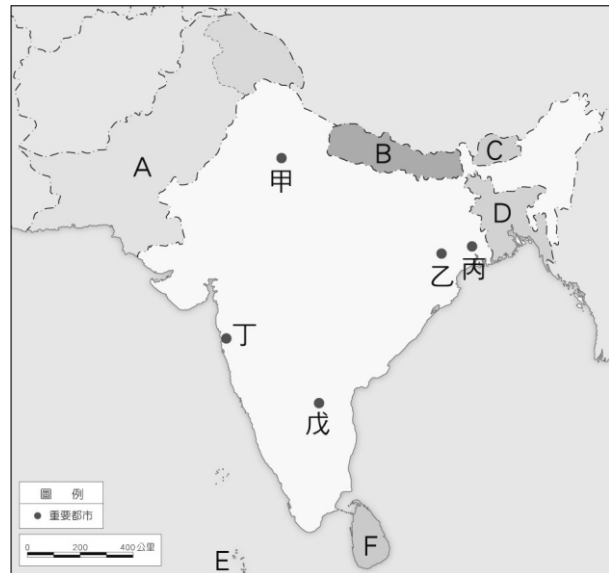
◎東南亞位處低緯，以熱帶氣候為主。請回答下列問題。

58. 右圖為越南胡志明市的氣候圖，下列對於此都市氣候的敘述，何者正確？
 (A)四時皆夏、年溫差大 (B)終年多雨 (C)乾溼季分明 (D)屬於熱帶雨林氣候
59. 同上題，臺灣哪個縣市的氣候類型與此都市較接近？
 (A)臺北市 (B)基隆市 (C)宜蘭縣 (D)高雄市



◎印度半島人口眾多、族群複雜、文化多元，擁有特殊的風土民情與歷史古蹟，觀光資源豐富。請依右圖回答 60-62 題(A~F 為國家代號，甲~戊為城市代號)。

60. 阿三想安排到圖中的「甲」地旅遊，下列哪個假期是當地最舒適的時節？
 (A)春節 (B)端午節 (C)中秋節 (D)清明節
61. 若要參觀印度著名的寶萊塢製片廠，應前往圖中哪個城市？ (A)甲 (B)丙 (C)丁 (D)戊
62. 有「印度矽谷」之稱的是哪個城市？
 (A)乙 (B)丙 (C)丁 (D)戊
63. 忍太郎暑假時跟家人到東印度群島旅遊，在當地看到許多宗教建築。請問：他所看到的宗教建築，以下列哪一種最多？(A)佛寺 (B)清真寺 (C)道教建築 (D)天主教堂
64. 亞洲地形複雜，沿海多半島及島嶼，在亞洲四大半島中，緬甸位於哪個半島上？
 (A)阿拉伯半島 (B)印度半島 (C)中南半島 (D)朝鮮半島
65. 日本因具有龐大的國際貿易能力，因而發展成為世界經濟大國之一。基於哪種區位考量，日本主要的工業區及都市，大多集中在太平洋沿岸？ (A)市場 (B)勞工 (C)原料 (D)交通
66. 南韓的年均溫較北韓高，生長季亦較北韓長，其主要影響因素為何？
 (A)土壤 (B)降水 (C)水源 (D)緯度
67. 2009年臺北國際旅遊展於世貿二館熱鬧展開，此次參展單位眾多，入場民眾更是打破歷年來的紀錄。請問：在東北亞館，找不到哪一個國家的旅遊文宣？
 (A)日本 (B)南韓 (C)新加坡 (D)北韓
68. 緯度的高低會影響年溫差的大小。下列為日本三大島甲-北海道；乙-本州；丙-九州。請問：三地年溫差由小至大依序排列為何？ (A)甲乙丙 (B)甲丙乙 (C)丙乙甲 (D)乙甲丙
69. 北韓傳統的民間習俗在每年冬季童玩節時，都會掛上斗大的蜻蜓風箏。請問此時風箏多吹往下列哪一個方向？ (A)東北方(B)東南方 (C)西南方 (D)西北方
70. 受地理位置影響，中南半島的風俗習慣及典章制度，深受下列哪幾種文化的影響最深？(甲)印度(乙)埃及(丙)阿拉伯(丁)中國。 (A)甲丁 (B)乙丙 (C)丙丁 (D)甲丙



試題已結束。請記得劃電腦卡，共 70 題！

八年級社會答案

| | | | | | | | | | |
|----|----|----|----|----|----|----|----|----|----|
| 1 | 2 | 3 | 4 | 5 | 6 | 7 | 8 | 9 | 10 |
| A | C | D | B | D | D | B | B | A | C |
| 11 | 12 | 13 | 14 | 15 | 16 | 17 | 18 | 19 | 20 |
| D | D | D | C | B | C | A | A | B | C |
| 21 | 22 | 23 | 24 | 25 | 26 | 27 | 28 | 29 | 30 |
| A | B | C | C | D | B | B | A | C | D |
| 31 | 32 | 33 | 34 | 35 | 36 | 37 | 38 | 39 | 40 |
| D | B | C | B | D | C | D | C | C | D |
| 41 | 42 | 43 | 44 | 45 | 46 | 47 | 48 | 49 | 50 |
| C | B | B | D | A | B | A | D | A | A |
| 51 | 52 | 53 | 54 | 55 | 56 | 57 | 58 | 59 | 60 |
| D | D | D | A | D | B | B | C | D | A |
| 61 | 62 | 63 | 64 | 65 | 66 | 67 | 68 | 69 | 70 |
| C | D | B | C | C | D | C | C | B | A |