

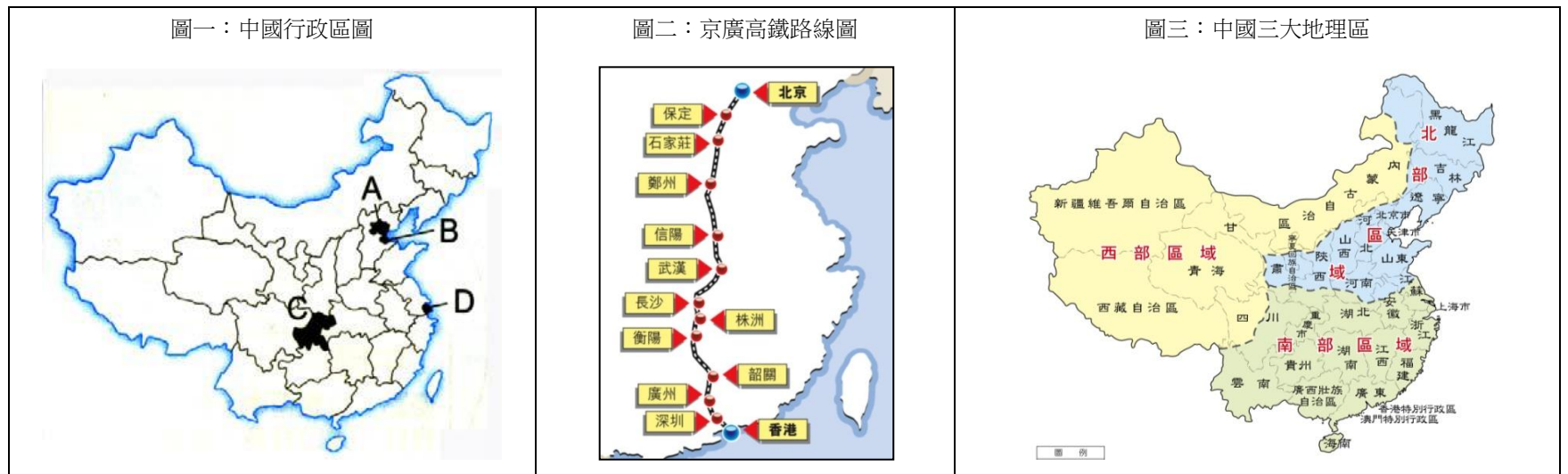
花蓮縣立宜昌國中 106 學年度第二學期第一次段考八年級社會科試題

地理科 命題教師：林素葉


班級：_____ 姓名：_____ 座號：_____

一、單選題 (每題 5 分 共 60 分)，請將答案使用 2B 鉛筆畫記在答案卡上。

下列為中國行政區圖、高鐵路線圖及三大地理區分佈圖，請回答下列問題：



- 圖一為中國四大直轄市位置圖，請問下列對於四大城市敘述何者最正確？
(A)此四大都市皆位於第三級階梯 (B) A、C 位居盆地地形 (C) C、D 屬於長江流域 (D) D 為中國政治行政中心
- 承上題，若從 A 城市搭火車到 D 城市，火車行駛路線最主要經過地形為下列何者？
(A)山地 (B)高原 (C)盆地 (D)平原
- 京廣高速鐵路全長 2,118 公里(圖二)，為目前中國里程最長、經過省份最多的高速鐵路，更是當今世界上營運里程最長的高速鐵路，行車時間最快約為 8 小時 03 分鐘。請問此條鐵路連接下列哪些地區？
(A)華南－華中－華北 (B)華中－華北－東北 (C)華北－東北－西北 (D)南部－西部－北部
- 承上題，除京廣高速鐵路外，中國高速鐵路是目前世界上最大規模的高速鐵路網，始建設於 2004 年，截至 2016 年 9 月總里程達 2 萬公里，其中運營時速可達 300 公里的路線，總里程超 1 萬公里，占世界 60% 以上，有 29 個省級行政區開通高鐵。請問為何中國需要這麼多的高速鐵路運輸系統？
(A)面積遼闊 (B)地形崎嶇 (C)經濟落後 (D)氣候複雜
- 圖三為中國三大地理區圖，請問下列何者是南部與北部的分界線？
(A)南嶺、淮河 (B)秦嶺、淮河 (C)長城、黃河 (D)長江、黃河
- 承上題，下列對於南部與北部的敘述何者正確？
(A)北部地形崎嶇，山多平原少 (B)南部河川水量變化大不利航行，以陸運為主
(C)北部主要作物為水稻、甘蔗 (D)南部地區氣候濕熱，雨量充沛
- 右圖為中國某地區地下洞穴內景觀，該地區的因石灰岩遍佈，地表多峰林、地下多溶洞。請問下列哪一地區最有可能是此種地形分布區？
(A)東北平原 (B)雲貴高原 (C)黃土高原 (D)橫斷山脈區
- 承上題，形成此種特殊地形的條件除了石灰岩外，還需有高溫多雨的氣候配合，將碳酸鈣溶解於酸性水中，由此推斷，下列哪一個地區「最不可能」出現石灰岩地形景觀？
(A)廣西省 (B)貴州省 (C)四川省 (D)黑龍江省
- 2010 年出品的 3D 動畫科幻巨片《阿凡達 Avatar》，相信大家絕對都不會陌生。故事發生在 2,154 年的未來，人類前往「潘朵拉星球」開採礦產，威脅到當地納美人(Na'vi)的生存，雙方因此展開了激烈的戰爭。片中一些景色美得出奇，觀眾誤認是電腦動畫的「懸浮山」場景，其實許多鏡頭是在湖南省「張家界國家森林公園」實地拍攝。其中奇特的「哈利路亞山」，便是張家界「三千奇峰」中的「南天一柱」。隨著《阿凡達》撼動世界影壇的熱潮，張家界的「南天一柱」，也從此更名為「阿凡達--哈利路亞山」。請問，外景隊前往拍攝的地點位於下列哪一地區？
(A)華南 (B)華中 (C)華北 (D)東北
- 「山海關古稱榆關、渝關、臨渝關、臨閩關。古渝關在撫寧縣東二十里。北倚崇山，南臨大海，相距不過數里，地勢險要，號稱「天下第一關」。請問山海關「北倚崇山，南臨大海」，所濱臨的是下列哪一個海域？
(A)渤海 (B)東海 (C)南海 (D)日本海
- 習慣上一般稱山海關以外為「關外」，請問下列關於關外的敘述何者正確？
(A)國界線長，主要鄰國有日本、南韓、俄羅斯 (B)工業發達，設有五大經濟特區
(C)山環水繞，平原遼闊，為肥沃黑土帶 (D)地勢低平，湖群散佈，河渠縱橫交錯，有水鄉澤國之稱
- 三江平原從昔日人煙稀少的「北大荒」沼澤區，變成今日稻作糧食豐富的「北大倉」，其最主要的原因為何？
(A)氣候異常變遷 (B)南水北調政策 (C)改善水利設施 (D)建設大規模溫室



二、非選擇題 (共 40 分)，請使用黑色墨水筆作答。請與歷史科分開繳卷。

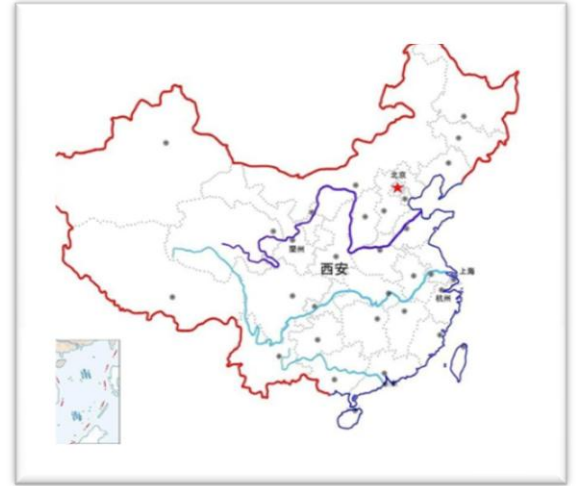
中國母親河~黃河和長江

河流孕育人類文明，世界各地都有自己的母親河，就中國而言，有「母親河」之稱的有兩條河流，一個是長江，一個黃河。保護長江和黃河，就是保護中國的母親河。

但中國自古就是洪澇災害嚴重的國家。在漫長的中國歷史上，黃河留給人們的都是痛苦的記憶。根據史料的統計，在過往兩千多年間，黃河共決溢 1590 次，大的遷徙 26 次，平均三年兩決口，百年一次大改道，每一次都奪去成百上千萬人的生命，流離失所者更是不計其數。長江的水患相對黃河而言，在整個中國古代，頻繁程度與劇烈程度都不及黃河，因此中國古代就有「有河患，無江患」的說法。但現在這句話恐怕要反過來說了，應該是「有江患，無河患」，黃河不僅沒有水患，還經常面臨著斷流的危險，長江倒是經常有水患。整個長江流域，歷史上來看，越接近現代，洪水次數越多，災害程度也越大，長江水災，唐代平均 18 年一次，宋代平均 5、6 年一次，明清平均 4 年一次。1921 年至 1949 年，長江平均每 2 年發生一次洪水。長江流域的洪水頻率越來越高、災害程度越來越大，主要原因有兩點：第一是長江上游森林資源的破壞，導致水土流失越來越嚴重，另一個原因是，長江中、下游，大量圍湖造田，湖泊和沼澤等天然水體消失，使得長江自我調節洪水的能力喪失，兩方面原因加重了長江的水患。

至於黃河，秦漢以來，黃河水災主要是因為暴雨季節，黃河水量猛增，黃河大堤決口所致。一直到晚清時期，黃河還經常因為洪水而決口。中國近代以來對黃河進行了全面治理，取得了顯著成效，黃河流域基本沒有發生大的水災。然而，從 1972 年開始，黃河出現了更可怕的現象，那就是斷流。1972 年至 1979 年，斷流 6 次，每次斷流的平均時間是 7 天；1980 年至 1989 年，斷流 7 次，平均每次斷流 7.4 天；1990 年至 1995 年，斷流 8 次，平均斷流 53 天；1996 年，斷流達到 136 天；1997 年，斷流達到 226 天。黃河出現洪水，有自然原因，但黃河出現斷流，主要是人類的活動造成的。黃河上游由於經濟的發展，工業和農業用水量大增，大量的河水被抽走，中上游抽走了大量的河水，那麼下游自然而然就沒水了，於是就出現了斷流。當然全球氣候變暖也是黃河出現斷流的原因之一，此外，黃河中上游的植被遭到破壞，涵養水源的能力大為降低，地面變得更加乾燥，地表乾燥以後，地表徑流的水量就會被人類抽取，用來灌溉土地，黃河的水量就進一步的減少了。為了解決缺水問題，早在毛澤東時期就開始進行大規模輸水工程及環境改善措施，目前斷流現象已獲得明顯改善。

(資料來源 <https://kknews.cc/zh-tw/history/maj3xz.html>；<https://read01.com/zh-tw/x8Ad77.html#.Wrc5Yi5ubIU>)



1、長江是亞洲第一長河和世界第三長河，也是世界上完全在一國境內的最長河流，全長 6380 公里；黃河則是中國的第二長河，世界排名第六長河流，全長 5464 公里。請問這兩條河流皆發源於中國哪一個高原區？(2 分)

2、請問長江流域、黃河流域分別位於中國華南、華中、華北、東北、西北、西南中的哪兩大地理區？(4 分)
兩大流域在中、下游-主要流經區域分別屬於何種氣候？(4 分)

長江流域：_____；_____氣候 黃河流域：_____；_____氣候

3、在中國歷史上，黃河平均三年兩決口，百年一次大改道，請問導致黃河流域經常潰堤、改道而發生水患的原因有哪些？(5 分) 針對此現象中國政府做了哪些改善的方式？(5 分)

4、古代詩人李白在其「將進酒」詩句中以「君不見黃河之水天上來，奔流到海不復回」來形容黃河壯觀的景象，黃河問題由舊時的水災到今日的水荒，主要是有哪些原因導致？(5 分)
中國政府針對黃河斷流現象進行了哪些改善措施？(5 分)

5、中國古代有「有河患，無江患」的說法，到現在變成「有江患，無河患」，長江流域的洪水頻率越來越高、災害程度越來越大，主要原因有哪些？(5 分)
中國政府針對長江水患問題，進行了哪些改善措施？(5 分)

花蓮縣立宜昌國中 106 學年度第二學期第一次段考八年級社會科試題

歷史科 命題教師：邱騰玄

班級：_____ 姓名：_____ 座號：_____

一、單一選擇題，每題 5 分共 55 分

13. 清光緒年間，中國割讓臺灣，臺灣士紳反對割讓，主張建立臺灣民主國。此事件起因於下列哪一場戰爭的失敗？
(A)鴉片戰爭 (B)中法戰爭 (C)英法聯軍 (D)甲午戰爭。

14. 宜靜在複習歷史課文時，針對清末列強的侵略，整理了一份表格。請問：附表的主題應該是什麼？

時間	簽訂條約	喪失領土
咸豐 8 年	璦琿條約	黑龍江以北
咸豐 10 年	北京條約	烏蘇里江以東

(A)英國的入侵 (B)俄國的侵占
(C)法國的逼迫 (D)美國的出擊。

15. 學者對於清朝末年發展，有如下的評論「這場運動的失敗，可以從許多面向來看，要不是推動者的規畫不夠完善，加上各地督撫不願意配合，這樣的改革也不至於成效如此的有限……。」請問此位官員評論的是哪件事？

(A)自強運動的改革情況 (B)林則徐銷煙的決定
(C)太平天國動亂的原因 (D)戊戌變法的背景

16. 阿龍是清末的知識分子，他認為當時的中國面對列強的侵略，必須要大力改革，才能救亡圖存。因此他主張以光緒皇帝為首，改革政治制度、精簡政府機構，設立京師大學堂等。依上述內容來判斷，阿龍最可能會參與下列哪一事件？

(A)鴉片戰爭 (B)太平天國 (C)自強運動 (D)戊戌變法。

17. 數年前在國際的拍賣會場上，曾出現清代圓明園的文物，這些珍寶的外流，最主要是肇因於下列哪一項事件？

(A)鴉片戰爭 (B)英法聯軍 (C)太平天國 (D)三藩之亂。

18. 小秦看到有篇介紹某位清末歷史人物的文章，其中敘述：「他與一批有志之士上書請願，鼓吹政治革新的理念，主張維新變法。後來，他得到皇帝支持，開始推動政治改革，但因守舊派發動政變，推翻改革，他只好逃亡海外。」根據以上的敘述，這篇文章介紹的歷史人物應是下列何者？

(A)曾國藩 (B)李鴻章 (C)康有為 (D)孫中山。

19. 清代某大臣上奏：「兩年前，我們選送六位廣方言館學生到北京考試，後來總理衙門來函稱讚這六名學生表現卓越。有鑑於新開埠的港口及地方上新建的學堂亟需人才，將由這批學生來擔任相關職務。」這份奏摺所陳述的情況最可能發生在下列何時？

(A)三藩之亂期間 (B)鴉片戰爭之時 (C)英法聯軍之時 (D)自強運動期間。

20. 附表是西元 1840~1913 年，外國在中國設立工廠數目的情況。其中可看出西元 1894 年以後，外國設立的工廠數目呈現大幅成長，這是源於《馬關條約》中通商口岸設廠的條款，同時各國因何得同時享有該項權利？

時期（西元）	設立工廠數目
1840~1870	7
1870~1894	16
1894~1913	136

(A)租界 (B)協定關稅 (C)領事裁判權 (D)片面最惠國待遇。

21. 俄國將東北地區視為其侵略的主要目標。當俄國知道中國割讓遼東半島給日本後，便聯合下列哪兩個國家向日本施壓，使中國得以白銀三千萬兩贖回遼東半島？

(A)德國、法國 (B)英國、美國 (C)英國、法國 (D)美國、法國。

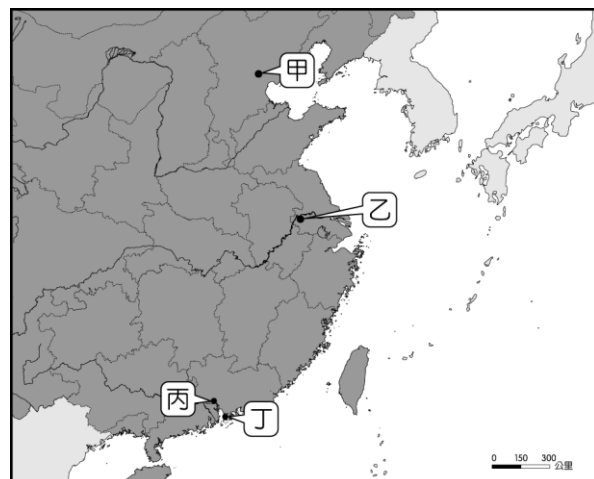
● 清末在中國的南方出現一個反清政權的領導者自稱：「朕即上天堂，自天父、天兄領到天兵，保固天京…」在其領地內推行「天下人人不受私，物物歸上主，則主有所運用，天下大家處處平勻（均），人人飽暖矣。」請問：

22. 請問上述政權的領導者，應是何人？

(A)曾國藩 (B)李鴻章 (C)洪秀全 (D)左宗棠

23. 該政權在最終將首都定在下圖中何處，與清政府分庭抗禮？

A)甲 (B)乙 (C)丙 (D)丁



二、手寫題：2 大題共 45 分+10 分特別加分題（手寫題有些是沒有標準答案，有寫就有分數）

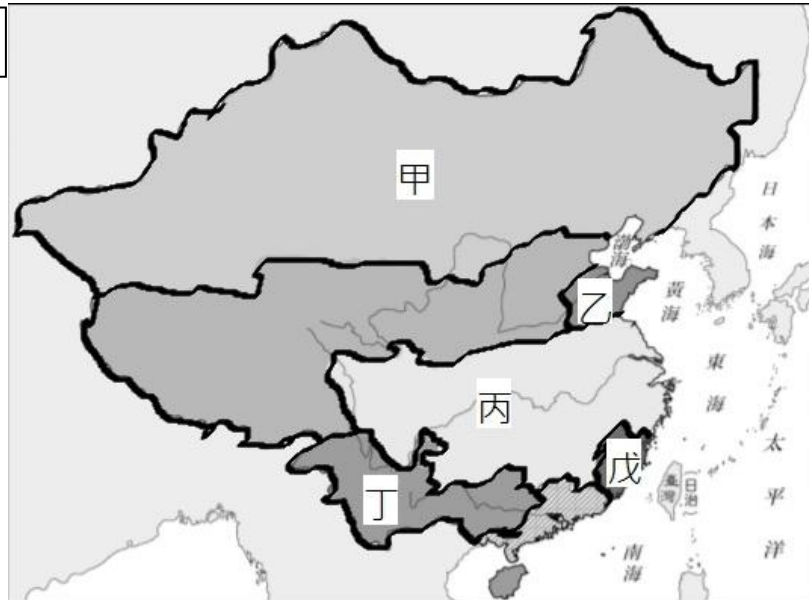
《歷史與圖》

- 下圖《一》是清末當時諷刺列強瓜分中國這塊大餅的漫畫。圖中的人物分別代表英、德、俄、法、日等國家，正商議如何畫分 CHINE（秦，即中國），結果如下圖《二》。幸有「門戶開放政策」的提出，清政府免於瓜分的命運。請問

圖一



圖二



1、瓜分風潮，始於上圖《二》列強租借乙處附近的港灣，並將它納入自己的勢力範圍，請問是哪一個國家？（5 分）

答：_____

2、(1) 什麼是「門戶開放政策」？(2) 為什麼它能让中國免於被瓜分的命運？（15 分）

(1)：_____

(2)：_____

3、「門戶開放政策」是哪一個國家所提出？這個國家倡議這政策最主要的原因為何？（15 分）

(1) 提出國家：_____

(2) 提出原因：_____

- 右圖三是歷史課上甲午戰爭時，老師簡要的在黑板上畫出亞洲地圖，並從圖中說明，日本明治維新後的擴張路線。如箭頭所指的方向。

1、從地緣位置來分析，為什麼老師說當日本走向擴張之路，必然的會和清朝（中國）發生戰爭？（10 分）

答：_____

2、日本向西南方向的發展，台灣成為它必然得掌控的地方，就你學過的知識，從 1874 至 1945 年，日本對台灣做了哪些政策來實踐它的擴張計畫？（10 分特別加分題）

答：_____



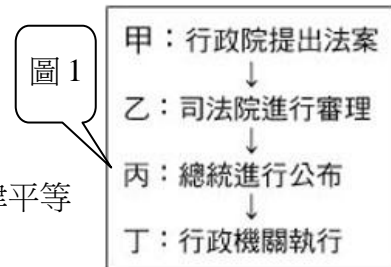
花蓮縣立宜昌國中 106 學年度第二學期第一次段考八年級社會科試題

公民科 命題教師：褚文山

班級：_____ 姓名：_____ 座號：_____

一、選擇：(每題4分，共計60分)

24. 我國的《憲法》是國家根本大法，國家及人民行為的最高準則。下列有關憲法的敘述何者正確？
 (A)由立法院制定 (B)修改了7次本文 (C)增修了12條《憲法增修條文》 (D)可以聲請立法委員釋憲。
25. 現代民主國家多在《憲法》中規範基本人權。請問：下列何者屬於我國人民的基本權利？
 (甲)服兵役 (乙)組織人民團體 (丙)參加高普考等公職人員考試 (丁)受國民小學教育
 (A)甲乙丙 (B)甲乙丁 (C)乙丙丁 (D)甲乙丙丁。
26. 法律必須由立法機關依照一定的程序制定。關於法律制定的程序，下列哪一項敘述是正確的？ (A)憲法由國民大會制定，交總統公布後實施 (B)法律由立法院經三讀程序制定，經總統公布後實施 (C)法律由立法院經三讀程序制定通過，交行政院公布後實施 (D)命令由各行政機關訂定，交議會公布後實施。



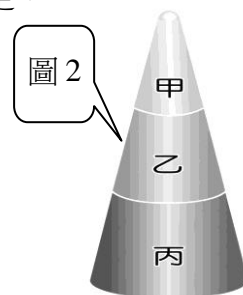
27. 右圖1為關於我國狹義法律的制訂流程，其中哪一項敘述錯誤？
 (A)甲 (B)乙 (C)丙 (D)丁。

28. 我國《憲法》規定：「中華民國人民，無分男女、宗教、種族、階級、黨派，在法律上一律平等」。請問：下列何者所保障的權利與上述內容相符？

- (A)喬巴參加公務人員高等考試 (B)魯夫利用暑假出國 (C)娜美提出訴願 (D)索隆申請育嬰假。

29. 《性別工作平等法》規定，雇主不能以懷孕會影響工作表現為理由，解雇女性員工。請問：該項規定，主要是基於下列哪項目的？

- (A)保障人民權利 (B)維護社會秩序 (C)促進社會進步 (D)促進文化交流。



30. 公民老師上課時以附圖2作為法律位階的說明圖形，根據該圖內容判斷，下列何者正確？

- (A)最高性為乙的特色 (B)甲不得牴觸乙 (C)丙僅說明法律原則 (D)丙由行政機關訂定修改。

31. 右圖3為《公平交易法》第1條條文。

根據內容判斷，八年七班下列四人的說明，何者錯誤？

- (A)欣諭：「制定該法以維護交易秩序，可發揮維護社會秩序的功能。」
 (B)芷儀：「維護消費者利益，可見制定該法律主要在保障人民權利。」
 (C)柄鐘：「法律的功能單一，制定該法律旨在確保廠商公平競爭。」
 (D)耀霆：「促進經濟安定與繁榮，可使人民生活更好，促進社會進步。」

為維護交易秩序與消費者利益，確保公平競爭，促進經濟之安定與繁榮，特制定本法。

32. 台中捷運施工期間造成附近商家抱怨連連，因為冗長的捷運施工期讓他們業績虧損，然而他們的損失不能申請賠償。這是因為《憲法》規定在何種目的下，政府得以依法限制人民的權利？

- (A)增進公共利益 (B)避免緊急危難 (C)遭遇內亂外患 (D)維持社會秩序。

33. 我國目前《憲法》規定之修憲程序，須經立法委員四分之一提議，四分之三出席，及出席委員四分之三之決議，才能提出《憲法》修正案。並於公告半年後，進行選舉人投票複決，有效同意票必須超過選舉人半數以上，才能完成修憲程序。請問：由上述可知，《憲法》的修訂程序複雜，這屬於憲法的何種特性？

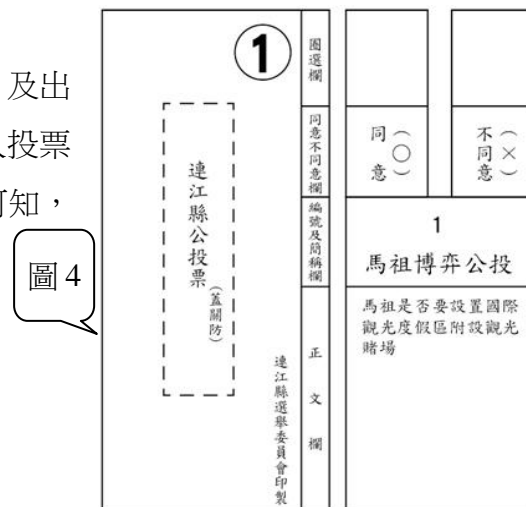
- (A)固定性 (B)最高性 (C)原則性 (D)理想性。

34. 由附圖4的內容判斷，此項投票屬於《憲法》保障人民的哪項基本權利？

- (A)平等權 (B)參政權 (C)自由權 (D)受益權。

35. 參政權是《憲法》保障人民參與政治的權利。下列相關敘述何者正確？

- (A)只要是符合投票資格的公民都有選舉權與被選舉權
 (B)罷免權是指人民針對民選的公職人員，有依法定程序使其去職的權利
 (C)創制權是指人民針對法律或政策，表示同意與否的權利
 (D)複決權是指人民有主動提出立法原則或制定政策的權利。



36. 我國素來對於人權相當重視，也是民眾熱烈討論的議題，下列四人有關人權概念的說法，何者有誤？

- (A) 柯南：「透過公民投票決定公共事務，是參政權的實踐。」
- (B) 金田一：「我要上法院提出訴訟，以行使人民司法上的受益權。」
- (C) 服部：「銀行把我的個人資料公開在網路上，我要依法捍衛人格權。」
- (D) 福爾摩斯：「警察無正當理由監聽我的電話，侵害到了我的受益權。」

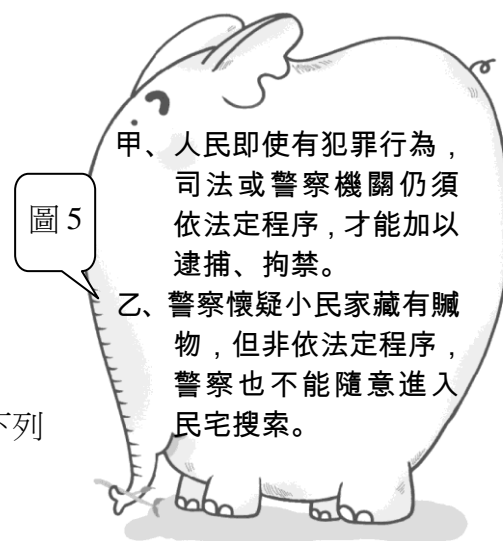
37. 附圖5為褚老師上課時所出示的圖卡——

根據內容判斷，褚老師所要說明的內容最有可能與下列何者有關？

- (A) 平等權與受益權的範圍
- (B) 行政上與司法上的受益權
- (C) 表現自由與遷徙自由的精神
- (D) 人身自由與居住自由的意義。

38. 主要內容包含生命、健康、貞操、名譽、肖像、信用、姓名和隱私權等權利，是指下列何種人民的權利？

- (A) 人格權
- (B) 生存權
- (C) 環境權
- (D) 受益權。



二、配合題：（每題 4 分，共計 40 分）

(一) 廣義的法律依照其位階高低，。可以分成憲法、法律、命令三個等級，以下法規分別屬於哪個？

A. 憲法	B. 法律	C. 命令
-------	-------	-------

- 39. 中華民國憲法增修條文。
- 40. 社會秩序維護法。
- 41. 強迫入學條例施行細則。
- 42. 家事事件處理辦法。
- 43. 道路交通管理條例。

(二) 我國憲法列舉的自由權有六項、受益權有七項內涵，下述題目中所陳述或對照的，與選項中的自由權或受益權有關，請選出正確配對的答案。

A. 人身自由	B. 居住遷徙自由	C. 表現自由	D. 集會結社自由
A B 經濟上受益權	A C 教育上受益權	A D 行政上受益權	B C 司法上受益權

- 44. 任何人、任何事，都可以向行政或民意機關提出建議或意見，而且沒有次數限制。
- 45. 現行犯人人都可以逕行逮捕之。
- 46. 廣告內容不可虛偽不實或產生誤導作用。
- 47. 個人的權利受到政府機關或私人侵害時，可以向法院依法提出訴訟，維護自己的權益。
- 48. 法律雖然保障人民可以登記成立團體，但也會依法取締違法亂紀的幫派組織。

參考解答

地理

1	2	3	4	5	6	7	8	9	10
C	D	A	A	B	D	B	D	B	A
11	12								
C	C								

歷史

13	14	15	16	17	18	19	20	21	22
D	B	A	D	B	C	D	D	A	C
23									
B									

公民

24	25	26	27	28	29	30	31	32	33
C	C	B	B	D	A	D	C	A	A
34	35	36	37	38	39	40	41	42	43
B	B	D	D	A	A	B	C	C	B
44	45	46	47	48	49	50	51	52	53
AD	A	C	BC	D					