

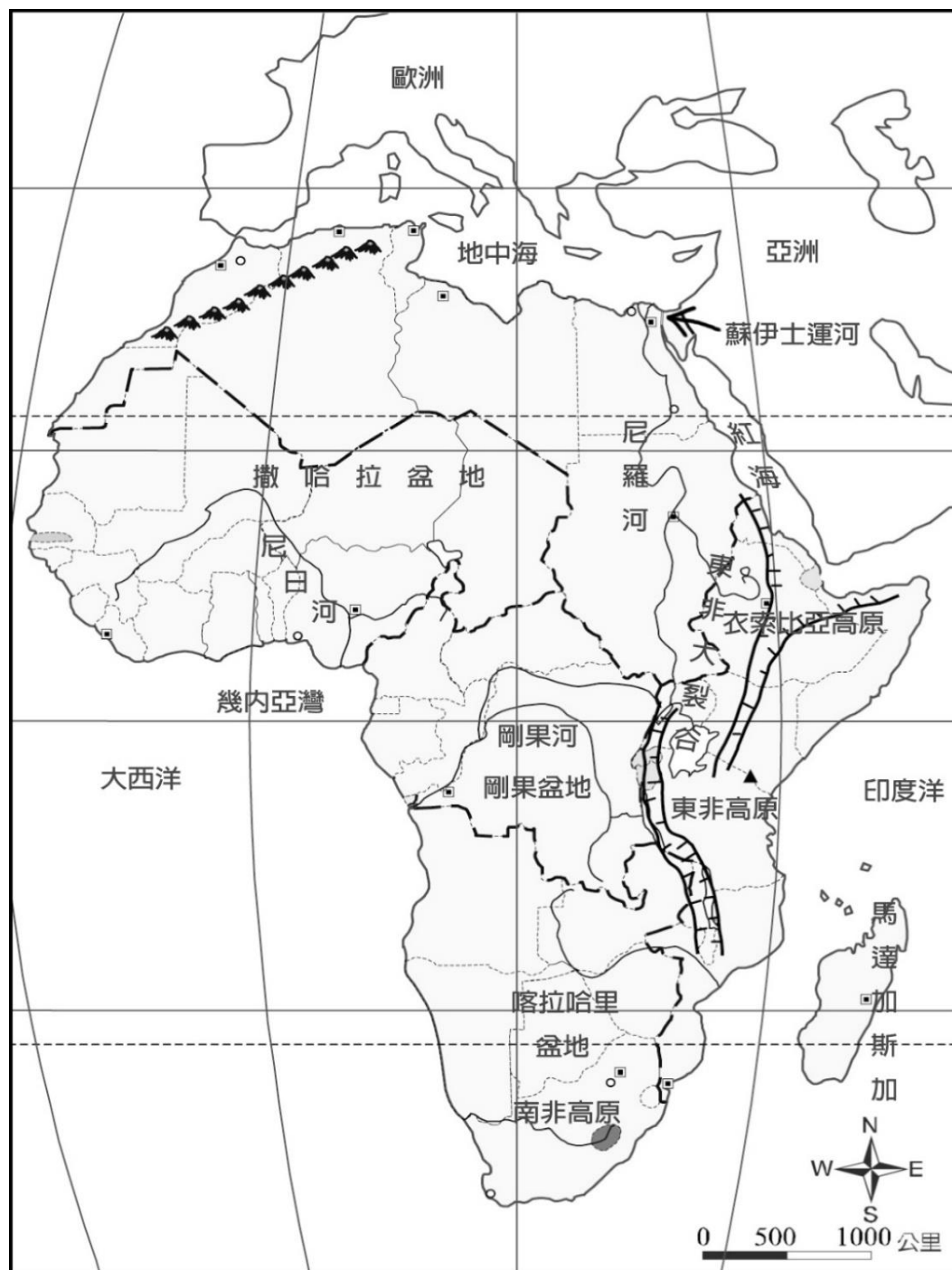
106 學年度第二學期九年級社會科第一次段考試題

九年 班 座號： 姓名：

地理科試題（每題 5 分，共計 100 分）

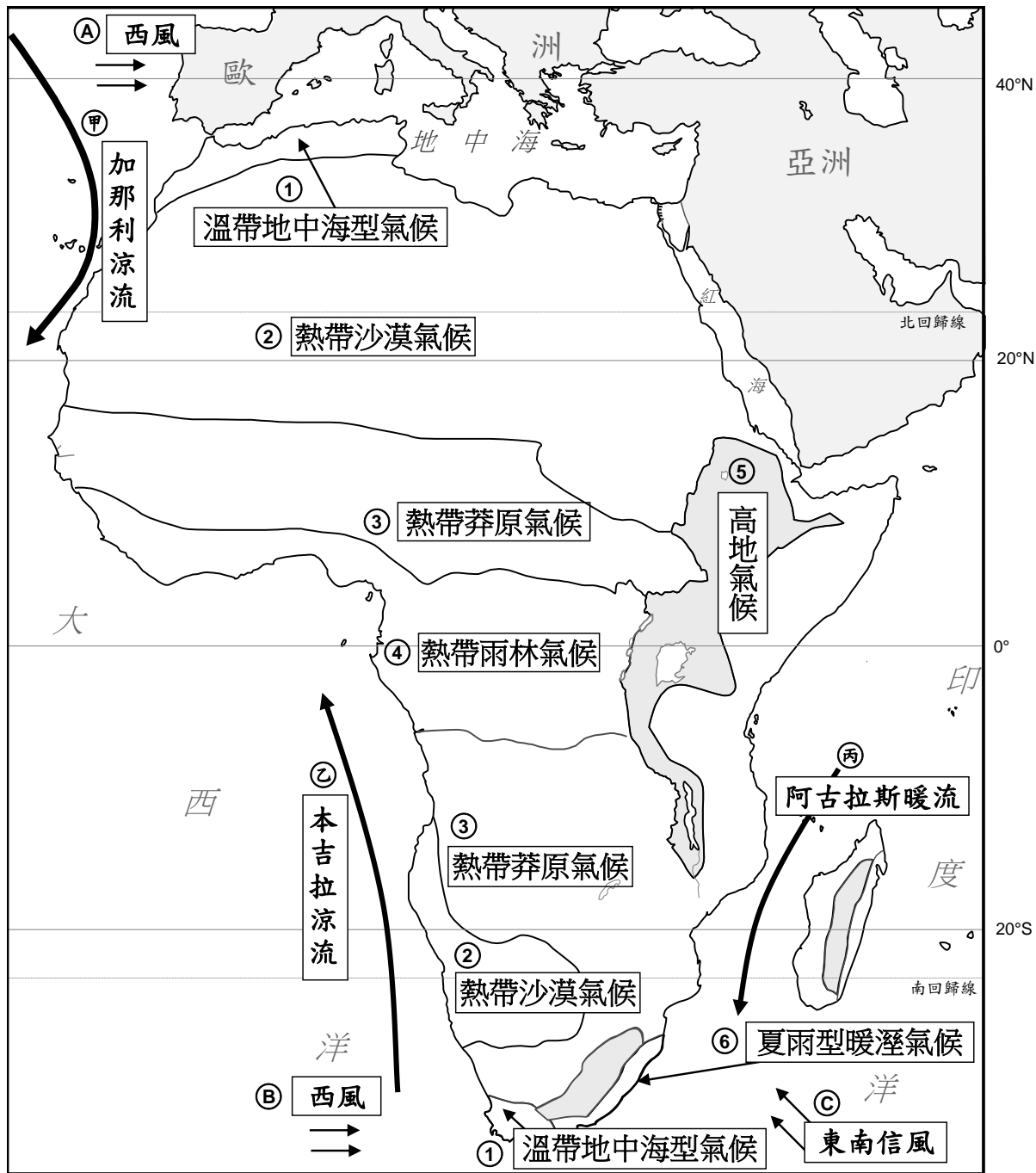
命題教師：朱惟庸老師

◎參考下圖，回答 1~5 題



1. 非洲東北與亞洲阿拉伯半島之間的水域為何？ (A)地中海 (B)印度洋 (C)大西洋 (D)紅海。
2. 從非洲位置圖推斷，下列哪個歷史上出現的帝國最「不」可能在非洲擁有領土？ (A)亞歷山大帝國 (B)羅馬帝國 (C)鄂圖曼土耳其帝國 (D)德意志帝國。
3. 非洲的三大盆地分別為(甲)剛果盆地、(乙)喀拉哈里盆地、(丙)撒哈拉盆地，若由南到北一代號排列，結果應為下列何者？ (A)甲丙乙 (B)乙甲丙 (C)丙甲乙 (D)丙乙甲。
4. 非洲陸塊完整，海岸平直少灣澳，對外航運不便，且地形以高原為主，這些地形特徵與下列何因素關係最大？ (A)面積廣大 (B)岩層古老且堅硬，軟弱的部分已被侵蝕殆盡 (C)東部有東非大裂谷 (D)東非大裂谷兩側有許多火山分布。
5. 非洲東部因斷層(甲)而形成地塹，稱為東非大裂谷，請問(甲)應該是甚麼？ (A)平移 (B)抬升 (C)陷落 (D)消失。

◎參考下圖，回答 6~10 題



6. 由圖中可知，非洲的地形何處較高？(A)北部 (B)南部 (C)東部 (D)西部 非洲。
7. 由圖中推知，涼流對氣候的影響最可能是下列何者？
(A)減少降雨 (B)增加降雨 (C)提升溫度 (D)改變風向。
8. 因為行星風系中的副熱帶高氣壓位於回歸線附近，因此最可能出現在回歸線的氣候，為下列何者？
(A)熱帶沙漠 (B)熱帶莽原 (C)熱帶雨林 (D)溫帶地中海 氣候。
9. 均位於赤道的剛果盆地與東非高原，前者為熱帶雨林，後者為熱帶莽原氣候。造成氣候差異的因素，最有可能的是下列何者？ (A)距海遠近 (B)盛行風向 (C)東非高原地形高，冬季較剛果盆地低溫而難以形成對流雨 (D)洋流性質。
10. 非洲氣候帶的分布呈現南北對稱，此現象最有可能是受何項因素影響？
(A)洋流 (B)地形 (C)緯度 (D)距海遠近
11. 尼羅河過去每年夏季定期氾濫，利於農業活動的發展。請問：這種特徵與下列哪項關係最密切？
(A)上游屬於熱帶雨林氣候 (B)尼羅河為世界第一長河 (C) 下游沖積形成平原與河口三角洲
(D)擁有全球最多的勞動力人口
12. 「撒哈拉沙漠是非洲自然與人文的分界線。漠北非洲與西亞、南歐接觸甚早，目前多信奉伊斯蘭教，文化上為阿拉伯世界的一部分；漠南非洲以黑人部落為主，各族群間的語言、宗教、風俗習慣迥異。」由上文可知，下列敘述何者正確？
(A)撒哈拉沙漠以北所有地區都信奉伊斯蘭教 (B)漠南非洲沒有國家組織，只有黑人部落
(C)剛果盆地區也是阿拉伯世界的一部分 (D)漠北非洲，並不是一個以黑人部落為主的世界。

13. 「歐洲列強入侵非洲，帶來大量的西方文化，且在劃分勢力範圍時，未考慮當地居民的傳統領域，導致非洲各國獨立後，常因同一國家內有敵對族群，或同一族群分布在不同國家內而產生衝突，屢傳紛爭。」下列哪一選項註解最適合形容上面這一段文字？(A)非洲文化落後的原因 (B)非洲的種族複雜成因 (C)非洲的未來展望 (D)非洲國界多呈直線，以及區域多戰亂的因素探討。

◎面對不同的自然環境，非洲人發展出適應當地且能永續經營的傳統維生方式：

- (1)溼潤地區：熱帶雨林及莽原地區的居民，長期以來多以採集、漁獵和游耕維生。
(2)半乾燥地區：較乾燥的莽原與沙漠邊緣的草原地帶，因乾季明顯，居民以逐水草而居的游牧維生。
(3)乾燥地區：降水量稀少的沙漠，大部分地區維生困難，環境負載力較低，人口稀少，只有少數綠洲可以發展農業。
14. 由上文可推知，東非高原的居民，最可能從事的傳統產業為下列何者？
(A)游牧 (B)綠洲農業 (C)稻作 (D)游耕。
15. 承上題，選擇這樣的維生方式，和下列哪個因素最有關連性？
(A)永續經營 (B)生產技術不佳 (C)戰禍頻仍 (D)平均知識水準不足。
16. 「熱帶栽培業：非洲擁有歐洲缺乏的溼熱氣候，殖民母國利用當地的勞工，投入大量資金發展商業性農業，大規模種植單一熱帶作物，再經初級加工後外銷，獲取較高利益。」參考上文，下列敘述何者正確？
(A)歐洲的氣候為濕熱氣候 (B)熱帶栽培業的特徵包括：濕熱氣候、大量的廉價勞工、商業性、大規模、初級加工，以及因為大量低價勞工所形成的集約性、貧富不均，以及外銷需要的大海港 (C)初級加工的目的，在於提升當地居民工業水準 (D)大規模種植單一作物，是為了支應非洲當地人的需求。
17. 「非洲是全世界人口成長率最高的一洲，因國際社會提供醫療與改善衛生條件，使得死亡率下降，但出生率卻仍居高不下。過多的人口造成糧食不足與失業問題，一旦遭遇天然災害及戰爭，更容易形成大規模的饑荒。」由上可知，非洲成為世界人口成長率最高的一洲，原因為何？
(A)高出生、高死亡 (B)高出生、低死亡 (C)低出生、高死亡 (D)低出生、低死亡率。
18. 承上題，下列何者與非洲高人口成長率較「無關」？(A)大規模饑荒 (B)非洲人口總數世界第一 (C)糧食不足與失業 (D)國際社會提供醫療與改善衛生條件。
19. 「非洲仍擁有許多資源可以協助居民脫離貧困。例如：豐沛的日照、風力、水力等能源，若能用來發電，將成為經濟發展的基礎。此外，雨林和莽原區的自然景觀，是非洲發展生態旅遊的重要資源(1-1-32)，古埃及的文化遺蹟與非洲黑人的部落文化，也吸引全世界觀光客前來，帶動周邊產業，成為這些國家經濟發展的重心之一。」由上文可知，非洲未來發展的展望，和下列何者關係較大？
(A)充沛的能源 (B)大量的人口 (C)眾多的國家 (D)高科技的觀光資源。

◎非洲 93%的人有手機 普及率勝水電【台灣醒報記者陳正健綜合報導】2016/01/21

非洲人缺水缺電，就是不缺手機！談到非洲，很多人的第一個聯想就是民生凋敝，但最近的研究顯示，非洲的手機使用普及率高達 93%。奇怪的是，許多非洲人沒有電力可用，就連沖馬桶也缺水，但是現在幾乎人手一支手機，令人驚嘆不已。

研究機構「非洲晴雨表」調查了非洲 35 個國家的基礎建設，並且訪問了大約 5 萬名民眾。調查發現，非洲民生建設發展落後，將近 3 分之 1 的人沒有排水系統，半數的人住的地方沒有柏油路，只有 63% 的人有自來水可用。研究人員形容，這簡直是 19 世紀落後的生活條件。

更誇張的是，因為種種的不便，非洲孩童很容易生病或夭折，就算是平安長大，許多人晚上想要讀書，就連燈光照明也沒有，想要靠教育來翻身，根本是難上加難。

另外，非洲國家間的差距極大。在埃及和模里西斯，幾乎人人都有水電可用，但是在蒲隆地，只有 17% 的人住的地區有供電系統，而在賴比瑞亞，自來水普及率只有 17%。簡言之，北非地區的民生建設最佳，東非地區則最差。

然而，非洲的手機普及率竟高達 93%。專家指出，非洲許多地區因為交通不便，人們靠手機來聯繫彼此，有實際考量。然而，不少人習慣只接不撥，因為負擔不起昂貴的通訊費用。

20. 由上文可知，如果你要到非洲投資，以非洲地區人民重視的程度而論，下列哪個行業的前景看好？(A)通信服務業 (B)教育服務業 (C)電腦銷售業 (D)快遞業。

21. 《改變歷史的 100 個巨人》一書中，描述著「自此他積極從事民族獨立事業，並著手建立一個包含委內瑞拉及厄瓜多等國在內的大哥倫比亞共和國。他不但領導此地區的革命，並協助此地建立諸多新國家，還推動憲法體制，廢除奴隸制度，為此地區的獨立與自由奮鬥了二十多年。」請問，這段文字應該是在描述哪一位歷史人物？ (A)玻利瓦 (B)馬志尼 (C)俾斯麥 (D)加富爾。
22. 小炫在圖書館借了一本由歷史學家馬克·馬佐爾所寫的書籍《被誤解的歐洲火藥庫》，透過閱讀書中所描繪自羅馬時期開始的農民、僧侶、教徒、旅人、盜賊等人的日常生活，小炫對於這片土地的歷史有了更多的認識。請問，這本書主要是在介紹哪一個地理區域的歷史？ (A)中南美洲 (B)非洲大陸 (C)巴爾幹半島 (D)義大利半島。
23. 承上題，小炫好奇地問了同學，為什麼這個地區被稱為「歐洲的火藥庫」。哪一位同學的說明最能夠為小炫解答？
 (A)恩恩：這個地區以製作火藥而出名，因此長期以來成為各國爭相進口火藥的地區
 (B)阿芮：這個地區的人民個性極為暴烈，常常因為一點小事而爆發械鬥，因此有這樣的稱號
 (C)安安：這個地區的人民團結一致，常常以火藥等武器共同抵抗外來入侵者，因此被外族稱為火藥庫
 (D)小汶：這個地區因民族、宗教、領土等問題時有紛爭，也常受到周邊國家的干預，政局有如火藥庫般的不安穩。
24. 加富爾在義大利歷史中具有舉足輕重的地位，俾斯麥在德國歷史中亦扮演重要關鍵角色，他們二人的共同成就為何？ (A)促進國家統一 (B)提倡歐洲聯盟 (C)鼓吹自由經濟 (D)推翻拿破崙統治。

【95(二)基測】

25. 歷史課本中提到「十九世紀後期以來，列強憑藉工業化優勢，在各地爭奪資源與市場，並控制當地的政治、經濟、宗教、文化等，稱為『新帝國主義』。」根據課文中的說明，下列哪一個歷史事件或過程『不屬於』新帝國主義的行動表現？
 (A)蒙古人在大汗的率領下向西征伐，建立橫跨歐亞的大帝國
 (B)英國在南京條約後占有香港，在香港建立英式的政治、教育等制度
 (C)日本在甲午戰爭後占有臺灣，將臺灣的農業產品銷往日本
 (D)法國在非洲西部建立由總督領導的統治政權。



26. 圖 1 為法國畫家布雷頓的作品《工作結束時》，畫面中描繪了三位婦女走過一片農田，一位手上拿著農具，兩位背上背著沈重的貨物，準備結束一天辛苦的工作。請問，若依據繪畫風格的分類，這幅畫最有可能被歸類在哪一類作品中？ (A)浪漫主義 (B)神學信仰 (C)寫實主義 (D)印象畫派。
27. 西元 1868 年起，日本在明治天皇的治理下，開始進行一連串的西化政策，包括實施君主立憲制度，建立議會；訓練新式軍隊，改用長槍與炮彈；建立新式工廠，從事紡織與汽船等製造；興建西式學校，普及全國的義務教育等等。這一系列的改革奠定了日本現代化的基礎。請問，下列哪一段文字最能夠說明日本開啟明治維新的背景？
 (A)江戶幕府參訪歐美後，發現西方制度可以大幅提升日本國力，因此進行大規模改革
 (B)為了擴大與西方國家的貿易關係，開始學習西方的工業生產技術與貿易方式
 (C)為了嚴格執行鎖國政策，在閉關前大量學習西方的政治和軍事等制度
 (D)為了避免日本再次受到列強的侵擾，積極引進西方的制度與技術以增強國家力量。
28. 承上題，位於日本周邊的中國，在此時期也面臨類似的狀況，因此開啟了哪一次改革運動？
 (A)新文化運動 (B)戊戌變法 (C)自強運動 (D)庚子後新政。
29. 下列為某個條約的重要內容：

1. 德國的亞爾薩斯與洛林回歸法國。
2. 萊茵河東西岸五十公里德軍不能設防。
3. 德國負起全部戰爭責任，德皇威廉二世是頭號戰犯。
4. 德國必須以黃金賠償 2,260 億馬克，後來減為 1,320 億馬克。

這個條約簽訂後，其所帶來的最大影響為何？ (A)德意志帝國被瓦解，從此一蹶不振 (B)美國領導國際聯盟，成為強權國家 (C)激起德國報復心理，引爆二次大戰 (D)法國成為強權國家，占領歐洲全境。

30. 1914年6月底歐洲爆發一場國際衝突，但在不到六週的時間，當時歐洲強國紛紛加入戰局，開啟了人類有史以來規模最大的戰爭，史稱第一次世界大戰。請問，第一次世界大戰的爆發，和哪兩個國家之間的衝突有直接的關係？
(A)德國與法國 (B)奧匈帝國和塞爾維亞 (C)美國和英國 (D)西班牙與葡萄牙。
31. 承上題，在衝突爆發後的六週之內，歐洲強列陸續加入戰爭，導致戰火迅速漫延。請問，下列哪一個說明『最無法』解釋歐洲列強紛紛加入戰爭的原因？
(A)俄國與周邊國家在文化與血統上有認同感，因此協助周邊國家作戰
(B)英國擔心自己的勢力受到威脅，因此加入戰爭以對抗崛起的勢力
(C)德國為了避免受到法國報復，積極的爭取盟國而加入戰爭
(D)法國為了將勢力伸入東南歐，因此與俄國敵對而協助同盟國陣營作戰。

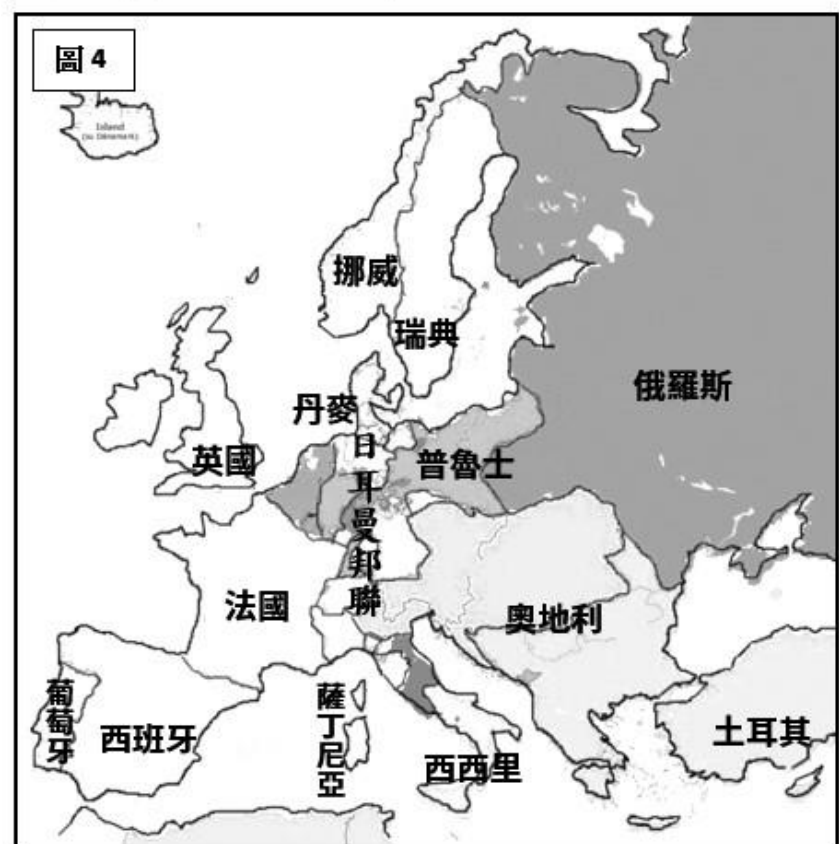
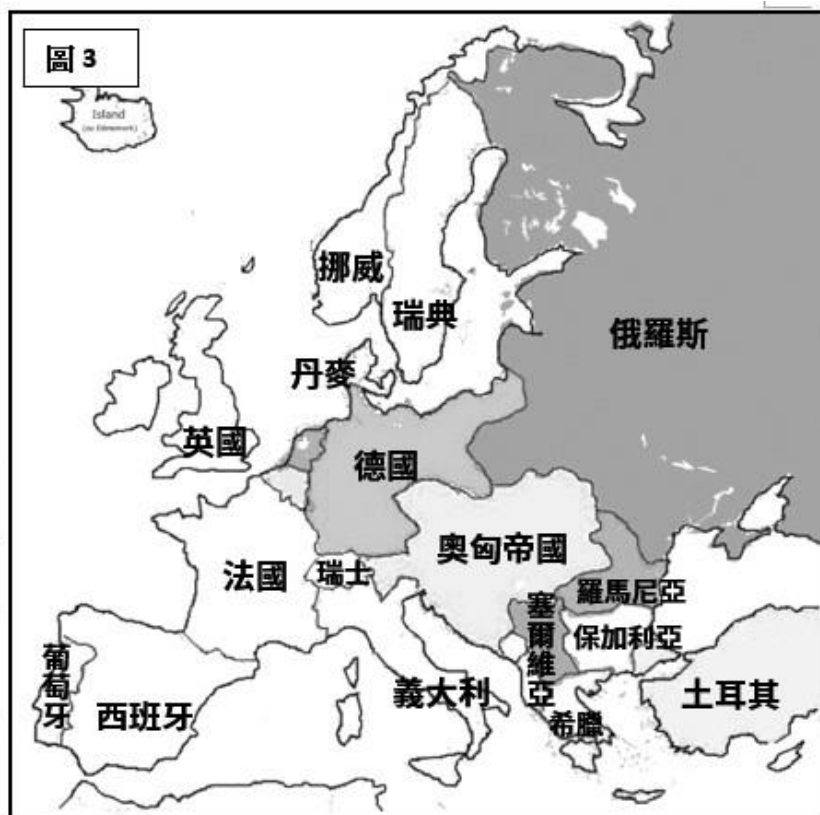
◎第一次世界大戰結束後，27個國家的領袖與代表，帶著各自的想法與企圖，於1919年1月28日聚集在法國巴黎的凡爾賽宮，召開和平會議。會議中，針對當時國際性的議題，各國提出了不同的意見進行交換與討論。最後，會議在隔年一月底結束，對於當時的重要議案也作出了關鍵性的議決。下列為當時參與巴黎和會的重要人物，請仔細閱讀第32題至第35題的文字，判斷最有可能出自哪一位人物的言論或想法。

(A)英國首相 勞合喬治 (B)美國總統 威爾遜 (C)法國總理 克里蒙梭 (D)義大利首相 奧蘭多

(AB)中國外交總長 陸徵祥 (AC)德國外交部長 穆勒 (AD)日本代表 西園寺公望

32. 「為了維持我國的海外貿易航路與市場，我們希望削減德國的軍備，同時也確保我國海軍在世界上的優勢地位。另外，雖然德國應該為他們所造成的戰爭破壞負起賠償責任，但我希望對德國的懲罰不要太過嚴苛，以避免德國報復，同時也希望能夠維持我國與德國的貿易關係。」
33. 「我國並沒有海洋的隔絕而得到保護，因此我們應該要求德國減少軍備，以避免德國再次入侵我國。另外，德國也應該為發動戰爭而負起責任，並且賠償我國在戰爭中所受到的苦難和破壞；還有，德國必須歸還之前在戰爭中所占奪的土地。」
34. 「我國是戰勝國，因此我們希望在這次的會議中，能夠爭取各國的同意，取消曾在我國取得的各項特權。另外，我們也希望取消1915年所簽訂的二十一條要求，並且收回德國在山東的所有權益，而不是在不經我國的同意之下，將山東轉交給其他國家。」
35. 「我們的希望與目的是巴黎和會召開的過程可以絕對公開，而其決議中絕不附帶任何祕密協商……真正的世界和平應該可以期待。我們參戰的目的是為了人類更美好的生活，希望所有愛好和平的國家可以獲得更安全的保障，並且可以過他們喜愛的生活、決定自己的制度，使正義得以實現。」。
36. 承上題，「希望所有愛好和平的國家可以獲得更安全的保障，並且可以過他們喜愛的生活、決定自己的制度，使正義得以實現」此一段文字，應指下列哪一項主張？
(A)族群對立 (B)男女平權 (C)民族自決 (D)貧富均等。

◎小明走進大地震後的教室，發現原本按照時間排列的各時期歐洲地圖，除了最後一張地圖外，其餘的地圖散落一地，非常零亂，如下圖。請回答第 37 題至第 40 題。



37. 小明想要幫忙整理混亂的教室，於是撿起地上的地圖，按照時間發生先後順序掛回牆上。小明的排列順序應該為何？ (A)圖 2→圖 3→圖 4→圖 5 (B)圖 4→圖 3→圖 2→圖 5 (C)圖 2→圖 4→圖 3→圖 5 (D)圖 3→圖 2→圖 4→圖 5。
38. 請仔細觀察各個不同時期的地圖，下列哪一個國家的建國時間最短？ (A)英國 (B)德國 (C)拉脫維亞 (D)義大利。
39. 小明好奇地看著牆上的最後一張的地圖，這張地圖中內容，最有可能出現在什麼事件發生之後？ (A)拿破崙稱霸歐洲 (B)普法戰爭 (C)新帝國主義國家的擴張 (D)第一次世界大戰。
40. 在一旁幫忙的同學開始研究起重新掛好的地圖，討論著不同時期地圖的變化。請問，下列哪一段說明最能夠反映出這四張地圖的改變？ (A)國家建立後領土範圍並不會改變 (B)有些國家的建立是由大國分裂，但有些則是由小國逐漸合併而成 (C)國家的消失只會發生在領土範圍很小的國家 (D)歐洲國家的數目呈現持續穩定地減少中。

一、單選題（每題 4 分，共 32 分）

41. 媒體報導戴資穎獲得 2018 羽球全英公開賽冠軍。戴資穎連續 2 年蟬聯后座，令台灣的球迷激動不已。請問：上述報導屬於媒體的何種功能？(A)提供訊息 (B)教育文化 (C) 休閒娛樂 (D)監督政府
42. 原賓參觀了電視台新聞製作流程後，才了解新聞是經過電視台選擇與編輯後才會播出，而非呈現事件的原貌。因此人民應該培養分析、批判媒體的能力。此能力又稱為 (A)媒體自律 (B)媒體近用 (C)媒體識讀 (D)媒體倫理
43. 以下何者屬於「媒體接近使用權」的概念？(A)侑倫與朋友一起收看政論節目，並互相討論節目內容 (B)宇宏召開記者會，說明自己並沒有酒後駕車 (C)榮恩參觀教育廣播電台，近距離與主持人接觸 (D)家蓁為了完成寒假作業，上網查詢資料
44. 全球化時代，各地接觸與交流日益頻繁，大部分國家都出現多種文化並存的情況。下列何者是面對文化多元現象的正確態度？(A)拒絕與其他文化往來以保存本土文化 (B)以自身的標準去衡量其他文化的優劣 (C)先進國家的文化比本土文化更優良 (D)理解不同文化的特質、尊重文化間的差異
45. 「閱聽人」所指為何？(A)經常到圖書館借閱圖書、影音資料的人 (B)透過媒體接收訊息的社會大眾 (C)很喜歡閱讀的人 (D)文字及影音創作者
46. 早期世界各地文化交流較緩慢的原因，最根本的原因為何？(A)交通及通訊較不發達 (B)人們觀念保守，不容易接受不同文化 (C)政治封閉，禁止與其他國家往來 (D)外星人的陰謀
47. 電腦病毒攻擊事件和下列何倫理相關？(A)醫學倫理 (B)資訊倫理 (C)職業倫理 (D)環境倫理
48. 突尼西亞的一名青年以自焚方式抗議政府的專制，此事件透過網路的傳播，觸發突國民眾爭取民主的行動，成功推翻政府，稱為茉莉花革命。此甚至影響週遭其他國家的反政府運動。請問上述現象與何者最相符？(A)網路普及讓民眾有能力反抗專制政府 (B)全球化讓各國政治問題更加混亂 (C)資訊科技的發展有助於人民的結盟 (D)茉莉花革命屬於國際文化衝突的範疇

二、是非題（每題 4 分，共 32 分）

(一)以下符合資訊倫理者，請選『A』，不符合者請選『B』

49. 宗霖看人氣偶像柏鈞的售票演唱會時，運用社群網站的直播功能將演唱會同步播放給好友。
50. 玠杼在網誌上分享旅遊經驗，教導網友如何購買當地交通票券。
51. 奕庭破解 iPhone 程式，免費下載原本要付費的應用程式並分送給 905 的同學。
52. 建瑋蒐集同學的電子郵件帳號交給廣告公司以收取傭金。
53. 詹組長在學校網站放置 12 年國教資訊的超連結按鈕。
54. 呈浩被志功欺負了，培逸利用網路公告志功的照片和個人資料，讓網民來教訓志功，替天行道。

(二)以下與全球化有關者請答『A』、不可者請答『B』

55. 敘利亞因為長期內戰，加上受到「伊斯蘭國」入侵，數以萬計的民眾離開家鄉成為難民。許多國際組織基於人道立場，派員至敘利亞進行人道救員。
56. 美國發展出頁岩油開採技術，使得本土的石油產量大增，造成國際石油為供給量提高，價格一路下滑，影響產油國家經濟收入。
57. 知名咖啡連鎖店在全球擁有超過兩萬家分店，讓咖啡文化進入不同地區的消費者生活中。

三、題組（每題 4 分，共 8 分）

歲時祭儀有傳承文化的重要功能。春節、清明、中秋等是漢人重要的歲時祭儀，被政府訂為國定假日，人民不需請假就可以從事節期相關活動。但原住民參加自己族群的重要歲時祭儀卻需另外向雇主請假。2011 年，勞委會指定原住民之歲時祭儀為《勞基法》所規定之法定假日，每位原住民勞工每年將增加一天有薪假。然原民團體表示，此法實施至今，仍有族人因請假而面臨失去工作的威脅。此外，一天的假期亦無法讓族人完整參與祭典，原民傳統文化正面臨傳承的危機。

58. 上文中的強勢文化為何？(A) 勞基法 (B)原住民文化 (C) 漢文化 (D) 二者相同
59. 請問將各族重要歲時祭儀列入法定假日的主要目的不應該是：(A)落實文化多元 (B) 打破不同文化間的優劣排序 (C)文化傳承 (D) 增加一天放假，促進消費

第一題

中國近年來在國際上發展迅速，期待在 2050 年前超越美國成為全球最大經濟國。為了避免領導人交接期可能造成的政策不連續破壞了強國夢的實現，中國共產黨於今年 2 月提案修改憲法，建議取消國家主席「連任不得超過二屆」的限制。這項提議在中共全國人大會議以 2958 票贊成、2 票反對、3 票棄權、1 票無效，另 16 人缺席獲得通過。中國國家主席從此無連任限制。修憲案也將現任國家主席習近平的思想納入憲法。

關於此事，人大代表和政協委員幾乎都避免在新聞媒體前做作何評論，頂多以一句「堅決擁護」表態。然而這並不代表中國民眾都對贊成這種作法。法新社報導，修憲案的表決結果在微博激起負面評論，一位用戶不顧當局的審查留言說：「我們回到了清朝。」

然而中國多數媒體對修憲案的留言都被「河蟹*」了。唯獨河南新聞廣播的《微博》讓中國鄉民暢所欲言，許多網友痛斥當天是「國恥日」，紛紛留言「禍國殃民」、「都有臉做還怕人說」。然而不久後，河南新聞廣播就將這些留言刪除，重新張貼修憲表決新聞，再沒有讓任何網友自由留言。

美國總統川普對中國的修憲案表示：「他（習近平）現在是終身領導人，他很棒。他能夠做到這一點實在不錯，也許有一天我們可以嘗試看看。」

*河蟹是「和諧」的諧音，是中國的網絡語言：中國共產黨推行「和諧社會」政策，把媒體報導中，破壞社會和諧的色情與暴力資訊強行移除或屏蔽。然事實是：被「和諧」的政治資訊比色情暴力資訊多了將近六倍。中國網民以「河蟹」一詞代指封鎖、掩蓋負面消息、控制新聞和言論自由等行為。河蟹亦有逮捕之義，如河蟹你（類似神隱、被失蹤），指中國政府運用權力將公布當局不准許公布資訊的人抓捕定罪。

1.請根據上文，分析目前「傳播媒體」在中國的處境(2 分)，並評估「川普取消美國總統連任限制」的可能性。(3 分)

第二題

傳播媒體是指專門蒐集、整理訊息，並利用各種管道將訊息傳遞給民眾的媒介。以電視、報紙等傳統媒體來說，需要大量的人力和財力來維持運作；此外，一個媒體的成立，需要經過國家有關部門的層層審核，門檻極高。因此，除非是有權有錢的人，要利用媒體來傳播自己想法幾乎是不可能的事；但現在，因為科技的進步，何人都可以用各種方式向眾人表達自己—「自媒體(We Media)」時代已經來臨。

自媒體又稱「個人媒體」，是指普通大眾以現代化、電子化的手段，向不特定的大多數或者特定的單個人傳遞信息的新媒體的總稱。在自媒體的運作模式中，大眾從“旁觀者”轉變成“當事人”。

平民化、個性化、門檻低、運作簡單、交互性強、傳播迅速、良莠不齊、可信度低、法律難以完善規範都是自媒體的特色。

1.請舉出一項自媒體的例子(2 分)：

2.自媒體時代的來臨，對於人民的「媒體近用權」有什麼影響(5 分)？

3.舉出一項自媒體帶來的好處(3 分)：

4.舉出一項自媒體造成的壞處(3 分)：

5.舉出一項使用自媒體時要遵循的資訊倫理(3 分)：

6.舉出一項透過自媒體接收訊息時所要注意事項(3 分)：

106 學年度第二學期九年級社會科第一次段考試題答案

| | | | | | | | | | |
|----|----|----|----|----|----|----|----|----|----|
| 1 | 2 | 3 | 4 | 5 | 6 | 7 | 8 | 9 | 10 |
| D | D | B | B | C | C | A | A | C | C |
| 11 | 12 | 13 | 14 | 15 | 16 | 17 | 18 | 19 | 20 |
| C | D | D | D | A | B | B | B | A | A |
| 21 | 22 | 23 | 24 | 25 | 26 | 27 | 28 | 29 | 30 |
| A | C | D | A | A | C | D | C | C | B |
| 31 | 32 | 33 | 34 | 35 | 36 | 37 | 38 | 39 | 40 |
| D | A | C | AB | B | C | C | C | D | B |
| 41 | 42 | 43 | 44 | 45 | 46 | 47 | 48 | 49 | 50 |
| A | C | B | D | B | A | B | C | B | A |
| 51 | 52 | 53 | 54 | 55 | 56 | 57 | 58 | 59 | |
| B | B | A | B | A | A | A | C | D | |