

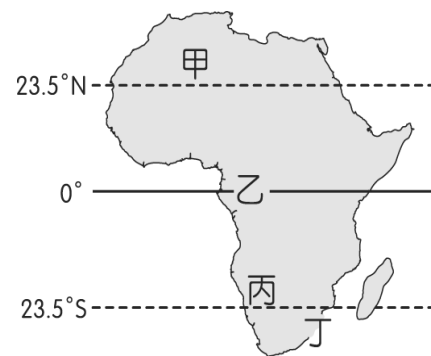
宜昌國中 107 學年度第二學期第一次段考社會科(地理)試題

命題教師：林素葉

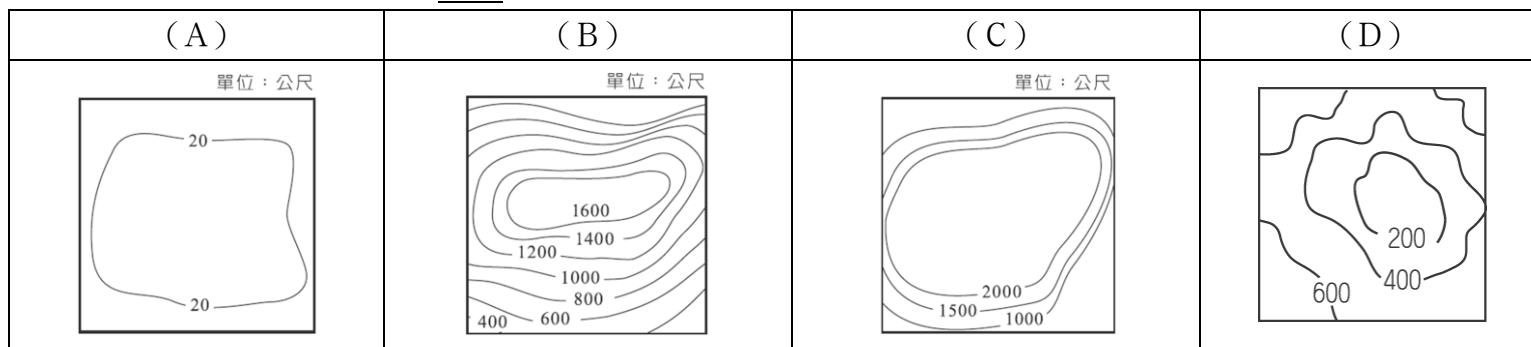
班級：\_\_\_\_\_ 姓名：\_\_\_\_\_ 座號：\_\_\_\_\_

所有題目皆為單選題 (1-14 題 每題 5 分，15-20 題 每題 3 分，21-23 題 每題 4 分，共 100 分)

右圖為非洲簡圖，請回答下列問題：



- ( ) 1. 由圖中緯度位置判斷，非洲主要氣候為下列何者？  
(A)熱帶 (B)溫帶 (C)寒帶 (D)寒漠
- ( ) 2. 氣候會隨地理位置不同而呈現不同特色景觀，請問若由乙區分別向甲、向丙兩地移動，年雨量及年均溫的變化分別為下列何者？  
(A)年雨量漸少、年均溫漸高 (B)年雨量漸多、年均溫漸高  
(C)年雨量漸少、年均溫漸低 (D)年雨量漸多、年均溫漸低
- ( ) 3. 圖中「甲」區有世界上最大的沙漠—撒哈拉沙漠，其形成的主要原因為何？(習作)  
(A)高山環繞，焚風出現頻仍 (B)距海遙遠，水氣難以深入 (C)沿岸海域有暖流經過 (D)位於副熱帶高壓籠罩
- ( ) 4. 圖中乙區為世界主要雨林分布區之一，請問下列對於該區敘述何者正確？  
(A)夏乾冬雨，熱帶栽培業發達 (B)當地居民傳統上以漁獵、採集、游耕為主  
(C)居民以阿拉伯人為主要，多信奉伊斯蘭教 (D)植被層次分明，叢林中蘊育出古埃及文明
- ( ) 5. 下列哪個等高線地形圖，最接近非洲整體的主體地形？



聯合國 2015 年 5 月年度飢餓報告指出，全球飢餓人口數過去 25 年來，從 10 億人減少到現今的 7 億 9500 萬人，但非洲有 24 國面臨糧食危機，且為 90 年代的 2 倍。聯合國稱，全球飢餓人口數減少，部份歸因於發展中國家的政治穩定及經濟成長。報告提及東亞、東南亞、中亞、拉美及加勒比海地區的進展最明顯。不過報告指出，非洲進展依舊有限，很多國家平均不到 3 人就有 1 人仍處於飢餓狀態，遠高於全球每 9 人中有 1 人飢餓的平均值。專家說，極端惡劣天候、自然災害、政治不穩定和內亂是阻礙非洲減少飢餓的主要原因。(資料來源 <https://www.thenewslens.com/article/17561>)

- ( ) 6. 下列哪一地區在全球飢餓人口平均值比例最高？(A)東亞 (B)非洲 (C)加勒比海 (D)中亞
- ( ) 7. 承上題，下列何者「不是」導致該區饑荒嚴重主要原因？  
(A)自然災害 (B)礦產開發 (C)族群衝突 (D)人口成長快速
- ( ) 8. 雖然非洲目前仍然為世界貧窮地區，但未來可能是全球經濟發展最具潛力的地區。請問下列敘述何者正確？  
(A)觀光業是非洲國家經濟發展新契機 (B)非洲人口為世界之最且勞工素質高  
(C)大規模熱帶栽培業解決了糧食不足問題 (D)尼羅河每年定期氾濫為非洲帶來肥沃土壤

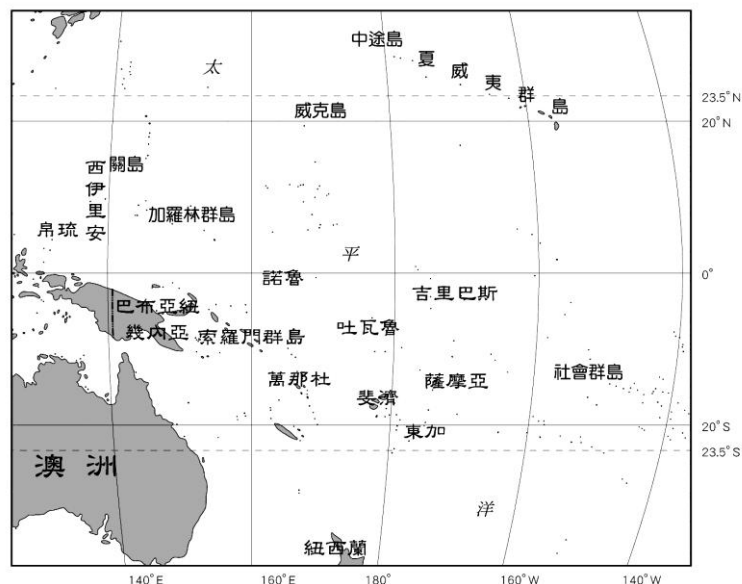
右圖為大洋洲簡圖，請回答下列問題：

- ( ) 9. 大洋洲是下列哪兩洲間往來的中繼站，交通與戰略地位重要？  
(A)美洲、歐洲 (B)歐洲、非洲  
(C)亞洲、美洲 (D)亞洲、歐洲 (習作)

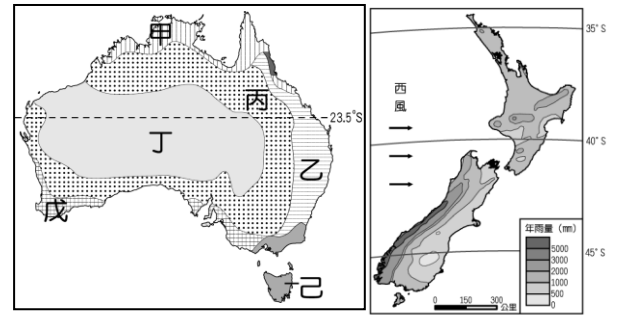
- ( ) 10. 右表為某一個國家的簡介，請根據該國地理位置判斷，下列哪一個國家最有可能是該表所描述的國家？

項目	說明
位置	5°S~10°S, 176°E~179°E
地形特徵	珊瑚礁島
平均高度	2至3公尺
水文特徵	全國無河流

- (A)夏威夷群島 (B)關島 (C)帛琉 (D)吐瓦魯
- ( ) 11. 承上題，根據該國的地理特徵判斷，下列何者是該國在全球氣候變遷下最可能面臨的環境災害？(106 年教育會考)  
(A)降雨稀少致長期乾旱 (B)水患頻仍且國土萎縮  
(C)土石流發生頻率增加 (D)土地沙漠化範圍擴大

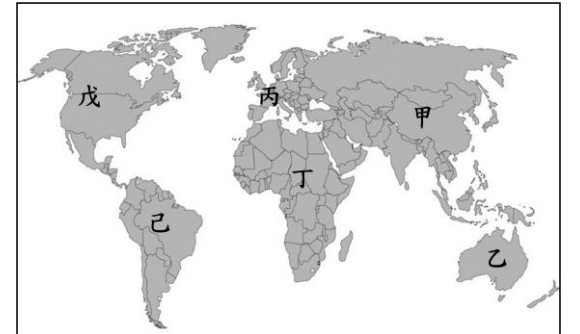


近年來，前往澳洲打工度假被年輕人視作很酷的一件事，來自台灣花蓮的一群年輕人也嚮往擁有此種打工旅遊的生活經驗，因此結伴於暑假前往紐、澳地區打工。附圖為澳洲、紐西蘭氣候圖，請回答下列問題：



- ( ) 12. 一群人第一站來到澳洲戊區，請問他們打工的工作性質最有可能是下列何者？  
 (A) 在咖啡園進行咖啡豆採收 (B) 在廣大草原牧場上修剪羊毛  
 (C) 在葡萄農場上協助採果 (D) 在黃金礦場中淘洗黃金
- ( ) 13. 這群年輕人利用空閒期間開著出租車一路朝丁區前進，想一窺神秘又壯麗的艾爾斯岩，請問下列何者是他們驅車進入丁區後可能見到的景色？  
 (A) 充滿生機的綠色大地 (B) 叢林密布的原始森林 (C) 冰天雪地的白色世界 (D) 景觀單調一致的荒漠
- ( ) 14. 最後一站來到紐西蘭北島，剛好一有電影劇組在拍攝火山噴發煙霧的實景，如果他們想清楚觀賞影片拍攝現況，應該避免站在哪一個方向，以免受到特效煙幕的影響而模糊不清？  
 (A) 東方 (B) 西方 (C) 南方 (D) 北方

根據中國大陸相關單位表示，地中海航運 (MSC) 及遠飛輪船 (CMACGM) 兩大航運公司將聯手，為歐洲—大洋洲航線提供獨特的海運服務。從今 (二〇一九) 年九月中旬起，兩家航運公司將提供海運聯合服務，從澳大利亞經東南亞及印度然後返回歐洲。(2019 年 3 月 19 日台灣新生報)



請參考世界地理簡圖，回答下列問題：

- ( ) 15. 請問兩家航運公司提供歐洲—大洋洲獨特的海運服務，歐洲、大洋洲分別位於圖中哪兩地區？  
 (A) 甲、乙 (B) 乙、丙 (C) 丙、丁 (D) 戊、己
- ( ) 16. 承上題，若航運路線必須通過地中海，則需通過下列哪一條運河以連接印度洋？  
 (A) 蘇伊士運河 (B) 巴拿馬運河 (C) 中央大運河 (D) 京杭大運河
- ( ) 17. 下列關於「歐洲—大洋洲航線」敘述何者正確？  
 (A) 主要航線必須跨越寒帶氣候 (B) 此航線無法到達太平洋  
 (C) 歐洲以熱帶氣候為主、大洋洲以溫帶氣候為主 (D) 新航線的開通有助於洲際間經濟活動的發展
- ( ) 18. 其實中國早在明代(1405-1433) 鄭和就有七次大規模遠洋航海活動，跨越了東亞地區、印度、阿拉伯半島、以及東非各地，被認為是當時世界上規模最大的遠洋航海項目。依地理位置判斷，請問當初鄭和需跨越哪一個海洋才能抵達非洲東岸？(習作) (A) 大西洋 (B) 印度洋 (C) 太平洋 (D) 北極海
- ( ) 19. 中國在「一帶一路」政策後，近日又發表《中國的北極政策》白皮書，宣布建立「冰上絲綢之路」，此舉引發極圈附近國家恐慌，紛紛宣示捍衛主權，防止中國獨霸北極航道的戰略意義。「北極航道」為新的海運熱點，航線約 8100 哩，較經東南亞、通過蘇伊士運河短 2400 哩。請問北極航道的開通與下列哪一項因素關係最密切？  
 (A) 全球暖化 (B) 飛航進步 (C) 礦產開發 (D) 板塊擠壓
- ( ) 20. 下列對於兩極地區敘述何者正確？  
 (A) 南、北兩極地區都有少數民族定居 (B) 南、北兩極共同特徵為乾、冷  
 (C) 南、北兩極地區皆同時永晝或永夜 (D) 南、北兩極皆為完整大陸
- ( ) 21. 中央氣象局指出，受強烈大陸冷氣團及輻射冷卻效應影響，全台清晨低溫明顯，彰化以北、宜蘭及金門、馬祖沿海及空曠地區約 10 度左右。天氣風險公司總經理彭啟明則解釋，就是「□□hold 不住冷空氣，極地冷空氣傾巢而出」，不過台灣目前尚未被極地冷空氣影響。(TVBS 新聞網 2019 年 1 月 28 日 上午 8:38) 請問上文□□是指下列哪一極地地區？  
 (A) 東極 (B) 南極 (C) 西極 (D) 北極
- ( ) 22. 「美國國家海洋暨大氣總署 (NOAA) 2013 年發布「氣候狀態」報告，指出 2012 年是有紀錄以來最熱的 10 年之一，包括海平面高度、融雪、海洋熱堆積、北極與格陵蘭冰層融化面積等，不是打破紀錄，就是接近破紀錄，顯見氣候變遷持續發威，極端氣候已成新常態」。請問上述極端氣候的發生，最可能導致下列哪一地區國家家園消失成為新環境難民？  
 (A) 南歐三大半島 (B) 東非高原 (C) 低緯區太平洋島國 (D) 南極大陸
- ( ) 23. 生態旅遊，單純就字面意義可解釋為觀察動植物生態、自然環境的旅遊方式，也可詮釋為具有生態概念、增進生態保育的遊憩行為，然而，這個名詞涵蓋了廣泛且模糊的概念，容易導致大眾的誤解，甚至刻意被扭曲。於是乎，在國際生態旅遊學會及國際自然保育聯盟的大力推動下，明確的將生態旅遊定義為：「生態旅遊是一種負責任的旅遊，顧及環境保育，並維護地方住民的福利。」(資料來源 <http://np.cpami.gov.tw/> 知識學習/生態旅遊)  
 請問下列何者最符合生態旅遊的理念？  
 (A) 搭乘破冰船登陸南極洲體驗餵食企鵝的樂趣 (B) 攜帶獵槍進入肯亞馬賽馬拉國家公園體驗狩獵刺激感  
 (C) 到澳洲大堡礁海域盡情踏浪高歌追逐熱帶魚 (D) 跟隨專業導覽員認識紐西蘭南北島多采多姿的地理風貌

# 花蓮縣立宜昌國民中學 107 學年度第 2 學期第 1 次段考 9 年級 公民科試題

命題教師：潘盈婕 老師

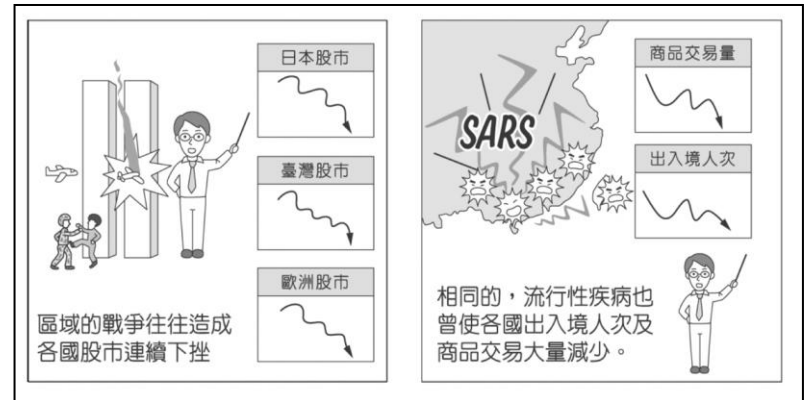
9 年 班 號 姓名：

## 一、第六冊(1、2 課)單選題：1-15 每題 4 分

- ( ) 24. 促進「全球化」發生的原因，下列何者屬之？  
 (A)各國互相敵視導致戰爭頻仍 (B)全世界人口呈現正成長 (C)全球生態環境變遷快速 (D)國際間交通運輸便利。
- ( ) 25. 從 2011 年「阿拉伯之春」追求民主政治後至今，許多阿拉伯國家內政陷入動盪不安的局面，加上歐、美勢力分別支持不同的政權造成更多混亂，請問：下列何者不是造成阿拉伯世界混亂的原因？  
 (A)對民主制度的追求 (B)宗教教義的歧異 (C)不滿歐美勢力進入伊斯蘭世界 (D)各宗教和諧相處
- ( ) 26. 小諺在一場演講中聽到：「各族群間不要有強勢弱勢之分，應先由相互了解、欣賞，進而達到彼此尊重與學習的境地。當前應以文化分享替代族群分類，以文化交流取代族群融合，並以豐富多元觀點來確保少數族群文化的地位。」根據上述內容判斷，下列哪一種說法最符合講者的觀點？  
 (A)降低各族群文化的差異有助於統治者管理 (B)提倡多元文化可落實少數服從多數的原則  
 (C)族群地位應以其所擁有的社會資源來衡量 (D)族群融合易造成弱勢族群文化的沒落消失

- ( ) 27. 下列哪一項概念，最適合說明如右圖漫畫所表達的意義？

- (A)各國之間文化交流頻繁，彼此互相影響  
 (B)全球化下各間之間貿易往來深具依賴性  
 (C)國防成為國家抵禦外敵非常重要的一環  
 (D)流行感冒盛行加快全球化的速度與廣度



- ( ) 28. 公民課正在討論文化交流的途徑，下表為同學在課堂上討論的結果，請問：完全正確的有哪些？

報告人	途徑	內容
(甲)阿琳	殖民	法國曾占領寮國為殖民地，因此當地不少建築物都有歐式風格。
(乙)小陳	傳播	來到臺灣的新移民，帶動異國風味餐廳林立。
(丙)如如	移民	移居英國的華人，群聚在一起形成中國城。
(丁)大寶	留學	內容豐富的旅遊頻道，介紹世界各地的風土民情。

- (A)甲乙 (B)乙丙 (C)甲丙 (D)丙丁

- ( ) 29. 下列對於「文化傳承」的舉例，哪一項敘述正確？  
 (A)電影「電哪吒」結合傳統八家將及現代電子音樂 (B)博物館以展覽方式，保存的傳統文化資產  
 (C)法藍瓷融合東西方美學，打造具創意巧思的作品 (D)改良式旗袍將中式旗袍別有一番韻味

- ( ) 30. 根據對話判斷，戲劇的拍攝內容所呈現出下列何種意義？

阿翔：「欸！最近這齣偶像劇超紅的，劇中介紹了臺灣多處景點與風土民情喔！」

大哲：「對啊，許多觀光客還為此慕名而來！」

阿翔：「我們假日的時候也找時間到劇中拍攝的場景走走吧！」

- (A)推崇外來文化，促進雙方文化融合 (B)發展文化創意產業，發揚本土文化特色  
 (C)遵循強勢文化，尊重與包容多元文化 (D)淘汰低等文化，追求高等文化

- ( ) 31. 右圖是小慧閱讀某雜誌的部分內容。根據內容判斷，作者最主要是針對大眾傳播媒體的何種功能而提出的？

- (A)休閒娛樂、監督政府 (B)休閒娛樂、提供訊息  
 (C)教育文化、監督政府 (D)教育文化、提供訊息

- ( ) 32. 新聞報導：「資訊技術日新月異讓人類生活更為便利，但也衍生出侵犯個人權益或公共利益的疑慮，故政府制定《個人資料保護法》，作為規範相關行為的法律依據。」上述內容最主要在強調下列何者的重要性？  
 (A)資訊倫理 (B)多元價值 (C)新聞自由 (D)群己關係。

民眾離開校園後，仍可透過大眾傳播媒體學習各項知能，例如：學習外國語言、吸收科技新知、獲取醫療保健常識等，不僅提供民眾多元的學習管道，更落實了終身學習的理念。

- ( ) 33. 所謂置入性行銷指的是：「刻意將行銷事物以巧妙的手法置入既存媒體，以期望藉由媒體的曝光率來達成廣告效果。」請問根據現行法律規定，何種節目類型不得置入性行銷？

- (A)電影 (B)娛樂節目 (C)新聞 (D)戲劇

- ( ) 34. 承上題，若節目中出現不當的置入性行銷情況，例如：「直接鼓勵購買商品或服務、誇大商品或服務及其效果」。節目播送單位可能受到下列何者懲處？

- (A)國家通訊傳播委員會 (B)立法院教育與文化委員會 (C)文化部影視及流行音樂產業局 (D)警察機關

- ( ) 35. 新聞節目製作了藝人林小花的專題報導，而小花在看完報導後認為內容有誤，造成她的困擾。律師告知小花，其實她有權要求該節目給予答辯之機會，且電視臺不得拒絕。下列何者最符合上述內容的意涵？
- (A) 公民享有接受媒體採訪與否的自由 (B) 媒體工作者有報導社會事件的自由  
(C) 媒體經營者有選擇報導內容的權利 (D) 大眾享有公平接近使用媒體的權利
- ( ) 36. 幾位同學正在進行某議題討論，下列敘述何者較符合其討論內容的主旨？
- (A) 基因歧視對生物科技發展的影響 (B) 生物科技對生命倫理的衝擊  
(C) 法律對生物科技應用的保障 (D) 生物科技對人類生活的貢獻



題組題(14-15 題)

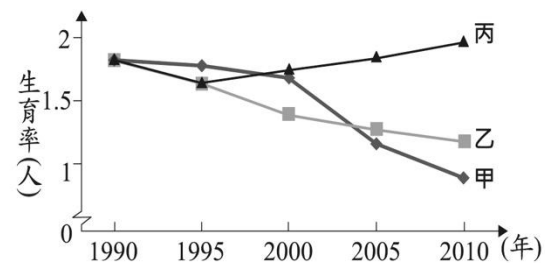
谷阿莫在庭上否認侵權：拍片不是為了錢，是教育看不懂電影的人？

網紅谷阿莫因為「X分鐘看完電影」系列短片暴紅，去年遭迪士尼等5家影視公司控告侵權，他辯稱是二次創作，但北檢認定他未經授權重製13部影片片段已觸法，日前依《甲法》起訴谷阿莫。台北地院今(16)日首度開庭，谷阿莫堅稱他「不是為了錢，是教育看不懂電影的人」，否認侵權。

- ( ) 37. 上述新聞中 YouTuber 谷阿莫是因影片涉及侵犯他人權利，而遭影視公司控告侵權，請問：谷阿莫是侵犯下列哪項權利？
- (A) 著作權法 (B) 商標法 (C) 專利法 (D) 媒體傳播法
- ( ) 38. 根據《甲法》相關內容，何種屬於「合理使用範圍」，並非觸犯？
- (A) 老師在課堂上播放與課程內容相關的影片 (B) 哥哥燒錄盜版光碟在各個大賣場中銷售營利  
(C) 教授將學生的論文作品放到自己的作品集中 (D) 同學從網路上下載圖文放進畢業紀念冊當中

二、第一冊單選題：16-20 每題 4 分

- ( ) 39. 右圖是甲、乙、丙三個國家關於人口的部分資料。圖中內容顯示，丙國數值與甲、乙二國的差距隨時間逐漸擴大，關於丙國的此種現象，下列何項政策的影響程度最高？
- (A) 提供幼兒生活補助津貼 (B) 修改法規延後退休年齡  
(C) 推動長期老人安養服務 (D) 夫妻協商決定子女姓氏
- ( ) 40. 之前網路曾經瘋傳過一句話，稱呼道路三寶為：「老人、女人、老女人」。請問：這句話顯示出何種訊息？
- (A) 性別混淆 (B) 性別歧視 (C) 性別刻板印象 (D) 性別角色



題組題(18-20 題)

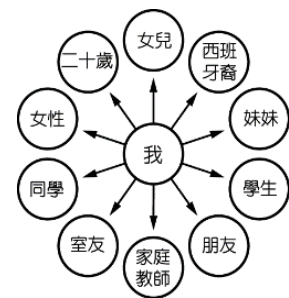
宇澄是一家科技公司的總經理，因出差到菲律賓而結識艾蜜莉，兩人陷入熱戀，並打算共組家庭，艾蜜莉也決定嫁到台灣，在台灣落地生根。原以為從此就要過著幸福快樂的日子，不料宇澄某日身體不適竟然猝死了，全家人的經濟支柱頓時失去，艾蜜莉只能夠一肩扛起家務，然而為了照顧年幼的孩子以及中風癱瘓的公公，除了申請低收入戶補助外，還必須兼好幾份工作。

另外，在子女的課業方面，艾蜜莉更是無能為力，看不懂中文、對於電腦一竅不通、更別說是教孩子學習，漸漸地，孩子開始覺得母親什麼都不會，親子關係出現問題，孩子甚至養成每天熬夜打電腦的習慣，使得上課常遲到，老師抱怨連連，忙於工作的艾蜜莉根本束手無策。根據上文敘述，請回答題

- ( ) 41. 依據上文畫線的部分，應屬於下列何種家庭？
- (A) 折衷家庭 (B) 核心家庭 (C) 通勤家庭 (D) 新移民家庭
- ( ) 42. 艾蜜莉透過里長的幫助申請到了低收入戶補助，請問：這對於下列何項家庭功能有直接的幫助？
- (A) 生育功能 (B) 經濟功能 (C) 教育功能 (D) 保護與照顧功能
- ( ) 43. 艾蜜莉對於教育孩子的問題束手無策，常因此感到沮喪。請問：政府有相關措施可以提供協助，以下何項最適合艾蜜莉？
- (A) 113 婦幼保護專線 (B) 申請長期照護保險制度 (C) 提供育嬰假 (D) 開設識字班、生活適應班

三、第二冊單選題：20-25 每題 4 分

- ( ) 44. 附圖是阿婕在課堂報告時，用來輔助說明研究議題的圖形。根據圖中內容判斷，她最可能在探討下列哪一主題？
- (A) 社會角色 (B) 社會組織 (C) 社會階級 (D) 社會變遷
- ( ) 45. 阿能：「我剛當選為(甲)中華民國會計師公會的幹部，明天還應邀到(乙)民主進步黨參加餐敘。」  
曉婷：「我也是(丙)漁會的幹部，雖然很忙，但還是常參加(丁)中華民國荒野保護協會舉辦的活動，為我們的環境盡一份心力。」上述兩人的對話中，哪些選項屬於「職業團體」？
- (A) 甲乙 (B) 甲丙 (C) 乙丙 (D) 丙丁



- ( ) 46. 太陽花學運期間 10 多名學生到教育部抗議，雖然警方早有佈署，但有 6 名學生快速翻牆突圍，在牆上噴上抗議字句。隨後 6 人遭到警方帶走調查，警方將依社會秩序維護法對其裁罰。請問：下列敘述何者正確？
- (A) 學生的行為違反風俗習慣 (B) 學生將受到強制力的處罰  
(C) 《社會秩序維護法》是自然而然形成的 (D) 《社會秩序維護法》的制定可約束行為者的內在良知

- ( )47. 從教育的發展來看，下列何者屬於「理念層次」的發展？  
 (A)從「大學聯考」到「學測申請」 (B)從「基本學力測驗」到「教育會考」  
 (C)從「板書教學」到「多媒體教學」 (D)從「智育至上」到「適性揚才」
- ( )48. 政府透過許多管道推動社會福利相關政策，例如：以公益彩券回饋金，協助經濟弱勢民眾繳納部分健保相關費用；放寬低收入戶審查門檻，協助經濟弱勢家庭獲得社會救助等。上述政府的二項作法，最主要是為了達成下列何項目的？  
 (A)確保民眾財產權利 (B)縮短城鄉發展差距 (C)保障人民生存權利 (D)推廣志工服務活動

## 花蓮縣立宜昌國民中學 107 學年度第 2 學期第 1 次段考 9 年級歷史科試題卷

一、是非選擇題：每題 5 分，共 20 分

命題教師：邱老師

請判斷下列歷史事件，判斷  內是否正確，正確請畫 A，錯誤請畫 B

- 49、20 世紀初，愛因斯坦在論文中陳述「時間與空間是相對的」、「宇宙中光速是最快的」等論點。
- 50、西元 1870 年，義大利王國趁著普法戰爭之際，攻占羅馬，完成統一建國。
- 51、「加里波底」是這次段考課文內容提到的歷史人物，他主要的事蹟是領導拉丁美洲獨立運動。
- 52、第一次世界大戰的爆發，其最初的導火線，是源自德國與法國這兩個國家的衝突引爆戰爭？

二、一般選擇題：每題 5 分，共 50 分

- 53、有一場演講，內容包括了英法百年戰爭、方言文學、德意志帝國的建立、希臘脫離土耳其獨立。依此判斷，這場演講的主題最可能是下列何者？  
 (A)歐洲軍備武器的進步 (B)歐洲科學革命的誕生  
 (C)歐洲宗教改革的開端 (D)歐洲民族意識的發展
- 54、收視率頗高的卡通節目「名偵探柯南」，當他在解析案情時，常應用「心理學」分析行兇者的犯罪心理。請問開創精神分析探討人類心理，並認為潛意識是主導人類行為驅動力的人是誰？  
 (A)愛因斯坦 (B)居里夫人 (C)佛洛伊德 (D)梵谷

帝國主義是指一個國家利用軍事、政治、經濟或文化的力量去壓迫其他國家或地區，甚至佔領土地、建立殖民地的行為。下表比較了新、舊帝國主義的相關內容。

- 55、在時間點上，歐洲列強在 18 世紀因何事件的發展，致使有了「新」、「舊」帝國主義的區別？

- (A)新航路新大陸的發現 (B)科學革命  
 (C)拿破崙的興起 (D)工業革命

- 56、就表中的「理論學說」，主要是受那一個思想的影響？

- (A)啟蒙運動 (B)馬克思主義  
 (C)社會主義 (D)社會達爾文主義

- 57、西元 16~18 世紀的西方帝國主義國家以經濟掠奪和建立海外殖民地為主，此時期的歐洲國家曾在台灣南部建立殖民統治的是哪一個國家？

- (A)日本 (B)荷蘭 (C)英國 (D)美國

- 58、在新帝國主義侵略浪潮下，中國曾瀕臨被列強瓜分的危機。後來中國能夠免受瓜分，起因於美國當時提出哪一項政策？

- (A)門羅宣言 (B)門戶開放政策 (C)鎖國政策 (D)社會達爾文主義

	時間	形成的主要因素	侵略地區
舊帝國主義	16-18 世紀末	1.傳教 2.經貿利益	亞洲、拉丁美洲
新帝國主義	19-20 世紀	1.經濟因素 2.戰略因素 3.理論學說 4.政治因素	亞洲、非洲、拉丁美洲

1856 年 12 月 28 日威爾遜出生在美國維吉尼亞州，1912 年威爾遜作為民主黨候選人當選為美國第二十八任總統並且在後來獲得連任。威爾遜被認為是美國歷史上學術成就最高的一位總統，提出「民族自決」與建立「國際組織」的理想主義政治理念，此理念與當時西方列強崇尚的武力解決問題針鋒相對。請問：

- 59、上文中提及美國總統威爾遜「民族自決」的政治主張，成了下列那一個國際會議的重要指導原則？

- (A)柏林會議 (B)維也納會議  
 (C)巴黎和會 (D)開羅會議

- 60、威爾遜總統不斷宣導通過國家間的合作來解決矛盾，而實現這一合作的途徑和管道就是設立國際聯合機構，用集體安全來替代早先大國間的均勢。因此下列哪一個國際組織可以說是在其倡議下而成立的？

- (A)國際聯盟 (B)聯合國  
 (C)北大西洋公約組織 (D)世界貿易組織

61、然而，美國國會因為「孤立主義」政策的影響下，兩院議員以絕對多數否決了威爾遜總統提出的包括美國加入此國際組織等一系列議案。此孤立主義是源自哪一位美國總統提出「美洲是美洲人的美洲」口號，並強調美國不干涉歐洲內部事務或它們之間的戰爭？


- (A)華盛頓            (B)門羅
- (C)林肯              (D)甘迺迪

62、威爾遜總統在歐洲發生戰爭初期，受此思潮的影響下，並沒有立即的帶領美國人民投入這場戰爭，並警告美國公民不要在交戰陣營中選擇他們的所屬方。下列哪一事件的發生，是促使美國宣布參戰的關鍵因素？

- (A)拿破崙的稱帝，破壞了法國大革命的共和體制            (B)普魯士領導日耳曼的統一，成立德意志帝國
- (C)德國的海軍在英國海域附近擊沉了美國的輪船            (D)日本偷襲了美國在太平洋的重要海軍基地

三、手寫題：共 30 分

班級：\_\_\_\_\_ 姓名：\_\_\_\_\_ 座號：\_\_\_\_\_



十九世紀的歐洲文藝發展，主要有浪漫主義、寫實主義、印象派。請問：

(1) 從音樂家貝多芬的作品中，可以感受到他強烈的個人情感，可歸屬於上述哪一個時期代表人物？(6分)

上圖兩幅畫作是十九世紀寫實主義重要的作品。請問：

(2) 十九世紀寫實主義會繼浪漫主義興起的背景為何？(6分)；

(2) 從這兩幅作品中，你可以發現它的創作選材與人物有哪些特點？(8分)；

(3) 就你個人的觀點，請從兩幅畫作中選擇一幅作品，用 50 字以上，闡述你自己欣賞該畫作的感受？(10分)

(1) \_\_\_\_\_

(2) \_\_\_\_\_

(3) \_\_\_\_\_

(4) \_\_\_\_\_

特別加分題：(5分)

「人物」，在歷史脈絡中是不可缺少的要素。國中的歲月，已近尾聲，請問這三年，陪伴你早修、午休與升降旗的導師全名為何？

\_\_\_\_\_

1.	2.	3.	4.	5.	6.	7.	8.	9.	10.
<b>A</b>	<b>C</b>	<b>D</b>	<b>B</b>	<b>C</b>	<b>B</b>	<b>B</b>	<b>A</b>	<b>C</b>	<b>D</b>
11.	12.	13.	14.	15.	16.	17.	18.	19.	20.
<b>B</b>	<b>C</b>	<b>D</b>	<b>A</b>	<b>B</b>	<b>A</b>	<b>D</b>	<b>B</b>	<b>A</b>	<b>B</b>
21.	22.	23.	24.	25.	26.	27.	28.	29.	30.
<b>D</b>	<b>C</b>	<b>D</b>	D	D	D	B	C	B	B
31.	32.	33.	34.	35.	36.	37.	38.	39.	40.
D	A	C	A	D	B	A	A	A	C
41.	42.	43.	44.	45.	46.	47.	48.	49.	50.
D	B	D	A	B	B	D	C	<b>A</b>	<b>A</b>
51.	52.	53.	54.	55.	56.	57.	58.	59.	60.
<b>B</b>	<b>B</b>	<b>D</b>	<b>C</b>	<b>D</b>	<b>D</b>	<b>B</b>	<b>B</b>	<b>C</b>	<b>A</b>
61.	62.	63.							
<b>B</b>	<b>C</b>								