

宜昌國中 109 學年度第一學期第二次段考九年級社會科試題

班級：_____ 座號：_____ 姓名：_____

地理科試題

命題教師：林素葉老師

一、旅遊達人題 (每題 4 分，共 64 分)

時值 21 世紀，人類在追求全球經濟穩健成長、持續繁榮之際，也製造了不少棘手的問題，今年衝擊全球市場的新冠肺炎正是顯著的例子。全球旅遊市場在面對「後疫情時代」，雖然新冠肺炎疫情危機尚未全面解除，但看準疫情解禁後將爆發的旅遊商機，紛紛推出未來旅遊早鳥方案；以下為宜昌旅行社最新推出歐亞之旅方案，大家先睹為快，來一趟紙上旅遊吧！



- 從台北搭上廉航飛往俄羅斯海參崴港，海參崴是俄羅斯遠東地區的一座港口城市，處於西伯利亞鐵路起點，請問海參崴港濱臨下列哪一個海域？
(A)大西洋 (B)北極海 (C)太平洋 (D)波羅的海
- 在海參崴品嚐俄羅斯美食和海鮮料理後，轉搭世界最長的洲際鐵路前往莫斯科，此鐵路全長 9288 公里，跨越 8 個時區，全程 7 個晝夜，車上提供專屬豪華車廂及乾濕分離沐浴間。請問搭乘火車之所以需耗時 7 晝夜是因為下列哪一項因素？
(A)跨越緯度大 (B)跨越經度大 (C)天寒地凍行車不易 (D)火車老舊速度緩慢
- 當火車行經西伯利亞，剛好看到一則新聞報導：「俄羅斯永凍層融化，驚現冰河時期熊完整保存，體內器官原封不動，甚至連鼻子都還存在。位於雅庫茨克的俄羅斯東北聯邦大學的科學家表示，這次的發現史無前例。」請問下列哪一項因素最可能是使冰河時期的熊得以保留下來的主要原因？ (<https://www.bbc.com/zhongwen/trad/science-54182369>)
(A)位於低緯度終年高溫 (B)位居高緯度終年低溫 (C)位居極圈內棕熊主要活動區 (D)位於針葉林帶人煙稀少
- 當火車進入下列哪一個城市後，代表你已進入歐洲境內？
(A)赤塔 (B)新西伯利亞 (C)伊爾庫次克 (D)莫斯科
- 在歐俄停留期間，紅場是必定要拜訪之地，這裡的每棟建築都像藝術品，有國家歷史博物館、列寧墓、克里姆林宮以及聖瓦西里大教堂(如右圖)，聖誕糖顏色的教堂、洋蔥式屋頂漂亮得令人讚嘆，請問聖巴希爾教堂是下列哪一宗教信仰的教堂建築代表？
(A)天主教 (B)佛教 (C)東正教 (D)伊斯蘭教
- 在歐俄停留數天後，轉搭火車一路往西向西歐繼續前進，請問此時火車最主要行駛於下列哪一種地形區上？
(A)平原 (B)高原 (C)凍原 (D)盆地
- 參考右圖，當火車由歐俄進入該國時，得知該國因土地肥沃農業發達，而有歐洲糧倉之稱，且因該國位於歐盟及俄羅斯之間，是雙方政治角力戰場，圖中顯示該國為俄羅斯重要礦產輸送管道必經之地，若兩國產生僵局連帶影響對歐盟國家礦產供應，使歐洲冬季可能因缺乏該礦產而沒有熱水使用。請問該國是指下列哪一個國家？
(A)俄羅斯 (B)烏克蘭 (C)波蘭 (D)捷克
- 承上題，請問該輸送管道最主要輸送礦產為下列哪一項？
(A)溫泉水 (B)煤礦 (C)地熱氣 (D)天然氣
- 火車繼續西行進入西歐地區，發現西歐河流大多由南往西北注入海洋，為了連結南北向河流且增加航運價值，請問西歐人如何建構出完善水運系統？
(A)開鑿東西向人工運河 (B)將河道拓寬以利海輪行駛 (C)建置東西向密集鐵路網絡 (D)將工業區設於河流兩側
- 此趟行程一路由東向西、由北亞進入西歐，請問下列對於此行程敘述何者「錯誤」？
(A)雨量越來越多 (B)人口越來越稀少 (C)年溫差越來越小 (D)由大陸性氣候進入海洋性氣候
- 火車之行來到法國花都巴黎，原本想搭乘「歐洲之星」進入英法海底隧道前往日不落國，但因聽說北極極光正大爆發，因此決定更改行程搭機前往體驗神秘浪漫的極光，請問飛機須前往下列哪一地區才能順利看到極光？
(A)丹麥西蘭島 (B)荷蘭鹿特丹 (C)奧地利維也納 (D)挪威亨墨菲斯
- 欣賞完夢幻極光後，心想難得來到極地區，因此順道體驗一下極地風光，首先來到峽灣國搭乘遊艇欣賞鬼斧神工的峽灣奇景，在這兒海洋、內陸、河流融為一體，不僅是視覺的衝擊，更是心靈的震撼。請問下列哪一項因素是造就峽灣地形的主要原因？ (A)冰河作用 (B)溶蝕作用 (C)差異侵蝕 (D)風蝕作用
- 除了鬼斧神工的峽灣外，在北歐還有風景如畫的冰蝕湖泊，然而隨著全球氣候變遷影響，近年各地冰蝕湖成長快速，根據衛星影像做出的最新研究，冰蝕湖的數量在 1990 年到 2018 年之間增長 53%。請問上述所指全球氣候變遷，最有可能是指下列哪一項因素影響最為明顯？ (<https://news.ltn.com.tw/news/world/breakingnews/3277780>)
(A)環境汙染 (B)冰河時期 (C)全球暖化 (D)地震頻繁



- 14、北歐除了豐富自然資源外，還擁有優厚的福利待遇，全面的社會保障體系，號稱從搖籃到墳墓的全程照顧，為世人所羨慕。但所謂羊毛出在羊身上，北歐國家福利水平高，主要社會福利支出是來自於那裡？
(A)國家稅收 (B)政府募款 (C)歐盟贊助 (D)貿易收入
- 15、最後一站來到冰火之島，享受冰天雪地裡溫泉泡湯樂，舒緩多日來旅途奔波的疲憊，更享用來自溫室種植生產的小番茄，請問冰島地處高緯，卻為何擁有豐富溫泉資源，最主要與下列哪項因素關係密切？
(A)北大西洋暖流 (B)盛行西風 (C)地處高緯 (D)為火山島
- 16、恭喜你，已經完成宜昌旅行社規劃歐亞之旅，此趟旅程從台灣出發飛抵海參崴港，跨越烏拉山進入歐洲，請問最後一站冰島，已經進入下列哪一個海域範圍？
(A)大西洋 (B)印度洋 (C)太平洋 (D)地中海

二、綜合進階題 (每題 5 分，共 30 分)

- 17、針葉林在俄羅斯被稱為「泰卡」，可提供大量木材以發展林業，經濟價值甚高。請問下列哪一地區一樣擁有豐富針葉林分布，為世界重要林業發達地區？
(A)西歐 (B)東歐 (C)北歐 (D)南歐
- 18、隨著全球暖化衝擊日益嚴重，國際上開始掀起「碳中和」熱潮，碳中和必須計算在一個地區內，所有運輸、電力、食物、廢棄物等耗用的碳足跡總量，並設法降至最低；最後，在從外部取得碳權來抵換無法降低的碳排放量，使大氣中的溫室氣體沒有淨增加。請問下列哪一個國家境內家戶運用「地熱能源」已相當普及，長期使用再生能源下碳排放相對的低，首都市長宣佈，2040 年前他將帶領此地，藉由改善都市擴張及提升公共運輸使用率，誓言成為全球首座碳中和城市。
(A) 英國 (B)冰島 (C)法國 (D)瑞士
- 19、根據 BBC 報導，到 2030 年，世界上將有 60% 的人口會居住於都市，此舉將為現有都會區帶來巨大的壓力，同時，許多城市也面臨氣候變遷的挑戰，因為全球約有 90% 的大城市位於海濱，很容易受到海平面上升影響。當陸地生存面積減少、海平面不斷上升，有越來越多人開始認為，人類應該停止與海洋的爭奪戰並與之合作。在 O O 有超過一半的人居住在低於海平面的地區，該國建築師 Koen Olthuis 設計並建造「漂浮平台」作為建築物的基座，打造「漂浮屋」，以往與水爭地的 O O，如今致力於「與水共存」，目前在 O O 已有多處地區發展漂浮屋，甚至建造世界上最大的漂浮社區。請問上文敘述中 O O 是指下列何國？
(A)比利時 (B)英國 (C)荷蘭 (D) 義大利
- 20、「金磚概念是從 2001 年一份高盛證券的分析報告誕生的，當時高盛大膽預測，中國會在 2041 年超過美國成為世界最大經濟體，印度在 2032 年超過日本，巴西在 2025 年取代義大利的經濟位置，俄羅斯則會在 2027 年超過英國。這四個國家英文字開頭的組起來，就像磚塊的英文 Brick，因此被稱為金磚四國。2010 年加入一個新的成員，南非，正式成為金磚五國 BRICS，從一塊金磚變成很多金磚；但事實上如今的金磚國家遠遠不如當年宣稱的樂觀預測與實際效益，誰能真正成為全球貿易之星呢？」請問下列何者是俄羅斯發展中最具優勢的項目？
(A)眾多廉價優質勞工 (B)廣大消費市場 (C)擁有面積廣大的熱帶雨林 (D)豐富的能源礦產
- 21、有「圓舞曲之王」美譽的作曲家小約翰史特勞斯，一生創作了大量膾炙人口的圓舞曲作品。《美麗的藍色多瑙河》是史特勞斯在 1866 年時，普奧戰爭失敗與義大利軍隊攻擊雙重壓力的情況下，借鑒匈牙利詩人卡爾貝克(Karl Beck)獻給維也納城的詩句，譜寫成的一首代表維也納生機與活力的圓舞曲。原詩的開頭一句是：“在多瑙河畔，在那美麗的、藍色的多瑙河畔……”。多瑙河為歐洲第二長河，發源於德國黑森林，最終注入黑海，早期發展受限，現在航運價值已大增。請問多瑙河為歐洲第二大河，為何早期航運發展卻受限？
(A)河川流量不穩定 (B)河川結冰期太長 (C)河川出口方向不佳 (D)河川常發生水患
- 22、西部西伯利亞平原面積位列亞洲第一世界第三，但是西部西伯利亞平原卻沒能像東歐平原那樣沃野千里，反倒是沼澤遍地，水塘溝渠縱橫交錯，主要是河流問題。入冬時期，北方必然先入冬，這樣一來河流下游先結冰，但此時上游的水還未結凍，於是上游的河水就會被下游的冰塊堵塞，使中上游洪水泛濫了，到了開春時期河流上游凍原融化，下游仍然是結冰狀態，結果又是一波洪水泛濫，變成了無邊的沼澤和濕地，景色荒涼。依據上文所述，請問此現象最主要與下列哪一項河流特徵最有關係？
(A)河流流向 (B)河流流速 (C)河流流量 (D)河流寬度

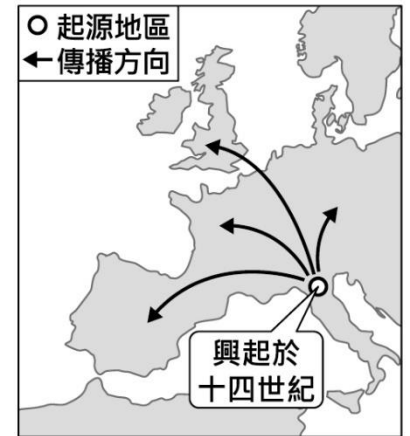
三、習作填圖概念題 (每題 2 分，共 6 分)

- 23、VOLVO 汽車、IKEA 家具的家鄉，在斯堪地那維亞山脈東側，富有鐵礦、林業資源的國家位於右圖中何地？(A)甲 (B)乙 (C)丙 (D)丁
- 24、「坐在多瑙河畔，來杯咖啡，欣賞音樂之都維也納樂團演奏莫札特、貝多芬等名曲。」請問維也納位於右圖中的哪個國家？
(A)戊 (B)己 (C)庚 (D)辛
- 25、新冠肺炎疫情在歐洲有越來越嚴重的趨勢，不少國家都針對第二波疫情祭出相關防疫政策。近日，丹麥宣布，為了防疫，將撲殺全國境內所有的水貂，無論健康或得病，1700 萬隻水貂都要在一週內全數撲殺完畢。此舉引發軒然大波，不僅丹麥本國民眾譁然，也引起鄰近國家的緊張。(東森新聞 2020 年 11 月 12 日)
請問上文所述國家位於右圖中何地？
(A)甲 (B)戊 (C)丁 (D)己



26. 十一世紀時, 教宗發表一則演說:「你們所居住的土地.....由於你們人數太多, 已經顯得狹窄了.....現在, 你們的憎恨可以停止了, 你們不必互相仇視了.....你們登上參拜聖墓的征途吧! 把聖地從邪惡的民族手裡奪回來。」文中所提「登上參拜聖墓的征途」, 是指下列哪件事?
 (A)十字軍東征 (B)亞歷山大東征 (C)凱撒遠征高盧 (D)穆斯林向外征戰。
27. 中古時期, 歐洲出現這類的疾病:「從發病到死亡只有幾個小時的差距, 即使是醫生亦束手無策, 虔誠的教士亦無法免除。面對如此重大的災難, 有些人選擇毫無顧忌地享受世界的歡樂, 有些人則是選擇在恐懼中不停禱告。嘗試逃離災難者, 在逃亡的過程中亦散播疾病。」上文所敘述的重大疾病, 最有可能是下列何者?
 (A)新流感 (B)黑死病 (C)愛滋病 (D)肺結核。
28. 某人感於當時的政局混亂, 各國互相攻伐, 民眾飽受戰火之苦。於是寫下他對政治的看法, 送給一位統治者, 希望能夠受到重用, 發揮自己的抱負。他認為:「國君必須強化君主的威權, 建立效忠於國家的軍隊, 才能建立政治秩序, 免除人民的痛苦。」這個人最可能是下列何者?
 (A)但丁 (B)薄伽丘 (C)莎士比亞 (D)馬基維利。

29. 右圖是某史事的起源地區與傳播方向示意圖, 下列何者最足以呈現該史事的內涵?
 (A)研究古典文獻, 強調人文主義 (B)路德教派改革, 主張因信得救
 (C)議會政治興起, 發展責任內閣 (D)機器取代人力, 出現工廠制度。



[106 年會考第 23 題]

30. 小捷在歷史課本中讀到「西歐進入中世紀時期, 形成獨特的社會風貌」。好學的小捷想了解更多這段「獨特」的時期, 於是上網查了些資料。請問, 下列哪一個敘述「最不可能」是關於西歐中世紀時期的描述?
 (A)因為交通不便, 因此不容易買到鹽、胡椒等調味品
 (B)人們每逢週末都會到伊斯蘭教的清真寺, 參加祈禱活動
 (C)許多農人在一年之中常常要為地主耕種, 並且還要負擔許多勞務
 (D)住在村莊中的人, 若想要離開村莊, 大多都要經過領主的同意。
31. 小靜在歷史課本中讀到「文藝復興時期的學者大多以拉丁文寫作, 但部分作家也使用方言創作。」好奇的小靜想了解為什麼文藝復興時期的寫作多以拉丁文為主。請問, 誰最能為小靜解惑?
 (A)阿澄: 因為當時的學者都只受過拉丁文教育, 只會用拉丁文來寫作
 (B)祥哥: 因為政府禁止人民使用其他語言, 因此只能用拉丁文來書寫
 (C)小瑞: 因為許多學者仍承襲羅馬帝國通用的文字, 習慣以拉丁文來寫作
 (D)阿翊: 因為東羅馬帝國皇帝查士丁尼要求所有人都只能使用拉丁文來書寫。
32. 下課時同學們在討論歷史課本中, 義大利畫家拉斐爾的作品《草地上的聖母》(如右圖), 請問, 下列誰的意見最為恰當?
 (A)阿沅: 這幅繪畫呈現出中世紀時較缺乏立體感的表現風格
 (B)小陞: 這幅繪畫刻意摒除對於人性情感的描繪
 (C)祥祥: 這幅繪畫正在描繪希臘羅馬時期的神話故事內容。
 (D)阿辰: 這幅繪畫仍沿襲中世紀以來, 以宗教性的題材為主。



◎生活中有不少與歷史時間相關的用語, 例如:「中世紀」、「近代」等, 而歷史課本中也採用了這些慣用語, 如第三課標題為「中世紀西歐、拜占庭帝國與伊斯蘭世界」、第四課標題為「近代歐洲的興起」。請回答第 33 至第 35 題。

33. 請問, 關於「中世紀」、「近代」等時間用詞的出現, 下列哪一個說明最為合理?
 (A)這些詞語是當時的人對於自己生存時代的稱呼
 (B)這些有關時間的歷史用詞是史前時代的人就已經發明了
 (C)這些用詞的出現最主要和宗教儀式有關, 通常由教宗來命名
 (D)這些詞彙是由後來的歷史學家所命名, 以方便指稱某個時期。
34. 承上題, 一般而言, 西歐地區「中世紀」的開始, 主要和哪一個歷史事件有關?
 (A)馬其頓王國崛起, 建立橫跨歐亞非三洲的帝國
 (B)法蘭克國王查理曼被教宗加冕為羅馬人的皇帝
 (C)日耳曼人攻入羅馬城, 導致西羅馬帝國滅亡
 (D)拜占庭皇帝努力恢復過去羅馬帝國的土地範圍。
35. 當談到歐洲歷史時, 通常認為「近代」開始自 14 世紀左右, 而結束在現代之前。請問, 下列哪一個事件或歷史發展, 是發生在「近代」這段期間?
 (A)蒙古發動三次的西征 (B)西班牙因為聯姻關係而建國, 成為王權集中的國家
 (C)基督教分裂為羅馬公教和希臘正教 (D)阿拉伯人最早開始到東亞進行交易。

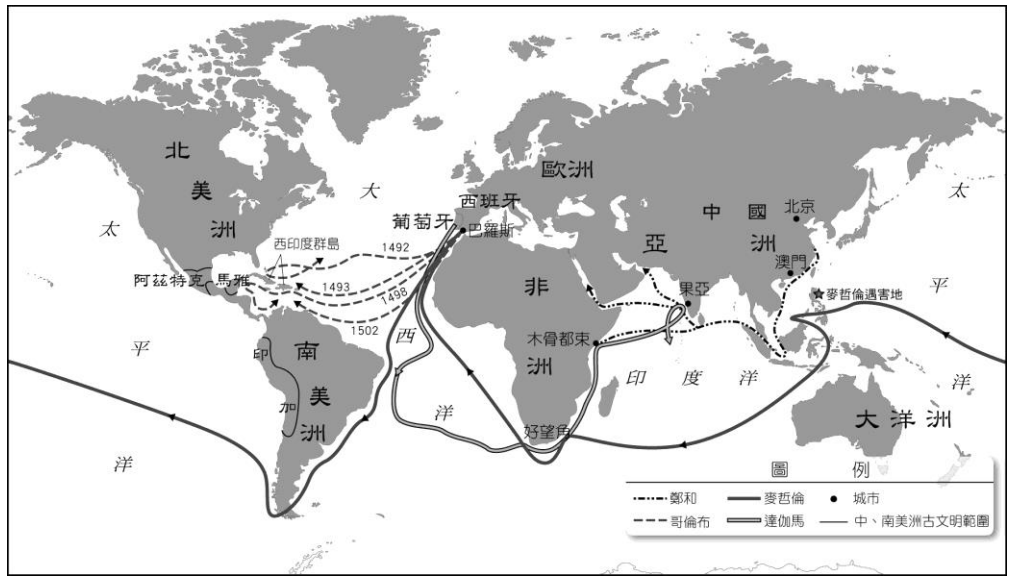
◎下圖為一張標示古代航海路線的地圖，請仔細觀察地圖，並回答第 36 題到第 38 題。

36. 仔細閱讀地圖，發現率領艦隊最早到達亞洲印度的航海家是誰？

- (A) 達伽馬
- (B) 哥倫布
- (C) 鄭和
- (D) 麥哲倫。

37. 從地圖的觀察中，可以發現當時以歐洲國家為主的航海行動多是朝歐洲的西側發展。請問，這段時期向西發展的最主要原因是什麼？

- (A) 位於西歐地區的人最具有冒險犯難的精神，且有地理位置上的優勢，可以到海上活動
- (B) 歐洲人從以前就已經知道西側有美洲大陸的存在，因此想要前往開拓疆土
- (C) 通往亞洲的地中海航線和亞洲海陸路線被某些族群壟斷，因此企圖開拓新路線
- (D) 歐洲人只想到海外行動，而東側是陸地不能發展航海活動，因此往西側發展。



38. 在這一一次大規模的航海探險活動興起後，航海家的足跡遍及世界許多地方，對歐洲與其他地方都帶來一定程度的影響。下列何者『最不可能』是因為新航路探險後所造成的影響？

- (A) 美洲的作物被帶往歐洲，糧食作物的產量逐漸提高，促成歐洲人口增加
- (B) 許多非洲人被歐洲人帶往美洲大陸從事第一級產業，以補足在美洲地區逐漸減少的勞動人口
- (C) 居住在美洲的原住民，如阿茲提克、印加等人，因為歐洲人帶來的傳染病而導致大量死亡
- (D) 歐洲人帶著強大的武器來到中國，透過武力的方式要求中國結束長期的閉關自守。

◎16 世紀時，歐洲的基督教世界出現一波的改革風潮，促成基督教的分裂，形成多個新的教派，同時也帶動傳統的基督教進行變革。請回答第 39 題到第 41 題。

39. 「『因信得救』」的意思是耶穌代替我們受罪，我們憑藉信仰，使我們得到救贖」。請問，這段敘述最符合誰的主張？

- (A) 馬丁路德 (B) 喀爾文 (C) 羅耀拉 (D) 亨利八世。

40. 根據右圖的對話內容，這最有可能是由哪個派別的人所說的話？

- (A) 路德教派 (B) 耶穌會 (C) 喀爾文教派 (D) 英格蘭國教派。

41. 承上題，在對話中傳教士說到「將西方科學傳入中國」。請問，下列各項關於中國與外國文化交流的敘述，哪一個最有可能反映出這位傳教士所說的話？

- (A) 唐代時西域地區的胡族音樂和飲食等文化大量傳入中國
- (B) 元代時義大利人馬可波羅到中國，帶進許多西方的新事物
- (C) 明代時歐洲人利瑪竇結合東西方知識，繪製世界地圖獻給皇帝
- (D) 清代自強運動時，曾聘請許多外國人到中國教授軍事、交通、工業等新知識。



◎右圖為八世紀時的阿拉伯帝國疆域圖。請仔細觀察地圖，並回答第 42 題到第 45 題。

42. 請問，阿拉伯帝國的崛起，最早發源自哪一個地理區？

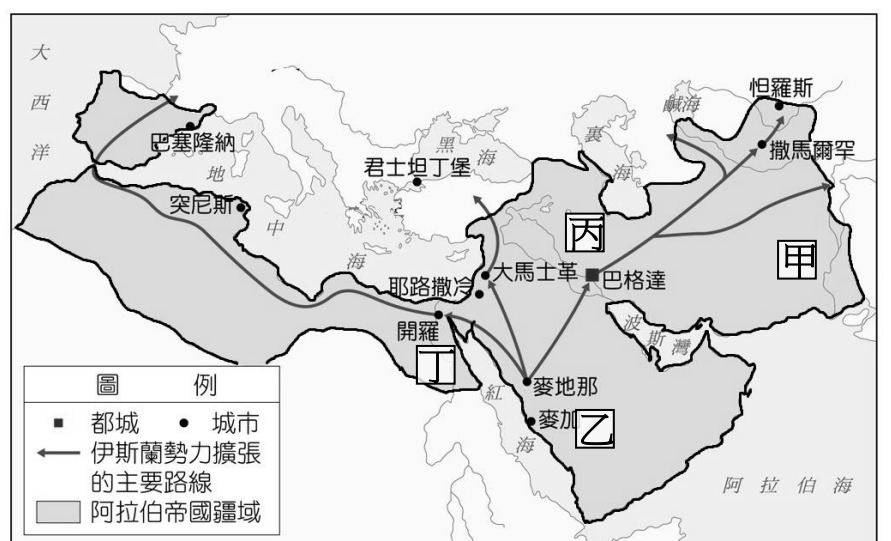
- (A) 甲 (B) 乙 (C) 丙 (D) 丁。

43. 阿拉伯帝國的出現與哪一個宗教有密切的相關？

- (A) 伊斯蘭教 (B) 佛教
- (C) 基督教 (D) 天主教。

44. 仔細觀察地圖，可以發現當時阿拉伯人並未將東歐納入勢力範圍，而是繞道經過北非，然後占領西南歐。請問，下列哪一個說明最能夠解釋這個現象？

- (A) 阿拉伯人不願與東歐的斯拉夫民族發生衝突，而直接放棄占領東歐
- (B) 阿拉伯人接受東歐的基督教信仰，所以不願與東歐發生衝突
- (C) 阿拉伯人在多次戰爭中輸給了東歐的東羅馬帝國，因此無法占領
- (D) 阿拉伯人曾發動十字軍東征，但最後以戰敗收場，因此從此退出東歐。



45. 歷史課本中提到，當時阿拉伯人也「活躍於東西貿易」，而「巴格達匯集來自東西方各地的商品，長安、君士坦丁堡同為中世紀的貿易中心」。請問，課本中所說的長安城，應該是指中國哪一個朝代的首都，在當時有許多的阿拉伯商人來到此進行貿易？

- (A) 漢朝 (B) 唐朝 (C) 明朝 (D) 清朝。

一、單題(一題 5 分，共 65 分)

請依經濟活動循環圖(圖 1)回答 46-48 題：

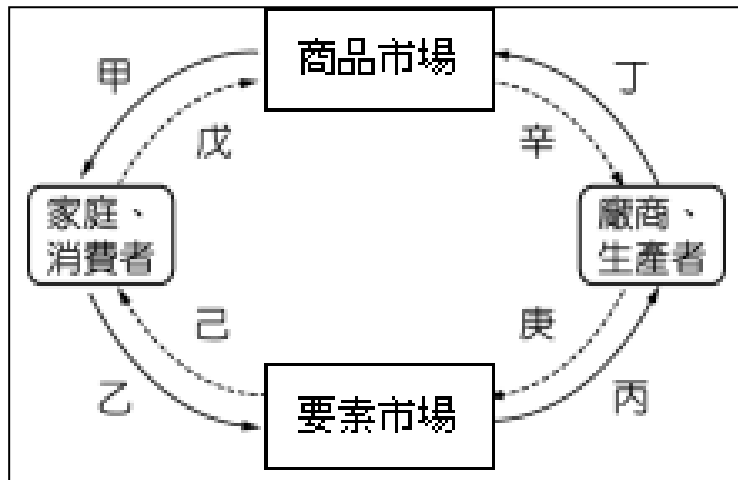


圖 1

- 46. 以下何者屬於乙？ (A)育愷到超商買家裡需要的青菜 (B)岳辰租用土地以開設便利商店 (C)信叡在統一超商上班賺錢 (D)念慈到 104 人力銀行徵求店員
- 47. 新冠肺炎流行，民眾因擔心染疫而減少出遊。以上情況會先影響何者？ (A)甲 (B)乙 (C)丙 (D)丁
- 48. 為減少疫情對旅遊業的衝擊，政府推出安心旅遊補助方案。這是企圖改變何者？ (A)戊 (B)己 (C)庚 (D)辛
- 49. 圖 2 為某商品的供需圖，請問當廠商把價格定在 P_1 時，此商品的供需會出現什麼狀況？ (A)供不應求 (B)供過於求 (C)供需均衡 (D)不受價格影響

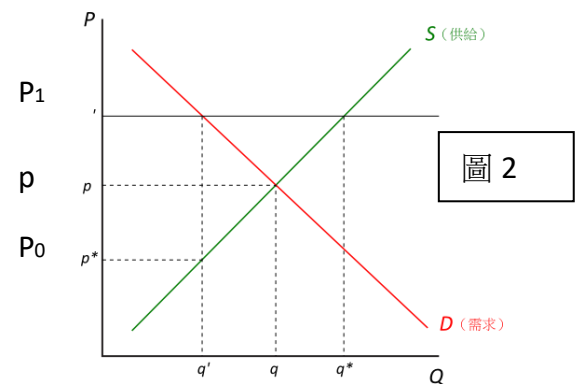


圖 2

- 50. 表 2 為家慕蛋糕店主打商品在試賣期間的銷售紀錄，其中 A-E 分別為此商品由低到高的不同售價。假設該店的商品皆為當日生產且絕不隔日販賣，且 A-E 皆非均衡價格，在只考量價格要素之下，此商品的均衡價格應該落在何處？ (A)A-B (B)B-C (C)C-D (D)D-E

當日價格(元)	當日未賣出商品個數(個)
A	0
B	1
C	3
D	4
E	4

表 2

- 51. 關於「比較利益」的舉例，以下何人正確？ (A)丞佳：在製作某一項產品時，某甲比某乙更厲害，某甲就有比較利益 (B)宇杰：同一個人製作 A 產品比 B 產品厲害，A 產品對他就有比較利益 (C)宇衍：在製作某一產品時，某甲所付出的機會成本比某乙低，某甲製作該產品就有比較利益 (D)品論：一個人生產 A 產品能夠獲得比生產 B 產品更多的利潤，則 A 產品就具有比較利益

- 52. 表 3 是員工珈仔和恩碩工作一日的產量。公司經理恩賢依照比較例益原則，請珈仔負責做手提袋，恩碩做鉛筆盒。以下何者較可能是恩碩一日生產手提袋的量？ (A)9 (B)7 (C)5 (D)3

產量(個)	手提袋	鉛筆盒
珈仔	6	12
恩碩	?	8

表 3

- 54. 表 4 是我國 2020 年 9 月的貿易額(億元)，請問，我國對哪一個國家(組織)的出超最多？ (A)中國 (B)東南亞國協 (C)美國 (D)日本

國家	出口	進口
中國	142.0	53.7
東南亞國協(10 國)	45.9	28.4
美國	44.8	25.0
日本	19.0	37.7

表 4

- 55. 若以所賺的錢減去所花的錢之後來計算，我國被哪一個國家(組織)賺最多錢？ (A)中國 (B)東南亞國協 (C)美國 (D)日本

- 56. 承上一題，若新台幣相對於該國家(組織)的貨幣升值了，對進口該國商品到我國的廠商而言 (A)較有利 (B)較不利 (C)沒有影響 (D)不變

	貝里：美元
2019 年	1:10
2020 年	1:12

表 5

- 57. 表 5 為羅格國的貨幣貝里最近兩年對美元的匯率表。請問 2020 年匯率的變動對羅格國的國民或廠商會造成哪些影響？(甲)羅格國的產品賣到美國會變便宜 (乙)美國的產品賣到羅格國會變便宜 (丙)人民較有意願到美國旅行 (丁)人民購買美國產品的意願會降低 (A)甲丙 (B)甲丁 (C)乙丙 (D)乙丙丁

58. 國際分工是指各國進行產業分工。請問目前國際間主要依據何原則進行產業分工？

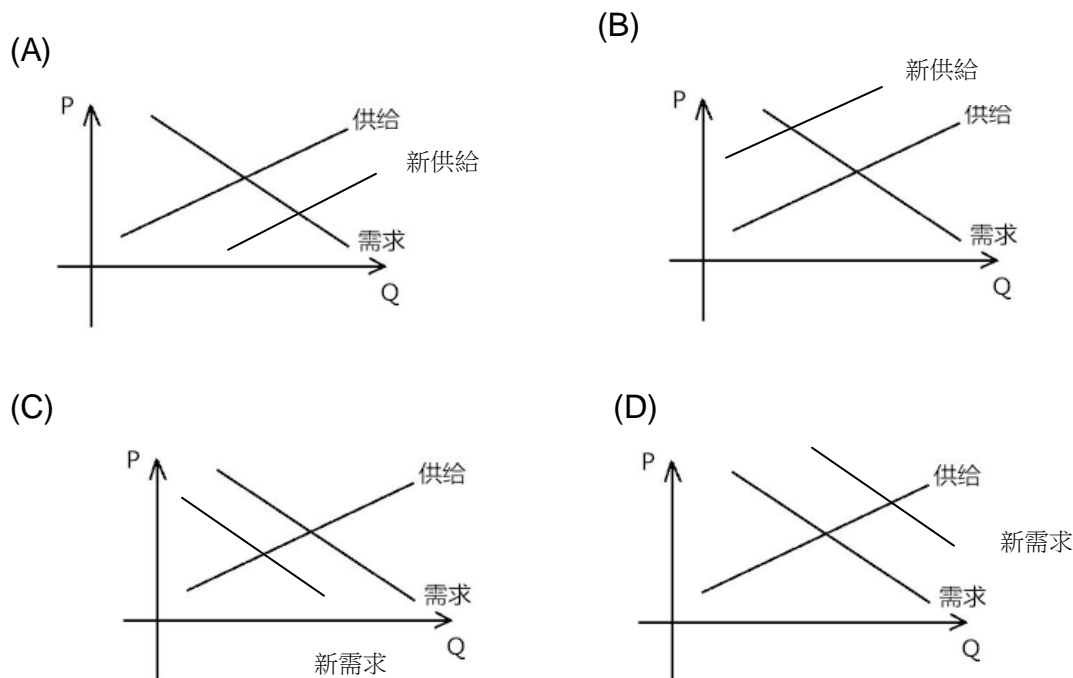
- (A)絕對利益 (B)比較利益 (C)需求法則 (D)供給法則

二、題組(1題5分，共35分)

(一)高麗菜菜土菜金，價格時高時一顆要價上百元；價格低時一顆不到10元。「價高→農民搶種→產量過剩→價跌→農民棄種或銷毀(由政府補助農損)→價格又提高→農民繼續種……」，同樣的戲碼幾乎年年上演。除了農民「賭性堅強」外，政府在低價時的補助，更讓投機農民有恃無恐。請問：

59. 在不考慮其他因素時，以下何圖可表示農民所搶種的高麗菜收成後的市場供需圖？

(座標圖中，P代表價格，Q代表數量)



60. 承上題，在這種情況之下，高麗菜的價格將產生何種變化？

- (A)上漲 (B)下跌 (C)不變 (D)不一定

61. 在「價高→農民搶種→產量過剩→價跌→農民棄種或銷毀(由政府補助農損)→價格又提高→農民繼續種……」中，何者不屬於市場機制？(A)搶種 (B)價跌 (C)政府補助農損 (D)農民繼續種

(二)委內瑞拉的經濟面臨崩潰，生活動盪，一部份的人民逃到美國成為難民。為了賺取生活費，難民用所擁有的玻利瓦(委內瑞拉貨幣名)來編織提袋販賣。編製一個袋子需要用到大約500張面額25,000至50,000元的玻利瓦，做出來的成品售價卻只有10到20分錢。一位做這門生意的男子說：「要不是有編織袋子，我可能會餓到不行。」

62. 請問：由上文可以推測委內瑞拉國內出現了何種狀況？

- (A)物資生產過剩 (B)貨幣的價值提高 (C)相同貨幣能買到的商品變少了 (D)商品的價格變便宜了

63. 文中的難民較不可能拿所製作的提袋去交換什麼？(A)玻利瓦 (B)美金 (C)日常生活用品 (D)黃金

(三)美國無線電公司(簡稱RCA)是一家以生產小家電為主的公司。該公司為尋找廉價勞工在美國境內不斷遷移，在1960年代終於跨越國界到墨西哥與台灣設廠。

RCA喜歡台灣年輕、未婚且任勞任怨的女性。一方面她們工資較低；另一方面，她們比較細心、有耐心，能忍受電子業零件組裝繁瑣無聊的重複性工作。而她們也真的成為公司獲利的主力。

對於台灣政府而言，能與國際大廠合作，除了能為台灣賺取出口外匯外，更能引入RCA公司的技術與資金，帶動後續的產業發展，為台灣未來電子產業的發展打下根基。

然而就在RCA1992年撤離台灣二年後，它被查出長期挖井傾倒有毒工業廢料，而之前在該工廠的員工也陸續傳出多人罹患與這些化學毒物相關的癌症。

事發至今已過了二十幾年，相關的賠償官司仍未完全結束；有些被污染的土地與地下水井有毒物仍然超標。根據已知資訊，RCA員工至少已經有1,375人罹患癌症，其中216人已過世。

64. 根據上文，我國在60年代具有發展哪一類產業的優勢？

- (A)資本密集 (B)勞力密集 (C)技術密集 (D)原料密集

65. 關於國際分工的敘述，何者正確？(甲)國際分工得宜能提高產品的品質、降低售價 (乙)為了降低成本，企業有可能會規避環保責任 (丙)RCA將工廠遷移到美國以外，可能使美國當地原本的勞工失業 (丁)跨國企業有時能為較落後的國家帶來新技術，帶動產業轉型 (A)甲乙丙 (B)乙丙丁 (C)甲丙丁 (D)甲乙丙丁

宜昌國中 109 學年度第一學期第二次段考九年級社會科試題答案

地理科解答

1~16 題每題 4 分，17~22 題每題 5 分，23~25 題每題 2 分

1.	2.	3.	4.	5.	6.	7.	8.	9.	10.
C	B	B	D	C	A	B	D	A	B
11.	12.	13.	14.	15.	16.	17.	18.	19.	20.
D	A	C	A	D	A	C	B	C	D
21.	22.	23.	24.	25.					
C	A	B	D	B					

歷史科答案

26~45 題每題 5 分

26.	27.	28.	29.	30.	31.	32.	33.	34.	35.
A	B	D	A	B	C	D	D	C	B
36.	37.	38.	39.	40.	41.	42.	43.	44.	45.
A	C	D	A	B	C	B	A	C	B

公民科答案

46~65 題每題 5 分

46.	47.	48.	49.	50.	51.	52.	53.	54.	55.
C	A	A	B	A	C	D	B	A	D
56.	57.	58.	59.	60.	61.	62.	63.	64.	65.
A	C	B	A	B	C	C	A	B	D