

# 花蓮縣立宜昌國民中學110學年度第一學期第一次段考8年級社會科試題

班級：\_\_\_\_\_ 姓名：\_\_\_\_\_ 座號：\_\_\_\_\_

## 公民科試題

命題教師：林湘芸老師

### 一、選擇題(每題 5 分，共 20 題，共計 100 分)

- 西元 1958 年聯合國簽署《捕魚及養護公海生物資源公約》，承認沿海國家對鄰接區內生物資源和生產力保持有特別利害關係，此後經濟海域的觀念逐漸被愈來愈多國家接受。國際上的經濟海域是指由海岸線向外延伸多少範圍的海域？  
(A)3 浬 (B)12 浬 (C)100 浬 (D)200 浬。
- 個人若具有某國國籍，就是該國的國民。根據我國《國籍法》的規定，下列何者為中華民國國民？  
(A)來自美國，在臺灣居住 10 年的瑪莉 (B)父母均為美國國籍的約翰  
(C)父親為臺灣人，母親為泰國人的希澤 (D)父親到臺灣工作，因而來臺灣探親的日本人豐田。
- 一個國家的成立皆會組織政府，下列關於政府的組成，何者正確？  
(甲)會因選舉或革命而更替 (乙)制訂及執行政策、法令  
(丙)管理國家公共事務 (丁)擁有主權且永久性的政治團體  
(A)甲乙丙 (B)甲乙丁 (C)甲丙丁 (D)乙丙丁。
- 某地方政府首長日前率領市府團隊至區公所進行區里業務會報，與當地里長、民意代表進行座談。上述內容表現出民主政治的何項特色？ (A)民意政治 (B)責任政治 (C)法治政治 (D)政黨政治。
- 教師在課堂上分享新聞案例：「桃園地區曾發生瞬間雨量過大，造成桃園機場聯外道路中斷，以及第二航廈地下室淹水、停電等災情。當時的交通部部長到立法院報告相關防災應變措施與檢討，並對於該次事件造成旅客及社會大眾不便，鞠躬向社會致歉。」老師是在解釋哪一個民主政治運作的特色？  
(A)民意政治 (B)法治政治 (C)責任政治 (D)政黨政治。
- 臺灣民主化二十多年，歷經三次政黨輪替，沒有任何政黨可以長期執政，也沒有任何政治人物不可取代，並未出現新興民主國家常見的威權逆流，已成為全球民主轉型的典範。上述內容正凸顯出民主政治運作的何項內涵？  
(A)民意政治 (B)法治政治 (C)責任政治 (D)政黨政治。
- 公民老師：「能將特定意志強加於他人，並且對其產生強制與支配的一種力量。」公民老師所說之「力量」，是指下列何者？ (A)權利 (B)權力 (C)義務 (D)責任。
- 法國學者孟德斯鳩針對政府運作的原則提出「三權分立」學說，主張三種權力分別由不同的政府機關獨立行使，最主要是希望能達到下列何種目的？  
(A)政府機關可以擁有至高無上的權力為民服務 (B)讓政府機關彼此之間互相競爭以求取績效  
(C)避免權力過於集中而腐化 (D)政府機關可以共同合作謀取彼此的利益。
- 孫中山創立「五權分立」學說，主張行政、立法、司法、考試、監察五權應獨立運作，是因為他發現三權分立的學理並不完善，容易產生下列哪些流弊？  
(甲)行政部門兼有考試權，會產生濫用私人的流弊 (乙)立法部門兼有監察權，容易形成議會專制的弊端  
(丙)司法部門兼有監察權，可能會出現效率低落的危機 (丁)行政部門兼有監察權，會發生貪汙腐敗的現象。  
(A)甲乙 (B)甲丁 (C)乙丙 (D)丙丁。
- 老師在上完「我國中央政府的組織與職權」後，請學生練習整理有關立法院的職權。小康整理後如右圖，並請老師協助檢查是否有誤。請問：在小康整理的內容中，何者屬於立法院的職權？  
(A)甲乙 (B)甲丙丁 (C)甲乙丙 (D)甲乙丙丁。
- 小君想要寫一封電子信寄到行政院長電子信箱陳情，根據我國中央政府體制，下列何者最不可能出現在信件內容之中？  
(A)希望院長重視校園安全，加派警力巡邏校園  
(B)希望院長修改十二年國教政策，減輕學生壓力  
(C)希望院長向立法院提出預算案，增加教育預算編列  
(D)希望院長召開行政院會議，修正《國民教育法》。

甲、對正、副總統提出罷免案
乙、對正、副總統提出彈劾案
丙、提出憲法修正案
丁、糾正行政機關的不當施政

12. 歷史課介紹泰國的紅衫軍運動，激起修淳興趣，想一探究竟，結果在網路上查到臺灣也曾有紅衫軍運動，內容如下：「歷史上的今天！西元 2006 年 9 月 9 日，是臺灣政壇特別的日子，30 萬身穿紅衫的反貪腐民眾，在凱達格蘭大道上靜坐抗議，要總統下臺。」依我國憲法，右表是解除總統職位方式的比較表，何者是正確的？

選項	罷免總統案	彈劾總統案
提案機關	(A)立法院	(B)司法院
提案後處理方式	(C)交由司法院決議	(D)交由監察院審理

13. 在我國中央政府五院中，下列哪些人員的產生方式相同？

- (甲)大法官 (乙)審計長 (丙)立法委員 (丁)監察委員  
(A)甲乙丙 (B)甲乙丁 (C)甲丙丁 (D)乙丙丁。

14. 下列有關司法院的敘述，何者**錯誤**？

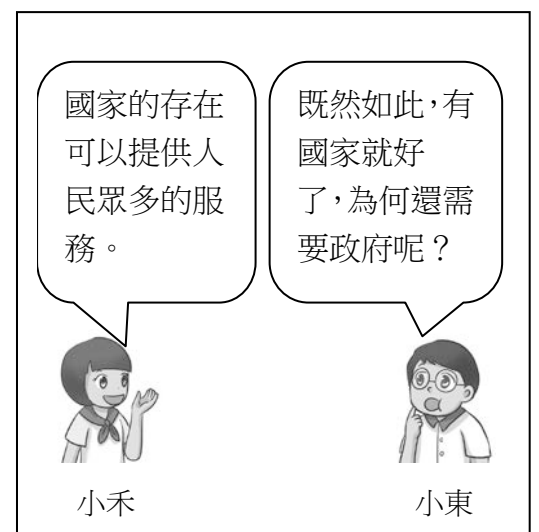
- (A)為我國最高的司法機關 (B)司法院院長由總統提名，經立法院同意後，再由總統任命  
(C)憲法法庭是由司法委員所組成 (D)各級法院負責審理訴訟案件。

15. 由於《憲法》具有固定性，不宜修改，但是為符合現實環境需要，則常以不變動《憲法》本文的原則下，以增修條文的方式進行修憲。在我國，下列何者擁有《憲法》修正案的提案權？

- (A)司法院大法官 (B)立法院 (C)行政院 (D)總統。

16. 右邊是小禾和小東討論國家和政府關係的部分對話內容。若小禾要進一步回答小東的提問，則下列何項回答才正確？

- (A)國家不會因選舉結果而被取代 (B)政府的更替不會影響國家的存在  
(C)國家的功能有賴政府去具體實現 (D)國家並非是具有永久性與持續性的整體。



17. 民主國家在規畫具有爭議性的政策時，經常會透過舉行公聽會廣納民意，了解各方意見以作為決策時的考量。請問：此舉是展現出民主政治的何項特色？


- (A)民意政治 (B)法治政治 (C)政黨政治 (D)責任政治。

18. 小恩和爸爸一起看電視新聞報導，聽到主播說：「民主國家的法律除了要求人民必須遵守，政府權力也應被約束外，必須要同等的對待人民與政府。」小恩問爸爸：「主播這段話要闡述的意思是什麼呢？」請問：爸爸應如何回答才有貼近小恩的提問？

- (A)國家的權力極大，人民不遵守法律將會受到嚴厲的處罰  
(B)無論政府或人民，都應該遵守法律規範才符合法治政治  
(C)民主國家制訂政策時，應傾聽民意強調主權在民的理念  
(D)政府施政若背離民意，相關人士應該負起責任辭職下臺。

19. 右邊是兩個朋友間的對話，從對話內容可知，小乖參加的考試最可能是由下列何者所舉辦？

- (A)教育部 (B)銓敘部 (C)考選部 (D)交通部。



20. 根據下列小禾與媽媽的談話內容判斷，如果小禾想對這件事情有更深入的了解，可在搜尋引擎查找下列哪一個關鍵字，最有可能找到相關內容？

- (A)行政院 (B)立法院 (C)司法院 (D)考試院。



21. 中國長城為世界文化遺產之一, 它在中國歷史上, 與北方游牧民族互動中扮演相當重要的角色。下列敘述何者符合「長城」在戰國到秦漢間的史實?
- (A) 秦朝時為防禦北方匈奴族的入侵, 增築城牆成「長城」  
 (B) 現今所見「萬里長城」全是由秦始皇統一天下後所修築  
 (C) 漢朝時期, 「長城」完全發揮抵禦游牧民族入侵的功能  
 (D) 「長城」被稱為「萬里長城」是因為其總長達一萬公里。
22. 歷史老師正在解說一句成語的典故, 其內容如下: 「春秋時代的楚王曾親自率兵北上, 攻打周天子都城附近的領地, 周天子惶恐不安派使臣慰勞楚王, 不料楚王卻向使臣詢問九鼎之大小及輕重, 而九鼎是天子權力的象徵, 由此可見楚王背後奪權的野心, 此即『問鼎中原』這句成語的由來。」由此成語的典故可看出春秋時代的政治局勢出現何種特色?
- (A) 周天子已經無實質權力 (B) 楚王畏懼周天子的權威  
 (C) 春秋時代封建秩序穩固 (D) 楚王最早號召尊王攘夷。
23. 聯合國教科文組織將中國的洛陽龍門石窟與大同雲岡石窟, 列為世界文化遺產, 這兩處世界文化遺產具有下列何項共同特色?
- (A) 帝王陵寢的經典建築 (B) 佛教藝術的代表古蹟  
 (C) 抵禦強敵的軍事工程 (D) 隋唐城市建築的遺址。
24. 小牧好奇地閱讀歷史課本中的朝代表, 了解到中國曾歷經許多個朝代, 但他不太懂「朝代」是什麼意思, 於是上網查了資料。請問, 下列哪一個敘述最能夠說明「朝代」的概念?
- (A) 某一個權力很大的人, 獨自掌管了國家內各項大小事務, 直到他統治的時期結束  
 (B) 由某一個姓氏家族為主導, 建立起政府組織, 進行統治的時期  
 (C) 由全民選舉出某位有能力的人來擔任國家領袖, 實行管理的時期  
 (D) 一群人共同擊敗其他人後, 分工合作地掌管各項不同事務的時期。
25. 承上題, 下列哪一個選項最有可能是小牧看到的中國朝代順序表?
- (A) 周→漢→商→秦→魏晉南北朝→唐→隋 (B) 漢→周→商→魏晉南北朝→秦→隋→唐  
 (C) 唐→秦→魏晉南北朝→漢→周→商→隋 (D) 商→周→秦→漢→魏晉南北朝→隋→唐。
26. 承第 25 題, 小牧還發現有幾個朝代分為西與東, 例如: 西漢與東漢, 小牧不太了解為什麼有這樣的畫分, 好奇地去問了同學。請問, 下列哪位同學最能為小牧解答?
- (A) 州州: 這是依據占卜的結果來決定 (B) 沛沛: 這是根據皇帝出生的方位來決定  
 (C) 阿禾: 這是依據建國時間的長短來畫分 (D) 小榕: 這是依據首都的位置來命名。
27. 每當談到中國古代的國家最高領袖, 通常會聯想到「皇帝」, 但這一詞語在早期的中國並不存在, 當時是以「天子」來稱呼之。請問, 「皇帝」一詞的出現, 最早可以推溯至哪一個朝代?
- (A) 秦朝 (B) 周朝 (C) 商朝 (D) 漢朝。
28. 中國早期無論施實封建, 或是郡縣制度, 都是為了有效管理國家而將土地進行階層性的畫分, 並交由不同層級的人去進行管理, 但這兩種方式卻也為當時的政權帶來不同的影響。請問, 封建和郡縣制最大的差異是什麼?
- (A) 封建之下全國土地都屬於天子的; 郡縣制度則土地是屬於郡守和縣令的  
 (B) 封建中嚴格執行戶口的調查; 郡縣制則強調遵守禮樂制度  
 (C) 封建之下的地方長官依世襲方式繼承; 郡縣制則地方長官由中央直接派任  
 (D) 封建之下諸侯們須將所有經濟資源上繳政府; 郡縣制中各地方政府則可自行保留經濟資源。
29. 歷史課本中寫到: 「唐朝國力強盛, 文化內涵豐富, 對周邊民族影響甚深。」請問, 下列哪一段課文的敘述, 最能符合這句話的內涵?
- (A) 唐太宗滅東突厥, 被西北部族君主尊為天可汗  
 (B) 外族為唐帝國帶來西域等國的飲食、服飾舞樂等, 讓唐朝文化充滿異國風情的多元風貌  
 (C) 新羅、日本等國, 紛紛派遣使節與學生到長安學習, 引進中國文字、法律與制度等  
 (D) 隋唐時期, 皇室多具胡人血統, 因此唐朝前期的政府與人民, 對外族皆採取平等開放的態度。
30. 昊哥上網查資料時發現, 中國早期的政權發展多半源起自哪一條河流域為主?
- (A) 長江流域 (B) 黃河流域 (C) 淮河流域 (D) 珠江流域。

31. 「中國史上，某位皇帝考量原根據地的農業生產落後，且北方外族威脅漸弱，為有效擴張勢力，因此將都城向南遷徙到漢文化的重鎮。遷都後，因貴族與大臣反彈，甚至起而叛亂，皇帝剷除反對勢力後，更加大力推行漢化。」上文所述最可能是下列何事？

(A)忽必烈建都大都 (B)明成祖移都北京 (C)隋文帝營建大興 (D)北魏孝文帝定都洛陽。【105 教育會考】

32. 右圖為盛唐時期的交通路線圖。請問，圖中通往西方的陸上交通道路，早期可能和哪一位歷史人物的探險活動有關？

(A)商鞅 (B)管仲 (C)花木蘭 (D)張騫。

33. 承上題，這條通往西方的陸上交通道路，一般稱之為什麼？

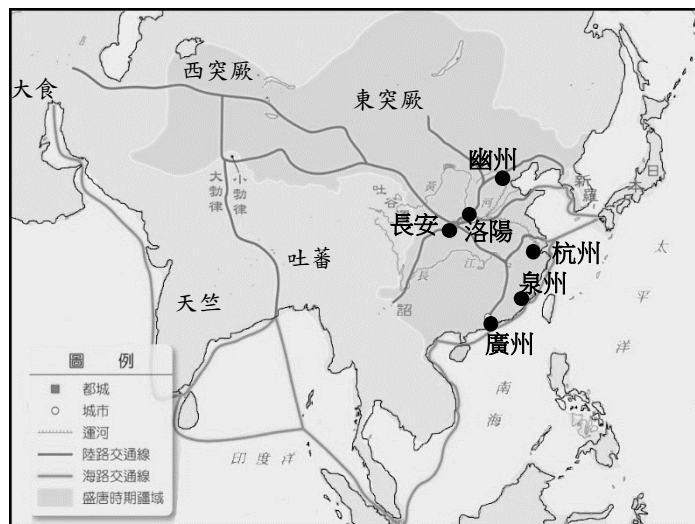
(A)馬路 (B)絲路 (C)馳道 (D)塞道。

34. 以黃河與長江流域為主要生活圈的漢民族，曾歷經多次北方民族的南下，在雙方接觸的過程中，有衝突也有融合。請問，下列哪一個說明是以自然環境的視角，來解釋北方民族南下的原因？

(A)北方民族生性殘暴好鬥，因此常常以攻擊其他民族為樂  
(B)北方民族為了擴張政治勢力，因此不斷向外開拓新的土地  
(C)北方民族因為戰爭頻繁，人民無以為生，只好南下躲避戰火  
(D)北方民族因為氣候寒冷乾燥，不利作物生長，南下掠奪或交換物資。

35. 承上題，下列哪一個事件發生的主要原因，是因為北方民族的南下？

(A)秦滅六國 (B)東亞文化圈的形成  
(C)永嘉之禍 (D)造紙術的西傳。



◎請仔細閱讀下列三則資料，並回答第 36 題至第 40 題。

資料一：政府授權中正官在地方上進行人物品評，依據士人的才能、德行與家世來區分品級，但之後品評只重家世，結果造成「上品無寒門，下品無世族」的現象

資料二：政府透過開科取士的方式來選拔人才，其中包含：進士、明經、明法、明算等科別，只要有能力者都可以報考，為平民晉升開啟了一道大門。

資料三：朝廷根據政府的不同需要設立各種科目，包含：「孝子」、「廉吏」等，並指定有關的官員擔任推舉者，依照規定舉薦相應的人才，經朝廷檢定後給予錄用或陞遷。

36. 依據三則資料的內容可知其所欲探討的主題應該為何？

(A)封建與郡縣制度 (B)政府的選才制度 (C)經學傳家的影響 (D)中央集權的特色。

37. 根據資料一，請問這應該是關於哪一個制度的敘述？

(A)郡縣制度 (B)科舉制度 (C)九品官人法 (D)察舉制度。

38. 根據資料三的描述，此制度應該為下列哪一個時期所採用？

(A)商周時代 (B)秦代 (C)漢代 (D)隋代。

39. 承上題，以「孝順」、「清廉」等倫理道德作為的標準，最有可能是依據哪一家的思想為主要原則？

(A)儒家 (B)法家 (C)道家 (D)墨家。

40. 依據上述三則資料的內容，請問，哪一則資料所敘述的方式最能夠帶動不同社會階層的流動？

(A)資料一 (B)資料二 (C)資料三。

一、單選題（每題 5 分，共 80 分）

41. 如右圖，中國的地勢大致可分成三級階梯。請問：分成三級階梯的主要依據為下列何者？



- (A)地形種類多寡 (B)平均海拔高度
- (C)主要河流流向 (D)主要山脈走向

42. 如右圖，請問哪一級階梯地勢最高，為世界最高的高原，有「世界屋脊」之稱？

- (A) 甲 (B) 乙 (C) 丙 (D) 丁

43. 下列對於丙階梯敘述，何者正確？

- (A)因距海較遠，氣候乾燥 (B)族系複雜，有多個自治區
- (C)以高原、盆地地形為主 (D)為主要農業區，人口稠密

44. 30 年前，科學界在羌塘高原西部發現了一隻海拔 5000 米以上的瀕危野生犛牛，它被稱為金絲野犛牛，因為它的外套是金黃色的或金色的。由於他們生活在極端寒冷缺氧、植被稀少、食物有限的羌塘高原，金犛牛幼崽存活率低，加上雪豹、狼等小牛的獵殺，金犛牛種群增長很少，他們的足跡很難掌握，顯得非常神秘，被藏族同胞視為「神牛」。請問上文敘述的「金絲野犛牛」最可能位於下列哪一地區？

- (A)青藏高原 (B)黃土高原 (C)塔里木盆地 (D)東北平原

45. 中國領土南北兩端的冷熱差異懸殊，1 月月均溫甚至可相差 40°C 以上。請問：造成此種差異的主要原因為何？

- (A)地勢高低不同 (B)距海遠近不一 (C)跨越緯度甚大 (D)有無季風影響。

46. 右圖為中國三大氣候分布圖，請問下列對於甲氣候區敘述何者正確？

- (A)因距海較近，全年降水平均 (B)受海洋影響，南部北部溫差小
- (C)因高度影響，高山雪厚風強 (D)受季風影響，夏雨冬乾，乾溼季分明



47. 承上題，乙氣候區綠洲的人口密集，為中國西半部地區的精華區域，請問下列對於綠洲敘述何者正確？

- (A)氣候溫和濕潤 (B)降水量豐富 (C)融雪量豐富 (D)交通便利

48. 右圖為中國境內的農業及牧業活動的分布地區，根據其位置判斷，其分界線最主要為下列何者？

- (A)年降水量 500 毫米 (B)年均溫 0 °C 等溫線
- (C)一月月均溫 0 °C 等溫線 (D) 500 公尺等高線



49. 承上題，圖中秦嶺、淮河為旱田、水田分界區，請問一般在水田區種植的主要糧食作物為下列何者？

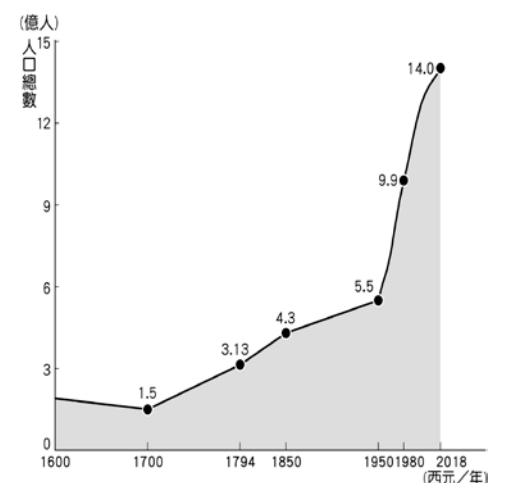
- (A)小麥 (B)青稞 (C)甘蔗 (D)水稻

50. 香港政府 2019 年提出《逃犯條例》修訂草案，該草案容許將香港的犯罪嫌疑人引渡至中國大陸受審，反對者擔憂會削弱香港在「一國兩制」下的獨立司法管轄區地位，因此引發一連串「反送中」社會運動。香港之所以實施「一國兩制」源自於過去曾受哪個國家殖民，直到 1997 年才回歸中國的歷史背景？

- (A)葡萄牙 (B)英國 (C)美國 (D)法國

51. 中國是世界人口最多的國家，受到政治、經濟等因素的影響，各個時期的人口成長快慢不一。右圖是近代中國人口成長圖，請問：中國人口成長的速度，若以一九五〇年代為分界，其前後時期的人口成長速度有何特徵？

- (A)皆緩慢成長 (B)先慢後快 (C)先快後慢 (D)皆快速成長



52. 2021 年 3 月爆發新疆棉花爭議(又稱新疆棉花事件)，瑞典時裝公司 H&M 發布一份聲明稱「不與位於新疆的任何服裝製造工廠合作，也不從該地區採購產品或原材料」所引起的一系列爭議。不少服裝企業也因相似原因發表過聲明不使用來自新疆的原料或產品。請問下列對於新疆棉花產地敘述何者正確？

- (A)氣候高溫多雨溫差小，適合棉花生長 (B)位於中國最低階梯，平原面積廣大
- (C)該區人口稠密，勞工眾多工資低廉 (D)乾燥少雨，棉花生長依賴高山融雪

53. 唐人街（又稱華埠，中國城或中華街），是指華人地區以外的國家的城市裡華裔人士聚居區，唐人街其實並不限於某條街道，範圍可以擴大至一個城市，更貼切的叫法應該是唐人區、華人區。唐人街在中國移民歷史和文化中擔當著重要的角色，它是數以千計華人移民落腳點和安家之處，也代表著中華文化的擴散。請問下列對於中國移民敘述何者正確？

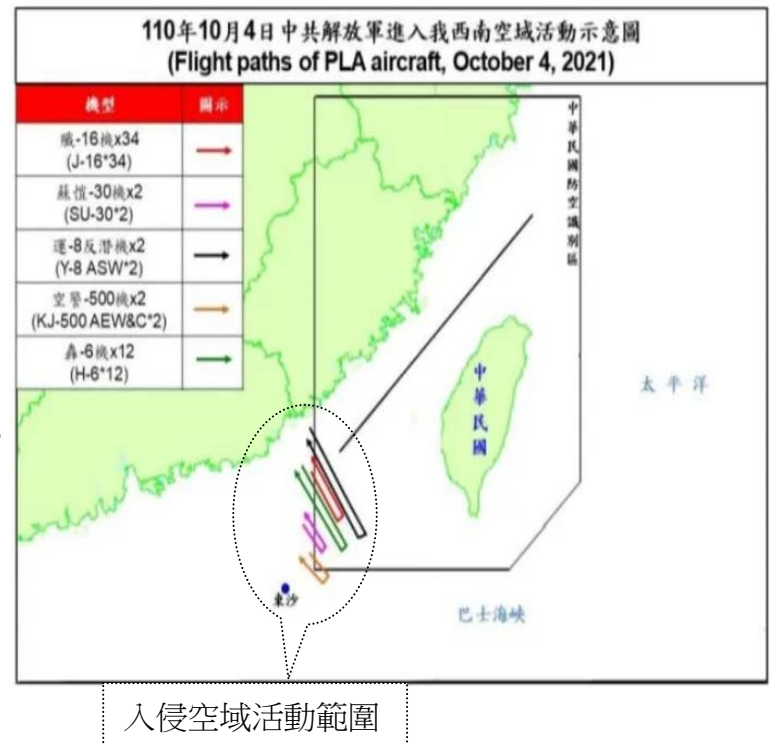
- (A)美國因地理位置較近而成為早期中國人口主要移入區 (B)中國東南沿海丘陵因山多田少、糧食不足而成為人口移出區
- (C)移居海外華人分散各地，早已放棄了中華文化 (D)雖然中國人口的海外移動量大，但中國文化並未因此擴散

54. 中國為了穩定糧食供給，在全國挑選適合糧食生產的地方，投入大量資源，擴大生產規模，以確保國內糧食供給的穩定。右圖為中國全國性商品糧基地分布示意圖，請問下列對於商品糧基地分布的敘述何者正確？



- (A)地形以高原、盆地為主 (B)地廣人稀適合機械化耕作  
(C)主要為溫和濕潤季風氣候區 (D)以種植甘蔗、茶葉等經濟作物為主
55. 中國不僅人口多，族系、宗教也相當複雜，不同民族集居在不同地區，因環境特性的差異，發展出各具特色的生活方式與文化樣貌。中國國家主席習近平一直憂心境外勢力可能透過宗教影響中國社會，他 2015 年開始推動「宗教中國化」，繼提出「藏傳佛教中國化」後，也強調「伊斯蘭教中國化」，要求「鑄牢中華民族共同體意識」。依上文內容請問下列何者敘述正確？

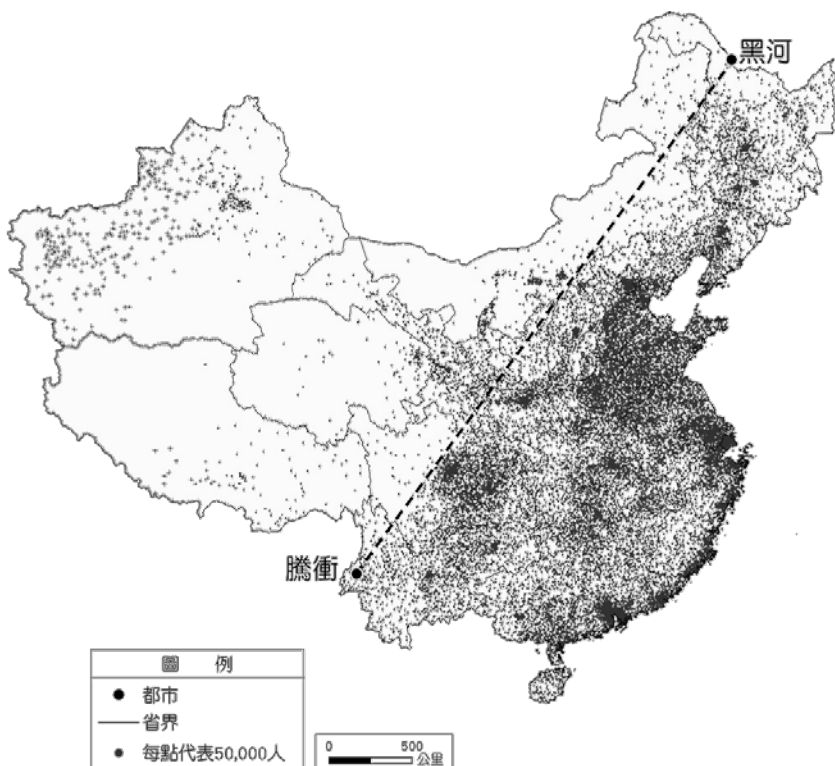
- (A)中國宗教信仰單一，鼓勵多信仰不同宗教  
(B)中國境外勢力強力要求中國「宗教中國化」  
(C)上述「宗教中國化」地區主要為少數民族自治區  
(D)中國「宗教中國化」是要求鄰國必須改信中國宗教
56. 「防空識別區 (Air Defense Identification Zone, ADIZ) 指的是某一國以空防需要為由，單方面劃定的某一空域，以利軍方迅速定位、監視、管制進入該空域的飛行器。」中華人民共和國在 2013 年陸續宣布劃定防空識別區，這些區域與台灣防空識別區多有重疊；近年來中國派出軍機飛往臺灣防空識別區已非新聞。近日中國為慶祝成立 72 週年，中共空軍於上週五 (1 日) 派出 38 架軍機侵入臺灣防空識別區，昨天 (4 日) 共 56 架共機擾台西南防空識別區 (ADIZ)，也是國防部去年 9 月 17 日揭露動態以來，數量最多一次。臺灣政府則部署飛彈系統並派出戰機示警。右圖為 10 月 4 日中國解放軍進入我西南空域活動示意圖，請問近日解放軍活動範圍以下列哪一海域上空為主？



二、非選擇題(20 分)

八年\_\_班 座號\_\_\_\_ 姓名\_\_\_\_\_

請參考中國人口分布圖點圖回答下列問題：



1、由人口分布圖判斷中國人口分布呈現何種特徵？

\_\_\_\_\_ (5 分)

2、請由自然環境(地形、氣候、水文)、人文特色(維生方式、交通、經濟)等，分析說明造成中國東西部人口分布特色的原因？(15 分)

地形	
氣候	
水文	
維生方式	

# 花蓮縣立宜昌國民中學 110 學年度第一學期第一次段考 8 年級社會科試題答案

## 選擇題配分：

公民科：第1題~第20題，每題5分

歷史科：第21題~第40題，每題5分

地理科：第 41 題~第 56 題，每題 5 分

1	2	3	4	5	6	7	8	9	10
D	C	A	A	C	D	B	C	A	C
11	12	13	14	15	16	17	18	19	20
D	A	B	C	B	C	A	B	C	C
21	22	23	24	25	26	27	28	29	30
A	A	B	B	D	D	A	C	C	B
31	32	33	34	35	36	37	38	39	40
D	D	B	D	C	B	C	C	A	B
41	42	43	44	45	46	47	48	49	50
B	A	D	A	C	D	C	A	D	B
51	52	53	54	55	56				
B	D	B	C	C	A				