

宜昌國中 110 學年度第一學期第二次段考 8 年級社會科試題

班級：_____ 座號：_____ 姓名：_____

【地理科】：命題教師：林素葉

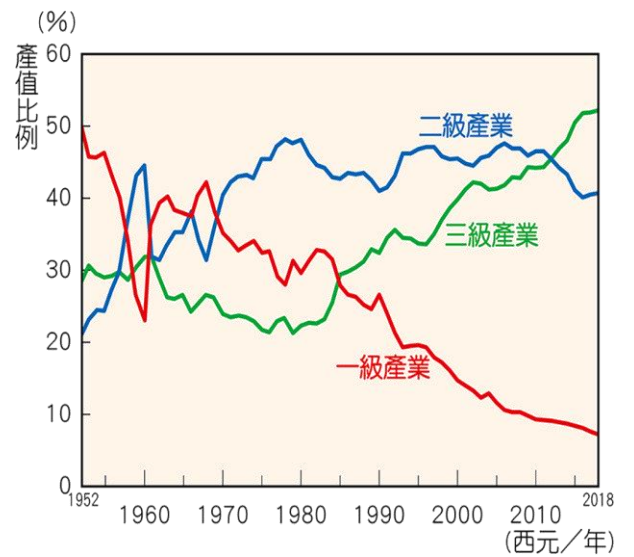
一、單選題 (每題 4 分，共 100 分)

1. 中國在改革開放之後，經濟急速起飛，在外國資金、技術的挹注下，各類型的產業均有亮眼的表現，各種工業製品的產量亦名列世界前茅，因此有「世界工廠」之稱。請問：在改革開放初期，東南沿海經濟特區得以快速發展的原因，主要得利於下列哪一項條件？

- (A)技術進步 (B)原料豐富 (C)政策支持 (D)動力充足

2. 右圖為中國三級產業的產值比例變化圖，請問下列敘述何者正確？

- (A)早期中國經濟發展以第三級產業為主
 (B)隨著時間的變化一級產業產值逐漸下降
 (C)經濟改革後一、二、三級產業產值皆逐年增加
 (D)農業發展是中國近代經濟成長主要動力



3. 中國經濟快速成長的同時，也製造大量的環境汙染物質。由於環保意識不高，這些汙染不只危害中國本地，也隨著空氣與流水擴散至周邊鄰國。請問：若在臺灣觀測到來自中國的空氣汙染物質，在什麼季節最嚴重？當時台灣主要吹什麼風？

- (A)夏季，西南季風 (B)冬季，西南季風
 (C)夏季，東北季風 (D)冬季，東北季風

附圖為中國三大經濟帶與三大經濟圈示意圖，圖中 A、B、C 為中國三大經濟圈，請回答下列問題：

4. 根據三大經濟帶的人口與產值比例，何者為平均國民所得最高的地帶？

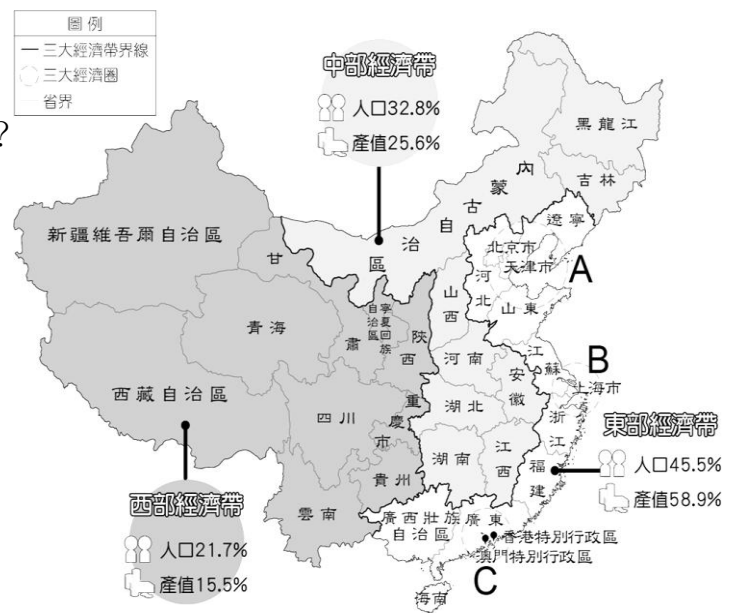
- (A)東部 (B)中部 (C)西部 (D)北部

5. 中國的三大經濟圈中，以哪一個經濟圈最早引入經濟改革開放政策？

- (A) A-環渤海經濟圈 (B) B-長三角經濟圈 (C) C-珠三角經濟圈

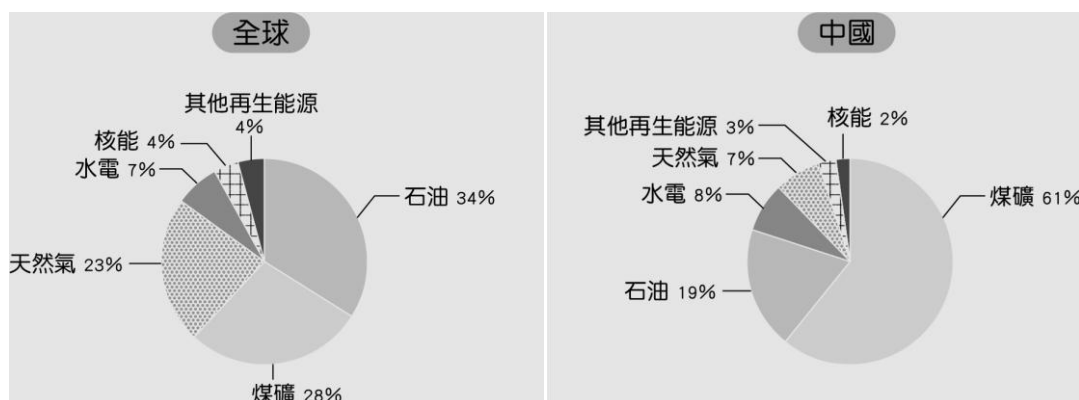
6. 中國於 1970 年代末推動的改革開放政策，帶動經濟快速成長，但是卻加深區域發展失衡現象。下列關於中國的新聞報導，何者最能反映中國區域發展不均的現象？(111 年國中教育會考社會科參考試題)

- (A)今年出現的多起沙塵暴，已直接威脅北京、上海及南京等大都市
 (B)推動海上絲路計畫，發展從中國沿海港口經印度洋至歐洲的航線
 (C)農曆春節將湧現數億人次返鄉人潮，堪稱地表最大規模的人口移動
 (D)南方近年降雨減少，旱象環生，南水北調將威脅南方用水的供應量



7. 下圖為西元 2017 年全球與中國能源使用比例圖，請問中國哪一種能源使用比例遠勝全球？

- (A)石油 (B)天然氣 (C)煤 (D)核能



8. 許多國家正積極的發展再生能源，中國目前雖再生能源的使用率略遜於世界平均值，但以自然環境的觀點而言，中國可以在氣候乾燥，風力強勁的新疆、內蒙古地區推廣哪些類型的再生能源？
 (A)水力發電 (B)風力發電 (C)燃煤發電 (D)潮汐發電
9. 美中貿易大戰加速中國大陸東南沿海地區臺商出走，從整體趨勢來看，出走的臺商主要以下游傳統產業為主，如紡織業、燈飾加工或日用品組裝等。請問：臺商在華南地區東南沿海設立的工廠陸續轉往其他國家投資，除了美中貿易戰外，可能與下列哪一因素關係密切？
 (A)原料缺乏 (B)勞力成本不再便宜 (C)生產技術面臨瓶頸 (D)市場大幅萎縮

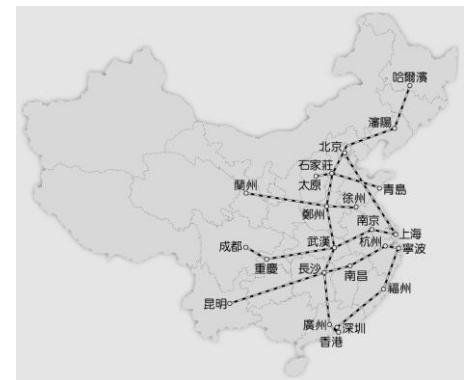
10. 「2017 年底，江蘇省蘇州市昆山開發區突然傳出震撼台商圈與台股市場的停產風暴，昆山市政府以水汙染未能達到規範標準內，發文給吳淞江沿岸三個斷面所屬流域的 270 家工廠，命令這些工廠自 12 月 25 日起至 2018 年 1 月 10 日全面停產；到期視水質情況，決定是否延期。」右圖為昆山區位置圖，請問若此政策確實執行將對下列哪一個地區的臺商工廠經營影響最大？
 (A)西部經濟帶 (B)珠三角經濟圈 (C)長三角經濟圈 (D)環渤海經濟圈



11. 受全球化的影響耶誕節成了國際性節日，作為世界工廠的中國，光一個義烏市有 600 家工廠，生產全球 60% 的聖誕裝飾品。取代芬蘭，中國成為新的聖誕夢工廠，被美媒喻為「耶誕工場」。請問最主要原因是中國具有下列何種生產優勢？
 (A)原料 (B)市場 (C)勞力 (D)交通

12. 在工業化的推波助瀾下，中國的都市化程度逐漸提高，也出現了數個世界級的都市。此都市是世界著名古都和現代化國際城市，為中國政治中心、文化中心、科技創新中心。請問此都市應為下列何者？
 (A)北京 (B)上海 (C)廣州 (D)深圳

13. 右圖為中國中國高速鐵路路線圖，其路線長度均在 1,000 公里以上，載運旅客的長途列車行駛速度可達到 300 公里以上。請問下列中國的地理現象中，何者與此空間分布的關係最密切？
 (A)西部地區地勢較為平坦 (B)北部地區歷史文化發展較早
 (C)南半部地區人口較稠密 (D)東半部工商業較西部發達



「首爾空汙破紀錄 都是中國惹的禍？」

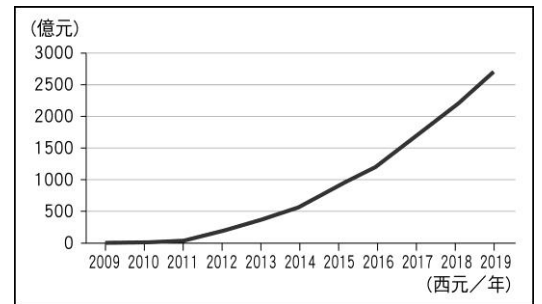
西元 2019 年 3 月初，南韓首都首爾創下近年來 PM2.5 汙染最高紀錄，濃度飆破每立方公尺 150 微克，已經達到危害人體的等級，連續一週的嚴重霧霾，讓首爾籠罩在「極度危害」的灰色世界當中。南韓政府表示：「空氣汙染的元兇來自中國」，汙染物質隨風影響南韓，呼籲中韓雙方共同解決環境災難；但中國卻否認南韓的說法，表示南韓的說法毫無根據，南韓的空汙並非全是中國的問題。

面對連日惡劣的空氣品質，南韓政府採取緊急應變措施，已經緊急實施限制車輛上路，還有建築工地停工等方式。未來該如何防制空汙，已經是南韓政府的巨大挑戰。

(資料來源：Udn 轉角國際(2019. 03. 27)。首爾破紀錄空汙：文在寅指控「中國霧霾外送南韓」。)

14. 南韓指出這次的空氣汙染的元兇來自中國，主因是中國北方當時盛行風向為下列何者？
 (A)東北風 (B)西南風 (C)東南風 (D)西北風
15. 面對嚴重的空氣汙染問題，各國無法阻擋他國隨風而來的汙染物質，但根據以上資料推論，國內可以採取哪些措施因應？
 (A)築高牆阻擋外來汙染物質 (B)向聯合國控訴，禁止該國發展工業
 (C)控管本國汙染物排放降低危害 (D)地球只有一個，無任何解決辦法
16. 西元 2015 年，多數聯合國的成員國為了遏止全球暖化趨勢，而在巴黎簽署協定，訂定更明確的目標以取代《京都議定書》，但在有關氣候變遷的國際環境公約簽署上，中國的態度往往顯得消極，其主要原因最可能為下列何者？
 (A)為了維持經濟高度成長，無法立即改變生產模式 (B)土地面積遼闊但資源有限，無法取得替代性能源
 (C)國內環保團體抗爭，導致大量高汙染工廠生產停頓 (D)為了爭取本土企業家支持，無法讓外國環保工廠入駐

「雙十一狂歡購物節」是中國阿里巴巴集團旗下購物網站自西元 2009 年推出的購物活動，該活動於每年 11 月 11 日舉行，是中國一年當中網路商家打折促銷力度最大的時候，也是網購界年度盛事，吸引相當多民眾在該時段上網搶購。右圖為此購物活動推出迄今的年銷售額成長圖。請問：



17. 請問下列敘述何者最符合此圖所呈現現象？ (A) 中國礦產資源豐富 (B) 中國產業技術優異 (C) 中國勞工薪資低廉 (D) 中國國民所得提高

18. 人造節日創經濟神話，網路購物改變人民消費習慣，但此種商業消費模式的興起需要其他環境的配合，請問下列何者不包括在內？

(A) 便捷的交通網絡 (B) 高效率的物流 (C) 發達的電子商務 (D) 統一的溝通語言

「一帶一路」是「絲綢之路經濟帶」及「21 世紀海上絲綢之路」的簡稱，由國家主席習近平於 2013 年 9 月和 10 月分別提出的國際合作新模式，為中國對外發展的長遠策略。雖然「一帶一路」獲多國支持，目前也取得一定的進展，然而沿線國家以新興經濟體和發展中國家居多，且「一帶一路」多採用不透明的貸款合約，並規定只能由中國企業執行大型建設，導致參與的國家欠下大量債務，因此被西方國家批評為「債務陷阱」下圖為計畫路線示意圖，請回答下列問題。



19. 依據圖中路線判斷，中國於該路線的合作對象並「不包括」下列哪一個地區的國家？

(A) 歐洲 (B) 非洲 (C) 亞洲 (D) 美洲

20. 中國和「一帶一路」上的國家經濟合作，主要以下列何者作為外交手段？

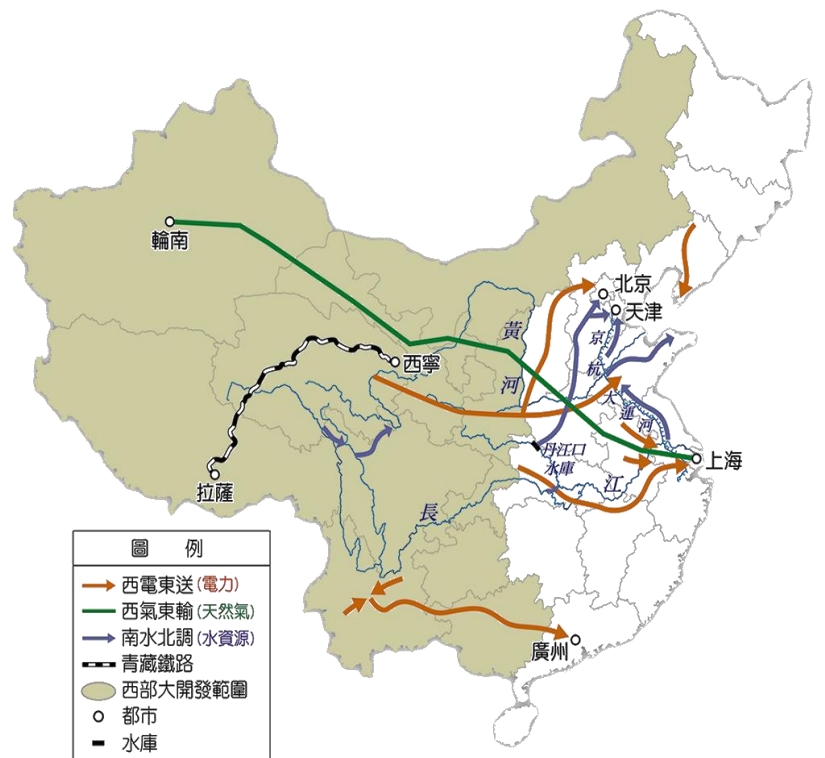
(A) 投資貸款 (B) 石油供應 (C) 勞力提供 (D) 穀物供給

21. 「一帶一路」的經濟合作可能導致下列何種結果？

(A) 美洲的穀物生產不足 (B) 參與的國家欠下龐大債務
(C) 英國的油田被中國搶奪 (D) 美國逐漸喪失邦交國

22. 中國在一帶一路的開發和出資，幾乎都是史詩般的工程和創舉。這些四通八達的交通網路中，除了能增加國際貿易幫中國賺錢外，下列哪一個因素也是中國實施此政策的最主要目的？

(A) 增加國際影響力 (B) 擴大文化影響面
(C) 發展手機通訊業 (D) 提高社會增加率



右圖為西部大開發重點工程路線示意圖，請回答下列問題：

23. 「南水北調」是將長江流域水資源調往黃河流域，請問施行此項工程的主要目的是下列何者？

(A) 擴大長江航運的連結 (B) 解決華北水資源不足的問題
(C) 促進中國水運的發展 (D) 利於華中農產的行銷

24. 下列那一項建設對於促進青藏地區經濟發展具有重要意義？

(A) 西氣東輸 (B) 西電東送 (C) 南水北調 (D) 青藏鐵路

25. 受到新型冠狀病毒疫情的影響，全球六座迪士尼樂園都先後宣布封園暫停營業，而隨著中國國內疫情逐步趨緩，許多城市也逐漸進行解封，讓市區商業活動重新恢復常態，其中右圖中的迪士尼在休園了 3 個多月後，終於在西元 2020 年 5 月 11 日重新對外開放，成為全世界第一間在疫情大流行後重新開幕的樂園。當天現場一早六點多就有民眾排隊等待入場。不過，為了防止疫情和群聚傳染的風險，該樂園要求入園遊客全面戴口罩、暫時取消遊行與煙火表演、園區架設體溫偵測儀和要求彼此保持一定社交距離。請問上述提及的迪士尼樂園應位於下列哪一城市內？ (A) 上海 (B) 北京 (C) 香港 (D) 東京



一、 單選題(每題 5 分，共 55 分)

26. 下列關於行政院與立法院之間制衡關係之敘述，何者『錯誤』？
- (A)立法委員可以質詢行政官員，行政官員有答復的義務
(B)行政院認為立法院通過的預算案窒礙難行時，可經總統核可後移請立法院進行覆議
(C)立法院對行政院的施政不滿時，可以對行政院長提出不信任案，通過後行政院長須立即辭職
(D)行政院長的任命案需經過立法院的同意
27. 我國中央政府與地方政府的分權是採用下列何種方式？
- (A)權力集中在中央政府 (中央集權) (B)權力集中在地方政府(地方分權)
(C)依事務性質來區分由中央或地方管轄 (D)視各地方政府財政狀況而定
28. 關於「地方自治」與「地方政府」的敘述，以下何者正確？
- (A)只要有地方政府就是有地方自治 (B)地方自治指地方上所有的公共事務都由地方政府來管理
(C)地方自治的下一步就是地方獨立 (D)地方人民依法選舉並組織地方政府稱為地方自治
29. 我國地方政府主要分那幾個部份？
- 甲.行政部門 乙.立法部門 丙.司法部門 丁.考試部門 戊.監察部門
- (A)甲乙 (B)甲丙 (C)甲乙丙 (D)甲乙丙丁戊
30. 以下事務，哪些在性質上『不屬於』地方自治的範圍？
- (A)社會服務 (B) 國防外交 (C)安全衛生 (D)經濟發展
31. 我國憲法規定中央與地方發生事務權限劃分的爭議時，應該由何單位處理爭議？
- (A)總統府 (B)行政院 (C)立法院 (D)大法官會議
32. 以下哪一個地方自治單位的層級和其他三者不同？
- (A)基隆市 (B)台南市 (C)高雄市 (D)新北市
33. 以下是羅志祥參選時的主要政見：「督促鄉公所做好鄉內建設、排水系統、道路交通、公共建設。」
請問以下何者為他最可能投入的公職選舉？
- (A)花蓮縣議員 (B)吉安鄉長 (C)吉安鄉議員 (D)吉安鄉民代表
34. 國文老師要同學寄一封信給最要好的朋友，以下是四位同學所寫的地址，請問哪一位同學所寫的不符合我國地方層級的規劃？
- (A)豐源：台東縣卑南鄉和平路 111 號 (B)承穎：新竹縣新竹市民族路 40 號
(C)訢容：高雄市小港區小港路 158 號 (D)心禾：澎湖縣馬公市中正路 17 號
35. 為了為區民謀福利，宇衡決定投入區長的選舉。請問他最有可能居住在哪一個行政區？
- (A)花蓮市 (B)嘉義市 (C)桃園市 (D)南投市
36. 以下是更星日報 110 年 11 月 1 日的新聞：「OOO今天上午召開本屆第六次定期會，審議包括 111 年度花蓮縣總預算等十項提案。……其中最受關注的就是 111 年總預算中，預計收入金額 256 億 2700 餘萬元，支出為 262 億 5600 餘萬元，收支預估短少了 6 億 2900 餘萬元。」請問文中的 OOO 指的是
- (A)花蓮縣政府 (B)花蓮縣議會 (C)立法院 (D)花蓮地方法院

37. 關於公共意見的敘述，何者正確？
- (A)公共意見是指社會中半數以上人民的意見
 - (B)公共意見公說公有理、婆說婆有理，不要太在意
 - (C)公共意見必須經過政府審核才具有公信力
 - (D)為了有利公共意見的匯集，國家應保障人民的集會結社權利
38. 關於利益團體和政黨的比較，以下何者敘述正確的？
- (A)為了影響政府的政策，利益團體會推派成員參加競選活動以爭取執政
 - (B)政黨為了獲得更多民眾的支持，通常會與利益團體進行適度的合作
 - (C)政黨對政策的影響力比較大是因為它的成員人數比較多
 - (D)為了避免被認為不中立，利益團體通常不會在選舉活動中表態

二、題組(每題 5 分，共 25 分)

台灣將於今年 12 月 18 日舉辦公民投票。在今年的四個公投案中，由眾多民間團體共同發起的「珍愛藻礁公投」特別引人注目。以下是此公投案的主文、來由及正反雙方主要意見。

公投主文：「您是否同意中油第三天然氣接收站遷離桃園大潭藻礁海岸及海域？」

提案人：潘忠政

◎ 珍愛藻礁公投的由來

在綠能遲遲未能普及的情況下，火力發電一直是台灣電力的主要來源，而其中又以燃煤為主力。然而燃煤卻會造成嚴重的空氣汙染，於是政府將天然氣列為能源轉型過渡階段的替代方案。

台灣目前僅有二座天然氣接收站，政府認為需要設立第三座液化天然氣接收站（俗稱三接）才能滿足國內能源的需求。國民黨政府在 2015 核准將三接興建於桃園大潭電廠外的觀塘工業區，但因該區藻礁覆蓋面積高達 230 公頃而遭環保團體強烈抗議，全案暫時停擺。民進黨政府於 2018 年重啟此案，但將受影響藻礁面積縮小至 23 公頃以減少對環境的衝擊。

然而環保團體認為這樣的規模仍然會衝擊生態，尤其 2020 年 3 月發生施工的工作船斷纜、擱淺事件，更加引發外界的疑慮。同年 6 月，搶救大潭藻礁聯盟與超過 75 個公民團體發起「搶救藻礁公投」，並由召集人潘忠政領銜提案，展開連署。聯盟必須在 2021 年 3 月 17 日前取得 35 萬份連署書才能成為公投案。

連署初期並不順利，到收件截止前 1 個月僅募集到 7 萬餘份連署書。最後 2 個星期在網紅台客劇場、演員李霈瑜、律師呂秋遠等多位名人聲援下，國民黨、時代力量、台灣民眾黨也加入推動連署的行列。在媒體大篇幅報導下，民眾開始關注這個議題，連署的人數也直線上升，最終在連署截止日獲得 70 萬份的連署書，正式成為一個公投案。

◎ 珍愛藻礁公投正反雙方意見

正方：

桃園藻礁是全球最獨特的大型淺海現生藻礁地景及生態系，被國際保育組織列為東亞第一個生態希望熱點。其中歷經 7600 年才形成的大潭藻礁尤為寶貴。藻礁除孕育豐富的生態體系，更具備固碳功能。我們並不反對天然氣發電，但政府應該把接收站設在其他對環境衝擊比較小的地區。

反方：

為了邁向非核家園，核能發電機組將陸續除役，然而台灣經濟成長使得用電的需求增加，因此我們需要新的供電來源，而天然氣正是目前階段最好的方式。三接供氣後能補充北部約 1000 萬人口的電力需求；如果要在大潭以外另

外尋找接收站的位置，將耗費長久的時間，要是無法如期完工，恐怕嚴重影響供電的穩定，進而傷害台灣的經濟發展，也可能使人民回頭去支持核能發電，對環境造成更大的傷害。

本頁請繳回，手寫部分請以黑色原子筆書寫！！

8年__班__號 姓名：_____

39. 文中所提到的組織，哪些屬於利益團體？ (A)搶救大潭藻礁聯盟 (B)民進黨 (C)時代力量 (D) 國民黨
40. 三接設場位置的選定涉及到與環境、工程、能源等領域相關的專業知識，這突顯了公共議題的什麼特性？
(A)議題性 (B)複雜性 (C)影響性 (D)變動性
41. 關於把三接設場在大潭一事，國民黨 2015 年時贊成，2021 年時又反對。這突顯了公共議題的什麼特性？
(A)議題性 (B)複雜性 (C)影響性 (D)變動性
42. 在這個公投案中，不論正方或反方，環境保護都是他們重要的訴求(也可視為他們的動機)。這顯示
(A)有相同動機的人應該都有相同的立場，因此其中必定有一方是在說謊
(B)既然雙方的動機都是要保護環境，不論那個方案獲勝，環境都可以受到保護
(C)不同的人對於怎麼做才能保護環境可能有不同的觀點
(D)要知道哪一種方法能保護環境需要的是科學證據，因此最終只有一個標準答案
43. 以下何人看待這場公投的態度與民主的價值不合？
(A)家源：公投造成人民之間的對立、破壞社會和諧，應該要廢除
(B)竣傑：政府應該要暢通人民表達意見的管道
(C)怡庭：民主社會的人民可以提出自己的想法是很正常的事
(D)宏澤：少數人民的意見經過討論、匯整與宣傳，可以成為有影響力的意見

三、手寫題(10分)

公投的議題經常涉及了許多的專業，而人民未必有足夠的資訊與知識做出合理的判斷。你贊成應該由專家來決定這些政策，而不要以公投的方式來決定嗎？為什麼？

【★贊成或反對只能勾一個。只要針對所勾選者回答問題。本題滿分 10 分】

贊成由專家決定政策，不要全民公投。因為(5分)：_____

請續答：沒有公投會讓我們變成不民主的國家嗎？為什麼(5分)？

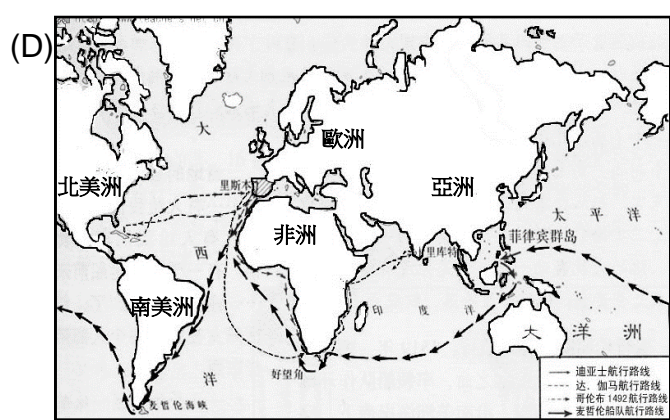
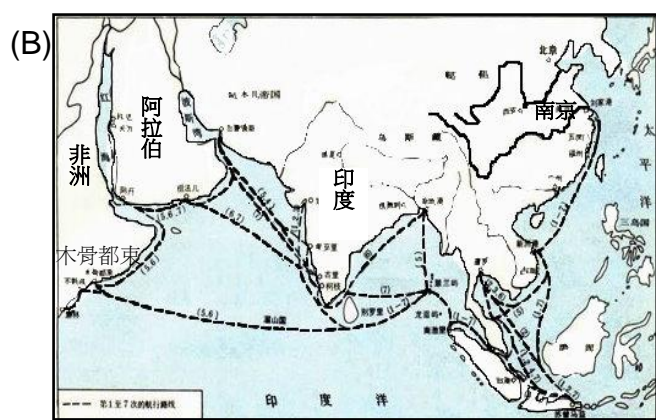
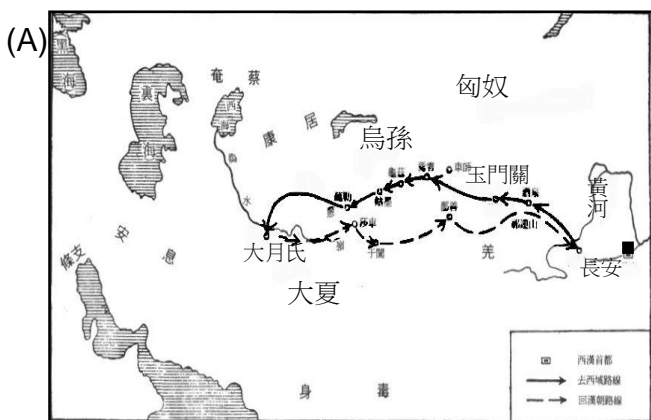
反對都交給專家決定政策，而應該由人民公投。因為(5分)：_____

請續答：該如何提升人民做合理政治判斷的能力(5分)？

【歷史科】命題教師：黃若芸老師

選擇題（每題 5 分，共計 100 分）

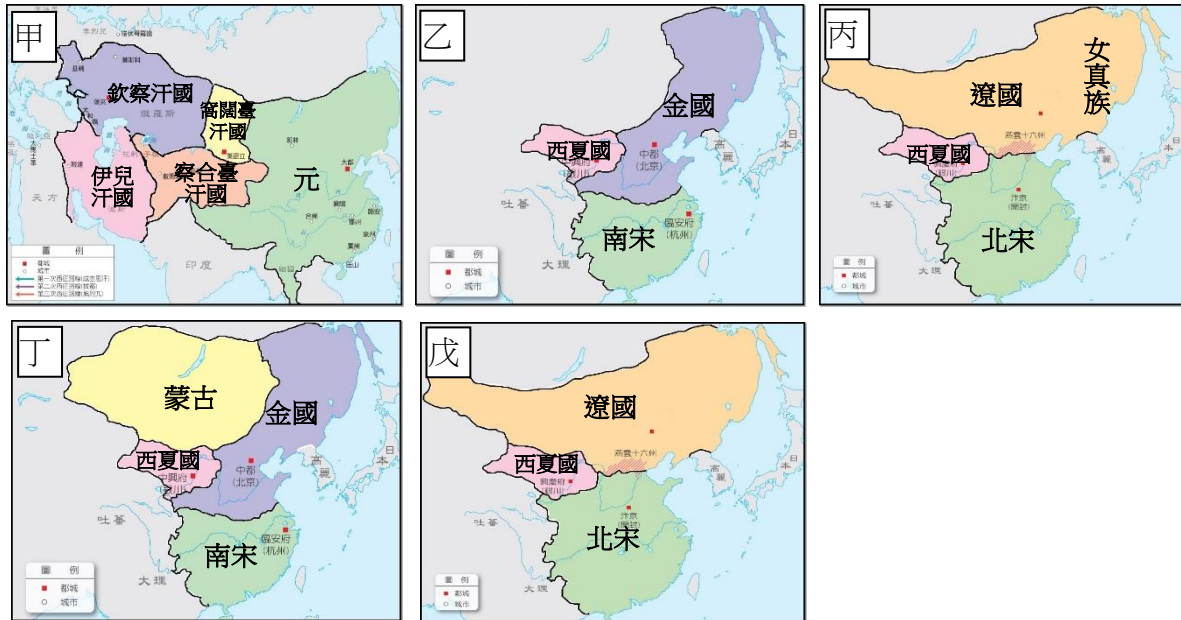
44. 蒙古帝國除了使用銅錢等金屬貨幣之外，也鼓勵使用紙幣，這是因應何種社會經濟背景而產生？
(A)戰爭失利賠款過多，貨幣大量外流 (B)商業貿易衰退，造成銅錢供需失調
(C)國內商業繁盛，使用紙幣便於交易 (D)發明活字印刷術，印刷紙幣更容易。
45. 承上題，中國自哪一個朝代開始，銀也逐漸成為貨幣，與銅錢、紙幣並用？
(A)唐代 (B)宋代 (C)元代 (D)明代。
46. 宋朝統一了中國，卻無法創造一個內政外交強大的盛世。一般認為宋朝國勢不強的原因，除了重文輕武的國策導致武力不盛外，也與地理因素有關。宋朝的北方邊防空虛無險可守，而外族騎兵機動迅速，可長驅直入華北，威脅宋都汴京。請問：造成宋朝「北方邊防空虛無險可守」的關鍵為何？
(A)蒙古西征擴大統治範圍 (B)中央無力控制地方武力
(C)外族取得燕雲十六州 (D)歲收減少無力修築長城
47. 歷史課堂上，同學們在討論某一朝代盛世的特色。
甲同學：「此時君主的權力達到極盛，但在盛世的表象下，有一股嚴厲的政風。」
乙同學：「朝廷表面上支持學術事業，不少讀書人卻因文字獄慘遭迫害。」
丙同學：「這長達一百多年的盛世，在平定地方諸王的叛亂後，內部的統治愈見鞏固；對西北多次用兵，將今日的蒙古、新疆、西藏納入版圖。」
請問：同學們所討論的是哪一個朝代？ (A)唐代 (B)宋代 (C)明代 (D)清代。
48. 自新航路發現後，對世界歷史的發展造成重大影響。下列何者是其對當時中國的影響？
(A)中國沿海的居民開始大量移民到東南亞地區
(B)世界各地與中國的聯繫增強，貿易蓬勃發展
(C)為了購買美洲作物，紙鈔因而大量流出中國
(D)中國對外貿易增加，解決了走私貿易的問題。
49. 承上題，下列哪一張地圖最適合用來說明上述影響的背景？



50. 承第 48 題，新航路的發現也帶動了東方與西方的文化交流，許多來自西方的傳教士為了傳播宗教而引進了西方的科學知識。請問，這些傳教士主要以傳播哪一個宗教為主？
(A)伊斯蘭教 (B)佛教 (C)天主教 (D)道教。
51. 承上題，除了有上述的傳教士帶進了許多不同於中國傳統的知識外，下列哪一個事件也是在這樣的背景之下發生？
(A)義大利商人馬可波羅及其家人橫越歐亞大陸來到中國
(B)日本人侵擾中國沿海地區，並與中國人組成武裝走私集團
(C)荷蘭聯合東印度公司的人員來到臺灣，建立熱蘭遮城
(D)馬偕醫生隨著商人東來，開始在臺灣為臺灣人看診。
52. 小穎正在讀歷史課本，其中讀到「盟約中規定宋每年支付遼國銀、絹等，稱為歲幣；並劃定宋遼疆界，雙方君主約定以兄弟互稱，內容不同於傳統漢人政權的對外關係。」由課文的內容可以知道，小穎所讀的盟約是指哪一個約定？
(A)澶淵之盟 (B)聯遼滅金之盟 (C)汴京之約 (D)朝貢之約。
53. 承上題，小穎不太懂課本中「傳統漢人政權的對外關係」這句話的意思，因此去請教了同學。請問，誰的解釋最能夠為小穎解惑？
(A)堯哥：中國歷朝都採取平等開放的態度，接納各個不同的族群，吸收各族文化
(B)柏軍：自遠古開始，中國分封宗室、姻親與功臣於各地，達到保衛王室的目的
(C)禾禾：中國自古以來視自身政權位居於世界中心，其政治地位高於其他族群
(D)阿衡：傳統中國以黃河流域為活動中心，拒絕與周邊各族有所互動，以保持政權的穩定。
54. 承上題，這種「傳統漢人政權」與周邊民族或政權所發展出來的「對外關係」，稱之為什麼？
(A)封建體系 (B)天朝體系 (C)亞洲體系 (D)幕府體系。
55. 元代是中國歷史上第一個由北邊游牧民族所建立的大一統政權。請問，元代的建國者是哪一位人物？
(A)成吉思汗 (B)忽必烈 (C)趙匡胤 (D)朱元璋。
56. 歷史課本中寫到「蒙古人…將原本敵對的人群納入統治，逐漸形成一個跨越族群、文化與疆界的國際新秩序。」請問，下列哪一段課文『無法』反映出這樣的國際新秩序？
(A)蒙古人選擇沿用漢人體制，實施科舉以管理境內農業民族
(B)元代的朝廷中可以見到來自波斯、俄羅斯等地的官員
(C)有較豐富的理財、商業知識的穆斯林，常被任命處理國家財政事務
(D)蒙古人南下滅宋，控制長江以南地區，從此與四大汗國關係漸行漸遠。
57. 《明史》中曾記載到：「永樂三年六月，命○及其僉王景弘等出使西洋。帶領士兵二萬七千八百餘人…造大船…自福建五虎門揚帆出發，首先到達占城，依次走遍各個國家，向他們宣讀天子的詔書…五年九月，○等人返回明朝，各國派遣使節隨著船隊前來朝見明成祖。」請問，《明史》中所記述的「○」是指哪一位人物？
(A)鄭和 (B)利瑪竇 (C)吳三桂 (D)朱熹。
58. 中國歷朝常以黃河及長江流域為主要勢力範圍，周邊多有其他族群的存在，因此與周邊族群的互動常常影響著中原政權的興衰，例如明代因擊退外族而建國，但在歷經兩百多年的統治後，最後也亡於外族的入侵。請問，對於明代政府而言，下列哪一個族群或群體『最不可能』被視為是來自周邊的外患？ (A)蒙古 (B)流寇 (C)倭寇 (D)滿族。

後方還有試題！

◎下列為 10 世紀至 13 世紀東亞地區政權與民族的分布圖，請仔細觀察地圖，並回答第 59 題至第 63 題。



59. 請按照時間先後順序，排列五張地圖。
 (A) 戊丙乙丁甲 (B) 丙戊甲乙丁 (C) 甲丙丁戊乙 (D) 乙丁戊丙甲。
60. 五張地圖中分別出現了兩次南宋和兩次北宋。請問，為什麼會有「南宋」和「北宋」兩個宋代政權？
 (A) 因為宋朝皇室家族內鬥，因此分裂為兩個宋室政權，同時並存
 (B) 因為外族南下，導致原來的宋王室將首都遷往其他地方
 (C) 因為宋朝開國君主將領土分封給兩個兒子，各自掌管一方
 (D) 為了有效集權中央，於是將土地畫分為不同區域來進行管理。
61. 從地圖中可以觀察到，在 10 至 13 世紀的東亞地區常常是多個政權同時存在，且這些政權通常由不同民族所建立。但在這五張地圖中卻有例外，請問，上列哪一張地圖中所出現的主要政權，其實是由同一個民族所建立的？
 (A) 甲 (B) 乙 (C) 丙 (D) 丁。
62. 承上題，這張地圖中的政權主要都是由哪一個民族所建立？
 (A) 契丹族 (B) 女真族 (C) 漢族 (D) 蒙古族。
63. 從地圖中也可以發現到，不同政權其存在的時間各有不同，有些政權存在時間較長，有些則很短暫。請仔細觀察地圖，並判斷出哪一個政權存在時，曾歷經過周邊最多政權的轉換？
 (A) 蒙古 (B) 西夏國 (C) 北宋 (D) 遼國。

八年級社會解答：

第 1-25 題每題 4 分，第 26-63 題每題 5 分

1.	2.	3.	4.	5.	6.	7.	8.	9.	10.
C	B	D	A	C	C	C	B	B	C
11.	12.	13.	14.	15.	16.	17.	18.	19.	20.
C	A	D	D	C	A	D	D	D	A
21.	22.	23.	24.	25.	26.	27.	28.	29.	30.
B	A	B	D	A	D	C	D	A	B
31.	32.	33.	34.	35.	36.	37.	38.	39.	40.
C	A	D	B	C	B	D	B	A	B
41.	42.	43.	44.	45.	46.	47.	48.	49.	50.
D	C	A	C	D	C	D	B	D	C
51.	52.	53.	54.	55.	56.	57.	58.	59.	60.
C	A	C	B	B	D	A	B	A	B
61.	62.	63.							
A	D	B							