

花蓮縣立宜昌國民中學110學年度第二學期第一次段考8年級社會科試題

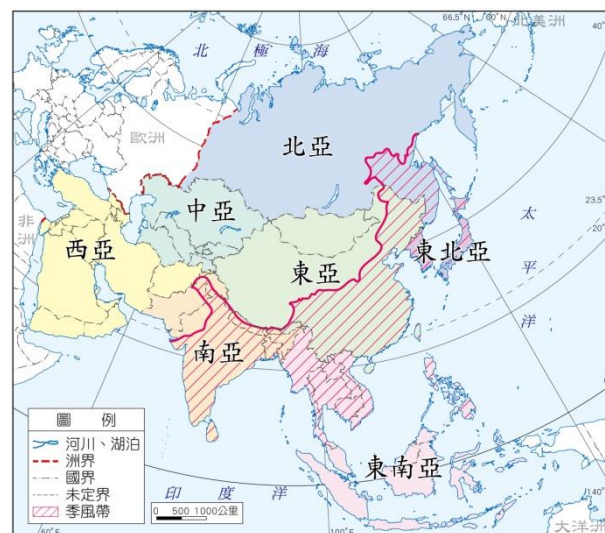
班級：_____ 姓名：_____ 座號：_____

地理科試題 (每題 4 分，共計 100 分)

命題教師：林素葉老師

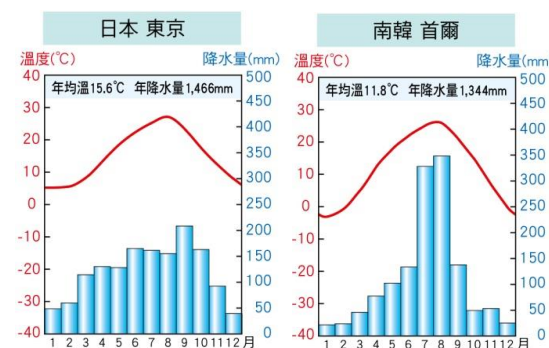
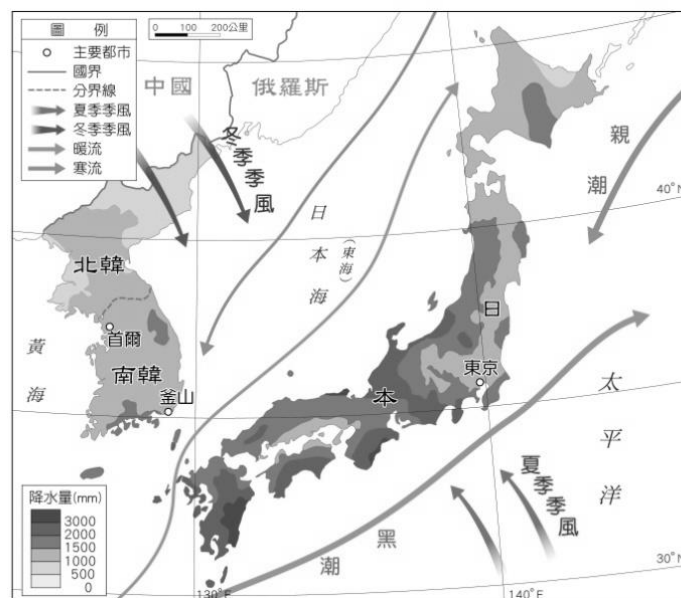
右圖為亞洲分區與季風亞洲示意圖，請回答下列問題：

- 『2022年2月24日，莫斯科時間清晨5點50分，克里姆林宮無預警釋出緊急直播，俄國總統普丁，在全世界面前，正式宣布向烏克蘭政府宣戰，普丁強調，俄國無法接受烏克蘭對於俄羅斯國家與民族的安全威脅，因此已經授權俄軍向烏克蘭本土進行「特殊軍事行動」……「烏俄戰爭」已經正式開戰。』請問右圖中哪一地區屬於俄羅斯領土？
(A)東北亞 (B)東亞 (C)東南亞 (D)北亞
- 下列對於「季風氣候區」敘述何者正確？
(A)位於亞洲西北部地區 (B)主要糧食作物為小麥
(C)為世界人口最多地區 (D)經濟發展程度較落後
- 『2011年日本發生311大地震，導致福島核電廠發生輻射外洩事故，含台灣在內的55個國家或地區隨即禁止福島縣及鄰近五縣的食品進口，以維護國民安全。時隔11年日本福島食品是否解禁一直是國內熱議焦點，行政院在2月8日宣布開放福島、茨城、櫛木、群馬、千葉等五縣食品進口，並提出「三原則」和「三配套」，結束長達11年的管制，預計月底完成公告生效程序。』請問行政院通過福島食品解禁後，台灣廠商將可從圖中哪一地區進口相關食品？
(A)東亞 (B)東南亞 (C)南亞 (D)東北亞
- 承上題，日本除了多地震，火山活動也相當活躍，其活火山數量約占全球活火山總數的十分之一，請問這與日本何種地理特徵有關？
(A)位居板塊接觸地帶 (B)以溫帶季風氣候為主 (C)山多田少，山地為主體地形 (D)二次大戰核爆的後果



右圖為東北亞年降水量分布圖，請回答下列問題：

- 每年5月5日是日本的「男孩節」，在這一天，家家戶戶都會掛起鯉魚旗，來祈願家中的兒童無病無災，健康成長，並且前途無量，掛鯉魚旗的緣由起於「鯉魚躍龍門」這個來自中國的古老民間傳說。請問若以日本夏季盛行風判斷，此時旗幟會朝哪一方向飄去？
(A)東南方 (B)西北方 (C)東北方 (D)西南方
- 根據南韓環境部資料，2019年3月首爾連續將近一週的嚴重霧霾，讓首爾籠罩在「極度危害」的灰色世界當中，南韓總統文在寅表示：「空汙元凶來自於鄰國霧霾」，呼籲中韓雙方共同解決環境災難。請問上述汙染物質應該是隨著圖中哪個季風方向進入首爾地區？
(A)東南季風 (B)東北季風 (C)西北季風 (D)西南季風
- 生魚片是日本料理中最著名也是最具代表性的食物，一般來說，關東叫做「刺身」，關西叫做「禦作」，日本廚師們認為刺身是正式用餐中最好的菜；所以，日式料理中一般將刺身作為第一道菜。請問在日本生魚片文化發達，最主要與下列哪一項因素有關？
(A)位於西太平洋地區 (B)位於溫帶氣候區，魚種眾多
(C)寒、暖洋流交會，漁業發達 (D)從國外進口大量魚貨
- 右圖為日本東京與南韓首爾的氣候圖。觀察兩地氣候特徵，請問下列敘述何者正確？
(A)首爾年溫差較小 (B)東京降水季節分布較平均
(C)首爾冬季較溫暖 (D)東京冬季溫度低於0°C
- 承上題，請問下列哪一項因素是導致東京與首爾地區氣候差異的主要原因？
(A)海洋調節 (B)地勢的高低 (C)全球暖化 (D)產業發展
- 右圖為日本著名的世界文化遺產白川村「合掌造」傳統家屋。這種屋頂呈現大角度傾斜的建築特色，與該地哪一項環境因素最有關係？
(A)山多田少，節省空間 (B)冬季降雪量大，利於排雪
(C)夏季高溫，利於散熱 (D)商業利益考量，吸引遊客
- 承上題，合掌造除大角度傾斜的建築特色外，更是木造建築為主，在興建的過程中完全不用釘子，以茅草覆蓋屋頂。請問此建築結構與下列哪一項特徵有關？
(A)節省建材 (B)木造較美觀 (C)導熱慢較保暖 (D)多地震減少災害



右圖為東北亞地區簡圖，請回答下列問題：

12. 東京迪士尼樂園是由華特迪士尼公司品牌下的第一個海外的迪士尼樂園，同時是亞洲第一個迪士尼主題公園，也是目前世界唯一非迪士尼公司直接經營的迪士尼樂園。東京迪士尼原本是 1:1 完美複製美國佛州迪士尼——神奇王國的樣子，但是經過足足 36 年擴張和改建，其中很多遊樂設施都由日本人大幅度改造，發展出了屬於日本獨有的風格。請問若想前往東京迪士尼樂園一睹風貌，要前往圖中哪一地區？

- (A) 乙 (B) 丙 (C) 戊 (D) 己

13. 『韓國第廿屆總統大選結果十日凌晨揭曉，由在野的國民力量黨候選人尹錫悅勝出，並一舉創下韓國一九八七年總統恢復直選以來的三項紀錄，包括得票率差距最小、推翻「十年輪流執政說」，以及首位沒有國會議員資歷的總統當選人。』請問上文敘述總統大選地區發生於圖中何處？

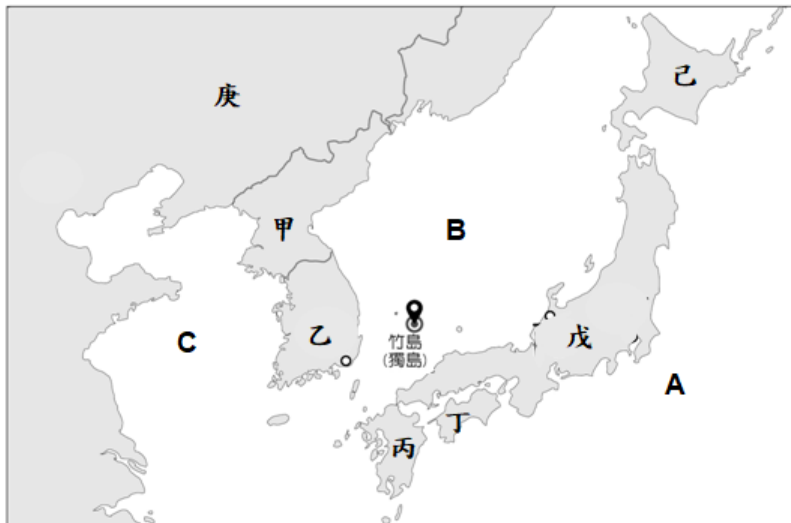
- (A) 甲 (B) 乙 (C) 戊 (D) 庚

14. 獨島由兩座大型火山岩與幾十個小型岩石組成，面積狹窄，僅夠海鷗降落停留，日本稱為「竹島」，南韓則稱為「獨島」，日、韓都宣稱竹島(獨島)是他們的國土，兩國爭奪竹島(獨島)的目的為何？

- (A) 移民紓解人口壓力 (B) 增加國家領海範圍
(C) 作為核廢料棄置場 (D) 在此建造軍事基地

15. 下列對於「甲國」敘述何者正確？

- (A) 該國為朝鮮民主主義人民共和國 (B) 礦產豐富，國際貿易發達
(C) 以文化立國，大量輸出韓國文化 (D) 科技產業發達，生產總值世界排名第 11 名



如果時常觀看韓國影劇的觀眾應該都會知道，無論是韓國的電視劇或是電影，除了有新穎有趣的題材內容，大部分也會蘊含韓國當今的社會議題，不僅將韓國的社會黑暗面透過鏡頭赤裸裸地表現出來，也讓大眾更加重視這些尚未被正視且解決的問題。近期非常火紅的韓國 Netflix 影劇《魷魚遊戲》便是其中一個例子，不但暗諷人性的險惡，觀眾也從中看見韓國社會下的貧富差距，以及雖然身處社會不平等的狀況，依舊得為了生活咬牙苦撐的樣貌。事實上此情境亦和韓國流行用語「地獄朝鮮」相互呼應。「地獄朝鮮」是 2010 年後在韓國興起的網路用語，由地獄的英文「Hell」和韓國的歷史名稱「朝鮮」組合而成。韓國的年輕世代開始將自己所生長的环境譬喻為「地獄」，因為自己不僅找不到工作、買不起房子，也沒有辦法養活自己，更不用說結婚生子或是更長遠的夢想藍圖。(https://reurl.cc/MbxX74) 因為在韓國，財團只提供 4% 的工作機會，卻取走 60% 的獲利，勞工與中產階級幾乎完全無法分享經濟成長的果實。(張夏成: 憤怒韓國)。請依上文回答下列問題：

16. 請問下列何者「不是」文中提到韓國社會及經濟問題？

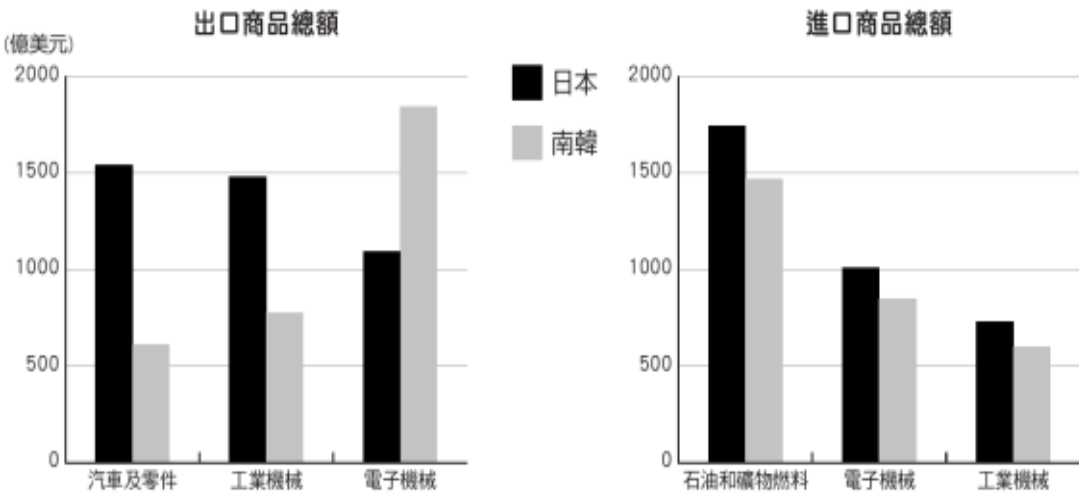
- (A) 貧富差距大 (B) 中產階級生活不易 (C) 房價低廉 (D) 失業率高

17. 南韓經濟發展之所以掌控在少數財團手中，可能和下列哪一個因素高度相關？

- (A) 政府政策 (B) 民族性格
(C) 資源匱乏 (D) 殖民歷史

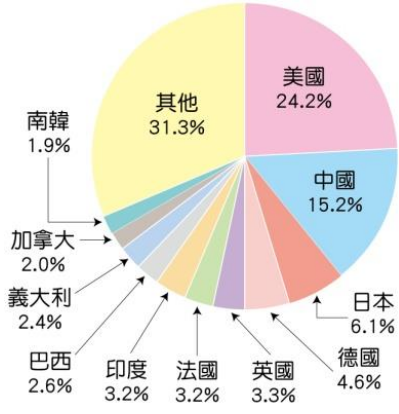
18. 透過一個國家的進出口貿易商品，我們可以大致了解該國在經濟發展上的強項及其不足之處。右圖是日本及南韓在西元 2018 年國際貿易前三大進出口商品類別及金額。請問：這兩個國家在工業發展上，最可能共同遇到下列何種困境？

- (A) 缺乏汽車零件 (B) 缺乏礦產資源
(C) 缺乏工業機械 (D) 缺乏電子機械



19. 右圖為 2017 年重要國家占世界生產總值的比例圖，請問下列敘述何者正確？

- (A) 日本汽車、科技產業發達，生產總值排名世界第 3 名
(B) 南韓礦產資源豐富，生產總值排名世界第 11 名
(C) 世界主要貿易大國大部分來自於大洋洲國家
(D) 東北亞國家經濟生產總值大約占世界生產總值 26.4%



20. 在台灣及其他東亞地區早已對「韓流」和「哈日族」見怪不怪，隨著日韓兩國軟實力的發展，過去十年，日韓的偶像團體、影視產業在歐美取得了巨大的成功，使得西方世界也開始注意到東北亞流行文化的魅力。請問下列對於日韓文化產業敘述何者正確？

- (A) 日本文化產業都由企業贊助與支持，政府漠不關心
(B) 南韓憑藉發達網際網路流通擴散，成為全球文化產業輸出大國
(C) 日韓文化只是東北亞次文化，在台灣極少出現
(D) 日韓文化產業蓬勃發展只是在疫情影響下的曇花一現，無須在意

21. 右圖為日本主要工業區分布圖，由圖可以發現日本主要工業區的空間分布集中於太平洋沿岸，請問造成此現象原因最主要與下列哪一項因素關係最密切？

- (A) 工業技術進步 (B) 火山、地震頻繁
(C) 礦產原料豐富 (D) 國際貿易發達



22. 「日本任天堂的 Switch 深受消費者喜愛，美國是任天堂第一大買家，占核心業務營收的 43%，歐洲和日本市場分別占 27% 和 21%。然而，由於新冠肺炎(COVID-19)疫情影響到部分工廠的營運，導致任天堂在中國的零組件供應商產能大幅下降，無法維持任天堂在越南組裝工廠的產能。」請問：根據上面敘述，下列關於國際分工的說明何者正確？

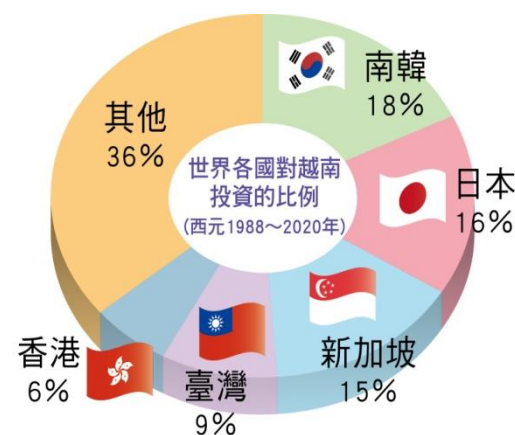
- (A) 中國設計，日本製造 (B) 美國設計，日本製造 (C) 日本設計，越南製造 (D) 日本設計，美國製造。

23. 「智慧型農業是指以現行產業生產模式為基礎，因應消費市場需求進行產銷規劃，生產管理上輔以省工省力機械設備、輔具及感測元件的研發應用，並結合跨領域之資通訊技術(ICT)、物聯網(IoT)、大數據(Big Data)分析、區塊鏈(Block Chain)等前瞻技術導入，減輕農場作業負擔降低勞動力需求，提供農民更有效率的農場經營管理模式，生產符合消費者需求，安全、安心及可追溯的農產品。」日、韓從 2013 年起也陸續宣布推動「智慧型農業政策」，請問主要與下列哪一項因素關係密切？

- (A) 失業率逐年攀升 (B) 克服氣候條件限制 (C) 國外農產品大量傾銷 (D) 農業勞動力老化及不足現象

24. 右圖為 1988-2020 年世界各國對越南的投資比例圖，請問下列敘述何者正確？

- (A) 日、韓分居外國投資越南前兩名，代表兩國對東南亞市場重視
(B) 台灣對越南投資佔外國投資越南 9%，代表台灣對新西進政策的重視
(C) 在經濟政策上日、韓一直處於共同合作對抗世界其他貿易大國
(D) 越南為歐盟成員國，所以日本、南韓、台灣都積極投資該國



25. 韓國傳統的泡菜製作會利用大自然的低溫環境，也就是每年 11 月到隔年 2 月這段時間，地表土壤溫度維持在 0°C 到 -1°C 左右，最適合泡菜乳酸菌的發酵，所以韓國人會把泡菜裝在罎子中埋進土地裡進行保管。為了給泡菜提供一個恒定的低溫環境，韓國人專門開發了「泡菜冰箱」，讓泡菜的爽脆口感可以維持 2 到 3 個月之久以供日常食用，可見泡菜對南韓人生活飲食的重要性。請問南韓盛行泡菜最可能受到下列何種環境因素的影響？

- (A) 多火山地震，為災難預作準備 (B) 冬季高溫，避免蔬菜腐爛
(C) 商人的行銷噱頭，無特殊意義 (D) 冬季嚴寒，新鮮蔬菜不足

歷史科試題 (每題 5 分，共計 100 分)

命題教師：黃若芸老師

26. 清廷為了向英、法、德、美四國銀行團借款，宣布「鐵路國有」政策，試圖將川漢、粵漢等鐵路收歸國有，因未給予合理補償，引起各省人士反對，尤以四川省的抗爭最激烈，為革命起事製造有利的機會。上述在四川地區引發的動亂應該是指哪一事件？

- (A) 保路運動 (B) 武昌起義 (C) 二次革命 (D) 義和團事件。

27. 清末以來，革命黨人為團結力量，陸續成立興中會、同盟會，並多次策動推翻清廷的行動，最後趁機在湖北防務空虛之際起事，得到各省響應，揭開革命成功的序幕。此次的起義行動是指下列何者？

- (A) 二次革命 (B) 武昌起義 (C) 誓師北伐 (D) 義和團事件。

28. 立欣在網路上看到一本民國初年的刊物，其中寫到：

儒家提到的「三綱」指的是「君為臣綱、夫為妻綱、父為子綱」。其意思是君為臣的表率，而人民為君主的附屬品，故無獨立自主的人格；父親為兒子的表率，則兒子是父親的附屬品，故無獨立自主的人格；丈夫為妻子的表率，則妻子為丈夫的附屬品，故無獨立自主的人格。中國人之所以缺乏獨立的人格，都是導因於「三綱」的說法。傳統上提到的盡忠、盡孝、守節，皆非讓人擁有獨立人格的道德規範。

由文章的內容來看，其主要論述的內容應該是下列何者？

- (A) 讚揚儒家的道德規範 (B) 強調三綱思想的重要
(C) 突顯身分地位的差異 (D) 傳統思想會束縛人格。

29. 子好在網路上看到一張某女子中學籃球隊的照片，如右圖，她想到也曾經在歷史課本中看到過類似的照片。請問，這些拍攝女生從事球類運動的照片，最早可能出現在哪一個時期？

- (A) 清代初期 (B) 清代中期 (C) 民國初期 (D) 民國中期。



30. 歷史課本中寫到「晚清以來，戰亂不斷，農村生活困苦，大量無以維生的人民被迫從軍。辛亥革命後，各地將領招募軍隊、掌控地方財政，進而控制地方政權，逐漸形成軍隊私有化的現象。袁世凱死後，各地將領趁機擴張權勢，演變成『軍閥割據』的局面，導致政局動盪不安。」請問，依據課文中的敘述，什麼是軍閥？
- (A) 出身於困苦的農村，被他人強迫而去參與軍事訓練和作戰的農民
 (B) 掌握有龐大的軍事力量，效忠中央政府，為了國家安定而戰的軍官
 (C) 占據有某塊土地，並且控制當地的經濟、政治和軍事等權力的將領
 (D) 來自各地方的軍隊，以討伐袁世凱為最主要目標的軍事行動。

題組一

昀瑾在歷史課本中看到「袁世凱...廢除《臨時約法》」，之後又讀到「段祺瑞...拒絕恢復《臨時約法》」。昀瑾很好奇為什麼在中華民國建立初期，《臨時約法》曾多次被廢止。請協助昀瑾探索她的好奇，並完成下列題目。

31. 在探索廢止原因之前，昀瑾想先知道什麼是《臨時約法》，她上網查到各章節名稱，如右上圖。請問，依據右圖推斷，《臨時約法》類似現今的哪一部法？
- (A) 《中央行政機關組織基準法》 (B) 《中華民國刑法》
 (C) 《總統副總統選舉罷免法》 (D) 《中華民國憲法》。
32. 昀瑾進一步查到《臨時約法》中，臨時大總統（即袁世凱當時所擔任的職位）的部份相關條文，如右圖。請仔細閱讀各條文，並就其內容而言，推論袁世凱廢止《臨時約法》最有可能的理由是什麼？
- (A) 因臨時大總統的選舉需得到全國民眾的投票支持
 (B) 因臨時大總統無法總攬政務，也無法公布法律
 (C) 因為臨時大總統不能出席參議院的會議
 (D) 因為臨時大總統的職權受制於參議院。
33. 了解《臨時約法》被廢止的可能原因後，昀瑾又好奇到，《約法》的廢止對於民國初年會有什麼影響，於是她查一查課本，在其中讀到段祺瑞拒絕恢復《臨時約法》後，出現了「護法運動」。請問，這次的護法運動是由哪一位人物號召而發起的？
- (A) 黎元洪 (B) 孫中山 (C) 張勳 (D) 袁世凱。

中華民國臨時約法

臨時參議院通過於民國1年3月8日

第一章 總綱

第二章 人民

第三章 參議院

第四章 臨時大總統副總統

第五章 國務員

第六章 法院

第七章 附則

第四章 臨時大總統副總統

第 29 條 臨時大總統、副總統由參議院選舉之。以總員四分三以上出席得票滿投票總數三分二以上者為當選。

第 30 條 臨時大總統代表臨時政府，總攬政務，公布法律。

第 33 條 臨時大總統得制定官制官規，但須提交參議院議決。

第 34 條 臨時大總統任免文武職員，但任命國務員及外交大使公使須得參議院之同意。

第 35 條 臨時大總統經參議院之同意，得宣戰媾和及締結條約。

題組二

對於歷史影片很有趣興的侑涅，在網路上看到了一部根據歷史發展而拍攝的電影，其中劇情出現了人群上街抗議的情節畫面，如右圖。請仔細閱讀圖片，並回答下列問題。

34. 侑涅馬上聯想到歷史課曾經學過的歷史事件。請問，依據右圖的場景，這最有可能是呈現哪一個歷史事件？
- (A) 五四運動 (B) 二次革命
 (C) 辛亥革命 (D) 南北分裂。



35. 侑涅看到畫面中出現「二十一條」的字樣，好奇的侑涅去翻閱了歷史課本。請問，關於「二十一條」，侑涅可以從課本中得到什麼訊息？
- (A) 這是在清代晚期，德國與清朝政府簽訂的二十一個條約 (B) 這是中華民國建立時，革命黨人制定的二十一項法條
 (C) 這是中華民國前期，段祺瑞答應日本的二十一個承諾 (D) 這是中華民國初期，日本對中國提出的二十一項要求。
36. 這是一部根據歷史事件發展先後順序所拍攝的影片，因此當侑涅看到這個情節畫面，他在差不多的時間之內，最有可能也會看到下列哪一個情節畫面？
- (A) 革命黨人正在積極籌畫，準備在湖北地區發起革命行動
 (B) 康有為和梁啟超正在大力宣傳君主立憲的優點，希望獲得各界人士支持
 (C) 一戰後，各國正在開會討論德國在海外曾占有的領土及權益問題
 (D) 孫中山等人正在號召各地人士，發起反對袁世凱的行動。

題組三

林揆在歷史習作中閱讀到這段節錄的文章，但對於文章內容的歷史背景不太清楚。請仔細閱讀後，協助林揆解決他的困惑。

……中國數千年以來，習於君主專制體制，各地學校短缺，大多數之人民智識不甚高尚，人民更缺乏參與政治之能力，四年以前，由專制一變而為共和，此番變動太快，難望有良好結果……中國將來必因總統繼承問題「釀成禍亂」……如一時不立即撲滅禍亂，可能導致敗壞中國之獨立……中國如用君主制，較共和制為宜，此殆無可疑者也。

資料來源：古德諾。共和與君主論。西元 1915 年 8 月 20 日發表於《北京每日新聞》。

37. 文章中多次提到「共和」一詞，但林揆不太了解「共和」的意思。請問，下列哪一段文字最能為林揆解答？
 (A) 共和指的是全國人民共同合作，建立新的政府 (B) 共和的意思是大家共同追求和平
 (C) 共和是指國家的最高執政者不是君王 (D) 共和與共產的意思接近，也就是財產共有制
38. 文章中出現「由專制一變而為共和」這一句話，林揆好奇在過去的歷史之中會如何「一變」。請問，依據歷史發展，所謂的「由專制『一變』而為共和」是指什麼事件？
 (A) 戊戌變法時，變法派人士提倡人民可向政府提出意見
 (B) 立憲運動時，立憲派主張成立內閣與資政院（類似今立法院）
 (C) 復辟行動中，地方將領張勳請清朝退位的皇帝溥儀重新即位稱帝
 (D) 辛亥革命時，革命團體發動推翻清朝政府的行動。
39. 不太懂西元與民國之間換算的林揆，用手機查了「『西元 1915 年』是民國幾年？」得到的回應是？
 (A) 民國 2 年 (B) 民國 3 年 (C) 民國 4 年 (D) 民國 5 年。
40. 了解文章大意後，林揆聯想到曾在歷史課本中學過的知識，推測此篇文章的發表，最有可能被下列哪一位人物所借用，以達成其政治企圖？ (A) 孫中山 (B) 袁世凱 (C) 段祺瑞 (D) 梁啟超。

題組四

歷史習作中出現了一幅歷史漫畫，如右圖，習作中同時寫到「這是某一時期知識分子積極提倡的觀念，認為唯有透過這些新觀念，才能帶給國家新的刺激，挽救國家的困境」。請仔細閱讀圖片後，並回答下列題目。



41. 當時知識分子所推動的變革應該是下列何者？
 (A) 新文化運動 (B) 立憲運動 (C) 庚子後新政 (D) 戊戌變法。
42. 承上題，此次變革的發展，一般認為是從哪一本刊物的出版後，而更大幅度的展開？
 (A) 《青年雜誌》 (B) 《科學》 (C) 《萬國公報》 (D) 《時事畫報》。
43. 圖中的「德先生」與「賽先生」分別指什麼？
 (A) 民主、科學 (B) 儒家思想、道家思想 (C) 道德、競賽 (D) 立憲、革命。
44. 下列哪一段文字敘述，最有可能是這段時期所提倡的新觀念？
 (A) 中國人應積極學習西方先進的技術，從而再用其來抵抗西方列強的不斷入侵
 (B) 凡事都應說明真理，以理性的方式去查證，不要相信憑空捏造、未經實證的想像
 (C) 治理天下之根本要務...必須從孩童的啟蒙教育出發；而啟蒙教育之根本，必須從母親的教養開始
 (D) 從事各行各業者均屬於下等之人，只有讀書才能夠出人頭地，光耀門楣。
45. 這段時期也希望透過各種不同的呈現方式來傳達新觀念，例如：漫畫、小說等。請問，下列哪一段小說的書寫形式，最符合這段變革時期所提倡的方式？
 (A) 「當夜五更時候，船已近曹操水寨。孔明教把船隻頭西尾東，一帶擺開，就船上擂鼓吶喊。魯肅驚曰：『倘曹兵齊出，如之奈何？』孔明笑曰：『吾料曹操於重霧中必不敢出。吾等只顧酌酒取樂，待霧散便回。』」
 (B) 「阿 Q 以如是等等妙法克服怨敵之後，便愉快的跑到酒店裡喝幾碗酒，又和別人調笑一通，口角一通，又得了勝，愉快的回到土穀祠，放倒頭睡著了。」
 (C) 「甯采臣，浙人。性慷慨，廉隅自重。每對人言：『生平無二色。』適赴金華，至北郭，解裝蘭若。寺中殿塔壯麗；然蓬蒿沒人，似絕行蹤。」
 (D) 「太宗聞言，遂將此表擲付群臣議之。時有宰相蕭瑀，出班俯頤奏曰：『佛法興自屢朝，弘善遏惡，冥助國家，理無廢棄。佛，聖人也。非聖者無法，請寘嚴刑。』」。

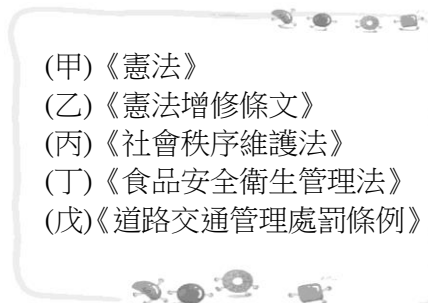
公民科試題

命題教師：林湘芸老師

一、選擇題（每題 5 分，共計 90 分）

46. 現代民主國家已從人治社會邁向法治社會，下列關於法治社會的敘述，何者正確？
 (A) 法律由專制君主做決定 (B) 法律經由立法程序制定而成
 (C) 法規經常變動無一定的標準 (D) 法律的主要目的是控制人民。
47. 日常生活中隨處可見法律的規範，明確規定政府與人民應該遵守的事項。下列何者不屬於法律的規範？
 (A) 騎乘機車須戴安全帽 (B) 穿越馬路應遵守交通規則
 (C) 開車上路應依照交通號誌的指示 (D) 搭乘公車應禮讓老弱婦孺。
48. 在臺灣，汽車駕駛人、前座或小型車後座乘客未依規定繫安全帶者，處駕駛人新臺幣 1,500 元罰鍰。但像是若計程車駕駛人已盡告知義務，乘客仍未繫安全帶時，則處罰該乘客。這種要求駕駛和乘客的行為，是屬於法律的何種特色？
 (A) 執行力 (B) 強制力 (C) 普遍性 (D) 原則性。

49. 法治社會中，法律經由立法程序制定，明確規定政府與人民應該遵守的事項。關於上述法律的說明，下列何者正確？
 (A) 如果人民不遵守法律只會受到良心的譴責 (B) 法律約束人民的行為，同時也保障人民的權利
 (C) 法律主要在規範人們的內在行為 (D) 為管理國家，政府可以不必遵守法律的規定。
50. 法治國家中，政府只有在稅法規定的範圍內，才能徵收稅款，顯示下列何種意義？
 (A) 法律是由人民制定的 (B) 法律是由統治者制定的 (C) 人民的行為要守法 (D) 政府要依法行政。
51. 公民課時，老師在黑板上寫出五項法律(如右圖)，要小芮試著挑出屬於行政法的項目，小芮陷入沉思，請試著幫他找出正確的答案？
 (A) 甲乙丙 (B) 乙丙丁 (C) 丙丁戊 (D) 甲丁戊。
52. 下列選項中的行為，哪些與行政法有關？
 (甲) 辦理出生登記 (乙) 去書店購買參考書籍 (丙) 接受國民義務教育 (丁) 確實繳納所得稅。
 (A) 甲乙丙 (B) 甲乙丁 (C) 乙丙丁 (D) 甲丙丁。
53. 法律的原則之一，為政府須「依法行政」，意即政府施政須於法有據、遵守法律規範。其主要目的在防止政府濫用權力。根據上述內容判斷，「依法行政」原則最主要的精神在於下列何者？
 (A) 保障人民權利 (B) 確保社會安寧 (C) 避免人民權利過度擴張 (D) 營造美好生活環境。
54. 新冠肺炎疫情流行期間，中央疫情指揮中心訂定並發布「社交距離注意事項」，要求社會大眾保持社交距離。關於該注意事項的敘述，下列何者正確？
 (A) 屬於法律位階 (B) 目的是提供人民服務 (C) 不得牴觸憲法和法律 (D) 並不涉及人民權利的限制。
55. 小花平日喜歡和同學高歌一曲紓解壓力，但某日在家中和同學唱歌時卻因為太過忘我而唱到深夜，鄰居不堪其擾向警方報案，警方獲報後到場制止小花。小花這種行為可能須負起何種法律責任？
 (A) 政治責任 (B) 違憲責任 (C) 行政責任 (D) 道義責任。
56. 如果行政機關的行政行為侵害人民的權益時，如欲尋求救濟，下列何者是行政訴訟的前置程序？
 (A) 調解 (B) 和解 (C) 訴願 (D) 請願。
57. 阿樂認為自己是無故被學校退學的，便提出訴願。對訴願決定不服的他，可以再採取下列何種方式尋求救濟？
 (A) 申訴 (B) 釋憲 (C) 請願 (D) 行政訴訟。
58. 阿發是一位小兒麻痺症患者，在求職的時候四處碰壁，因而發現很多公司並不想錄取身障者。上述這些公司的做法違反了《憲法》保障人民的何種基本權利？ (A) 環境權 (B) 自由權 (C) 平等權 (D) 參政權。
59. 關於「澎湖是否設立觀光賭場？」一案，澎湖縣曾在西元 2009 年與 2016 年舉行了公民投票，兩次結果均以不同意，確定未通過。此種地方性公投，讓人民可用直接投票的方式，參與公共事務的決定。此為《憲法》所保障人民的何種權利？
 (A) 平等權 (B) 自由權 (C) 參政權 (D) 受益權。
60. 《憲法》是我國的根本大法，其修法有其嚴謹的程序，請問下列何者正確？
 (A) 甲→乙→丙→丁→戊 (B) 乙→甲→丙→丁→戊
 (C) 乙→丙→甲→丁→戊 (D) 丁→甲→乙→丙→戊。
61. 在民主國家中，憲法被視為國家的根本大法，素有「人民權利的保障書」之稱。下列有關憲法特性的敘述，何者說法有誤？
 (A) 網友荳荳：法律與憲法牴觸者，無效，彰顯憲法的最高性
 (B) 網友樂樂：《憲法》修正案須經公民複決，此乃憲法的穩定性
 (C) 網友安安：憲法具有最高性，意指是國家位階最高的法律
 (D) 網友緋緋：憲法條文通常極為詳盡，此為憲法的原則性。
62. 根據《警察職權行使法》的規定，警察行使職權時，應著制服或出示證件表明身分，並應告知事由，警察未依此規定行使職權者，人民得拒絕之。上述內容最主要在強調下列何種法治觀念？
 (A) 法律規範政府的作為，而人民權利受到法律保障 (B) 法律制定生效後，對於違法者即產生約束的作用
 (C) 行政機關修改不合時宜的命令，以保障人民權利 (D) 法律是由民意代表所制定，也是人民意思的展現。
63. 廣義的法律是指政府與人民應該遵守的法律規範，下列何者不包含在廣義的法律範圍內？
 (A) 憲法 (B) 法律 (C) 命令 (D) 道德。



- 甲、公告半年
- 乙、立法委員提案
- 丙、立法委員表決
- 丁、公民投票複決
- 戊、通過

二、題組 (每題 5 分，共計 10 分)

附表呈現憲法、法律和命令之間的關係。請回答下列問題：

64. 根據內容判斷，哪些是正確的？ (A) 甲丙 (B) 甲戊 (C) 乙戊 (D) 丙丁。
65. 我國法律於制定的過程中，由誰負責審查表決？
 (A) 大法官 (B) 監察委員 (C) 考試委員 (D) 立法委員

憲法	甲	具原則性、固定性、平等性三項特性。
	乙	由立法院制定。
法律	丙	司法院公布後由總統執行。
	丁	由行政院訂定。
命令	戊	牴觸憲法和法律無效。

花蓮縣立宜昌國民中學 110 學年度第二學期第一次段考 8 年級社會科試題答案

選擇題配分：

地理科：第1題~第25題，每題4分

歷史科：第26題~第45題，每題5分

公民科：第 46 題~第 65 題，每題 5 分

1	2	3	4	5	6	7	8	9	10
D	C	D	A	B	C	C	B	A	B
11	12	13	14	15	16	17	18	19	20
D	C	B	B	A	C	A	B	A	B
21	22	23	24	25	26	27	28	29	30
D	C	D	A	D	A	B	D	C	C
31	32	33	34	35	36	37	38	39	40
D	D	B	A	D	C	C	D	C	B
41	42	43	44	45	46	47	48	49	50
A	A	A	B	B	B	D	B	B	D
51	52	53	54	55	56	57	58	59	60
C	D	A	C	C	C	D	C	C	C
61	62	63	64	65					
D	A	D	C	D					