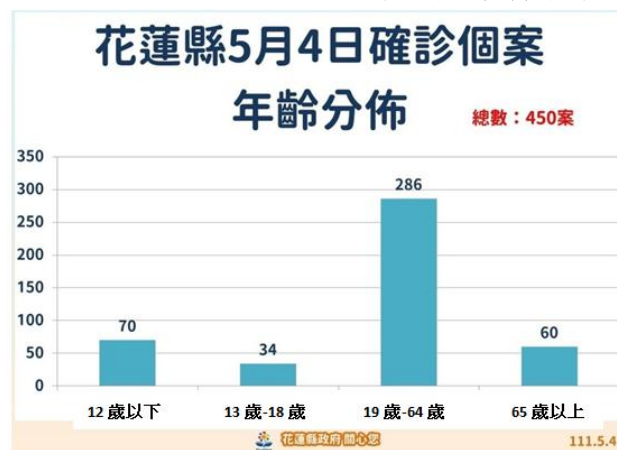


宜昌國中 110 學年度下學期 第 2 次段考 7 年級 社會科試題

一、單選題(每題 3 分，共 81 分)

命題教師:林素葉

1. 新冠肺炎疫情蔓延全台，花蓮確診個案不斷增加，右圖為 5 月 4 日花蓮確診個案年齡分布圖，請問下列對於花蓮疫情敘述何者正確？



- (A)幼年人口確診人數為 70 人
- (B)確診人數以壯年人口比例最高
- (C)老年人口確診後多為重症
- (D)確診者以女性人口比例較高

2. 聯合國 (UN) 今天指出，自從俄羅斯 2 月 24 日侵略烏克蘭以來，逃離烏國的難民人數已經超過 300 萬，且其中約 140 萬人是兒童，占近半數，幾乎相當於每秒就有一名兒童淪為難民。(2022-03-15 中央社)請問難民潮最可能造成接受難民國家的人口產生下列何種變化？

- (A)出生率下降 (B)自然增加率上升
- (C)死亡率下降 (D)社會增加率上升

3. 右圖為台灣人口分布圖，根據此圖可以看出台灣人口分布具有某些集中趨勢，請問下列對於台灣人口集中趨勢敘述何者正確？

- (A)南部人口多於北部 (B)山地人口多於平原 (C)東部人口多於西部 (D)都市人口多於鄉村



下表為花蓮縣、花蓮市及吉安鄉 111 年 1 月人口統計資料，請回答下列問題：

| 花蓮縣 | 總人口     |         |         | 總人口增加數 | 自然增加    |          |          |          | 社會增加    |          |          |          |
|-----|---------|---------|---------|--------|---------|----------|----------|----------|---------|----------|----------|----------|
|     | 計       | 男       | 女       |        | 增加數 (人) | 增加率 0/00 | 出生率 0/00 | 死亡率 0/00 | 增加數 (人) | 增加率 0/00 | 遷入率 0/00 | 遷出率 0/00 |
| 全縣  | 321,063 | 162,262 | 158,801 | -295   | -131    | -0.41    | 0.52     | 0.92     | -164    | -0.51    | 3.57     | 4.08     |
| 花蓮市 | 100,791 | 48,441  | 52,350  | -164   | -11     | -0.11    | 0.51     | 0.62     | -153    | -1.52    | 3.29     | 4.81     |
| 吉安鄉 | 83,104  | 41,562  | 41,542  | -18    | -29     | -0.35    | 0.43     | 0.78     | 11      | 0.13     | 4.01     | 3.87     |

4. 請問下列對於花蓮市性別比敘述何者正確？

- (A)性別比大於 100 (B)性別比小於 100 (C)性別比等於 100 (D)無法判斷

5. 依據上表人口統計資料，請問下列敘述何者正確？

- (A)吉安鄉自然增加數負 29 人，代表 1 月有 29 人搬出吉安鄉
- (B)花蓮縣社會增加率為負值，代表花蓮縣所有鄉鎮遷出率皆大於遷入率
- (C)吉安鄉 1 月社會增加 11 人，代表遷入人口大於遷出人口
- (D)花蓮市 1 月總人口數減少 164 人，主要來自於死亡率增加

6. 自民國 81 年以來，政府開放引進國際移工，從事各項勞務工作，據國家發展委員會資料指出，來自「此區」的外籍勞工在台人數已超過 40 幾萬，加上因婚姻、留學等因素前來臺灣，以及新住民的新二代，目前約有近百萬名「此區」人士共同在臺灣生活，彼此相互影響，造就台灣多元文化色彩。請問上文所指的「此區」最有可能是指下列何者？

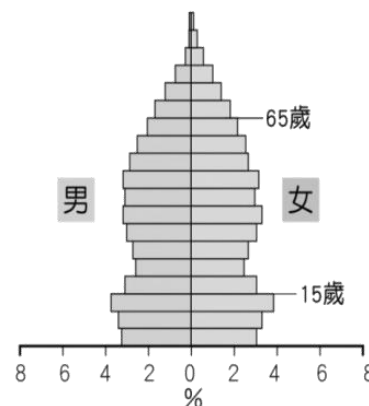
- (A)東南亞地區 (B)中國大陸 (C)非洲地區 (D)歐美地區

7. 承上題，對台灣而言這些外籍移工是屬於下列哪一種移動模式？

- (A)拉力，國內遷移 (B)推力，國內遷移 (C)拉力，國際遷移 (D)推力，國際遷移

8. 人口金字塔可用來比較一地不同時期的發展，是常用以表現人口組成特徵的工具，右圖為某國的人口金字塔圖，請問該國最可能出現下列哪些人口問題？

- (甲)性別比失衡 (乙)少子化問題 (丙)老人安養問題 (丁)人口素質低落
- (A) 甲乙 (B) 乙丙 (C) 乙丁 (D) 甲丙



9. 根據聯合國的標準，一國的老年人口達到多少比例即為高齡化社會？

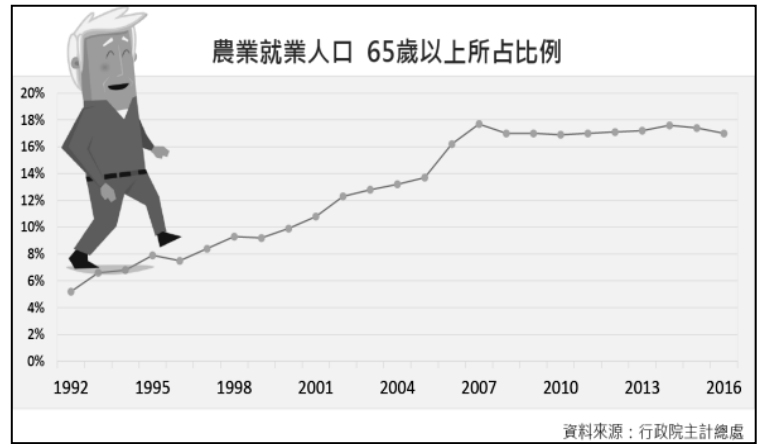
- (A)5% (B)7% (C)14% (D)20%

10. 花東縱谷以池上米、關山米等良質稻米著稱，這些稻米與臺灣西部平原生產的稻米比較，最主要的優勢為何？

- (A)農業技術 (B)政策輔導 (C)勞力資源 (D)種植環境

11. 右圖為台灣 65 歲以上農業就業人口比例圖，請問此圖反映台灣目前農業就業人口哪一項問題？

- (A)農村農業收入所得偏低 (B)農村少子化  
(C)農業就業人口比例增加 (D)農村勞力老化




12. 韭菜、芋頭、龍鬚菜是吉安招牌農特產，品質特優，廣受歡迎，有「吉安三寶」之稱。而年產量居全國之冠的龍鬚菜，隨農會供銷系統供應至全臺各地；現在大家吃龍鬚菜就想到吉安，吉安可說是龍鬚菜的故鄉。(花蓮縣吉安鄉公所全球資訊網)

請問從事韭菜、芋頭、龍鬚菜生產的居民屬於第幾級產業人口？  
(A)第一級 (B)第二級 (C)第三級 (D)第四級

13. 承上題，年產量居全國之冠的龍鬚菜，之所以能隨農會供銷系統供應至全臺各地，主要來自於便利交通，請問要將吉安龍鬚菜運送到台北農產銷售公司，在考量成本及便利性情況下，下列哪一項運輸方式最適合？

- (A)空運 (B)海運 (C)陸運 (D)捷運

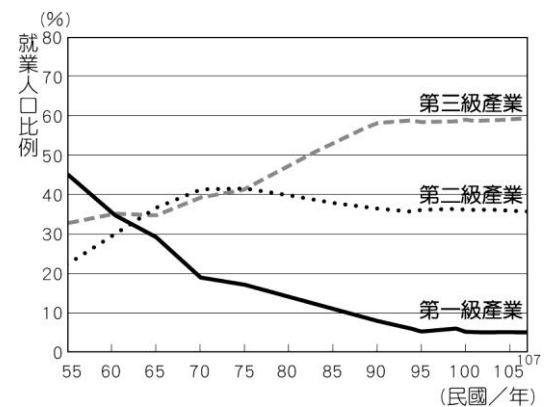
14. 吉安鄉芋頭進入採收期後，除了供應北部市場外，吉安農會也將之加工為冰品、芋圓。以下是吉安鄉農會芋頭冰棒生產行銷流程，請問那些項目是屬於同一級的產業活動？



- (A)甲乙丁 (B)乙丙丁 (C)丙丁戊 (D)乙丁戊

15. 右圖為臺灣歷年三級產業就業人口比例變化圖，請從此圖中判讀，下列敘述何者正確？

- (A)民國六十年代以前，就業人口以第一級產業為主，其次為第二級產業  
(B)民國 65~75 年，臺灣就業人口以第三產業為主，第一級產業人口居於次位  
(C)民國 70 年中期後，第三級產業逐漸成為台灣生產主力  
(D)民國六十年代以後，第一級產業人口開始下降，直至七十年代首度低於第二級產業



16. 一九六〇年代，政府於高雄市首先設立加工出口區，一九七〇年代又選定在此發展重化工業。高雄之所以成為政府設立加工出口區和重化工業的地點，皆與其擁有下列哪項優越條件有關？

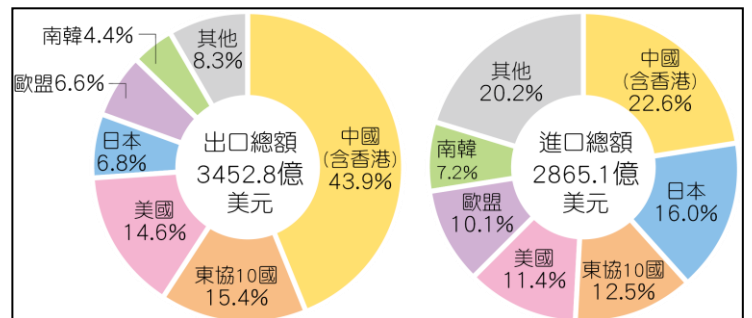
- (A)交通便利 (B)動力充沛 (C)資金充足 (D)市場廣大

17. 為了提高產業競爭力，目前臺灣有許多地方將農、漁業轉型發展，結合觀光遊憩，提供民眾休閒體驗，如每年的 5~9 月是民眾欣賞磺火捕魚文化活動的時節。下列哪項觀光休閒的農、漁業活動，和欣賞磺火捕魚一樣，也有季節限定？

- (A)立川漁場體驗摸蚬仔兼洗褲 (B)「赤柯山&六十石山」金針花海  
(C)澎湖海上牧場捕撈新鮮牡蠣 (D) 瑞穗牧場體驗牧場生態活動

18. 目前和臺灣有進出口貿易往來的國家或地區超過 220 個。右圖為臺灣主要進出口貿易對象(民國 109 年)，請問由圓餅圖提供資訊，下列對臺灣國際貿易的敘述何者正確？

- (A)台灣國際貿易發達且一直保持入超  
(B)台灣主要貿易對象集中在美洲國家  
(C)臺灣國際貿易對象集中在少數國家  
(D)台灣主要進口農礦原料出口工業產品



19. 右表為四個聚落三級產業就業人口比例，請問哪一個聚落最可能屬於鄉村聚落？

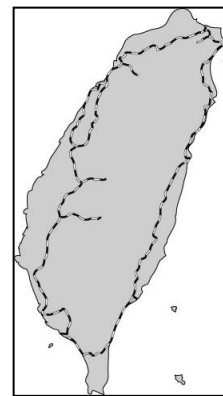
- (A) 甲 (B) 乙  
(C) 丙 (D) 丁

|     | 甲   | 乙   | 丙   | 丁   |
|-----|-----|-----|-----|-----|
| 第一級 | 33% | 10% | 20% | 75% |
| 第二級 | 45% | 25% | 25% | 15% |
| 第三級 | 22% | 65% | 55% | 10% |

20. 由於都市的就業機會多，生活機能較佳，造成部分人口由鄉村往都市移動，形成都市人口比例高於鄉村的現象稱為？

- (A)都市化 (B)工業化 (C)郊區化 (D)商業化

21. 右圖為台灣鐵路分布圖，由圖中路線的分布可知台灣鐵路呈環狀分布，請問主要與下列哪一項因素關係密切？
- (A)受地形影響
  - (B)受河川流向影響
  - (C)受氣候影響
  - (D)受政策影響



22. 2020 年全球疫情下最耀眼的流通次產業，莫過於餐飲外送平台產業。只要躺在家中滑手機、點一點螢幕，沒多久門鈴響起，打開門就能拿到你想吃的任何美食。請問在台灣美食外送員一般選擇下列哪一種交通工具？為什麼？
- (A)火車~不會交通阻塞
  - (B)機車~路線選擇性高
  - (C)飛機~速度最快省時
  - (D)船舶~載貨量最大



23. 請問右圖所要表達的意涵，下列哪項文句敘述最貼切？
- (A)都市和鄉村間彼此相輔相成
  - (B)臺灣陸運交通的路線深受地形限制
  - (C)對外交通便利的地區較易形成都市聚落
  - (D)交通工具不斷的改善與創新縮短了各地的旅運時間

24. 大陳新村位於美崙山東麓美崙地區北端，屬於都市邊緣之純住宅社區，現居大陳社區居民，大部分於民國 44 年自中國大陸浙江省遷居來台定居至今，現在所住房舍狹小，建物老舊，道路幾為狹窄巷弄，車輛通行不便。一旦發生地震、火災，逃生不易，有潛在危險。請問若要有效改善上述問題，可採用下列何種措施，重新配置公共設施，創造環境品質？
- (A)罰款取締
  - (B)防災演練
  - (C)強制搬遷
  - (D)都市更新

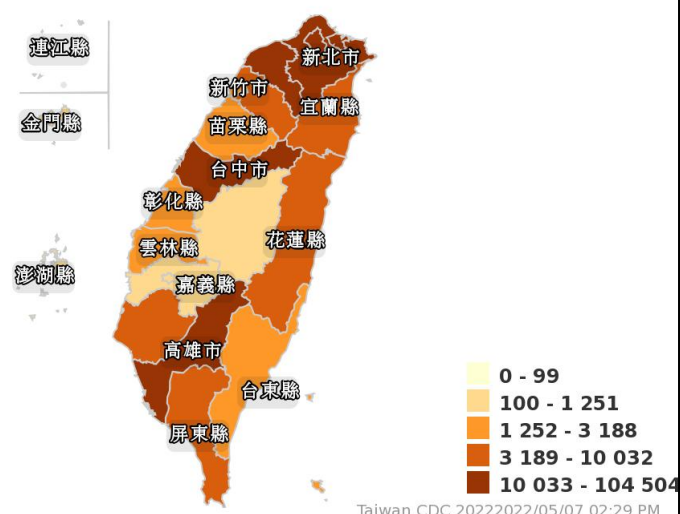
受到地形與開發早晚的影響，臺灣人口多分布在西部地區，形成許多大小都市，為了行政管理上的需要，政府在西部地區設立了六個直轄市，統稱「六都」。六都擁有眾多人口與較佳的經濟實力，形成區域發展的優勢。右圖為臺灣行政區圖，請問：



25. 擁有台灣規模最大國際機場，也是全台灣東南亞國際移工人數最多的都市？
- (A)台北市
  - (B)高雄市
  - (C)桃園市
  - (D)台中市
26. 台灣政治、經濟、文化中心，吸引國內外企業進駐，創造眾多就業機會的國際性都市？
- (A)台北市
  - (B)新北市
  - (C)台中市
  - (D)台南市

27. 右圖為 2022 年全國嚴重特殊傳染性肺炎本土病例地理分布圖，資料統計至 5 月 7 日下午 2 點 30 分止，請問下列敘述何者正確？
- (A)東部區域縣市確診病例數最低是因人口稀疏
  - (B)確診病例分佈以南部區域縣市最少
  - (C)北部區域確診病例較多是因為人口密度高
  - (D)中部區域確診人數以澎湖縣最低

全國嚴重特殊傳染性肺炎本土病例地理分佈 (2022年-2022年)  
[發病日 2022/01/01-2022/12/31]



<背面尚有試題，加油!>

(<https://reurl.cc/Wr1Yk9> 傳染病統計資料查詢系統)

# 宜昌國中 110 學年度下學期 第 2 次段考 7 年級 社會科試題

二、非選擇題 (19 分)

班級：\_\_\_\_\_ 姓名：\_\_\_\_\_ 座號：\_\_\_\_\_

政府在 1991 年正式開放外籍勞工來台工作，遂逐年形成台灣的移工文化；移工來台也常遇到與社會格格不入的現象。根據台灣勞動部定義，「移工」包含家庭看護工、家庭幫傭工作、機構看護工工作、製造工作、營造工作、海洋漁撈工及屠宰工，移工選擇來台，不外乎是因為母國國家經濟條件差，出國工作薪水比母國高出許多，對台灣而言則是能補充本地勞力的不足。根據內政部移民署統計資料，截至 2020 年 5 月 31 日，外籍人口有 793,281 人，其中移工人口 (651,863 人) 占全台總人口數比為 2.74%。相比 1992 年的 0.05% 成長了近 55 倍。

根據勞動的統計資料，大多數的男性移工都是來台從事製造業 (稱產業外籍勞工)，而女性則大多從事照護業 (稱社福外籍勞工)，例如：長照、看護等。通常移工們因為經濟情況差、人際關係較少、文化風俗不同及語言溝通困難，因而會受到一些不平等待遇的狀況，例如文化衝突或被忽視宗教禁忌等。有些移工更因為在台工作受到限制，例如：雇主轉換限制、工作內容與合約不符、加班費收不到等原因，而成為非法移工，而「非法移工」的形象又常常出現在新聞版面，潛移默化使台灣人心中對移工留下不好印象，這些種種因素都加深了移工與本地人的距離。

資料來源：

「移工」赴台的挑戰：社會因缺乏理解而產生隔閡，不平等待遇或文化衝突是家常便飯

1、台灣開放外籍移工至今已 30 年了，目前在台外籍移工人數已超過 70 萬人，已經成為「必要性人力」，你認為這些在台外籍移工主要從事哪幾級產業的工作？(2 分)請舉例說明。(4 分)

(1)從事第\_\_\_\_\_級產業工作，例如：\_\_\_\_\_

(2)從事第\_\_\_\_\_級產業工作，例如：\_\_\_\_\_

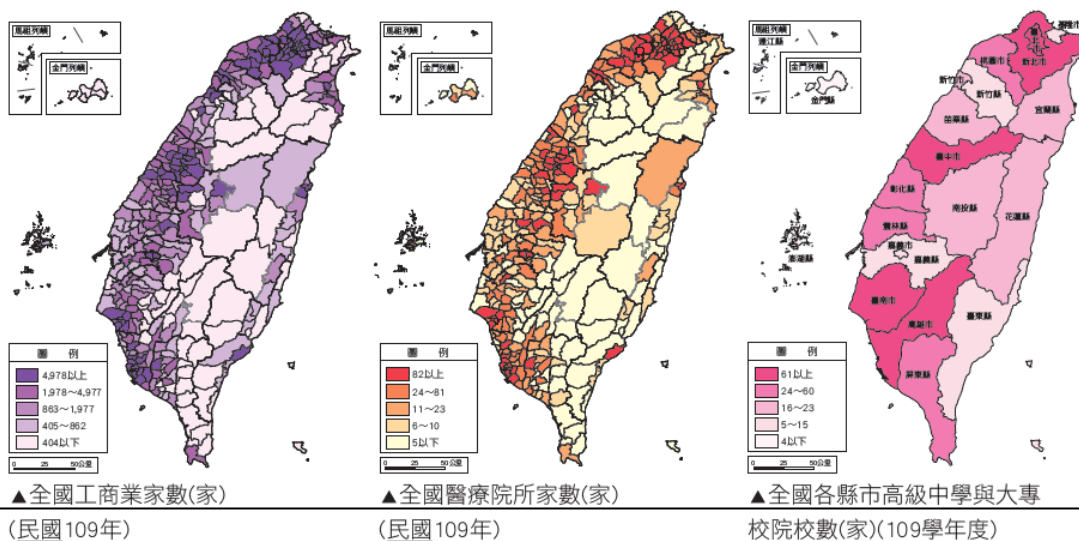
2、你認為移工會壓迫國內就業勞動人口的就業機會嗎？(2 分) 理由是什麼？(3 分)

會 不會

說明你的理由：

3、台灣 2022 年共有 5.6 萬名失聯移工 (行蹤不明的外勞)，雖然移工失聯因素眾多，但至少我們可以怎麼做，來營造一個更友善的社會從而可以減少失聯的非法移工？(4 分)

花蓮東臨浩瀚太平洋，西倚雄偉的中央山脈，雖被稱為後山，但以巍峨的高山、蔚藍的天空、浩瀚的海洋、景色秀麗的縱谷、多樣性的人文風貌、親切善良的人民，成為全國最喜歡旅遊縣市的首選，並深受國際遊客的喜愛。從小生長在花蓮的你，未來有一天成家立業，您是會選擇具續留在花蓮，或者移居到都市地區呢？請你從所附之三張統計地圖資料說明你的選擇。(4 分)



留在花蓮 離開花蓮

依據統計圖表分析說明：

參考解答：

|     |     |     |     |     |     |     |     |     |     |
|-----|-----|-----|-----|-----|-----|-----|-----|-----|-----|
| 1.  | 2.  | 3.  | 4.  | 5.  | 6.  | 7.  | 8.  | 9.  | 10. |
| B   | D   | D   | B   | C   | A   | C   | B   | B   | D   |
| 11. | 12. | 13. | 14. | 15. | 16. | 17. | 18. | 19. | 20. |
| D   | A   | C   | B   | C   | A   | B   | C   | D   | A   |
| 21. | 22. | 23. | 24. | 25. | 26. | 27. |     |     |     |
| A   | B   | D   | D   | C   | A   | C   |     |     |     |