

# 宜昌國中 110 學年度第二學期第二次段考 8 年級社會科試題

【地理科】命題教師：林素葉

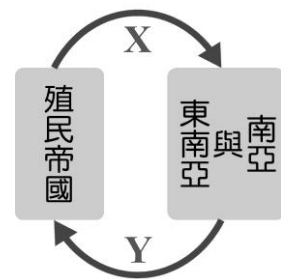
班級：\_\_\_\_\_ 姓名：\_\_\_\_\_ 座號：\_\_\_\_\_

## 單選題 (每題 4 分，共 100 分)

1. 「臺灣的新南向政策，是期望深化與東南亞、南亞等國的合作，其中尤以越南、印尼、菲律賓與印度為重要的新興潛力國。」根據上文，新興潛力國多半是因為這些國家具有什麼優勢？

- (A)勞力資源眾多且薪資相對低廉 (B)優質技術人員及雄厚資金  
(C)基礎建設佳及廣大高消費市場 (D)科技進步且交通發達

2. 隨著大航海時代的開始，西方殖民國為了掠奪資源，積極於東南亞、南亞等海外地區尋找殖民地。右圖為殖民帝國與被殖民國家之間的互動關係圖，請問下列敘述何者正確？



- (A) X-殖民帝國對東南亞及南亞輸出農礦原料  
(B) Y-東南亞及南亞對殖民帝國輸出工業產品  
(C) X-殖民帝國對東南亞及南亞投入大量資金  
(D) Y-東南亞及南亞對殖民帝國投入大量技術

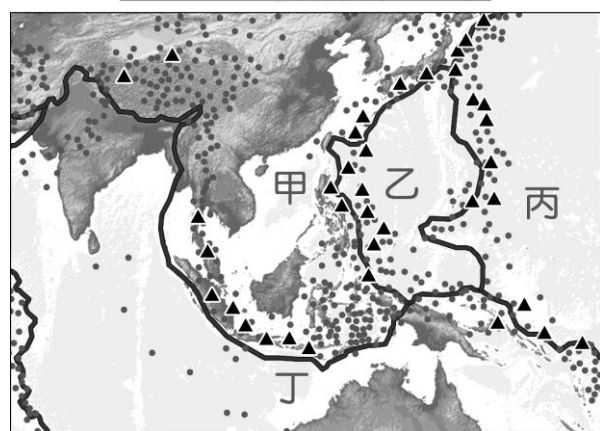
3. 在人權主義日益受到重視的現代社會，有一個國家民眾的日常生活中，仍然依循著幾千年的階級差異傳統，該國的憲法雖已沒有規定，但由於這個傳統講求現世行為會影響來世的身分階層，因此多數人民依舊維繫著這樣的傳統，讓這個國家的社會秩序維持穩定的條件。請問該國人民在其信仰宗教的影響下，具有明顯的階級制度，嚴重影響社會流動。該宗教應為何者？ (A)佛教 (B)伊斯蘭教 (C)基督教 (D)印度教

4. 南亞的印度，雖然同樣歷經殖民的遭遇，近年來卻選擇與東南亞國家不同的途徑來參與全球經濟體系。以承接跨國大型企業的軟體設計、會計記帳、客服等外包業務，從而創造大量的就業機會。請問印度之所以能成為美國企業委外經營的首選，其所具備的優勢條件中「不包含」下列哪一項？

- (A)運用時差接力生產 (B)基礎設施完善  
(C)善用英語溝通 (D)薪資低廉

右圖為板塊示意圖，請根據此圖回答下列問題：

圖例 — 板塊邊界 ▲ 活火山 ● 震央



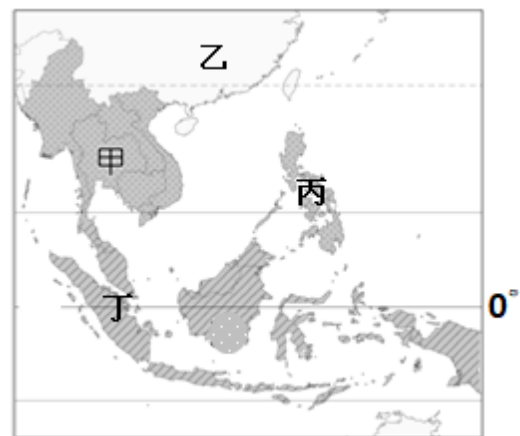
5. 2004 年 12 月 26 日早上，印度尼西亞蘇門答臘島附近海域發生了一場近百年來罕見的強烈地震，及隨之而來的驚天大海嘯，奪去了無數人的生命，引起了舉世矚目。大海嘯摧毀了周邊國家的沿岸建設及當地居民的家園，遇難人數突破 30 萬人，受傷及無家可歸的災民更是數不勝數，其破壞範圍之大，遍及南亞每一個國家，甚至非洲方面都受到影響。南亞大海嘯的主要成因，與哪兩個板塊的擠壓運動有關？

- (A)甲乙 (B)甲丙 (C)甲丁 (D)丙丁

6. 台灣也經常有地震活動，請問下列哪一個東南亞國家也常有火山活動和地震，且與臺灣位處相同的板塊接觸帶？

- (A)印尼 (B)菲律賓 (C)印度 (D)馬來西亞

右圖為東南亞各國簡圖，請回答下列問題：



7. 東南亞自古以來為東、西方各國海上貿易的必爭之地，海域面積廣大，且島嶼眾多，請問東南亞是下列哪兩大洋間重要聯繫通道？

- (A)太平洋、大西洋 (B)大西洋、印度洋  
(C)印度洋、太平洋 (D)太平洋、北冰洋

8. 由緯度判斷，請問下列何者最可能為東南亞地區氣候類型？

- (A)熱帶 (B)溫帶 (C)副寒帶 (D)寒帶

9. 超級強颱「雷伊」重創該國，造成 40 萬人流離失所，死亡人數已來到 375 人，當地救援團體形容，「景象比二戰時還慘」。(2021.12.21 yahoo 新聞) 該國的颱風季主要從 7 月到 10 月，每年平均約有 20 個颱風侵襲，是全球遭受颱風侵襲最頻繁國家，請問該國位於圖中何處？(A) 甲 (B) 乙 (C) 丙 (D) 丁

10. 請問圖 A 氣候圖最可能出現在東南亞簡圖中何處？

- (A) 甲 (B) 乙 (C) 丙 (D) 丁

11. 承上題，該區主要降雨類型為下列何者？

- (A) 地形雨 (B) 對流雨 (C) 鋒面雨 (D) 氣旋雨

12. 「台灣製鞋業過去在全球佔有舉足輕重的位置，在 80 年代，台灣享有「製鞋王國」的美譽，這個稱號也一直是台灣的驕傲。」但這幾年，製鞋技術產業不斷地外移，人才出現斷層，大環境差、又缺乏保障，這項技藝也逐漸凋零。圖 B 是台灣寶成企業投資三個國家製鞋生產線比例變化圖，圖中顯示投資中國的比例逐年下降，其他兩國卻不斷上升，請問主要的原因為何？

- (A) 中國的市場萎縮 (B) 中國的原料耗竭 (C) 印尼與越南的薪資更低 (D) 印尼與越南的交通更便利。

13. 19 世紀美國海軍上將馬漢 (Alfred Thayer Mahan) 即曾預言：「印度洋是七海之鑰，21 世紀世界的命運，將決定於印度洋的水域之上。」馬漢的名言果然經得起考驗。美國為維持其全球超權地位，「印太戰略」成為當前美國對外政策的核心(20220429 美麗島電子報)。請問美國「印太戰略」是為了抗衡中國崛起，積極對外投資的哪一項政策所提出的構想？

- (A) 古絲綢之路 (B) 一帶一路 (C) 中美貿易戰 (D) 西部大開發

印度與巴基斯坦近期遭到極端熱浪襲擊，4 月氣溫創下新高，印度一些地區的氣溫甚至超過 60°C。世界氣象組織發表聲明指出，印度與巴基斯坦的近期氣溫「與我們對氣候變遷的預期一致，熱浪比過去更頻繁、更強烈，而且開始得更早。(https://reurl.cc/zZM2ay 風傳媒 2022.05.03)

14. 印度這波熱浪從 3 月至今已有 25 人死於熱傷害中，若要降溫須等到雨季來臨，請問「最快」要到幾月後才有可能因降雨而溫度下降？

- (A) 6 月 (B) 8 月 (C) 11 月 (D) 3 月

15. 世界氣象組織發表聲明指出印度與巴基斯坦的近期氣溫「與我們對氣候變遷的預期一致」，請問最有可能是下列哪一項氣候變遷影響？

- (A) 冰河期來臨 (B) 火山大爆發 (C) 俄烏戰爭影響 (D) 全球暖化

16. 右圖為印度半島雨量分布圖，請問圖中顯示德干高原西側及半島東北部降雨量豐沛，請問主要原因與下列何者關係密切？

- (A) 位居水氣輸送路線末端 (B) 位於季風迎風坡  
(C) 副熱帶高壓壟罩 (D) 午後對流旺盛

17. 位於印度半島西部的塔爾沙漠為自然條件惡劣的乾燥氣，形成原因除了副熱帶高氣壓的影響外，還與下列哪項因素有關？ (A) 位於季風路徑的末端 (B) 位居背風坡位置 (C) 受到強勁洋流影響 (D) 位居內陸距海遙遠

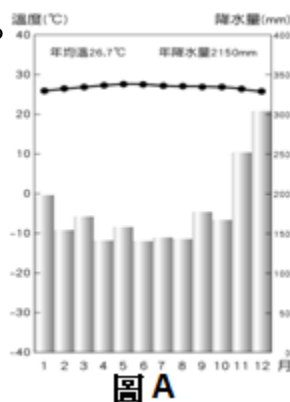


圖 A

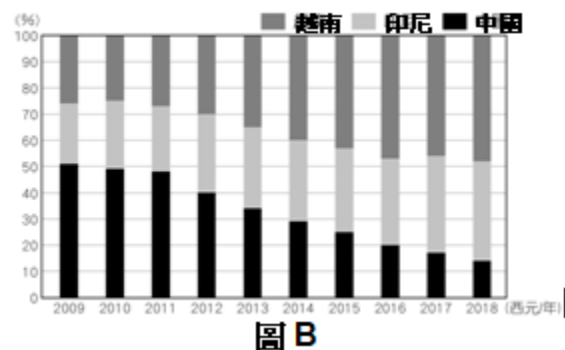
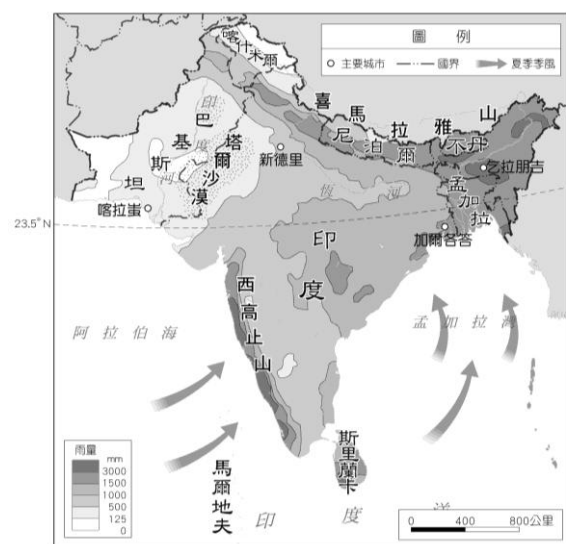


圖 B



有著悠久使用歷史的棕櫚油，是一種來自油棕植物的果實，它源自於西非，果肉與核仁都可榨取、提煉出豐富的油脂，油脂含有豐富的脂肪酸，可廣泛運用於食用油、生質柴油、油彩、化妝品、蠟燭等產品上，可說是在民生和工業上非常普遍的經濟作物。也正由於它經濟價值極高、利潤豐沛，加上全球的廣泛需求和進口量，這使得油棕成了非常受農民歡迎的作物，但卻也因此在為了量產的手段上，有著最令人詬病的現實和殘酷。

棕櫚油工業是種對環境十分不友善的產業，雖然原生種在非洲，但其實全球真正的棕櫚油出產國，集中在印尼 (Indonesia) 和馬來西亞 (Malaysia)，因為此地的氣候適合油棕成長，獨特的濕度和環境也讓棕櫚油產量非常可觀。全球光是印尼和馬來西亞的棕櫚油產量，就占了世界的 86%，這兩國每年可生產 6600 萬噸棕櫚油——意即幾乎你所能在超商看到的棕櫚油商品，全部來自於東南亞。

在東南亞以低勞力成本為主的國家，棕櫚油成了該國經濟體最重要的組成部分之一，棕櫚油的開發，確實對當地本身就非常疲弱的經濟有顯著的改善，它讓國內生產總值 (GDP) 提高、農場和加工廠也讓在地人有更多的工作機會，但隨著業者不斷大肆擴張並侵害原有的雨林地，也對土著和動物有著不可逆的傷害。(遠見雜誌 2019.10.19)

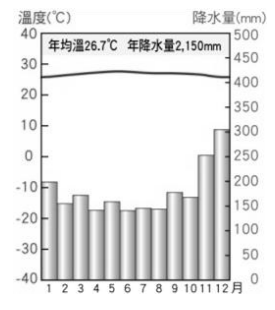
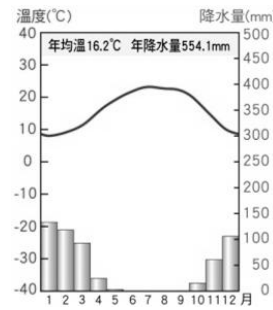
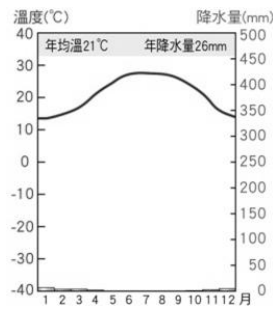
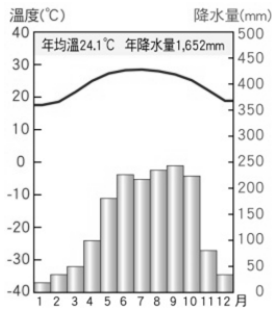
18.油棕樹最適合生長的地區，其氣候類型與下列哪一張氣候圖相符？

(A)

(B)

(C)

(D)



19.油棕原生種在非洲，但其實全球真正的棕櫚油出產國，集中在印尼和馬來西亞，全球光是印尼和馬來西亞的棕櫚油產量，就占了世界的 86%。請問東南亞大量栽種油棕除了氣候條件適合外，還具備下列哪一項優勢？

(A)工業發達 (B)資金充裕 (C)技術優良 (D)廉價勞工

20.印度尼西亞棕櫚油是世界上產量、消費量和交易量最大的食用油供應國，印尼總統佐科威上週五（4月22日）卻宣布禁止棕櫚油出口，以遏止該國國內食用油價格上漲，滿足印尼自己國內需求，消息一出引起西方世界一片譁然。請問印尼此一政策可能導致下列哪一現象產生？

(A)植物油價格上漲 (B)世界各大食品加工廠拒買棕櫚油  
(C)雨林面積增加 (D)棕櫚園工人薪資調漲

21.『油棕在東南亞是受農民歡迎的作物，但卻也因此為了量產的手段上，有著最令人詬病的現實和殘酷。』請問下列哪一項敘述最符合上文內容？

(A)擴張並侵害原有的雨林地導致物種消失  
(B)讓在地人有更多的工作機會  
(C)經濟價值極高利潤豐沛使貧富差距縮小  
(D)成為世界主要食用油品來源

22.在東南亞除了大規模油棕種植外，更有許多以企業化方式，大規模種植橡膠、可可、咖啡等經濟作物的集約式農業活動，請問此種農業經營方式稱為什麼？

(A)溫帶栽培業 (B)溫室栽培業 (C)熱帶栽培業 (D)粗放農業

自 2016 年起，政府推行「新南向政策」(New Southbound Policy)，臺灣與東南亞交流加速，據國家發展委員會資料指出，來自東南亞的外籍勞工在台人數已超過 40 幾萬，加上因婚姻、留學等因素前來臺灣，以及東南亞裔的新二代，目前約有近百萬名東南亞人士共同在臺灣生活；來自東南亞的飲食習慣也開始在各地出現。東南亞介於中國大陸及印度大陸之間，自古也因為季風氣候為東南亞帶來雜揉的文化特色，最初由來自中國及印度的商人帶來不同的文化，隨後由西方殖民者持續帶進各種制度及文化元素，讓東南亞的發展變得更為多元。(國家文化藝術基金會：東南亞文化調查報告 2021 年 3 月)

23.臺灣近年來引進的東南亞外籍勞工愈來愈多，每逢假日時許多移工聚集在清真寺；隨著穆斯林人口增加，台灣開始出現「清真認證餐廳」，提供清真飲食讓穆斯林朋友吃得放心。請問這些穆斯林移工大多來自下列哪一個國家？

(A)越南 (B)泰國 (C)印度 (D)印尼

24.請問東南亞文化多元除了受西方殖民文化影響外，還受到哪兩大文明古國的宗教、文化等影響？

(A)埃及、印度 (B)印度、中國 (C)中國、美國 (D)美國、英國

25.下列哪一個國家受中國文化影響最深，在法政、學術思想、社會制度、宗教及藝術、風俗習慣，以及經濟文化上都與中國有所交流？

(A)越南 (B)菲律賓 (C)印尼 (D)馬來西亞

【歷史科】命題教師：黃若芸

單選題（每題 5 分，共計 100 分）

26. 中日戰爭期間，有鑑於中國資源、人力雖具優勢，但軍事實力卻不如日本，國民政府於是採取何種戰略以謀求勝利？ (A)速戰速決 (B)共產革命 (C)以空間換取時間 (D)以時間換取空間。
27. 美國總統羅斯福曾發表一篇演說，當中提到：「昨天，西元 1941 年 12 月 7 日，美利堅合眾國遭到了日本帝國海空軍預謀的突然襲擊。美國當時與日本處於和平的狀態，而且應日本的請求，與其政府進行對話，希望維持太平洋的和平。……不論要用多長的時間才能戰勝這次預謀的侵略，美國人民興正義之師必將贏得澈底勝利。……」羅斯福發表此演說的背景為何？  
(A)日軍攻入南京，殘殺軍民行為缺乏正義  
(B)日本攻擊珍珠港，破壞太平洋地區和平  
(C)日本終止美國石油進口，引發商貿衝突  
(D)日本成功占領臺灣，阻礙美國勢力擴張
28. 新華社報導：「近日景泰縣文物部門在該縣蘆陽、喜泉等鄉鎮進行第三次文物普查時，發現上千座的『煉鋼爐』群……經過半個多世紀的風吹日晒，有的煉鋼爐爐膛內仍然殘存有明顯的火燒痕跡。通過實地測量，煉鋼爐群遺址占地面積大約有二平方公里，數量大約有一千座，全部用石塊堆砌而成，沿山坡重疊而上，直達山頂。景泰縣文物部門正在對這些『煉鋼爐』逐個進行登記並加以妥善保護，準備申報為國家級文物保護單位。」以上所述最可能是哪一個時期遺留下來的文物？  
(A)大躍進運動時期 (B)國共內戰時期 (C)中日戰爭時期 (D)文化大革命時期。
29. 中華人民共和國有一個時期流行的順口溜如下：「生活集體化，食堂如我家」、「吃飯不花錢，努力搞生產」、「人人進入新樂園，吃喝穿用不要錢；雞鴨魚肉味道鮮，頓頓可吃四個盤；天天可以吃水果，各樣衣服穿不完。」這些順口溜的內容是指下列何者？  
(A)外資到上海建設的大型遊樂園 (B)共產主義社會實施的人民公社  
(C)臺商在中國所投資設立的工廠 (D)中國創辦的新式綜合型大賣場。
30. 中華民國建立之後，經歷了一段動盪期。請將下列的重要事件，依據時間發生先後進行排列？  
(A)西安事變→黃埔建軍→九一八事變→聯俄容共→中日戰爭  
(B)九一八事變→中日戰爭→西安事變→聯俄容共→黃埔建軍  
(C)黃埔建軍→聯俄容共→中日戰爭→西安事變→九一八事變  
(D)聯俄容共→黃埔建軍→九一八事變→西安事變→中日戰爭。
31. 姿瑩在網路上看到某篇論文的目錄頁，如右圖。其中她看到「廢兩改元」的標題，好奇地點選這個標題後開啟了內容頁。請問，她最有可能會在「廢兩改元」的網頁中，看到下列哪段文字？  
(A)為了抵制自清末以來外國貨幣的進入，因此廢除外國人所使用的貨幣  
(B)政府廢止以銀作為貨幣，主要是為了解決鴉片販賣，白銀外流的問題  
(C)政府下令停止使用以「兩」為錢幣單位，統一改以元作為新的貨幣單位  
(D)政府要求全國停止使用重量單位「兩」，以統一多種重量單位混用的問題。
32. 阿諾小時候曾聽過母親講述外公來臺的故事，外公原來住在中國大陸的江西省大禹縣，但中日戰爭結束後為了找工作，因此離開了位在農村的老鄉隨著親戚來到臺灣；但不久後卻因中國政局的轉變，從此再也無法返回江西老家，只好帶著家人定居臺灣。請問，阿諾的外公因「中國政局的轉變」而無法返回老家，最有可能是指哪一件事情？  
(A)國民政府積極清除黨內的共產黨員，導致局勢緊張  
(B)中日之間再次爆發戰爭，中國各地陷入戰火  
(C)共產黨內部官員爭奪權力，各自占據一方勢力，爆發內戰  
(D)國民政府與共產黨對戰，但最終失敗而退出中國大陸。

目次	
∞∞∞∞∞∞	
一、政治發展-----	1
● 訓政時期-----	2
● 訓政時期約法-----	3
二、經濟建設-----	5
● 廢兩改元-----	6
● 發行法幣-----	8
● 收回國家主權-----	10
三、交通建設-----	12
● 修建鐵路-----	13

33. 博泰看到課本中的一張圖片，如右圖。照片中有些人開心地敲打著樂器，手裡拉著寫有「歡迎土改隊協助我們分土地」的布條。請問，這群參與歡迎隊伍的人們，其身份最有可能為下列何者？



- (A)沒有自己田地的佃農
- (B)擁有許多土地的地主
- (C)掌握高階職務的政府官員
- (D)投資興建工廠的資本家。

34. 祥薇在歷史課本中看到「日本欲藉擴張以獲得更多資源，使其軍國主義昂揚...」一段話，但不懂「軍國主義」一詞的祥薇，去問了問同學。請問，誰的說明最能為祥薇解惑？

- (A)承祐：這是一種國家運作的機制，由軍人擔任國家的最高領導人，並由將領來統籌國家的政策
- (B)柔伊：這是一種制度，就是全國人民都應該要投入軍事的編組與訓練
- (C)書靈：這是一種主張，即以提升軍事力量為目標，並不斷地以軍力向外爭取國家利益
- (D)歆懿：這是一種政策，政府規定由軍人來擔任各級官員，以提高國家各方面的實力。

35. 承上，了解什麼是軍國主義後，祥薇好奇課文中的第二句話，「使其軍國主義昂揚...」。請問，祥薇在課本中看到下列的行動或事件，哪一個最能夠展現日本「軍國主義的昂揚」？

- (A)美國在日本的廣島、長崎投擲原子彈，造成毀滅性的破壞
- (B)日軍攻占英、美等國在東南亞與大洋洲的殖民地
- (C)日本在明治天皇時展開變法維新，推動西化改革
- (D)民國 15 年，蔣中正在廣州誓師北伐，陸續打敗各地軍閥。

36. 旅英作家張戎，曾出版自傳式的小說《鴻：三代中國女人的故事》，其中寫下了自己在文化大革命中的經歷：

1966 年 6 月初，我們學校的正常教學完全停止了，每天上學只是政治學習，讀毛澤東著作、報紙上的社論。校園裡安裝了大喇叭，天天喊《人民日報》上的標語，我們每天集會時要一遍又一遍的齊聲朗誦《毛澤東語錄》。許多同學都自豪的戴著印有紅衛兵金字的紅袖套，象徵是毛主席的孩子們，具有不可言喻的光榮。在一次的抄家行動中，我為一位被打的婦女求情，錢同學狠狠的對我說：「毛主席教導我們：『對敵人仁慈就是對人民殘忍！』」我們所受的教育，是不得同情「階級敵人」，不然我們也會變成「階級敵人」。(改寫自原著小說)

(改寫自原著小說)

請依據小說的內容，推測當時許多人會加入文革行列的原因，『最不可能』包括下列何者？

- (A)政府強制規定，全國每一個人都必須遵循國家政策，投入文化革命的行動
- (B)學校教育不斷傳遞文化革命的口號與標語，因此每天吸收了大量的文革思想
- (C)不能提出與文革思想不一樣的意見，否則自己將成為被攻擊的對象
- (D)認為能夠參與文化革命，是一件很光榮的事情。

**題組一**「口號」在各式各樣的活動中，常扮演著關鍵性的角色，甚至成為致勝的重要推手，因為它不僅容易誦讀或記憶，更常常具有激起情緒的作用，使高喊著口號的人們在不知不覺中更加奮起地積極投入活動之中。

37. 民國 20 年代，中國的土地上曾出現「中國人不打中國人」的口號。請問，就當時的局勢與發展而言，口號中的「第一個中國人」與「第二個中國人」分別指什麼？

- (A)中國共產黨；國民政府
- (B)國民政府；軍閥
- (C)國民政府；中國共產黨
- (D)軍閥；清朝遺民。

38. 承上題，請問，下列哪一個口號的提出，與「中國人不打中國人」，有著相似的立場背景？

- (A)外爭主權，內除國賊
- (B)先安內外攘外
- (C)扶清滅洋
- (D)停止內戰，一致抗日。

39. 民國 40 年代晚期，也就是西元 1950 年代末期，中國人曾高喊著「人有多大膽，地有多大產」的口號，認為只要人們有堅定的決心和勇氣投注在農業耕作上，土地便能生產出高量的農作物；因此，當時許多的農民努力地嘗試各種方式，希望提高農作物的產量。請問，這句口號能夠迅速地傳遍中國各地，主要是因為當時的人，

期盼自身的努力可以有助於達成國家的什麼目標？

- (A)與蘇聯並駕齊驅，躋身成為世界強國
- (B)提升國家軍事與經濟力量，稱霸亞洲
- (C)十五年內超越過英國，五十年內追趕上美國
- (D)擁護新興政權，割據一方。

40. 民國 50 年代中期至 60 年代中期，也就是西元 1960 年代至 1970 年代，中國曾出現「革命無罪，造反有理」的口號，在很短的時間內，此口號成為人人口中高喊，並奉為最高的行動指導原則。請問，下列哪一個行動，最符合「革命無罪，造反有理」這句口號的內涵？

- (A)接受現有的思想、文化、風俗與習慣，並致力於反擊批評者
- (B)積極參與革命團體，推翻現有的政府，與志同道合者創立新的國家
- (C)吸收來自西方新的民主與科學觀念，捨棄中國傳統的儒家思想
- (D)批判和破壞過去一切的舊傳統，包括中國與西方的固有思想與知識。

41. 承上題，下列哪一個群體，在當時可能是最熱情高喊，並最認真實踐「革命無罪，造反有理」這個口號的團體？

- (A)紅衛兵 (B)義和團 (C)革命黨 (D)新青年。

**題組二**文字是人類用以表述想法的重要媒介，因此對於某人物、事物、時期、或事件的描述與稱呼，所選用的文字常常隱含著某種立場，與對於其特定的評價。請試著解讀下列各題中，深藏於文字背後，可能隱含的立場與視角。

42. 民國 17 年北伐結束至民國 26 年中日戰爭爆發這段大約十年的時間，有些歷史學家稱之為「黃金十年」，有些學者則稱為「艱苦建國的十年」。請問，將此時期稱為「黃金十年」的學者，他們所關注的焦點是什麼，因此給予這段時期這樣的形容？

- (A)當時政府規劃十項重大工程，大幅度的增加人民的就業機會
- (B)當時中國在許多方面展開現代化的建設，因此國家的整體實力提升
- (C)中國在這段期間高度發展輕工業，賺進許多錢，奠定國家經濟基礎
- (D)當時民間自發性的組成採礦隊，開採到許多的黃金。

43. 承上題，請問，將此時期稱為「艱苦建國的十年」的學者，他們所關注的焦點為何？

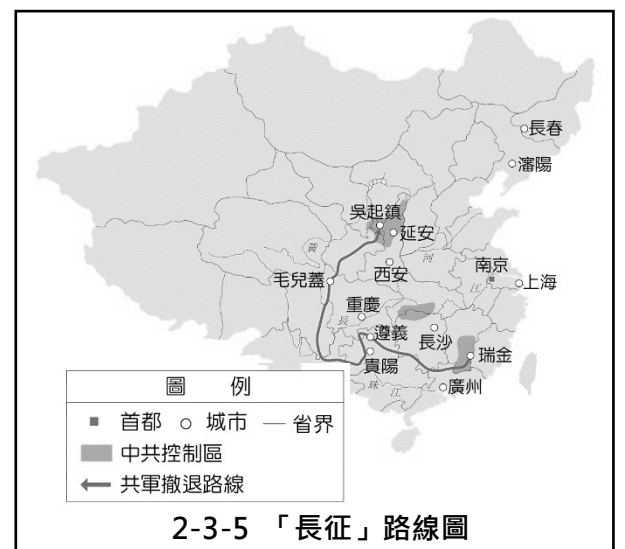
- (A)中國仍然受到西方大國的壓迫，無法自己掌握國家的經濟發展
- (B)當時因國際情勢的轉變，中國在外交上孤立無援
- (C)中國當時正處於內戰不斷，同時又面臨外國勢力入侵的狀態
- (D)中國在內政上正處於新舊制度轉換的過渡期，仍有許多人支持過去的帝王制度。

44. 西安事變是近代中國史上著名的大事，其發生後國內多家報社紛紛以頭版新聞對此作出報導，但每家報社的報導立場也各不同。請問，從下列標題來判斷，哪一個標題對於西安事變的報導立場與其他三者不同？

- (A)「張學良突率部叛變，昨通電主張推翻政府，中央決議褫張本兼各職」
- (B)「張楊對蔣實行兵諫，改組南京政府容納各黨各派，停止一切內戰開放民眾運動」
- (C)「昨天西安發生重大事變，張學良所率部隊突然異動，蔣委員長在西安被劫持」
- (D)「劫持統帥施行脅迫，張學良叛變，西安昨晨起電報不通」。

45. 歷史課本第三課中，為搭配說明國民政府與中國共產黨之間的戰役，出現「『長征』路線圖」，如右圖；但在地圖左下方的圖例中，以「共軍撤退」作為路線說明，此兩者選用了不同的文字，反映出對於此戰役不太一樣的立場。請問，「長征」一詞最有可能是當時，哪一方勢力用來描述此戰役的字詞？

- (A)國民政府 (B)日本 (C)美國 (D)中國共產黨。



【公民科】命題教師：藍惠寧老師

一、單題（1題5分，共60分）

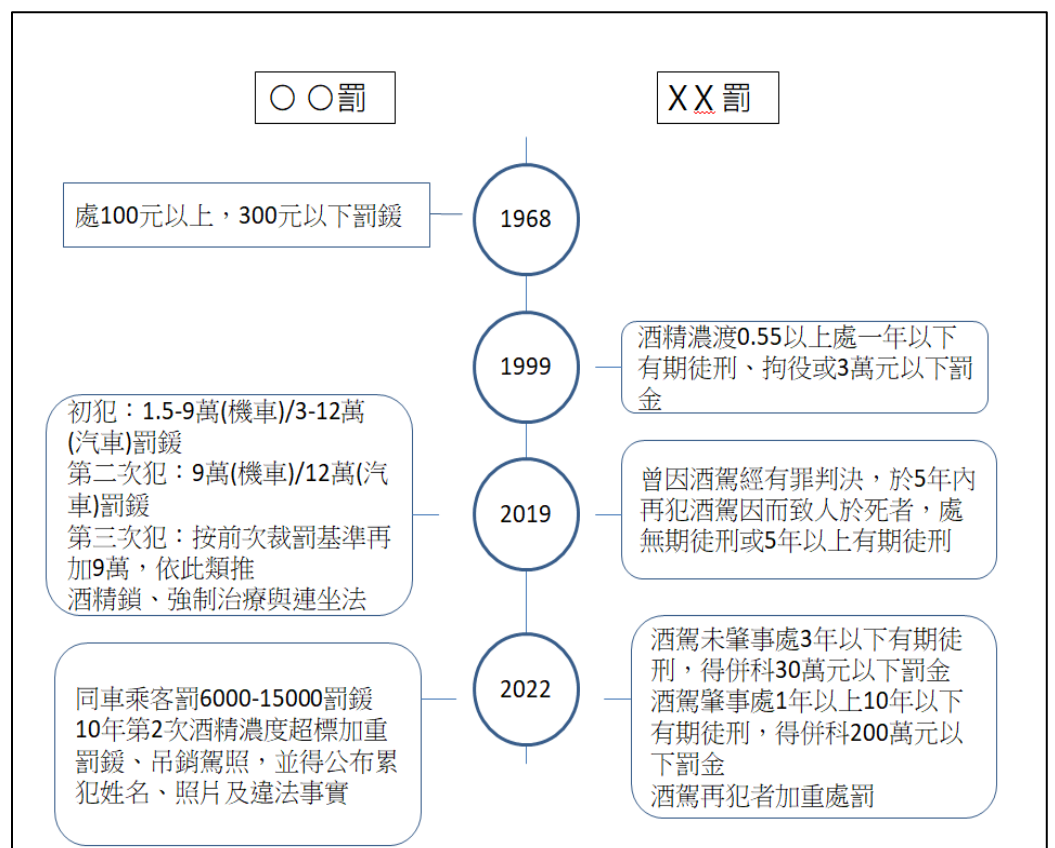
46. 下列關於刑法的敘述，何者正確？ (A)是規範行政機關如何執行業務的法律 (B)每個人都可以依刑法內容處罰犯罪者 (C)是為了處罰並遏止犯罪而制定的法律 (D)是為了展現政府統治權而制定的法律
47. 關於「犯罪行為」、「犯法行為」的敘述，何者正確？ (A)犯罪行為指的是觸犯刑法的行為 (B)所有的犯法行為都是犯罪行為 (C)闖紅燈、無照駕駛是犯罪行為 (D)殺人、傷害是犯罪行為而不是犯法行為
48. 關於刑法的目的，以下敘述何者錯誤？(A)以國家公權力介入民紛糾的處理，避免私刑 (B)使人民的行為有所依循，知道那些事不可以做 (C)對想做壞事的人產生嚇阻作用，預防犯罪 (D)以牙還牙、以眼還眼，就能遏止所有犯罪發生
49. 關於「罪刑法定原則」的敘述，以下何者有誤？(A)刑法的最高原則 (B)行為的懲罰，以行為當時的法律有明文規定者為限 (C)行為的處罰，須以最新的法律為依據 (D)主要是為了避免國家濫用刑罰權
50. 以下何者不是我國的刑罰？ (A)死刑 (B)有期徒刑 (C)拘役 (D)罰鍰
51. 關於褫奪公權的敘述何者正確：  
(A)屬於刑罰中的主刑 (B)屬於刑罰中的從刑 (C)屬於行政罰 (D)可以單獨科處
52. 聯合國兒童權利宣言中的兒童指的是  
(A)未滿6歲者 (B)未滿12歲者 (C)12歲以上未滿18歲者 (D)未滿18歲者
53. 關於兒童權利公約施行法的說明，何者正確？ (A)由聯合國公布 (B)屬於宣示性質，並沒有實質的約束力 (C)我國並非聯合國會員國，故該法對我國國內沒有強制力 (D)規定有關兒童的事務與作為，應以兒童最佳利益為優先考量
54. 以下同學對於「國中生為什麼應該學習法律」的看法，哪一位是從「維護權益」的角度來思考？  
(A)凱翔：可以知道如何藉法律來尋求協助 (B)立欣：可以培養法學素養，學習邏輯推理  
(C)竣傑：可以避免觸法 (D)宗恩：可以了解觸法後須承擔的後果
55. 現在網路上誘騙兒少上傳私密照，再將之散佈於社群等平台，或是以之要脅再獲取利益的案件越來越多。這些行為會受到哪部法律的規範？ (A)兒童權利公約施行法 (B)兒童及少年權益及福利保障法 (C)兒童及少年性剝削防制條例 (D)勞動基準法

56. 請問以下哪些人是兒童及少年福利與權益保障法所要求要對兒少負起照顧保護責任的對象？ 甲.兒童及少年 乙.業者 丙.家長 丁.政府  
(A)甲乙丙 (B)乙丙丁  
(C)甲丙丁 (D)甲乙丙丁
57. 「任何人不得提供兒少菸品，違者將受罰」是哪一部法律的規定？  
(A)勞動基準法 (B)家庭暴力防治法  
(C)兒童及少年福利與權益保障法 (D)刑法

二、題組(1題5分，共15分)

(一)右圖是我國酒駕相關規範的簡要沿革。

58. 右圖上方的OO罰/XX罰指的是什麼？



- (A)行政罰/刑事罰 (B)刑事罰/行政罰  
(C)都是行政罰 (D)都是刑事罰

59. 請問從哪一年開始，酒駕行為開始屬於犯罪行為？  
(A)1968 (B)1999 (C)2019 (D)2022
60. 請問 2022 年新法執行後，酒駕者同車乘客的罰款由誰來裁罰？  
(A)警察 (B)法官 (C)大法官 (D)立法委員

### 三、手寫題(共 25 分)

(一)、從前頁題組中可以發現，我國酒駕法規的演變趨勢是將對酒駕的處罰加重，種類加多。你認為這是有效減少酒駕行為的方法嗎？請回答以下二題：

1.請對酒駕原因進行分析(5 分)。

2.請根據前題答案評估目前的法規是否有效？為什麼。若無效，請提出一個你認為有效的方法(5 分)

答：

### (二)、請閱讀以下文章，並回答問題

挪威監獄如何做到使犯人洗心革面？摘錄改寫自風傳媒 BBC News 中文 2019-08-06 14:55

把犯罪者送進監獄的目的是什麼？報復、懲罰、還是改造？如果希望降低社會的犯罪率，什麼是有效的方法？20 年前，挪威改變了監禁犯人的方式，竟大大減少了該國的犯罪率。

霍達爾是從 80 年代就是挪威哈登監獄的管理員，那時監獄的管理措施非常嚴厲，他們工作的重點就是警衛和保安。自從 90 年代的監獄改革之後，他們不再聚焦在「報復性」的懲罰上，而是更加注重教育和重建。

現在，監獄裡的每個囚犯都有單獨囚房，獨立衛浴。在公用空間，有沙發和茶水、咖啡設施。從入獄的第一天，監獄就開始為受刑人將來出獄後的生活做計劃。他們提供木工、廚師、汽車維修等多種職業訓練的課程。對於有毒癮的受刑人也提供戒除毒癮的服務。許多囚犯從哈登監獄出獄後都成為合格的機械工、木匠或廚師。這也讓再犯率從原先的 60-70%降到 20%。

霍達爾說，「犯罪的人也是人，他們必須為自己的錯誤接受處罰。在挪威，對罪犯的懲罰是讓他失去自由。但是他作為人的其他的權利不應受侵犯。因此挪威的囚犯有選舉投票權、接受教育和醫療等權利。」當一個人有被當成人對待的經驗，他才能知道什麼是人性。霍達爾說，「如果我們在獄中對待囚犯像畜牲一樣，那我們就是把一些畜牲釋放到社會上去了。」

1.你認為挪威實施刑罰的方式和一般其他國家(例如台灣)最大的差別是什麼？你贊成挪威的做法嗎(請從刑法的目的及刑罰的效果來論述)？(10 分)

答：

2. 你認為台灣的民眾會支持台灣仿效挪威的作法嗎？為什麼？(5 分)

答：

# 本頁請繳回

8 年 \_\_\_\_\_ 班 \_\_\_\_\_ 號

姓名： \_\_\_\_\_



八年級社會參考答案

1-25 題每題 4 分，26-60 題每題 5 分

1.	2.	3.	4.	5.	6.	7.	8.	9.	10.
A	C	D	B	C	B	C	A	C	D
11.	12.	13.	14.	15.	16.	17.	18.	19.	20.
B	C	B	A	D	B	A	D	D	A
21.	22.	23.	24.	25.	26.	27.	28.	29.	30.
A	C	D	B	A	C	B	A	B	D
31.	32.	33.	34.	35.	36.	37.	38.	39.	40.
C	D	A	C	B	A	C	D	C	D
41.	42.	43.	44.	45.	46.	47.	48.	49.	50.
A	B	C	B	D	C	A	D	C	D
51.	52.	53.	54.	55.	56.	57.	58.	59.	60.
B	D	D	A	C	B	C	A	B	A