

宜昌國中 110 學年度第二學期 第三次段考七年級 社會科題目卷

命題教師:黃清銓

一、課文習作基礎題(每題 4 分，共 52 分)

1. 下列何者幾乎是我們每一個人最早接觸的社會組織?

- (A)家庭 (B)學校 (C)教會 (D)部落

2. 右圖為玄成在公民課專題報告時所要使用的海報，請根據內容判斷，圖中箭頭「？」處應該填入下列哪一項？

- (A)少子化 (B)社會化 (C)公共事務 (D)公平正義



3. 黃清銓用金錢及暴力收攏了一群小弟，組成了華極幫，專門從事暴力討債及販賣毒品行為。請問：這個華極幫及成員會受到現行哪一個法律的制裁。

- (A)戒嚴令 (B)動員亂時期臨時條款 (C)組織犯罪防制條例 (D)刑法第 100 條內亂罪

4. 桃園國際機場候機室裡，四位民眾心裡分別想著不同的事情。請根據下圖他們思考的內容判斷，何人最有可能具備我國「狹義公民」的身分？



5. 宜珊上課學習到史前時代的臺灣可分為舊石器時代、新石器時代及金屬器時代，其所使用的工具愈趨精緻，甚至發展出陶器和打磨的金屬器。請問：歷史學家如此區分，顯示了文化的何項特性？

- (A)普遍性 (B)差異性 (C)累積性 (D)制約性

6. 彰化的蕭家斗山祠百年來遵循祖先留下的規定，歷來都由男性擔任主祭，女性再優秀都無法擔任。經過一連串的抗爭，西元 2007 年，在多數長輩的支持下，誕生了第一位的女主祭。過去蕭家祖先所訂定的規範，隨著時間而改變，也產生新的意義。根據上文敘述，從文化與性別的角度來分析，下列敘述何者正確？

- (A)此種文化位階的形成與性別刻板印象有關 (B)女性擔任主祭官屬於我國社會的主流文化
(C)男性擔任主祭官的生命經驗完全遭到否定 (D)文中原先祭祀的規定展現了文化的累積性

7. 臺北市某女子在網路上認識一名男子，贈送對方多項禮物並提供金錢資助，不料交往一段時間後，男子移情別戀，女子控告男子「感情詐欺」，但檢察官以欺騙感情不構成詐欺罪行，而做出不起訴處分。請問：若從社會規範的角度，上文內容最適合用來說明下列何者？

- (A)倫理道德的規範與法律互相牴觸 (B)法律與倫理道德的規範模糊不清
(C)法律的價值遠高於其他社會規範 (D)維護社會秩序不能僅靠單一規範

※請閱讀下列短文並回答第 8-9 題:

德國的合法結婚年齡是 18 歲，經過特別允許，可以在 16 歲結婚，因此兒童婚姻在德國是違法的。但在德國收容 120 萬多數是穆斯林的難民時，是否應該承認這些難民兒童新娘的婚姻，成為難題。在德國 巴伐利亞登記有案的難民兒童新娘，就有 160 人未滿 16 歲，這些兒童新娘絕大部分都由神職人員根據伊斯蘭教法主持婚禮完婚。

西元 2016 年 6 月，巴伐利亞的班貝格法院正式承認一位 14 歲的敘利亞難民與其 21 歲表哥的婚姻關係，使得兒童婚姻變成眾所矚目的問題。當他們來到巴伐利亞時，當地的青年福利處因兩人違反德國法律而將其拆散，並把女孩的監護權交給地方法院，因為根據德國的兒童福利法，不滿 16 歲的兒童一定要有監護人。男方因此向班貝格法院提出上訴，法院判定他們的婚姻有效，因為其婚姻符合敘利亞的法律。

8. 根據上文可判斷，兒童新娘的婚姻在敘利亞有效，但在德國可能無效的原因是哪兩種社會規範的衝突？

- (A)敘利亞風俗習慣 vs. 德國風俗習慣 (B)敘利亞法律規範 vs. 德國倫理道德
(C)敘利亞宗教信仰 vs. 德國風俗習慣 (D)敘利亞法律規範 vs. 德國法律規範

9. 上述的文章內容，最能彰顯社會規範的何種意義？

- (A)社會規範能啟迪人的內在良知，不要做違背良心的事
(B)社會規範的形式並非一成不變，會隨時代變遷而改變
(C)某個社會的規範，在另一個社會可能被視為不合時宜
(D)透過法治觀念的加強，才有助於社會和諧穩定的發展

10. 老師上完課後，請同學回家發想幾個「社會變遷」的實例。右圖為富閔完成的作業，請問：富閔所描述的這些實例，依序屬於社會變遷內涵中的何種層次？

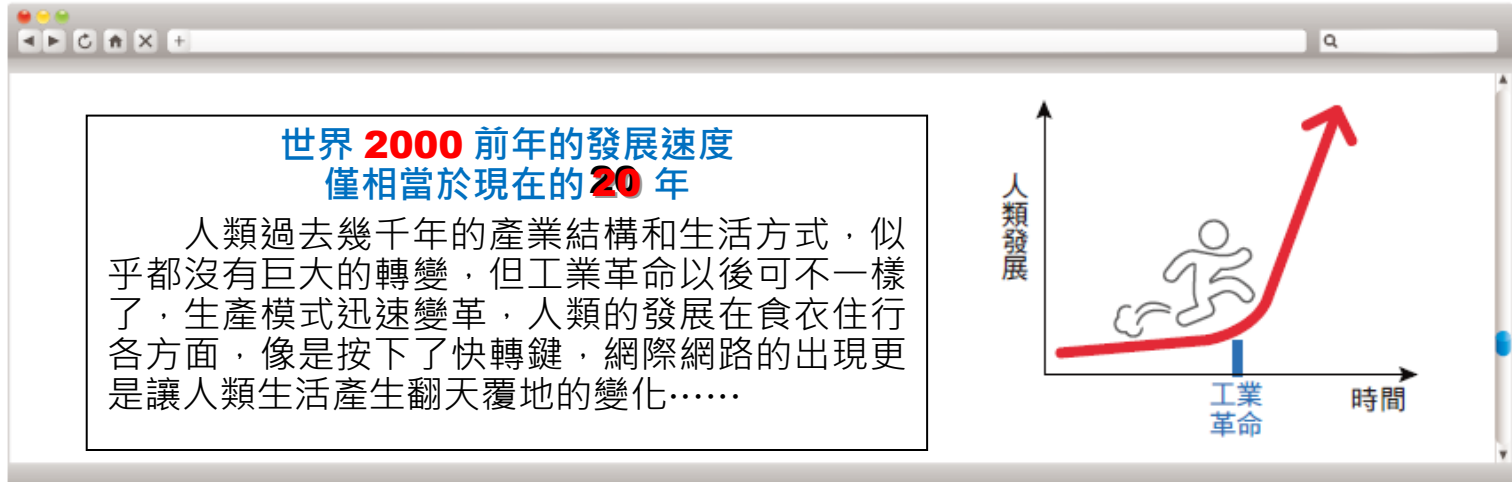
- (A)器物、理念、制度、器物
(B)器物、理念、器物、制度
(C)制度、理念、器物、制度
(D)制度、制度、器物、理念

社會變遷實例

7年1班傅小康

1. 電子郵件的出現，讓資訊交流零時差。
2. 逐漸重視永續發展與節能減碳。
3. 悠遊卡、LINE Pay等支付工具改變付款方式。
4. 從「臺北縣」改制為「新北市」。

11. 家瑜看到下圖的網路文章，請問文章內容所呈現的含義，與下列何者最為接近？



- (A)理念變遷影響制度變 (B)科技發展加速社會變遷 (C)社會變遷促成公平正義 (D)社會變遷促成社會流動

12. 我國所得稅課徵採用「量能負擔原則」，意即所得高的人租稅負擔較重，所得低的人租稅負擔較輕。右圖課稅級距的設計，最有可能是為了達成下列何種目的？

- (A)實踐公平正義 (B)縮短城鄉差距
(C)減緩社會變遷 (D)尊重多元文化

所得淨額(元)	稅率
540,000 以下	5%
540,001 ~ 1,210,000	12%
1,210,001 ~ 2,420,000	20%
2,420,001 ~ 4,530,000	30%
4,530,001 以上	40%

13. 「少子化」現象可能造成臺灣社會未來的勞動力不足，與年輕人扶養負擔加重等問題，為了解決相關的問題，政府提供生育婦女一定金額的『現金給付』以鼓勵生育。請問：上述政府的做法屬於下列何項社會福利的內容？

- (A)社會救助 (B)社會保險 (C)社會給付 (D)社會津貼

二、課後閱讀延伸題(每題 2 分，共 26 分)

(一)請看完下列短文，回答下列第 14 ~16 題：

社會上的某些角落，有許多家庭因為貧窮而三餐難以溫飽。中華安得烈慈善協會希望以中長期關懷為主、食物箱援助為輔的理念，推動「安得烈食物銀行計畫」，將可以長期保存與方便食用的食物組合成客製化的食物箱，提供清寒及弱勢家庭中正處於成長階段的孩童，使其免於飢餓並健康成長，同時協助這些家庭度過困境，找回重新出發的力量。

西元 2020 年，新型冠狀病毒(COVID-19)疫情爆發，許多家庭因為工作受到疫情衝擊，致使生活發生困難，協會積極呼籲各界人士加入「幸福天使」行列，希望透過民眾小額捐款，匯集眾人力量幫助弱勢家庭度過難關。

疫情使協會的服務案量增加，需要對外招募更多打包、整理、搬運食物的志工，卻也因防疫增加相關工作進行的難度，因此協會執行長提出建議，希望政府紓困方案所提及的「充電再出發訓練計畫」，可考慮納入企業到社福團體服務的志工時數。如此一來，不僅可以實現政府「非營利公益團體為社會做很多事，不能因為這次疫情讓他們倒下」的承諾，也讓政府對企業進行紓困的同時，讓社福團體不因疫情衝擊，而導致捐款縮水與活動受限，使其仍能維持運作的能量。

14. 文中中華安得烈慈善協會能夠合法成立，主要來自《憲法》保障的何種權利？

- (A)結社自由 (B)思想自由 (C)集會自由 (D)人身自由

15. 文中協會執行長對政府的「充電再出發訓練計畫」提出建議，卻無法直接**強制要求**企業執行相關內容，呈現出志願結社的何種特徵？
(A)志願性 (B)自主性 (C)民間性 (D)組織性
16. 中華安得烈慈善協會在臺北及中南部陸續設立辦事處，將資源經由各地辦事處分配到不同區域，讓更多家庭獲得幫助，擴大服務的範圍。畫線內容呈現志願結社的何種特徵？
(A)志願性 (B)自主性 (C)民間性 (D)組織性

(二)請看完下列短文，回答下列第 17~19 題

第 31 屆金曲獎年度專輯獎得主阿爆，在得獎感言中提到，希望藉由這張專輯，讓大家可以多理解少數人的生活。不只是原住民族，還有很多的「少數」，從聆聽的過程中，讓我們多一點理解，少一點誤解。

阿爆是排灣族原住民，但在高雄長大，她在受訪時曾提到，父母擔心她被貼上「山地人」的標籤被欺負，因此不和她講族語。在朋友問她能不能用排灣族語數數字時，她才驚覺自己的母語並不流利。阿爆後來和母親以排灣族數字為素材，結合排灣族古謠，共同創作了 1-10 這首歌：「我心裡守著一個願望好久了／我要我們兩個永遠在一起／有三個地瓜就剛好夠吃了／若四個芋頭就太飽了／生五個很有力量的孩子／打到六個獵物有夠英勇／七個阿拜糕分他們吃就不會吵架／八個斗笠給他們就不會受日晒／九件衣服給他們穿得暖暖的／再十個孫子我也太幸福了吧……。」

阿爆的歌曲融合藍調、電音的節奏，並加入華語、閩南語、英語，顛覆以往大眾對原住民族音樂的印象，她認為：「很多原住民年輕人想接近自己的文化，可是找不到方法，一談到文化大家都好沉重，但其實它可以很輕鬆，音樂就是很好的方式。像吃飯一樣，吃了這麼多西餐、韓式、日式，可是要有一個味道是屬於自己原來族群的口味，不用每天吃，但起碼要有一個選項是它。」



17. 根據文章**第一段**的內容，阿爆的得獎感言與下列哪一項說法相似？
(A)以自身文化價值進行判斷 (B)應站在他人的角度思考文化
(C)主流文化不會創新與改變 (D)臺灣社會已不具有次文化
18. 文中**第二段**提到阿爆父母過去對子女處境的擔心因此不和孩子講族語，與下列何者的心境較為類似？
(A)原住民族歌手巴奈抗議原住民族傳統領域被侵占 (B)總統府發言人Kolas Yotaka以原住民族姓名為榮
(C)越南移民二代不願承認自己父母來自東南亞 (D)法國禁止伊斯蘭教婦女配戴傳統的服飾面紗
19. 以下四位學生針對本文做出的相關解釋，若依本課所學概念來判斷，哪一位的說法較為正確？
(A)旻威：頒獎給原住民族，顯示台灣已沒有文化位階的問題
(B)雨柔：台灣原住民族的文化已經從次文化轉變為主流文化
(C)丁希：台灣原住民族雖然是少數，但已經成為了強勢文化
(D)書琪：台灣原住民族文化相較於漢族文化仍是一種次文化

(三)請看完下列短文（良心與法律之間的一厘米），並回答下列第 20~22 題。

二戰後的德國分裂為東德與西德，以柏林圍牆為界，阻止東德居民逃往西德。「開槍射擊令」的出現，允許東德邊防軍對非法越境者開槍射擊，一個法學經典例子就此發生：

西元 1989 年某個晚上，東德青年格弗羅伊(Chris Gueffroy)試圖翻越柏林圍牆想逃到西德，被東德圍牆守衛開槍擊斃。同年年底，柏林圍牆被推倒後，東、西德歸於統一，格弗羅伊成為柏林圍牆鐵幕下的最後一名犧牲者。這個開槍射殺格弗羅伊的東德衛兵在統一後的柏林法庭上受審，被判決坐牢 3 年半，他的律師為他辯護：「這個士兵只是在執行命令，他根本沒有選擇，無論是誰，在這個崗位上都必須這麼做。」

但審判長說了一席值得我們深思的話，這個世界不是只有法律，在法律之外的良心，也應該是我們的行事準則。法律告訴你擊斃翻越圍牆者，但良心呢？良心允許你殺一個無辜的人嗎？雖然，身為士兵，不執行上級的命令有罪，但是子彈打不準目標，卻是無罪的。身為一個有獨立思考能力的人，在此時應該要有「把槍口往上一厘米」的良心。

20. 根據上文，東德圍牆守衛面臨以下哪兩種社會規範的衝突？
(A)法律、風俗習慣 (B)法律、倫理道德 (C)風俗習慣、倫理道德 (D)倫理道德、宗教信仰

21. 文中東德圍牆守衛在柏林法庭裡面臨的處罰，『被判決坐牢 3 年半』，具有以下何種特徵？
 (A)以公權力為後盾，具有強制力 (B)以超自然力量或戒律約束個人行為
 (C)僅能約束個人內在良心，但無涉外在行為 (D)用約定成俗的長久習慣，來約束人的行為
22. 東德圍牆守衛的行為在柏林圍牆被推倒前後，面臨不同境遇及評價，隱含下列何種概念？
 (A)各國文化不同的制約性會對人們產生規範效果 (B)了解各國的文化差異有助於遵守社會規範
 (C)社會規範受自然環境及地理空間的影響 (D)社會規範會隨時間及價值觀的推移而產生變化

(四)請看完下列短文，回答下列第 23 ~ 26 題

友善生育的福利政策與社會氛圍是瑞典生育率高的重要原因。婦女在懷孕期間享有免費定期產檢，並且有專業的助產士協助婦女解決懷孕期間的種種問題，不僅節省醫療資源，也更貼近婦女的需求。孩子出生時，另一位家長享有 10 天的支薪陪產假，之後雙親共享 480 天的育嬰假，其中 390 天的津貼依收入的比例發放。只要成為新生兒的家長，無論有沒有婚姻關係，孩子是領養、親生或非血親(例如：伴侶上一段關係中的孩子)，以及同志伴侶都能享有育嬰假。

此外，為了減輕家長的育兒負擔，除了基本的育兒津貼外，收入不夠的家庭能申請住房補助，家境困難的單親父母或身心障礙的孩子均有相關協助。由於托育制度完善，讓家長在孩子滿 1 歲左右就能返回職場；就學後如遇孩子生病，也可以申請補助並在家照顧孩子。

上述條件使得瑞典婦女勞動參與率高達 70.4%，是社會重要的生產力。然而如此完善的社會福利並不是憑空而來，以西元 2019 年的數字比較，瑞典的平均租稅負擔率高達 46.3%，反觀我國則僅為 19.3%。

23. 上文中粗黑字部分，有關瑞典婦女懷孕期間享有的各項醫療措施，在我國應屬於何項社會福利的範疇？

- (A)社會救助 (B)福利服務 (C)社會保險 (D)就業安全
24. 文中的何項敘述與共構福利社會中的「個人善盡責任」有關？
 (A)瑞典平均所得稅率達 46.3% (B)瑞典婦女懷孕期間有免費產檢
 (C)瑞典雙親享有一年的育嬰假 (D)婦女勞動參與率達 70.4%
25. 文中收入不夠的家庭能夠申請住房補助，在我國應該是屬於何項社會福利？
 (A)社區營造 (B)就業安全 (C)居住正義 (D)社會保險
26. 請依上文的内容判斷，下列敘述何者正確？
 (A)瑞典育嬰政策的成功是建立在婦女的就業率不到 50%
 (B)民間私人財物的捐獻是瑞典完善社會福利的主要關鍵
 (C)低稅率卻享有高福利是瑞典社會福利要建立的核心理念
 (D)瑞典友善生育的福利政策相當重視性別平等概念

三、時事素養題組題 (每題 2 分，共 22 分)

(一)請看完下列新聞，回答下列第 27 ~28 題:

〔自由時報 記者花孟璟／花蓮報導 2016/05/28 〕宜昌國中校園音樂風氣盛，雖無音樂班，管樂團卻是該校最大學生社團，全校近九百名學生就有一百零五人參加管樂社，從一個沒有經費、資源，學生只能用撿來二手樂器練習的默默無名樂團，到今年勇奪全國學生音樂比賽「管樂合奏」的國中團體 B 組特優，結出甜美果實。

校長陳玉明說，花蓮、吉安交界的宜昌國中全校接近九百人，卻有一百零五人加入管樂團，是全校第一大的社團，今年拿到全國特優後不久，收到吉隆坡「循人中學」、新加坡「茂橋中學」二所華人學校邀請，預計暑假七月十六日至二十日將到新加坡與二校樂團合作演出，相互切磋。

豎笛手九年級學生林伯恆說，七年級剛進樂團時，樂器、環境都沒有很好，但因為比賽獲得好成績，就有好心人贊助經費、給他們機會，舊樂器也開始更新。他說，好的樂器可讓音色更動聽，樂團變得更好，這都是團員一起努力的成果。


但出國費用不便宜，花蓮高中七一級同學會號召昔日同窗給孩子加把勁，昨天捐贈十萬元。同學會長李治德說，二十多位同學小額募到十萬元，希望為偏鄉孩子「助跑」，讓夢想起飛。

由於出國一個人的旅費三萬元，出國音樂交流並非參加比賽，並沒有公家補助，校長陳玉明說，為了減輕學生負擔，才有替學生募款負擔一半旅費的想法，但另一半還是要學生自己出錢，預計共有六十八名團員，加上指導老師、校長三人出訪，目前經費還缺五十萬元。

27. 由上面新聞判斷，加入宜昌國中管樂團的學生主要是希望達到下列何種目的？

- (A)追求班級自治 (B)滿足師生互動 (C)實現共同理想 (D)獲得社會讚美

28. 右圖是本校管樂團 109 年音樂會海報，相關說明為：「本縣宜昌國中管樂團，109 年 8 月 9 日(日)下午 2 時 30 分將於本局演藝廳帶來精采音樂會。歡迎喜愛宜昌管樂的朋友活動前十天可至文化圖書館、宜昌國中學務處、政大書城、聲子藝棧、育樂社、文暉文具行、美育音樂教室，免費索票前來欣賞哦。」根據前頁新聞內容裡劃線的部分內容及本題敘述可知，本校管樂團具有志願結社的何種特性？
- (A)自主性 (B)組織性 (C)民間性 (D)非營利性



(二)請看完下列新聞，回答下列第 29~30 題：

(2022/01/29 自由時報)就讀台北市立中山女高一年級的小喬(化名)，因為印尼籍父親在台涉案被撤銷永久居留許可，她和兩個妹妹被通知，限期三月八日前離開台灣。據了解，小喬的父母原是印尼國籍的華人(但不具有中華民國國籍)，而小喬三姐妹都是在雅加達出生，目前在台灣分別就讀高中、國中、國小。

小喬印尼籍的爸爸是先到台灣工作，後來取得永久居留證，小喬五歲時才和妹妹及母親以依親身分，來台取得居留。據了解，小喬的父親因為幫同鄉匯錢回印尼，在台觸犯銀行法被判刑一年以上，雖然得以緩起訴，但他的永久居留證因此被撤銷，移民署上週通知，爸爸必須在二月九日前離開台灣，小喬和兩個妹妹必須在三月八日前離台，移民署更在她們的護照蓋上限期出境的戳記，小喬和妹妹想到就哭，媽媽也相當自責。

小喬表示，她父親觸犯台灣法律確實該受制裁，但她和妹妹早已像是台灣人，像台灣人一樣生活、也想向內政部提出申請審核，以便取得台灣身分，更希望為台灣社會做出貢獻，希望能透過專案或其他方式，讓她們姊妹繼續留在台灣完成學業。小喬日前寫信向內政部長徐國勇陳情「不要把我們趕出台灣」，徐國勇昨天表示，將在法律範圍內盡力協助，且基於人道立場，暫時不會限令印尼籍三姊妹離開台灣，請她們安心過年。

29. 依據你學習過的取得中華民國國籍方式的相關知識，請問上文中哪些人具有中華民國國籍？

- (A)擁有我國永久居留權的小喬爸爸 (B)以依親身分來台取得居留權且無犯罪紀錄的小喬媽媽
(C)已在台就學十年的小喬和小喬的妹妹 (D)我國的內政部長徐國勇

30. 上文中小喬表示，『她和妹妹早已像是台灣人，像台灣人一樣生活、也想向內政部提出申請審核，以便取得台灣身分』。由上面敘述可知，依據我國的國籍法，她可以透過何種方式取得我國國籍？

- (A)以依親的方式取得 (B)以歸化的方式取得 (C)以難民的身分取得 (D)以捐錢的方式取得

(三)閱讀下列短文，並回答下列第 31~33 題：

為什麼在台灣搭電扶梯，都習慣靠右站呢？學者們探討這個問題，大都同意這是從台北市捷運公司宣傳口號開始的。這起源於 1999 年時，營運滿三年的北捷公司，推出『靠右站立，左側通行』的口號。用意是希望把左側通道留給趕時間的人，而不趕時間的人可以靠右站立。從結果來看，這是一個非常成功的宣傳，因為後來社會大眾都自動公認這個口號是「電扶梯禮儀」。後來這個禮儀也慢慢擴散到台灣各個地方，舉凡有電扶梯設施的地方，大家都漸漸養成這個習慣。

可是這樣的習慣，卻開始造成一些困擾和問題。

例如：2005 年的台北市跨年夜活動結束後，散場人潮眾多，所以在電扶梯左側的通道行走的人群，發生了推擠而受傷的意外。所以在 2005 年北捷跨年夜推擠事件後，北捷的宣傳口號變成了『緊握扶手，站穩踏階』。但是最早的『靠右站立，左側通行』的口號已經推行了 15 年之久，大部份的人心中已經久而久之認為電扶梯的左側是可以走動的趕時間通道。所以即使北捷公司已不再宣導『左側通行』的口號，但之後卻發生數起趕時間的民眾，硬要從左側通行而強制要求站穩在電扶梯左側的民眾必須得讓路讓他通過，而發生口角糾紛。其中有的還是家長牽著年幼兒童，分別站立在電扶梯的左右兩側，卻被要從左側趕時間走動通行的民眾強制要求讓路，導致兒童在電扶梯快速運行時，得移動腳步而站立不穩受傷的案件。

面對層出不窮的案件，北捷公司還是只能表示，希望大家能『緊握扶手，站穩踏階』，至於到底要站哪一邊，到底能不能在電扶梯上行走，北捷則表示尊重民眾自我選擇的態度。

31. 根據上述短文判斷，在台灣使用電扶梯時『靠右站立，左側通行』的這種社會規範，是怎樣形成的？

- (A)長期累積的生活經驗，約定成俗 (B)人際相處的行為準則，自動產生
(C)立法機關依程序制定，形成條文 (D)對宇宙奧秘的敬畏心，形成教義

32. 從『強制力』的角度來看，我們可以如何解釋『靠右站立，左側通行』這個口號的社會規範效力？

- (A)既然是台北捷運公司推行的口號，在搭乘台北捷運時這個口號就具有法律的強制地位，一定得遵守。
(B)當台灣大多數人都遵循這個口號來成為行為的準則時，其他人也必須遵守，因為主流文化具有強制力。
(C)這只是一個口號，並未經過我國的立法機關依程序制定，形成法律條文，故沒有強制力，不一定要遵守。
(D)若你在電扶梯上不讓出左側通道給正在趕時間的人，則違反了人與人相處間的倫理道德，故可以強制處罰你。

33. 有學者分析這種『大眾都遵守使用電扶梯時靠右站立』的現象，提出一個解釋：「當大部分的人對一件事存在著相同信念，久而久之，最後這個信念就會實現，而成為社會的主流。」因為少數發出反對聲音的人，幾乎都會在團體輿論的壓力之下而逐漸減音。請問：下列哪一個現象，也能用這個理論來解釋？
- (A)台灣的家長們都以會考成績好壞來評判各校優劣，故大部分國中的教學大多仍以提升會考成績為第一優先。
 (B)因為我國憲法有保障人民的身體自主權，故教育部已經明令廢除舊時的服裝禁令及對學生違規時的處罰規範。
 (C)每當汽油或某種民生物資傳出要調漲價格的前一天晚上，加油站或超商前一定會出現大眾排隊搶購的情況。
 (D)立法院通過並經總統公布性別平等的相關法案之後，各企業雇主徵才廣告，便不再寫出徵才的性別條件。

(四)閱讀下列短文，並回答下列第 34~37 題：

「商業保險」是使用者付費原則，也就是使用保險的次數越多的人，需要支付的費用就越多。

「社會保險」則是全體量能付費原則，即越有能力者分擔越多，而讓每個人都看得起病。

故在台灣的全民健保中，定義誰是『有能力』的人，就是個重要且常有爭議的議題。因為，在 1990 年代規畫全民健保制度時，是以每個月『薪資』的高低為基準的。這造成一個現象：

「每個月領 8 萬元『退休金』的大學教授，只需繳交最低的健保費用每個月不到 800 元，因為他並無『薪資』。」

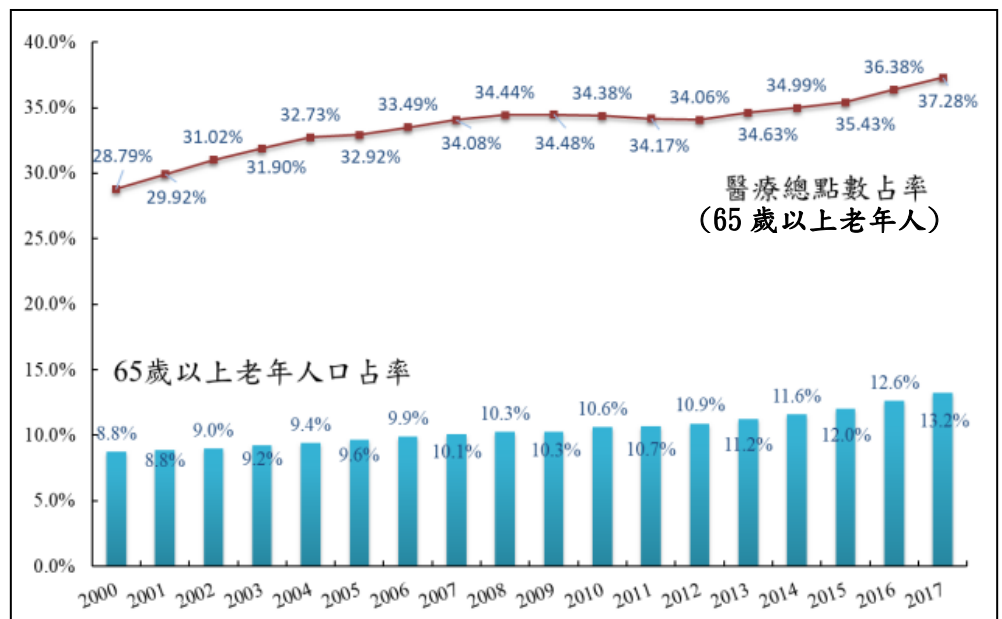
「而每月『薪資』3 萬元的青年上班族，卻要月繳將近 1500 元，而這 3 萬元還可能得養妻兒父母。」

20 多年來，台灣薪資呈現「凍漲」狀態，讓許多退休老年人的月退休金，甚至比年輕人的月薪還要高，造成年輕人反而必須繳交更多的健保費用。這是因為 20 多年來，隨著人口老化，台灣的老年人口已經超過了 15%，且在 65 歲退休後，平均都還有 20 年的餘命。而這些退休人口又是健保中花費醫療支出最高的人，卻因為健保繳費制度的設計，這些退休人口要繳的保費卻是最少的；但是健保繳費的主力，卻只有薪水幾乎不怎麼調漲的青壯年族群。

故 2013 年 1 月 1 日開始的「二代健保」稅制改革，多增加了一項『補充保險費』，即針對下列 6 項所得扣取 2.11% 補充保費。此六類包含有：1. 高額獎金(5000 元以上)、2. 兼差所得、3. 執行業務所得、4. 利息所得、5. 股利所得、6. 租金所得。政府希望這樣的改革，能夠讓每個人的健保費用負擔更加公平，藉以解決健保財務問題。

34. 我國現行的全民健保制度，是『大小病都保』的全面醫療照顧。所有的被保險人(全國人民)都要繳交健保費，以支付醫療開支。請問這種設計最應該屬於哪一種社會福利制度？
 (A)社會保險 (B)社會救助 (C)社會津貼 (D)健康與醫療照顧
35. 根據上文內容判斷，造成全民健保『制度』虧損的主要原因，最有可能是下列何者？
 (A)少子化嚴重，為了幼兒急救醫療，導致幼兒醫療支出大增 (B)人口老化嚴重，而主要的繳費族群卻在減少
 (C)台灣總人口急速成長，青壯年人尤其消耗最多醫療資源 (D)受限於健保法規的限制，無法進行稅制改革
36. 根據短文對『二代健保補充保費』的說明，你覺得這種二代健保制度實現了下列哪一種符合公平正義的現象？
 (A)可以讓全國健保醫療支出總額更減少 (B)可以讓退休金納入健保的繳納範圍
 (C)讓全體的健保費用繳納負擔更加公平 (D)讓青壯年人繳納的健保費用可以減少

37. 右表為〈台灣歷年來 65 歲以上老年人口比例與醫療資源耗用比例比較表〉，根據表中的數據，你認為若想維持我國健保制度穩定運作，下列哪一種對於現狀判斷和解決方案的配對，最為公平正義且能合理有效解決健保財務問題？



- (A)受限於健保法規的限制，無法進行稅制改革，故也無須進行改革。
 (B)老年人口和老年醫療支出的比例均逐年減少，故無須改革健保財政制度。
 (C)老年醫療費用的增加較人口老化的速度更快，故須再改革健保繳費制度
 (D)醫療技術發達造成人口老化快速，應減少老人緊急救護以救財政。

(社會科試題結束)