

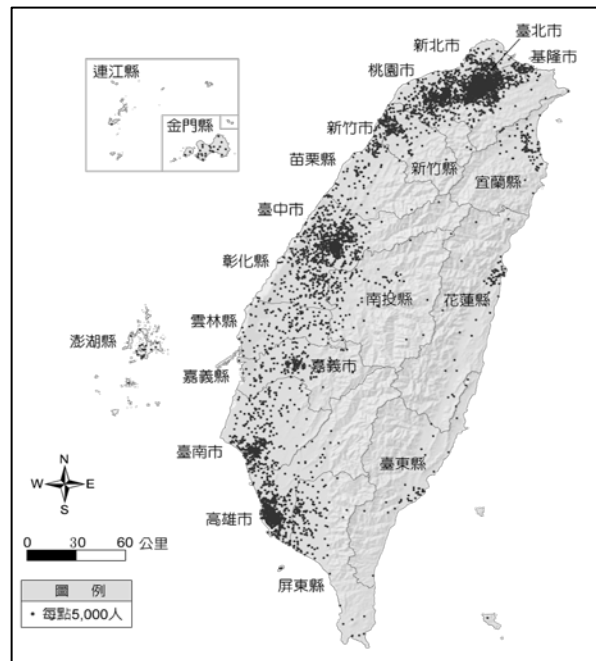
# 宜昌國中 111 學年度第二學期 第三次段考七年級 社會科題目卷

命題教師:黃清銓

## 一、單選題 (每題2分)

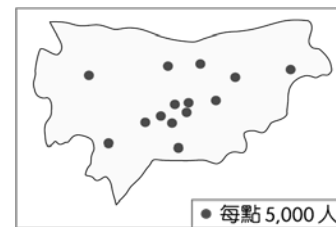
1. 影響一地人口成長的因素包含「自然增加」和「社會增加」。其中自然增加主要受到下列哪兩個因素的影響?  
 (A)出生、死亡 (B)出生、移入 (C)死亡、移出 (D)移入、移出

2. 右圖是民國109年台灣的人口分布圖，圖中每一點代表5000人，依據右圖中的資訊，請問下列哪個學生的解說是正確?  
 (A)俊偉:台灣的總人口數逐年增加 (B)欣諺:台灣各區域的經濟發展平衡  
 (C)育睿:都會區的社會增加率很高 (D)欣仍:台灣的人口分布不均



3. 承上題，由右圖可看出台東縣為人口密度最低的行政區，下列哪個學生的說明最有可能是台東縣人口密度最低的原因?  
 (A)語童:工業污染太嚴重 (B)知雨:開發歷史較晚、交通不便  
 (C)震詒:戰爭導致人口移出 (D)俊彥:高科技產業發達，工作壓力大

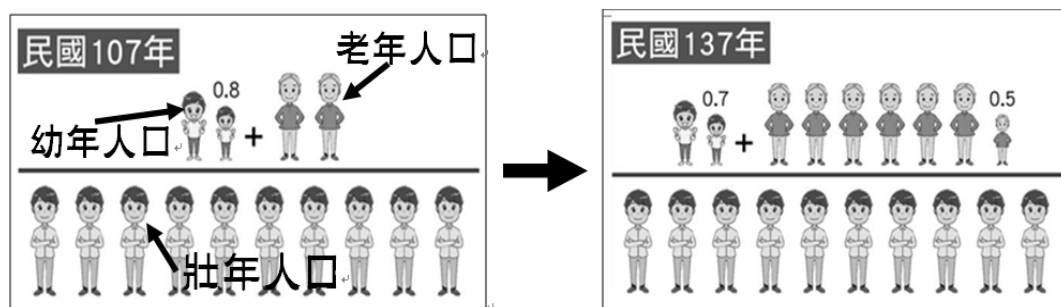
4. 宜蘭縣羅東鎮的人口數與雲林縣虎尾鎮相當，但面積僅為虎尾鎮的六分之一。附圖為虎尾鎮的人口分布圖，若以相同的地圖比例尺與圖例繪製羅東鎮的人口分布圖，則羅東鎮的人口分布圖和右方的虎尾鎮的人口分布圖相比最大的差異為下列何者?  
 (A)點的數量較少 (B)點的數量較多 (C)點的分布較密集 (D)點的分布較稀疏




5. 通常一地主要的工作人口(勞動人口)為下列何者?  
 (A)1-12歲的幼年人口 (B)18-65歲的壯年人口 (C)15-64歲的壯年人口 (D)70歲以上的老年人口。

6. 宜昌國中的紫化在今年的國中會考中大放異彩，考取5A++而且作文6級分的好成績。全家人為了協助紫化尋求更好的就學機會，決定將在今年8月底舉家搬遷到台北，以利就讀北一女中。請問:對紫化一家人來說，他們決定搬到台北的這個舉動較符合下列哪組人口遷移現象和原因?  
 (A)國內遷移、拉力 (B)國內遷移、推力 (C)國際遷移、拉力 (D)國際遷移、推力

7. 右方兩圖為民國107和137年台灣的扶養比演變化示意圖，由兩圖的內容及年代的演變，兩圖相較之下，下列何者描述是正確的?  
 (A)民國107年的撫養比比較高  
 (B)民國137年的撫養比比較高  
 (C)壯年人口的負擔越來越輕  
 (D)高齡化的現象逐漸得到改善



8. 育琪在台北市的街上看到如右方兩張照片這樣的景象，可知這是哪一種宗教的建築和衣著文化?  
 (A)基督教 (B)天主教 (C)伊斯蘭教 (D)印度教

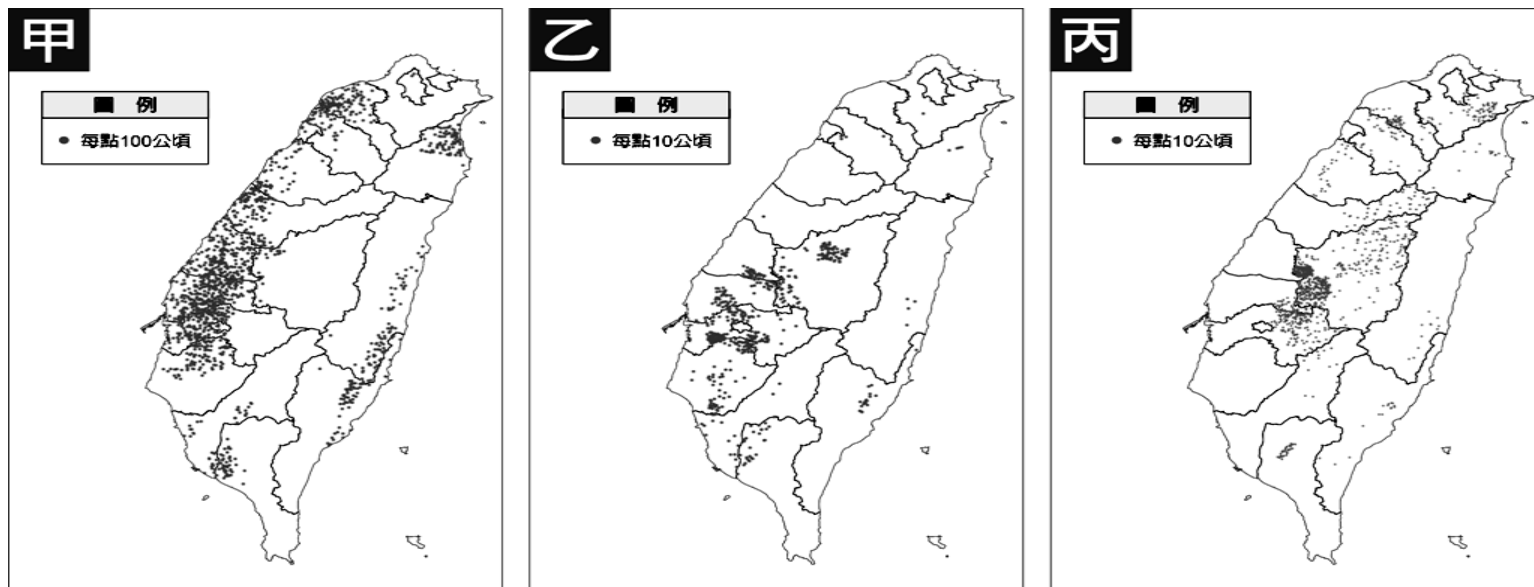


9. 目前因婚姻關係來臺灣的新移民已超過50萬人，政府透過許多方式協助他們適應臺灣社會，例如建置數位資訊平臺，以多國語文的網頁介面，提供數位學習及文化交流的空間。上述多國語文最可能涵括下列何者?  
 (A)新港文字、阿美文字 (B)越南文、印尼文 (C)阿拉伯文、土耳其文 (D)西班牙文、葡萄牙文

10. 潔愉在花蓮市戶政事務所拍下了今年5月的人口動態統計表(如右圖)，表中顯示男性人口為47654人，女性人口為51737人。請問：今年5月花蓮市的性別比最有可能為下列何者?  
 (A)92 (B)100 (C)102 (D)112

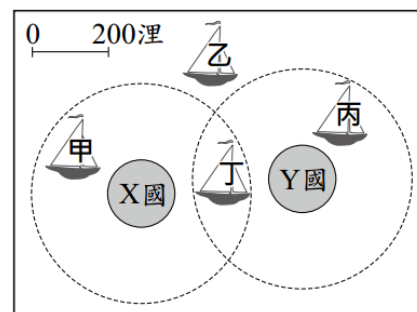
花蓮市戶政事務所 Hualien City Household Registration Office	
112年 5月	
人口動態統計表 Development Population Statistic Table	
里數 Village	44里 1070里
戶數 Number of Households	41772戶
男性 Population of Male	47654人
女性 Population of Female	51737人
出生 Birth	39人 86人
結婚 Marriage	67對 25對
人口總數 Population	99391人

11. 為了適應台灣的地理環境，目前台灣的農業投入大量的勞力與資金，以提高單位面積產量，此種耕種方式稱為？  
 (A)集約耕作 (B)粗放耕作 (C)山田焚墾 (D)機械化耕作
12. 農民種植牧草或飼料作物，來飼養乳牛、羊，以供應居民鮮乳或乳製品的畜牧方式稱為？  
 (A)酪農業 (B)休閒農業 (C)集約農業 (D)有機農業
13. 臺灣畜牧業是以『欄牧』為主要的飼養方式，此一特色和哪項地理條件最為相關？  
 (A)四面環海 (B)地狹人稠 (C)糧食缺乏 (D)年降水量變化大
14. 下圖為目前臺灣某三種作物的分布圖，何者最可能是茶園分布圖？ (A)甲 (B)乙 (C)丙



15. 甘蔗喜歡生長於潮溼、炎熱的平地環境，因此大多種植在熱帶地區。臺灣位於溫帶與熱帶氣候的過渡帶上，氣候溫暖溼潤，適合甘蔗生長。從過去臺灣的歷史上來看，更可以看見蔗糖在貿易上的重要地位。請問：從上題的三張臺灣作物分布圖來看，何者最可能是甘蔗的分布圖？ (A)甲 (B)乙 (C)丙
16. 一般而言，產業可分為三級。花蓮的石材和水泥製造業與下列何者屬於同一級產業？  
 (A)國中教師 (B)腳踏車製造工廠 (C)養殖漁業 (D)家樂福量販店
17. 傳統農業以自給自足為主，現代農業則以供應市場需求為導向，此現象稱為農產品的何種現象？  
 (A)商品化 (B)都市化 (C)多元化 (D)精緻化
18. 稻米是臺灣主要作物，但稻米目前耕種面積已迅速縮小，原因最『不』可能為何？  
 (A)轉作花卉和蔬果 (B)乾雨季太過分明 (C)國內生產成本太高 (D)國人飲食習慣改變

19. 我國籍遠洋漁船上，船長與漁工的對話如下：男漁工融期：「船長，我們可以下網捕魚了嗎？」女船長好帆：「沒問題，我們的船已經開到可自由捕魚的公海上了。」根據上述內容判斷，女船長好帆的船隻最可能位於右圖中哪一個位置？【105 會考】  
 (A)甲 (B)乙 (C)丙 (D)丁。



20. 如果依照行政院主計總處對於「都市地區」的定義為，一個具有2萬人以上之聚落，其人口密度達每平方公里300人以上者。若以上述的定義為標準，下表(111年6月資料)中花蓮縣的哪一個行政區『不』具備成為都市的條件？

鄉鎮市別	(A)花蓮市	(B)吉安鄉	(C)新城鄉	(D)玉里鎮
面積(平方公里)	30	65	30	250
總人口數(人)	99,000	80,000	20,200	22,500

21. 一般來說，水運包含河運和海運。但是台灣的港口幾乎全部都是海港，也幾乎沒有河運，故台灣的水運以海運為主。請問：造成台灣河川航運價值低落，幾乎沒有河運的主要原因為何？  
 (A)地震頻繁，導致河川常常改道 (B)颱風眾多，河運風險比海運大  
 (C)河短坡陡流急，河川季節流量變化大 (D)全年多雨，河水終年暴漲，無法靠近

22. 大陸棚魚類資源及油氣資源蘊藏豐富，其深度為海水面以下多少公尺的範圍？ (A)100 (B)150 (C)200 (D)250。

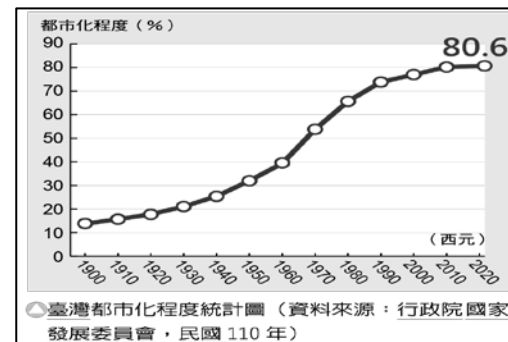
23. 建立於民國76年的台灣積體電路製造股份有限公司（俗稱台積電），是全球最大的專業積體電路製造（晶圓代工）企業，總部位於新竹科學園區。請問：當初台積電選擇在新竹科學園區設廠的原因可能有哪些？

- (甲) 鄰近港口，便於進口原料 (乙) 鄰近清華、交通等大學，吸引高科技人才  
(丙) 風勢強勁，利於風力發電，電費低廉 (丁) 政府提供許多優惠政策吸引廠商進駐

(A)甲乙 (B)乙丁 (C)丙丁 (D)甲丙

24. 右圖為民國110年台灣都市化程度統計圖，由圖中的資料可以推得下列哪項結論？

- (A)全國的總人數不斷增加 (B)都市居民有80.6%的人口從事服務業  
(C)都市的土地面積不斷擴大 (D)聚集居住在都市的人口不斷增加

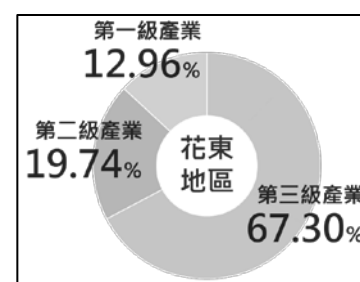


25. 中國鋼鐵股份有限公司在民國60年由政府出資成立，為十大建設的重要項目之一，總公司與主要工廠位於高雄市臨海工業區，這是因為高雄具有哪項工業區位優勢？

- (A)動力 (B)原料 (C)交通 (D)市場

26. 右圖為花東地區三級產業就業人口比例圖，由於開發慢及交通等因素，花東的工業比例較其他區域落後，然而第三級產業人口比例卻高達6成以上。請問：其原因最可能為下列何者？

- (A)缺乏農業物資，進口大量農產品 (B)觀光資源豐富，觀光旅遊業發達  
(C)鄰近太平洋，國際商業貿易興盛 (D)國際貿易興盛，故金融銀行業眾多



27. 「離島生態觀光區」提供國民特殊生態與文化體驗為主，強調環境保育和文化保存。右方為臺灣某處島嶼上的柱狀玄武岩地形，為重要保育資源，此島嶼為下列何者？

- (A)金門列嶼 (B)馬祖列嶼 (C)澎湖群島 (D)蘭嶼



## 二、題組題 (每題 2 分)

(一)下表為民國110年臺灣六個直轄市(六都)的人口數據統計資料，請回答下列問題：

	出生率 (‰)	死亡率 (‰)	社會增加率 (‰)	0~14歲人口 (%)	15~64歲人口 (%)	65歲以上人口 (%)	人口總數 (萬人)
新北市	6.0	6.7	-5.0	11.8	72.0	16.2	400.8
臺北市	6.5	7.3	-29.7	12.9	67.1	20.0	252.4
桃園市	8.9	6.2	-1.1	14.3	72.1	13.6	227.2
臺中市	6.5	6.6	-2.5	13.7	71.9	14.4	281.3
臺南市	5.2	8.5	-3.5	11.7	71.0	17.3	186.2
高雄市	6.6	8.3	-5.9	11.5	71.0	17.5	274.5

28. (中時新聞網2023年6月14日記者蔡依珍) 全台人口連3年「生不如死」，但□□□升格後仍蓬勃發展，是六都中唯一自然增加率正成長的直轄市。在全台「生不如死」的趨勢下，□□□在武漢肺炎疫情這3年仍維持出生人數大於死亡人數，2020年自然增加數有8264人、2021年有6052人，去年雖然銳減仍有2414人。今年除2月外，每月也都維持出生大於死亡，自然增加人數從7至213人不等。根據上表及上述新聞的描述，□□□應該是哪一個都市？

- (A)台北市 (B)桃園市 (C)台中市 (D)高雄市

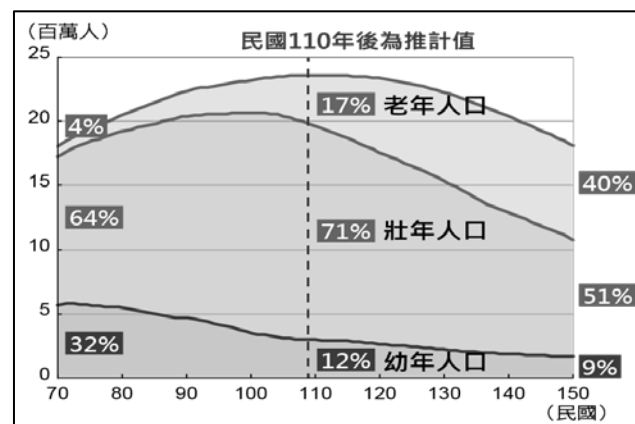
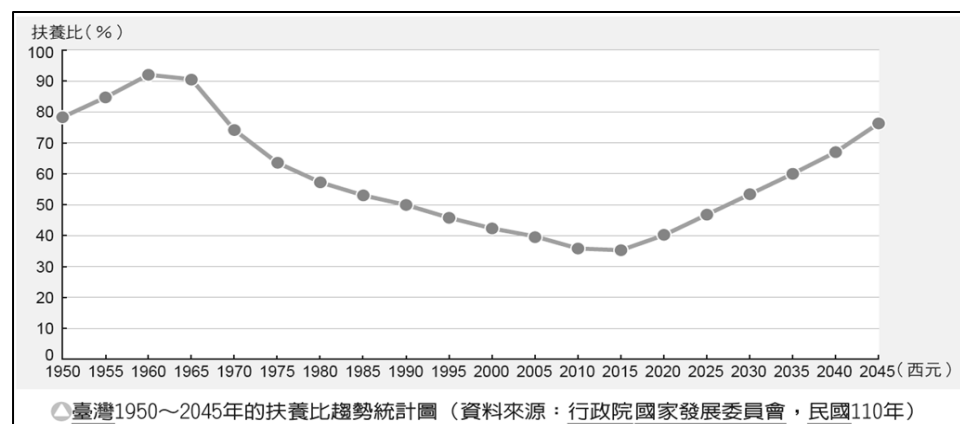
29. 根據上表資料，下列哪一個都市呈現人口正成長的現象？ (A)台北市 (B)桃園市 (C)台中市 (D)高雄市

30. 臺北市的社會增加率為 -29.7%，顯示移出人口較移入人口多。請問：何者『不』是造成臺北市社會增加率為負值的原因？

- (A)房價過高 (B)人口擁擠 (C)物價較高 (D)工作機會多

31. 仔細觀察上表，六都中哪一個城市的扶養比會最高？ (A)台北市 (B)桃園市 (C)台中市 (D)高雄市

(二)扶養比是描述從事勞動生產和不會從事勞動生產的人口之比例。這個比例可以計算勞動人口的壓力，扶養比愈大，表示受扶養的人口比例愈高，壯年人口的經濟負擔愈沉重。下圖是臺灣的扶養比趨勢統計圖和人口結構趨勢推估圖，請回答下列問題：



32. 2015年後的扶養比在之前經歷50多年的下降後，又從此年開始呈上升趨勢，此現象是因為什麼年段的人口快速增加導致？  
 (A)0-14歲的幼年人口 (B)15-69歲的壯年人口 (C)65歲以上的老年人口 (D)70歲以上的老年人口

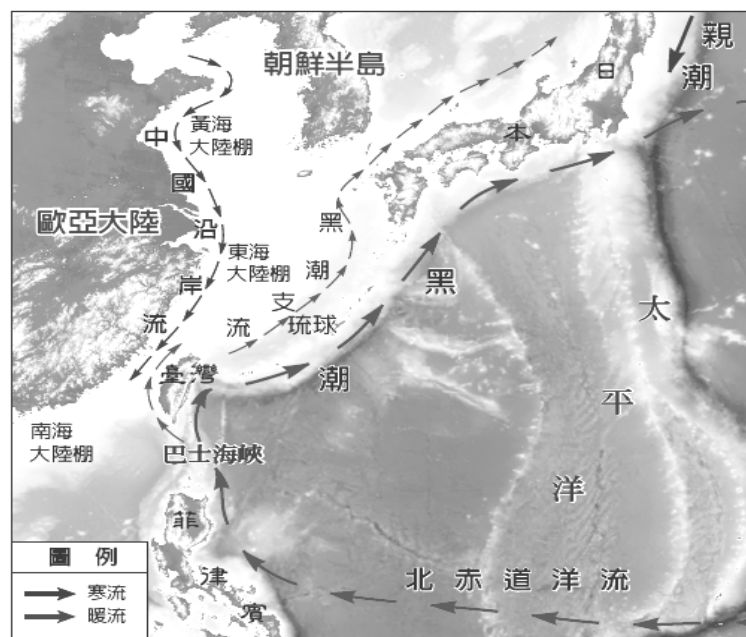
33. 人口紅利是當一地某一個時期內出生率下降，且老年人口未達高比例，形成勞動力資源相對豐富、扶養負擔相對較輕，有利於國家經濟發展的黃金時期。通常扶養比小於50%，即為人口紅利時期，請問：哪個年段為臺灣的人口紅利時期？  
 (A)1950~1970年 (B)1970~1990年 (C)1990~2025年 (D)2025~2045年

34. 從上方兩圖來看，臺灣社會未來可能面臨下列哪個問題？  
 (A)失業率大幅提升 (B)勞動人口不足  
 (C)南北區域發展不均 (D)幼年人口太多，撫養負擔重

(三)右圖為臺灣附近海域洋流圖，這些洋流為台灣帶來許多魚種，如烏魚、黑鮪魚等。其中黑鮪魚則常在春夏之際游經臺灣東部海域，再漸漸向北游到日本。請回答下列問題：

35. 依據圖中所示，下列哪一洋流的性質為『寒』流？  
 (A)黑潮 (B)黑潮支流 (C)北赤道洋流 (D)親潮

36. 請問:台灣東部海域的黑鮪魚主要是隨著哪個洋流游動到日本？  
 (A)親潮 (B)中國沿岸流 (C)黑潮 (D)北赤道洋流



臺灣附近海域洋流圖

(四)近年來，臺灣工業漸漸改以設計與技術研發為重心，逐漸朝向自創品牌之路。下方附表為經濟部工業局主辦的「2022年台灣最佳國際品牌價值」前五大榜單，請根據此表回答下列問題：

排名	企業名稱	生產項目
1	華碩電腦	生產機板、電腦零件、手機等資訊產品
2	趨勢科技	伺服器 and 防火牆的安全機制
3	旺旺	以食品加工和產銷為主，主產品有米菓、麵食
4	聯發科技	無線通訊、高畫質電視設計系統晶片
5	研華科技	工業電腦、工業自動化和工業網際網路設備

37. 請問:上述「2022年臺灣前五大最佳國際品牌」大多屬於哪項產業？  
 (A)輕工業 (B)重工業 (C)服務業 (D)高科技產業。

38. 承上題，相較於其他產業，哪一項是這類產業最明顯的特徵？  
 (A)消耗大量農業原料 (B)產品具有易腐敗性 (C)技術和資金密集 (D)勞力密集

39. 下列為各時期臺灣工業發展的特色，請依照時間先後，按照順序排列：  
 (甲)發展重化工業為主，如臺灣國際造船股份有限公司(中船)  
 (乙)產業升級，發展高科技產業  
 (丙)成立加工出口區，發展勞力密集的產業  
 (丁)發展輕工業和農產品加工業  
 (A)甲乙丙丁 (B)甲丙丁乙 (C)乙甲丙丁 (D)丁丙甲乙

(五) 右圖為民國 111 年台灣的進出口貿易總額圖，請問：

40. 該年臺灣整體國際貿易收支情況為下列何者？

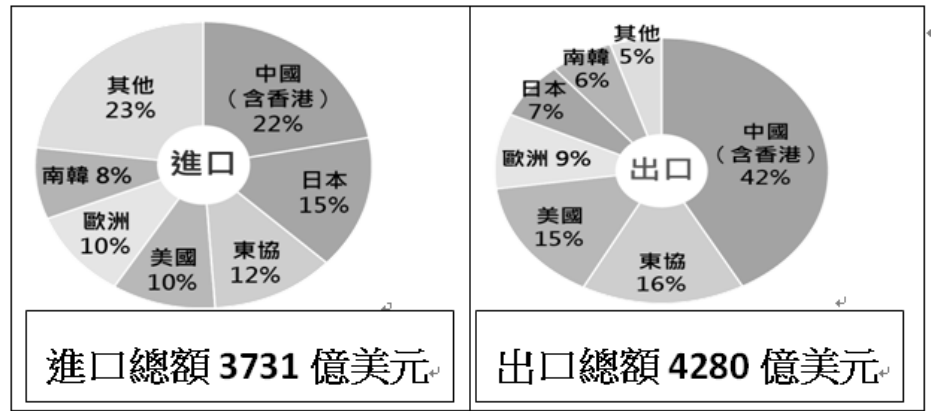
- (A)入超 (B)出超 (C)平衡 (D)無法判斷

41. 該年臺灣的國際貿易對哪一地區或國家呈現「入超」？

- (A)中國 (B)東協 (C)美國 (D)日本

42. 依據圖中資料判斷，下列對於臺灣貿易情況的說明何者是正確的？

- (A)中國是台灣最重要的國際貿易夥伴  
 (B)台灣對東協的國際貿易依賴度最大  
 (C)台灣的國際貿易進出口總額超越中國  
 (D)台灣的國際貿易以進口高科技產品為主



(六)右方是四個聚落的三級產業就業人口比例圖，請觀察統計圖，並回答下列問題：

43. 哪兩個聚落最可能是鄉村？

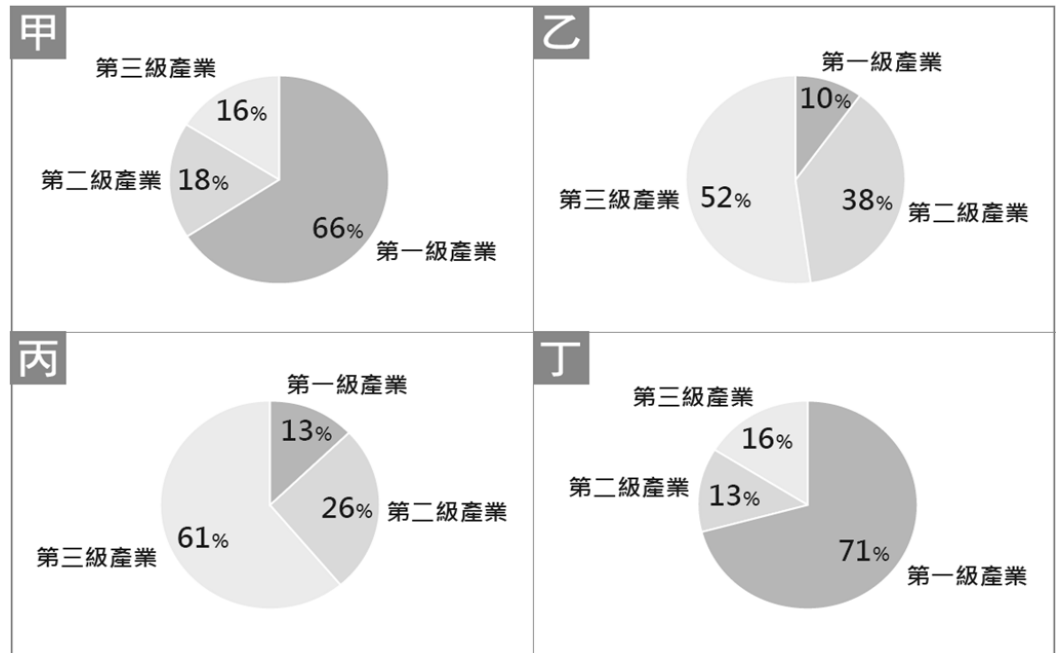
- (A)甲乙 (B)甲丁 (C)乙丙 (D)丙丁

44. 哪兩個聚落的人口大部分以從事服務業為主？

- (A)乙丙 (B)丙丁 (C)甲乙 (D)甲丁

45. 哪兩個聚落的人口外移情形可能比較嚴重？

- (A)甲乙 (B)甲丁 (C)乙丙 (D)丙丁



(七)右圖為臺灣區域畫分圖，請完成下列各題：

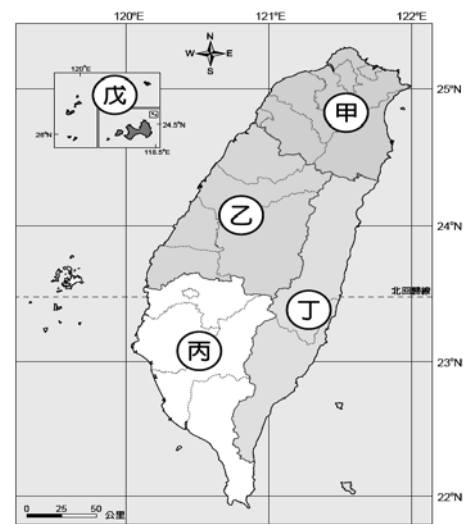
46. 哪個地區因交通便捷，成為臺灣蔬果、花卉專業生產區？

- (A)甲 (B)乙 (C)丙 (D)丁

47. 臺灣區域發展差異大，與哪些原因有關？

- (甲) 歷史發展 (乙) 地形地勢  
 (丙) 降水分布 (丁) 產業結構

- (A)甲乙丙 (B)乙丙丁 (C)甲乙丁 (D)甲丙丁



▲臺灣區域畫分圖

(八)右圖是臺灣本島國家公園分布圖，請回答下列各題：

48. 臺灣本島上哪座國家公園，是以大屯火山群的獨特火山地質和地形景觀著稱？

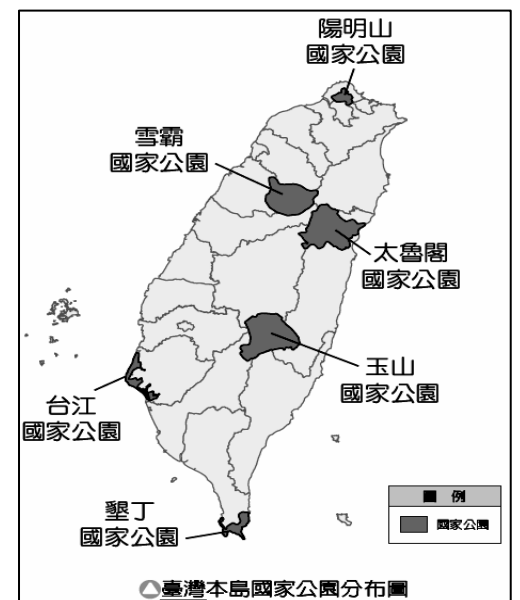
- (A)陽明山國家公園 (B)玉山國家公園 (C)雪霸國家公園 (D)太魯閣國家公園

49. 臺灣本島上有哪座國家公園，有豐富的珊瑚礁地形？

- (A)陽明山國家公園 (B)太魯閣國家公園 (C)台江國家公園 (D)墾丁國家公園

50. 台灣黑熊通常出沒於台灣中央的山脈海拔約1000-3500公尺的山區，請問：臺灣本島哪座國家公園發現臺灣黑熊活動蹤跡的可能性和頻率會最高？

- (A)陽明山國家公園 (B)玉山國家公園 (C)台江國家公園 (D)墾丁國家公園

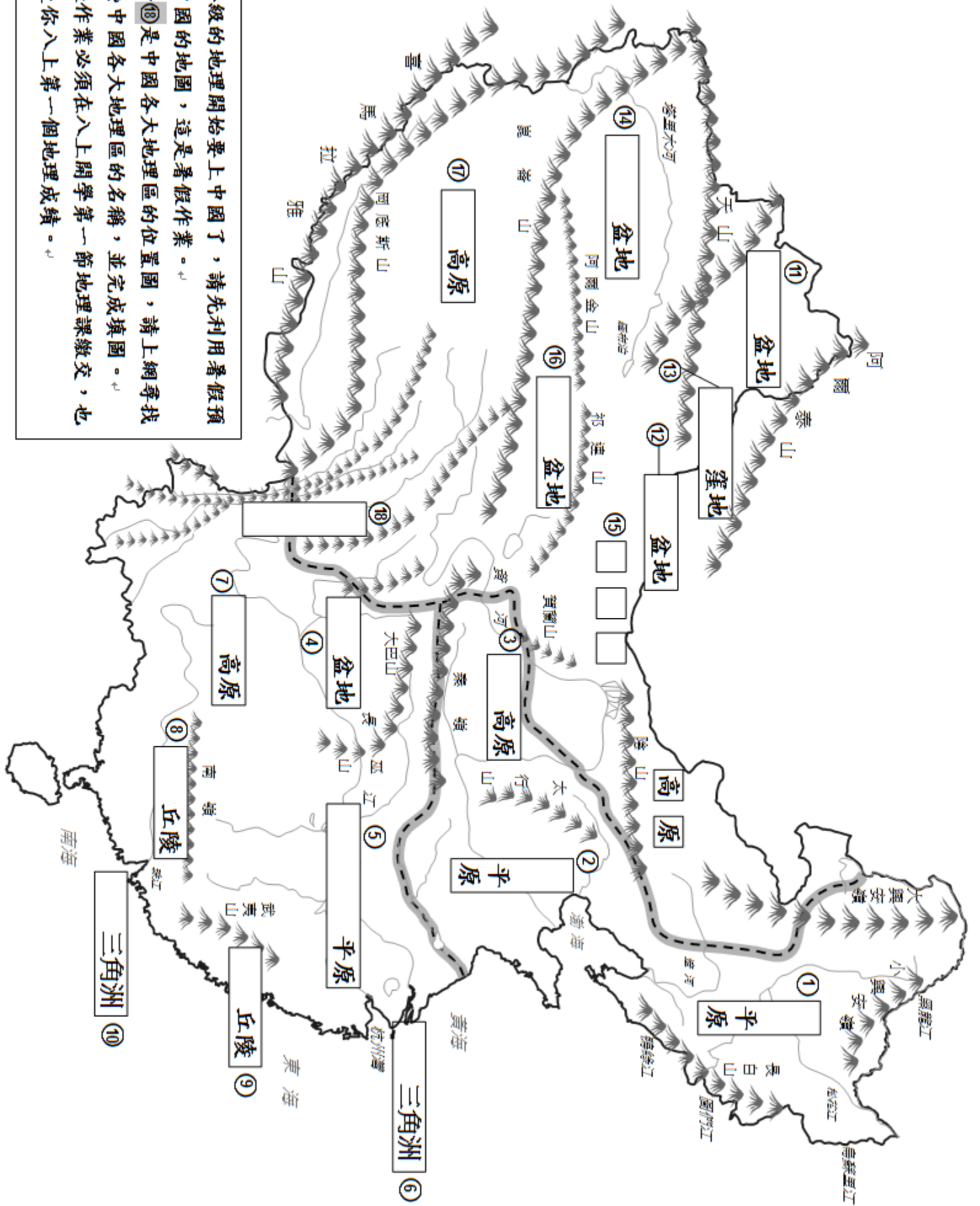


●臺灣本島國家公園分布圖

## (社會科段考試題結束)

# 注意:請妥善保存此張試卷，試卷的背面是你的暑假作業。

請在下學期 (八上)開學的第一節地理課時，將背面此張填圖作業繳交給地理老師。



八年級的地理開始要上中國了，請先利用暑假預習中國的地圖，這是暑假作業。

①~⑩是中國各大地理區的位置圖，請上網尋找這些中國各大地理區的名稱，並完成填圖。

這張作業必須在八上開學第一節地理課繳交，也會是你八上第一個地理成績。