

宜昌國中 112 學年度上學期 第一次段考九年級 社會科試題

九年 班 號 姓名：_____

【公民科】命題教師：藍惠寧老師

一、單選題(每題 5 分，共 100 分)

1. 哪些原因使得我們的生活中處處要做選擇、取捨？ 甲.人的欲望無限 乙.資源有限 丙.資源有多種用途
(A)甲 (B)乙 (C)丙 (D)甲乙丙
2. 「資源」指的是滿足人類欲望所需的東西，請問，「食物」、「水」、「資金」、「時間」、「人力」當中，有幾項「不」屬於資源？
(A)0 項 (B)1 項 (C)2 項 (D)3 項
3. 「選擇」是一種取捨：所捨去的，是為了取得的所付出的機會成本，請問以下俗語何者最符合機會成本的概念？
(A) 水能載舟，亦能覆舟 (B)天下沒有白吃的午餐
(C)成功是留給把握機會的人 (D)手心手背都是肉
4. 請問以下何人對於「時間資源」具有「稀少性」的說明是正確的？
(A)政傑：對於我這樣的小朋友，過了今天還有明天，所以時間很多，不具有稀少性
(B)旻威：自從我中了樂透不用上班後，時間多得很，因此不具有稀少性
(C)瑋瑋：夜唱時，有太多歌想唱，但時間總是不夠，可見時間具有稀少性
(D)妍蓁：時間看不到摸不到，並不屬於資源
5. 家豪週六、日白天都在加油站打工，時薪 150 元。這個星期六下午 3:00-5:00 有二個免費活動都是他很想參加的，但因時間限制，他只能選一個。請問，若只考慮喜好程度，家豪參加明星面對面的機會成本是多少單位？

活動	明星面對面	沙灘排球賽
喜好程度	120單位	100單位

(A)120 (B)100 (C)220 (D)20
6. 承上題，以下何人敘述正確？
(A)學仕：家豪若去參加明星面對面的活動，須把打工請假所失去的薪水也計入成本
(B)莘蕎：家豪參加沙灘排球賽的機會成本比明星面對面還低
(C)彭芯：因為活動是免費的，不論家豪參加哪一個活動，都不需要花費成本
(D)乙任：家豪如果不去參加免費活動，就不需要花費成本了
7. 寒流來襲，怕冷的淳濬帶了 1000 元到服飾店買保暖外套，試穿了一件潮牌羽絨衣後覺得相當滿意，但因為標價寫著 2000 元，淳濬雖使出不爛之舌殺價卻沒成功，只好勉強買了另一件 1000 元效果沒那麼好，但還可以接受的鋪棉外套。請問以下何者為淳濬選擇鋪棉外套的最主要原因？
(A)基於保暖效果 (B)基於金錢有限
(C)基於喜好 (D)基於愛護動物
8. 「你選的房子可能改變你的生活品質！」這話說得一點也不言重。因為除了居住，人還有食、衣、住、行、育、樂等需要。當一個地方的房價過高時，會壓縮到人們能用在其他生活需要的花費。這段話是什麼概念的應用？
(A)欲望無窮 (B)機會成本 (C)有土斯有財 (D)三十而立
9. 在其他條件不變的情況下，對於同一種產品而言，當其價格上升時，消費者願意購買的數量通常會
(A)減少 (B)增加 (C)不變 (D)沒有影響
10. 承上題，這是因為消費者購買此產品在價格上的機會成本相對
(A)降低 (B)提高 (C)不變 (D)不相干
11. 因為預期未來可能會缺蛋，即使蛋價已經調漲，消費者還是增加購買數量，這是受到什麼因素的影響？
(A)所得水準 (B)消費者偏好
(C)預期心理 (D)價格因素
12. 一般而言，生產者從事生產行為的目的是什麼？
(A)獲取利潤 (B)消耗地球資源
(C)從事慈善工作 (D)提高成本

13. 「價格」這項誘因會如何影響生產者的生產行為？
 (A)產品價格提高會增加生產者生產該商品的意願
 (B)原料價格提高會增加生產者生產該商品的意願
 (C)產品價格不會影響生產者的生產行為
 (D)原料價格不會影響生產者的生產行為
14. 以「使用者付費」的方式來分配資源是簡便有效率的方法，然而可能會有那些缺點？
 (A)消費者和生產者的選擇比較少 (B)人們無法節約使用資源
 (C)經濟弱勢難以獲得所需 (D)無法滿足個別消費者的喜好
15. 新冠疫情期間，由於口罩的數量有限，於是我國政府推出口罩實名制，統一規定口罩的價格及每位民眾可購買的口罩數量。這樣的政策最主考量是什麼？
 (A)消費者的自由 (B)產品的多樣化
 (C)民眾購買口罩的便利性 (D)每個人都可以買到口罩

二、題組(一題5分，共25分)

(一)少豪到公司上夜班的途中經過宜昌加油站時看到大排長龍，到公司後看新聞才知道當晚凌晨油價將調漲。少豪很猶豫是否要請同事楷翔幫忙代班1小時，讓他可以去加油，之後再回來上班。請根據以下條件回答以下問題。

- A.少豪的家距離公司 10 公里，距離加油站 5 公里，加油站正好在少豪上班途中。
 B.少豪的車平均油耗 1 公升可開 10 公里。
 C.少豪車的油箱最大加油量是 50 公升，目前車內還有油 10 公升。
 D.今天晚上到宜昌加油站加油的車平均要排隊 20 分鐘才能加到油。車輛怠速(車子在發動卻沒有移動)油耗每小時 1 公升。
 E.少豪的工時一個小時 400 元。
 F.目前的油價一公升 30 元。

16. 請問以下哪些是少豪凌晨之前去加油的機會成本？
 甲.開車來回加油站的油費 乙.加油所花的時間 丙.排隊加油時的油耗 丁.請楷翔代班的工資
 (A)甲乙丙 (B)乙丙丁 (C)甲丙丁 (D)甲乙丙丁
17. 請問油價至少一公升要漲多少錢，少豪今晚先去加油才會划算？
 (A)5 元 (B)8 元 (C)11 元 (D)14 元

(二)明揚國際科技股份有限公司位於屏東科技園區的廠房於 9 月 22 日傍晚化學品外洩導致火災和爆炸。根據媒體報導，工廠倉庫警報器在下午 5 點 10 分到 20 分間就啟動，工廠在 6 點 01 分爆炸，中間半個多小時，公司未能成功疏散員工，導致消防員冒險進入火場救人。再加上公司無人協助消防員充分掌握廠內化學物質狀況。最終造成 4 名消防員、5 名員工死亡，超過百人輕重傷的悲劇。

依照我國法律，正常工業區的合法工廠都要設置「自衛消防編組」，每月至少自行檢查一次防火避難設施，檢查結果遇有缺失，應報告管理權人立即改善。工廠每半年至少應舉辦 1 次滅火、通報及避難訓練，1 次至少 4 小時，並應事先通報當地消防機關，再將訓練的成果照片及報告繳交給政府消防機關備查。

依消防法第 40 條規定，場所若沒有辦理防火管理相關業務，將通知限期改善，逾期不改善者，處管理權人 1 萬元以上 5 萬元以下罰鍰；經處罰鍰後仍不改善者，得連續處罰，並得予以 30 日以下的停業等處分。

專家指出，大部分工廠並沒有確實做訓練，很多只是拉布條擺出上課的樣子、拍個照，就交差了事。當公司為求獲利而不願花時間在災害的預防；當政府機關仍瀰漫形式主義，當初立法的精神就無法真正落實，難保將來憾事不會重演。

18. 目前政府透過哪些誘因來讓工廠維持消防系統正常運作？
 (A)正向/金錢誘因 (B)正向/非金錢誘因 (C)負向/金錢誘因 (D)負向/非金錢誘因
19. 祐亦認為，如果能讓人民體認到消防演練的最重要目的是保護大家的生命，而不是會不會被罰錢。這樣大家會比較認真看待演練。請問，祐亦的說法是增加哪一種誘因？
 (A)正向/金錢誘因 (B)正向/非金錢誘因 (C)負向/金錢誘因 (D)負向/非金錢誘因
20. 瀚宇認為如果能提高罰鍰，會使消防演練更落實，這是強調哪種誘因的效果？
 (A)正向/金錢誘因 (B)正向/非金錢誘因 (C)負向/金錢誘因 (D)負向/非金錢誘因

在課程的一開始，老師花很長的時間討論課本 80 頁的序章內容，如下。請依序回答下列問題。

章 世界歷史的分期

世界歷史是一個長時段、跨地域性的發展，史家將歷史發展分為上古、中古、近代及現代等不同時期，有助於我們理解大時代的文化發展脈絡。

上古時期，西亞、埃及、**1**及印度等在大河流域發展出農業活動，並出現文字、曆法等文化成就，而之後的古希臘、羅馬文化更為西方的宗教、哲學、法律、藝術奠定重要基礎。

中古時期，西歐的基督教社會、東歐的拜占庭帝國與伊斯蘭世界之間關係緊密，相互競爭與交流。中古後期，**2**學者以古希臘、羅馬文化為基礎，發展出文藝復興運動，推動近代的開展。

3

近代以來，**3**拓展了歐洲人的世界觀，宗教改革挑戰教會權威，科學革命與啟蒙運動強調理性精神，促進了科學研究成果及個人權利的追求。

4

十八世紀的**4**、美國獨立及法國大革命，帶給社會巨大的變革，開啟了現代的發展。隨著民族主義思想盛行，帶動建國與獨立運動展開，以及帝國主義間的殖民地爭奪，最終釀成了兩次世界大戰的爆發。二次大戰結束後，形成美蘇兩強對峙的冷戰局面，區域戰爭與危機不斷，直到蘇聯解體後，冷戰時代告終，世界邁入多元化的競爭與合作。

*老師塗黑格數都改為四格

21. 上古時期有四個在大河流域活動的民族發展出成熟的文明進程，請問課文中數字 1 塗黑部分，應填入何者？
(A)印加 (B)中國
(C)祕魯 (D)非洲
22. 承上題，因為月亮的變化容易觀測，故在上古民族較為常見的是用陰曆記日，然而哪一個民族特別重視太陽神眷顧，而奉行陽曆？
(A)蘇美人 (B)波斯人
(C)埃及人 (D)巴比倫人
23. 中古時期，歐洲會有西歐、東歐之分，主要是緣起於哪一位羅馬帝國的皇帝在拜占庭營建新的都城？後又因狄奧多西將國土交由兩個兒子分區治理而加速分裂。
(A)凱撒 (B)屋大維
(C)君士坦丁 (D)亞歷山大
24. 承上題，羅馬帝國分裂而治，西元 476 年西羅馬帝國遭遇哪一股勢力的入侵而先於東羅馬帝國滅亡？
(A)日耳曼人 (B)阿拉伯人 (C)波斯人 (D)希臘人
25. 由於有東羅馬帝國的屏障，才有中古後期哪一國的學者的掀起文藝復興運動，帶動新一波文明進程。請問課文中數字 2 塗黑部分，應填入何者？
(A)巴比倫 (B)斯巴達 (C)希伯來 (D)義大利
26. 「近代」，在課文中數字 3 塗黑部分事件發生之前，世界各地雖然有交流，但是交流的幅度與頻率都不大，各古老的文化、民族有多元並立的態勢，古代文化彼此的交融，常常要靠帝國的征服來帶動。此後，因為科學的進展、交通技術的革新，文化碰撞與融合快速發展。在此應填入何者？
(A)蒙古西征 (B)大航海時代
(C)工業革命 (D)南北戰爭
27. 在課文中數字 4 塗黑部分事件發生之後，現代物質文明也開始高速的進展，同時帶動人文社會快速的變遷，應填入何者？
(A)工業革命 (B)南北戰爭
(C)啟蒙運動 (D)第一次世界大戰
28. 「這個城邦的男性從小接受嚴格的軍事訓練，成為無畏無懼的戰士，在面對敵人時勇往直前，絕不退讓。因此，作戰實力堅強，即是此城邦的特色之一。」上述的城邦應該是指何者？
(A)羅馬 (B)雅典
(C)斯巴達 (D)巴比倫
29. ○○的「十二表法」中隱含「法律之前人人平等」及「無罪推定」等法律概念，打破了貴族對法律知識的壟斷，在一定程度上保護了平民的利益，是○○成文法的發展起點。請問：○○應填入何者？
(A)西亞 (B)埃及 (C)希臘 (D)羅馬

30. 某本遊記中提到：「我們在沙漠中看見金字塔，為古代帝王的陵墓，高聳入雲……陵墓內的牆壁上刻有動物或器物形象的文字，靜穆中有著幾分神秘感。」上述遺跡中的文字應為何者？
 (A)象形文字 (B)楔形文字
 (C)新港文字 (D)希臘文字。
31. 歷史上有一個民族居住於地中海東岸的巴勒斯坦地區，在宗教方面，創立了猶太教，認為上帝耶和華是唯一真神，對後世西方宗教帶來很大的影響。請問：這個民族是下列哪一個民族？
 (A)蘇美人 (B)巴比倫人 (C)希伯來人 (D)波斯人
32. 西元 2020 年，因新冠肺炎疫情嚴峻，國際奧林匹克委員會、東京奧運籌備會宣布東京奧運延期至西元 2021 年舉辦。請問：現代奧林匹克運動會源自於希臘文化中的哪一活動？
 (A)元老院定期聚會商國事 (B)對眾神的敬畏而舉行的祭神慶典
 (C)信仰善神便能獲得永生 (D)崇敬奧塞利斯神給予復活的機會
33. 小歐做了一份古希臘文化與希臘化文化比較的筆記，下列選項為筆記的內容，何者正確？
 (A)前者的文學、史學發達，後者科學最有成就 (B)兩者皆融合東方文化
 (C)兩者皆曾有實施過民主政治 (D)兩者的君主皆鼓勵科學研究。
34. 歷史老師上課時，介紹了「阿基米德」的事蹟，下列何者會是老師提到的內容？
 (A)撰寫《歷史》，被稱為歷史學之父 (B)發現浮力、槓桿原理等物理學理論
 (C)率領軍隊結束羅馬共和後期的混亂 (D)積極推動希臘語文、鼓勵民族通婚
35. 在這次的段考範圍中，有介紹到一位君王「查士丁尼」，下列何者屬於他的事蹟？
 (A)推動成年男性公民有權參與城邦政治的權利
 (B)率軍隊東征波斯並鼓勵民族通婚，加速融合
 (C)結束共和後期紛亂並受封「奧古斯都」稱號
 (D)積極對外擴張，致力收復原羅馬帝國的版圖

● 附圖是兩河流域、波斯與埃及的古文明分布圖，請以圖中的代號回答問題。

36. 圖中哪一個民族相信宇宙有善惡二神，建立橫跨歐、亞、非三洲大帝國且崇拜火，該民族位於哪一個地區？
 (A)甲 (B)乙 (C)丙 (D)丁
37. 此地區的人們之所以要接受死後審判，相信人有來生，死後經審判可以復活，是圖中哪一個地區的特色？
 (A)甲 (B)乙 (C)丙 (D)丁
38. 承上題，在死後審判的觀念下，人們會將希望寄託於復活的來生，因此可能出現下列何種作為？
 (A)頒布報復主義的法典 (B)將死者製作成木乃伊
 (C)虔誠的信奉光明善神 (D)發明六十進位計算法



● 西元前 336 年，在父親腓力二世遭到刺殺後，年僅二十歲的他便繼位為國王。上任後他不斷對外征戰，在西元前 334 年率兵向波斯帝國進軍，陸續征服了小亞細亞、地中海東岸、埃及與兩河流域等地，建立起一個橫跨歐、亞、非三洲的大帝國。但沒想到在回師的途中染上熱病，於西元前 323 年去世。他最大的貢獻，是統治期間在各地建立起希臘式的城市，將各地的文化融合成一股新的文化內涵。

資料來源：郭方編著(2017)。寫給所有人的圖說世界史。新北：繪虹企業。

39. 請問上文中記敘的是關於何人的事蹟？
 (A)亞歷山大 (B)凱撒 (C)屋大維 (D)君士坦丁
40. 由文中可知，「新的文化內涵」，除了希臘文化外應該是融合哪二個地區的文化而成？
 (A)西亞、印度 (B)印度、中國
 (C)中國、埃及 (D)西亞、埃及。

※單選題(每題 5 分，共 100 分)

歐洲每年迎來超過 4.8 億國際遊客，占全世界的一半還要多，遊客最多國家排名前 10 的有 7 個在歐洲。歐洲旅遊是旅人心中的聖地，無論是熱情浪漫的法國、西班牙旅遊，還是風景如畫的捷克、瑞士、德國旅遊，抑或是北歐旅遊，在在讓人心神嚮往！右圖為歐洲簡圖，請回答下列問題：

41. 靖恩想在寒假來趟歐洲之旅，當作給自己的國中畢業禮物，請問旅遊出發前靖恩需兌換下列哪一種貨幣，方便旅遊購物使用？

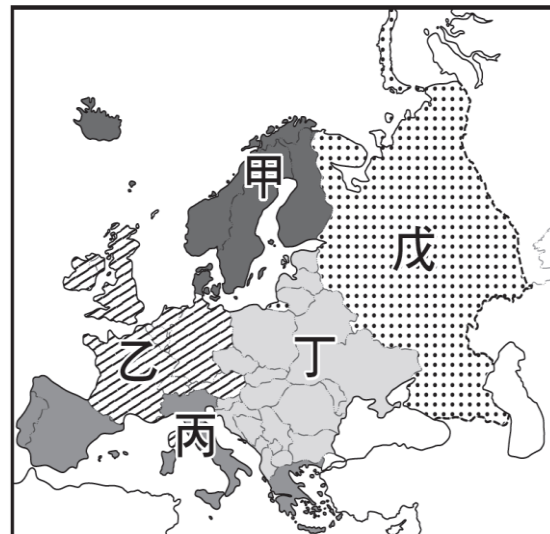


42. 首站來到法國巴黎，參訪巴黎必遊景點：羅浮宮、艾菲爾鐵塔、凱旋門、凡爾賽宮、巴黎迪士尼樂園、聖馬歇爾山等近郊景點等，請問旅遊首站飛機降落於右圖中哪一區？

(A) 乙 (B) 丙 (C) 丁 (D) 戊

43. 承上題，下列對於此區敘述何者正確？

- (A) 緯度較高，受冰河侵蝕影響，冰蝕地形發達
- (B) 位於板塊交界，地形崎嶇、海岸線曲折，多谷灣地形
- (C) 地勢向北傾斜，平原廣大，為歐洲的精華區
- (D) 緯度較低，氣候炎熱，酪農業、園藝農業發達



44. 第二站來到低地國荷蘭，親眼看到以前衛現代建築物聞名的鹿特丹方塊屋、鉛筆屋，鹿特丹港也是歐洲航運最繁忙港口，請問鹿特丹港是下列哪一條河流進出港？

- (A) 多瑙河 (B) 萊茵河
- (C) 泰晤士河 (D) 尼羅河

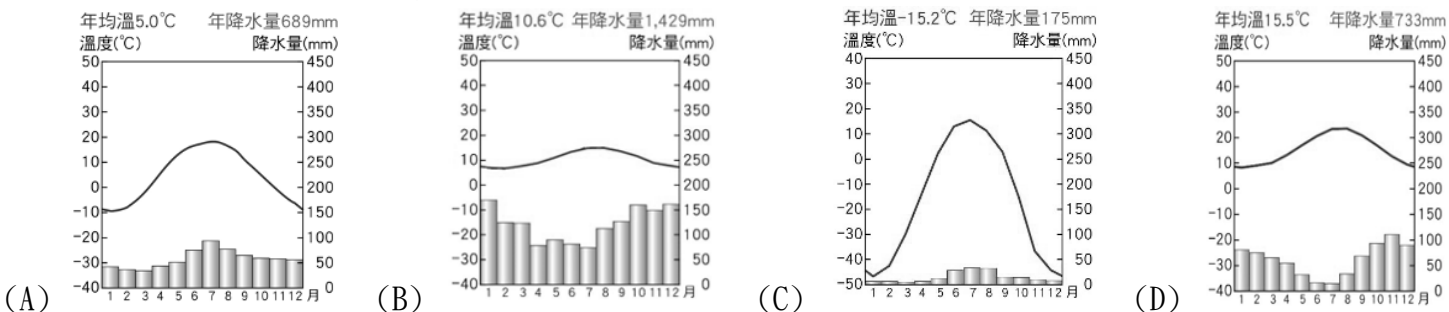
45. 靖恩順道參觀位於鹿特丹近郊的小孩堤防，主要由 19 座風車組成，為荷蘭最大的風車群，過往主要用來排水，已被列入了聯合國世界遺產。請問在此區風車要運轉扇葉需面向哪一方？

- (A) 東方 (B) 西方 (C) 南方 (D) 北方

46. 2024 威尼斯面具節將於 1 月 27 日起於義大利盛大舉行，無論是廣場或小巷弄內處處都有驚喜奇幻的變裝打扮秀，一年只有一次的嘉年華盛會，精彩可期。請問靖恩若要親身體驗面具節的盛會必須前往圖中哪一區？

- (A) 甲 (B) 乙 (C) 丙 (D) 丁

47. 承上題，下列哪一張氣候圖最能代表此區氣候？



48. 威尼斯面具節讓靖恩留下深刻印象，在回台前他聽說只要看到極光的出現就會帶來實現夢想的幸運，所以他也想碰碰運氣，希望能看到極光為他帶來好運讓會考順利，請問若想見到極光要前往哪一地區機率會最高？

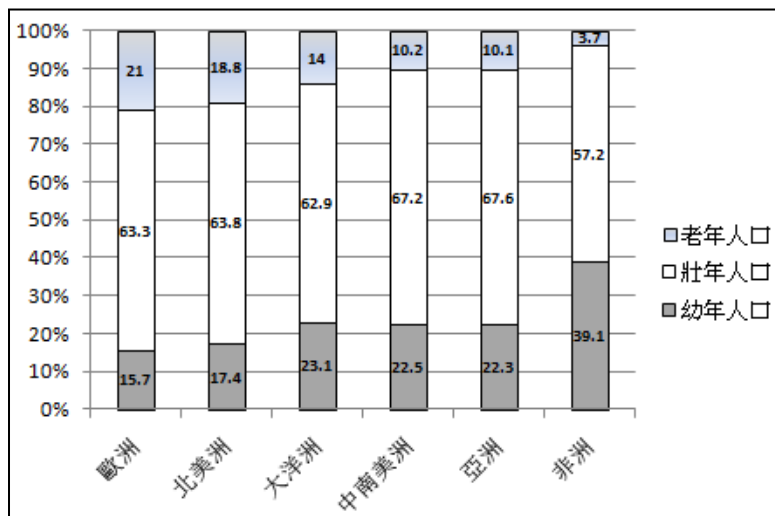
- (A) 甲 (B) 乙 (C) 丙 (D) 丁

49. 近年來，臺灣有部分產業，如半導體、汽車零組件等，為了開拓歐洲市場，紛紛在歐洲設置海外分公司與生產工廠，一方面可以利用當地高素質且低工資的勞力生產優勢，一方面又可以成為產品進入歐洲市場的據點。根據上述，在歐洲簡圖中哪一個代號區，是這些臺灣廠商選擇在歐洲設廠的主要區域

- (A) 乙 (B) 丙 (C) 丁 (D) 戊

50. 右圖為 2025 年世界各大洲人口結構比較預估圖，請問 2050 年全世界最年輕的洲是下列何者？

- (A) 亞洲 (B) 歐洲 (C) 北美洲 (D) 非洲



全球邁入氣候緊急時代，逾 130 個國家宣布 2050 年前達到淨零排放。為實現 2050 年氣候中和的雄心，今年 5 月 16 日歐洲議會及歐盟執委會正式通過「碳邊境調整機制」(CBAM)。「碳邊境調整機制」是歐盟對進口到當地的碳密集產品，依照其製程的碳排放量，規定進口商需申報並採購相對應

的 CBAM 憑證，產品才能進入歐盟。若非歐盟的生產商，只要提供產品在原國家已支付當地碳價相關費用的證明，即可抵銷歐盟 CBAM 憑證的採購費用。(https://esg.gvm.com.tw/article/28453) 右下圖為歐盟 CBAM 碳關稅最新進程，請回答下列問題：

51. 歐盟是由歐洲國家經過一系列的談判與合作，逐步組成的區域性經濟組織。請問：歐洲國家組成歐盟的原因，下列敘述何者正確？
 (A) 限制歐洲以外國家貨物進口
 (B) 開放邊境加強軍事交流
 (C) 提高各國的關稅以穩定稅收
 (D) 促進歐洲的和平與穩定
52. 下列對於「碳邊境調整機制」敘述何者正確？
 (A) 今年聯合國會議正式通過「碳邊境調整機制」(CBAM)
 (B) 今年 10 月歐盟正式實施 CBAM 收費政策
 (C) 全世界國家宣布 2050 年前將達到淨零排放
 (D) 未來進口到歐盟的碳密集產品須符合 CBAM 規定

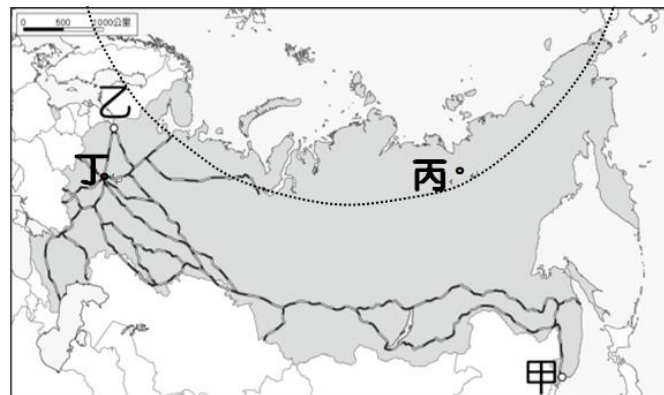


2023 年的《幸福報告》指出，儘管有幾次重疊的危機，但世界各地大多數人口仍具有顯著的復原力，2020-2022 年新冠肺炎的全球生活滿意度平均水準，與疫情前的年份一樣高。報告指出，芬蘭連續第六年位居榜首；最幸福的 10 個國家排名如下表。(https://womany.net/read/article/31951) 請回答下列問題：

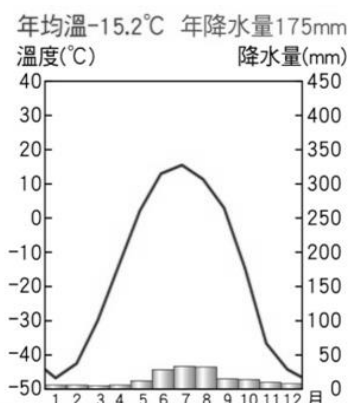
53. 請問 2023 最幸福國家前 10 名，以下列哪一地區所占比例最高？
 (A) 西亞 (B) 北歐 (C) 西歐 (D) 大洋洲
54. 承上題，下列對於此區敘述何者正確？
 (A) 地處中緯度，氣候溫和的廣大平原區
 (B) 沙漠廣布，石油產量世界第一
 (C) 位居南半球，農牧業發達
 (D) 號稱「從出生的搖籃，到死後的墳墓」的「福利國度」
55. 「北海小英雄」的故事發生在距今 1000~1200 年前，當時北歐沿岸住著一群人，他們並沒有固定的居住地，而是以各個港口為聯絡據點，採部落的方式散居著，國際上稱這些人為「維京人」。維京人以曲折峽灣為根據地，奪取從挪威到英格蘭沿海航道上船隻的財物維生，人們甚至就直接稱呼他們為「維京海盜」。請問維京人以峽灣為根據地，峽灣是由下列哪一作用所形成的天然航道？
 (A) 冰河侵蝕 (B) 風力侵蝕 (C) 火山作用 (D) 板塊運動

第一名	芬蘭	第六名	瑞典
第二名	丹麥	第七名	挪威
第三名	冰島	第八名	瑞士
第四名	以色列	第九名	盧森堡
第五名	荷蘭	第十名	紐西蘭

俄羅斯是位於歐亞大陸北部的聯邦共和國，國土橫跨歐亞兩大洲，跨越 11 個時區，為世界上領土最大的國家；擁有 1.43 億人口，世界排名第九。涵蓋廣泛的環境和地形，擁有世界上最大儲量的礦產和能源資源，是世界上最大的石油和天然氣輸出國，同時擁有全世界最大的森林和約世界四分之一的淡水湖泊。附圖是俄羅斯的鐵路幹線分布圖，請回答下列問題。



56. 俄羅斯鐵路分布的疏密情形，與下列哪一個因素密切相關？
 (A) 氣候乾溼 (B) 人口分布 (C) 河川流向 (D) 鄰國多寡
57. 俄羅斯擁有全世界最大的森林資源，請問主要是以下列哪一種林業資源為主？
 (A) 針葉林 (B) 苔原 (C) 莽原 (D) 雨林
58. 俄羅斯擁有世界上最大儲量的礦產和能源資源，是世界上最大的石油和天然氣輸出國，請問主要與下列哪一項因素關係密切？
 (A) 國土面積廣大 (B) 橫跨歐亞兩洲
 (C) 地質年代古老 (D) 位居高緯度地區
59. 莫斯科坐擁全球的眾多古老建築，蘊含豐富多彩的藝術文化，右上圖為聖瓦西里主教座堂，擁有獨特的建築，並位居知名紅場的顯眼位置，因此已成為俄羅斯的象徵。請問：該教堂最可能為何種宗教的建築型態？
 (A) 東正教 (B) 天主教 (C) 伊斯蘭教 (D) 佛教
60. 右圖為俄羅斯某一城市氣候圖，請問這個城市最可位於上圖中哪一地區？
 (A) 甲 (B) 乙 (C) 丙 (D) 丁



1.	2.	3.	4.	5.	6.	7.	8.	9.	10.
D	A	B	C	B	A	B	B	A	B
11.	12.	13.	14.	15.	16.	17.	18.	19.	20.
C	A	A	C	D	D	C	C	B	C
21.	22.	23.	24.	25.	26.	27.	28.	29.	30.
B	C	C	A	D	B	A	C	D	A
31.	32.	33.	34.	35.	36.	37.	38.	39.	40.
C	B	A	B	D	A	D	B	A	D
41.	42.	43.	44.	45.	46.	47.	48.	49.	50.
B	A	C	B	B	C	D	A	C	D
51.	52.	53.	54.	55.	56.	57.	58.	59.	60.
D	D	B	D	A	B	A	C	A	C
61.	62.	63.	64.	65.	x	x	x	x	x