

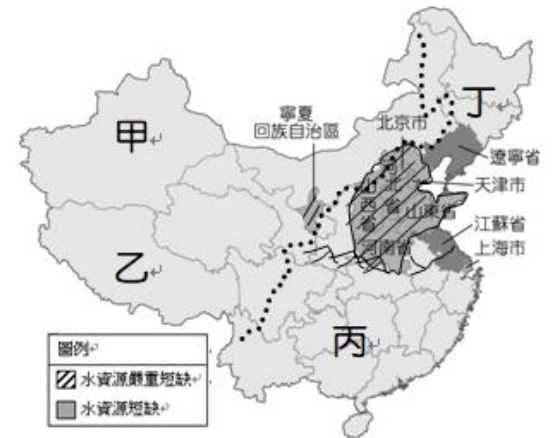
宜昌國中 112 學年度第一學期第二次段考八年級社會科試卷

班級：_____ 姓名：_____ 座號：_____

地理科試題 (每題 4 分，共計 100 分)

命題教師：林素葉

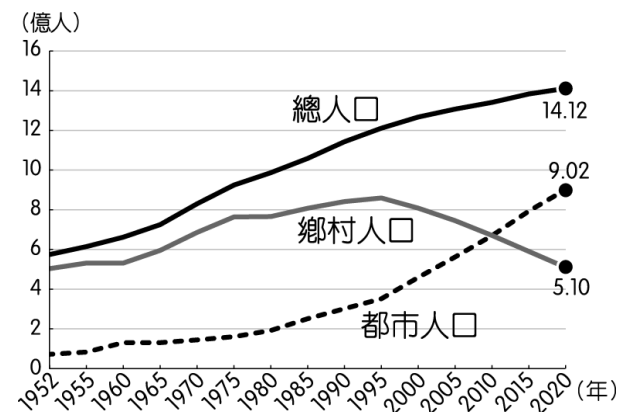
農業為國家之本，然而其生產的過程中除了受到天災的因素影響外，還有市場波動的風險。例如 2020 年非洲受到氣候的因素影響，沙漠蝗蟲過境，肆虐十多個國家，造成嚴重的作物損失。目前這些蝗蟲由非洲出發後，一路向東來到了印度，更直逼中國。學者指出此次蝗蟲數量龐大，大約有 4 千億隻，所過之處寸草不留，將是農業活動的危機。參考右圖回答下列問題：



1. 農業活動被認為是國家最重要的基礎產業，和下列何者的因素最為直接相關？
(A)環境保護 (B)就業活動 (C)工業產值 (D)糧食供應
2. 目前蝗蟲正由印度逐漸向東移動，若其方向不變，則對於右圖中哪一區的威脅最大，而導致中國糧食嚴重短缺？
(A)甲 (B)乙 (C)丙 (D)丁
3. 除蝗蟲災害外，農業活動中受到自然環境的影響相當大，其中灌溉水源為農業發展必要的條件。然而中國的水資源由於人口增加及工商業的使用，漸趨不足，其分布狀況如圖所示。請問：圖中水資源嚴重短缺的地區大多位在何處？
(A)珠江三角洲 (B)華北平原 (C)東北平原 (D)塔里木盆地

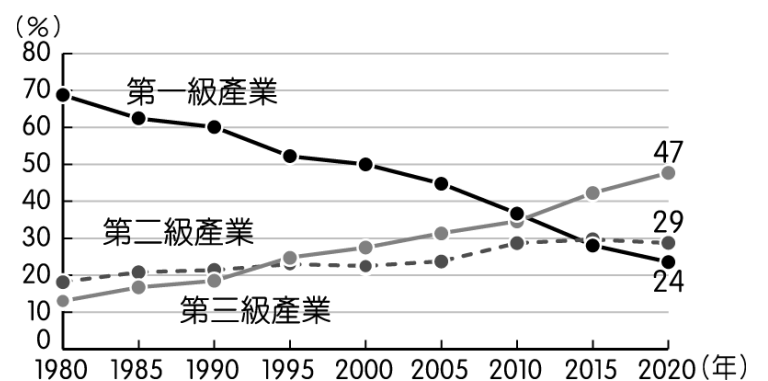
右圖為近年來中國城鄉人口變化圖，請依圖中資料回答下列問題：

4. 由右圖判斷，這種人口變化情形和下列哪一個因素關係最密切？
(A)糧食生產 (B)經濟發展 (C)氣候變遷 (D)海外移民。
5. 中國的都市人口大約在哪一年超越鄉村人口的人數？
(A)1952 年 (B)1980 年 (C)2010 年 (D)2020 年
6. 人口由鄉村往都市集中的過程即為「都市化」。都市化程度是指都市人口數占全國人口數的比例，都市化比例越高代表當地工商發展程度高，經濟水準也越高，人口也越集中。請問中國 2020 年都市化程度最接近下列何者？
(A) 35.6% (B) 63.3% (C) 80% (D) 100%



中國自 1980 年代開始實施經濟上的改革開放，改變了中國的經濟面貌；經濟發展之初，首先成立經濟特區，依據當地的人文特色，發展以勞力密集的加工出口業為主。右圖為中國三級產業變化圖，請回答下列問題：

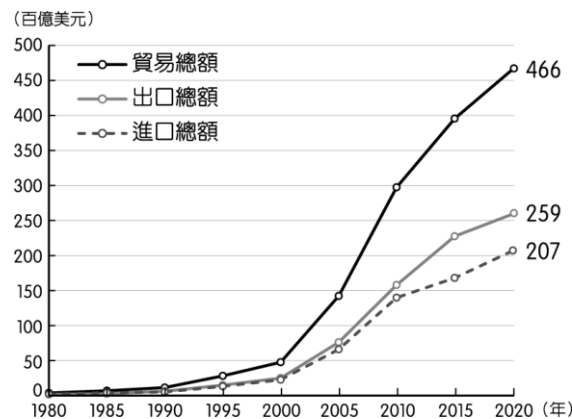
7. 請問下列對於中國三級產業變化圖敘述何者正確？
(A)在 1980 年代經濟改革前，中國主要以第三級產業為主
(B)中國經濟改革後第二級產業持續增加並居於領先地位
(C)第三級產業在 2010 年超越第一級產業並居領地位
(D)中國經濟改革後三級產業皆出現持續成長趨勢
8. 中國在 1980 年代經濟發展之初，首先成立經濟特區請問：上述的經濟特區主要分布於哪一個經濟帶？
(A)東北地區 (B)西部地區 (C)中部地區 (D)東部地區
9. 承上題，1980 年代中國改革開放後，沿海地區因為具備下列哪一區位優勢成為吸引外國資金的前哨站？
(A)豐富原料 (B)低廉勞力 (C)廣大市場 (D)充足動力
10. 中國在改革開放後，經濟發展相當快速，境內的工業產值在 2012 年正式超過世界龍頭——美國，以 3.7 萬億美元高居世界第一；目前該國的工業發展依地區特性而有不同，北部以重工業為主，南部則多從事輕工業。但西部地區由於何項條件的影響，未能在改革開放時發展工商業活動，因此形成今日東、西部之間的經濟發展差距甚大？
(A)動力不足 (B)面積狹小 (C)缺乏礦產 (D)交通不便
11. 1960 年代前，中國著重發展重工業，主要集中在中國的北部與東北部，例如：中國第一輛國產汽車就在吉林省長春市製造。請問：影響早期中國重工業分布的區位因素為何？
(A)原料區位 (B)交通區位 (C)勞力區位 (D)市場區位



12. 地處中國海岸線中點和長江的出海口，因交通位置優越且腹地廣大，快速發展成中國重要的金融中心，請問是下列哪一個城市？
 (A)北京 (B)深圳 (C)上海 (D)香港

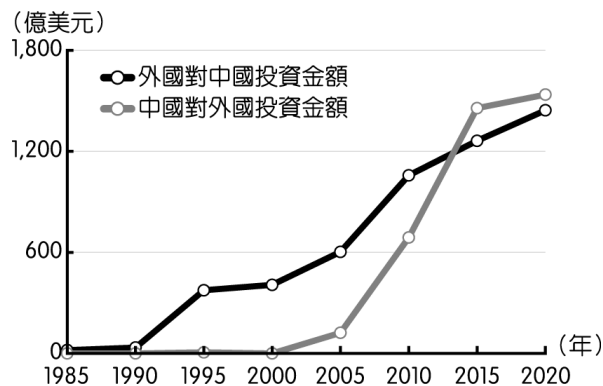
右圖為中國的進出口貿易總額統計圖，中國在經濟改革開放後，逐漸成為世界主要生產基地，進而帶動全國的經濟發展，30年後中國成為各國兵家必爭之地的「世界市場」，貿易總額逐年攀升。請問：

13. 右圖中，中國從 1980 年開始，成為主要生產基地的「世界工廠」，而使出口總額大幅增加。請問：當時中國經濟發展的有利條件中「不包含」下列何者？
 (A)設立經濟特區 (B)國內資金多 (C)豐富的天然資源 (D)廉價的勞工
14. 若依圖中的貿易數據變化加以判斷，中國經濟改革開放後主要的貿易狀況為何？ (A)貿易順差 (B)外匯流失 (C)貿易逆差 (D)進口為主

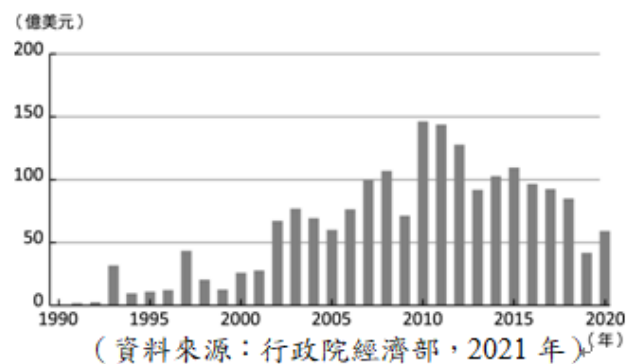


右圖是中國歷年來吸引外資與對外投資圖，請回答下列問題：

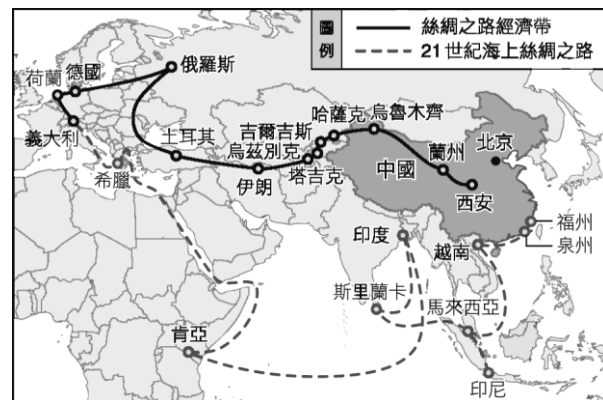
15. 由圖可見外國對中國投資金額愈來愈多，請問中國由「世界工廠」轉為「世界市場」後，外資投資項目主要轉向下列哪一種產業？
 (A)有機農牧業 (B)高科技航太產業 (C)服務業 (D)國防軍事產業
16. 請問中國企業從哪一年開始在政府鼓勵下積極對外投資？
 (A)1980年 (B)1995年 (C)2000年 (D)2013年
17. 中國由「世界工廠」轉為「世界市場」與下列哪一項關係最密切？
 (A)眾多廉價勞工 (B)製造產品行銷全世界
 (C)積極對外投資 (D)國民薪資所得提高



18. 右圖是歷年臺商對中國投資金額統計圖，臺灣雖然在 1950~80 年代與中國經歷長時間的軍事對立，但隨著兩岸局勢和緩，自 1990 年代起，我國開始准許人民赴中國投資，投資金額也在 2008 年後屢次突破百億美元，然而近年出現不同的發展趨勢。請問下列哪一因素最可能是導致台商在大陸投資下降原因之一？
 (A)中國基本工資上漲 (B)中國政府禁止台商繼續投資
 (C)中國消費市場萎縮 (D)中美貿易戰台商轉投資美國

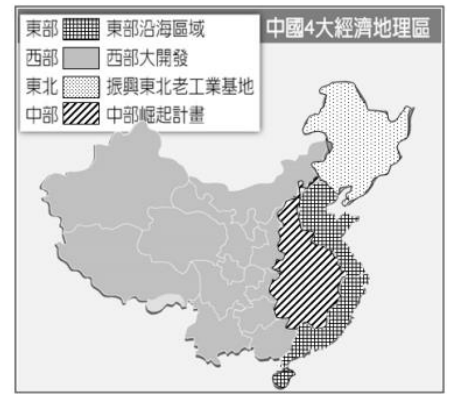


中國改革開放後，經濟活動益發熱絡，尤以沿海地區為甚。為了舒緩國內多餘產能以及拓展國際貿易活動，中國於 2013 年時提出「一帶一路」的跨國經濟帶構想，希望藉由歷史上的海上及陸上「絲綢之路」概念，期望能與沿線國家增進交通、能源、貨物、人員的交流，增進中國與歐亞各國的經濟往來。然而有些建設計畫令參與國面臨債務或主權危機，使各界對一帶一路的效益仍存有疑慮。右圖為中國一帶一路路線圖，請回答下列問題：



19. 閱讀上文可知，中國提出「一帶一路」政策的主要目的為何？
 (A)串聯五大洲進行貿易 (B)加強與紐澳的區域合作
 (C)促進中國東北地區 (D)強化各國資源的流通
20. 「一路」是「海上絲路」，自中國東南沿海出發，往南經過南海再往西通過蘇伊士運河直達歐洲。請問：海上絲路中會經過下列哪兩片海域？
 (A)太平洋、大西洋 (B)大西洋、印度洋 (C)印度洋、太平洋 (D)北極海、太平洋
21. 由「一帶」的出發點西安來看，一路向西前進，會進入中國的哪個氣候區？
 (A)熱帶季風氣候區 (B)乾燥氣候區 (C)高地氣候區 (D)副熱帶季風氣候區
22. 中國期望藉由一帶一路與沿線國家增進交通、能源、貨物、人員的交流，此計畫對中國產生影響『不包含』下列哪一項？
 (A)勞工薪資下降 (B)連接鄰國交通 (C)能源取得更便利 (D)增加國際影響力
23. 中國繼一帶一路計畫後，又於 2020 年簽署「區域全面經濟伙伴協定」(RCEP)，參與協定的國家享有關稅減免、降低進出口限制等優惠，請問中國積極加入自由貿易協定原因與列何者關係最密切？
 (A)擴大經濟版圖 (B)吸收各國科技人員 (C)取得戰略地位 (D)獲取廉價勞力

大陸一項城市財富調查顯示，民眾熟知的「北上廣深」(北京、上海、廣州、深圳)超一線城市格局被徹底打破，「滬京蘇杭」(上海、北京、蘇州、杭州)列前4，而深圳已排到十名開外。(2023-03-09 聯合報 <https://reurl.cc/1GAN0V>) 右圖為中國四大經濟帶分布圖，請回答下列問題：



24. 上文所述的城市大多位於中國東部經濟帶，請問由此可看出中國經濟發展過程中面臨下列哪一項問題？
 (A) 礦產資源不足 (B) 區域發展不均衡 (C) 人口成長快速 (D) 水資源嚴重短缺
25. 請問下列哪一條河流橫跨中國東中西三大經濟區域？
 (A) 長江 (B) 海河 (C) 松花江 (D) 塔里木河

歷史科試題 (每題 5 分，共計 100 分)

命題教師：黃若芸

26. 老師在課堂上用右表講解某一主題，根據內容判斷，此主題最可能是下列何者？
 (A) 阿拉伯勢力的擴展 (B) 唐朝勢力的擴張 (C) 蒙古民族的對外征服
 (D) 契丹民族的對外征服。【改寫自 107 年會考】

時間	事件
1220 年代	★擊敗中亞的花刺子模
1230 年代	★消滅金國 ★占領今日俄羅斯、烏克蘭等地
1240 年代	★攻入今日東歐地區

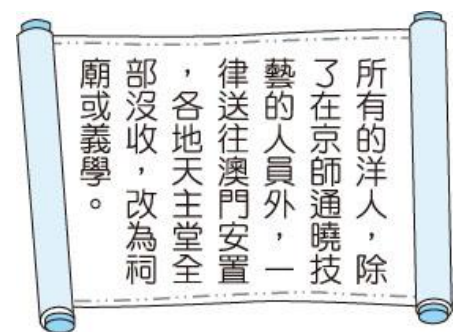
27. 承上題，1220 年代時所發生的事件，最初主要是由下列哪一位人物所領導而發動？
 (A) 成吉思汗 (B) 趙匡胤 (C) 忽必烈 (D) 朱元璋。
28. 中國史上某朝代後期的商貿情況：「部分商人在東南沿海違反禁令從事貿易活動，運送絲、茶或瓷器等商品到海外販售，賺取白銀。途中需躲避官府的查緝、海盜的劫掠，必要時甚至會進行海盜行為。」此一朝代最可能是下列何者？
 (A) 唐代 (B) 宋代 (C) 元代 (D) 明代。

29. 承上題，文章中提到「部分商人在東南沿海違反禁令從事貿易活動」，請問，這些商人所違反的「禁令」應該是指當時政府所實行的哪一項規定？ (A) 渡臺禁令 (B) 海禁政策 (C) 禁教政策 (D) 禁商行動。

30. 資料一：
 17 世紀，英國學者培根 (Francis Bacon) 指出，有三種發明改變全世界的面貌：第一種是在學術方面，第二種是在戰爭方面，第三種是在航行方面，由此引起的變化不計其數。(資料來源：阿波羅新聞網，2011/11/14。)

英國學者培根所言，對戰爭方面有劇烈影響的，應是中國哪項的發明？ (A) 火藥 (B) 指南針 (C) 印刷術 (D) 造紙術。

31. 右圖是中國歷史上某一史事的相關內容，根據內文判斷，該史事最可能是下列何者？
 (A) 秦代統一度量衡 (B) 漢代設立太學 (C) 隋代廢除九品官人之法 (D) 清代下令禁教
 【改寫自 108 年會考】



32. 1987 年中國的考古隊在廣東省外海發現一艘古代沉船，經過 20 多年的規畫與試驗，最終在 2007 年將長約 30 公尺的沉船打撈出水，並轉送往海上絲綢博物館進行研究與保存。研究者根據船上所裝載的瓷器等器物判斷，此船應為南宋時期的商船，從港口出發後不久在今廣東一帶沉入海底。請問，根據研究推測，下列哪一個港口最有可能為此船的出發港口？
 (A) 北京 (B) 上海 (C) 泉州 (D) 汴京。

33. 宋元時期隨著外國商旅不斷進入中國，當時為了管理商船、檢查進出口的貨物與課徵稅收，政府設置什麼機構來進行管理？ (A) 太學 (B) 驛站 (C) 市舶司 (D) 尚書省。

34. 子斌翻開歷史課本第三章，看到標題「宋元多民族並立的時期」，好奇的子斌想要多認識這段時期的民族，於是他仔細閱讀了課文。請問，子斌『最不可能』在第三章的課文中，讀到哪一個民族的歷史？
 (A) 漢族 (B) 匈奴族 (C) 蒙古族 (D) 女真族。

35. 中國元朝曾是世界上第一個由政府統一發行紙鈔的國家。請問，下列哪一個解釋『最無法』說明紙質貨幣發行的原因？
 (A) 因為當時的國內與國際貿易興盛，導致傳統的金屬貨幣不夠使用 (B) 早期的金屬貨幣過於沉重，不容易攜帶
 (C) 造紙術與印刷術的不斷進步，提供紙幣製造的基礎技術 (D) 因為讀書的人數越來越多，社會逐漸偏好以紙為貨幣。

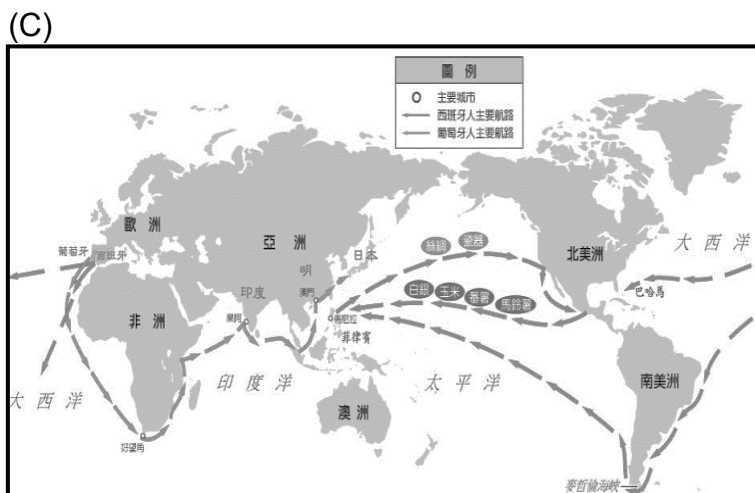
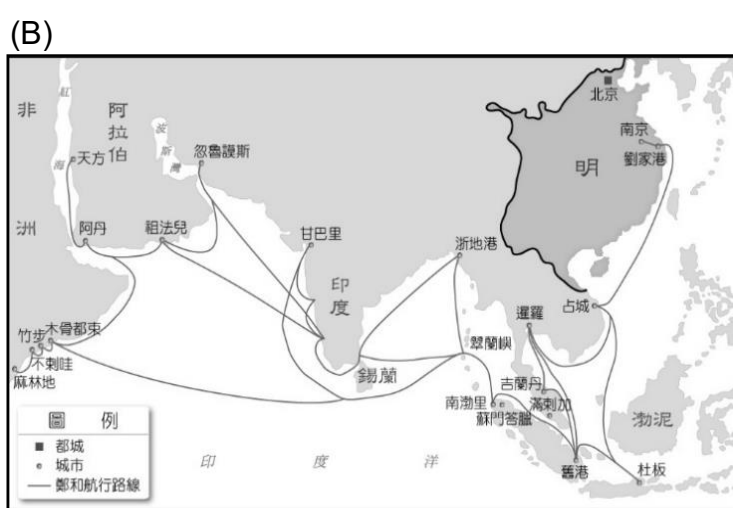
36. 長城是中國古代為了防禦周邊民族而修築的城牆，根據目前的研究考查指出，長城的修建最早開始於周代，歷經多個朝代直至明代，前後共橫跨約 2000 多年的時間。請問，明代所修建的長城，最主要是用以對抗哪一個外族？
 (A) 匈奴 (B) 蒙古 (C) 倭寇 (D) 滿洲。

37. 御瑋在歷史課本中讀到「康熙、雍正、乾隆三朝文治武功強盛，蒙古、臺灣、西藏、新疆等地相繼納入版圖」，他馬上聯想到七年級社會課中曾學過的臺灣歷史，臺灣原本有一政權統治著部份的地區，但最終被清康熙皇帝派兵攻取，結束了在臺灣二十多年的統治。請問，御瑋所想到的政權應該是指哪一個？
 (A) 原住民大肚王國 (B) 荷蘭東印度公司 (C) 明代鄭氏家族 (D) 東南海商集團。

題組一


瑜凡上完歷史課後想多了解利瑪竇的生平事蹟，於是上網搜查資料，她發現利瑪竇不僅致力於宗教的傳播，同時也將歐洲的科學、技術等知識帶入中國，並學習與傳播中國的儒家典籍、文學等，成為促進歐亞文化交流的重要推手之一。

38. 透過網路資料，瑜凡認識到利瑪竇是第一位被允許進入當時首都北京的傳教士，並終其一生留在北京城直至過世。請問，利瑪竇是在哪個朝代時來到中國？
 (A) 宋代末期 (B) 元代末期 (C) 明代末期 (D) 清代末期。
39. 瑜凡在網路上搜查到，利瑪竇除了以中文著有多本宗教書籍外，他還努力將西方宗教中重要的詞彙翻譯成中文，例如「耶穌」一詞即是由利瑪竇翻譯而來。請問，利瑪竇所傳播的宗教，應為下列哪一個宗教？
 (A) 天主教 (B) 佛教 (C) 伊斯蘭教 (D) 道教。
40. 瑜凡很好奇當時利瑪竇為什麼會遠渡中國，於是上網查了資料。請問，下列哪一張地圖最能夠呈現出利瑪竇來到中國的時空背景？




41. 瑜凡在網路上發現一張由利瑪竇繪製的古世界地圖，圖中地名多以中文標註，且網頁中提及當時利瑪竇為了遵循中國固有的世界觀，曾多次修改地圖的繪製方式，最後將中國改畫於靠近地圖中心的位置，希望可以呈獻給中國皇帝。請問，瑜凡查到，當時利瑪竇試圖遵循「中國固有的世界觀」應是指什麼？
 (A) 中國長期以來希望與其他國家建立平等互惠的對等關係 (B) 中國一直企圖攻滅其他國家，建立稱霸世界的超強政權
 (C) 中國為了得到周邊國家的保護與支持，因此常向其他國家進貢 (D) 中國自古以來將自己視為是世界中心的天朝上國。

42. 瑜凡發現其實在利瑪竇之後，陸續有不少傳教士來到中國，並將中國的書籍、思想、藝術創作等帶回歐洲，在 18 世紀時形成一股風潮，歐洲人開始仿效中國式的風格，甚至還因此出現了一個新的詞彙 Chinoiserie，譯為「中國風」。請問，下列哪一個古文物最有可能是在這股風潮之下出現的？




(A) 幾何原本中譯本
約 1607 年初刊
利瑪竇與徐光啟譯
將歐洲的幾何學理論與邏輯翻譯成中文



(B) 長崎阿蘭陀屋敷繪卷
約 18 世紀末繪製
繪者不詳
描繪荷蘭人在日本長崎商館中活動的情形



(C) 中國音樂家
約 1775 年製作
英國切爾西瓷器廠製造
以瓷器創作來描繪想像中的中國音樂表演者



(D) 瑞應圖卷
明代繪製
繪者不詳
描繪榜葛刺的使臣帶著麒麟來到中國進獻給皇帝

題組二

珮晨上完歷史課後，想要進一步了解宋朝的對外關係，於是上網進行搜尋與閱讀，她找到了一份由某出版社改寫的資料，如右圖。請仔細閱讀資料後，並回答下列問題。

43. 根據資料的內容判斷，這份資料的標題最有可能為下列何者？

- (A) 澶淵之盟 (B) 宋金協議 (C) 金蒙密約 (D) 汴京之盟。

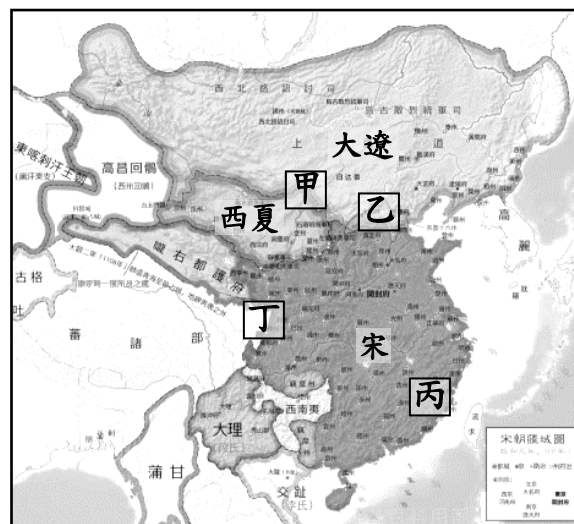
44. 珮晨看到了第二個條文「雙方以白溝河為界」，她想知道白溝河在哪裡，於是在網路上查了宋代地圖，如右下圖。請問，珮晨會發現白溝河最接近地圖上哪一個位置？

- (A) 甲 (B) 乙 (C) 丙 (D) 丁。

45. 珮晨讀完資料後想到，歷史課本中曾介紹過宋代是「中國首度與周邊國家建立對等關係」的朝代。請問，就資料的內容來看，哪一點內容最能夠反映出課文中所提出的「對等關係」？

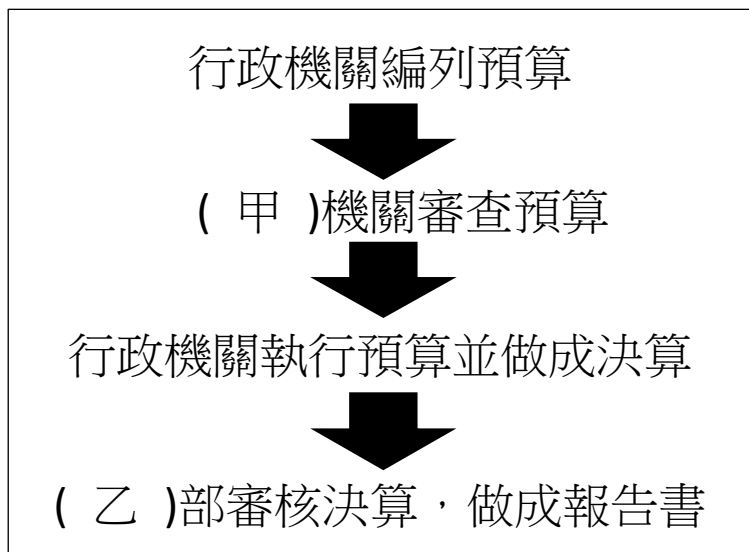
- (A) 雙方約為兄弟之邦，宋為兄，遼為弟
(B) 雙方以白溝河為界，互不侵犯
(C) 宋每年給遼銀 10 萬兩、絹 20 萬匹，是為歲幣。

雙方約為兄弟之邦，宋為兄，遼為弟。
 雙方以白溝河為界，互不侵犯。
 宋每年給遼銀 10 萬兩、絹 20 萬匹，是為歲幣。



一、 單選題 (每題 5 分，共 75 分)

46. 現代大多數的民主國家，都將人民的基本權利規定於哪部法典之中，故其又稱為「人民權利的保障書」。
 (A)憲法 (B)民法 (C)刑法 (D)社會秩序維護法
47. 承上題，對於此部法典特性的描述，下列何者最正確?
 (A)可以消極地限制人民宣稱和維護自己的權利 (B)可以積極地使政府的權力去侵犯人民的權利
 (C)此部法典在廣義的法律中的位階最低 (D)人民可以依此法典積極地向國家請求權利
48. 西方有句法諺：「有權利，必有救濟。」在我國憲法第 16 條規定：「人民有請願、訴願及訴訟的權利」，即所謂的救濟權。下列關於救濟權的敘述，何者正確？
 (A)請願是人民針對政府行政機關有違法或不當的行政處分，以致損害個人權益時，向原機關或上級機關提起救濟
 (B)訴願是指人民對於政策或利益，向行政主管機關或民意機關提出建議或陳述願望
 (C)請願、訴願與訴訟都是經由法院尋求救濟，希望變更不當的政策或行政處分
 (D)訴訟是人民認為權利遭受不法侵害時，可以請求法院判決，以排除侵害或獲得賠償
49. 承上題，我國憲法第 16 條規定：「人民有請願、訴願及訴訟的權利」，即所謂的救濟權。這三者也是人民的基本權利中的哪一種權利？ (A)平等權 (B)自由權 (C)受益權 (D)參政權
50. (台視新聞網 2022 年 4 月 10 日) 2021 年 5 月本土疫情正嚴峻時，有間高中全校進行線上教學，但該校有名學生竟然假冒成校長，亂入線上課程「巡堂」，甚至當場要求老師報告課程內容、跟其他學生對話，事後遭學校記大過處分。該生不服表示他只是使用虛構名字當作網路帳號名稱，沒有假冒他人身分，更沒有使任何人名譽受損，不符合該校校規中記大過的條件。於是該生向學校提起申訴，卻遭到該校駁回。因此該生再向此一高中的上級機關教育部提起□□，現在教育部□□會決議撤銷大過，要求學校 60 天需內重作處分。原因是因為在該校校規中，有條文明確指出，學生使用校園網路傳送不實資訊僅可記小過處分，但校內獎懲會上都沒有針對較輕的小過做討論，卻直接記大過，故行政上的確有瑕疵。請問：上文的新聞中的□□應該是下列何者？
 (A)彈劾 (B)請願 (C)訴願 (D)訴訟
51. 新型冠狀病毒疫情全球流行，中央流行疫情指揮中心宣布醫事人員禁止出國命令，除非報准，不得出國。請問：上述的狀況中，與人民的哪一種基本權利有關？
 (A)居住及遷徙自由權 (B)集會及結社自由權 (C)階級平等權 (D)工作及生存權
52. 我國憲法第 22 條規定：「凡人民之自由及權利，不妨害社會秩序及公共利益者，均受憲法之保障。」由此判斷，下列哪一種行為不受法律之保障，最可能有違法或犯罪之嫌疑？
 (A)欲岸在 FB 上咒罵老天爺是王八蛋 (B)博盈上學途中把自行車停在附近民宅後方防火巷口
 (C)語琴在大馬路上邊走邊吃早餐 (D)卿權在家中自己的房間內沒穿衣服，卻忘了拉窗簾
53. 右表為我國預算的編審和決算的審核程序，請問空格中的甲和乙分別應該填入哪一個機關？
 (A)甲:立法，乙:審計 (B)甲:行政，乙:銓敘
 (C)甲:司法，乙:法務 (D)甲:監察，乙:考選
54. 蘭嶼護理師蔡邑敏 2018 年 2 月協助患者後送任務，搭黑鷹救護直升機墜海身亡。官員解釋本案符合「執行職務發生意外或危險以致死亡」的因公撫卹類型，但要請領最高等級的「冒險犯難」因公撫卹，就需要更謹慎的認定。此話一出，引發社會批評。請問：被社會批評的機關為下列何者？
 (A)法務部 (B)銓敘部 (C)衛服部 (D)考選部
55. 總統可以發布「緊急命令」，這是總統很大的權力，一旦生效後，總統所有的施政可以跳過立法院，直接行使權力。為了避免總統濫用「緊急命令」權力，憲法的規定如何限制總統的這項權力？
 (A)須經行政院會議之決議同意即生效
 (B)總統可以基於任何事由發布緊急命令
 (C)立法院不同意時，緊急命令立即失效
 (D)發布緊急命令後，立法院必須主動在 7 日內追認
56. 立法委員可以對總統提名的哪些重要官員行使同意權，下列何者完全正確？



(甲:行政院長); (乙:教育部長); (丙:考試院正、副院長); (丁:大法官); (戊:監察院審計長)

- (A)甲乙丙 (B)乙丙丁 (C)丙丁戊 (D)甲丙丁

57. 宋朝宰相王安石力圖變法，但因個性固執，不接納眾人意見，加上用人不當，導致變法失敗。若某部連續劇讓王安石以穿越時空的方式，意外成為我國最高行政機關首長，然而他的作風依舊不變，引發朝野不滿。根據我國現行憲政體制判斷，下列何者最可能是穿越時空後的王安石將面臨的處境？

- (A) 由憲法法庭審理 (B) 被監察院提案糾正
(C) 遭立法院提出彈劾案 (D) 遭立法院提出不信任案 【108 會考】

58. 阿鴻參加大學同學會，同桌有四位任職於我國中央政府機關的同學，分別談論了自己的工作職權，聊天內容與座位如右圖所示。若阿鴻兩旁的同學分別任職於司法院與監察院，根據圖中內容判斷，他的座位最可能位於圖中何處？

- (A) 甲 (B) 乙 (C) 丙 (D) 丁 【109 會考改編】



59. 某日阿蔚透過網路觀看立法院的議事實況轉播，根據我國現行法律規定，他最可能看見下列何者的轉播情況？

- (A) 行政院部會首長回答立委的質詢 (B) 表決對行政院的糾正提案
(C) 召開行政院會議規畫施政方針 (D) 審理總統、副總統彈劾案 【111 會考改編】

60. 立法院前祕書長在任內涉及以職權壟斷立法院電腦資訊採購收賄，且違法失職事證明確，情節重大，依法監察委員通過「甲」案，並移送懲戒法院。請問：「甲」為下列何者？

- (A) 罷免 (B) 糾舉 (C) 糾正 (D) 彈劾

二、題組題 (每題 5 分；共 25 分)

(一) 閱讀下列短文，回答下列問題：

國父孫文為何會把監察權、考試權分別提升位階至「院級」？根據孫中山的說法，外界解讀是因為中國向來重視家族、族人，若是一人得道，可能雞犬升天。

有些學者也認為美國「三權」不夠完備，其中最著名「濫用私人」的例子，是美國第 7 任總統傑克遜當選後，大量撤換聯邦政府官員，取而代之是自己的支持者與友人，被稱為「傑克遜民主的分贓」。這個情況直到 1883 年才被「彭德爾頓法案」終結，這項法案確認了美國聯邦政府的制度原則，即「競爭考試、職務常任、政治中立」。

孫文當年認為，立法機關擁有監察權，會出現「國會專制」的流弊。例如：美國監察權由議院掌握，往往使行政機關不得不俯首聽命，因此常常成為議院專制。現在的美國依舊出現議員權力過大，導致難以制衡的案例。如：前美國西維吉尼亞州聯邦參議員勃德，他在任時不斷把中央預算轉到自己的家鄉，其中在內陸的西維吉尼亞州，竟然成立了海巡署的國家海洋中心。

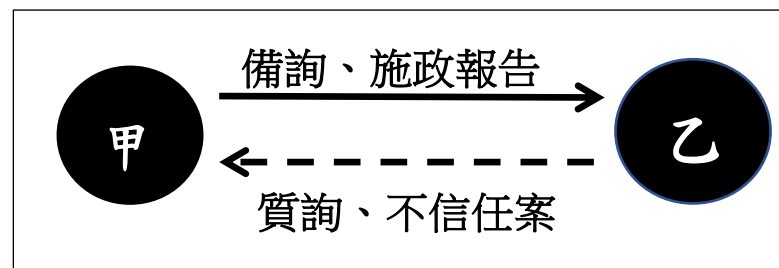
61. 上文中，美國總統大量撤換聯邦政府官員，是屬於何種政府權力的行使？

- (A) 立法權 (B) 行政權 (C) 考試權 (D) 監察權

62. 孫中山先生將監察權、考試權分別提升位階至「院級」，依上文中所提到的內容，下列哪一個是孫中山所主張的正確理由？

- (A) 將考試權從立法權獨立出來，是為了避免國會專權 (B) 將監察權從立法權獨立出來，是為了避免濫用私人
(C) 將考試權從行政權獨立出來，是為了避免濫用私人 (D) 將監察權從行政權獨立出來，是為了避免國會專權

(二) 右圖為我國中央政府裡兩個機關之間的關係，請依右圖所示內容回答下列問題：



63. 請問圖中的甲和乙機關名稱各為何者？

- (A) 甲:立法院, 乙:考試院 (B) 甲:行政院, 乙:立法院
(C) 甲:行政院, 乙:監察院 (D) 甲:立法院, 乙:司法院

64. 若乙對甲提出不信任案，並且通過，則甲有什麼權力反制乙？

- (A) 呈請總統解散乙院 (B) 對乙院的委員提出彈劾案
(C) 糾正乙院的不當措施 (D) 刪除乙院所送交的總預算案

65. 承上題，請問：甲和乙之間應該存在下列何種關係最為適當？

- (A) 甲對乙擁有上級對下級的管理命令之權 (B) 彼此之間毫無關係，互不干涉
(C) 甲和乙之間互相合作，避免彼此監督 (D) 彼此權力分立，互相監督制衡

宜昌國中 112 學年度第一學期第二次段考八年級社會科答案

地理科：1~25 題，每題 4 分

歷史科：26~45 題，每題 5 分

公民科：46~65 題，每題 5 分

1.	2.	3.	4.	5.	6.	7.	8.	9.	10.
D	C	B	B	C	B	C	D	B	D
11.	12.	13.	14.	15.	16.	17.	18.	19.	20.
A	C	B	A	C	C	D	A	D	C
21.	22.	23.	24.	25.	26.	27.	28.	29.	30.
B	A	A	B	A	C	A	D	B	A
31.	32.	33.	34.	35.	36.	37.	38.	39.	40.
D	D	C	B	D	B	C	C	A	C
41.	42.	43.	44.	45.	46.	47.	48.	49.	50.
D	C	A	B	A	A	D	D	C	C
51.	52.	53.	54.	55.	56.	57.	58.	59.	60.
A	B	A	B	C	C	D	B	A	D
61.	62.	63.	64.	65.	66.	67.	68.	69.	70.
B	C	B	A	D					