



班級：7 年\_\_班 座號：\_\_\_\_\_ 姓名：\_\_\_\_\_

一、選擇題：(每題 2 分，共 40 題，80 分)

- ( ) 1. 阿雅準備「歷史是什麼？」的課堂報告，他的報告中會出現下列哪一說明？[課本 p.82]  
(A) 歷史是對過去的記錄 (B) 歷史是未來會發生的事  
(C) 歷史是對當下事件的解釋 (D) 歷史是未經證實的民間傳說。
- ( ) 2. 在清帝國時期的臺灣地方縣志中，常可看到以「生番」、「熟番」的名詞來稱呼原住民，當時清廷區分生、熟番的標準為何？[課本 p.93]  
(A) 居住地區的不同 (B) 是否歸順朝廷  
(C) 打獵或農耕的生活型態 (D) 以種族血統來區分。
- ( ) 3. 西元 1597 年，有一封呈報給國王的信中寫到：「我們希望占領福爾摩沙的這個港口，最迫切的理由是為了確保菲律賓的安全。因為……日本企圖奪取這個港口以進占馬尼拉，我們要確保菲律賓的安全就必須擁有這個港口。」由上述背景判斷，這封書信最有可能是呈報給哪一國國王？[習作 p.24]  
(A) 菲律賓國王 (B) 奧地利國王 (C) 西班牙國王 (D) 葡萄牙國王。
- ( ) 4. 中古歐洲的基督教傳教士，會採用拉丁文(羅馬字)拼注異教徒的語言成文字，以教導異教徒閱讀聖經。在臺灣史上，有哪一國的基督教傳教士為方便向臺灣原住民傳教，也採取類似作法？[習作 p.26]  
(A) 英國 (B) 荷蘭 (C) 西班牙 (D) 葡萄牙。
- ( ) 5. 右圖描繪的是清帝國時期平埔族的風情，圖中受教育的皆平埔族的孩童，並穿著漢人服飾。請問：由圖可判斷下列敘述何者正確？[課本 p.137]  
(A) 該場所為官方設立的書院  
(B) 平埔族逐漸受到漢人文化影響  
(C) 圖中的場所主要位於東部深山  
(D) 男童與教師交談皆用平埔族語。



- ( ) 9. 下圖為清康熙年間爆發的民間大規模反抗官府事件，由圖可知這位帶頭的領袖為何人？[課本 p.114]



- (A) 郭懷一 (B) 戴潮春 (C) 朱一貴 (D) 林爽文。
- ( ) 10. 旅行社的某個旅遊行程簡介，「會途經『吳沙國民中學』，還有吳沙的故居。其三合院至今仍保存完整，屬於閩南式建築。」這個旅遊的觀光地點，應是下列何地？[習作 p.33]
- (A) 臺南 (B) 宜蘭 (C) 高雄 (D) 新竹。

- ( ) 11. 右圖代表臺灣北部三個分布區域相同的考古遺址，依據圖片上的說明及排列順序，最上層的應該是哪一考古遺址？[課本 p.90]



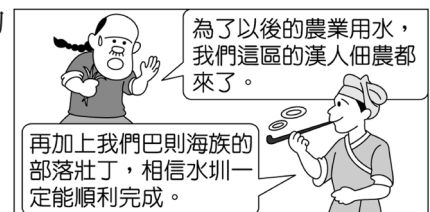
- (A) 卑南文化  
(B) 長濱文化  
(C) 圓山文化  
(D) 十三行文化。

- ( ) 12. 「面對漢人拓墾者的蠶食鯨吞，一些噶瑪蘭人在 1840 年（道光 20 年）左右前來後山的奇萊平原，重新建立家園。」下列選項中何者符合題文所述的噶瑪蘭人移動方向？

[習作 p.37]

- (A) 宜蘭→基隆 (B) 南投→花蓮 (C) 宜蘭→花蓮 (D) 臺南→南投。
- ( ) 13. 佩潔與同學聊天時發現同一個字或詞會有不同的讀法，例如：「筷子」在福佬（閩南）話可唸成「ㄅㄛ」或「ㄅㄨㄛ」等，客家話的其中一種則念成「ㄅㄨㄛ」。上述多種讀法並存的現象，與下列何者的發展最有關係？[習作 p.37]
- (A) 渡海來臺的人祖籍不同 (B) 清政府正在培養外語人才  
(C) 臺灣原住民有許多族別 (D) 荷蘭人曾來臺發展貿易。

- ( ) 14. 下圖出現在歷史課本第 123 頁，清帝國時期水圳建設的段落，由這條水圳的興建背景判斷，是指哪一條水圳？



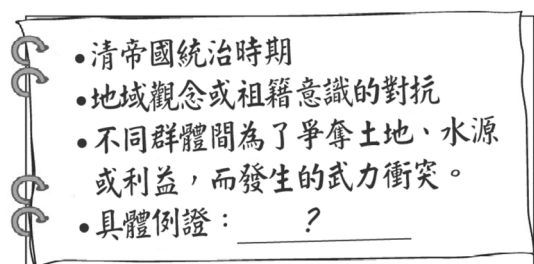
- (A) 瑠公圳  
(B) 八堡圳  
(C) 曹公圳  
(D) 貓霧揀圳。

- ( ) 15. 新莊萬應堂所祭拜的萬應公，也就是有應公，其實就是無主的孤魂，一般人認為死去的靈魂若無神主，無後代祭祀，不但會變成孤魂野鬼無法超生，而且會作祟危害世間，即臺灣民間的「有應公信仰」。此一信仰反映出當時哪種社會現象？[習作 p.37]
- (A) 移民生活安定 (B) 政府欺壓移民 (C) 分類械鬥頻繁 (D) 擔心官員懲罰。

- ( ) 16. 右圖描述臺灣史上某一時期的社會現象，圖中的「具體例證」，最適合填入下列何者？

[106. 會考] [習作 p.37]

- (A) 漳州人與泉州人的衝突  
(B) 郊商與洋商的對抗  
(C) 士紳與傳教士的衝突  
(D) 地主與官府的對抗。



- ( ) 17. 仲葳同學在瀏覽網頁時，看到了一篇報導：

1871 年，琉球王國宮古島民的進貢船，因颱風漂流到臺灣東南海岸八瑤灣，54 人被牡丹社和高士佛社的排灣族人殺害，12 人逃出。3 年後，日本因此出兵臺灣，排灣族人憑藉石門隘口天險奮勇抵抗……。  
……將殺害琉球人的排灣族人塑造成野蠻民族，讓當地排灣族人多年來承受歷史上的汙名。

從文中內容判斷，此一事件應是下列何者？ [習作 p.29]

- (A) 英法聯軍 (B) 清法戰爭 (C) 牡丹社事件 (D) 戴潮春事件。
- ( ) 18. 劉銘傳治臺時，曾經大力推行許多現代化建設。而當時住在臺北的居民，可能會有怎樣的生活經驗？ [習作 p.30]
- (A) 坐火車到高雄遊覽 (B) 打電報給臺南的親友  
(C) 曾目睹西班牙人占領臺灣北部 (D) 禁止進入原住民居住的地區。

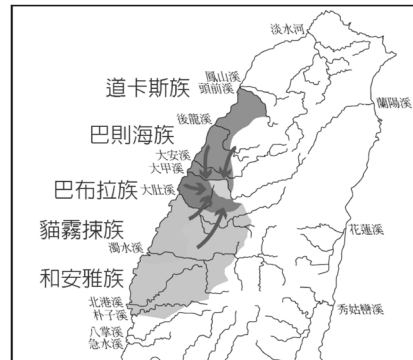
- ( ) 19. 右表是某段時期臺灣進出口值統計表。表中哪一期間開始，反映出臺灣對外貿易由入超轉變為出超？ [習作 p.33]

期間	出口	進口
	年平均值	年平均值
1868~1869	93.0	124.5
1870~1874	172.0	174.4
1875~1879	282.3	272.0
1880~1884	427.3	318.8
1885~1889	435.7	361.8
1890~1894	570.7	431.0

- (A) 1868 ~ 1869  
(B) 1870 ~ 1874  
(C) 1875 ~ 1879  
(D) 1890 ~ 1894。

- ( ) 20. 勁群參加旅行社所舉辦的淡水之旅，抵達當地後，導遊帶領他們到某棟建築物前，並解說：「這位傳教士的人生期許是『寧願燒盡，不願鏽壞。』因此積極在臺傳教，並創辦各種教學場所，如你們眼前所看到的牛津學堂就是他所興建的。」請問：導遊介紹的傳教士是下列何人？ [課本 p.136]
- (A) 馬偕 (B) 沈有容 (C) 鄭芝龍 (D) 馬雅各。

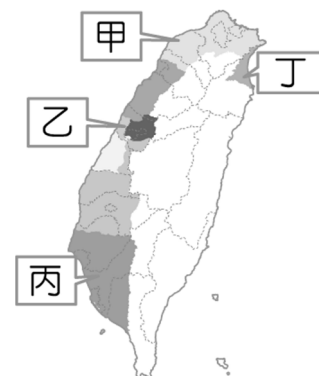
- ( ) 21. 在 1804 年（嘉慶 9 年），臺灣部分地區平埔族群在巴則海族頭目的號召下聚集（如右圖所示），隨後沿著大甲溪溯溪北上，準備遷移至一個尚未被清帝國派官管理的新天地。請問：這群平埔族遷移目的地應是現今的何處？



- [習作 p.38]  
(A) 臺東  
(B) 臺北  
(C) 恆春  
(D) 宜蘭。


- ( ) 22. 保存古蹟的意義，在於它們能引領後人回到歷史現場，去感受當時的重大變遷或現象。基隆的「海門天險」與臺南的「億載金城」均為國定古蹟，這兩處古蹟的出現，反映當時有何迫切的需要？ [109. 會考]
- (A) 招撫原住民 (B) 防止列強入侵 (C) 拓墾丘陵、山地 (D) 掃蕩武裝抗日勢力。

- ( ) 23. 「大肚王國奇遇記」歌舞劇 2017 年在 大肚國小 首演。劇中主角穿越時空回到 400 年前，被巴布拉族人發現，繼而和他們一起冒險，抵禦荷蘭人的不合理要求，最後為了解救部落的危難，頭目壯烈犧牲，而主角也回到現實世界。請問：上文中提到的原住民，應該分布在右圖中的何處？ [課本 p.109]



- (A) 甲 (B) 乙 (C) 丙 (D) 丁。

- ( ) 24. 動畫公司設計一部名為「百步蛇與太陽旗的戰爭」的短片，若影片內容須合乎歷史發展脈絡，則下圖中「丙場景」應為下列何者？ [習作 p.29]

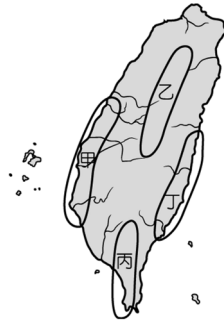


- (A) 朝廷任命沈葆楨為欽差大臣，來臺加強防務  
 (B) 原住民在南投山區抗日，日軍傷亡慘重  
 (C) 淡水、基隆為主要戰場，兩軍死傷無數  
 (D) 清廷派軍參戰，因戰事失利，被迫割讓臺灣。
- ( ) 25. 漢原關係一直是統治臺灣的政權所面臨的難題，下列為各政權對此所採行的措施，請按照時間先後順序排列？ [課本 p.103、p.107、p.137]  
 甲：大批漢人來臺後，透過買賣、欺騙等手段取得原住民土地，使平埔族群的生存空間大幅縮減。  
 乙：歸順的部落長老、頭目參與地方會議，以協助政令推行。  
 丙：為解決糧食不足而實施軍屯，不斷開墾而使原漢關係緊張。  
 (A) 乙甲丙 (B) 乙丙甲 (C) 丙乙甲 (D) 甲乙丙。

- ( ) 26. 清帝國統治時期，臺灣曾出現一種稱為「郊」的組織，依其性質推斷，這種組織主要分布在右圖中何處？


[97. 第一次基測修訂]

- (A) 甲  
 (B) 乙  
 (C) 丙  
 (D) 丁。



- ( ) 27. 歷史老師畫了一張「史前人類生活」示意圖（右圖），希望可以幫助學生記憶。根據圖中內容判斷，老師正在教授哪一個範圍的課程？ [課本 p.89]

- (A) 舊石器時代 (B) 新石器時代  
 (C) 青銅器時代 (D) 鐵器時代。



- ( ) 28. 下表呈現史前人類生活情形的變化，若要以「舊石器時代→新石器時代」的方式，表示舊石器時代至新石器時代的文化變遷，表中甲、乙、丙、丁何者最為適切？ [108. 會考]

甲	種植根莖類作物→種植稻米
乙	打製石器→磨製石器
丙	燒製陶器→冶煉鐵器
丁	不知用火→用火煮食

- (A) 甲 (B) 乙 (C) 丙 (D) 丁。

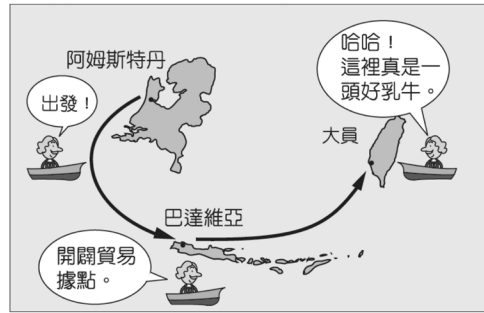
- ( ) 29. 右圖為展示於澎湖天后宮的「臺澎第一碑」。請問：此碑應呈現了下列哪一項事件？ [習作 p.24]

- (A) 西班牙東來亞洲尋求貿易  
 (B) 葡萄牙強占澳門作根據地  
 (C) 荷蘭人攻打澳門葡萄牙人  
 (D) 明軍將領逼退澎湖荷蘭人。



- ( ) 30. 荷蘭東印度公司總督曾說：「臺灣真是一頭好乳牛。」這句話表示臺灣為他們公司帶來相當大的利益。這是因為荷蘭人積極經營下列哪些臺灣的特產？ [習作 p.23]

(A) 甲丙丁 (B) 乙丙丁  
(C) 甲乙丙 (D) 甲乙丁。



- ( ) 31. 亨利王子是國王若昂一世的第三子，他不是王儲，卻在他的國家中有其影響力，建立了全世界首間航海學校、天文臺、圖書館、港口及船廠，也是在他的大力推廣與建立基礎上，他的國家率先找到前進東方的新航路，而且占領中國的澳門作為貿易的據點。根據上述，亨利王子是哪一國家的人？ [課本 p.99]
- (A) 葡萄牙 (B) 西班牙 (C) 印度 (D) 日本。
- ( ) 32. 歷史老師講述 17 世紀的大航海時代各方勢力在臺灣的競逐，並發給同學以下資料。請閱讀後回答問題：

資料一：1637 年 7 月，臺灣的□□長官在日誌中寫下：「要派往日本的快艇今天已經裝貨完畢，其中有 84 箱絲織品、94 袋香料、1116 籃砂糖、232 捆鹿皮。明天清晨，如果天氣許可，即可出航。願神保佑他們一路平安。」  
(資料來源：江樹生譯註，熱蘭遮城日誌)

資料二：日本在 17 世紀時，曾對到日本的外國人進行管控與限制，其主要的內容有：  
一、禁止日本船出海貿易以及與海外人士往來。  
二、取締天主教的傳教活動。  
三、監視駛抵日本的外國船隻，並嚴格管控貿易活動。  
這段期間，禁止外國對日貿易，但是□□、中國可至指定港口長崎進行貿易。  
(資料來源：鄭學稼，日本史(三))

根據資料一、資料二的內容判斷，□□應為下列何者？ [習作 p.25]

(A) 葡萄牙 (B) 西班牙 (C) 英國東印度公司 (D) 荷蘭東印度公司。

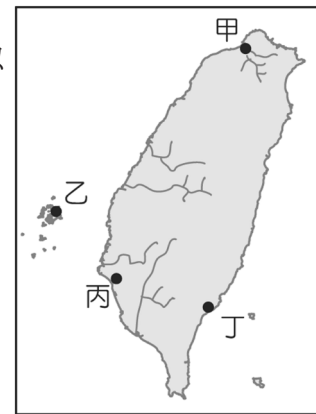
- ( ) 33. 有一本歷史書籍記載：「鄭成功來臺灣經營，帶來很多士兵及眷屬，為解決糧食問題而實施『寓兵於農』的屯田制度，今天可以從臺灣南部地區的地名，看出屯田的影子。」下列哪一個地名與屯田有關？ [習作 p.24]
- (A) 高雄市美濃區 (B) 臺南市白河區 (C) 高雄市左營區 (D) 屏東縣恆春鎮。
- ( ) 34. 西元 1636 年 2 月，28 名來自臺灣西南部平原的原住民部落代表，因受統治當局召集在某地聚會。會中，統治者授予旗幟、黑絨禮袍，還送了嵌著銀杖頭的籐杖，象徵他們的地位與權威。這個統治當局，最有可能是下列何者？ [習作 p.26]
- (A) 鄭氏政權 (B) 日本幕府 (C) 西班牙 (D) 荷蘭。

- ( ) 35. 阿美族是臺灣原住民族群中人數最多的一族。請問：阿美族大多分布在右圖中的哪一區域？ [課本 p.95]

(A) 甲  
(B) 乙  
(C) 丙  
(D) 丁。



- ( ) 36. 下列關於「海商」的敘述，何者正確？ [習作 p.24]
- (A) 為日本人組成的海盜，肆意搶奪臺灣沿海城市  
(B) 明政府派兵進駐臺灣，海商遂轉移到澎湖  
(C) 因應明代海禁政策，進行走私而興起  
(D) 17 世紀初主要以金門、馬祖為根據地。
- ( ) 37. 現今屏東外海的小琉球島上，居民皆是漢人。但我們卻可發現島上有「烏鬼洞」等地理名稱，也有「烏鬼番」等傳說。史學家曹永和的研究中呈現：1630 ~ 1640 年代某國殖民者因該國船民在島上遇害，遂自臺灣調軍到小琉球進剿、鎮壓，導致島上原住民遭到屠殺與被迫遷移。此某國應是哪個國家？ [習作 p.26]
- (A) 荷蘭 (B) 中國 (C) 日本 (D) 西班牙。
- ( ) 38. 清帝國時期臺灣民變頻仍，因此有「三年一小反，五年一大亂」的說法，下列何者最可能是當時民變頻傳的原因？ [課本 p.114]
- (A) 清初採取積極治臺，行政區劃與人員分配不均  
(B) 治臺官員素質欠佳，吏治不良  
(C) 無業無家室的原住民過多，是社會動亂的原因  
(D) 原住民為求自保，組成各種團體，會黨勢力盛行。
- ( ) 39. 以下是一段 17 世紀的文獻記載：「西班牙人每年向該地的已婚原住民課徵二隻雞和三甘當米的稅，原住民感到無法忍受，所以襲擊該地的西班牙城堡，殺了三十個西班牙人。」此段記載最可能是描繪右圖中何處的情況？  
(註：甘當：一種量米的容器) [104. 會考]



- (A) 甲  
(B) 乙  
(C) 丙  
(D) 丁。
- ( ) 40. 清帝國初期，臺灣社會上有許多的「羅漢腳」。  
請問：造成這種現象的原因為何？ [課本 p.113]
- (A) 西方傳教士來臺傳教 (B) 清廷遣送罪犯至臺灣  
(C) 渡臺禁令影響 (D) 反清戰爭所造成。

二、題組題：（每題 2 分，共 10 題，20 分）

新竹北埔的「金廣福」是清代一個合資開發公司的名稱，「金」是當時習見的公司名號、「廣」代表廣東、「福」則是代表福建。「金廣福」公館，是清代公家與墾戶的辦事處，公館旁邊是姜家祠堂——天水堂。道光年間，政府鼓勵金廣福成立民間的防禦拓墾組織——金廣福大隘，此隘是由數十個隘所組成的防禦工事，專門抵禦外來的侵略，保護武裝拓殖「番地」的據點。

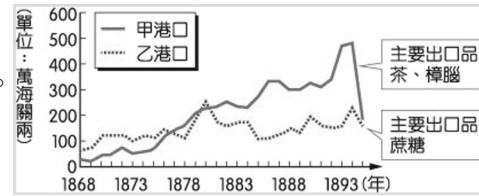
[習作 p.36]

- ( ) 41. 文中提及的「金廣福」可能是下列哪兩者合資開發的公司？
- (A) 漳州人、泉州人 (B) 漳州人、原住民  
(C) 泉州人、原住民 (D) 閩南人、客家人。
- ( ) 42. 文中提及的「金廣福」公館，可能會經手哪些事務？
- (A) 仲裁漢人與外國商人的貿易糾紛  
(B) 處理招收開墾佃農及收隘租事宜  
(C) 負責與臺北府洽談茶葉出口事宜  
(D) 發行墾照給渡臺的漢人進行拓墾。

張老師在上課時，提供下列四則資料。請閱讀下列資料回答問題：

資料一：

臺灣某時期起，兩大港口的海關出口值統計圖。



資料二：

1880 年代，有位外國商人來臺購買茶葉，他在日記提到「這座城市的城牆剛蓋好，附近山區，有處泉水區，溫度很高，靠近時要小心被蒸氣燙傷，空氣中瀰漫著濃烈的硫磺味，惡劣的環境不利植物生長。周圍泉水沸騰的聲響很大，就好像地下有一個 24 小時運作的工廠一樣。」

資料三：

臺灣山林盛產樟樹，樟木是造船最好的原料之一，工匠除採伐樟木外，也生產樟腦。然而，清帝國的政策是禁止私人山林伐木製腦，形成官方獨占專賣。臺灣開港後，外商因樟腦是製造火藥的原料，紛紛來臺，不顧清廷禁令購買樟腦，因此數次引發衝突，英國也派軍介入。禁令廢除後，清廷更是無法遏止樟腦的私製及外商勢力的介入。到了 1890 年，臺灣樟腦的產量已位居世界第一，廣銷到世界各地。

資料四：

本市港口在開港通商後，漸漸自漁港轉型為商港。1863 年，正式開放成為國際貿易港，出口貨物以蔗糖為主。1879 年，英國政府在港口北側山丘，興建領事館處理商務。1880 年代前期，臺灣蔗糖產量與對外出口量達到高峰。不料因被法國海軍封鎖港口一段時間，導致糖價暴跌，使得臺灣糖業受挫。

[習作 p.35]

- ( ) 43. 請由這四則資料判斷張老師上課的主題，最有可能是下列何者？  
 (A) 18 世紀臺灣農業 (B) 19 世紀臺灣漁業  
 (C) 清代開港通商後的發展 (D) 清代的林業與開發。
- ( ) 44. 請根據資料一及資料四的內容，判斷資料四的港口應為臺灣哪個港口？  
 (A) 安平 (B) 淡水 (C) 雞籠 (D) 打狗。

請閱讀下列二段史料，並回答問題：

史料一：四月六日，……附近的頭目們都來歡迎我們的到來，如新善、開港等里，王爺下令準備豐富的宴會款待他們，並賜頭目們官服官帽。之後其他較遠的村落頭目也都來歸順我們，原住民部落皆臣服於王爺的統治之下，表明不再信仰紅毛番的宗教。

史料二：南部原住民面對新政權時，皆毫未反抗就服從國姓爺，並把基督教義視為無物。當我國長官欲懲罰原住民時，他們竟表示願意臣服國姓爺，不再歸順我國政權。我推測此轉變肇因於我國統治後期對原住民部落管制及稅捐日益嚴苛。

[課本 p.109]

- ( ) 45. 史料一與史料二，撰寫人的立場相同嗎？  
 (A) 不相同，彼此是競爭關係 (B) 不相同，彼此毫無關聯  
 (C) 相同，彼此是合作關係 (D) 相同，彼此是同一個政權。
- ( ) 46. 史料一與史料二中所提到的「國姓爺」、「王爺」指的是哪一位人物？  
 (A) 沈有容 (B) 顏思齊 (C) 鄭成功 (D) 鄭芝龍。

1697 年（康熙 36 年），郁永河奉命來臺採集硫磺，他帶領工人由府城安平沿岸北上。他觀察到此處少壯未婚的男子都居住在一間比較大的住屋，叫做「公廨」，這是村民們平常議事的場所。

郁永河歷經艱苦後終於抵達目的地——現今的北投地區，他僱用當地原住民，讓原住民以獨木舟載運硫土到他的工寮換取布匹，再由漢人工人展開提煉硫磺工作。

[習作 p.21]

- ( ) 47. 郁永河記錄的臺灣西南地區原住民習俗，最可能與下列哪一原住民有關？  
(A) 凱達格蘭族 (B) 西拉雅族 (C) 噶瑪蘭族 (D) 巴則海族。
- ( ) 48. 郁永河所僱用採集、運送硫土的原住民，應為下列何者？  
(A) 凱達格蘭族 (B) 西拉雅族 (C) 噶瑪蘭族 (D) 巴則海族。

**資料一：清代番俗六考**

「沙轆（今臺中市沙鹿區的舊稱）番，原有數百人，勢力最大，後遭鄭氏將領劉國軒殺害，剩下的六人，躲藏在海口。」

**資料二：清代郁永河裨海紀遊**

「鄭氏繼荷而至，立法嚴格，殺戮不分男女老幼……。今大肚、牛罵（今臺中市清水區的舊稱）、大甲、竹塹（今新竹地區的舊稱）諸社，草木叢生、土地荒廢不見一人……。」

[習作 p.27]

以上這兩段資料，是清帝國統治臺灣初期對於臺灣原住民處境的描述。請問：

- ( ) 49. 這兩段資料主要描述的臺灣原住民處境，是指臺灣的哪個區域？  
(A) 東部 (B) 南部 (C) 北部 (D) 中部。
- ( ) 50. 這兩段資料都將臺灣部分原住民處境差與人口銳減的責任歸咎於何者？  
(A) 荷蘭人 (B) 清帝國 (C) 西班牙人 (D) 鄭氏政權。

----- 試題結束，請細心檢查。 -----



花蓮縣宜昌國民中學 112 學年度第一學期七年級第 3 次段考社會科(歷史)答案

1	2	3	4	5	6	7	8	9	10
A	B	C	B	B	D	D	A	C	B
11	12	13	14	15	16	17	18	19	20
D	C	A	D	C	A	C	B	C	A
21	22	23	24	25	26	27	28	29	30
D	B	B	A	B	A	B	B	D	C
31	32	33	34	35	36	37	38	39	40
A	D	C	D	D	C	A	B	A	C
41	42	43	44	45	46	47	48	49	50
D	B	C	D	A	C	B	A	D	D