

花蓮縣宜昌國民中學 112 學年度第一學期八年級第 3 次段考社會科試題

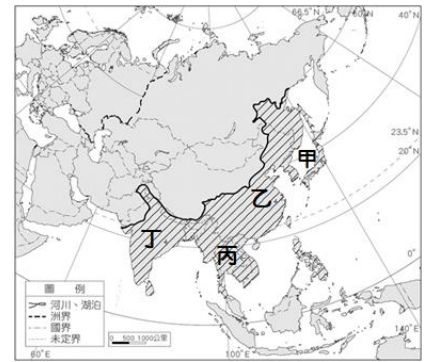
(地理部分) 命題教師：林素葉

班級：_____ 姓名：_____ 座號：_____

※單選題 (每題 5 分，共 100 分)

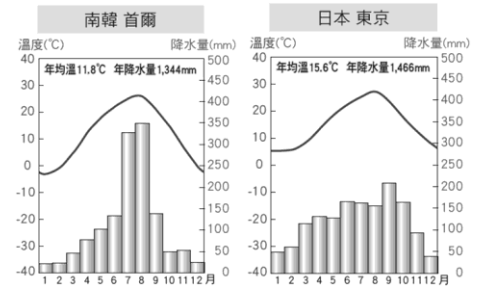
1. 右圖中斜線區塊為某種氣候類型的主要分布地區，關於該氣候分布地區的地理特色，下列敘述何者『錯誤』？

- (A) 甲氣候區季風風向與台灣季風風向一致
- (B) 本氣候區地狹人稠主要以集約農業為主
- (C) 冬夏季節風向相反，且主要降雨季節分布於夏季
- (D) 台灣南部氣候與丙氣候區相同



2. 右圖是南韓首爾與日本東京的氣候圖，由圖可以觀察到東京的降水較首爾多、年溫差也較小，請問最主要的影響因素可能為下列何者？

- (A) 地勢的高低
- (B) 工業發展程度
- (C) 經度的差異
- (D) 海洋的調解



3. 日本在 2011 年 3 月 11 日發生東日本大地震，帶來海嘯、餘震等災害，死亡人數超過 15,000 人，為日本歷史上傷亡及經濟損失最慘重的天災之一。請問日本多地震的原因與哪項位置特性最有關聯？

- (A) 海洋與大陸的交會位置
- (B) 東北季風和西南季風的交替位置
- (C) 回歸線的通過位置
- (D) 板塊交界的接觸位置

4. 日本石川縣能登半島 2024 年 1 月 1 日當地時間下午 4 點 10 分發生規模 7.6 強震，最大震度 7，劇烈搖晃導致多棟建築物倒塌，並引發大規模火災。右圖為日本石川縣發生強震位置圖。(圖片來源/TVBS) 請問此次地震發生的能登半島位於下列哪一地區？

- (A) 北海道 (B) 本州 (C) 四國 (D) 九州



5. 承上題，能登半島強震發生後，官方隨即針對石川縣一帶發布「大海嘯警報」，一度預估恐有 5 公尺海嘯出現；日本氣象廳也針對其他 ○○海沿岸縣市發布海嘯警報。其中，新潟縣有監視器拍到海嘯侵襲，多條河川出現海水倒灌；還有鏡頭捕捉到汽車直接被海嘯浪頭「吞沒」的瞬間。請問 ○○海沿岸指的最可能是下列何者？

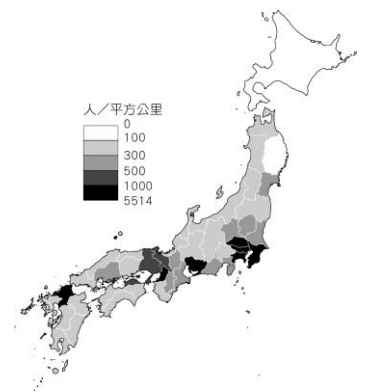
- (A) 日本海 (B) 北極海 (C) 黃海 (D) 太平洋

6. 日本石川縣地震引起世界各國關注，截至目前為止死亡人數已超過百人。北韓領導人金正恩 5 日罕見向日本首相岸田文雄致電慰問，祈求受災區的民眾能盡早恢復穩定生活。請問此通慰問電話最可能來自下列哪一個地區？

- (A) 能登半島 (B) 中南半島 (C) 朝鮮半島 (D) 恆春半島

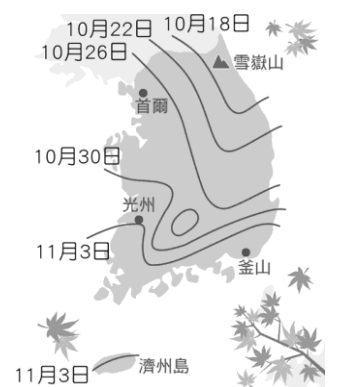
7. 右圖為日本行政區的人口面量圖，圖中顏色愈深之處，代表該行政區的人口密度愈高。請問：其人口集中地區的最主要共通點為下列何者？

- (A) 氣候條件一致 (B) 經緯度相當
- (C) 地勢相對平坦 (D) 行政等級相當



8. 新聞報導：「南韓初楓預測已經出爐！從右圖中可以看到，今年南韓第一波楓紅將落在 10 月 18 日，由雪嶽山開始，從這之後將以每日往南 20 至 25 公里的速度，遍及至南韓各地。」根據上述報導內容，影響南韓楓紅主要因素應為下列何者？

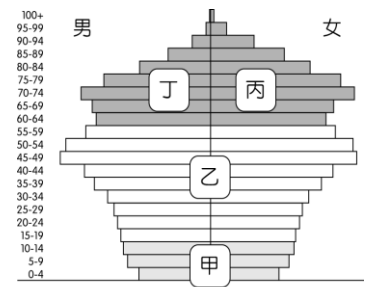
- (A) 緯度 (B) 經度
- (C) 雨量 (D) 距海遠近



9. 南韓、日本每到櫻花盛開或楓葉轉紅時常吸引來自其他國家遊客觀光攬勝，但同屬與東北亞的北韓觀光客卻相對較少，請問下列對於北韓敘述何者正確？

- (A) 北韓經濟以民生工業為主不須依賴觀光業
- (B) 北韓實施共產主義日常用品需從南韓進口
- (C) 北韓因發展核武而受歐、美國家經濟制裁
- (D) 北韓礦產資源豐富經濟發達

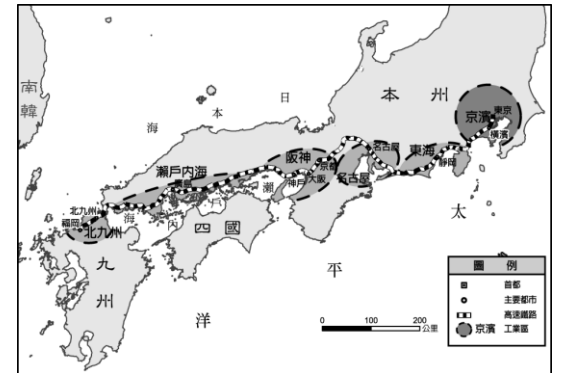
10. 日本上班族在下班後的應酬或聚餐時常舉行飲酒會來熱絡、拉近彼此距離，形成獨有的酒場文化，啤酒產業也因此蓬勃發展，然而自 1994 年的 5 億 7 千萬產值的盛況以來年年衰退，問題在於啤酒市場的主力消費年齡層減少影響買氣，啤酒品牌紛紛轉型另闢市場。啤酒的主要消費客群應是在附圖人口金字塔中的何項？
 (A)甲 (B)乙 (C)丙 (D)丁。



2022 人口：125,584,839

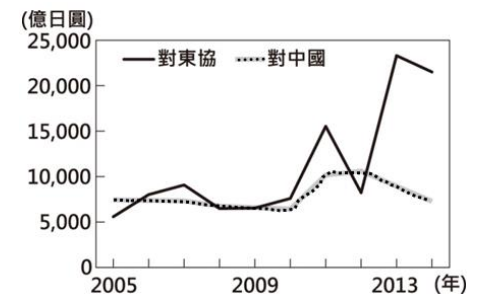
日本工業區分布的特點有所謂的「三灣一海」。「三灣」是分別位在東京、名古屋、大阪的港灣；「一海」則為瀨戶內海。附圖是日本主要工業區分布圖，請回答下列問題：

11. 日本主要工業區多緊鄰下列哪一個海域？
 (A)大西洋 (B)日本海 (C)印度洋 (D)太平洋
12. 右圖中的工業區多集中在沿海地區，與下列哪一因素『關係最小』？
 (A)日本沿海港闊水深，多天然良港
 (B)依靠廉價勞力的優勢從事國際代工
 (C)國內市場較小，需依賴國際貿易
 (D)能源和原料多依賴進口



13. 日本政府將西元 2020 年的東京奧運作為展現日本製造實力的舞臺，是能見度與國力提升的象徵，並以「Society 5.0」作為日本未來社會願景的縮影。下列選項皆是東京奧運登場的科技應用，其中哪一項是為了解決日本少子化與高齡化的問題所設計的？
 (A)智慧防災——應用感測器技術、AI、IoT 提升完善預警系統
 (B)智慧輔助——身障者、銀髮族行動輔助系統；各項競賽會場協助翻譯導覽的機器人及機器人球僮
 (C)智慧交通——無人車、自動駕駛、智慧型運輸系統
 (D)創新能源——氫燃料能源車、加氫站設置

14. 右圖為日本近年來對於中國和東協國家的投資金額統計，對兩者投資金額差距擴大與下列何者關係最為密切？【108 教育會考】
 (A)東南亞天災日益頻繁 (B)中國實施全面開放二胎
 (C)東協的生產成本較低 (D)東協反日意識漸趨高漲



位居東北亞的朝鮮半島，北連中國，南以對馬海峽與日本相望，其地理位置使朝鮮半

島常受到中國與日本的影響。近年來，隨著經濟的發展與政府的有意扶植，南韓的影視產業形成一股「韓流」，引起廣大迴響。其中，人物的飲食與穿著，已蔚為風潮，顯見南韓在影視與文化方面，已逐漸走出自己的路。

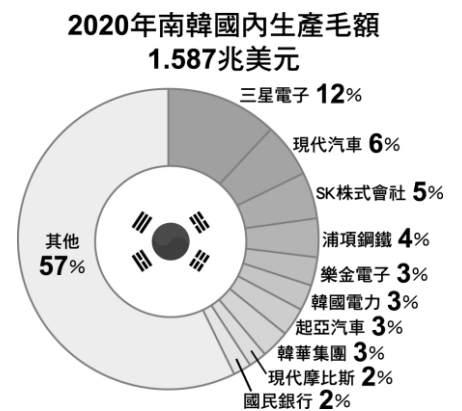
15. 下列對於朝鮮半島的兩個國家敘述何者正確？
 (A)南、北韓大致以北緯 38 度線為界
 (B)南韓經濟繁榮為共產主義國家
 (C)北韓礦產資源豐富為資本主義國家
 (D)北韓緯度較低冬季較短，南韓冬長而寒
16. 在韓劇或南韓電影中，常可看到演員們吃著泡菜大快朵頤，劇情中也可見到製作泡菜的片段，反映出泡菜對南韓人的重要性。請問：這種飲食文化背後受什麼因素影響？
 (A)地形 (B)政策 (C)洋流 (D)氣候
17. 南韓在二十世紀末確定了「文化立國」政策，經過三十多年努力，如今已成為全球文化產業出口大國之一。下列何者『不屬於』「韓流」現象的展現？
 (A)韓團 BTS 與速食業聯名推出套餐
 (B)韓式料理店在歐美吸引大批人潮
 (C)多啦 A 夢擔任申請奧運大使
 (D)韓劇拍攝場景成為熱門觀光景點
18. 「K-pop」泛指南韓的流行音樂界，在 2000 年後席捲亞洲各國，甚至進軍歐美流行音樂界，成為一股新興風潮，並帶動南韓的服飾、彩妝等相關產業發展，其經濟收益相當可觀。請問：南韓的時尚產業多藉由下列何種發展策略來提高其附加價值，增加其經濟產值？
 (A)品牌化的經營模式，提高其附加價值
 (B)大量生產以降低售價，提高銷量
 (C)結合該國傳統文化，強調在地化的特色
 (D)國家關稅保護措施，保障國內市場銷量

19. 右圖是 2020 年南韓前十大企業營收占南韓 GDP 的比例圖，南韓前十大企業的營收占國內生產毛額的 43%。請問：下列敘述何者『不是』南韓政府扶植大型財閥的經濟政策可能會產生的缺點？

- (A)財閥勢力龐大影響財富分配，導致貧富差距加大
 (B)政府利用財閥幫助國家經濟成長，提升國際競爭力
 (C)政府過度扶植大型財團而忽略中小企業，影響社會公平正義
 (D)財閥若出現經營危機會嚴重衝擊國家經濟

20. 日本 2019 年國外遊客突破 3,100 萬人次，自然美景、古蹟、民俗文化、溫泉、購物等強調地方特色，產品標榜地方限定，加上良好的治安、貼心的服務、整潔的環境，吸引國際旅客回流造訪。請問下列國家何者不是主要遊客來源國？

- (A)中國 (B)南韓 (C)台灣 (D)南非



(歷史部分)

命題教師：黃若芸

※單選題 (每題 5 分，共 100 分)

21. 清代中期以後，清帝國在對外戰爭中屢嘗敗績，也因為戰爭的失利，造成不同的影響。請問：八國聯軍的進攻對清帝國造成何種影響？
 (A)簽訂南京條約，割讓香港島 (B)簽訂辛丑和約，付出鉅額賠款
 (C)放棄天朝體制，設立中國第一個現代化外交機構 (D)喪失關稅自主權，外國商品在全國傾銷。
22. 1905 年的中國報紙報導：「這一場戰爭，是君主立憲戰勝君主專制的最佳寫照。我們的政府應該也要仿行君主立憲的體制，讓國家富強。」根據上述的內容，所指的應是下列哪場戰爭？
 (A)鴉片戰爭 (B)英法聯軍 (C)日俄戰爭 (D)八國聯軍。
23. 承上題，在輿論的要求之下，清政府最後決定實行君主立憲體制，陸續設立了新的政府機構與調整政府組織制度。請問，下列哪一個措施，是在這次的體制改革中所新出現的？
 (A)設立總統府 (B)建立京師大學堂 (C)廢除皇帝制度 (D)成立責任內閣。
24. 某城市觀光資料提到：「本市原本是一個小縣城，是晚清首次對外開港的五大港之一，此後，外國人移居本地漸增，也開闢棋盤式的西式道路，西方物質文明快速輸入。」請問：此城市最有可能是下列何者？
 (A)南京 (B)安平 (C)天津 (D)上海。
25. 承上題，資料中提到此城市是「晚清首次對外開港的五大港之一」，從此句話中可以推知，此城市的對外開放，最主要和哪一個條約的簽訂有關？ (A)馬關條約 (B)南京條約 (C)辛丑和約 (D)北京條約。
26. 一位外國旅行者來華時曾提到：「讀到本地報章報導，中國第一間女學堂終於正式開學。令人意外的是，儘管招生廣告已經在幾天前發出，但開學這一天卻是乏人問津。」請判斷這位旅行者，最有可能記錄的年代是？
 (A) 17 世紀後期 (B) 18 世紀後期 (C) 19 世紀後期 (D) 20 世紀後期。
27. 承上題，這位外國旅行者提到女學堂「開學這一天卻是乏人問津」，很少女學生到學校上課。請問，下列哪一段文字最可以說明此情形？
 (A)當時政府的法令規定，所有女性不得參與任何的學校活動，也不得學習認字和寫字
 (B)當時的中國只有男子學校，因此女性即便想學習，也沒有學校可以就讀
 (C)當時中國流行女子在家教育，因此家家戶戶都會為女性家人聘請專門的老師在家授課
 (D)當時有機會接觸西方新式思想的人並不多，因此社會上普遍認為女性應留在家中照顧家庭。
28. 歷史課本第五課的標題為「西力衝擊下的東亞世界」，課文中提及位在東亞的中國，在晚清時期受到外國勢力的衝擊，並陸續作出回應。請將下列重要事件的發生先後順序，進行排列。
 (A)甲午戰爭→英法聯軍→戊戌變法→鴉片戰爭→自強運動→八國聯軍
 (B)鴉片戰爭→英法聯軍→自強運動→甲午戰爭→戊戌變法→八國聯軍
 (C)鴉片戰爭→自強運動→甲午戰爭→英法聯軍→八國聯軍→戊戌變法
 (D)八國聯軍→戊戌變法→英法聯軍→自強運動→甲午戰爭→鴉片戰爭。
29. 承上題，下列哪一個曾對中國造成衝擊的國家，就其地理位置而言，『不屬於』所謂的「西力」？
 (A)英國 (B)德國 (C)日本 (D)義大利。
30. 清代晚期，面對外國勢力一次又一次的到來，中國人也提出了許多改革方案，其中所涉及的層面向包括器物與制度等。請問，下列哪一個是為了處理與外國之間的事務，而設立的專門機構？
 (A)海關總稅務司 (B)總理各國事務衙門 (C)兩廣總督 (D)國會。

31. 面對清末所出現一系列的改革方案，以及伴隨而來的新觀念，人們對於這些改革與觀念的態度並不相同，有些人贊成，有些人反對。請問，下列哪一段話對於清末改革與新觀念的態度，與另外三者不同？
 (A)所謂窮則變，變則通，先帝也曾經變更祖宗法制……不變法只會落得不斷割讓祖宗的土地乃至於亡國的下場，變法則能光復大清的聲威
 (B)國家振興各項政務，兼顧採用西方的方法，真正想為人民建立政治體制，中國和西方各國相同，而西方國家的方法可以補充我國的不足
 (C)中國儒者已習慣遵循傳統二千多年，即便知道西方之法有益於人民百姓，但卻故意閃避，無視於人民生活上的困苦，不求改變，這還算有仁善之心嗎？
 (D)那些提倡平等、民權的想法，都是荒謬錯誤的言論，而年輕的學子無法分辨邪說，反以為有助於當時的局勢，爭相學習。因此，應該要嚴加整頓，除去主張這些怪異學說之人
32. 清末自咸豐 10 年（即西元 1861 年）起，部份官員提出改革之道，認為中國要消除外來侵擾必須自立自強，因此開始推動多方面的改革，稱之為自強運動。請問，這一系列的改革並『不包括』下列哪一個面向？
 (A)醫療 (B)軍事 (C)交通 (D)教育。
33. 承上題，位在東亞的日本也為了改變當時的國家情勢，部份人士在 1868 年提出改革計畫，將歐美的制度引進日本。請問，日本這一時期的改革，稱之為什麼？
 (A)明治維新 (B)大化革新 (C)庚子後新政 (D)東京改革。
34. 清末隨著中國的開港通商，越來越多的西方商人與傳教士來到中國，但卻也因為不同的文化、風俗、語言、宗教等等，而與中國人的摩擦逐漸增加，遭到有些民眾的仇視與反彈。請問，下列哪一個團體即以仇視西方人和西方事物為口號，聚集了不少民眾加入？ (A)義和團 (B)天地會 (C)小刀會 (D)耶穌會。
35. 宗佑在歷史課時學到有關中國清代晚期的歷史，他馬上聯想到七年級曾學過的臺灣歷史，發現清朝政府與外國勢力之間的交流和衝突，常常直接或間接地影響著臺灣的發展。請問，下列有關臺灣發展與外國勢力介入的敘述，何者正確？
 (A)英法聯軍後，臺灣開始設立省長，從此不再隸屬於福建省的管轄
 (B)鴉片戰爭的戰火波及到臺灣東部，因此清朝決定完全封鎖東部地區
 (C)八國聯軍後，為了避免被外國占領，臺灣人民曾成立臺灣民主國
 (D)甲午戰爭後，臺灣與澎湖群島被割讓，成為外國勢力的殖民地。
36. 自馬關條約簽訂後，日本開始在中國通商口岸設置工廠，但其他各國也陸續加入設廠的行列，使中國傳統的工業無法與之抗衡。請問，其他各國是根據哪一個條款，因此也同樣具有在中國設立工廠的權利？
 (A)租界 (B)領事裁判權 (C)片面最惠國待遇 (D)協訂關稅。
37. 佳瑜做完歷史課本中的實作與練習題後，很好奇清末人們對於女性纏足的看法，於是她上網搜尋了資料，佳瑜發現自清末至民國時期，反對纏足與支持纏足的意見持續爭論著。請問，下列哪一段文字，對於女性纏足的看法與其他三者不同？
 (A)要是不把腳來裹，人人都說真萬難。為母不把女兒管，放任她來成大腳，將來親事怎麼辦？
 (B)纏足完全是毀棄了上帝賦予女人的優美，女子的優雅……就蘊藏在她們的天然雙足裡，而這是女人理當擁有的神聖權利
 (C)有人起了纏足的先例，我們要是羞恥心的，就應當興師問罪。我們自己要不振作，到國亡的時候，那就遲了
 (D)從前未禁纏足，以天足為醜。現在人人都是天足，個個都以纏足為醜，爾等再不放足，真是不知自醜

◎子斌看到歷史課本的英國漫畫（英使節馬加爾尼使華想像漫畫）後，覺得很有趣，於是想進一步了解清政府與英國之間的關係，他上網搜查資料，發現當時兩國之間書信往來的譯文節錄（如下表）。但子斌不太懂內容的意涵，請仔細閱讀後為子斌解答。

《英國國王喬治三世致乾隆皇帝信》：

長久以來，我們英國有很多臣民，也時常去貴國離北京較遠的一個地方，和貴國臣民進行貿易。毫無疑問的是，國家之間的商品貿易，非常有力地增進彼此的便利、產業和財富。上帝造物，分布在世上各處，雖然各處風土氣候不同，但貿易增進幸福，是上帝給予我們大家的祝福。

《乾隆皇帝致英國國王喬治三世信》：

「我們是天朝上國應有盡有，無需與你們通商。假若你們喜歡絲綢、瓷器等來自我國的商品，我每年都可以賞賜你們一點，你們在蠻荒之地，不用年年進貢，只要心裡向著大清即可。」

38. 子斌不太了解英王致乾隆皇帝書信中提到的「時常去貴國離北京較遠的一個地方，和貴國臣民進行貿易」，請問，就你所學的歷史知識，英王所說的「離北京較遠的一個地方」應該是指下列哪一個地方？
 (A)北京 (B)上海 (C)廣州 (D)淡水。

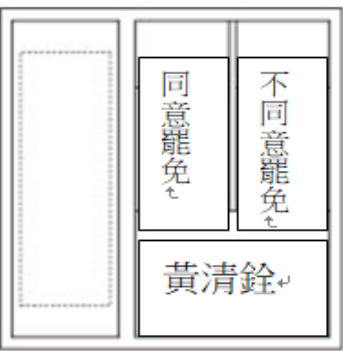

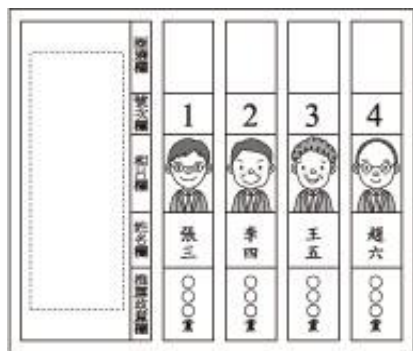

39. 子斌讀著書信內容，但他很好奇遠在世界兩端的兩個國家，為什麼會開始互通信件。因此，請你就英王喬治三世的信件節錄，推測當時英王寫信的目的，最有可能是什麼？
 (A)希望與中國建立外交合作關係 (B)努力推廣宗教，宣揚信仰上帝的好處
 (C)希望打開與中國之間的貿易關係 (D)企圖拓展國家領土，以疏緩不斷增加的人口。
40. 子斌看著乾隆皇帝回信的內容之後，對於當時中國與英國之間的國際關係感到有些疑惑。請問，依據乾隆皇帝的回信內容，乾隆皇帝認為中國與英國之間的地位如何？
 (A)中國低於英國 (B)中國高於英國 (C)兩國地位一樣 (D)無法辨識。

(公民部分)

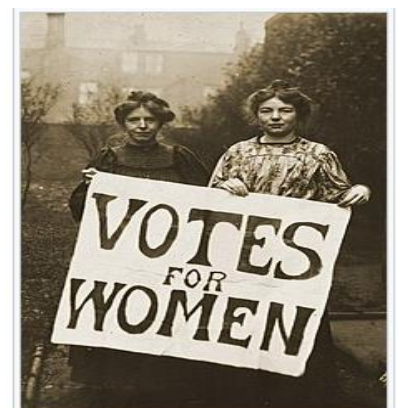
命題教師：黃清銓

一、單選題 (每題 5 分，共 80 分)

41. 我國中央與地方政府對於權力的組成採用的是下列哪一種方式？
 (A)中央集權 (B)地方專權 (C)地方無權 (D)均權制度
42. 當我國中央和地方政府的權限劃分發生爭議時，是由下列哪一個單位來解決？
 (A)立法院 (B)行政院 (C)司法院 (D)監察院
43. 我國的直轄市山地原住民區可辦理區長與區民代表選舉，故對轄內的部分公共事務享有自治權限。此一制度的設計是為下列哪一個目的？
 (A)達成我國地方政府有四個層級的制度 (B)落實原住民族自治精神
 (C)落實選舉投票時無記名的原則 (D)避免監察院對行政院長提出彈劾
44. 我國因應實際的政治情況，在1997年修憲時，將下列哪一個單位予以「虛級化」，而不再進行此一單位的行政首長的選舉，故下列一個單位也不再是地方自治團體，而是成為了行政院派出的機關。
 (A)台灣省政府 (B)新北市政府 (C)宜蘭縣政府 (D)新城鄉公所
45. 我國地方政府的水平分權中僅侷限下列哪兩個權限？
 (A)立法權和司法權 (B)行政權和立法權 (C)行政權和司法權 (D)考試權和監察院
46. 下列哪一個行政區和吉安鄉都是屬於同一個行政層級的？
 (A)宜蘭市 (B)嘉義縣 (C)嘉義市 (D)桃園市
47. 下列何者是地方政府需要做的事？
 (A)研發製造潛水艇等軍事武器 (B)締結外國友邦，積極加入聯合國
 (C)進行研究考察，設立國家公園 (D)編列預算，進行道路維修
48. 台灣制定的公民投票法保障人民有提議新增法案和對既有的舊法案表達支持或反對的權利，是為了落實憲法上所保障的哪些人民權利？
 (A)創制權和複決權 (B)選舉權和監察權 (C)立法權和罷免權 (D)自由權和受益權
49. 承上題，根據以下各圖示，何者最可能是根據公民投票法的公投選票？

<p>(A)</p> 	<p>(B)</p> 	<p>(C)</p> 	<p>(D)</p> 
--	--	---	--

50. 每個人行使投票權時，每張選票具有同等的價值，即所謂「票票等值」的概念。請問：這是符合哪一種選舉的原則？
 (A)平等原則 (B)直接原則 (C)普通原則 (D)無記名原則
51. 右圖是美國19世紀末期婦女爭取選舉投票權的舊照片(VOTES:意旨選票),該運動並在1920年到達頂點，當年美國憲法第十九修正案通過，給予並保障了女性的投票權。請問此一運動的目的符合下列哪一項選舉原則？
 (A)平等原則 (B)直接原則 (C)普通原則 (D)無記名原則



52. 怡如在網路上看到網友分享的投票懶人包圖片，請問：下圖中的「投票注意」，是提醒投票人要遵守選舉的哪項原則？
 (A)平等原則 (B)直接原則 (C)普通原則 (D)無記名原則



53. 右表是我國辦理立法委員選舉時四位國民的相關資料。根據資料判斷，下列哪個人最可能在本次選舉中具有投票資格？

姓名	年齡(歲)	在選區設籍時間	備註
楊小華	17	七個月	實施感化教育中
李大春	25	三個月	曾有竊盜罪前科
王中旗	42	五個月	長年在海外經商
吳美滿	65	九個月	受法院監護宣告

- (A)楊小華 (B)李大春 (C)王中旗 (D)吳美滿
 54. 花蓮縣境內有許多高山，隨著近年登山活動日益盛行，轄內的登山意外事故也隨之增加，每次搜救工作常須動員大量人力、物力。為因應此情況，該縣已通過花蓮縣登山管理自治條例，將對擅入管制區的民眾處以罰鍰，且若發生山難事故，當事人須自行支付搜救費用。根據上述內容判斷，下列敘述何者正確？

- (A)文中通過自治條例的機關為立法院 (B)文中通過自治條例的機關為縣議會
 (C)文中的自治條例適用於全國山地管制區 (D)文中自治條例的處罰對象僅能限設籍於花蓮縣者 【108會考改編】

55. 下列是三位行政首長的發言內容：

甲縣縣長：「感謝縣議會的支持，本縣領先全國引進熱氣球活動，創造商機。」
 乙市市長：「因應颱風來襲，為維護市民財產安全，本市今晚開放市區紅線停車。」
 丙縣縣長：「未來是否在本縣設置觀光賭場，我們將交由縣民以公投方式決定。」

上述三位首長的發言內容，最足以彰顯下列何項概念？
 (A)中央集權 (B)責任政治 (C)三權分立 (D)地方自治 【107會考】

56. [記者王峻祺／自由時報(2021年12月03日)] ○○縣議會今天進行縣府111年度總預算二、三讀，其中，民政處編列1800萬元，預計在台8、台9及台11線起壇路祭超渡亡魂，民政處長則解釋，這是要請法師、道士在各車禍、肇事路段設壇作法，主要在「壓煞，防止抓交替」，而部分議員如莊枝財、張美慧及楊華美則怒批「浪費公帑」。但後來仍經在場24名議員舉手表決，有16位議員同意，因過半數議員同意，故通過此預算案，同意縣府於下一年度執行此一政策。但事後不少縣民得知後無奈地說，「錢用在增加交通設施、及改善道路規劃還比較實在！」由上面的新聞可知，縣政府要辦理起壇路祭超渡亡魂此一政策之前，此預算案須由哪一個機關審議，以藉此達到替縣民監督縣政府的施政之責？
 (A)立法院 (B)監察院 (C)市公所 (D)縣議會

二、時事素養題 (每題5分，共20分)

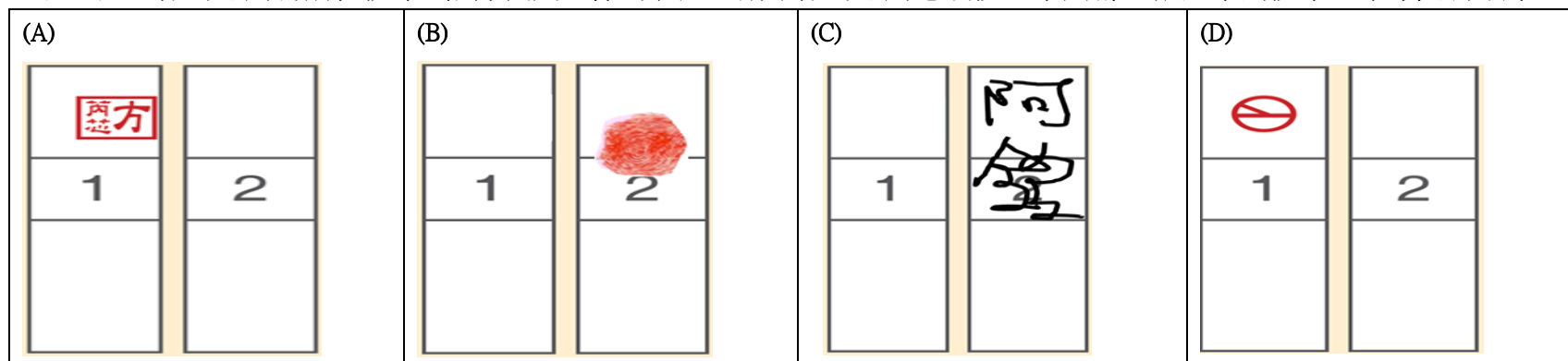
我國的第16任總統總統、副總統，與第11屆立法委員選舉已於上週六(2024年1月13日)舉行完畢，只要符合法律規定的公民均具有選舉投票權 (即具有我國國籍、年齡及在選區設籍時間均符合法律規定，且未受到法院作任何宣告動作)，皆可前往投票。以下為今年度大選的各項表格，請就資料內容回答下列各題：

57. 以一般情況來說，上週六若有前往投開票所領取選票的我國公民(在選區的設籍時間符合法律規定，且未受到法院作任何宣告動作)，應該可以領到下列哪幾張選票？

- (A)甲乙 (B)甲乙丙 (C)甲乙丁 (D)甲乙丙丁

<p>(甲)</p> <p>總統、副總統選票</p>	<p>(乙)</p> <p>區域或原住民立委選票</p>	<p>(丙)</p> <p>縣長選票</p>	<p>(丁)</p> <p>政黨票</p>
----------------------------	------------------------------	------------------------	-----------------------

58. 若上週六你的爸媽有前往投票，根據我國法律的規定，請問：你的爸媽應該投入下列哪一張選票到投票區中才是有效票？



59. 我國的立法委員選舉制度非常特別，立法委員席次有113席，但每位選民都會拿到兩張票，即「單一選區兩票制」。「單一選區」即每一選區只選出一位區域立委；「兩票制」即每位選民有兩張選票，一票選人，一票選黨。由政黨票得票比例超過5%的政黨，依照得票比例分配全國不分區立委席次。下表是2024年立法委員的選舉結果資料表，依據下表內容哪些政黨可以取得不分區立委的席次？

(A) (B) (C) (D)

政黨名稱	(甲) 小民參政歐巴桑聯盟	(乙) 台灣基進黨	(丙) 民主進步黨	(丁) 時代力量	(戊) 中國國民黨	(己) 台灣綠黨	(庚) 台灣民眾黨	(辛) 親民黨	(壬) 臺灣雙語無法黨
各政黨的全國各個區域立委當選總人數	0人	0人	36人	0人	36人	0人	0人	0人	0人
政黨票得票數	128,613	95,078	4,981,060	353,670	4,764,293	117,298	3,040,334	69,817	44,852
政黨票得票率	0.93%	0.69%	36.16%	2.57%	34.58%	0.85%	22.07%	0.51%	0.33%

60. 「選舉過後，才是責任承擔的開始」。這是台灣選舉過後當選人常常說的一句話。而檢視當選人是否有履行其競選時的政見，則是我們常用來判斷當選人有無辜負選民的指標。右圖是我國第11屆立法委員選舉，花蓮區立委當選人在競選時刊載於競選公報上的政見，未來的四年(2024-2028年)花蓮縣會進步起飛或停滯不前，這位立委當選人都該責無旁貸的負起責任。請參考右下表中央選舉委員會所公布的第11屆立法委員選舉花蓮區域立委開票結果，請問：這位在未來四年中，你我都應該持續監督要求他的花蓮區域立委當選人是誰？

(A)許願神 (B)張美慧
(C)傅崑萁 (D)周玉梅

政見	
捍衛中華民國，守護臺灣！下架民進黨，避戰爭，保和平！	
一、平衡區域發展，落實花東建設。	十五、推動大學與企業合作，企業晉用青年並提高工資得減免稅賦，解決青年低薪困境。
二、決戰花東快，打通花蓮國道6號，動工蘇花安。	十六、國家開放外資，投資臺灣，並訂定本國勞工比例不得低於80%。
三、繼續推動環島高速路網。	十七、國家訂定本國勞工與外國勞工薪資脫勾，留住台灣人才。
四、推動環島高鐵路網-宜蘭延伸花蓮。	十八、國家支持青年成家專案，補貼首次購屋利息50%，期間15年。
五、持續完成花東雙軌電氣化、花蓮市吉安鄉七個危險平交道高架化。	十九、國家訂定長照「時間銀行」之完善配套，以利老人安養關懷。
六、治山防洪，提升防災型基礎建設。	二十、弘揚客家文化、客語扎根，緬懷義民精神。
七、打破城鄉差距，全國65歲以上長者免健保費。	二十一、廢除民間所稱「東廠機構」黨產會、促轉會。
八、爭取台灣燈會及國際賽事在花蓮。	二十二、信賴保護、回復正義，對不合理的軍公教年改要廢止，實現國家承諾，返還公道。
九、友善生育補助，支持兒少教育。	二十三、持續推動寵物友善環境，增設寵物園區及運動空間。
十、強化居住正義，完善銀髮長照。	
十一、協助農業發展，開拓外銷市場。	
十二、推動港區開發，觀光休閒漁區。	
十三、扭轉能源政策，確保產業升級。	
十四、落實平等教育，推動16年義務教育至大學畢業，培養弱勢生享有同等受教權。	

(社會科試題 結束)

第11屆立法委員選舉 花蓮區立委開票結果				
候選人得票數				
候選人	①許願神	②張美慧	③傅崑萁	④周玉梅
推薦政黨	無	民主進步黨	中國國民黨	制度救世島
得票數	6,493	51,732	68,786	879
得票率	5.08%	40.45%	53.79%	0.69%

參考答案:

1.	2.	3.	4.	5.	6.	7.	8.	9.	10.
A	D	D	B	A	C	C	A	C	B
11.	12.	13.	14.	15.	16.	17.	18.	19.	20.
D	B	B	C	A	D	C	A	B	D
21.	22.	23.	24.	25.	26.	27.	28.	29.	30.
B	C	D	D	B	C	D	B	C	B
31.	32.	33.	34.	35.	36.	37.	38.	39.	40.
D	A	A	A	D	C	A	C	C	B
41.	42.	43.	44.	45.	46.	47.	48.	49.	50.
D	A	B	A	B	A	D	A	B	A
51.	52.	53.	54.	55.	56.	57.	58.	59.	60.
C	D	C	B	D	D	C	D	B	C