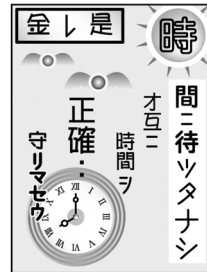


班級：7 年__班 座號：_____ 姓名：_____

一、選擇題：(每題 2 分，共 40 題，80 分)

- () 1. 邵群完成了臺灣史報告，他將報告的關鍵詞設定為「報禁」、「美麗島事件」、「民主進步黨成立」等，依此推斷，該報告的主題最可能是下列何者？[習作 p.29]
 (A) 日治時期的民主運動 (B) 戒嚴時期的社會面貌
 (C) 韓戰時期的外交衝擊 (D) 中日戰爭時期的國家政策。



- () 2. 右圖是日本治臺時期總督府所推出的宣傳海報。當時設計此海報的目的，是要配合總督府的何種政策？[課本 p.91]
 (A) 養成現代衛生觀念 (B) 養成守時觀念
 (C) 成守法觀念 (D) 養成愛國觀念。
- () 3. 歷史老師帶著同學們參加臺北史蹟之旅，當他們看到總統府時，老師說明這是日本根據什麼條約占領臺灣後所興建的？[課本 p.70]
 (A) 《天津條約》 (B) 《北京條約》 (C) 《馬關條約》 (D) 《辛丑和約》。
- () 4. 「臺灣總督得於其轄區內，頒布具有法律效力之命令。」這是 1896 年日本發布的「六三法」第一條條文，由此條文內容來看，「六三法」對於當時臺灣代表的意義是什麼？[習作 p.20]
 (A) 形成總督專制的統治體制 (B) 從此臺灣人可以自主管理
 (C) 臺灣總督須具備司法背景 (D) 視臺灣為日本內地的延長。
- () 5. 民國 36 年，寡婦林江邁在天馬茶房前遭查緝私菸人員以槍托敲打頭部，導致血流如注，而後另一查緝員開槍示警，卻擊傷一位市民，引起群眾激憤，多起衝突陸續爆發。請問：以上敘述是在描寫哪個事件的導火線？[課本 p.96]
 (A) 西來庵事件 (B) 戒嚴事件 (C) 霧社事件 (D) 二二八事件。
- () 6. 歷史老師將戰後臺灣重要事件的漫畫(如下圖)貼在黑板上，要求同學們按時間順序加以排列。請問：正確的順序應該是下列何者？[課本 p.96-100]



- (A) 甲乙丙丁 (B) 甲丙丁乙 (C) 乙甲丙丁 (D) 丁乙甲丙。
- () 7. 下列臺灣土地改革的措施，若依時間先後順序排列，何者正確？
 (甲) 公地放領；(乙) 耕者有其田；(丙) 三七五減租 [課本 p.112]
 (A) 乙丙甲 (B) 丙甲乙 (C) 甲乙丙 (D) 丙乙甲。
- () 8. 宇豪的爺爺看到右圖中的漫畫圖說：「這圖裡面的學校是我的母校，它可是日本治臺時期臺灣唯一的大學呢！」
 請問：這所學校現在的名字為何？[課本 p.87]



- (A) 臺灣師範大學
 (B) 政治大學
 (C) 臺灣大學
 (D) 臺北大學。

() 9. 下列為臺灣某份刊物上刊載的文章：

今日針對普及衛生思想，監督指導的單位須以身作則，首先應喚起市街庄行政人員的自覺，有效配合地方上保甲的力量。此外，藉由小學校、公學校對衛生教育的提倡、社會上報章雜誌的宣傳，來提升民眾的衛生意識。

根據內容判斷，此段文章主要在討論下列何者？ [習作 p.25]

- (A) 日本統治時期，政府與民間推廣公共衛生觀念
 - (B) 中華民國政府規畫與施行衛生教育
 - (C) 清代開港通商時，傳教士引進公共衛生觀念
 - (D) 荷蘭聯合東印度公司推動衛生教育。
- () 10. 日治初期臺灣對日抗爭不斷，加上每年需對臺灣補助七百萬日圓，日本逐漸認為臺灣殖民地對日本而言是負擔，法國政府亦表明願以一億日圓買下臺灣。請問：總督府採取了哪些措施，直接造成財政收入提高，減少日本的經濟負擔？ 甲、廣設郵電通訊；乙、樟腦專賣；丙、鴉片專賣；丁、修築縱貫鐵路；戊、土地與林野調查 [習作 p.22]
- (A) 甲乙丙 (B) 甲丁戊 (C) 乙丙戊 (D) 乙丙丁。
- () 11. 下圖是某一文件的部分內容，此文件最可能是下列何者？ [習作 p.19]

大清皇帝已割讓臺灣及澎湖群島，並派欽差大臣與本總督完成授受之約。故本總督乃坐鎮臺北，安撫民眾，遂行統治。今得知您占據臺南，外無援兵，孤軍頑抗，……您若能體察大清皇帝聖旨，應立即停止抵抗，讓民眾免於戰火之苦。


- (A) 法軍將領給清廷的戰帖
 - (B) 日本給牡丹社原住民的公告
 - (C) 日本給臺灣民主國的勸降書
 - (D) 臺灣民主國給日本總督的通牒。
- () 12. 下圖(一)、(二)為描繪臺灣日治初期的歷史漫畫，漫畫中提及的「密謀起事」，指的是下列哪一事件？ [課本 p.72]

農曆七月七日西來庵，密謀起事。



圖(一)

驅逐日本，建立大明慈悲國！



圖(二)


- (A) 霧社事件 (B) 郭懷一事件 (C) 臺灣民主國 (D) 西來庵事件。
- () 13. 臺灣總督兒玉源太郎來臺後，深知要解決「土匪」問題必須善用警察。因此在民政長官後藤新平的推動下，於總督府設置警察本署，建立總督府中央、地方一條鞭式的警察指揮系統，並讓地方警察掌管地方事務，形成「警察政治」的體制，臺灣儼然成為日本殖民地之「警察國家」。請問：兒玉總督想用警察解決的「土匪」，最有可能是指下列何者？ [習作 p.20]
- (A) 來臺的日本流浪漢 (B) 伺機抗日的臺民
 - (C) 大陸來臺的抗日義軍 (D) 居無定所的羅漢腳。

- () 14. 右圖為諷刺日治時期某項不合理對待的漫畫。請問：這幅漫畫主要在隱射何事？
[課本 p.80]

(A) 蓬萊米種植不易 (B) 嘉南大圳給水不公
(C) 新式糖廠效率不佳 (D) 製糖會社壓榨蔗農。



- () 15. 下圖是臺灣史上的一份官方文件，此文件發布的時代背景最可能是下列何者？
[習作 p.28]



(A) 日本戰敗，中華民國政府接收臺灣
(B) 馬關條約簽訂，日本統治臺灣
(C) 鄭氏投降，清帝國將臺灣納入版圖
(D) 設立臺灣省政府取代臺灣省長官公署。

- () 16. 新聞報導：國外某一所大學在校園中舉辦臺灣文化節，多名來自臺灣的交換學生，熱情地介紹臺灣的文化特色。他們播放曾在臺灣流行的各種音樂，包括：原住民的八部合音、抒情的英文老歌、強調鄉土情感的校園民歌、以及澎湃的反共歌曲。請將上述的音樂依據流行的時代進行排列。
甲、八部合音；乙、反共歌曲；丙、校園民歌；丁、英文老歌 [習作 p.34]
(A) 甲丙丁乙 (B) 乙丁丙甲 (C) 丙甲乙丁 (D) 丁乙甲丙

- () 17. 下圖是 1930 年嘉南大圳完工的漫畫圖，圖中的人物應是下列何人？ [課本 p.81]



(A) 八田與一
(B) 後藤新平
(C) 莫那魯道
(D) 施世榜。

- () 18. 民國 68 年的美麗島事件，雖然使得許多黨外菁英被捕，但其他黨外人士則透過選舉和宣傳，延續民主運動的聲勢。請問：美麗島事件發生在下列哪一地點？ [課本 p.99]
(A) 臺北 (B) 花蓮 (C) 臺中 (D) 高雄。
- () 19. 有一段文字提到日治時期某一種人的行為：「除施行高壓、打罵慄悍，他們大多負責盡職，是塑造威嚴的另一大原因。他們人數不多，兩三個，但天天梭巡，對地方上大小事與人，都瞭若指掌。在鄉村，其地位還在地方名士之上，被稱作『大人』。」根據上文，這是指下列何人？ [課本 p.71]
(A) 天皇 (B) 總督 (C) 保正 (D) 警察。

- () 20. 歷史老師在黑板上貼上如右圖的漫畫圖，用來講解臺灣史上的某個事件。請問：根據圖中的內容判斷，這應是指哪一事件？ [課本 p.74]
(A) 霧社事件 (B) 牡丹社事件 (C) 噶吧哖事件 (D) 西來庵事件。



() 21. 下表是某人在臺灣旅遊的部分行程，依內容判斷，此人最可能是下列何者？ [習作 p.22]

時間	地點	參觀行程
2/22-2/23	臺南	孔廟、赤崁樓、嘉南大圳
2/23-2/24	高雄	西子灣海水浴場、臺糖製糖廠
2/24	屏東	鵝鑾鼻燈塔
2/27	臺北	紅毛城、英國領事館

- (A) 清代開港時來臺的外國商人
- (B) 日本統治下訪臺的國會議員
- (C) 跟隨鄭成功來臺的明朝文人
- (D) 荷蘭聯合東印度公司的駐臺牧師。

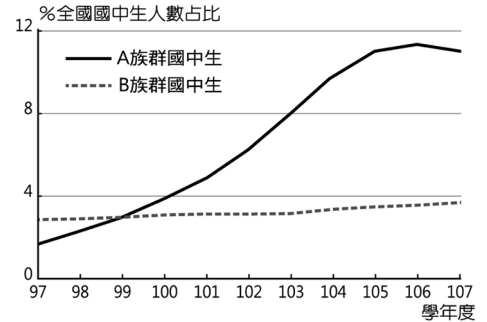
() 22. 民國 60 年代，許多知識分子對臺灣的發展有更多的反省，知識分子把寫作的重點轉移到關心周遭環境，強調鄉土情感，掀起何種文學類型的盛行？ [課本 p.116]

- (A) 鄉土文學 (B) 懷古文學 (C) 保護環境文學 (D) 教育創作文學。

() 23. 在長時間的歷史發展下，不同族群先後在臺灣這個島嶼上落地生根，讓臺灣的文化發展更加豐富多樣，多元文化與族群平等的價值已成為臺灣文化發展的主流。因此，教育部利用右圖的數據設計了 12 年國教課綱應落實的「新課程」。

請問：A 族群與 B 族群各是什麼族群？ [習作 p.35]

- (A) 新住民、原住民族 (B) 原住民族、新住民
- (C) 新住民、閩客族群 (D) 閩客族群、新住民。



() 24. 根據調查，1930 ~ 1950 年之間，男性取名數量的前三名都以「雄」為結尾，現今男性名字中亦可見「雄」、「彥」、「男」、「夫」等日式風格的用字。請問：這種取名的用字風格，最可能始於下列哪個年代？ [習作 p.20]

- (A) 臺灣民主國時期 (B) 殖民地特殊統治時期
- (C) 皇民化運動時期 (D) 內地延長主義時期。

() 25. 下表是日治時期臺灣米外移到日本的比率。請問：1920 年之後，臺灣米產量大增，與哪一種米的培育成功有關？ [課本 p.80]

年分	生產量 (千石)	移出量 (千石)	生產量與移出量之比率 (%)
1910 ~ 1914	4,416	756	17.1
1915 ~ 1919	4,785	950	19.9
1920 ~ 1924	5,145	1,117	21.7
1925 ~ 1929	6,460	2,390	37.0
1930 ~ 1934	8,060	3,478	43.1
1935 ~ 1938	9,344	4,750	50.8

- (A) 在來米 (B) 蓬萊米 (C) 越光米 (D) 占城米。

() 26. 右表是近年來臺灣社會所發生的重要記事。根據內容判斷，下列何者最可能是這些社會變革出現的背景？ [習作 p.29]

- (A) 改良宗教與習俗 (B) 推動科技與經濟
- (C) 爭取人權與自由 (D) 提振倫理與道德。

民國	記事
76	臺澎地區解除戒嚴。
80	終止動員戡亂時期。
85	首次總統、副總統直接民選。

() 27. 圖(一)、圖(二)是孝哲暑假去某外島旅遊，在當地景點拍攝的照片。由照片內容推測，他應是去圖(三)中哪一地點？ [習作 p.31]

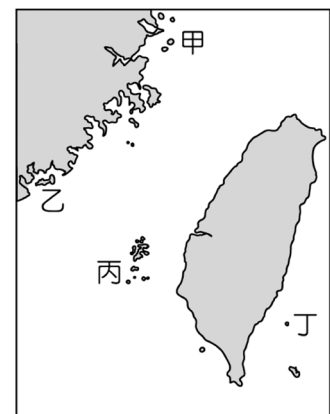
- (A) 甲
- (B) 乙
- (C) 丙
- (D) 丁。



圖(一)




圖(二)



圖(三)

- () 28. 老師請同學討論，「1935 年時臺灣地區電力總產能是 1931 年的 3 倍，產量也增加一倍。」
 以下是四位同學的看法，請問：何者的看法最符合史實？ [習作 p.22]
- (A) 雅倪同學：總督府為了發展農業與運輸而需要電力
 - (B) 子婷同學：總督府為了發展鐵路電氣化，所以需要大量發電
 - (C) 宜妃同學：總督府為了推廣閱讀，普遍裝設電燈，用電量因此大增
 - (D) 凱文同學：總督府判斷現有設施不足應付工業成長，故新建電廠因應。

- () 29. 歷史老師以下圖說明臺灣某一時期鐵路發展的情況，
 由圖中線索可判斷，老師正在講解哪一時期的鐵路發展？ [課本 p.79]



- (A) 清帝國早期
- (B) 清帝國晚期
- (C) 日治時期
- (D) 國民政府遷臺後。

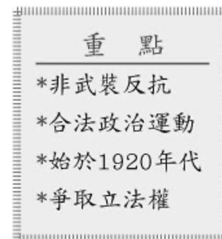
- () 30. 韓戰爆發後，美國與臺灣簽訂下列哪一條約，以加強中美間的合作關係？ [課本 p.104]
- (A) 《中美共同防禦條約》
 - (B) 《中美日安保條約》
 - (C) 《臺灣關係法》
 - (D) 《對華白皮書》。

- () 31. 下圖的標語最早出現於臺灣何時的校園之內？ [課本 p.116]



- (A) 鄭氏時期
- (B) 清帝國統治後期
- (C) 日治初期
- (D) 戰後初期。

- () 32. 右圖是小蓮在歷史課堂上所做的筆記，
 由內容推斷，老師講述的主題應是下列何者？ [習作 p.25]



- (A) 霧社事件
- (B) 噍吧哖事件
- (C) 臺灣民主國
- (D) 臺灣議會設置請願運動。

- () 33. 歷史老師在解說日本治臺時期重要人物時，利用下圖的漫畫來加深同學印象。
 請問：圖中的人物可能為何人？ [課本 p.88]



- (A) 余清芳、丘逢甲
- (B) 林獻堂、蔣渭水
- (C) 余清芳、林獻堂
- (D) 唐景崧、丘逢甲。

- () 34. 臺灣戰後重要外交事件的漫畫 (如下圖)。請問：正確的順序應該是下列何者？ (課本 p.104-108)




- (A) 甲乙丙丁
- (B) 甲丁丙乙
- (C) 乙丁丙甲
- (D) 丁乙甲丙。

() 35. 下表為日治時期某一年臺灣的教育狀況，從表中可看出當時的教育情形為何？ [習作 p.25]

項目	基礎教育		中等學校	專門學校	高等教育
	學生數	學齡兒童就學率	學生數	學生數	學生數
日本人	23,711 人	98.2%	477 人	6,856 人	220 人
臺灣人	210,727 人	28.4%	251 人	4,642 人	28 人

- (A) 臺人基礎教育較日人更為普及 (B) 升學管道暢通，臺人紛紛入學
 (C) 臺人與日人都有平等的受教權 (D) 臺人基礎教育不足且升學不易。

() 36. 「日本治臺時期，() 為了提升臺灣文化及加強社會觀念，因而發行了如右圖的報紙，用以宣傳理念。」上文缺空中應是指下列何者？ [課本 p.88]

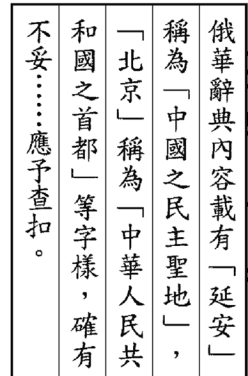


- (A) 臺灣議會
 (B) 臺灣民眾黨
 (C) 臺灣文化協會
 (D) 臺灣地方自治聯盟。

() 37. 小溱在網路上看到一首詩歌：「從生番到山地同胞，我們的姓名，漸漸地被遺忘在臺灣史的角落……如果有一天，我們拒絕在歷史裡流浪，請先記下我們的神話與傳統，如果有一天，我們要停止在自己的土地上流浪，請先恢復我們的姓名與尊嚴。」這首詩歌的創作背景，最有可能是下列何者？ [習作 p.34]

- (A) 原住民運動 (B) 美麗島事件 (C) 二二八事件 (D) 自由中國事件。

() 38. 附圖是某時期中華民國政府對於出版社送審的一本辭典的審查結果，請根據圖片內容判斷，這本辭典可能因為哪些因素被裁決查扣？ [習作 p.29]



- (A) 涉及二二八事件之內容
 (B) 透露我國國防、外交之機密
 (C) 充滿日本殖民文化思想
 (D) 涉及共產主義與中共政權之內容。

() 39. 王爺爺小時候曾穿過印有「中美合作」的麵粉袋內褲，他說當時出現這種穿著，是因為美國提供臺灣經濟援助的關係。根據上文，當時美國為何援助臺灣？ [課本 p.104]

- (A) 越戰爆發 (B) 美國將臺灣納入大西洋防衛體系的一環
 (C) 美國為防止共產勢力的擴張 (D) 美國要幫助中華民國進入聯合國。

() 40. 右圖為臺灣某一時期所面臨的外交困境，此一事件對臺灣的外交造成何種影響？ [習作 p.31]



- (A) 臺灣友邦紛紛改變立場與中共建交 (B) 臺灣被納入東亞反共防衛體系的一環
 (C) 美國和臺灣簽訂《中美共同防禦條約》 (D) 海峽兩岸陷入長期的武力對抗。

二、題組題：（每題 2 分，共 10 題，20 分）

臺灣旅遊活動從何時逐漸普及，可以從負責旅遊活動的官方機構——總督府交通局鐵道部的出現看出端倪。當時，總督府交通局鐵道部年年都發行的臺灣鐵道旅行案內，不僅成為現在鐵道迷醉心追求的經典，更反映當時臺人對旅遊的興致大增。民間當然也出現大量的旅館、溫泉區、海水浴場以及風景名勝等旅遊相關住宿與景點，以配合逐漸「習慣」旅遊的臺人或來臺日人。

目前臺灣學校都有的「校外教學」，最早可追溯到日治時期，從小學校到國語學校，都曾前往內地進行修學旅行的經驗。總督府的目的，是想讓來自臺灣的學生親身體驗內地的現代化，可是經費是一大考量，因此總督府利用內地舉辦博覽會的時機，補助學校修學旅行所需要的費用。旅行的行程內容，則以內地的自然與人文景觀為主軸。

而臺人旅行逐漸成為習慣，主因為時間觀念的改變：以往日出而作，日落而息的生活模式，轉而以六十進位法計算時間的方式以及一天二十四小時的概念；另外還有星期制的出現，使臺人逐漸出現休假的概念，休假日最好的休閒活動便是旅行。旅行活動的熱絡，除了上述條件的配合，更需要基礎建設的升級，例如：鐵路、公路、港口等整建與整合。

（資料來源：蔣竹山，島嶼浮世繪：日治臺灣的大眾生活）

[習作 p.27]

- () 41. 文章中不斷提及的「內地」，是指下列何處？ (A) 中國 (B) 韓國 (C) 日本 (D) 越南。
- () 42. 透過文章，請推論「旅行」成為臺人休閒生活的一部分，受到了下列哪一個政策的影響？ (A) 保甲制 (B) 司法制度 (C) 標準時間制 (D) 警察制。

1946 年臺灣社會上出現了附圖兩種不同的聲音，

你們這些亡國奴，如果沒有我們八年抗戰打敗日本鬼子，哪來臺灣光復？



走了狗來了豬，那些官爺伸手要金，縮手要銀，與民爭利，唯利是圖，也說為民服務。



[課本 p.96]

- () 43. 上述臺灣社會的背景為何？ (A) 甲午戰爭清廷戰敗，割讓臺灣與澎湖給日本 (B) 臺灣戰後初期，民眾與來臺的官員摩擦漸深 (C) 中日戰爭爆發，日本政府下令徵收民間資源 (D) 中華民國政府撤退來臺，中央致力經營臺灣。
- () 44. 圖中提及「走了狗來了豬」，其中的「豬」是指哪一統治機構？ (A) 臺灣省行政長官公署 (B) 臺灣巡撫衙門 (C) 臺灣總督府 (D) 臺灣省政府。
- () 45. 隨著兩種不同的聲音出現，民怨不斷累積下，臺灣社會發生哪一件事情？ (A) 日本無條件投降 (B) 二二八事件爆發 (C) 行政長官公署成立 (D) 白色恐怖的發生。

山河之間的高雄美濃，有一位客家青年，他用音樂打動了全世界。在臺灣經濟快速發展下，科技產業掛帥的思維裡，貿易自由化與國際化的呼聲中，他用音樂訴說臺灣農民與勞工的故事。

以月琴、嗩吶等客家傳統八音，在一首「好男好女反水庫」歌裡，嘗試將美濃的拓墾過往歷史及反水庫運動的過程填入歌詞，再輔以親切的客家山歌曲調，唱出人對土地的情感，傳達保護家鄉土地的決心。

「菊花夜行軍」唱出花農想藉著各式各樣的菊花，希望能在市場上殺出重圍，日以繼夜戰戰兢兢地點兵著。為什麼花農如此的擔憂呢？當時臺灣在政策的推動下，必須仰賴電子業維持外銷導向的貿易經濟，開始加速貿易自由化，所以開放市場成為政府關切的重要議題，民國 91 年，臺灣加入第一個全球性的經濟組織，對原本逐漸走向下坡的農村經濟，更是一大打擊。

他是何人？他就是對自己很誠實，對生活也很真實的林生祥，用音樂唱出對家鄉的愛意，用音樂表達對鄉土的關懷，用音樂傾訴生態的危機，一個用生命在對待臺灣的音樂人。

(改寫自林生祥多篇相關新聞報導)

[習作 p.37]

- () 46. 「好男好女反水庫」這首歌反映出臺灣面臨的哪項選擇？
(A) 再生能源與核能發電 (B) 經濟發展與環境保護
(C) 資方利益與勞工福利 (D) 都市更新與舊社區保存。
- () 47. 「菊花夜行軍」這首歌唱出了花農的擔憂，這與下列哪項臺灣經濟發展的背景有關？
(A) 土地改革 (B) 進口替代 (C) 產業升級 (D) 貿易自由化、國際化。
- () 48. 民國 91 年，政府政策對逐漸走下坡的農村經濟造成可能的打擊，主要是因為加入哪個組織，使農業面臨何種問題？
(A) 世界貿易組織一面臨全球低廉農產品競爭
(B) 世界貿易組織一面臨全球農業勞力進口
(C) 亞太經濟合作會議一面臨全球農業勞力進口
(D) 亞太經濟合作會議一面臨全球低廉農產品競爭。

洪通是活躍於 1970 年代本土素人畫家，畫作主題多是廟會、神明等生活周遭素材，畫作被美國藝評家說：「欣賞洪通的畫，不需要高深的美術理論，只要帶著開放的心就可以了。」但國內的藝評家反應兩極。有一些人認為，洪通只是正好趕上對西方文化反動的思潮，並沒有其藝術價值。有些人認為，洪通的作品帶有兒童的純真，正好對比大人世界過多的裝飾與謊言。

[課本 p.116]

- () 49. 洪通之所以聲名大噪，除了外國藝評家的吹捧以外，臺灣當時何種文化思潮對其作品會有所認同？
(A) 鄉土文學 (B) 中華文化 (C) 美國流行文化 (D) 開放多元文化。
- () 50. 承上題，臺灣當時興起這股文化思潮的原因包括下列何者？
(A) 清除日本統帶來的影響 (B) 社會漸轉為開放多元文化
(C) 美國的流行文化大舉入侵 (D) 經濟發展使城鄉差距加大。

----- 試題結束，請仔細檢查答案卡。 -----

花蓮縣宜昌國民中學 112 學年度第二學期七年級第 1 次段考社會科(歷史)答案

1	2	3	4	5	6	7	8	9	10
B	B	C	A	D	C	B	C	A	C
11	12	13	14	15	16	17	18	19	20
C	D	B	D	A	B	A	D	D	A
21	22	23	24	25	26	27	28	29	30
B	A	A	C	B	C	B	D	C	A
31	32	33	34	35	36	37	38	39	40
D	D	B	B	D	C	A	D	C	A
41	42	43	44	45	46	47	48	49	50
C	C	B	A	B	B	D	A	A	D